

1) 답 ③

[해설]  $f(x) = \frac{ax^2+1}{x^2+2}$  에서

$$f'(x) = \frac{(ax^2+1)'(x^2+2) - (ax^2+1)(x^2+2)'}{(x^2+2)^2}$$

$$= \frac{2ax(x^2+2) - 2x(ax^2+1)}{(x^2+2)^2}$$

$$= \frac{2(2a-1)x}{(x^2+2)^2}$$

$f'(1) = \frac{2(2a-1)}{9} = \frac{2}{3}$  에서  $a=2$  이므로

$f(x) = \frac{2x^2+1}{x^2+2}$ ,  $f(1)=1$

$g(x) = \frac{1}{f(x)}$  에서  $g'(x) = -\frac{f'(x)}{\{f(x)\}^2}$  이므로

$$g'(1) = -\frac{f'(1)}{\{f(1)\}^2} = -\frac{\frac{2}{3}}{1^2} = -\frac{2}{3}$$

2) 답 ④

[해설]  $f(x) = \frac{x^3-x+2}{2x^2} = \frac{1}{2}\left(x - \frac{1}{x} + \frac{2}{x^2}\right)$

$$= \frac{1}{2}(x - x^{-1} + 2x^{-2})$$

이므로

$$f'(x) = \frac{1}{2}(1 + x^{-2} - 4x^{-3}) = \frac{1}{2}\left(1 + \frac{1}{x^2} - \frac{4}{x^3}\right)$$

따라서  $f'(1) = \frac{1}{2}(1+1-4) = -1$

3) 답 ①

[해설]  $f(x) = \frac{ax}{x+3}$  에서

$$f'(x) = \frac{(ax)'(x+3) - ax \cdot (x+3)'}{(x+3)^2}$$

$$= \frac{a(x+3) - ax}{(x+3)^2}$$

$$= \frac{3a}{(x+3)^2}$$

$f'(0) = \frac{3a}{9} = \frac{a}{3} = 2$  에서  $a=6$

4) 답 ①

[해설]  $f(x) = 2\sec x + \tan x$  에서

$$f'(x) = 2\sec x \tan x + \sec^2 x = \sec x(2\tan x + \sec x)$$

$$= \frac{1}{\cos x} \left( \frac{2\sin x}{\cos x} + \frac{1}{\cos x} \right) = \frac{2\sin x + 1}{\cos^2 x}$$

$f'(x)=0$  에서  $\sin x = -\frac{1}{2}$

$0 \leq x \leq 2\pi$  에서  $\sin x = -\frac{1}{2}$  을 만족시키는  $x$  의 값은  $\frac{7}{6}\pi$ ,

$$\frac{11}{6}\pi \text{ 이다.}$$

따라서  $a = \frac{7}{6}\pi$  이므로

$$f(a) = f\left(\frac{7}{6}\pi\right) = 2\sec\frac{7}{6}\pi + \tan\frac{7}{6}\pi$$

$$= 2 \times \left(-\frac{2}{\sqrt{3}}\right) + \frac{\sqrt{3}}{3} = -\sqrt{3}$$

5) 답 ④

[해설]  $f(x) = \frac{\sin x}{x + \sec x}$  에서

$$f'(x) = \frac{(\sin x)'(x + \sec x) - \sin x(x + \sec x)'}{(x + \sec x)^2}$$

$$= \frac{\cos x(x + \sec x) - \sin x(1 + \sec x \tan x)}{(x + \sec x)^2}$$

$f'(0) = \frac{1 \cdot (0+1) - 0 \cdot (1+0)}{(0+1)^2} = 1$

6) 답 ③

[해설]  $h(x) = f(g(x))$  라 하면  $h'(x) = f'(g(x))g'(x)$  이다.

$g(1) = 1$ ,  $f(1) = 4$  이므로

$h(1) = f(g(1)) = f(1) = 4$

$$\lim_{x \rightarrow 1} \frac{f(g(x)) - 4}{x - 1} = \lim_{x \rightarrow 1} \frac{h(x) - h(1)}{x - 1}$$

$$= h'(1) = f'(g(1))g'(1)$$

$$= f'(1)g'(1)$$

이때

$f'(x) = 2(x^2 - 3) \cdot (x^2 - 3)' = 2(x^2 - 3) \times 2x = 4x(x^2 - 3)$

$g'(x) = -\frac{1}{x^2}$  이므로

$f'(1) = 4 \times 1 \times (1 - 3) = -8$ ,  $g'(1) = -1$

따라서 구하는 값은

$f'(1)g'(1) = (-8) \times (-1) = 8$

7) 답 ⑤

[해설]  $y = \cot^2(3x)$ ,  $u = \cot(3x)$  로 놓으면  $y = u^2$  이므로

$$f'(x) = \frac{dy}{dx} = \frac{dy}{du} \cdot \frac{du}{dx} = 2u \cdot \{-3\csc^2(3x)\}$$

$$= -6\cot\frac{3}{4}\pi \times \csc^2\frac{3}{4}\pi$$

$$= -6 \times (-1) \times 2$$

$$= 12$$

8) 답 ①

[해설]  $f(x) = \cos x$ ,  $g(x) = \frac{2x}{x^2+1}$  에서

$f'(x) = -\sin x$

$$g'(x) = \frac{(2x)'(x^2+1) - 2x(x^2+1)'}{(x^2+1)^2}$$

$$= \frac{2(x^2+1) - 4x^2}{(x^2+1)^2}$$

$$= \frac{-2(x^2-1)}{(x^2+1)^2}$$

$h(x) = (g \circ f)(x) = g(f(x))$  이므로

$$h'\left(\frac{\pi}{2}\right) = g'\left(f\left(\frac{\pi}{2}\right)\right) f'\left(\frac{\pi}{2}\right)$$

$$= g'(0) f'\left(\frac{\pi}{2}\right)$$

$$= 2 \times (-1)$$

$$= -2$$

9) 답 ③

[해설]  $\lim_{x \rightarrow 1} \frac{2^{f(x)} - 1}{x - 1}$  이 수렴하고 (분모)  $\rightarrow 0$  이므로 (분자)  $\rightarrow 0$  이어야 한다.

$\lim_{x \rightarrow 1} (2^{f(x)} - 1) = 2^{f(1)} - 1 = 0$  에서  $f(1) = 0$

$g(x) = 2^{f(x)}$  이라 하면  $g(1) = 2^{f(1)} = 1$  이고,

$g'(x) = 2^{f(x)} \ln 2 \cdot f'(x)$  이므로

$$\lim_{x \rightarrow 1} \frac{2^{f(x)} - 1}{x - 1} = \lim_{x \rightarrow 1} \frac{g(x) - g(1)}{x - 1}$$

$$= g'(1)$$

$$= 2^{f(1)} \ln 2 \cdot f'(1)$$

$$= f'(1) \ln 2$$

따라서  $f'(1) \ln 2 = 2 \ln 2$  이므로  $f'(1) = 2$   
10) 답 ④

[해설]  $f(x) = \ln|x^2 - 3|$ 에서

$$f'(x) = \frac{(x^2 - 3)'}{x^2 - 3} = \frac{2x}{x^2 - 3}$$

$f(2) = f(-2) = 0$ 이므로

$$\lim_{x \rightarrow 2} \frac{f(x) + f(-x)}{x - 2}$$

$$= \lim_{x \rightarrow 2} \left\{ \frac{f(x) - f(2)}{x - 2} + \frac{f(-x) - f(-2)}{x - 2} \right\} \quad \dots \textcircled{\ominus}$$

이때

$$\lim_{x \rightarrow 2} \frac{f(x) - f(2)}{x - 2} = f'(2)$$

$-x = t$ 라 하면,  $x \rightarrow 2$ 일 때,  $t \rightarrow -2$ 이므로

$$\lim_{x \rightarrow 2} \frac{f(-x) - f(-2)}{x - 2}$$

$$= \lim_{t \rightarrow -2} \left\{ \frac{f(t) - f(-2)}{t - (-2)} \cdot (-1) \right\}$$

$$= -f'(-2)$$

이므로  $\textcircled{\ominus}$ 에서

$$\lim_{x \rightarrow 2} \left\{ \frac{f(x) - f(2)}{x - 2} + \frac{f(-x) - f(-2)}{x - 2} \right\}$$

$$= f'(2) - f'(-2)$$

$$= \frac{2 \times 2}{2^2 - 3} - \frac{2 \times (-2)}{(-2)^2 - 3}$$

$$= 8$$

11) 답 ②

[해설]  $|f(x)|$ 에 자연로그를 취하면

$$\ln|f(x)| = \ln \left| \frac{(x-1)(x+4)}{(x+2)^3} \right|$$

$$\ln|f(x)| = \ln|x-1| + \ln|x+4| - 3\ln|x+2|$$

양변을  $x$ 에 대하여 미분하면

$$\frac{f'(x)}{f(x)} = \frac{1}{x-1} + \frac{1}{x+4} - \frac{3}{x+2} \text{에서}$$

$$f'(x) = \frac{(x-1)(x+4)}{(x+2)^3} \left( \frac{1}{x-1} + \frac{1}{x+4} - \frac{3}{x+2} \right)$$

따라서

$$f'(0) = \frac{(-1) \times 4}{2^3} \left( -1 + \frac{1}{4} - \frac{3}{2} \right)$$

$$= -\frac{4}{8} \times \left( -\frac{9}{4} \right)$$

$$= \frac{9}{8}$$

12) 답 ②

[해설] 함수  $f(x) = (4x^3 - 5)^3$ 의 역함수가  $g(x)$ 이고  $g(a) = 1$ 에서  $f(1) = a$ 이므로  $a = f(1) = (4 - 5)^3 = -1$

따라서  $g(-1) = 1$

이때

$$f'(x) = 3(4x^3 - 5)^2 \cdot (4x^3 - 5)'$$

$$= 3(4x^3 - 5)^2 \cdot (12x^2)$$

$$= 36x^3(4x^3 - 5)^2$$

이고

$$\lim_{x \rightarrow a} \frac{g(x) - 1}{x - a} = \lim_{x \rightarrow -1} \frac{g(x) - g(-1)}{x - (-1)}$$

$$= g'(-1)$$

$$= \frac{1}{f'(g(-1))}$$

$$= \frac{1}{f'(1)}$$

$$= \frac{1}{36}$$

따라서  $a = -1$ ,  $b = \frac{1}{36}$ 이므로

$$a + b = -1 + \frac{1}{36} = -\frac{35}{36}$$

13) 답 ①

[해설]  $f(0) = 1$ ,  $f(1) = 2$ 이므로  $g(1) = 0$ ,  $g(2) = 1$

또,  $f'(0) = 2$ ,  $f'(1) = 3$ 이므로

$$g'(1) = \frac{1}{f'(g(1))} = \frac{1}{f'(0)} = \frac{1}{2}$$

$$g'(2) = \frac{1}{f'(g(2))} = \frac{1}{f'(1)} = \frac{1}{3}$$

$h(x) = (g \circ g)(x) = g(g(x))$ 에서

$h'(x) = g'(g(x))g'(x)$ 이므로

$$h'(2) = g'(g(2))g'(2)$$

$$= g'(1)g'(2)$$

$$= \frac{1}{2} \times \frac{1}{3}$$

$$= \frac{1}{6}$$

14) 답 ⑤

[해설]  $f(x) = \frac{3x}{2x^2 + 1}$ 에서

$$f'(x) = \frac{(3x)'(2x^2 + 1) - 3x(2x^2 + 1)'}{(2x^2 + 1)^2}$$

$$= \frac{3(2x^2 + 1) - 3x \cdot 4x}{(2x^2 + 1)^2}$$

$$= \frac{-6x^2 + 3}{(2x^2 + 1)^2}$$

따라서  $f'(1) = \frac{-6 + 3}{(2 + 1)^2} = -\frac{1}{3}$

15) 답 ③

[해설]  $f(x) = a \tan 2x + \sec 2x$ 에서

$$f'(x) = 2a \sec^2 2x + 2 \sec 2x \tan 2x$$

$$f'\left(\frac{\pi}{6}\right) = 2a \sec^2 \frac{\pi}{3} + 2 \sec \frac{\pi}{3} \tan \frac{\pi}{3}$$

$$= 2a \times 2^2 + 2 \times 2 \times \sqrt{3}$$

$$= 8a + 4\sqrt{3}$$

$f'\left(\frac{\pi}{6}\right) = -4\sqrt{3}$ 에서  $8a + 4\sqrt{3} = -4\sqrt{3}$ 이므로  $a = -\sqrt{3}$

16) 답 ④

[해설]  $g(x) = \ln f(x)$ 라 하면  $g'(x) = \frac{f'(x)}{f(x)}$ 이고

$$g(2) = \ln f(2) = \ln 1 = 0$$

따라서

$$\lim_{x \rightarrow 2} \frac{\ln f(x)}{x - 2} = \lim_{x \rightarrow 2} \frac{g(x) - g(2)}{x - 2}$$

$$= g'(2)$$

$$= \frac{f'(2)}{f(2)}$$

$$= \frac{4}{1} = 4$$

17) 답 ④

[해설]  $f(x) = 2^x + 2^{2x}$ 에서

$$f'(x) = 2^x \ln 2 + 2 \times 2^{2x} \ln 2 = (2^x + 2^{2x+1}) \ln 2$$

$$f'(x) = 36 \ln 2 \text{에서 } (2^x + 2^{2x+1}) \ln 2 = 36 \ln 2$$

$$2^x + 2^{2x+1} = 36$$

$$2 \cdot 2^{2x} + 2^x - 36 = 0 \quad \dots \textcircled{7}$$

$$2^x = t \text{로 놓으면 } t > 0 \text{이고 } 2t^2 + t - 36 = 0$$

$$(t-4)(2t+9) = 0$$

따라서  $t = 4$  ( $t > 0$ 이므로)

$$2^x = 4 \text{에서 구하는 } x \text{의 값은 } x = 2$$

18) 답 ①

$$\begin{aligned} \text{[해설]} \lim_{h \rightarrow 0} \frac{g(1+h) - g(1-h)}{h} \\ = \lim_{h \rightarrow 0} \left\{ \frac{g(1+h) - g(1)}{h} + \frac{g(1-h) - g(1)}{-h} \right\} \\ = g'(1) + g'(1) = 2g'(1) \end{aligned}$$

$$f(0) = 1 \text{이고 } f'(x) = 1 + e^x \text{에서}$$

$$g(1) = 0, g'(1) = \frac{1}{f'(0)} = \frac{1}{2} \text{이므로 } 2g'(1) = 1$$

19) 답 ④

$$\text{[해설]} f(x) = \frac{\tan^2 x - 1}{\sec x} \text{에서}$$

$$\begin{aligned} f'(x) &= \frac{2 \tan x \sec^2 x \cdot \sec x - (\tan^2 x - 1) \cdot \sec x \tan x}{\sec^2 x} \\ &= \frac{\sec x \tan x (2 \sec^2 x - \tan^2 x + 1)}{\sec^2 x} \\ &= \frac{\tan x (\sec^2 x + 2)}{\sec x} \quad (\sec^2 x - \tan^2 x = 1 \text{이므로}) \end{aligned}$$

따라서

$$\begin{aligned} f'\left(\frac{\pi}{6}\right) &= \tan \frac{\pi}{6} \left( \sec \frac{\pi}{6} + 2 \cos \frac{\pi}{6} \right) \\ &= \frac{\sqrt{3}}{3} \left( \frac{2\sqrt{3}}{3} + \sqrt{3} \right) \\ &= \frac{5}{3} \end{aligned}$$

20) 답 ①

[해설]  $x \neq 1$  일 때

$$f(x) = \sum_{n=1}^{20} x^{n-1} = 1 + x + x^2 + \dots + x^{19} = \frac{x^{20} - 1}{x - 1} \text{이므로}$$

$$\begin{aligned} f'(x) &= \frac{(x^{20} - 1)'(x - 1) - (x^{20} - 1)(x - 1)'}{(x - 1)^2} \\ &= \frac{20x^{19}(x - 1) - (x^{20} - 1)}{(x - 1)^2} \\ &= \frac{19x^{20} - 20x^{19} + 1}{(x - 1)^2} \quad (\text{단, } x \neq 1) \end{aligned}$$

$$g(x) = (x - 1)^2 f'(x) \text{에서 } g(1) = 0 \text{이고}$$

$$x \neq 1 \text{일 때 } g(x) = 19x^{20} - 20x^{19} + 1$$

따라서 모든 실수  $x$ 에 대하여

$$g(x) = 19x^{20} - 20x^{19} + 1$$

$$g'(x) = 380x^{19} - 380x^{18} \text{이므로}$$

$$g'(-1) = -380 - 380 = -760$$

21) 답 ②

$$\text{[해설]} f(x) = x^2 + 4 \text{에서 } f'(x) = 2x$$

$$f(g(x)) = f(x)g(x) - 2x^2 \text{의 양변을 } x \text{에 대하여 미분하면}$$

$$f'(g(x))g'(x) = f'(x)g(x) + f(x)g'(x) - 4x \quad \dots \textcircled{7}$$

⑦의 양변에  $x = 1$ 을 대입하면

$$f'(g(1))g'(1) = f'(1)g(1) + f(1)g'(1) - 4 \quad \dots \textcircled{8}$$

⑧에  $f(1) = 5, f'(1) = 2, g(1) = 3$ 을 대입하면

$$f'(3)g'(1) = 2 \times 3 + 5g'(1) - 4$$

$$f'(3) = 6 \text{이므로 } 6g'(1) = 5g'(1) + 2 \text{에서 } g'(1) = 2$$

22) 답 ①

$$\text{[해설]} f(x) = \sqrt{x^3 + x^2 + x + 1} \text{에서}$$

$$f'(x) = \left\{ (x^3 + x^2 + x + 1)^{\frac{1}{2}} \right\}'$$

$$= \frac{1}{2} (x^3 + x^2 + x + 1)^{-\frac{1}{2}} (x^3 + x^2 + x + 1)'$$

$$= \frac{3x^2 + 2x + 1}{2\sqrt{x^3 + x^2 + x + 1}}$$

함수  $f(x-1)$ 의 역함수가  $g(x)$ 이므로

$$g(f(x-1)) = x \quad \dots \textcircled{9}$$

⑨의 양변을  $x$ 에 대하여 미분하면

$$g'(f(x-1))f'(x-1) = 1 \quad \dots \textcircled{10}$$

$f(1) = 2$ 이므로 ⑩의 양변에  $x = 2$ 를 대입하면

$$g'(f(1))f'(1) = 1$$

$$f'(1) = \frac{6}{2\sqrt{4}} = \frac{3}{2} \text{이므로 } g'(2) = \frac{1}{f'(1)} = \frac{2}{3}$$

23) 답 ④

$$\text{[해설]} g(x) = \frac{f'(x)}{f(x)} \text{에서}$$

$$g'(x) = \frac{f''(x)f(x) - f'(x)f'(x)}{\{f(x)\}^2}$$

$$g'(0) = \frac{f''(0)f(0) - \{f'(0)\}^2}{\{f(0)\}^2}$$

$$f(x) = (x+1)(x^2+1)(x^4+1) \text{에서 } f(0) = 1$$

$$f'(x)$$

$$= 1 \cdot (x^2+1)(x^4+1) + (x+1) \cdot 2x \cdot (x^4+1)$$

$$+ (x+1)(x^2+1) \cdot 4x^3$$

$$= (x^2+1)(x^4+1) + 2x(x+1)(x^4+1) + 4x^3(x+1)(x^2+1)$$

따라서  $f'(0) = 1$

$f''(0)$ 은  $f''(x)$ 의 상수항이고, 이는  $f'(x)$ 의 일차항의 계수와 같

$$\text{으므로 } f''(0) = 2$$

$$\text{따라서 } g'(0) = \frac{2 \times 1 - 1^2}{1^2} = 1$$

24) 답 ⑤

[해설] 함수  $h(x)$ 가 함수  $f(x)$ 의 역함수이므로

$$f(x) = h(g(x)) \text{에서 } f(f(x)) = g(x) \quad \dots \textcircled{11}$$

⑪의 양변을  $x$ 에 대하여 미분하면

$$f'(f(x))f'(x) = g'(x) \quad \dots \textcircled{12}$$

⑫에  $x = 0$ 을 대입하면  $f'(f(0))f'(0) = g'(0)$ ,

$$f'(1) \times 1 = e$$

따라서  $f'(1) = e$

25) 답 ②

$$\text{[해설]} \neg. f(x) = \begin{cases} \frac{-x}{\sqrt{2-x^2}} & (-1 < x < 0) \\ \frac{x}{\sqrt{2-x^2}} & (0 \leq x < 1) \end{cases} \text{이므로}$$

$$\lim_{h \rightarrow 0^-} \frac{f(h)}{h} = \lim_{h \rightarrow 0^-} \frac{\frac{-h}{\sqrt{2-h^2}}}{h} = \lim_{h \rightarrow 0^-} \frac{-1}{\sqrt{2-h^2}} = -\frac{1}{\sqrt{2}}$$

$$\lim_{h \rightarrow 0^+} \frac{f(h)}{h} = \lim_{h \rightarrow 0^+} \frac{\frac{h}{\sqrt{2-h^2}}}{h} = \lim_{h \rightarrow 0^+} \frac{1}{\sqrt{2-h^2}} = \frac{1}{\sqrt{2}}$$

$$\text{즉, } \lim_{h \rightarrow 0^-} \frac{f(h)}{h} \neq \lim_{h \rightarrow 0^+} \frac{f(h)}{h} \quad (\text{거짓})$$

$\therefore g(0) = 1$ 이므로

$$g'(0) = \lim_{h \rightarrow 0} \frac{g(h) - g(0)}{h} = \lim_{h \rightarrow 0} \frac{1 + hf(h) - 1}{h}$$

$$= \lim_{h \rightarrow 0} \frac{1 - \{1 + hf(h)\}}{h\{1 + hf(h)\}} = \lim_{h \rightarrow 0} \frac{-f(h)}{1 + hf(h)} = -f(0) = 0$$

(참)

ㄷ.  $x \neq 0$ 일 때  $f(x)$ 는 미분가능하므로

$$g'(x) = \begin{cases} -\frac{f(x) + xf'(x)}{\{1 + xf(x)\}^2} & (x \neq 0) \\ 0 & (x = 0) \end{cases}$$

$$g''(0) = \lim_{h \rightarrow 0} \frac{g'(h) - g'(0)}{h} = \lim_{h \rightarrow 0} \frac{-\frac{f(h) + hf'(h)}{\{1 + hf(h)\}^2}}{h}$$

$$= \lim_{h \rightarrow 0} \frac{-\left\{\frac{f(h)}{h} + f'(h)\right\}}{\{1 + hf(h)\}^2}$$

$$f'(x) = \begin{cases} \frac{-2}{(2-x^2)\sqrt{2-x^2}} & (-1 < x < 0) \\ \frac{2}{(2-x^2)\sqrt{2-x^2}} & (0 < x < 1) \end{cases} \quad \text{이고}$$

$$\lim_{h \rightarrow 0^-} \frac{f(h)}{h} = \lim_{h \rightarrow 0^-} f'(h) = -\frac{1}{\sqrt{2}}$$

$$\lim_{h \rightarrow 0^+} \frac{f(h)}{h} = \lim_{h \rightarrow 0^+} f'(h) = \frac{1}{\sqrt{2}} \text{이므로}$$

$$\lim_{h \rightarrow 0^-} \frac{-\left\{\frac{f(h)}{h} + f'(h)\right\}}{\{1 + hf(h)\}^2} = \sqrt{2}$$

$$\lim_{h \rightarrow 0^+} \frac{-\left\{\frac{f(h)}{h} + f'(h)\right\}}{\{1 + hf(h)\}^2} = -\sqrt{2}$$

따라서  $g''(0)$ 의 값은 존재하지 않는다. (거짓)

그러므로 옳은 것은 ㄴ이다.

26) 답 ㉑

[해설]

$f(x) = a \ln x$ ,  $g(x) = 4x^2$ 이라 하면

$$f'(x) = \frac{a}{x}, \quad g'(x) = 8x$$

$x = b$ 일 때 두 곡선의 접선의 기울기가 서로 같으므로

$$f'(b) = g'(b)$$

즉,  $\frac{a}{b} = 8b$ 이므로

$$a = 8b^2 \quad \dots \textcircled{7}$$

점  $P(b, 4b^2)$ 이 곡선  $y = a \ln x$  위의 점이므로

$$a \ln b = 4b^2 \quad \dots \textcircled{8}$$

㉑을 ㉒에 대입하면

$$8b^2 \ln b = 4b^2$$

$$\ln b = \frac{1}{2} \quad (b > 0) \text{이므로 } b = \sqrt{e}$$

㉑에서  $a = 8e$

따라서  $a + b^2 = 8e + e = 9e$

27) 답 ㉑

[해설]

$f(x) = 2e^{x+1}$ 이라 하면

$$f'(x) = 2e^{x+1}$$

접점의 좌표를  $(a, 2e^{a+1})$ 이라 하면 이 점에서 접선의 기울기는

$$f'(a) = 2e^{a+1} \text{이므로 접선의 방정식은}$$

$$y - 2e^{a+1} = 2e^{a+1}(x - a)$$

$$y = 2e^{a+1}x - 2(a-1)e^{a+1} \quad \dots \textcircled{7}$$

직선 ㉑이 원점을 지나므로

$x = 0, y = 0$ 을 대입하면

$$0 = -2(a-1)e^{a+1} \text{에서 } e^{a+1} > 0 \text{이므로}$$

$$a = 1$$

..... ㉒

㉑을 ㉒에 대입하면 접선의 방정식은

$$y = 2e^2x \text{이므로 } k = 2e^2$$

28) 답 ㉑

[해설]

$f(x) = \sin(\ln x^2) + 1$ 이라 하면

$$f'(x) = \cos(\ln x^2) \times (\ln x^2)'$$

$$= \frac{2\cos(\ln x^2)}{x}$$

$f'(1) = 2$ 이므로 곡선  $y = f(x)$  위의 점  $(1, 1)$ 에서의 접선의 방정식은

$$y - 1 = 2(x - 1)$$

$$\text{즉, } y = 2x - 1$$

..... ㉑

따라서 직선 ㉑의  $x$ 절편은  $\frac{1}{2}$ ,  $y$ 절편은  $-1$ 이므로

직선 ㉑과  $x$ 축,  $y$ 축으로 둘러싸인 삼각형의 넓이는

$$\frac{1}{2} \times \frac{1}{2} \times 1 = \frac{1}{4}$$

29) 답 ㉑

[해설]

$$f(x) = \frac{ax+1}{x^2+2} \text{에서}$$

$$f'(x) = \frac{a(x^2+2) - (ax+1) \times 2x}{(x^2+2)^2}$$

$$= \frac{-ax^2 - 2x + 2a}{(x^2+2)^2}$$

..... ㉑

함수  $f(x)$ 가  $x = 1$ 에서 극댓값을 가지므로  $f'(1) = 0$

$$f'(1) = \frac{-a - 2 + 2a}{3^2} = 0 \text{이므로 } a = 2$$

$a = 2$ 를 ㉑에 대입하면

$$f'(x) = \frac{-2(x^2+x-2)}{(x^2+2)^2} = \frac{-2(x+2)(x-1)}{(x^2+2)^2}$$

$f'(x) = 0$ 에서  $x = -2$  또는  $x = 1$

함수  $f(x)$ 의 증가와 감소를 표로 나타내면 다음과 같다.

|         |     |    |     |    |     |
|---------|-----|----|-----|----|-----|
| $x$     | ... | -2 | ... | 1  | ... |
| $f'(x)$ | -   | 0  | +   | 0  | -   |
| $f(x)$  | ↘   | 극소 | ↗   | 극대 | ↘   |

따라서 함수  $f(x)$ 는  $x = -2$ 에서 극소이므로 극솟값은

$$f(-2) = \frac{2 \times (-2) + 1}{4 + 2} = -\frac{1}{2}$$

30) 답 ㉑

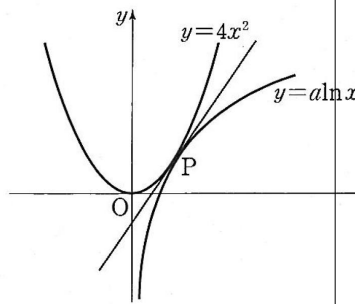
[해설]

$$f(x) = 4 \ln x - 3x + \frac{1}{x} \text{에서}$$

$$f'(x) = \frac{4}{x} - 3 - \frac{1}{x^2} = \frac{4x - 3x^2 - 1}{x^2} = \frac{-(3x-1)(x-1)}{x^2}$$

$$f'(x) = 0 \text{에서 } x = \frac{1}{3} \text{ 또는 } x = 1$$

함수  $f(x)$ 의 증가와 감소를 표로 나타내면 다음과 같다.



|         |     |     |               |     |    |     |
|---------|-----|-----|---------------|-----|----|-----|
| $x$     | (0) | ... | $\frac{1}{3}$ | ... | 1  | ... |
| $f'(x)$ |     | -   | 0             | +   | 0  | -   |
| $f(x)$  |     | ↘   | 극소            | ↗   | 극대 | ↘   |

함수  $f(x)$ 는  $x = \frac{1}{3}$ 일 때 극소,  $x = 1$ 일 때 극대이므로

$$m = f\left(\frac{1}{3}\right) = 4\ln\frac{1}{3} - 1 + 3 = -4\ln 3 + 2$$

$$M = f(1) = 4\ln 1 - 3 + 1 = -2$$

따라서

$$M + m = -2 + (-4\ln 3 + 2) = -4\ln 3$$

31) 답 ㉓

[해설]

$f(x) = ax^3 + bx^2 + cx + d$  ( $a, b, c, d$ 는 상수,  $a \neq 0$ )이라 하자.

두 점  $(0, 4), (1, 0)$ 이 곡선  $y = f(x)$  위의 점이므로

$$f(0) = d = 4, f(1) = a + b + c + d = 0$$

$$\text{즉, } a + b + c = -4 \quad \dots \text{㉠}$$

$$f'(x) = 3ax^2 + 2bx + c \text{이고 } f'(0) = 0 \text{ 이므로 } c = 0 \quad \dots \text{㉡}$$

$$f''(x) = 6ax + 2b \text{이고 } f''(1) = 0 \text{ 이므로 } 6a + 2b = 0$$

$$\text{즉, } 3a + b = 0 \quad \dots \text{㉢}$$

$$\text{㉠, ㉡, ㉢에서 } a = 2, b = -6 \text{이므로 } f(x) = 2x^3 - 6x^2 + 4$$

$$f'(x) = 6x^2 - 12x \text{이고 } f'(1) = -6 \text{이므로 점 } (1, 0) \text{에서 곡선}$$

$$y = f(x) \text{의 접선의 방정식은}$$

$$y - 0 = -6(x - 1)$$

$$\text{즉, } y = -6x + 6 \quad \dots \text{㉣}$$

$$\text{점 } (0, k) \text{가 직선 ㉣ 위의 점이므로 } k = 6$$

[다른 풀이]

주어진 조건에서  $y = f(x)$ 의 그래프는 아래 그림과 같고

$y = f(x) - 4$ 는  $x = 0$ 에서 극댓값이 0이므로  $x$ 축에 접한다.

따라서  $f(x) - 4 = x^2(ax + b)$

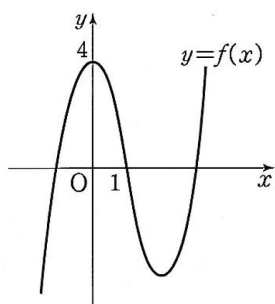
즉,  $f(x) = x^2(ax + b) + 4 = ax^3 + bx^2 + 4$  ( $a, b$ 는 상수)로 놓을 수 있다.

$f'(x) = 3ax^2 + 2bx, f''(x) = 6ax + 2b$ 이고, 조건 (가)에서

$$f(1) = 0, f''(1) = 0 \text{이므로 } f(1) = a + b + 4 = 0,$$

$$f''(1) = 6a + 2b = 0$$

따라서  $a = 2, b = -6$ 이므로  $f(x) = 2x^3 - 6x^2 + 4$



32) 답 ㉠

[해설]

$$f(x) = \frac{x^2}{x^2 + 3} \text{이라 하면}$$

$$f'(x) = \frac{2x(x^2 + 3) - x^2 \cdot 2x}{(x^2 + 3)^2} = \frac{6x}{(x^2 + 3)^2}$$

$$f''(x) = \frac{6(x^2 + 3)^2 - 6x \cdot 2 \cdot 2x \cdot (x^2 + 3)}{(x^2 + 3)^4}$$

$$= \frac{6(x^2 + 3) - 24x^2}{(x^2 + 3)^3} = \frac{-18(x^2 - 1)}{(x^2 + 3)^3}$$

$x > 0$ 일 때  $f''(x) = 0$ 이면  $x = 1$ 이고  $f''(x)$ 의 부호는  $x = 1$ 의 좌우에서 양에서 음으로 바뀌므로 곡선  $y = f(x)$ 는  $x = 1$ 에서 변곡점을 갖는다.

$$f(1) = \frac{1}{4} \text{ 이므로 변곡점의 좌표는 } \left(1, \frac{1}{4}\right) \text{이다.}$$

따라서  $a = 1, b = \frac{1}{4}$ 이므로

$$20(a + b) = 20\left(1 + \frac{1}{4}\right) = 25$$

33) 답 ㉠

[해설]

$y = e^{-x}$ 에서  $y' = -e^{-x}$ 이므로 점  $(t, e^{-t})$ 에서의 접선의 기울기

는  $-e^{-t}$ 이고 접선의 방정식은  $y - e^{-t} = -e^{-t}(x - t)$  이므로

$$y = -e^{-t}x + (t + 1)e^{-t} \quad \dots \text{㉡}$$

직선 ㉡에  $x = 0, y = 0$ 을 각각 대입하여 두 점 P, Q의 좌표를 구하면

$$P(t + 1, 0), Q(0, (t + 1)e^{-t})$$

이므로 삼각형 OPQ의 넓이  $f(t)$ 는

$$f(t) = \frac{1}{2}(t + 1)^2 e^{-t}$$

$$f'(t) = (t + 1)^{-t} + \frac{1}{2}(t + 1)^2(-e^{-t}) = \frac{(t + 1)(1 - t)}{2} e^{-t}$$

$t > 0$ 일 때,  $f(t)$ 의 증가와 감소를 표로 나타내면 다음과 같다.

|         |     |     |    |     |
|---------|-----|-----|----|-----|
| $t$     | (0) | ... | 1  | ... |
| $f'(t)$ |     | +   | 0  | -   |
| $f(t)$  |     | ↗   | 극대 | ↘   |

따라서 함수  $f(t)$ 는  $t = 1$ 에서 극대이면서 최대이므로  $f(t)$ 의 최댓값은

$$f(1) = 2e^{-1} = \frac{2}{e}$$

34) 답 ㉓

[해설]

$f(x) = x\sqrt{1 - x^2}$ 에서

$$f'(x) = \sqrt{1 - x^2} + x \cdot \frac{-2x}{2\sqrt{1 - x^2}}$$

$$= \frac{1 - 2x^2}{\sqrt{1 - x^2}} \quad (\text{단, } -1 < x < 1)$$

$f'(x) = 0$ 에서  $x = \pm \frac{1}{\sqrt{2}}$ 이므로 닫힌구간  $[-1, 1]$ 에서

함수  $f(x)$ 의 증가와 감소를 표로 나타내면 다음과 같다.

|         |    |     |                       |     |                      |     |   |
|---------|----|-----|-----------------------|-----|----------------------|-----|---|
| $x$     | -1 | ... | $-\frac{1}{\sqrt{2}}$ | ... | $\frac{1}{\sqrt{2}}$ | ... | 1 |
| $f'(x)$ |    | -   | 0                     | +   | 0                    | -   |   |
| $f(x)$  | 0  | ↘   | 극소                    | ↗   | 극대                   | ↘   | 0 |

함수  $f(x)$ 는  $x = -\frac{1}{\sqrt{2}}$ 일 때 극소이고,  $x = \frac{1}{\sqrt{2}}$ 일 때

극대이므로 극솟값은

$$f\left(-\frac{1}{\sqrt{2}}\right) = -\frac{1}{\sqrt{2}} \sqrt{1 - \frac{1}{2}} = -\frac{1}{2}$$

극댓값은

$$f\left(\frac{1}{\sqrt{2}}\right) = \frac{1}{\sqrt{2}} \sqrt{1 - \frac{1}{2}} = \frac{1}{2}$$

구간의 양 끝점에서의 함숫값은  $f(-1) = f(1) = 0$ 이므로

최댓값은  $M = \frac{1}{2}$ , 최솟값은  $m = -\frac{1}{2}$ 이다.

$$\text{따라서 } M - m = \frac{1}{2} - \left(-\frac{1}{2}\right) = 1$$

35) 답 ㉔

[해설]

$$\text{ㄱ. } f(x) = x^2 \ln x \text{에서 } f'(x) = 2x \ln x + x^2 \cdot \frac{1}{x} = x(2 \ln x + 1)$$

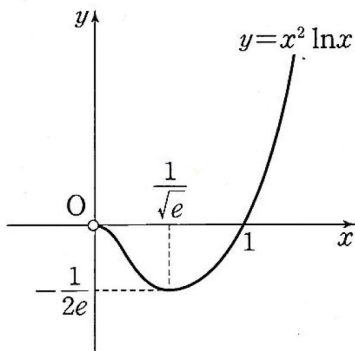
$$f'(1) = 1 \cdot (2 \ln 1 + 1) = 1 \text{ (참)}$$

$$\text{ㄴ. } x > 0 \text{이므로 } f'(x) = 0 \text{에서 } \ln x = -\frac{1}{2} \text{이므로 } x = \frac{1}{\sqrt{e}}$$

함수  $f(x)$ 의 증가와 감소를 표로 나타내면 다음과 같다.

|         |     |     |                      |     |
|---------|-----|-----|----------------------|-----|
| $x$     | (0) | ... | $\frac{1}{\sqrt{e}}$ | ... |
| $f'(x)$ |     | -   | 0                    | +   |
| $f(x)$  |     | ↘   | 극소                   | ↗   |

따라서 함수  $f(x)$ 는  $x = \frac{1}{\sqrt{e}}$ 에서 극솟값을 갖는다. (참)



ㄷ. 함수  $f(x)$ 의 극솟값은

$$f\left(\frac{1}{\sqrt{e}}\right) = \left(\frac{1}{\sqrt{e}}\right)^2 \ln \frac{1}{\sqrt{e}} = -\frac{1}{2e}$$

이고, 이 값이  $f(x)$ 의 최솟값이므로  $f(x) \geq -\frac{1}{2e}$ 이다.

$$\text{이때 } f(x) + \frac{1}{e} \geq -\frac{1}{2e} + \frac{1}{e} > 0 \text{이므로} \quad \text{방정식}$$

$$f(x) + \frac{1}{e} = 0 \text{의}$$

실근은 존재하지 않는다. (거짓)

그러므로 옳은 것은 ㄱ, ㄴ이다.

36) 답 ㉔

[해설]

$$f(x) = \tan x - 2x \text{라 하면}$$

$$f'(x) = \sec^2 x - 2$$

$$f'(x) = 0 \text{에서}$$

$$\sec^2 x = 2, \cos^2 x = \frac{1}{2} \text{이고 } -\frac{\pi}{2} < x < \frac{\pi}{2} \text{이므로}$$

$$\cos x = \frac{\sqrt{2}}{2}$$

$$\text{따라서 } x = -\frac{\pi}{4} \text{ 또는 } x = \frac{\pi}{4}$$

$-\frac{\pi}{2} < x < \frac{\pi}{2}$ 에서 함수  $f(x)$ 의 증가와 감소를 표로 나타내면

다음과 같다.

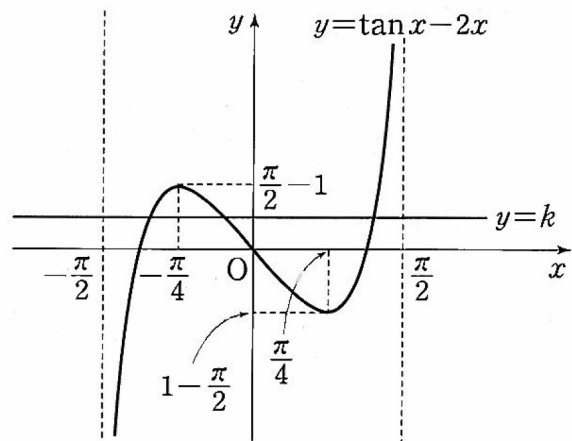
|         |                               |     |                  |     |                 |     |                              |
|---------|-------------------------------|-----|------------------|-----|-----------------|-----|------------------------------|
| $x$     | $\left(-\frac{\pi}{2}\right)$ | ... | $-\frac{\pi}{4}$ | ... | $\frac{\pi}{4}$ | ... | $\left(\frac{\pi}{2}\right)$ |
| $f'(x)$ |                               | +   | 0                | -   | 0               | +   |                              |
| $f(x)$  |                               | ↗   | 극대               | ↘   | 극소              | ↗   |                              |

함수  $f(x)$ 는  $x = -\frac{\pi}{4}$ 에서 극댓값  $f\left(-\frac{\pi}{4}\right) = \frac{\pi}{2} - 1$ ,

$x = \frac{\pi}{4}$ 에서 극솟값  $f\left(\frac{\pi}{4}\right) = 1 - \frac{\pi}{2}$ 를 갖는다.

$$\lim_{x \rightarrow -\frac{\pi}{2}^+} f(x) = -\infty, \lim_{x \rightarrow \frac{\pi}{2}^-} f(x) = \infty \text{이므로}$$

함수  $y = f(x)$ 의 그래프는 다음 그림과 같다.



방정식  $f(x) = k$ 의 실근의 개수는 곡선  $y = f(x)$ 와 직선  $y = k$ 의 교점의 개수와 같으므로 방정식  $f(x) = k$ 가 서로 다른 세 실근을 갖기 위한 실수  $k$ 의 값의 범위는

$$1 - \frac{\pi}{2} < k < \frac{\pi}{2} - 1$$

따라서  $\alpha = 1 - \frac{\pi}{2}$ ,  $\beta = \frac{\pi}{2} - 1$ 일 때  $\beta - \alpha$ 의 값은 최대이고

$$\beta - \alpha = \left(\frac{\pi}{2} - 1\right) - \left(1 - \frac{\pi}{2}\right) = \pi - 2$$

37) 답 ㉓

[해설]

$$f(x) = kx + \ln(x^2 + 1) \text{에서}$$

$$f'(x) = k + \frac{2x}{x^2 + 1} = \frac{kx^2 + 2x + k}{x^2 + 1}$$

$k > 0$ 이므로 함수  $f(x)$ 가 극값을 갖지 않기 위해서는 모든 실수  $x$ 에 대하여  $f'(x) \geq 0$ 이어야 한다.

$$x^2 + 1 > 0 \text{이므로}$$

$$kx^2 + 2x + k \geq 0$$

방정식  $kx^2 + 2x + k = 0$ 의 판별식을  $D$ 라 하면

$$\frac{D}{4} = 1 - k^2 = -(k+1)(k-1) \leq 0 \text{에서}$$

$k \geq 0$  ( $k > 0$ 이므로) 따라서  $k$ 의 최솟값은 1이다.

38) 답 ㉔

[해설]

$$f(x) = \frac{3x-4}{x^2+1} \text{에서}$$

$$f'(x) = \frac{3(x^2+1) - (3x-4) \cdot 2x}{(x^2+1)^2} = \frac{-3x^2 + 8x + 3}{(x^2+1)^2}$$

$$= -\frac{(3x+1)(x-3)}{(x^2+1)^2}$$

$f'(x)=0$ 에서  $x=-\frac{1}{3}$  또는  $x=3$

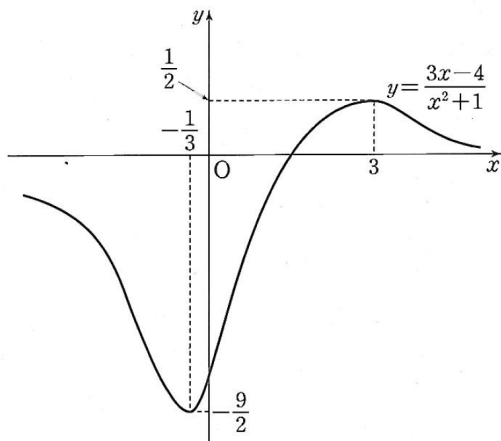
함수  $f(x)$ 의 증가와 감소를 표로 나타내면 다음과 같다.

|         |            |                |            |    |            |
|---------|------------|----------------|------------|----|------------|
| $x$     | ...        | $-\frac{1}{3}$ | ...        | 3  | ...        |
| $f'(x)$ | -          | 0              | +          | 0  | -          |
| $f(x)$  | $\searrow$ | 극소             | $\nearrow$ | 극대 | $\searrow$ |

함수  $f(x)$ 는  $x=-\frac{1}{3}$ 일 때 극솟값  $f(-\frac{1}{3})=-\frac{9}{2}$ ,

$x=3$ 일 때 극댓값  $f(3)=\frac{1}{2}$ 을 갖는다.

$\lim_{x \rightarrow \infty} f(x) = \lim_{x \rightarrow -\infty} f(x) = 0$ 이므로  $y=f(x)$ 의 그래프는 아래 그림과 같다.



따라서 함수  $f(x)$ 의 최댓값  $M=\frac{1}{2}$ , 최솟값  $m=-\frac{9}{2}$ 이므로

$$M+m = \frac{1}{2} + \left(-\frac{9}{2}\right) = -4$$

39) 답 33

[해설]

$f(x)=a\sin 2x+b\sin x$ 라 하자.

점  $(\frac{\pi}{4}, 3)$ 이 곡선  $y=f(x)$  위의 점이므로

$$f\left(\frac{\pi}{4}\right) = a\sin \frac{\pi}{2} + b\sin \frac{\pi}{4}$$

$$= a + \frac{b}{\sqrt{2}} = 3$$

에서  $\sqrt{2}a+b=3\sqrt{2}$  ..... ㉠

$$f'(x) = 2a\cos 2x + b\cos x$$

$$f''(x) = -4a\sin 2x - b\sin x$$

$$f''\left(\frac{\pi}{4}\right) = 0 \text{이므로}$$

$$f''\left(\frac{\pi}{4}\right) = -4a\sin \frac{\pi}{2} - b\sin \frac{\pi}{4}$$

$$= -4a - \frac{b}{\sqrt{2}} = 0$$

에서  $b = -4\sqrt{2}a$  ..... ㉡

㉠, ㉡을 풀면

$$a = -1, b = 4\sqrt{2} \text{ 따라서 } a^2 + b^2 = 1 + 32 = 33$$

40) 답 ㉠

[해설]

$$kx^2 - 2\ln x > 1 \text{에서 } k > \frac{2\ln x + 1}{x^2} \text{이므로}$$

$$f(x) = \frac{2\ln x + 1}{x^2} (0 < x < 1) \text{이라 하자.}$$

$$f'(x) = \frac{\frac{2}{x} \times x^2 - (2\ln x + 1) \times 2x}{x^4} = -\frac{4\ln x}{x^3}$$

$0 < x < 1$ 에서  $f'(x) > 0$ 이므로  $f(x)$ 는 증가한다.

$\lim_{x \rightarrow 1^-} f(x) = 1$ 에서  $f(x) < 1$ 이므로  $k \geq 1$ 이다.

따라서 실수  $k$ 의 최솟값은 1이다.

41) 답 ㉠

[해설]

접점의 좌표를  $(\alpha, ke^{-\alpha-1})$ 이라 하자.

$y = ke^{-x-1}$ 에서  $y' = -ke^{-x-1}$ 이므로  $x = \alpha$ 에서 접선의 기울

기는  $-ke^{-\alpha-1}$ 이고 접선의 방정식은

$$y - ke^{-\alpha-1} = -ke^{-\alpha-1}(x - \alpha) \quad \dots\dots \textcircled{1}$$

직선 ㉠이 원점을 지나므로

$$0 - ke^{-\alpha-1} = -ke^{-\alpha-1}(x - \alpha)$$

에서  $\alpha = -1$

$x = -1$ 에서 접선의 기울기가  $-3$ 이므로

$$-ke^{-(-1)-1} = -3$$

따라서  $k = 3$

42) 답 9

[해설]

$f(x) = e^{-x}(x^4 + ax^3 + 5x^2)$ 에서

$$f'(x) = -e^{-x}(x^4 + ax^3 + 5x^2) + e^{-x}(4x^3 + 3ax^2 + 10x)$$

$$= e^{-x}\{-x^4 + (4-a)x^3 + (3a-5)x^2 + 10x\}$$

$$f'(1) = 0 \text{에서 } f'(1) = e^{-1}(8+2a) = 0 \text{이므로 } a = -4$$

이때

$$f(x) = e^{-x}x^2(x^2 - 4x + 5)$$

$$f'(x) = e^{-x}(-x^4 + 8x^3 - 17x^2 + 10x)$$

$$= -e^{-x}x(x^3 - 8x^2 + 17x - 10)$$

$$= -e^{-x}x(x-1)(x-2)(x-5)$$

$f'(x) = 0$ 에서  $x = 1$  또는  $x = 2$  또는  $x = 5$

$f(x)$ 의 증가와 감소를 표로 나타내면 다음과 같다.

|         |   |            |               |            |                 |            |                   |            |
|---------|---|------------|---------------|------------|-----------------|------------|-------------------|------------|
| $x$     | 0 | ...        | 1             | ...        | 2               | ...        | 5                 | ...        |
| $f'(x)$ |   | +          | 0             | -          | 0               | +          | 0                 | -          |
| $f(x)$  | 0 | $\nearrow$ | $\frac{2}{e}$ | $\searrow$ | $\frac{4}{e^2}$ | $\nearrow$ | $\frac{250}{e^5}$ | $\searrow$ |

$f(x)$ 는  $x = 1, x = 5$ 에서 극대이고

$$f(5) - f(1) = \frac{250}{e^5} - \frac{2}{e} = \frac{2(125 - e^4)}{e^5} > 0$$

이므로  $x \geq 0$ 일 때,  $f(x)$ 는  $x = 5$ 에서 최댓값을 갖는다.

따라서  $b = 5$ 이므로

$$b - a = 5 - (-4) = 9$$

43) 답 ㉠

[해설]

$f(x) = 4\cos^2 x - 3, g(x) = a\cos x - a$ 라 하자.

두 곡선  $y = f(x), y = g(x)$ 의 교점의  $x$ 좌표를  $t$ 라 하면

$$f(t) = g(t) \text{이므로}$$

$$4\cos^2 t - 3 = a\cos t - a$$

$$4\cos^2 t - a\cos t + a - 3 = 0 \quad \dots\dots \textcircled{1}$$

$$f'(x) = 8\cos x(-\sin x) = -8\sin x \cos x$$

$$g'(x) = -a\sin x$$

이고 교점에서 두 곡선의 접선이 일치하므로

$$f'(t) = g'(t) \text{에서}$$

$$-8\sin t \cos t = -a\sin t$$

$$\sin t(8\cos t - a) = 0 \quad \dots\dots \textcircled{2}$$

(i)  $\sin t = 0$ 일 때

$t = \pi$ 이고  $\cos t = -1$ 이므로 ㉠에 대입하면

$$4 + a + a - 3 = 0 \text{에서}$$

$$a = -\frac{1}{2} \text{이므로 양수 } a \text{는 존재하지 않는다.}$$

$$(ii) \cos t = \frac{a}{8} \text{일 때}$$

⊙에서

$$4\left(\frac{a}{8}\right)^2 - a\left(\frac{a}{8}\right) + a - 3 = 0$$

$$a^2 - 16a + 48 = 0$$

$$(a-12)(a-4) = 0$$

따라서  $a = 12$  또는  $a = 4$

$a = 12$ 이면  $\cos t = \frac{3}{2}$ 을 만족시키는 실수  $t$ 가 존재하지 않으므로 성립하지 않는다.

$a = 4$ 이면  $\cos t = \frac{1}{2}$ 이므로  $t = \frac{\pi}{3}$ ,  $t = \frac{5}{3}\pi$ 일 때 성립한다.

(i), (ii)에서 구하는 양수  $a$ 의 값은 4이다.

44) 답 ③

[해설]

$$h(x) = \ln(1-x) + x^2 + x \text{라 하면}$$

$0 \leq x \leq \frac{1}{2}$ 에서  $h(x) \geq a$ 가 성립하여야 한다.

$$h'(x) = \frac{-1}{1-x} + 2x + 1 = \frac{x(1-2x)}{1-x} \geq 0 \text{이므로}$$

$h(x)$ 는  $0 \leq x \leq \frac{1}{2}$ 에서 증가하고 최솟값은  $h(0) = 0$ 이다.

즉,  $h(x) \geq 0$ 이므로  $a \leq 0$ 이다.

따라서 실수  $a$ 의 최댓값은 0이다.

45) 답 ②

[해설]

$$y = \sin^2 x \text{에서 } y' = 2\sin x \cos x$$

곡선  $y = \sin^2 x$  위의 점  $(t, \sin^2 t)$ 에서 접선의 기울기는

$2\sin t \cos t$ 이므로 접선의 방정식은

$$y - \sin^2 t = 2\sin t \cos t(x - t) \text{에서}$$

$$y = 2x \sin t \cos t + \sin^2 t - 2t \sin t \cos t$$

$$= \sin t(\pi \cos t + \sin t - 2t \cos t)$$

$$f'(t) = \cos t(\pi \cos t + \sin t - 2t \cos t)$$

$$+ \sin t(-\pi \sin t + \cos t - 2\cos t + 2t \sin t)$$

$$= (\pi - 2t)(\cos^2 t - \sin^2 t)$$

$0 < t < \frac{\pi}{2}$ 일 때  $f'(t) = 0$ 에서  $\pi - 2t \neq 0$ 이므로

$$\cos^2 t - \sin^2 t = 0$$

그런데  $0 < t < \frac{\pi}{2}$ 이므로

$$\cos t = \sin t \text{ 따라서 } t = \frac{\pi}{4}$$

함수  $f(t)$ 의 증가와 감소를 표로 나타내면 다음과 같다.

|         |     |     |                 |     |                              |
|---------|-----|-----|-----------------|-----|------------------------------|
| $t$     | (0) | ... | $\frac{\pi}{4}$ | ... | $\left(\frac{\pi}{2}\right)$ |
| $f'(t)$ |     | +   | 0               | -   |                              |
| $f(t)$  |     | ↗   | 극대              | ↘   |                              |

함수  $f(t)$ 는  $t = \frac{\pi}{4}$ 에서 극대이면서 최대가 된다.

따라서  $f(t)$ 의 최댓값은

$$f\left(\frac{\pi}{4}\right) = \frac{1}{\sqrt{2}} \left( \frac{\pi}{\sqrt{2}} + \frac{1}{\sqrt{2}} - 2 \cdot \frac{\pi}{4} \cdot \frac{1}{\sqrt{2}} \right) = \frac{\pi}{4} + \frac{1}{2}$$

46) 답 ⑤

[해설]

점  $P$ 의 좌표를  $\left(t, \frac{1}{t}\right)$ 이라 하자.

선분  $AP$ 의 길이가 최소가 되는 점  $P$ 는 제 1사분면에 있으므로

$t > 0$ 이다.  $f(t) = AP^2$ 이라 하면

$$f(t) = (t-4)^2 + \left(\frac{1}{t} - 4\right)^2$$

$$= t^2 - 8t + 16 + \frac{1}{t^2} - \frac{8}{t} + 16$$

$$= t^2 - 8t + \frac{1}{t^2} - \frac{8}{t} + 32$$

$$f'(t) = 2t - 8 - \frac{2}{t^3} + \frac{8}{t^2}$$

$$= \frac{2(t^4 - 4t^3 + 4t - 1)}{t^3}$$

$$= \frac{2(t+1)(t-1)(t^2 - 4t + 1)}{t^3}$$

$t > 0$ 일 때  $f'(t) = 0$ 에서

$$t = 1 \text{ 또는 } t = 2 \pm \sqrt{3}$$

함수  $f(t)$ 의 증가와 감소를 표로 나타내면 다음과 같다.

|         |     |     |                |     |    |     |                |     |
|---------|-----|-----|----------------|-----|----|-----|----------------|-----|
| $t$     | (0) | ... | $2 - \sqrt{3}$ | ... | 1  | ... | $2 + \sqrt{3}$ | ... |
| $f'(t)$ |     | -   | 0              | +   | 0  | -   | 0              | +   |
| $f(t)$  |     | ↘   | 극소             | ↗   | 극대 | ↘   | 극소             | ↗   |

$$f(2 - \sqrt{3}) = (2 - \sqrt{3} - 4)^2 + \left(\frac{1}{2 - \sqrt{3}} - 4\right)^2$$

$$= (-2 - \sqrt{3})^2 + (-2 + \sqrt{3})^2 = 14$$

$$f(2 + \sqrt{3}) = 14$$

따라서 함수  $f(t)$ 의 최솟값은 14이고, 선분  $AP$ 의 길이의 최솟값은  $\sqrt{14}$ 이다.

47) 답 ①

[해설]

$$f(x) = |x^2 - 1|e^{-x} \text{에서}$$

$$f(x) = \begin{cases} (x^2 - 1)e^{-x} & (x \leq -1 \text{ 또는 } x \geq 1) \\ (1 - x^2)e^{-x} & (-1 < x < 1) \end{cases}$$

∴  $-1 < x < 1$ 에서  $f(x) = (1 - x^2)e^{-x}$ 이므로

$$f'(x) = -2xe^{-x} + (1 - x^2)(-e^{-x}) = (x^2 - 2x - 1)e^{-x}$$

$$f'(0) = (0 - 0 - 1)e^0 = -1 \text{ (참)}$$

$$\therefore \lim_{h \rightarrow 0^+} \frac{f(1+h) - f(1)}{h}$$

$$= \lim_{h \rightarrow 0^+} \frac{\{(1+h)^2 - 1\}e^{-(1+h)} - 0}{h}$$

$$= \lim_{h \rightarrow 0^+} (2+h)e^{-(1+h)}$$

$$= 2e^{-1}$$

$$\lim_{h \rightarrow 0^-} \frac{f(1+h) - f(1)}{h}$$

$$= \lim_{h \rightarrow 0^-} \frac{\{1 - (1+h)^2\}e^{-(1+h)} - 0}{h}$$

$$= \lim_{h \rightarrow 0^-} (-2-h)e^{-(1+h)}$$

$$= -2e^{-1}$$

$$\lim_{h \rightarrow 0^+} \frac{f(1+h) - f(1)}{h} \neq \lim_{h \rightarrow 0^-} \frac{f(1+h) - f(1)}{h}$$

이므로 함수  $f(x)$ 는  $x = 1$ 에서 미분가능하지 않다.(거짓)

∴  $x < -1$  또는  $x > 1$ 일 때



$$f'(x) = 2xe^{-x} + (x^2 - 1)(-e^{-x})$$

$$= -(x^2 - 2x - 1)e^{-x}$$

$-1 < x < 1$ 일 때

$f'(x) = (x^2 - 2x - 1)e^{-x}$ 이고 ㄴ과 같은 방법으로

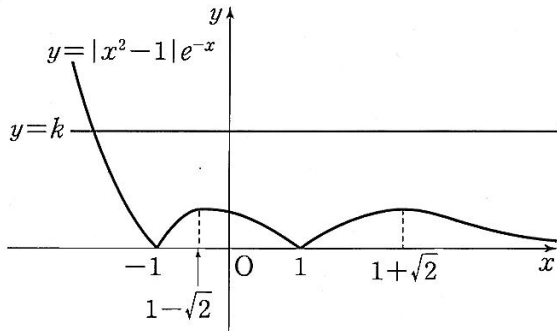
$f(x)$ 는  $x = 1, x = -1$ 에서 미분가능하지 않다.

$f'(x) = 0$ 에서

$$x = 1 - \sqrt{2}, x = 1 + \sqrt{2}$$

함수  $f(x)$ 의 증가와 감소를 표로 나타내면 다음과 같다.

|         |     |      |     |                |     |     |     |                |
|---------|-----|------|-----|----------------|-----|-----|-----|----------------|
| $x$     | ... | $-1$ | ... | $1 - \sqrt{2}$ | ... | $1$ | ... | $1 + \sqrt{2}$ |
| $f'(x)$ | -   |      | +   | 0              | -   |     | +   | 0              |
| $f(x)$  | ↘   | 극소   | ↗   | 극대             | ↘   | 극소  | ↗   | 극대             |



함수  $f(x)$ 는  $x = -1, x = 1$ 에서 극솟값 0을 갖는다.

또,  $x = 1 - \sqrt{2}, x = 1 + \sqrt{2}$ 에서 극댓값을 갖고

$$f(1 - \sqrt{2}) > 0, f(1 + \sqrt{2}) > 0$$

$$\lim_{x \rightarrow -\infty} f(x) = \infty \text{이다.}$$

따라서 양수  $k$ 에 대하여 방정식  $f(x) = k$ 의 실근의 개수의 최솟값은 1이다.(거짓)

그러므로 옳은 것은 ㄱ이다.

48) [정답] ㉔

$$\lim_{x \rightarrow 0} \frac{f(3x) - f(\sin x)}{x}$$

$$= \lim_{x \rightarrow 0} \frac{f(3x) - f(0) + f(0) - f(\sin x)}{x}$$

$$= 3 \lim_{x \rightarrow 0} \frac{f(3x) - f(0)}{3x - 0} - \lim_{x \rightarrow 0} \left\{ \frac{f(\sin x) - f(0)}{\sin x - 0} \times \frac{\sin x}{x} \right\}$$

$$= 3f'(0) - f'(0) \times 1$$

$$= 2f'(0)$$

$$f'(x) = \frac{(x-1)'(x^2+3) - (x-1)(x^2+3)'}{(x^2+3)^2}$$

$$= \frac{(x^2+3) - (x-1)2x}{(x^2+3)^2}$$

$$= \frac{-x^2 + 2x + 3}{(x^2+3)^2}$$

에서

$$f'(0) = \frac{1}{3}$$

$$\therefore \lim_{x \rightarrow 0} \frac{f(3x) - f(\sin x)}{x} = 2f'(0) = \frac{2}{3}$$

49) [정답] ㉔

$$f'(x) = -\frac{1}{x^2} \text{이므로}$$

$$\lim_{x \rightarrow 1} \frac{f'(x) + 1}{x - 1} = \lim_{x \rightarrow 1} \frac{-\left(\frac{1}{x^2} - 1\right)}{x - 1}$$

$$= \lim_{x \rightarrow 1} \frac{x^2 - 1}{x^2(x - 1)}$$

$$= \lim_{x \rightarrow 1} \frac{x + 1}{x^2}$$

$$= 2$$

50) [정답] ㉔

$$f(x) = \frac{ax}{x+1} \text{에서}$$

$$f'(x) = \frac{a(x+1) - ax \times 1}{(x+1)^2}$$

$$= \frac{a}{(x+1)^2}$$

$$\lim_{x \rightarrow 3} \frac{f(x) - f(3)}{x^2 - 2x - 3} = \lim_{x \rightarrow 3} \frac{f(x) - f(3)}{x - 3} \times \lim_{x \rightarrow 3} \frac{1}{x + 1}$$

$$= \frac{1}{4} f'(3) = \frac{1}{8}$$

$$\text{즉, } f'(3) = \frac{1}{2}$$

$$\text{따라서 } f'(3) = \frac{a}{16} = \frac{1}{2} \text{이므로 } a = 8$$

$$f'(x) = \frac{8}{(x+1)^2}$$

$$\therefore f'(1) = \frac{8}{4} = 2$$

51) [정답] ㉔

$$g'(x) = \frac{-f'(x)\{1+f(x)\} - \{1-f(x)\}f'(x)}{\{1+f(x)\}^2}$$

$$= \frac{-2f'(x)}{\{1+f(x)\}^2}$$

$$g(0) = \frac{1-f(0)}{1+f(0)} = -\frac{2}{3} \text{에서}$$

$$f(0) = 5$$

$$g'(0) = -\frac{2}{9} \text{이므로}$$

$$\frac{-2f'(0)}{\{1+f(0)\}^2} = -\frac{2}{9}$$

$$\therefore f'(0) = 4$$

$$f(x) = x^2 + ax + b \text{에서}$$

$$f(0) = b = 5$$

$$f'(x) = 2x + a \text{에서}$$

$$f'(0) = a = 4$$

$$\text{따라서 } f(x) = x^2 + 4x + 5 \text{이므로}$$

$$f(2) = 4 + 8 + 5 = 17$$

52) [정답] ㉔

$(f \circ g)(x) = f(g(x)) = x^2 + x + 1$ 의 양변을  $x$ 에 대하여 미분하면

$$f'(g(x))g'(x) = 2x + 1$$

..... ㉔

㉔의 양변에  $x = 1$ 을 대입하면

$$f'(g(1))g'(1) = 3$$

이때  $g(1) = g'(1) = 3$ 이므로  
 $f'(g(1))g'(1) = f'(3) \times 3 = 3$

$\therefore f'(3) = 1$   
 53) [정답] ①

$g(x) = \sqrt{f(x)}$ 라 하면

$$\lim_{h \rightarrow 0} \frac{\sqrt{f(1+h)} - \sqrt{f(1)}}{h} = \lim_{h \rightarrow 0} \frac{g(1+h) - g(1)}{h} = g'(1)$$

그런데  $g'(x) = \frac{f'(x)}{2\sqrt{f(x)}}$ 이므로

$$g'(1) = \frac{f'(1)}{2\sqrt{f(1)}}$$

$f(2x-1) = x^2 - x + 4$ 에서 양변에  $x=1$ 을 대입하면

$$f(1) = 4$$

$f'(2x-1) \times 2 = 2x-1$ 에서 양변에  $x=1$ 을 대입하면

$$f'(1) = \frac{1}{2}$$

$$\begin{aligned} \therefore g'(1) &= \frac{f'(1)}{2\sqrt{f(1)}} \\ &= \frac{\frac{1}{2}}{2 \times 2} = \frac{1}{8} \end{aligned}$$

**다른 풀이**

$f(2x-1) = x^2 - x + 4$ 에서

$$f(1) = 4$$

$f'(2x-1) \times 2 = 2x-1$ 에서  $f'(1) = \frac{1}{2}$ 이므로

$$\begin{aligned} \lim_{h \rightarrow 0} \frac{\sqrt{f(1+h)} - \sqrt{f(1)}}{h} &= \lim_{h \rightarrow 0} \left\{ \frac{f(1+h) - f(1)}{h} \times \frac{1}{\sqrt{f(1+h)} + \sqrt{f(1)}} \right\} \\ &= f'(1) \times \frac{1}{2\sqrt{f(1)}} \\ &= \frac{1}{2} \times \frac{1}{2\sqrt{4}} \\ &= \frac{1}{8} \end{aligned}$$

54) [정답] ②

$h(x) = g(f(x))$ 라 하면  $h'(x) = g'(f(x))f'(x)$ 이므로

$$h'(0) = g'(f(0))f'(0)$$

또  $f(0) = 16$ 이고

$$\begin{aligned} f'(x) &= 4 \left( \frac{x+2}{x^2+1} \right)^3 \left( \frac{x+2}{x^2+1} \right)' \\ &= 4 \left( \frac{x+2}{x^2+1} \right)^3 \times \frac{(x+2)'(x^2+1) - (x+2)(x^2+1)'}{(x^2+1)^2} \\ &= -4 \left( \frac{x+2}{x^2+1} \right)^3 \times \frac{x^2+4x-1}{(x^2+1)^2} \end{aligned}$$

에서  $f'(0) = 32$ 이므로

$$\begin{aligned} 4 &= \lim_{x \rightarrow 0} \frac{g(f(x)) - g(16)}{x} \\ &= \lim_{x \rightarrow 0} \frac{g(f(x)) - g(f(0))}{x - 0} \\ &= h'(0) \\ &= g'(f(0))f'(0) \\ &= g'(16) \times 32 \end{aligned}$$

$$\therefore g'(16) = \frac{1}{8}$$

55) [정답] ②

$f^{-1}(x) = g(x)$ 이고,  $f(-3) = 0$ 이므로

$$g(0) = -3$$

$$\begin{aligned} f'(x) &= \frac{(x-4) - (x+3)}{(x-4)^2} \\ &= \frac{-7}{(x-4)^2} \end{aligned}$$

$$\begin{aligned} g'(0) &= \frac{1}{f'(g(0))} \\ &= \frac{1}{f'(-3)} \\ &= \frac{1}{-\frac{7}{49}} = -7 \end{aligned}$$

56) [정답] ①

$f^{-1}(x) = g(x)$ 이고,  $f(0) = 8$ 이므로

$$g(8) = 0$$

또  $f'(x) = 3(x+2)^2$ 에서

$$f'(g(8)) = f'(0) = 12$$

$$\begin{aligned} \therefore \lim_{x \rightarrow 0} \frac{g(x+8)}{x} &= \lim_{x \rightarrow 0} \frac{g(x+8) - g(8)}{x} \\ &= g'(8) \\ &= \frac{1}{f'(g(8))} \\ &= \frac{1}{f'(0)} \\ &= \frac{1}{12} \end{aligned}$$

57) [정답] ②

곡선  $y = f(x)$ 가 점  $(1, 4)$ 를 지나므로

$$f(1) = 4$$

또 점  $(1, 4)$ 에서의 접선의 기울기가  $\frac{1}{6}$ 이므로

$$f'(1) = \frac{1}{6}$$

함수  $f(3x+4)$ 의 역함수가  $g(x)$ 이므로

$$g(f(3x+4)) = x \quad \dots\dots \textcircled{7}$$

⑦의 양변에  $x = -1$ 을 대입하면

$$g(f(1)) = -1$$

$$\therefore g(4) = -1$$

⑦의 양변을  $x$ 에 대하여 미분하면

$$g'(f(3x+4)) \times 3 \times f'(3x+4) = 1 \quad \dots\dots \textcircled{8}$$

㉔의 양변에  $x = -1$ 을 대입하면

$$g'(f(1)) \times 3 \times f'(1) = 1$$

따라서  $f(1) = 4$ ,  $f'(1) = \frac{1}{6}$ 이므로

$$g'(4) = \frac{1}{3f'(1)} = 2$$

$$\therefore \frac{g'(4)}{\{g(4)\}^2} = \frac{2}{(-1)^2} = 2$$

58) [정답] ㉔

$h(x) = g(f(x))$ 라 하면  $h'(x) = g'(f(x))f'(x)$ 이므로

$$h'(0) = g'(f(0))f'(0)$$

$f(x) = \sin x + \sin 2x \cos x$ 에서  $f(0) = 0$

$$f'(x) = \cos x + 2\cos 2x \cos x - \sin 2x \sin x$$

에서  $f'(0) = 3$ 이므로

$$\begin{aligned} \lim_{x \rightarrow 0} \frac{g(f(x)) - g(0)}{x} &= \lim_{x \rightarrow 0} \frac{h(x) - h(0)}{x - 0} \\ &= h'(0) \\ &= g'(f(0))f'(0) \\ &= g'(0) \times 3 = 6 \end{aligned}$$

$\therefore g'(0) = 2$

59) [정답] ㉔

$$\begin{aligned} &\lim_{h \rightarrow 0} \frac{f\left(\frac{\pi}{2} + h\right) - f\left(\frac{\pi}{2} - h\right)}{h} \\ &= \lim_{h \rightarrow 0} \frac{f\left(\frac{\pi}{2} + h\right) - f\left(\frac{\pi}{2}\right) - \left\{f\left(\frac{\pi}{2} - h\right) - f\left(\frac{\pi}{2}\right)\right\}}{h} \\ &= \lim_{h \rightarrow 0} \frac{f\left(\frac{\pi}{2} + h\right) - f\left(\frac{\pi}{2}\right)}{h} + \lim_{h \rightarrow 0} \frac{f\left(\frac{\pi}{2} - h\right) - f\left(\frac{\pi}{2}\right)}{-h} \\ &= f'\left(\frac{\pi}{2}\right) + f'\left(\frac{\pi}{2}\right) \\ &= 2f'\left(\frac{\pi}{2}\right) \end{aligned}$$

$f(x) = \tan 2x + \cos 2x$ 에서

$$\begin{aligned} f'(x) &= 2\sec^2 2x - 2\sin 2x \\ &= \frac{2}{\cos^2 2x} - 2\sin 2x \end{aligned}$$

이므로

$$f'\left(\frac{\pi}{2}\right) = \frac{2}{\cos^2 \pi} - 2\sin \pi = 2$$

$$\therefore \lim_{h \rightarrow 0} \frac{f\left(\frac{\pi}{2} + h\right) - f\left(\frac{\pi}{2} - h\right)}{h} = 2f'\left(\frac{\pi}{2}\right) = 4$$

60) [정답] ㉔

$$\begin{aligned} f(x) &= 1 - \sin^2 \frac{x}{2} \\ &= 1 - \frac{1 - \cos x}{2} \\ &= \frac{1 + \cos x}{2} \end{aligned}$$

이므로  $f'(x) = -\frac{1}{2} \sin x$

$$\begin{aligned} \therefore \lim_{x \rightarrow \pi} \frac{f'(x)}{x - \pi} &= \lim_{x \rightarrow \pi} \frac{-\frac{1}{2} \sin x}{x - \pi} \\ &= \lim_{x \rightarrow \pi} \frac{-\sin x}{2(x - \pi)} \end{aligned}$$

이때  $x - \pi = t$ 로 놓으면  $x = \pi + t$ 이고

$x \rightarrow \pi$ 일 때,  $t \rightarrow 0$ 이므로

$$\begin{aligned} (\text{주어진 식}) &= \lim_{t \rightarrow 0} \frac{-\sin(\pi + t)}{2t} \\ &= \lim_{t \rightarrow 0} \frac{\sin t}{2t} \\ &= \frac{1}{2} \end{aligned}$$

61) [정답] ㉔

$$\begin{aligned} f(a) &= \lim_{x \rightarrow a} \frac{(x-a)(x^2 + ax + a^2)}{e^x - e^a} \\ &= \lim_{x \rightarrow a} \frac{x^2 + ax + a^2}{\frac{e^x - e^a}{x-a}} \\ &= \lim_{x \rightarrow a} (x^2 + ax + a^2) \times \frac{1}{\lim_{x \rightarrow a} \frac{e^x - e^a}{x-a}} \\ &= \frac{3a^2}{e^a} \end{aligned}$$

이므로

$$\begin{aligned} f'(a) &= \frac{6ae^a - 3a^2e^a}{e^{2a}} \\ &= \frac{6a - 3a^2}{e^a} \end{aligned}$$

$$\therefore \lim_{h \rightarrow 0} \frac{f(1-h) - f(1+h)}{h}$$

$$\begin{aligned} &= -\lim_{h \rightarrow 0} \frac{f(1+h) - f(1)}{h} - \lim_{h \rightarrow 0} \frac{f(1-h) - f(1)}{-h} \\ &= -2f'(1) \\ &= -2 \times \frac{6-3}{e} \\ &= -\frac{6}{e} \end{aligned}$$

**참고**

$\lim_{x \rightarrow a} \frac{e^x - e^a}{x-a}$ 에서  $g(x) = e^x$ 이라 하면

$$\begin{aligned} \lim_{x \rightarrow a} \frac{e^x - e^a}{x-a} &= \lim_{x \rightarrow a} \frac{g(x) - g(a)}{x-a} \\ &= g'(a) \\ &= e^a \end{aligned}$$

62) [정답] ㉔

$f(x) = x \ln(x^2 + 1)$ 에서

$$f'(x) = (x)' \ln(x^2+1) + x \{ \ln(x^2+1) \}'$$

$$= \ln(x^2+1) + \frac{2x^2}{x^2+1}$$

$$f''(x) = \frac{2x}{x^2+1} + \frac{4x(x^2+1) - 2x^2 \times 2x}{(x^2+1)^2}$$

$$= \frac{2x}{x^2+1} + \frac{4x}{(x^2+1)^2}$$

따라서

$$f'(1) = \ln 2 + 1,$$

$$f''(-1) = -1 - 1 = -2$$

이므로

$$f'(1) + f''(-1) = \ln 2 + 1 + (-2)$$

$$= \ln 2 - 1$$

63) [정답] ③

$f(x) = e^x$ 에서  $f^{-1}(x) = \ln x$ 이므로

$$h(x) = (f^{-1} \circ g)(x)$$

$$= \ln \sqrt{x^2+3}$$

$$= \frac{1}{2} \ln(x^2+3)$$

따라서  $h'(x) = \frac{1}{2} \times \frac{2x}{x^2+3} = \frac{x}{x^2+3}$ 이므로

$$h'(3) = \frac{3}{12} = \frac{1}{4}$$

64) [정답] ②

함수  $f(x)$ 가  $x=1$ 에서 연속이어야 하므로

$$f(1) = \lim_{x \rightarrow 1-0} f(x) \text{에서}$$

$$a = b + 1 - a$$

$$2a - b = 1 \quad \dots\dots \textcircled{1}$$

또 함수  $f(x)$ 가  $x=1$ 에서 미분가능하려면

$$f'(x) = \begin{cases} -ae^{-x+1} & (x > 1) \\ \frac{\pi}{2}b \cos \frac{\pi}{2}x + 1 & (x < 1) \end{cases}$$

에서  $\lim_{x \rightarrow 1+0} f'(x) = \lim_{x \rightarrow 1-0} f'(x)$ 이므로

$$-a = 1 \quad \dots\dots \textcircled{2}$$

따라서 ①과 ②에서

$$a = -1, b = -3$$

$$\therefore a + b = -4$$

65) [정답] ③

$$y = k \ln x \text{에서 } y' = \frac{k}{x} \text{이므로}$$

접점  $T_k(x_k, y_k)$ 에서의 접선의 방정식은

$$y - y_k = \frac{k}{x_k}(x - x_k)$$

이 접선이 원점을 지나므로

$$-y_k = -k$$

$$\text{즉, } y_k = k$$

이것을  $y = k \ln x$ 에 대입하여 정리하면

$$x_k = e$$

$$\therefore T_k(e, k)$$

$$\therefore \sum_{k=1}^{10} \frac{y_k}{x_k} = \frac{1}{e} \sum_{k=1}^{10} k$$

$$= \frac{1}{e} \times \frac{10 \times 11}{2}$$

$$= \frac{55}{e}$$

66) [정답] ④

$f(x) = \ln(ax+2)$ ,  $g(x) = -\ln x^3 + b$ 라 하면

$$f'(x) = \frac{a}{ax+2}, g'(x) = -\frac{3}{x}$$

두 곡선이 점  $A(1, c)$ 에서 만나므로

$$f(1) = g(1) \text{에서}$$

$$\ln(a+2) = b \quad \dots\dots \textcircled{1}$$

또 두 곡선  $y=f(x)$ ,  $y=g(x)$ 에 대하여 점  $A$ 에서의 접선이 서로 수직이므로

$$f'(1)g'(1) = -1 \text{에서}$$

$$\frac{a}{a+2} \times (-3) = -1$$

$$\therefore a = 1$$

①에서  $b = \ln(a+2) = \ln 3$

$$f(1) = \ln 3 = c$$

$$\therefore ab + c = 1 \times \ln 3 + \ln 3 = \ln 9$$

67) [정답] ⑤

ㄱ. 함수  $f(x) = x^2 e^{-x}$ 에서  $f'(x) = (2x - x^2)e^{-x}$ 이므로

함수  $f(x)$ 의 증가와 감소를 표로 나타내면 다음과 같다.

|         |            |   |            |                 |            |
|---------|------------|---|------------|-----------------|------------|
| $x$     | ...        | 0 | ...        | 2               | ...        |
| $f'(x)$ | -          | 0 | +          | 0               | -          |
| $f(x)$  | $\searrow$ | 0 | $\nearrow$ | $\frac{4}{e^2}$ | $\searrow$ |

$0 < x < 2$ 에서  $f'(x) > 0$ 이므로 이 구간에서 함수  $f(x)$ 는 증가한다.

따라서  $0 < x_1 < x_2 < 2$ 일 때,  $f(x_1) < f(x_2)$ 이다. (참)

ㄴ.  $\frac{f(x)}{x} = \frac{f(x)-0}{x-0}$ 이므로  $\frac{f(x)}{x}$ 는 두 점

$(0, 0)$ ,  $(x, f(x))$ 를 지나는 직선의 기울기이다.

$f''(x) = (x^2 - 4x + 2)e^{-x}$ 이고,  $x < 0$ 이면  $f''(x) > 0$ 이므로 함수  $f(x)$ 의 그래프는 아래로 볼록하다.

따라서  $x_1 < x_2 < 0$ 일 때,  $\frac{f(x_1)}{x_1} < \frac{f(x_2)}{x_2}$ 이다. (참)

ㄷ.  $f(x)$ 는 닫힌 구간  $[0, 1]$ 에서 연속이고 열린 구간  $(0, 1)$ 에서 미분가능하므로 평균값의 정리에 의하여

$$\frac{f(1)-f(0)}{1-0} = f'(a), \text{ 즉 } f'(a) = \frac{1}{e} \text{인 실수 } a \text{가 } 0 \text{과}$$

1 사이에 적어도 한 개 존재한다. (참)

따라서 옳은 것은 ㄱ, ㄴ, ㄷ이다.

68) [정답] ②

$$f(x) = a^2 \ln \frac{1}{x} - x^2 + 12x \text{에서}$$

$$f'(x) = -\frac{a^2}{x} - 2x + 12$$

$$= \frac{-2x^2 + 12x - a^2}{x}$$

함수  $f(x)$ 가  $0 < x_1 < x_2$ 인 모든 실수  $x_1, x_2$ 에 대하여  $f(x_1) > f(x_2)$ 가 성립하려면  $x > 0$ 에서 감소하는 함수이어야 하므로  $x > 0$ 인 실수  $x$ 에 대하여  $f'(x) \leq 0$ 이어야 한다.

따라서  $x > 0$ 에서  $-2x^2 + 12x - a^2 \leq 0$ 이어야 하므로

$$g(x) = -2x^2 + 12x - a^2 \text{ 이라 하면}$$

$$g(x) = -2(x-3)^2 + 18 - a^2$$

$x > 0$ 에서  $g(x) \leq 0$ 이 성립하려면

$$g(3) = 18 - a^2 \leq 0$$

$$a^2 - 18 \geq 0$$

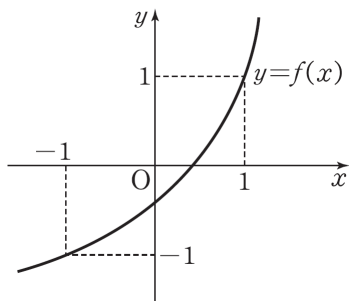
$$(a+3\sqrt{2})(a-3\sqrt{2}) \geq 0$$

$$\therefore a \leq -3\sqrt{2} \text{ 또는 } a \geq 3\sqrt{2}$$

따라서  $\sqrt{16} < 3\sqrt{2} < \sqrt{25}$ 이므로 자연수  $a$ 의 최솟값은 5이다.

69) [정답] ⑤

함수  $f(x)$ 의 그래프는 모든 구간에서 아래로 볼록하게 증가하므로 그래프의 개형은 다음 그림과 같다.



ㄱ. 모든 실수  $x$ 에 대하여  $f''(x) > 0$ 이므로 함수

$y=f(x)$ 의 그래프는 닫힌 구간  $[-1, 1]$ 에서 아래로 볼록하다.

따라서 닫힌 구간  $[-1, 1]$ 에서 두 점

$(-1, f(-1)), (1, f(1))$ 을 지나는 직선  $y=x$ 보다 곡선  $y=f(x)$ 가 아래에 있어야 하므로  $f(0) < 0$ 이다.

(참)

ㄴ.  $f''(x) > 0$ 이므로  $f'(x)$ 는 증가하는 함수이다.

그러므로  $f'(-1) < f'(1)$ 이다. (참)

ㄷ. 함수  $f(x)$ 는 닫힌 구간  $[-1, 1]$ 에서 연속이고  $-1$ 과  $1$  사이에서 미분가능하므로 평균값의 정리에 의하여

$$\frac{f(1)-f(-1)}{1-(-1)} = \frac{2}{2} = 1 = f'(a)$$

즉,  $f'(a) = 1$ 인 실수  $a$ 가  $-1$ 과  $1$  사이에 적어도 한 개 존재한다. (참)

따라서 옳은 것은 ㄱ, ㄴ, ㄷ이다.

70) [정답] ③

$f(x) = \left(\frac{1}{x}\right)^{\ln x}$ 의 양변에 자연로그를 취하면

$$\ln f(x) = \ln x \times \ln \frac{1}{x}$$

$$= -(\ln x)^2$$

$$\frac{f'(x)}{f(x)} = -2(\ln x) \times \frac{1}{x} \text{ 이므로}$$

$$f'(x) = -\frac{2f(x)\ln x}{x}$$

$f'(x) = 0$ 에서  $x = 1$ 이므로 함수  $f(x)$ 의 증가와 감소를 표로 나타내면 다음과 같다.

|         |     |     |   |     |
|---------|-----|-----|---|-----|
| $x$     | (0) | ... | 1 | ... |
| $f'(x)$ |     | +   | 0 | -   |
| $f(x)$  |     | ↗   | 1 | ↘   |

따라서 함수  $f(x)$ 는  $x = 1$ 에서 극댓값 1을 갖는다.

$\therefore \alpha\beta = 1$

71) [정답] ④

$$f(x) = \frac{\sin x + \cos x}{\sin x + \cos x - 2} = 1 + \frac{2}{\sin x + \cos x - 2} \text{ 이므로}$$

$$f'(x) = -\frac{2(\cos x - \sin x)}{(\sin x + \cos x - 2)^2}$$

$$f'(x) = 0 \text{에서 } \cos x = \sin x$$

$$\therefore x = 2n\pi + \frac{\pi}{4} \text{ 또는 } x = 2n\pi + \frac{5}{4}\pi \text{ (단, } n \text{은 정수)}$$

열린 구간  $(0, 2\pi)$ 에서 함수  $f(x)$ 의 증가와 감소를 표로 나타내면 다음과 같다.

|         |     |     |                 |     |                  |     |          |
|---------|-----|-----|-----------------|-----|------------------|-----|----------|
| $x$     | (0) | ... | $\frac{\pi}{4}$ | ... | $\frac{5}{4}\pi$ | ... | $(2\pi)$ |
| $f'(x)$ |     | -   | 0               | +   | 0                | -   |          |
| $f(x)$  |     | ↘   |                 | ↗   |                  | ↘   |          |

따라서 함수  $f(x)$ 는  $x = 2n\pi + \frac{\pi}{4}$ 에서 극솟값을 갖고,

$x = 2n\pi + \frac{5}{4}\pi$ 에서 극댓값을 갖는다.

$$0 < \alpha < 2\pi \text{ 이므로 } \alpha = \frac{\pi}{4}$$

$$\therefore \cos \alpha = \cos \frac{\pi}{4} = \frac{\sqrt{2}}{2}$$

72) [정답] ③

$$f(x) = \frac{\ln x}{x^n} \text{ 에서}$$

$$f'(x) = \frac{\frac{1}{x} \times x^n - nx^{n-1} \times \ln x}{x^{2n}}$$

$$= \frac{1 - n \ln x}{x^{n+1}}$$

$$f'(x) = 0 \text{ 이면 } \ln x = \frac{1}{n}$$

$$\therefore x = e^{\frac{1}{n}}$$

함수  $f(x)$ 의 증가와 감소를 표로 나타내면 다음과 같다.

|         |     |     |                   |     |
|---------|-----|-----|-------------------|-----|
| $x$     | (0) | ... | $e^{\frac{1}{n}}$ | ... |
| $f'(x)$ |     | +   | 0                 | -   |
| $f(x)$  |     | ↗   | 극대                | ↘   |

따라서 함수  $f(x)$ 는  $x=e^{\frac{1}{n}}$ 에서

$$\text{극댓값 } f(e^{\frac{1}{n}}) = \frac{\ln e^{\frac{1}{n}}}{(e^{\frac{1}{n}})^n} = \frac{1}{en} \text{을 갖는다.}$$

$$a_n = \frac{1}{en} \text{이므로}$$

$$\lim_{n \rightarrow \infty} (n+1)a_n = \lim_{n \rightarrow \infty} \frac{n+1}{en} = \frac{1}{e}$$

73) [정답] ③

$$f(x) = \frac{x^n}{e^x} \text{에서 } f'(x) = \frac{nx^{n-1}e^x - x^n e^{-x}}{(e^x)^2} = \frac{x^{n-1}(n-x)}{e^x}$$

$$\neg. f\left(\frac{n}{2}\right) = \frac{\left(\frac{n}{2}\right)^n}{e^{\frac{n}{2}}} \text{이고 } f'\left(\frac{n}{2}\right) = \frac{\left(\frac{n}{2}\right)^{n-1}\left(n-\frac{n}{2}\right)}{e^{\frac{n}{2}}} = \frac{\left(\frac{n}{2}\right)^n}{e^{\frac{n}{2}}}$$

$$\therefore f\left(\frac{n}{2}\right) = f'\left(\frac{n}{2}\right) \text{ (참)}$$

$$\neg. f'(x) = -x^{n-1}(x-n)e^{-x}$$

(i)  $n$ 이 홀수일 때

|         |     |   |     |     |
|---------|-----|---|-----|-----|
| $x$     | ... | 0 | ... | $n$ |
| $f'(x)$ | +   | 0 | +   | 0   |
| $f(x)$  | ↗   |   | ↗   |     |

(ii)  $n$ 이 짝수일 때

|         |     |   |     |     |
|---------|-----|---|-----|-----|
| $x$     | ... | 0 | ... | $n$ |
| $f'(x)$ | -   | 0 | +   | 0   |
| $f(x)$  | ↘   |   | ↗   |     |

(i), (ii)에서 함수  $f(x)$ 는  $x=n$ 에서 극댓값을 갖는다. (참)

ㄷ.  $\neg$ 에서  $n$ 이 짝수일 때는  $x=0$ 에서 극솟값을 가지므로 점  $(0, 0)$ 에서 변곡점이 될 수 없다. (거짓)

따라서 옳은 것은  $\neg$ ,  $\neg$ 이다.

74) [정답] ④

$$y = \frac{1}{x} \ln x \text{에서}$$

$$y' = -\frac{1}{x^2} \ln x + \frac{1}{x^2} = \frac{1}{x^2}(1 - \ln x)$$

$$y'' = -\frac{2}{x^3}(1 - \ln x) - \frac{1}{x^3} = \frac{1}{x^3}(2 \ln x - 3)$$

$y''=0$ 에서  $x=e^{\frac{3}{2}}$ 이므로 변곡점의 좌표는

$$\left(e^{\frac{3}{2}}, \frac{3}{2}e^{-\frac{3}{2}}\right)$$

이 점에서의 접선의 기울기는  $-\frac{1}{2}e^{-3}$ 이므로 접선의 방정식은

$$y - \frac{3}{2}e^{-\frac{3}{2}} = -\frac{1}{2}e^{-3}(x - e^{\frac{3}{2}}) \text{에서}$$

$$y = -\frac{1}{2}e^{-3}x + 2e^{-\frac{3}{2}}$$

따라서 이 직선이  $x$ 축과 만나는 점은  $(4e^{\frac{3}{2}}, 0)$ ,  $y$ 축과 만

나는 점은  $(0, 2e^{-\frac{3}{2}})$ 이므로 변곡점에서의 접선과  $x$ 축,  $y$ 축으로 둘러싸인 도형의 넓이는

$$\frac{1}{2} \times 4e^{\frac{3}{2}} \times 2e^{-\frac{3}{2}} = 4$$

75) [정답] ②

$$f(x) = \frac{a}{\sqrt{2}}x^2 + \sin x + \cos x \text{라 하면}$$

$$f'(x) = \sqrt{2}ax + \cos x - \sin x$$

$$f''(x) = \sqrt{2}a - \sin x - \cos x$$

$$= \sqrt{2}a - \sqrt{2} \sin\left(x + \frac{\pi}{4}\right)$$

주어진 곡선이 변곡점을 갖기 위해서는  $f''(x)=0$ 인  $x$ 가 존재하고, 그 점의 좌우에서  $f''(x)$ 의 부호가 바뀌어야 하므로

$f''(x)$ 의 최댓값은 양수, 최솟값은 음수이어야 한다. 즉,

$$\neg. f''(x) \text{의 최솟값은 } \sqrt{2}a - \sqrt{2} < 0 \dots\dots \text{㉠}$$

$$\sqrt. f''(x) \text{의 최댓값은 } \sqrt{2}a + \sqrt{2} > 0 \dots\dots \text{㉡}$$

㉠, ㉡에서

$$-1 < a < 1$$

76) [정답] ③

$\neg$ . 함수  $y=f(x)$ 에 대하여

$$f'(x) = 2e^{2x} \cos x - e^{2x} \sin x = e^{2x}(2 \cos x - \sin x)$$

이므로  $f'(x)=0$ 에서

$$e^{2x}(2 \cos x - \sin x) = 0$$

$$e^{2x} > 0 \text{이므로}$$

$$2 \cos x - \sin x = 0$$

$$2 = \frac{\cos x}{\sin x} = \tan x$$

$$\tan \frac{\pi}{3} = \sqrt{3} < 2 = \tan x \text{이므로 } \frac{\pi}{3} < x < \frac{\pi}{2} \text{ (참)}$$

$$\neg. f''(x) = 2e^{2x}(2 \cos x - \sin x) + e^{2x}(-2 \sin x - \cos x)$$

$$= e^{2x}(4 \cos x - 2 \sin x - 2 \sin x - \cos x)$$

$$= 3e^{2x}(3 \cos x - 4 \sin x)$$

$$= 5e^{2x} \sin(x + \alpha) \quad \left( \text{단, } \sin \alpha = \frac{3}{5}, \right.$$

$$\left. \cos \alpha = -\frac{4}{5} \right)$$

이때  $\alpha$ 는 제 2사분면의 각이고  $\sin \alpha = \frac{3}{5}$

$$> \frac{1}{2} = \sin \frac{5}{6}\pi \text{에서}$$

$$\frac{\pi}{2} < \alpha < \frac{5}{6}\pi \text{이다.}$$

그러므로 열린 구간  $(0, \frac{\pi}{6})$ 에서  $\frac{\pi}{2} < x + \alpha < \pi$ 이고,

$\sin(x + \alpha) > 0$ 이므로  $f''(x) > 0$ 이다.

따라서 함수  $f(x)$ 의 그래프는 아래로 볼록하다. (참)

ㄷ.  $f''(x) = e^{2x}(3\cos x - 4\sin x) = 0$ 에서

$f''(\alpha) = 0$ 이라 하면  $e^{2\alpha} > 0$ 이므로

$$3\cos \alpha - 4\sin \alpha = 0$$

$$\frac{3}{4} = \frac{\sin \alpha}{\cos \alpha} = \tan \alpha$$

$0 < \tan \alpha < 1$ 이므로

$$0 < \alpha < \frac{\pi}{4}$$

또한  $x < \alpha$ 일 때  $f''(x) > 0$ ,  $x > \alpha$ 일 때  $f''(x) < 0$ 이므로 함수  $f(x)$ 는  $x = \alpha$ 에서 변곡점을 갖는다. (거짓)

따라서 옳은 것은 ㄱ, ㄴ이다.

77) [정답] ③

$\sin x = t (-1 \leq t \leq 1)$ 라 하고, 주어진 식을  $g(t)$ 로 놓으면

$$g(t) = 2t^3 + 3(1 - t^2) + a$$

$$= 2t^3 - 3t^2 + a + 3$$

$-1 < t < 1$ 일 때,  $g'(t) = 6t^2 - 6t = 0$ 에서  $t = 0$ 이고,

함수  $g(t)$ 는  $t = 0$ 에서 극대이다.

$$\therefore g(0) = a + 3, g(1) = a + 2, g(-1) = a - 2$$

이때 최댓값이 4이므로

$$a + 3 = 4$$

$$\therefore a = 1$$

따라서 최솟값은

$$a - 2 = -1$$

78) [정답] ②

$f(x) = e^x\{2x^2 - (k+5)x + k+5\}$ 에서

$$f'(x) = e^x\{2x^2 - (k+5)x + k+5\} + e^x\{4x - (k+5)\}$$

$$= xe^x(2x - k - 1)$$

$$f'(x) = 0 \text{에서 } x = 0 \text{ 또는 } x = \frac{k+1}{2}$$

(i)  $\frac{k+1}{2} \geq 1$ , 즉  $k \geq 1$ 일 때

$-1 \leq x \leq 1$ 에서 함수  $f(x)$ 의 증가와 감소를 표로 나타내면 다음과 같다.

|         |    |     |       |     |
|---------|----|-----|-------|-----|
| $x$     | -1 | ... | 0     | ... |
| $f'(x)$ |    | +   | 0     | -   |
| $f(x)$  |    | ↗   | $k+5$ | ↘   |

따라서 함수  $f(x)$ 는  $-1 \leq x \leq 1$ 일 때,  $x = 0$ 에서 극대이자 최대이므로  $k+5 = 8$

$$\therefore k = 3$$

(ii)  $0 < \frac{k+1}{2} < 1$ , 즉  $-1 < k < 1$ 일 때

$-1 \leq x \leq 1$ 에서 함수  $f(x)$ 의 증가와 감소를 표로 나타내면 다음과 같다.

|         |    |     |       |     |                 |     |
|---------|----|-----|-------|-----|-----------------|-----|
| $x$     | -1 | ... | 0     | ... | $\frac{k+1}{2}$ | ... |
| $f'(x)$ |    | +   | 0     | -   | 0               | +   |
| $f(x)$  |    | ↗   | $k+5$ | ↘   |                 | ↗   |

이때  $f(0) = k+5 < 6$ ,  $f(1) = 2e < 6$

이므로 함수  $f(x)$ 의 최댓값은 8이 될 수 없다.

(i), (ii)에서 구하는 양수  $k$ 의 값은 3이다.

79) [정답] ⑤

$t = \frac{4x+1}{3x} = \frac{1}{3}\left(4 + \frac{1}{x}\right)$ 이라 하면 주어진 부등식은

$$3t \geq a \ln t \left(t > \frac{4}{3}\right)$$

$$t > \frac{4}{3} \text{이므로 } \ln t > 0$$

(i)  $a \leq 0$ 일 때, 주어진 부등식은 항상 성립한다.

(ii)  $a > 0$ 일 때,  $\frac{3}{a} \geq \frac{\ln t}{t}$

$f(t) = \frac{\ln t}{t}$ 로 놓으면

$$f'(t) = \frac{1 - \ln t}{t^2}$$

$$f'(t) = 0 \text{이면 } t = e$$

함수  $f(t)$ 의 증가와 감소를 표로 나타내면 다음과 같다.

|         |                            |     |     |     |
|---------|----------------------------|-----|-----|-----|
| $t$     | $\left(\frac{4}{3}\right)$ | ... | $e$ | ... |
| $f'(t)$ |                            | +   | 0   | -   |
| $f(t)$  |                            | ↗   | 극대  | ↘   |

위의 표에서 함수  $f(t)$ 는  $t = e$ 일 때 극대이고 동시에 최대이다.

따라서 최댓값은  $f(e) = \frac{1}{e}$ 이므로

$$\frac{3}{a} \geq \frac{1}{e}$$

$$\therefore 0 < a \leq 3e$$

(i), (ii)에서  $a \leq 3e$

따라서 실수  $a$ 의 최댓값은  $3e$ 이다.

80) [정답] ⑤

함수  $f(x) = \frac{\ln x^2}{x}$ 에 대하여  $x > 0$ 일 때

$$f(x) = \frac{2\ln x}{x}, f'(x) = \frac{2 - 2\ln x}{x^2}$$

$$f''(x) = \frac{-\frac{2}{x} \times x^2 - (2 - 2\ln x) \times 2x}{x^4}$$

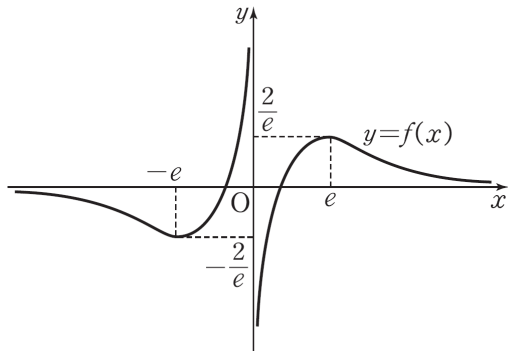
$$= \frac{-2(3 - 2\ln x)}{x^3}$$

따라서  $x > 0$ 에서 함수  $y = f(x)$ 의 증가와 감소를 표로 나타내면 다음과 같다.

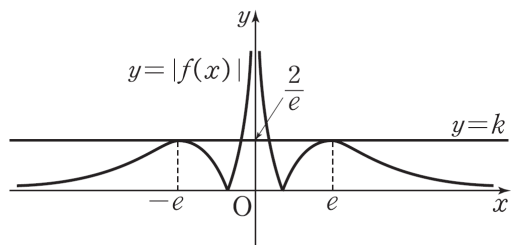
|          |     |     |               |     |                 |     |
|----------|-----|-----|---------------|-----|-----------------|-----|
| $x$      | (0) | ... | $e$           | ... | $\frac{3}{e^2}$ | ... |
| $f'(x)$  |     | +   | 0             | -   | -               | -   |
| $f''(x)$ |     | -   | -             | -   | 0               | +   |
| $f(x)$   |     | ↗   | $\frac{2}{e}$ | ↘   |                 | ↘   |

한편  $x \neq 0$ 인 모든 실수  $x$ 에 대하여  $f(-x) = -f(x)$ 가 성립하므로 함수  $f(x)$ 의 그래프는 원점에 대하여 대칭이

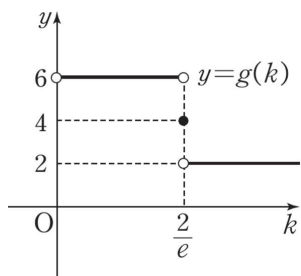
다.  
따라서 함수  $y=f(x)$ 의 그래프는 다음과 같다.



- ㄱ.  $y=f(x)$ 의 그래프는 원점에 대하여 대칭이다. (참)  
 ㄴ.  $f''(e^{\frac{3}{2}})=0$ 이고  $0 < x < e^{\frac{3}{2}}$ 에서  $f''(x) < 0$ 이므로  
 $f(x)$ 의 그래프는 열린 구간  $(0, e^{\frac{3}{2}})$ 에서 위로 볼록하다.  
 따라서  $f''(\alpha)=0$ 인 양수  $\alpha$ 에 대하여 함수  $f(x)$ 의 그래프는 열린 구간  $(0, \alpha)$ 에서 위로 볼록하다. (참)  
 ㄷ.  $y=|f(x)|$ 의 그래프는 다음과 같다.



- $0 < k < \frac{2}{e}$ 일 때 곡선  $y=|f(x)|$ 와 직선  $y=k$ 의 교점의 개수가 6이므로  
 $g(k)=6$   
 $k = \frac{2}{e}$ 일 때 교점의 개수가 4이므로  
 $g(k)=4$   
 $k > \frac{2}{e}$ 일 때 교점의 개수가 2이므로  
 $g(k)=2$   
 따라서 함수  $g(k)$ 의 그래프는 다음과 같으므로  
 함수  $g(k)$ 는  $k = \frac{2}{e}$ 에서 불연속이다. (참)



따라서 옳은 것은 ㄱ, ㄴ, ㄷ이다.

81) [정답] ㉠

$f(x) = \ln|\ln x - 2|$ 에서

$$f'(x) = \frac{1}{x(\ln x - 2)}$$

$$f''(x) = \frac{-\left\{(\ln x - 2) + x \times \frac{1}{x}\right\}}{x^2(\ln x - 2)^2}$$

$$= \frac{1 - \ln x}{x^2(\ln x - 2)^2}$$

$$f''(x) = 0 \text{에서 } x = e$$

함수  $f(x)$ 의 증가와 감소를 표로 나타내면 다음과 같다.

|          |     |     |     |     |         |     |
|----------|-----|-----|-----|-----|---------|-----|
| $x$      | (0) | ... | $e$ | ... | $(e^2)$ | ... |
| $f'(x)$  |     | -   | -   | -   |         | +   |
| $f''(x)$ |     | +   | 0   | -   |         | -   |
| $f(x)$   |     | ↖   | 0   | ↘   |         | ↗   |

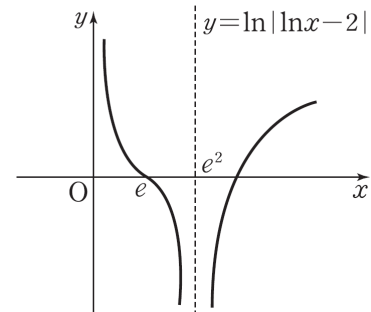
따라서 변곡점은  $(e, 0)$ 이고

$$\lim_{x \rightarrow +0} \ln|\ln x - 2| = \infty$$

$$\lim_{x \rightarrow e^2} \ln|\ln x - 2| = -\infty,$$

$$\lim_{x \rightarrow \infty} \ln|\ln x - 2| = \infty$$

이므로 함수  $y = \ln|\ln x - 2|$ 의 그래프는 다음과 같다.



- ㄱ. 극값이 존재하지 않는다. (참)  
 ㄴ. 변곡점은  $(e, 0)$ 으로 1개다. (참)  
 ㄷ. 직선  $y=ax(a < 0)$ 와 반드시 두 점에서 만난다. (참)  
 따라서 옳은 것은 ㄱ, ㄴ, ㄷ이다.

82) [정답] ㉠

방정식  $x^2 e^{-x} = 4k$ 에서  $f(x) = x^2 e^{-x}$ ,  $g(x) = 4k$ 로 놓으면

$$f'(x) = 2x e^{-x} - x^2 e^{-x}$$

$$= x(2-x)e^{-x}$$

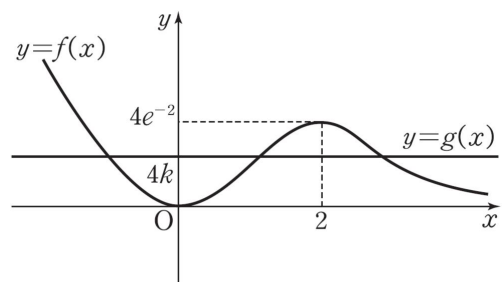
$$f'(x) = 0 \text{에서}$$

$$x = 0 \text{ 또는 } x = 2$$

함수  $f(x)$ 의 증가와 감소를 표로 나타내면 다음과 같다.

|         |     |   |     |           |     |
|---------|-----|---|-----|-----------|-----|
| $x$     | ... | 0 | ... | 2         | ... |
| $f'(x)$ | -   | 0 | +   | 0         | -   |
| $f(x)$  | ↘   | 0 | ↗   | $4e^{-2}$ | ↘   |

$$\lim_{x \rightarrow \infty} f(x) = 0, \quad \lim_{x \rightarrow -\infty} f(x) = \infty \text{이므로 } f(x) = x^2 e^{-x} \text{의 그래프는 다음과 같다.}$$





방정식  $x^2e^{-x} = 4k$ 가 서로 다른 세 실근을 갖는 실수  $k$ 의 값의 범위는  $0 < 4k < 4e^{-2}$

$$\therefore 0 < k < e^{-2}$$

따라서  $\alpha = 0, \beta = e^{-2}$ 이므로

$$\ln(\alpha + \beta) = \ln e^{-2}$$

$$= -2$$

83) [정답] ②

$y = f(x)$ 와  $y = g(x)$ 에서  $f(x) = g(x)$ 라 하면

$$e^x = k(x-1)^3$$

이때  $x > 1$ 이므로

$$\frac{e^x}{(x-1)^3} = k$$

따라서  $y = f(x)$ 와  $y = g(x)$ 의 그래프의 교점의  $x$ 좌표는

두 함수  $y = \frac{e^x}{(x-1)^3}, y = k$ 의 그래프의 교점의  $x$ 좌표와 같다.

$$h(x) = \frac{e^x}{(x-1)^3} \text{이라 하면}$$

$$h'(x) = \frac{e^x(x-1)^3 - 3e^x(x-1)^2}{(x-1)^6}$$

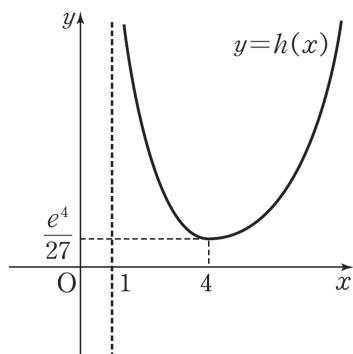
$$= \frac{e^x(x-1)^2(x-4)}{(x-1)^6}$$

$$= \frac{e^x(x-4)}{(x-1)^4}$$

$h'(x) = 0$ 에서  $x = 4$ 이므로 함수  $h(x)$ 의 증가와 감소를 표로 나타내면 다음과 같다.

|         |     |     |                  |     |
|---------|-----|-----|------------------|-----|
| $x$     | (1) | ... | 4                | ... |
| $h'(x)$ |     | -   | 0                | +   |
| $h(x)$  |     | ↘   | $\frac{e^4}{27}$ | ↗   |

또  $\lim_{x \rightarrow 1+0} h(x) = \infty, \lim_{x \rightarrow \infty} h(x) = \infty$ 이므로  $y = h(x)$ 의 그래프는 다음과 같다.



위의 그림에서  $x > 1$ 일 때, 함수  $h(x) = \frac{e^x}{(x-1)^3}$ 의 최솟

값은  $\frac{e^4}{27}$ 이고, 곡선  $y = h(x)$ 와 직선  $y = k$ 가 만나려면

$$k \geq \frac{e^4}{27} \text{이다.}$$

따라서  $y = f(x)$ 와  $y = g(x)$ 의 그래프의 교점이 존재하도록

록 하는 실수  $k$ 의 최솟값은  $\frac{e^4}{27}$ 이다.

84) [정답] ①

$f(x) - g(x) = F(x)$ 라 하면

$$F(x) = x^{n+1} - (n+1)x - n(n-3)$$

$$F'(x) = (n+1)x^n - (n+1)$$

$$= (n+1)(x^n - 1)$$

$$F'(x) = 0 \text{에서 } x = 1$$

$F(x)$ 는  $x = 1$ 에서 극소이자 최소이므로

$$F(1) = 1 - (n+1) - n(n-3) > 0 \text{이면 된다.}$$

$$\text{즉, } n^2 - 2n < 0, n(n-2) < 0$$

따라서  $0 < n < 2$ 이므로 자연수  $n$ 의 값은  $n = 1$

85) [정답] ⑤

$x \ln x = -x + k$ 에서  $x \ln x + x = k$ 라 하고

$$f(x) = x \ln x + x \text{라 하면}$$

$$f'(x) = \ln x + x \times \frac{1}{x} + 1$$

$$= \ln x + 2$$

$$f'(x) = \ln x + 2 = 0 \text{에서}$$

$$x = e^{-2}$$

함수  $f(x)$ 의 증가와 감소를 표로 나타내면 다음과 같다.

|         |     |     |           |     |
|---------|-----|-----|-----------|-----|
| $x$     | (0) | ... | $e^{-2}$  | ... |
| $f'(x)$ |     | -   | 0         | +   |
| $f(x)$  |     | ↘   | $-e^{-2}$ | ↗   |

$f(x)$ 는  $x = e^{-2}$ 에서 극소이면서 최소이고, 최솟값  $-e^{-2}$ 을 갖는다.

따라서  $k < -e^{-2}$ 일 때 직선  $y = -x + k$ 와 곡선  $y = x \ln x$ 는 교점을 갖지 않는다.

따라서 직선  $y = -x + k$ 와 곡선  $y = x \ln x$ 의 교점의 개수  $g(k)$ 에 대하여  $g(k) \geq 1$ 을 만족시키는 실수  $k$ 의 최솟값은

$$-\frac{1}{e^2} \text{이다.}$$

86) [정답] ⑤

$$g(x) = 1 - \log_2 x$$

$$= 1 - \frac{\ln x}{\ln 2}$$

이므로  $h(x) = x + g(x) \ln 2 = x - \ln x + \ln 2$ 라 하면

$$h'(x) = 1 - \frac{1}{x}$$

$$= \frac{x-1}{x}$$

따라서  $x > 0$ 에서  $h(x)$ 의 증가와 감소를 표로 나타내면 다음과 같다.

|         |     |     |    |     |
|---------|-----|-----|----|-----|
| $x$     | (0) | ... | 1  | ... |
| $h'(x)$ |     | -   | 0  | +   |
| $h(x)$  |     | ↘   | 극소 | ↗   |

이때  $h(x)$ 의 최솟값은  $h(1) = 1 + \ln 2$ 이므로 실수  $a$ 의 최댓값은  $1 + \ln 2$ 이다.

87) [정답] ⑤

[풀이]  $f(x) = (x^2 + x - 1)e^{x+1}$ 에서

$$f'(x) = (2x+1)e^{x+1} + (x^2+x-1)e^{x+1}$$

$$\begin{aligned}
&= (x^2 + 3x)e^{x+1} \\
&= x(x+3)e^{x+1} \\
f'(x) = x(x+3)e^{x+1} = 0 &\text{에서 } e^{x+1} > 0 \text{이므로} \\
x = 0 &\text{ 또는 } x = -3 \\
\therefore f(\alpha) \times f(\beta) &= f(0) \times f(-3) \\
&= (-e) \times 5e^{-2} \\
&= -\frac{5}{e}
\end{aligned}$$

88) 정답 ④

[풀이]  $f(x) = \frac{x(x+1)}{(x+2)^2}$  의 양변의 절댓값에 자연로그를 취하면

$$\ln|f(x)| = \ln \left| \frac{x(x+1)}{(x+2)^2} \right| = \ln|x| + \ln|x+1| - 2\ln|x+2|$$

$$\therefore \ln|f(x)| = \ln|x| + \ln|x+1| - 2\ln|x+2|$$

위 등식의 양변을  $x$ 에 대하여 미분하면

$$\frac{f'(x)}{f(x)} = \frac{1}{x} + \frac{1}{x+1} - \frac{2}{x+2} = \frac{3x+2}{x(x+1)(x+2)}$$

$$\begin{aligned}
\therefore f'(x) &= f(x) \cdot \frac{3x+2}{x(x+1)(x+2)} \\
&= \frac{x(x+1)}{(x+2)^2} \cdot \frac{3x+2}{x(x+1)(x+2)} = \frac{3x+2}{(x+2)^3}
\end{aligned}$$

$$\therefore f'(2) = \frac{8}{4^3} = \frac{1}{8}$$

[다른 풀이]  $f(x) = \frac{x^2+x}{(x+2)^2}$  에서 몫의 미분법에 의하여

$$\begin{aligned}
f'(x) &= \frac{(2x+1)(x+2)^2 - (x^2+x)\{2(x+2)\}}{(x+2)^4} \\
&= \frac{(2x+1)(x+2) - 2(x^2+x)}{(x+2)^3} = \frac{3x+2}{(x+2)^3}
\end{aligned}$$

89) 정답 ④

[풀이]  $x > 0$ 이므로  $x^{\sqrt{x}} > 0$ 이다.

$f(x) = x^{\sqrt{x}}$  의 양변에 자연로그를 취하면

$$\ln f(x) = \ln x^{\sqrt{x}}$$

$$\therefore \ln f(x) = \sqrt{x} \ln x$$

위 등식의 양변을  $x$ 에 대하여 미분하면

$$\begin{aligned}
\frac{f'(x)}{f(x)} &= \frac{1}{2\sqrt{x}} \times \ln x + \sqrt{x} \times \frac{1}{x} \\
&= \frac{1}{2\sqrt{x}} (\ln x + 2)
\end{aligned}$$

$$\therefore f'(x) = f(x) \times \frac{1}{2\sqrt{x}} (\ln x + 2)$$

$$= \frac{x^{\sqrt{x}}}{2\sqrt{x}} (\ln x + 2)$$

$$\therefore f'(e^2) = \frac{e^{2e}}{2e} (\ln e^2 + 2)$$

$$= \frac{e^{2e-1}}{2} (2+2)$$

$$= 2e^{2e-1}$$

[오답 피하기]

함수  $g(x) = x^{\sqrt{a}}$  에서  $\sqrt{a}$ 가 상수이면

$$g'(x) = \sqrt{a} x^{\sqrt{a}-1}$$

그런데  $f(x) = x^{\sqrt{x}}$  에서  $\sqrt{x}$ 가 상수가 아니므로

$f'(x)$ 를  $\sqrt{x} \cdot x^{\sqrt{x}-1}$ 로 실수하지 않도록 주의한다.

90) 정답 ②

[풀이]  $f(x) = e^{-x^2}$ 에서

$$f'(x) = -2xe^{-x^2}$$

이므로

$$\begin{aligned}
f''(x) &= (-2xe^{-x^2})' \\
&= (-2)e^{-x^2} - 2x\{e^{-x^2}(-2x)\}
\end{aligned}$$

$$= 2(2x^2 - 1)e^{-x^2}$$

이때  $f''(x) = 0$ 에서

$$2(2x^2 - 1)e^{-x^2} = 0$$

$$2x^2 - 1 = 0 (\because e^{-x^2} > 0)$$

$$x^2 = \frac{1}{2}$$

$$\therefore x = -\frac{\sqrt{2}}{2} \text{ 또는 } x = \frac{\sqrt{2}}{2}$$

따라서 구하는 모든 실수  $x$ 의 값의 곱은

$$\left(-\frac{\sqrt{2}}{2}\right) \times \frac{\sqrt{2}}{2} = -\frac{1}{2}$$

91) 정답 ③

$$\begin{aligned}
[\text{풀이}] f'(x) &= \left(\frac{\ln|x|}{x}\right)' \\
&= \frac{(\ln|x|)' \cdot x - \ln|x| \cdot (x)'}{x^2}
\end{aligned}$$

$$= \frac{\frac{1}{x} \cdot x - \ln|x| \cdot 1}{x^2}$$

$$= \frac{1 - \ln|x|}{x^2}$$

이므로

$$f'(-e) = \frac{1 - \ln|-e|}{(-e)^2}$$

$$= \frac{1 - \ln e}{e^2}$$

$$= 0$$

[다른 풀이]  $f(x) = \frac{1}{x} \cdot \ln|x|$ 이므로 곱의 미분법에 의하여

$$f'(x) = \left(\frac{1}{x}\right)' \ln|x| + \frac{1}{x} \cdot (\ln|x|)'$$

$$= -\frac{1}{x^2} \cdot \ln|x| + \frac{1}{x} \cdot \frac{1}{x}$$

$$= \frac{1 - \ln|x|}{x^2}$$

[오답 피하기]

$(\ln|x|)'$ 을  $\frac{1}{|x|}$ 로 착각하지 않도록 주의한다.

$x > 0$ 이면  $(\ln|x|)' = (\ln x)' = \frac{1}{x}$ 이고,

$x < 0$ 이면  $(\ln|x|)' = \{\ln(-x)\}' = \frac{-1}{-x} = \frac{1}{x}$ 이

므로

$$(\ln|x|)' = \frac{1}{x}$$

92) 정답 ④

[풀이]  $f(x) = e^{\tan x}$ 이므로 합성함수의 미분법에 의하여

$$f'(x) = e^{\tan x} \cdot (\tan x)'$$

$$= e^{\tan x} \cdot \sec^2 x$$

$$= e^{\tan x} \cdot \frac{1}{\cos^2 x}$$

$$\begin{aligned} \therefore f'\left(\frac{\pi}{4}\right) &= e^{\tan\frac{\pi}{4}} \cdot \frac{1}{\cos^2\frac{\pi}{4}} \\ &= e^1 \cdot \frac{1}{\frac{1}{2}} \\ &= 2e \end{aligned}$$

[다른 풀이1]

$u = \tan x$ 라 하면

$$f(x) = e^u$$

이때  $\frac{du}{dx} = \sec^2 x$ 이고  $\frac{d}{du}e^u = e^u$ 이므로

$$\begin{aligned} \frac{d}{dx}f(x) &= \frac{d}{dx}e^u \\ &= \frac{d}{dx}e^u \cdot \frac{du}{dx} \\ &= e^u \sec^2 x \\ &= e^{\tan x} \cdot \sec^2 x \end{aligned}$$

$$\therefore f'(x) = e^{\tan x} \cdot \frac{1}{\cos^2 x}$$

[다른 풀이2]

$e^{\tan x} > 0$ 이므로  $f(x) = e^{\tan x}$ 의 양변에 로그를 취하면

$$\ln f(x) = \ln e^{\tan x}$$

$$\therefore \ln f(x) = \tan x$$

위 등식의 양변을  $x$ 에 대하여 미분하면

$$\frac{f'(x)}{f(x)} = \sec^2 x$$

$$\therefore f'(x) = f(x)\sec^2 x = e^{\tan x} \cdot \frac{1}{\cos^2 x}$$

93) **정답** ㉔

[풀이]  $f(b) = g(b)$ 에서  $b^2 = a \ln b$

이때  $\ln b \neq 0$  이므로

$$a = \frac{b^2}{\ln b} \quad \dots \textcircled{A}$$

$$f'(x) = 2x, \quad g'(x) = \frac{a}{x} \text{이므로}$$

$$f'(b) = g'(b) \text{에서}$$

$$2b = \frac{a}{b}$$

$$\therefore a = 2b^2 \quad \dots \textcircled{B}$$

$$\textcircled{A}, \textcircled{B} \text{에서 } \frac{b^2}{\ln b} = 2b^2 \text{ 이므로}$$

$$\frac{1}{\ln b} = 2 (\because b \neq 0)$$

$$\ln b = \frac{1}{2}$$

$$\therefore b = e^{\frac{1}{2}} = \sqrt{e}$$

이를  $\textcircled{B}$ 에 대입하면

$$a = 2(\sqrt{e})^2 = 2e$$

$$\therefore ab = 2e \times \sqrt{e} = 2e\sqrt{e}$$

94) **정답** 256

[풀이]  $\lim_{h \rightarrow 0} \frac{f(x+h) - f(x)}{h} = f'(x)$ 이므로 주어진 조건에서

$$f'(x) = \lim_{h \rightarrow 0} \frac{\sqrt{x+h} - \sqrt{x-h}}{h}$$

이때

$$\begin{aligned} &\lim_{h \rightarrow 0} \frac{\sqrt{x+h} - \sqrt{x-h}}{h} \\ &= \lim_{h \rightarrow 0} \frac{(\sqrt{x+h} - \sqrt{x-h})(\sqrt{x+h} + \sqrt{x-h})}{h(\sqrt{x+h} + \sqrt{x-h})} \\ &= \lim_{h \rightarrow 0} \frac{x+h - (x-h)}{h(\sqrt{x+h} + \sqrt{x-h})} \\ &= \lim_{h \rightarrow 0} \frac{2}{(\sqrt{x+h} + \sqrt{x-h})} \\ &= \frac{2}{\sqrt{x} + \sqrt{x}} \\ &= \frac{1}{\sqrt{x}} \\ &= x^{-\frac{1}{2}} \\ &\text{이므로} \\ &f'(x) = x^{-\frac{1}{2}} \end{aligned}$$

$$\therefore f''(x) = \frac{d}{dx}f'(x)$$

$$= \left(x^{-\frac{1}{2}}\right)'$$

$$= -\frac{1}{2}x^{-\frac{1}{2}-1}$$

$$= -\frac{1}{2}x^{-\frac{3}{2}}$$

$$= -\frac{1}{2x\sqrt{x}}$$

$$\therefore f''(4) = -\frac{1}{2 \times 4 \times \sqrt{4}} = -\frac{1}{16}$$

따라서  $p = -\frac{1}{16}$ 이므로

$$\frac{1}{p^2} = 16^2 = 256$$

[다른 풀이]  $g(x) = \sqrt{x}$ 라 하면  $g'(x) = \frac{1}{2\sqrt{x}}$ 이므로

$$\begin{aligned} \lim_{h \rightarrow 0} \frac{\sqrt{x+h} - \sqrt{x-h}}{h} &= \lim_{h \rightarrow 0} \frac{g(x+h) - g(x-h)}{h} \\ &= 2g'(x) \\ &= 2 \times \frac{1}{2\sqrt{x}} \\ &= \frac{1}{\sqrt{x}} \\ &= x^{-\frac{1}{2}} \end{aligned}$$

95) **정답** 8

[풀이]  $f'(x) = \cos x, \quad g'(x) = 2x$

$(g \circ f)(x) = g(f(x))$ 이므로

$$(g \circ f)'(x) = g'(f(x)) \cdot f'(x)$$

$$= 2f(x) \cdot \cos x$$

$$= 2\sin x \cos x$$

$$= \sin 2x$$

한편  $\cos 2\alpha = \frac{1}{3}$ 이므로

$$\sin^2 2\alpha = 1 - \cos^2 2\alpha$$

$$= 1 - \left(\frac{1}{3}\right)^2 = \frac{8}{9}$$

이때  $0 < 2\alpha < \pi$ 이므로

$$\begin{aligned} \sin 2\alpha &= \sqrt{\frac{8}{9}} = \frac{2\sqrt{2}}{3} \\ \therefore p &= (g \circ f)'(\alpha) \\ &= \sin 2\alpha \\ &= \frac{2\sqrt{2}}{3} \\ \therefore 9p^2 &= 9 \times \left(\frac{2\sqrt{2}}{3}\right)^2 = 9 \times \frac{8}{9} = 8 \end{aligned}$$

[다른 풀이1]

$$\begin{aligned} (g \circ f)(x) &= g(\sin x) = (\sin x)^2 \\ \text{이므로 합성함수의 미분법에 의하여} \\ (g \circ f)'(x) &= 2(\sin x)^{2-1} \cdot (\sin x)' \\ &= 2\sin x \cos x \\ &= \sin 2x \end{aligned}$$

[다른 풀이2]

$$\begin{aligned} (g \circ f)(x) &= \sin^2 x = \sin x \sin x \text{이므로 곱의 미분법에 의하여} \\ (g \circ f)'(x) &= (\sin x)' \sin x + \sin x (\sin x)' \\ &= \cos x \sin x + \sin x \cos x \\ &= 2\sin x \cos x \\ &= \sin 2x \end{aligned}$$

96) 정답 ③

함수  $f(x)$ 가 실수 전체의 집합에서 미분가능하려면  $x=0$ 과  $x=e$ 에서 미분가능하면 된다.

(i)  $x=0$ 에서의 미분가능성

함수  $f(x)$ 는  $x=0$ 에서 연속이어야 하므로

$$\begin{aligned} \lim_{x \rightarrow -0} f(x) &= \lim_{x \rightarrow -0} e^x = 1 \\ \lim_{x \rightarrow +0} f(x) &= \lim_{x \rightarrow +0} (ax+b) = b \\ f(0) &= b \end{aligned}$$

따라서  $\lim_{x \rightarrow -0} f(x) = \lim_{x \rightarrow +0} f(x) = f(0)$ 에서  $b=1$

이제  $f'(0)$ 의 값을 구해보자

$$\begin{aligned} \lim_{x \rightarrow -0} \frac{f(x)-f(0)}{x-0} &= \lim_{x \rightarrow -0} \frac{e^x-1}{x} = 1 \\ \lim_{x \rightarrow +0} \frac{f(x)-f(0)}{x-0} &= \lim_{x \rightarrow +0} \frac{ax+1-1}{x} = a \end{aligned}$$

이때  $x=0$ 에서 미분가능하려면

$$\begin{aligned} \lim_{x \rightarrow 0} \frac{f(x)-f(0)}{x-0} \text{의 값이 존재해야 하므로} \\ \lim_{x \rightarrow -0} \frac{f(x)-f(0)}{x-0} &= \lim_{x \rightarrow +0} \frac{f(x)-f(0)}{x-0} \text{이어야 한다.} \\ \therefore a &= 1 \end{aligned}$$

(ii)  $x=e$ 에서의 미분가능성

(i)에서

$$f(x) = \begin{cases} e^x & (x < 0) \\ x+1 & (0 \leq x \leq e) \\ c \ln x + d & (x > e) \end{cases}$$

함수  $f(x)$ 는  $x=e$ 에서 연속이어야 하므로

$$\begin{aligned} \lim_{x \rightarrow e-0} f(x) &= \lim_{x \rightarrow e-0} (x+1) = e+1 \\ \lim_{x \rightarrow e+0} f(x) &= \lim_{x \rightarrow e+0} (c \ln x + d) = c+d \\ f(e) &= e+1 \end{aligned}$$

따라서  $\lim_{x \rightarrow e-0} f(x) = \lim_{x \rightarrow e+0} f(x) = f(e)$ 에서

$$c+d = e+1 \quad \dots \textcircled{A}$$

이제  $f'(e)$ 의 값을 구해 보자

$$\lim_{x \rightarrow e-0} \frac{f(x)-f(e)}{x-e} = \lim_{x \rightarrow e-0} \frac{x+1-(e+1)}{x-e} = \lim_{x \rightarrow e-0} \frac{x-e}{x-e} = 1$$

$$\begin{aligned} \lim_{x \rightarrow e+0} \frac{f(x)-f(e)}{x-e} \\ &= \lim_{x \rightarrow e+0} \frac{c \ln x + d - (e+1)}{x-e} \\ &= \lim_{x \rightarrow e+0} \frac{c \ln x + d - (c+d)}{x-e} \quad (\because \textcircled{A}) \end{aligned}$$

$$\textcircled{B}) \quad \lim_{x \rightarrow e+0} \frac{c(\ln x - 1)}{x-e}$$

이때  $g(x) = \ln x$ 라 하면

$$g'(x) = \frac{1}{x} \text{이므로}$$

$$\lim_{x \rightarrow e} \frac{\ln x - 1}{x-e} = \lim_{x \rightarrow e} \frac{g(x)-g(e)}{x-e} = g'(e) = \frac{1}{e}$$

$$\therefore \lim_{x \rightarrow e+0} \frac{f(x)-f(e)}{x-e}$$

$$= \lim_{x \rightarrow e+0} \frac{c(\ln x - 1)}{x-e} = \frac{c}{e}$$

이때  $x=e$ 에서 미분가능하려면

$$\lim_{x \rightarrow e} \frac{f(x)-f(0)}{x-0} \text{의 값이 존재해야 하므로}$$

$$\lim_{x \rightarrow e-0} \frac{f(x)-f(0)}{x-0} = \lim_{x \rightarrow e+0} \frac{f(x)-f(0)}{x-0}$$

이어야 한다.

$$\therefore \frac{c}{e} = 1$$

$$\therefore c=e, d=1 \quad (\because \textcircled{A})$$

(i), (ii)에서

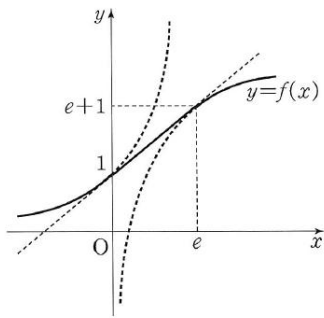
$$abcd = 1 \times 1 \times e \times 1 = e$$

[다른 풀이]

$\lim_{x \rightarrow e+0} \frac{\ln x - 1}{x-e}$ 에서  $x-e=t$ 라 하면  $x \rightarrow e+0$ 일 때  $t \rightarrow +0$ 이므로

$$\begin{aligned} \lim_{x \rightarrow e+0} \frac{\ln x - 1}{x-e} &= \lim_{t \rightarrow +0} \frac{\ln(e+t) - 1}{t} \\ &= \lim_{t \rightarrow +0} \frac{\ln(e+t) - \ln e}{t} \\ &= \lim_{t \rightarrow +0} \frac{\ln \frac{e+t}{e}}{t} \\ &= \frac{1}{e} \lim_{t \rightarrow +0} \frac{e}{t} \ln \left(1 + \frac{t}{e}\right) \\ &= \frac{1}{e} \lim_{t \rightarrow +0} \ln \left(1 + \frac{t}{e}\right)^{\frac{e}{t}} \\ &= \frac{1}{e} \times 1 \quad (\because \lim_{x \rightarrow 0} \ln(1+x)^{\frac{1}{x}} = 1) \\ &= \frac{1}{e} \end{aligned}$$

[참고] 함수  $y=f(x)$ 의 그래프는 다음과 같다.



97) 정답 ①

[풀이]  $\sin y = \cos x^2$ 의 양변을  $x$ 에 대하여 미분하면

$$\frac{d}{dx}(\sin y) = \frac{d}{dx}(\cos x^2)$$

$$\frac{d}{dx}(\sin y) \cdot \frac{dy}{dx} = (-\sin x^2) \cdot (x^2)'$$

$$\cos y \cdot \frac{dy}{dx} = -2x \sin x^2$$

$$\therefore \frac{dx}{dy} = -\frac{2x \sin x^2}{\cos y} \quad (\text{단, } \cos y \neq 0)$$

위 식에  $x = \sqrt{\frac{\pi}{3}}$ ,  $y = \frac{\pi}{6}$ 를 대입하면 구하는 접선의 기울기는

$$-\frac{2\sqrt{\frac{\pi}{3}} \times \frac{\sqrt{3}}{2}}{\frac{\sqrt{3}}{2}} = -\frac{2\sqrt{3\pi}}{3}$$

[다른 풀이]

$$\sin y = \cos x^2$$

$$\Leftrightarrow \cos\left(\frac{\pi}{2} - y\right) = \cos x^2$$

$$\Leftrightarrow \frac{\pi}{2} - y = 2n\pi \pm x^2 \quad (\text{단, } n \text{은 정수이다.})$$

이때  $x = \sqrt{\frac{\pi}{3}}$ ,  $y = \frac{\pi}{6}$ 가 위 등식을 만족시키는 것은

$$y = -x^2 + \frac{\pi}{2}$$

일 때이다.

이때,  $y' = -2x$ 이므로 구하는 접선의 기울기는

$$-2\sqrt{\frac{\pi}{3}} = -\frac{2\sqrt{3\pi}}{3}$$

98) 정답 ②

[풀이]  $f(x) = x^2 e^x$ 에서

$$f'(x) = 2xe^x + x^2 e^x = (x^2 + 2x)e^x$$

$$f''(x) = (2x+2)e^x + (x^2+2x)e^x = (x^2+4x+2)e^x$$

$$\therefore \lim_{x \rightarrow a} \frac{f'(x) - f''(x)}{x - a}$$

$$= \lim_{x \rightarrow a} \frac{(x^2+2x)e^x - (x^2+4x+2)e^x}{x - a}$$

$$= \lim_{x \rightarrow a} \frac{-2(x+1)e^x}{x - a} = b$$

이때  $x \rightarrow a$ 일 때, (분모)  $\rightarrow 0$ 이므로 (분자)  $\rightarrow 0$ 이어야 한다.

$$-2(a+1)e^a = 0 \text{에서 } e^a > 0 \text{이므로}$$

$$a+1=0$$

따라서  $a = -1$ 이므로

$$b = \lim_{x \rightarrow -1} \frac{-2(x+1)e^x}{x+1}$$

$$= \lim_{x \rightarrow -1} (-2e^x)$$

$$= -2e^{-1} = -\frac{2}{e}$$

$$\therefore ab = (-1) \times \left(-\frac{2}{e}\right) = \frac{2}{e}$$

99) 정답 ③

[풀이]  $f(x) = \log_2(\cos x)$ 에서

$$f\left(\frac{\pi}{3}\right) = \log_2\left(\cos \frac{\pi}{3}\right) = \log_2 \frac{1}{2} = -1 \quad \dots \textcircled{1}$$

$$f'(x) = \frac{-\sin x}{\cos x} \times \frac{1}{\ln 2} = -\frac{\tan x}{\ln 2}$$

이므로

$$f'\left(\frac{\pi}{3}\right) = -\frac{\tan \frac{\pi}{3}}{\ln 2} = -\frac{\sqrt{3}}{\ln 2} \quad \dots \textcircled{2}$$

①, ②에서

$$g(-1) = \frac{\pi}{3}$$

$$g'(-1) = \frac{1}{f'\left(\frac{\pi}{3}\right)} = -\frac{\ln 2}{\sqrt{3}}$$

$$\therefore \lim_{x \rightarrow -1} \frac{3g(x) - \pi}{x+1}$$

$$= 3 \lim_{x \rightarrow -1} \frac{g(x) - \frac{\pi}{3}}{x+1}$$

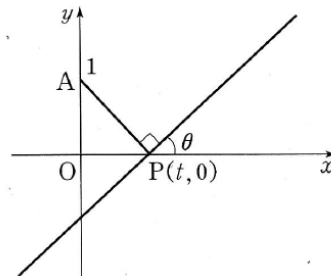
$$= 3 \lim_{x \rightarrow -1} \frac{g(x) - g(-1)}{x - (-1)}$$

$$= 3g'(-1)$$

$$= -\sqrt{3} \ln 2$$

100) 정답 25

[풀이]



점 P의 속력은 매초 1로 일정하므로 점 P가 원점을 출발하여  $t$ 초가

지난 순간 점 P의 좌표는  $(t, 0)$ 이다.

따라서 직선 AP의 기울기는

$$\frac{0-1}{t-0} = -\frac{1}{t}$$

이때 점 P를 지나고 직선 AP에 수직인 직선의 기울기를  $f(t)$ 라 하면

$$-\frac{1}{t} \times f(t) = -1$$

이므로

$$f(t) = t$$

이때  $f(t) = \tan \theta$  ( $0 < \theta < \frac{\pi}{2}$ )이므로

$$\tan \theta = t \quad \dots \textcircled{1}$$

위 등식의 양변을  $t$ 에 대하여 미분하면

$$\sec^2 \theta \frac{d\theta}{dt} = 1$$

$$\therefore \frac{d\theta}{dt} = \frac{1}{\sec^2\theta} = \cos^2\theta \quad \dots \ominus$$

$t = \sqrt{3}$  일 때  $\ominus$ 에서  $\theta = \frac{\pi}{3}$  이므로  $\frac{d\theta}{dt}$ 의 값은  $\ominus$ 에  $\theta = \frac{\pi}{3}$ 를 대입한 값과 같다.

$$\therefore p = \cos^2 \frac{\pi}{3} = \left(\frac{1}{2}\right)^2 = \frac{1}{4}$$

$$\therefore 100p = 100 \times \frac{1}{4} = 25$$

101) **정답** ③

[풀이]

ㄱ.  $\lim_{x \rightarrow 1} \frac{f(x)-2}{x-1} = a$ 에서  $x \rightarrow 1$ 일 때,

(분모)  $\rightarrow 0$ 이므로 (분자)  $\rightarrow 0$ 이다.

$$\therefore \lim_{x \rightarrow 1} \{f(x)-2\} = 0$$

이때 함수  $f(x)$ 의 이계도함수가 존재하면  $f(x)$ 는 연속함수이므로

$$\lim_{x \rightarrow 1} \{f(x)-2\} = \lim_{x \rightarrow 1} f(x) - 2 = f(1) - 2 = 0$$

$$\therefore f(1) = 2$$

$g(x)$ 는  $f(x)$ 의 역함수이므로  $g(2) = 1$ 이다. (참)

ㄴ.  $\lim_{x \rightarrow 1} \frac{f'(x)+f(x)}{x-1} = 2$ 에서  $x \rightarrow 1$ 일 때,

(분모)  $\rightarrow 0$ 이므로 (분자)  $\rightarrow 0$ 이다.

$$\therefore \lim_{x \rightarrow 1} \{f'(x)+f(x)\} = 0$$

함수  $f(x)$ 의 이계도함수가 존재하면  $f'(x)$ 와  $f(x)$ 는 모두 연속함수이므로

$$\lim_{x \rightarrow 1} \{f'(x)+f(x)\} = \lim_{x \rightarrow 1} f'(x) + \lim_{x \rightarrow 1} f(x)$$

$$= f'(1) + f(1) = 0$$

$$\therefore f'(1) = -f(1) = -2 \quad \dots \ominus$$

그러므로 역함수의 미분법에 의하여

$$g'(2) = \frac{1}{f'(1)} = -\frac{1}{2} \quad (\text{참})$$

ㄷ.  $\lim_{x \rightarrow 1} \frac{f'(x)+f(x)}{x-1} = 2$ 에서

$$\lim_{x \rightarrow 1} \frac{f'(x)+2+\{f(x)-2\}}{x-1}$$

$$= \lim_{x \rightarrow 1} \frac{f'(x)-f'(1)+\{f(x)-f(1)\}}{x-1}$$

$$= \lim_{x \rightarrow 1} \frac{f'(x)-f'(1)}{x-1} + \lim_{x \rightarrow 1} \frac{f(x)-f(1)}{x-1}$$

$$= f''(1) + f'(1)$$

$$= f''(1) - 2 = 2$$

$$\therefore f''(1) = 4 \quad \dots \ominus$$

$y = g(x)$ 에서  $g'(x) = \frac{1}{f'(y)}$ 이므로

$$g''(x) = \frac{d}{dx} \left\{ \frac{1}{f'(y)} \right\}$$

$$= \frac{d}{dy} \left\{ \frac{1}{f'(y)} \right\} \times \frac{dy}{dx}$$

$$= \frac{-f''(y)}{\{f'(y)\}^2} \times \frac{dy}{dx}$$

$$= \frac{-f''(y)}{\{f'(y)\}^2} \times g'(x)$$

$$= \frac{-f''(y)}{\{f'(y)\}^3} \quad \left( \because g'(x) = \frac{1}{f'(y)} \right)$$

$$\therefore g''(2) = \frac{-f''(1)}{\{f'(1)\}^3}$$

$$= \frac{-4}{(-2)^3} \quad (\because \ominus, \ominus)$$

$$= \frac{1}{2} \quad (\text{거짓})$$

따라서 옳은 것은 ㄱ, ㄴ이다.

[참고]

$f(g(x)) = x$ 이므로

$$f'(g(x)) \cdot g'(x) = 1 \quad \dots \ominus$$

$\ominus$ 의 양변을  $x$ 에 대하여 미분하면

$$f''(g(x)) \cdot g'(x) \cdot g'(x) + f'(g(x)) \cdot g''(x) = 0$$

$$\therefore g''(x) = \frac{-f''(g(x)) \cdot \{g'(x)\}^2}{f'(g(x))}$$

$$= \frac{-f''(y)}{f'(y)} \times \left\{ \frac{1}{f'(y)} \right\}^2$$

$$= \frac{-f''(y)}{\{f'(y)\}^3}$$

102) **정답** ③

$f(e^2) = (e^2 - 1)f'(c) + f(1)$ 에서

$$\frac{f(e^2) - f(1)}{e^2 - 1} = f'(c) \quad \dots \ominus$$

함수  $f(x) = \ln x^2$ 은 닫힌 구간  $[1, e^2]$ 에서 연속이고, 열린 구간  $(1, e^2)$ 에서 미분가능하므로 평균값의 정리에 의하여  $\ominus$ 을 만족시키는  $c$ 가 1과  $e^2$  사이에 적어도 하나 존재한다.

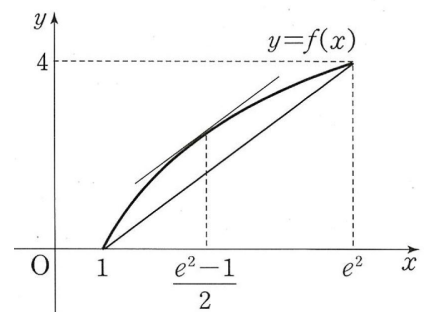
$$f'(x) = \frac{2x}{x^2} = \frac{2}{x} \text{이므로}$$

$$\frac{f(e^2) - f(1)}{e^2 - 1} = \frac{2}{c}$$

$$\frac{\ln e^4 - \ln 1}{e^2 - 1} = \frac{2}{c}$$

$$\frac{4}{e^2 - 1} = \frac{2}{c}$$

$$\therefore c = \frac{e^2 - 1}{2}$$



103) **정답** ③

함수  $f(x) = \sin x + \cos x$ 는 닫힌 구간  $[0, 2\pi]$ 에서 연속이고 열린구간  $(0, 2\pi)$ 에서 미분가능하다.

또한  $f(0) = f(2\pi) = 1$ 이므로 롤의 정리에 의하여

$f'(c) = 0$ 인  $c$ 가 0과  $2\pi$  사이에 적어도 하나 존재한다.

$f'(x) = \cos x - \sin x$ 에서

$$f'(c) = \cos c - \sin c = 0 \text{이므로}$$

$$\sin c - \cos c = 0$$

$$\sqrt{2} \sin\left(c - \frac{\pi}{4}\right) = 0$$

$0 < c < 2\pi$ 이므로

$$c = \frac{\pi}{4} \quad \text{또는} \quad c = \frac{5}{4}\pi$$

따라서  $f'(c) = 0$ 을 만족시키는 모든 상수  $c$ 의 값의 합은

$$\frac{\pi}{4} + \frac{5}{4}\pi = \frac{3}{2}\pi$$

[다른풀이]

$$\sin c - \cos c = 0 \quad \dots \ominus$$

(i)  $\cos c = 0$ 일 때

$$\sin c = 1 \quad \text{또는} \quad \sin c = -1$$

이므로  $\ominus$ 을 만족시키지 않는다.

(ii)  $\cos c \neq 0$ 일 때

$$\frac{\sin c}{\cos c} - 1 = 0$$

$$\tan c = 1$$

$$\therefore c = \frac{\pi}{4} \text{ 또는 } c = \frac{5}{4}\pi \quad (\because 0 < c < 2\pi)$$

104) **정답** ③

함수  $f(x) = \sin 2\pi x$ 는 닫힌 구간  $[1, 2]$ 에서 연속이고, 열린 구간  $(1, 2)$ 에서 미분가능하다.

또  $f(1) = f(2) = 0$ 이므로 롤의 정리에 의하여  $f'(c) = 0$ 인  $c$ 가 1과 2사이에 적어도 하나 존재한다.

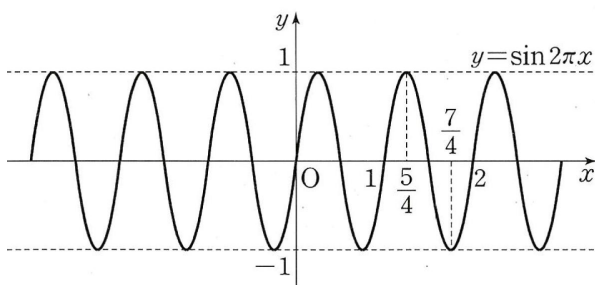
$$f'(x) = 2\pi \cos 2\pi x \text{ 에서}$$

$$f'(c) = 2\pi \cos 2\pi c$$

$$1 < c < 2 \text{ 에서 } 2\pi < 2\pi c < 4\pi \text{ 이므로 } f'(c) = 0,$$

즉,  $\cos 2\pi c = 0$ 을 만족시키는  $2\pi c$ 의 값은  $\frac{5}{2}\pi, \frac{7}{2}\pi$

$$\therefore c = \frac{5}{4} \text{ 또는 } c = \frac{7}{4}$$



따라서  $f'(c) = 0$ 을 만족시키는 모든 상수  $c$ 의 값의 합은

$$\frac{5}{4} + \frac{7}{4} = \frac{12}{4} = 3$$

105) **정답** ③

$f(x) = x \ln x + 2x$ 로 놓으면

$$f'(x) = \ln x + x \times \frac{1}{x} + 2 = \ln x + 3$$

접점의 좌표를  $(t, t \ln t + 2t)$ 라 하면 접선의 기울기는

$$f'(t) = \ln t + 3$$

직선  $y = 4x - 1$ 에 평행한 직선의 기울기는 4이므로

$$\ln t + 3 = 4, \ln t = 1$$

$$\therefore t = e$$

따라서 접점의 좌표는  $(e, 3e)$ 이고 기울기가 4인 접선의 방정식은

$$y - 3e = 4(x - e)$$

$$\therefore y = 4x - e$$

이 직선이 점  $(a, 0)$ 을 지나므로  $0 = 4a - e$ 에서  $a = \frac{e}{4}$

106) **정답** 10

함수  $f(x) = \cos^2 x$ 는 닫힌 구간  $\left[0, \frac{9}{2}\pi\right]$ 에서 연속이고, 열린

구간  $\left(0, \frac{9}{2}\pi\right)$ 에서 미분가능하므로 평균값의 정리에 의하여

$$\frac{f\left(\frac{9}{2}\pi\right) - f(0)}{\frac{9}{2}\pi} = f'(c)$$

인  $c$ 가 0과  $\frac{9}{2}\pi$ 사이에 적어도 하나 존재한다.

$$f'(x) = -2\cos x \sin x = -\sin 2x \text{ 이므로}$$

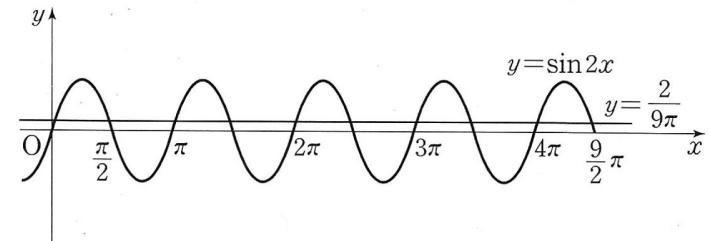
$$\frac{f\left(\frac{9}{2}\pi\right) - f(0)}{\frac{9}{2}\pi} = -\sin 2c$$

$$\frac{0-1}{\frac{9}{2}\pi} = -\sin 2c$$

$$\frac{2}{9\pi} = \sin 2c$$

$0 < \frac{2}{9\pi} < 1$ 이므로 직선  $y = \frac{2}{9\pi}$ 와 곡선  $y = \sin 2x$ 가 열린

구간  $\left(0, \frac{9}{2}\pi\right)$ 에서 만나는 점은 그림과 같이 10개이다.



따라서 주어진 등식을 만족시키는 실수  $c$ 의 개수는 10이다.

[다른풀이]

함수  $f(x) = \cos^2 x$ 는 닫힌 구간  $\left[0, \frac{9}{2}\pi\right]$ 에서 연속이고, 열린

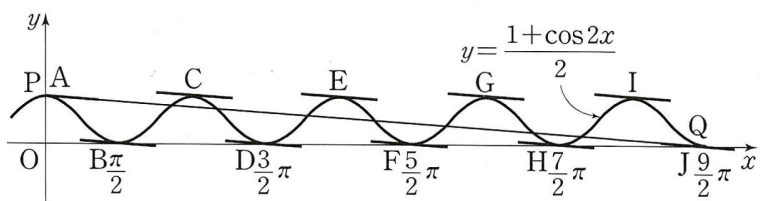
구간  $\left(0, \frac{9}{2}\pi\right)$ 에서 미분가능하다.

즉, 열린 구간  $\left(0, \frac{9}{2}\pi\right)$ 에서 평균값의 정리를 만족시키는 상수  $c$

는 두 점  $P(0, 1), Q\left(\frac{9}{2}\pi, 0\right)$ 을 지나는 직선에 평행한 접선에서 접점의  $x$ 좌표이다.

함수  $y = \cos^2 x = \frac{1 + \cos 2x}{2}$ 의 그래프는 그림과 같으므로 두

점  $P, Q$ 를 잇는 직선과 평행한 접선을 10개의 점  $A, B, C, D, E, F, G, H, I, J$ 에서 각각 그을 수 있다.



따라서 주어진 등식을 만족시키는 실수  $c$ 의 개수는 10이다.

107) **정답** ③

$f(x) = (x-6)e^x$ 으로 놓으면

$$f'(x) = e^x + (x-6)e^x = (x-5)e^x$$

접점의 좌표를  $(t, (t-6)e^t)$ 이라 하면 이 점에서의 접선의 기울

기는  $f'(t) = (t-5)e^t$ 이므로 접선의 방정식은

$$y - (t-6)e^t = (t-5)e^t(x-t)$$

$$y = (t-5)e^t x - (t^2 - 6t + 6)e^t$$

이 직선이 점  $(a, 0)$ 을 지나므로

$$0 = (t-5)e^t a - (t^2 - 6t + 6)e^t$$

$$\{t^2 - (a+6)t + (5a+6)\}e^t = 0$$

$e^t > 0$ 이므로

$$t^2 - (a+6)t + (5a+6) = 0 \dots\dots \textcircled{\ominus}$$

두 개의 접선을 그으려면 이차방정식  $\textcircled{\ominus}$ 이 서로 다른 두 실근을

가져야 하므로 이차방정식  $\textcircled{\ominus}$ 의 판별식을  $D$ 라 하면

$$D = (a+6)^2 - 4(5a+6) > 0$$

$$a^2 - 8a + 12 > 0$$

$$(a-2)(a-6) > 0$$

$$\therefore a < 2 \text{ 또는 } a > 6$$

따라서 9이하의 자연수  $a$ 는 1, 7, 8, 9이므로 그 합은

$$1 + 7 + 8 + 9 = 25$$

108) 정답 ④

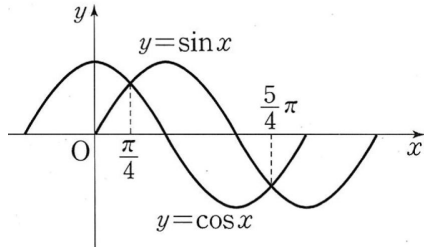
$f(t) = e^t$ 이라 하자.

$\frac{\pi}{4} < x < \frac{5}{4}\pi$ 일 때,  $\cos x < \sin x$ 이므로 함수  $f(t)$ 는 닫힌 구간

간  $[\cos x, \sin x]$ 에서 연속이고 열린 구간  $(\cos x, \sin x)$ 에서 미분가능하다. 따라서 평균값의 정리에 의하여

$$\frac{e^{\sin x} - e^{\cos x}}{\sin x - \cos x} = f'(c)$$

인  $c$ 가  $\cos x$ 와  $\sin x$  사이에 적어도 하나 존재한다.



$\cos x < c < \sin x$ 에서  $x \rightarrow \frac{\pi}{4} + 0$ 일 때,

$$\cos x \rightarrow \frac{\sqrt{2}}{2}, \sin x \rightarrow \frac{\sqrt{2}}{2} \text{이므로 } c \rightarrow \frac{\sqrt{2}}{2}$$

$$\therefore \lim_{x \rightarrow \frac{\pi}{4} + 0} \frac{e^{\sin x} - e^{\cos x}}{\sin x - \cos x} = \lim_{c \rightarrow \frac{\sqrt{2}}{2}} f'(c) = \lim_{c \rightarrow \frac{\sqrt{2}}{2}} e^c = e^{\frac{\sqrt{2}}{2}}$$

[다른풀이]

$\sin x - \cos x = t$ 로 놓으면  $t = \sqrt{2} \sin(x - \frac{\pi}{4})$ 이므로

$x \rightarrow \frac{\pi}{4} + 0$ 일 때  $t \rightarrow +0$ 이다.

$$\begin{aligned} \therefore \lim_{x \rightarrow \frac{\pi}{4} + 0} \frac{e^{\sin x} - e^{\cos x}}{\sin x - \cos x} &= \lim_{x \rightarrow \frac{\pi}{4} + 0} \left\{ e^{\cos x} \cdot \frac{e^{\sin x - \cos x} - 1}{\sin x - \cos x} \right\} \\ &= \lim_{x \rightarrow \frac{\pi}{4} + 0} e^{\cos x} \cdot \lim_{t \rightarrow +0} \frac{e^t - 1}{t} \\ &= e^{\frac{\sqrt{2}}{2}} \times 1 = e^{\frac{\sqrt{2}}{2}} \end{aligned}$$

## 정답 및 해설

109) 정답 ②

함수  $f(x) = 2xe^{-\frac{1}{2}x^2}$ 의 정의역은 실수 전체의 집합이다.

$f(x) = 2xe^{-\frac{1}{2}x^2}$ 에서

$$\begin{aligned} f'(x) &= 2e^{-\frac{1}{2}x^2} + 2xe^{-\frac{1}{2}x^2}(-x) \\ &= (2 - 2x^2)e^{-\frac{1}{2}x^2} \end{aligned}$$

$$= -2(x+1)(x-1)e^{-\frac{1}{2}x^2}$$

$f'(x) = 0$ 에서  $x = -1$  또는  $x = 1$

함수  $f(x)$ 의 증가와 감소를 표로 나타내면 다음과 같다.

|         |     |    |     |    |     |
|---------|-----|----|-----|----|-----|
| $x$     | ... | -1 | ... | 1  | ... |
| $f'(x)$ | -   | 0  | +   | 0  | -   |
| $f(x)$  | \   | 극소 | /   | 극대 | \   |

함수  $f(x)$ 는  $x = -1$ 에서 극소이고,  $x = 1$ 에서 극대이므로

극솟값은  $m = f(-1) = -2e^{-\frac{1}{2}}$ 이고,

극댓값은  $M = f(1) = 2e^{-\frac{1}{2}}$ 이다.

$$\begin{aligned} \therefore M - m &= 2e^{-\frac{1}{2}} - (-2e^{-\frac{1}{2}}) \\ &= 4e^{-\frac{1}{2}} \end{aligned}$$

110) 정답 ④

함수  $f(x) = \frac{2\ln x}{x^2}$ 의 정의역은  $\{x | x > 0\}$ 이다.

$f(x) = \frac{2\ln x}{x^2}$ 에서

$$f'(x) = \frac{(2\ln x)' \cdot x^2 - 2\ln x \cdot (x^2)'}{(x^2)^2}$$

$$= \frac{\frac{2}{x} \cdot x^2 - 4x \ln x}{x^4}$$

$$= \frac{2x - 4x \ln x}{x^4}$$

$$= \frac{2(1 - 2\ln x)}{x^3}$$

$f'(x) = 0$ 에서

$$1 - 2\ln x = 0$$

즉,  $\ln x = \frac{1}{2}$ 이므로

$$x = e^{\frac{1}{2}} = \sqrt{e}$$

함수  $f(x)$ 의 증가와 감소를 표로 나타내면 다음과 같다.

|         |     |     |            |     |
|---------|-----|-----|------------|-----|
| $x$     | (0) | ... | $\sqrt{e}$ | ... |
| $f'(x)$ |     | +   | 0          | -   |
| $f(x)$  |     | /   | 극대         | \   |

함수  $f(x)$ 는  $x = \sqrt{e}$ 에서 극대이고 극댓값은

$$\begin{aligned} f(\sqrt{e}) &= \frac{2\ln \sqrt{e}}{(\sqrt{e})^2} \\ &= \frac{1}{e} \end{aligned}$$

따라서  $a = \sqrt{e}$ 이고  $M = \frac{1}{e}$ 이므로

$$\begin{aligned} \frac{a}{M} &= \frac{\sqrt{e}}{\frac{1}{e}} = e\sqrt{e} \\ &= e^{\frac{3}{2}} \end{aligned}$$

참고)

$$f'(x) = \frac{2(1 - 2\ln x)}{x^3} = 0 \text{에서 } x = \sqrt{e}$$

$$f'(x) = \frac{2(1 - 2\ln x)}{x^3} \text{에서}$$

$f''(x)$

$$= \frac{\{2(1 - 2\ln x)\}' \cdot x^3 - 2(1 - 2\ln x) \cdot (x^3)'}{(x^3)^2}$$

$$= \frac{\left(-\frac{4}{x}\right)x^3 - 6x^2(1 - 2\ln x)}{x^6}$$

$$= \frac{-4x^2 - 6(1 - 2\ln x)x^2}{x^6}$$

$$= \frac{-4 - 6(1 - 2\ln x)}{x^4} \quad (\because x > 0)$$



$$= -\frac{4+6(1-2\ln x)}{x^4}$$

$$f''(\sqrt{e}) = -\frac{4+6(1-2\ln \sqrt{e})}{(\sqrt{e})^4}$$

$$= -\frac{4+6 \times 0}{e^2}$$

$$= -\frac{4}{e^2} < 0$$

이므로 이계도함수를 이용한 극값의 판정에 의하여 함수  $f(x)$ 는  $x = \sqrt{e}$ 에서 극대이다.

111) 정답 ③

$$f(x) = \sqrt{2} e^x \cos x \text{에서}$$

$$f'(x) = \sqrt{2} \{e^x \cos x + e^x (-\sin x)\}$$

$$= \sqrt{2} e^x (\cos x - \sin x)$$

$$f'(x) = 0 \text{에서 } \cos x = \sin x$$

$0 \leq x \leq 2\pi$ 일 때

$$x = \frac{\pi}{4} \text{ 또는 } x = \frac{5}{4}\pi$$

함수  $f(x)$ 의 증가와 감소를 표로 나타내면 다음과 같다.

|         |   |     |                 |     |                  |     |        |
|---------|---|-----|-----------------|-----|------------------|-----|--------|
| $x$     | 0 | ... | $\frac{\pi}{4}$ | ... | $\frac{5}{4}\pi$ | ... | $2\pi$ |
| $f'(x)$ |   | +   | 0               | -   | 0                | +   |        |
| $f(x)$  |   | ↗   | 극대              | ↘   | 극소               | ↗   |        |

함수  $f(x)$ 는  $x = \frac{\pi}{4}$ 에서 극대이고,  $x = \frac{5}{4}\pi$ 에서 극소이므로

$$\text{극댓값과 극솟값은 각각 } f\left(\frac{\pi}{4}\right) = \sqrt{2} e^{\frac{\pi}{4}} \cos \frac{\pi}{4} = e^{\frac{\pi}{4}},$$

$$f\left(\frac{5}{4}\pi\right) = \sqrt{2} e^{\frac{5}{4}\pi} \cos \frac{5}{4}\pi = -e^{\frac{5}{4}\pi} \text{이고,}$$

$$\text{구간의 양 끝점에서의 함숫값은 } f(0) = \sqrt{2} e^0 \cos 0 = \sqrt{2},$$

$$f(2\pi) = \sqrt{2} e^{2\pi} \cos 2\pi = \sqrt{2} e^{2\pi} \text{이므로}$$

최댓값은  $M = \sqrt{2} e^{2\pi}$ , 최솟값은  $m = -e^{\frac{5}{4}\pi}$ 이다.

$$\therefore \frac{M}{m} = \frac{\sqrt{2} e^{2\pi}}{-e^{\frac{5}{4}\pi}} = -\sqrt{2} e^{\frac{3}{4}\pi}$$

112) 정답 ②

함수  $f(x)$ 의 정의역은 실수 전체의 집합이다.

$$f(x) = \frac{3x}{x^2+4} \text{에서}$$

$$f'(x) = \frac{(3x)'(x^2+4) - 3x \cdot (x^2+4)'}{(x^2+4)^2}$$

$$= \frac{3(x^2+4) - 3x \cdot 2x}{(x^2+4)^2}$$

$$= \frac{-3x^2+12}{(x^2+4)^2}$$

$$= \frac{-3(x+2)(x-2)}{(x^2+4)^2}$$

$$f'(x) = 0 \text{에서}$$

$$x = -2 \text{ 또는 } x = 2$$

함수  $f(x)$ 의 증가와 감소를 표로 나타내면 다음과 같다.

|         |     |    |     |    |     |
|---------|-----|----|-----|----|-----|
| $x$     | ... | -2 | ... | 2  | ... |
| $f'(x)$ | -   | 0  | +   | 0  | -   |
| $f(x)$  | ↘   | 극소 | ↗   | 극대 | ↘   |

$$\lim_{x \rightarrow -\infty} f(x) = \lim_{x \rightarrow -\infty} \frac{3x}{x^2+4} = 0 \text{이고,}$$

$$\lim_{x \rightarrow \infty} f(x) = \lim_{x \rightarrow \infty} \frac{3x}{x^2+4} = 0 \text{이므로}$$

함수  $f(x)$ 는  $x = -2$ 에서 극솟값이자 최솟값

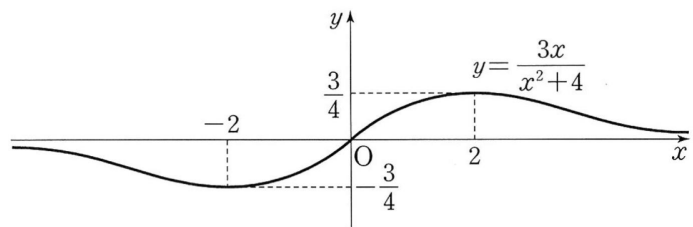
$$f(-2) = \frac{3 \times (-2)}{(-2)^2+4} = -\frac{3}{4}$$

을 갖고,  $x = 2$ 에서 극댓값이자 최댓값

$$f(2) = \frac{3 \times 2}{2^2+4} = \frac{3}{4}$$

을 갖는다.

함수  $y = f(x)$ 의 그래프는 그림과 같다.



따라서  $M = \frac{3}{4}$ ,  $m = -\frac{3}{4}$  이므로

$$M - m = \frac{3}{4} - \left(-\frac{3}{4}\right) = \frac{3}{2}$$

참고)

$$f'(x) = \frac{-3(x+2)(x-2)}{(x^2+4)^2} = 0 \text{에서}$$

$$x = -2 \text{ 또는 } x = 2$$

$$f'(x) = \frac{-3x^2+12}{(x^2+4)^2} \text{에서}$$

$$f''(x)$$

$$= \frac{(-3x^2+12)'(x^2+4)^2 - (-3x^2+12)\{(x^2+4)^2\}'}{\{(x^2+4)^2\}^2}$$

$$= \frac{-6x(x^2+4)^2 + (3x^2-12)\{2(x^2+4) \cdot 2x\}}{(x^2+4)^4}$$

$$= \frac{-6x(x^2+4) + 4x(3x^2-12)}{(x^2+4)^3}$$

$$f''(-2) = \frac{12(4+4) - 8(12-12)}{(4+4)^3}$$

$$= \frac{12 \times 8}{8^3}$$

$$= \frac{3}{16} > 0$$

$$f''(2) = \frac{-12(4+4) + 8(12-12)}{(4+4)^3}$$

$$= -\frac{12 \times 8}{8^3}$$

$$= -\frac{3}{16} < 0$$

이므로 이계도함수를 이용한 극값의 판정에 의하여 함수  $f(x)$ 는  $x = -2$ 에서 극소이고,  $x = 2$ 에서 극대이다.

113) 정답 ③

함수  $f(x)$ 의 정의역은 실수 전체의 집합이다.

$f(x) = xe^{x+1}$ 에

$f'(x) = e^{x+1} + xe^{x+1} = (x+1)e^{x+1}$ ,

$f''(x) = e^{x+1} + (x+1)e^{x+1} = (x+2)e^{x+1}$

$f'(x) = 0$ 에서  $x = -1$ ,  $f''(x) = 0$ 에서  $x = -2$

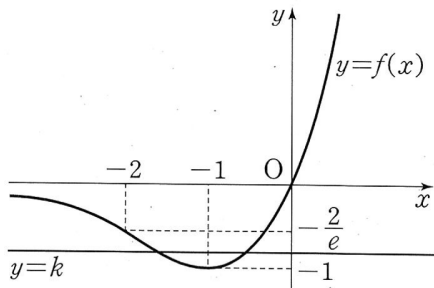
함수  $f(x)$ 의 증가와 감소, 곡선  $y = f(x)$ 의 오목과 볼록을 나타내면 오른쪽 표와 같다.

|          |     |     |     |    |     |
|----------|-----|-----|-----|----|-----|
| $x$      | ... | -2  | ... | -1 | ... |
| $f'(x)$  | -   | -   | -   | 0  | +   |
| $f''(x)$ | -   | 0   | +   | +  | +   |
| $f(x)$   | ↘   | 변곡점 | ↘   | 극소 | ↗   |

ㄱ. 곡선  $y = f(x)$  위의 점  $(-2, f(-2))$ 에 대하여  $f''(-2) = 0$ 이고,  $x = -2$ 의 좌우에서  $f''(x)$ 의 부호가 바뀌므로 곡선  $y = f(x)$ 의 변곡점의 좌표는  $(-2, f(-2))$ , 즉  $(-2, -\frac{2}{e})$ 이다. (참)

ㄴ. 함수  $f(x)$ 는  $x = -1$ 에서 극소이고, 극솟값  $f(-1) = -1$ 만을 갖는다. (거짓)

ㄷ.  $\lim_{x \rightarrow -\infty} f(x) = 0$ 이므로 함수  $y = f(x)$ 의 그래프의 점근선은  $y = 0$ 이고,  $\lim_{x \rightarrow \infty} f(x) = \infty$ 이므로 함수  $y = f(x)$ 의 그래프는 그림과 같다.



$-1 < k < 0$ 일 때, 곡선  $y = f(x)$ 와 직선  $y = k$ 는 서로 다른 두 점에서 만나므로 방정식  $f(x) = k$ 는 서로 다른 두 실근을 갖는다. (참)

따라서 옳은 것은 ㄱ, ㄷ이다.

114) 정답 90

$f(x) = 3x + \sin 2x$ 에서

$f'(x) = 3 + 2\cos 2x$

$f''(x) = -4\sin 2x$

$0 < x < \pi$ 일 때,  $f'(x) > 0$ 이므로 함수  $f(x)$ 는 증가하고,

$f''(x) = 0$ 에서  $\sin 2x = 0$ 이므로  $x = \frac{\pi}{2}$ 이다.

함수  $f(x)$ 의 증가와 감소, 곡선  $y = f(x)$ 의 오목과 볼록을 표로 나타내면 다음과 같다.

|          |   |     |                 |     |        |
|----------|---|-----|-----------------|-----|--------|
| $x$      | 0 | ... | $\frac{\pi}{2}$ | ... | $\pi$  |
| $f'(x)$  | + | +   | +               | +   | +      |
| $f''(x)$ |   | -   | 0               | +   |        |
| $f(x)$   | 0 | ↗   | 변곡점             | ↗   | $3\pi$ |

곡선  $y = f(x)$  위의 점  $(\frac{\pi}{2}, f(\frac{\pi}{2}))$ 에 대하여

$f''(\frac{\pi}{2}) = 0$ 이고  $x = \frac{\pi}{2}$ 의 좌우에서  $f''(x)$ 의 부호가 바뀌

므로 곡선  $y = f(x)$ 의 변곡점의 좌표는  $(\frac{\pi}{2}, \frac{3}{2}\pi)$ 이다.

따라서  $a = \frac{\pi}{2}$ ,  $b = \frac{3}{2}\pi$ 이므로

$$\frac{30b}{a} = 30 \times \frac{\frac{3}{2}\pi}{\frac{\pi}{2}} = 30 \times 3 = 90$$

[다른 풀이]

곡선  $y = f(x)$ 의 변곡점의 좌표가  $(a, b)$ 이므로

$f(a) = b$ 이고  $f''(a) = 0$

$f''(x) = -4\sin 2x$ 에서  $f''(a) = 0$ 이므로

$-4\sin 2a = 0$ , 즉  $\sin 2a = 0$

$f(x) = 3x + \sin 2x$ 에서  $f(a) = b$ 이므로

$3a + \sin 2a = b$

$\sin 2a = 0$ 이므로

$b = 3a$

$\therefore \frac{30b}{a} = \frac{30 \times 3a}{a} = 90$

115) 정답 ④

$f(x) = x^2e^x$ 으로 놓으면

$f'(x) = 2xe^x + x^2e^x$

$f''(x) = 2e^x + 2xe^x + 2xe^x + x^2e^x$

$= (x^2 + 4x + 2)e^x$

$f''(x) = 0$ 에서  $e^x > 0$ 이므로

$x^2 + 4x + 2 = 0$  ..... ㉠

이차방정식 ㉠의 판별식을  $D$ 라 하면

$\frac{D}{4} = 2^2 - 2 = 2 > 0$ 이므로 이차방정식 ㉠은 서로 다른 두

실근을

갖는다.

곡선  $y = x^2e^x$ 의 두 변곡점의  $x$ 좌표는  $x_1, x_2$ 이고, 이차방정

식 ㉠의 서로 다른 두 실근의 좌우에서  $f''(x)$ 의 부호가 바

뀌므로 이 이차방정식의 두 실근은  $x_1, x_2$ 이다.

따라서 이차방정식의 근과 계수의 관계에 의하여

$x_1 + x_2 = -4$

116) 정답 ③

$f(x) = (1-x)\sqrt{1-x^2}$ 에서

(근호 안)  $= 1-x^2 \geq 0$ , 즉  $-1 \leq x \leq 1$ 이므로

함수  $f(x)$ 의 정의역은  $\{x | -1 \leq x \leq 1\}$ 이다.

$-1 < x < 1$ 일 때

$$f'(x) = (1-x)' \sqrt{1-x^2} + (1-x)(\sqrt{1-x^2})'$$

$$= (-1) \cdot \sqrt{1-x^2} + (1-x) \cdot \frac{-2x}{2\sqrt{1-x^2}}$$

$$= -\sqrt{1-x^2} + \frac{x^2-x}{\sqrt{1-x^2}}$$

$$= \frac{-(1-x^2) + x^2-x}{\sqrt{1-x^2}}$$

$$= \frac{2x^2-x-1}{\sqrt{1-x^2}}$$

$$= \frac{(2x+1)(x-1)}{\sqrt{1-x^2}}$$

$f'(x) = 0$ 에서  $-1 < x < 1$ 이므로  $x = -\frac{1}{2}$

함수  $f(x)$ 의 증가와 감소를 표로 나타내면 다음과 같다.

|         |    |     |                |     |   |
|---------|----|-----|----------------|-----|---|
| $x$     | -1 | ... | $-\frac{1}{2}$ | ... | 1 |
| $f'(x)$ |    | +   | 0              | -   |   |
| $f(x)$  | 0  | ↗   | 극대             | ↘   | 0 |

함수  $f(x)$ 는  $x = -\frac{1}{2}$ 에서 극대이자 최대이다.

따라서 함수  $f(x)$ 의 최댓값은

$$\begin{aligned} f\left(-\frac{1}{2}\right) &= \left\{1 - \left(-\frac{1}{2}\right)\right\} \sqrt{1 - \left(-\frac{1}{2}\right)^2} \\ &= \frac{3}{2} \sqrt{1 - \frac{1}{4}} \\ &= \frac{3\sqrt{3}}{4} \end{aligned}$$

117) 정답 ③

$f(x) = (x-2)e^{x-1}$ 으로 놓으면

$$\begin{aligned} f'(x) &= e^{x-1} + (x-2)e^{x-1} \\ &= (x-1)e^{x-1} \end{aligned}$$

$$\begin{aligned} f''(x) &= e^{x-1} + (x-1)e^{x-1} \\ &= xe^{x-1} \end{aligned}$$

$f''(x) = 0$ 에서  $x = 0$ 이고,  $x = 0$ 의 좌우에서  $f''(x)$ 의 부호가 바

뀌므로 변곡점의 좌표는  $(0, f(0))$ , 즉  $\left(0, -\frac{2}{e}\right)$ 이다.

$$f'(0) = -\frac{1}{e} \text{이므로 곡선 } y = f(x) \text{의 변곡점 } \left(0, -\frac{2}{e}\right)$$

에서의

접선의 방정식은

$$y + \frac{2}{e} = -\frac{1}{e}(x-0)$$

$$\text{즉, } y = -\frac{1}{e}x - \frac{2}{e}$$

따라서  $a = -\frac{1}{e}$ 이고  $b = -\frac{2}{e}$ 이므로

$$\frac{b}{a} = \frac{-\frac{2}{e}}{-\frac{1}{e}} = 2$$

참고)

함수  $f(x)$ 의 증가와 감소, 곡선  $y = f(x)$ 의 오목과 볼록을

표로 나타

내면 다음과 같다.

|          |     |     |     |    |     |
|----------|-----|-----|-----|----|-----|
| $x$      | ... | 0   | ... | 1  | ... |
| $f'(x)$  | -   | -   | -   | 0  | +   |
| $f''(x)$ | -   | 0   | +   | +  | +   |
| $f(x)$   | ↘   | 변곡점 | ↘   | 극소 | ↗   |

$$\lim_{x \rightarrow -\infty} f(x) = \lim_{x \rightarrow -\infty} (x-2)e^{x-1} = 0 \text{이므로 곡선}$$

$y = f(x)$ 의

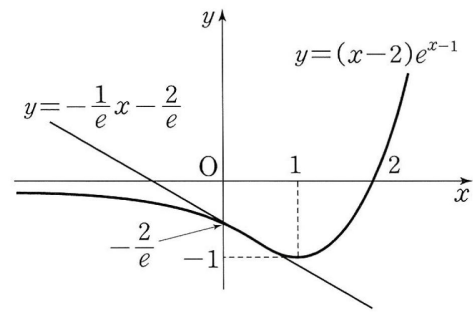
접근선은  $y = 0$ 이다.

$$f(0) = -\frac{2}{e}, f(1) = -1, f(2) = 0$$

이므로 곡선  $y = (x-2)e^{x-1}$ 과 접선  $y = -\frac{1}{e}x - \frac{2}{e}$ 는

그림과 같

다.



118) 정답 95

$W(t) = t - 9\ln(t+1) + 70$ 에서

$$W'(t) = 1 - \frac{9}{t+1} = \frac{t-8}{t+1}$$

$W'(t) = 0$ 에서

$$t = 8$$

함수  $W(t)$ 의 증가와 감소를 표로 나타내면 다음과 같다.

|         |    |     |    |     |                |
|---------|----|-----|----|-----|----------------|
| $t$     | 0  | ... | 8  | ... | 12             |
| $W'(t)$ | -  | -   | 0  | +   | +              |
| $W(t)$  | 70 | ↘   | 극소 | ↗   | $82 - 9\ln 13$ |

함수  $W(t)$ 는  $t = 8$ 에서 극소이자 최소이다.

그러므로 함수  $W(t)$ 의 최솟값은

$$W(8) = 8 - 9\ln 9 + 70$$

$$= 78 - 9\ln 9$$

$a = 8$ 이고  $b = 78 - 9\ln 9$ 이므로

$$a + b = 8 + 78 - 9\ln 9$$

$$= 86 - 9\ln 9$$

따라서  $p = 86$ 이고  $q = 9$ 이므로

$$p + q = 86 + 9$$

$$= 95$$

참고)

$$W'(t) = \frac{t-8}{t+1} = 0 \text{에서 } t = 8$$

$$W'(t) = \frac{t-8}{t+1} \text{에서}$$

$$W''(t) = \frac{(t-8)'(t+1) - (t-8)(t+1)'}{(t+1)^2}$$

$$= \frac{(t+1) - (t-8)}{(t+1)^2}$$

$$= \frac{9}{(t+1)^2}$$

$$W''(8) = \frac{9}{9^2} = \frac{1}{9} > 0 \text{이므로 이계도함수를 이용한 극값의}$$

판정에

의하여 함수  $W(t)$ 는  $t = 8$ 에서 극소이다.

119) 정답 31

함수  $f(x) = |x-1|\sqrt{x}$ 에서 (근호 안)  $= x \geq 0$ 이므로 함수  $f(x)$ 의 정의역은  $\{x | x \geq 0\}$ 이다.

$0 < x < 1$ 일 때,  $f(x) = -(x-1)\sqrt{x}$ 이므로

$$f'(x) = -\sqrt{x} - (x-1)\frac{1}{2\sqrt{x}}$$

$$= \frac{-2x - (x-1)}{2\sqrt{x}}$$

$$= -\frac{3x-1}{2\sqrt{x}}$$

이고,  $f'(x) = 0$ 에서  $3x-1 = 0$ 이므로

$$x = \frac{1}{3}$$

$x > 1$  일 때,  $f(x) = (x-1)\sqrt{x}$  이므로

$$\begin{aligned} f'(x) &= \sqrt{x} + (x-1) \frac{1}{2\sqrt{x}} \\ &= \frac{2x + (x-1)}{2\sqrt{x}} \\ &= \frac{3x-1}{2\sqrt{x}} > 0 \end{aligned}$$

따라서  $x > 1$  일 때 함수  $f(x)$  는 증가한다.

함수  $f(x)$  의 증가와 감소를 표로 나타내면 다음과 같다.

|         |   |     |               |     |    |     |
|---------|---|-----|---------------|-----|----|-----|
| $x$     | 0 | ... | $\frac{1}{3}$ | ... | 1  | ... |
| $f'(x)$ |   | +   | 0             | -   |    | +   |
| $f(x)$  | 0 | ↗   | 극대            | ↘   | 극소 | ↗   |

함수  $f(x)$  는  $x = \frac{1}{3}$  에서 극대,  $x = 1$  에서 극소이므로 함수

$$f(x) \text{의 극댓값은}$$

$$M = f\left(\frac{1}{3}\right) = \frac{2}{3} \sqrt{\frac{1}{3}} = \frac{2\sqrt{3}}{9}$$

함수  $f(x)$  의 극솟값은

$$m = f(1) = 0 \times \sqrt{1} = 0$$

$$M^2 + m^2 = \frac{4}{27} + 0 = \frac{4}{27}$$

따라서  $p = 27$  이고  $q = 4$  이므로

$$p + q = 27 + 4 = 31$$

참고)

함수  $f(x)$  는  $x = 1$  에서 미분가능하지 않지만  $x = 1$  에서 연속이고,

$x = 1$  의 좌우에서  $f'(x)$  의 부호가 음(-)에서 양(+)으로 바뀌므로

$x = 1$  에서 극소이다.

120) **정답** ③

$f(x) = \frac{\sin x}{2 + \cos x}$  에서

$$\begin{aligned} f'(x) &= \frac{(\sin x)'(2 + \cos x) - \sin x(2 + \cos x)'}{(2 + \cos x)^2} \\ &= \frac{\cos x(2 + \cos x) - \sin x(-\sin x)}{(2 + \cos x)^2} \\ &= \frac{2\cos x + \cos^2 x + \sin^2 x}{(2 + \cos x)^2} \\ &= \frac{2\cos x + 1}{(2 + \cos x)^2} \end{aligned}$$

$$\begin{aligned} f''(x) &= \frac{(2\cos x + 1)'(2 + \cos x)^2 - (2\cos x + 1)\{(2 + \cos x)^2\}'}{(2 + \cos x)^4} \\ &= \frac{-2\sin x(2 + \cos x)^2 - (2\cos x + 1) \cdot 2 \cdot (2 + \cos x)(-\sin x)}{(2 + \cos x)^4} \\ &= \frac{2\sin x(2 + \cos x)(-2 - \cos x + 2\cos x + 1)}{(2 + \cos x)^4} \\ &= \frac{2\sin x(\cos x - 1)}{(2 + \cos x)^3} \end{aligned}$$

$f'(x) = 0$  에서

$$2\cos x + 1 = 0, \text{ 즉 } \cos x = -\frac{1}{2}$$

$$0 \leq x \leq \pi \text{ 이므로 } x = \frac{2}{3}\pi$$

$0 < x < \pi$  일 때,

$\sin x > 0, \cos x - 1 < 0, 2 + \cos x > 0$  이므로

$$f''(x) = \frac{2\sin x(\cos x - 1)}{(2 + \cos x)^3} < 0$$

함수  $f(x)$  의 증가와 감소, 곡선  $y = f(x)$  의 오목과 볼록을 표로 나타

내면 다음과 같다.

|          |   |     |                  |     |       |
|----------|---|-----|------------------|-----|-------|
| $x$      | 0 | ... | $\frac{2}{3}\pi$ | ... | $\pi$ |
| $f'(x)$  |   | +   | 0                | -   |       |
| $f''(x)$ |   | -   | -                | -   |       |
| $f(x)$   | 0 | ↗   | 극대               | ↘   | 0     |

ㄱ. 함수  $f(x)$  는  $x = \frac{2}{3}\pi$  에서 극댓값

$$\begin{aligned} f\left(\frac{2}{3}\pi\right) &= \frac{\sin \frac{2}{3}\pi}{2 + \cos \frac{2}{3}\pi} = \frac{\frac{\sqrt{3}}{2}}{2 + \left(-\frac{1}{2}\right)} \\ &= \frac{\frac{\sqrt{3}}{2}}{\frac{3}{2}} = \frac{\sqrt{3}}{3} \end{aligned}$$

을 갖는다. (참)

ㄴ.  $0 \leq x \leq \pi$  일 때,  $f(x)$  는  $x = 0, x = \pi$  에서 최솟값 0을 가지므로  $0 \leq x \leq \pi$  인 모든 실수  $x$  에 대하여

$f(x) \geq 0$  이다. (참)

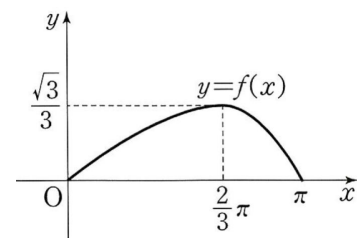
ㄷ.  $0 < x < \pi$  에서  $f''(x) < 0$  이므로 곡선  $y = f(x)$  는 위로 볼록이다.

그러므로 곡선  $y = f(x)$  의 변곡점은 존재하지 않는다. (거짓)

따라서 옳은 것은 ㄱ, ㄴ이다.

참고)

함수  $y = f(x)$  의 그래프는 그림과 같다.



121) **정답** ①

모든 실수  $x$  에 대하여  $e^x > 0$  이므로  $x^2 - 3x + 1 \geq ke^{-x}$  의 양변에  $e^x$  을 곱하여 정리하면

$$e^x(x^2 - 3x + 1) \geq k$$

$f(x) = e^x(x^2 - 3x + 1)$  ( $x > 0$ )로 놓으면

$$f'(x) = e^x(x^2 - 3x + 1) + e^x(2x - 3)$$

$$= e^x(x^2 - x - 2)$$

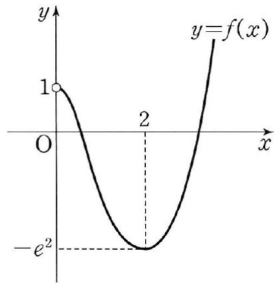
$$= e^x(x+1)(x-2)$$

$f'(x) = 0$  에서

$$x = 2 \quad (\because x > 0)$$

함수  $y = f(x)$  의 증가와 감소를 표로 나타내면 다음과 같다.

|         |     |     |        |     |
|---------|-----|-----|--------|-----|
| $x$     | (0) | ... | 2      | ... |
| $f'(x)$ |     | -   | 0      | +   |
| $f(x)$  |     | ↘   | $-e^2$ | ↗   |



따라서  $x > 0$ 일 때, 함수  $f(x)$ 의 최솟값은  $f(2) = -e^2$ 이므로  
 $f(x) \geq f(2) = -e^2 \geq k$   
 에서  
 $k \leq -e^2$

따라서 실수  $k$ 의 최댓값은  $-e^2$ 이다.

122) 정답 ⑤

$x > 0$ 에서  $\ln(x+1) > 0$ 이므로  
 부등식  $2(x+1) - a \ln(x+1) \geq 0$ 의 양변을  
 $\ln(x+1)$ 로 나누면

$$\frac{2(x+1)}{\ln(x+1)} - a \geq 0$$

$$\text{즉, } \frac{2(x+1)}{\ln(x+1)} \geq a$$

$$f(x) = \frac{2(x+1)}{\ln(x+1)} \text{로 놓으면}$$

$$f'(x) = \frac{(2x+2)' \ln(x+1) - 2(x+1) \{\ln(x+1)\}'}{\{\ln(x+1)\}^2}$$

$$= \frac{2 \ln(x+1) - \frac{2(x+1)}{x+1}}{\{\ln(x+1)\}^2}$$

$$= \frac{2 \ln(x+1) - 2}{\{\ln(x+1)\}^2}$$

$f'(x) = 0$ 에서

$$2 \ln(x+1) - 2 = 0$$

$$\ln(x+1) = 1$$

$$x+1 = e$$

즉,  $x = e - 1$

함수  $y = f(x)$ 의 증가와 감소를 표로 나타내면 다음과 같다.

|         |     |     |       |     |
|---------|-----|-----|-------|-----|
| $x$     | (0) | ... | $e-1$ | ... |
| $f'(x)$ |     | -   | 0     | +   |
| $f(x)$  |     | ↘   | $2e$  | ↗   |

$x > 0$ 에서 함수  $f(x)$ 의 최솟값은  $f(e-1) = 2e$ 이므로

$$f(x) \geq f(e-1) = 2e$$

$$\frac{2(x+1)}{\ln(x+1)} \geq 2e \geq a \text{에서}$$

$$a \leq 2e$$

따라서 실수  $a$ 의 최댓값은  $2e$ 이다.

[다른 풀이]

$f(x) = 2(x+1) - a \ln(x+1)$ 로 놓으면

$$f'(x) = 2 - \frac{a}{x+1}$$

$$= \frac{2x+2-a}{x+1}$$

(i)  $a \leq 2$ 일 때

$x > 0$ 에서  $f'(x) > 0$ 이므로  $f(x)$ 는 증가함수이다.

$$\therefore f(x) > f(0)$$

$$= 2(0+1) - a \ln(0+1)$$

$$= 2 \geq 0$$

따라서 주어진 부등식을 만족시킨다.

(ii)  $a > 2$ 일 때

$f'(x) = 0$ 에서

$$\frac{2x+2-a}{x+1} = 0$$

$$x = \frac{a}{2} - 1$$

함수  $y = f(x)$ 의 증가와 감소를 표로 나타내면 다음과 같다.

|         |     |     |                 |     |
|---------|-----|-----|-----------------|-----|
| $x$     | (0) | ... | $\frac{a}{2}-1$ | ... |
| $f'(x)$ |     | -   | 0               | +   |
| $f(x)$  |     | ↘   | 극소              | ↗   |

$x > 0$ 에서 함수  $f(x)$ 의 최솟값은  $f\left(\frac{a}{2}-1\right)$ 이다.

$$f\left(\frac{a}{2}-1\right) = 2\left(\frac{a}{2}-1+1\right) - a \ln\left(\frac{a}{2}-1+1\right)$$

$$= a - a \ln \frac{a}{2}$$

$$= a \left(1 - \ln \frac{a}{2}\right)$$

$$f(x) \geq f\left(\frac{a}{2}-1\right) \geq 0 \text{이어야 하므로}$$

$$a \left(1 - \ln \frac{a}{2}\right) \geq 0 \text{에서 } a > 2 \text{이므로}$$

$$1 - \ln \frac{a}{2} \geq 0$$

$$\ln \frac{a}{2} \leq 1$$

$$\frac{a}{2} \leq e$$

$$\therefore 2 < a \leq 2e$$

위의 (i), (ii)에서 부등식을 만족시키는  $a$ 의 값의 범위는

$$a \leq 2e$$

따라서 실수  $a$ 의 최댓값은  $2e$ 이다.

123) 정답 ③

$x = 0$ 은 방정식  $e^x = tx$ 의 근이 아니므로

$$x \neq 0$$

따라서 양변을  $x$ 로 나누면

$$\frac{e^x}{x} = t \quad \dots \textcircled{7}$$

이때 방정식  $\textcircled{7}$ 의 실근은 두 함수  $y = \frac{e^x}{x}$ ,  $y = t$ 의 그래프의

교점의  $x$ 좌표와 같다.

$$g(x) = \frac{e^x}{x} \text{으로 놓으면}$$

$$g'(x) = \frac{e^x(x-1)}{x^2}$$

$$g'(x) = 0 \text{에서 } x = 1$$

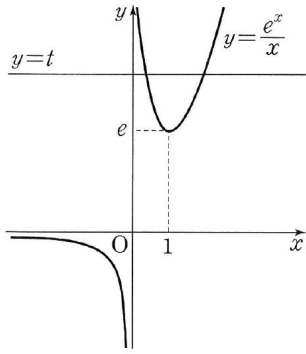
함수  $g(x)$ 의 증가와 감소를 표로 나타내면 다음과 같다.

|         |     |     |     |     |     |
|---------|-----|-----|-----|-----|-----|
| $x$     | ... | (0) | ... | 1   | ... |
| $g'(x)$ |     | -   | -   | 0   | +   |
| $g(x)$  |     | ↘   | ↘   | $e$ | ↗   |

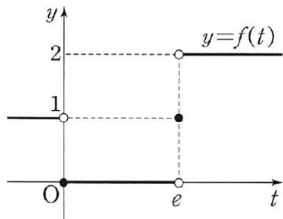
$$\lim_{x \rightarrow +0} g(x) = \infty, \quad \lim_{x \rightarrow -0} g(x) = -\infty$$

$$\lim_{x \rightarrow \infty} g(x) = \infty, \quad \lim_{x \rightarrow -\infty} g(x) = 0$$

이므로 함수  $y = g(x)$ 의 그래프의 개형은 그림과 같다.



따라서 방정식  $e^x = tx$ 의 서로 다른 실근의 개수는  
 $t > e$ 일 때 2개,  
 $t = e$ 일 때 1개,  
 $0 \leq t < e$ 일 때 0개,  
 $t < 0$ 일 때 1개  
 이므로 함수  $y = f(t)$ 의 그래프는 다음과 같다.



따라서 함수  $y = f(t)$ 가 불연속인  $t$ 의 값은 0,  $e$ 이므로 그 합은  $e$ 이다.

124) 정답 ①

$$f(x) = 2x^3 - tx^2 + t^2 \text{에서}$$

$$f'(x) = 6x^2 - 2tx = 2x(3x - t)$$

$$f'(x) = 0 \text{에서}$$

$$x = 0 \text{ 또는 } x = \frac{t}{3}$$

(i)  $t < 0$ 일 때

함수  $f(x)$ 는  $x = \frac{t}{3}$ 일 때 극댓값  $f\left(\frac{t}{3}\right)$ 를 갖고,  $x = 0$ 일 때, 극솟값  $f(0)$ 을 갖는다.

$$\begin{aligned} g(t) &= f\left(\frac{t}{3}\right) \\ &= 2\left(\frac{t}{3}\right)^3 - t\left(\frac{t}{3}\right)^2 + t^2 \\ &= \frac{2t^3}{27} - \frac{t^3}{9} + t^2 \\ &= -\frac{1}{27}t^3 + t^2 \end{aligned}$$

$$h(t) = f(0) = t^2$$

$$\begin{aligned} \frac{h(t)}{g(t)} &= \frac{t^2}{-\frac{1}{27}t^3 + t^2} \\ &= \frac{27}{27-t} < 1 \end{aligned}$$

(ii)  $t > 0$ 일 때

함수  $f(x)$ 는  $x = 0$ 일 때 극댓값  $f(0)$ 을 갖고,

$x = \frac{t}{3}$ 일 때 극솟값  $f\left(\frac{t}{3}\right)$ 를 갖는다.

$$g(t) = f(0) = t^2$$

$$h(t) = f\left(\frac{t}{3}\right)$$

$$= -\frac{1}{27}t^3 + t^2$$

$$\frac{h(t)}{g(t)} = \frac{-\frac{1}{27}t^3 + t^2}{t^2}$$

$$= -\frac{1}{27}t + 1 < 1$$

위의 (i), (ii)에서 0이 아닌 실수  $t$ 에 대하여  $\frac{h(t)}{g(t)} < 1$ 이다.

따라서 부등식  $\frac{h(t)}{g(t)} < k$ 가 항상 성립하도록 하는 실수  $k$ 의 최

솟값은 1이다.

125) 답 ④

풀이

$$\lim_{h \rightarrow 0} \frac{f(3+3h) - f(3-h)}{h}$$

$$= \lim_{h \rightarrow 0} \frac{\{f(3+3h) - f(3)\} - \{f(3-h) - f(3)\}}{h}$$

$$= \lim_{h \rightarrow 0} \frac{f(3+3h) - f(3)}{3h} \times 3 - \lim_{h \rightarrow 0} \frac{f(3-h) - f(3)}{-h} \times (-1)$$

$$= 3f'(3) + f'(3)$$

$$= 4f'(3)$$

$$\text{한편, } f'(x) = \frac{2x(x+1) - (x^2+5)}{(x+1)^2} = \frac{x^2+2x-5}{(x+1)^2}$$

$$\text{이므로 } f'(3) = \frac{3^2+2 \times 3-5}{(3+1)^2} = \frac{10}{16} = \frac{5}{8}$$

$$\therefore \lim_{h \rightarrow 0} \frac{f(3+3h) - f(3-h)}{h} = 4f'(3) = 4 \times \frac{5}{8} = \frac{5}{2}$$

126) 답 ③

풀이

$$f(x) = 1 + \frac{2}{x+1} + \frac{3}{(x+1)^2} \text{에서}$$

$$f'(x) = -\frac{2}{(x+1)^2} + \frac{-3 \cdot 2(x+1)}{(x+1)^4}$$

$$= -\frac{2}{(x+1)^2} - \frac{6}{(x+1)^3}$$

$f'(x) > 0$ 에서

$$-\frac{2}{(x+1)^2} - \frac{6}{(x+1)^3} > 0, \quad \frac{2(x+1)+6}{(x+1)^3} < 0$$

$$(x+4)(x+1)^3 < 0 \quad \therefore -4 < x < -1$$

따라서 부등식  $f'(x) > 0$ 을 만족시키는 모든 정수  $x$ 의 값은

$-3, -2$ 이므로 구하는 합은

$$-3 + (-2) = -5$$

이다.

127) 답 2

풀이

$g(x)$ 가  $f(x)$ 의 역함수이므로  $f(g(x)) = x$

위 식의 양변을  $x$ 에 대하여 미분하면

$$f'(g(x))g'(x) = 1$$

$$\therefore g'(x) = \frac{1}{f'(g(x))}$$

$f'(x) = 1 + \{f(x)\}^2$ 에서  $x$  대신  $g(x)$ 를 대입하면

$$f'(g(x)) = 1 + \{f(g(x))\}^2 = 1 + x^2$$

$$\therefore g'(x) = \frac{1}{f'(g(x))} = \frac{1}{1+x^2}$$

$$\therefore 10g'(2) = 10 \times \frac{1}{1+2^2} = 2$$

128) 답 ⑤

풀이

$$\lim_{x \rightarrow 2} \frac{f(x) - g(x)}{(x-2)g(x)} = \frac{3}{4} \text{ 에서}$$

$x \rightarrow 2$  일 때, (분모)  $\rightarrow 0$  이므로 (분자)  $\rightarrow 0$  이어야 한다.

$$\text{즉, } \lim_{x \rightarrow 2} \{f(x) - g(x)\} = 0 \text{ 에서}$$

$$f(2) = g(2)$$

또한,  $f(x)$ 와  $g(x)$ 는 서로 역함수 관계에 있으므로

$$f(2) = g(2) = 2$$

$$\lim_{x \rightarrow 2} \frac{f(x) - g(x)}{(x-2)g(x)}$$

$$= \lim_{x \rightarrow 2} \frac{f(x) - f(2) - g(x) + g(2)}{(x-2)g(x)}$$

$$= \lim_{x \rightarrow 2} \left\{ \frac{f(x) - f(2)}{x-2} \times \frac{1}{g(x)} - \frac{g(x) - g(2)}{x-2} \times \frac{1}{g(x)} \right\}$$

$$= f'(2) \times \frac{1}{g(2)} - g'(2) \times \frac{1}{g(2)}$$

$$= \frac{1}{2} \{f'(2) - g'(2)\}$$

$$= \frac{3}{4}$$

$$\text{이때 } g'(2) = \frac{1}{f'(g(2))} = \frac{1}{f'(2)} \text{ 이므로}$$

$$\frac{1}{2} \left\{ f'(2) - \frac{1}{f'(2)} \right\} = \frac{3}{4}, \quad \{2f'(2) + 1\} \{f'(2) - 2\} = 0$$

$$\therefore f'(2) = -\frac{1}{2} \text{ 또는 } f'(2) = 2$$

그런데 삼차함수  $f(x)$ 의 삼차항의 계수는 양수이고 역함수가 존재하므로 모든 실수  $x$ 에 대하여  $f'(x) \geq 0$ 이다.

$$\therefore f'(2) = 2, \quad g'(2) = \frac{1}{2}$$

$$\therefore f(2) + g'(2) = 2 + \frac{1}{2} = \frac{5}{2}$$

9

### 여러 가지 함수의 도함수

129) 답 ㉔

풀이

$$f(x) = \cos^2\left(2x - \frac{\pi}{4}\right) \text{ 에서}$$

$$f'(x) = 2\cos\left(2x - \frac{\pi}{4}\right) \left\{ \cos\left(2x - \frac{\pi}{4}\right) \right\}'$$

$$= 2\cos\left(2x - \frac{\pi}{4}\right) \left\{ -\sin\left(2x - \frac{\pi}{4}\right) \right\} \left(2x - \frac{\pi}{4}\right)'$$

$$= -4\cos\left(2x - \frac{\pi}{4}\right) \sin\left(2x - \frac{\pi}{4}\right)$$

$$\therefore \lim_{x \rightarrow \pi} \frac{f(x) - f(\pi)}{x - \pi} = f'(\pi)$$

$$= -4\cos\left(2\pi - \frac{\pi}{4}\right) \sin\left(2\pi - \frac{\pi}{4}\right)$$

$$= -4\cos\left(-\frac{\pi}{4}\right) \sin\left(-\frac{\pi}{4}\right)$$

$$= (-4) \times \frac{\sqrt{2}}{2} \times \left(-\frac{\sqrt{2}}{2}\right) = 2$$

130) 답 ㉔

풀이

$$f(x) = -\sin^2 \frac{x}{2} + 1 = \cos^2 \frac{x}{2} = \frac{1 + \cos x}{2} \text{ 에서}$$

$$f'(x) = -\frac{1}{2} \sin x$$

따라서

$$\lim_{x \rightarrow \pi} \frac{f'(x)}{x - \pi} = \lim_{x \rightarrow \pi} \frac{-\frac{1}{2} \sin x}{x - \pi} = -\frac{1}{2} \lim_{x \rightarrow \pi} \frac{\sin x}{x - \pi}$$

에서  $x - \pi = t$ 로 놓으면  $x = \pi + t$ 이고,

$x \rightarrow \pi$ 일 때,  $t \rightarrow 0$ 이므로

$$\lim_{x \rightarrow \pi} \frac{f'(x)}{x - \pi} = -\frac{1}{2} \lim_{t \rightarrow 0} \frac{\sin(\pi + t)}{t}$$

$$= \frac{1}{2} \lim_{t \rightarrow 0} \frac{\sin t}{t} = \frac{1}{2} \times 1 = \frac{1}{2}$$

131) 답 5

풀이

$$\lim_{h \rightarrow 0} \frac{f(2h) - f(-3h)}{h}$$

$$= \lim_{h \rightarrow 0} \frac{\{f(2h) - f(0)\} - \{f(-3h) - f(0)\}}{h}$$

$$= \lim_{h \rightarrow 0} \frac{f(2h) - f(0)}{2h} \cdot 2 - \lim_{h \rightarrow 0} \frac{f(-3h) - f(0)}{-3h} \cdot (-3)$$

$$= f'(0) \cdot 2 - f'(0) \cdot (-3) = 5f'(0)$$

이때

$f(x) = \tan x \sec x$ 에서

$$f'(x) = \sec^2 x \sec x + \tan x \sec x \tan x$$

$$= \sec x (\sec^2 x + \tan^2 x)$$

$$= \sec x (2\sec^2 x - 1)$$

$$\text{이므로 } f'(0) = \sec 0 \cdot (2\sec^2 0 - 1) = 1$$

$$\therefore \lim_{h \rightarrow 0} \frac{f(2h) - f(-3h)}{h} = 5f'(0) = 5 \cdot 1 = 5$$

132) 답 ㉔

풀이

미분계수의 정의에 따라

$$f'(0)$$

$$= \lim_{x \rightarrow +0} \frac{f(x) - f(0)}{x - 0} = \lim_{x \rightarrow +0} \frac{x^{10} \sin \frac{1}{x^k} + x^k \sin \frac{1}{x^3}}{x}$$

$$= \lim_{x \rightarrow +0} \left( x^9 \sin \frac{1}{x^k} + x^{k-1} \sin \frac{1}{x^3} \right)$$

이므로  $f'(0)$ 의 값이 존재하려면  $k-1 > 0$ , 즉  $k > 1$ 이어야 하고,

이때  $f'(0) = 0$ 이다.

또한,  $x > 0$ 일 때

$$f'(x) = 10x^9 \sin \frac{1}{x^k} - kx^{9-k} \cos \frac{1}{x^k} + kx^{k-1} \sin \frac{1}{x^3} - 3x^{k-4} \cos \frac{1}{x^3}$$

그런데  $f'(x)$ 가  $x = 0$ 에서 연속이 되려면

$$\lim_{x \rightarrow 0} f'(x) = f'(0) = 0$$

이어야 한다.

$$\text{즉, } \lim_{x \rightarrow +0} f'(x) = 0 \text{ 이 되어야 하므로 } 9 - k > 0 \text{ 이고}$$

$$k - 4 > 0 \text{ 에서}$$

$4 < k < 9$ 이므로 자연수  $k$ 는 5, 6, 7, 8의 4개다.

133) 답 15

풀이

$$f(x) = 5e^{3x-3} \text{ 에서}$$

$$f'(x) = 5e^{3x-3} (3x-3)' = 15e^{3x-3}$$

$$\therefore f'(1) = 15e^0 = 15$$

134) 답 ㉔

풀이

$$f(x) = (2x^2 - 3)e^{-2x-4} \text{ 에서}$$

$$\begin{aligned}
 f'(x) &= (2x^2 - 3)' \cdot e^{-2x-4} + (2x^2 - 3) \cdot (e^{-2x-4})' \\
 &= 4xe^{-2x-4} + (2x^2 - 3) \cdot (-2) \cdot e^{-2x-4} \\
 &= (-4x^2 + 4x + 6)e^{-2x-4} \\
 \therefore f'(-2) &= (-16 - 8 + 6)e^0 = -18
 \end{aligned}$$

135) 답 ④

풀이

$$\begin{aligned}
 f(x) &= \frac{3^x}{x} \text{ 에서} \\
 f'(x) &= \frac{3^x \ln 3 \cdot x - 3^x}{x^2} = \frac{3^x(x \ln 3 - 1)}{x^2} \\
 \therefore \lim_{x \rightarrow 0} \frac{f(2+x) - f(2-x)}{x} \\
 &= \lim_{x \rightarrow 0} \frac{f(2+x) - f(2) + f(2) - f(2-x)}{x} \\
 &= \lim_{x \rightarrow 0} \frac{f(2+x) - f(2)}{x} + \lim_{x \rightarrow 0} \frac{f(2-x) - f(2)}{-x} \\
 &= f'(2) + f'(2) = 2f'(2) \\
 &= 2 \cdot \frac{3^2(2 \ln 3 - 1)}{2} = \frac{9}{2}(\ln 9 - 1)
 \end{aligned}$$

136) 답 ③

풀이

$$\begin{aligned}
 \lim_{h \rightarrow 0} \frac{f(2h) - f(0) - g(h)}{h} \\
 &= \lim_{h \rightarrow 0} \frac{f(2h) - f(0)}{2h} \cdot 2 - \lim_{h \rightarrow 0} \frac{g(h)}{h} \\
 &= 2f'(0) - \lim_{h \rightarrow 0} \frac{g(h)}{h} = 0 \\
 \therefore \lim_{h \rightarrow 0} \frac{g(h)}{h} &= 2f'(0)
 \end{aligned}$$

한편,  $f(x) = \sin(e^x - e^{-x})$  에서  
 $f'(x) = (e^x + e^{-x}) \cdot \cos(e^x - e^{-x})$  이므로  $f'(0) = 2$

$$\therefore \lim_{h \rightarrow 0} \frac{g(h)}{h} = 2f'(0) = 2 \cdot 2 = 4$$

137) 답 ③

풀이

$$\begin{aligned}
 f(x) &= \lim_{n \rightarrow \infty} \frac{e^{2x} + x^n \cos x}{x^n + 1} \text{ 에서} \\
 \text{(i) } |x| < 1 \text{ 일 때, } n \rightarrow \infty \text{ 이면 } x^n \rightarrow 0 \text{ 이므로} \\
 f(x) &= \lim_{n \rightarrow \infty} \frac{e^{2x} + x^n \cos x}{x^n + 1} = e^{2x} \\
 \text{(ii) } |x| > 1 \text{ 일 때, } n \rightarrow \infty \text{ 이면 } \frac{1}{x^n} \rightarrow 0 \text{ 이므로} \\
 f(x) &= \lim_{n \rightarrow \infty} \frac{e^{2x} + x^n \cos x}{x^n + 1} = \lim_{n \rightarrow \infty} \frac{\frac{e^{2x}}{x^n} + \cos x}{1 + \frac{1}{x^n}} = \cos x
 \end{aligned}$$

따라서

$$\begin{aligned}
 f'(x) &= \begin{cases} 2e^{2x} & (|x| < 1) \\ -\sin x & (|x| > 1) \end{cases} \text{ 이므로} \\
 f'\left(\frac{1}{2}\right) + f'\left(\frac{5}{6}\pi\right) &= 2e^{2 \cdot \frac{1}{2}} + \left(-\sin \frac{5}{6}\pi\right) = 2e - \frac{1}{2}
 \end{aligned}$$

138) 답 ①

풀이

함수  $f(x)$ 가  $x = 1$ 에서 미분가능하면  $x = 1$ 에서 연속이므로

$$\lim_{x \rightarrow 1-0} f(x) = \lim_{x \rightarrow 1+0} f(x)$$

$$\lim_{x \rightarrow 1-0} ae^{-x} = \lim_{x \rightarrow 1+0} \left( b \sin \frac{\pi}{2} x + x - 1 \right)$$

$$\therefore ae^{-1} = b \quad \dots\dots\textcircled{\ominus}$$

또한, 함수  $f(x)$ 는  $x = 1$ 에서 미분계수가 존재해야 하므로

$$\begin{aligned}
 \lim_{h \rightarrow -0} \frac{f(1+h) - f(1)}{h} &= \lim_{h \rightarrow -0} \frac{ae^{-1-h} - ae^{-1}}{h} \\
 &= \lim_{h \rightarrow -0} \frac{ae^{-1}(e^{-h} - 1)}{h} \\
 &= \lim_{h \rightarrow -0} \frac{ae^{-1}(e^{-h} - 1)}{-h} \times (-1) \\
 &= -ae^{-1}
 \end{aligned}$$

$$\lim_{h \rightarrow +0} \frac{f(1+h) - f(1)}{h} = \lim_{h \rightarrow +0} \frac{b \sin \frac{\pi}{2}(1+h) + h - b}{h} \quad (\because f(1) = ae^{-1} = b)$$

$$= \lim_{h \rightarrow +0} \frac{b \left\{ \sin \frac{\pi}{2}(1+h) - 1 \right\}}{h} + 1$$

$$= \lim_{h \rightarrow +0} \frac{b \left( \cos \frac{\pi}{2} h - 1 \right)}{h} + 1$$

$$= \lim_{h \rightarrow +0} \frac{b \left( \cos^2 \frac{\pi}{2} h - 1 \right)}{h \left( \cos \frac{\pi}{2} h + 1 \right)} + 1$$

$$= \lim_{h \rightarrow +0} \frac{-b \sin^2 \frac{\pi}{2} h}{h \left( \cos \frac{\pi}{2} h + 1 \right)} + 1$$

$$= 1$$

따라서  $-ae^{-1} = 1$ 에서  $a = -e$

①에서  $b = -1$

$$\therefore a + b = -e + (-1) = -e - 1$$

139) 답 ③

풀이

$e^{x+y} = x$ 의 양변을  $x$ 에 대하여 미분하면

$$e^{x+y}(x+y)' = 1$$

$$e^{x+y}(1+y') = 1$$

$$\therefore y' = \frac{1}{e^{x+y}} - 1 = \frac{1}{x} - 1 \quad (\because e^{x+y} = x)$$

따라서  $x = 5$ 인 점에서의 접선의 기울기는

$$\frac{1}{5} - 1 = -\frac{4}{5}$$

140) 답 ④

풀이

$$\begin{aligned}
 f'(x) &= \lim_{h \rightarrow 0} \frac{f(x+h) - f(x)}{h} \\
 &= \lim_{h \rightarrow 0} \frac{\{f(x) + f(h) + e^{x+h} - e^x - e^h + 1\} - f(x)}{h} \\
 &= \lim_{h \rightarrow 0} \left\{ \frac{f(x)}{h} + \frac{e^{x+h} - e^x}{h} - \frac{e^h - 1}{h} \right\} \quad \dots\dots\textcircled{\ominus}
 \end{aligned}$$

한편,  $f(x+y) = f(x) + f(y) + e^{x+y} - e^x - e^y + 1$ 의 양변에

$x = y = 0$ 을 대입하면  $f(0) = 0$ 이므로

$$\lim_{h \rightarrow 0} \frac{f(h)}{h} = \lim_{h \rightarrow 0} \frac{f(h) - f(0)}{h} = f'(0) = 2$$

.....②



또한,

$$\begin{aligned} \lim_{h \rightarrow 0} \frac{e^{x+h} - e^x}{h} &= \lim_{h \rightarrow 0} \frac{e^x(e^h - 1)}{h} \\ &= e^x \lim_{h \rightarrow 0} \frac{e^h - 1}{h} \\ &= e^x \left( \because \lim_{h \rightarrow 0} \frac{e^h - 1}{h} = 1 \right) \quad \dots \ominus \end{aligned}$$

⊖, ⊙, ⊕에 의하여

$$\begin{aligned} f'(x) &= 2 + e^x - 1 = e^x + 1 \\ \therefore f'(\ln 3) &= e^{\ln 3} + 1 = 3 + 1 = 4 \\ 141) \text{ 답 } 16 \end{aligned}$$

**풀이**

$f(x) = \ln(\tan x)$ 에서  $\ln(\tan x) = 0$ 이면  $\tan x = 1$ , 즉  $x = \frac{\pi}{4}$ 이고 함수  $f(x)$ 의 역함수가  $g(x)$ 이므로  $g(0) = \frac{\pi}{4}$ 이다.

이때  $f'(x) = \frac{\sec^2 x}{\tan x}$ 이므로

$$g'(0) = \frac{1}{f'\left(\frac{\pi}{4}\right)} = \frac{1}{\frac{\sec^2 \frac{\pi}{4}}{\tan \frac{\pi}{4}}} = \frac{\tan \frac{\pi}{4}}{\sec^2 \frac{\pi}{4}} = \frac{1}{2}$$

$$\begin{aligned} \therefore \lim_{h \rightarrow 0} \frac{4g(8h) - \pi}{h} &= \lim_{h \rightarrow 0} \frac{4g(8h) - 4g(0)}{8h} \times 8 \\ &= \lim_{h \rightarrow 0} \frac{4\{g(8h) - g(0)\}}{8h} \times 8 \\ &= 32 \lim_{h \rightarrow 0} \frac{g(8h) - g(0)}{8h} \\ &= 32 \times g'(0) \\ &= 32 \times \frac{1}{2} = 16 \end{aligned}$$

142) 답 ③

**풀이**

$$\begin{aligned} \lim_{h \rightarrow 0} \frac{f\left(\frac{\pi}{4} + 2h\right) - f\left(\frac{\pi}{4}\right)}{h} &= 2 \lim_{h \rightarrow 0} \frac{f\left(\frac{\pi}{4} + 2h\right) - f\left(\frac{\pi}{4}\right)}{2h} \\ &= 2f'\left(\frac{\pi}{4}\right) \end{aligned}$$

$f(x) = \ln\left(\tan \frac{x}{2}\right)$ 에서

$$f'(x) = \frac{\left(\tan \frac{x}{2}\right)'}{\tan \frac{x}{2}} = \frac{1}{\tan \frac{x}{2}} \cdot \sec^2 \frac{x}{2} \left(\frac{x}{2}\right)'$$

$$\begin{aligned} &= \frac{\cos \frac{x}{2}}{\sin \frac{x}{2}} \cdot \frac{1}{\cos^2 \frac{x}{2}} \cdot \frac{1}{2} \\ &= \frac{1}{2 \sin \frac{x}{2} \cos \frac{x}{2}} = \frac{1}{\sin x} \end{aligned}$$

$$\therefore 2f'\left(\frac{\pi}{4}\right) = \frac{2}{\sin \frac{\pi}{4}} = 2\sqrt{2}$$

143) 답 ②

**풀이**

$f(x) = \ln(x^2 + 2x)$ 에서

$$f'(x) = \frac{2x+2}{x^2+2x} \text{이므로 } f'(n) = \frac{2(n+1)}{n^2+2n}$$

$$\begin{aligned} \therefore \sum_{n=1}^{\infty} \frac{f'(n)}{n+1} &= \sum_{n=1}^{\infty} \frac{2}{n(n+2)} = \sum_{n=1}^{\infty} \left( \frac{1}{n} - \frac{1}{n+2} \right) \\ &= \lim_{n \rightarrow \infty} \sum_{k=1}^n \left( \frac{1}{k} - \frac{1}{k+2} \right) \\ &= \lim_{n \rightarrow \infty} \left\{ \left(1 - \frac{1}{3}\right) + \left(\frac{1}{2} - \frac{1}{4}\right) + \left(\frac{1}{3} - \frac{1}{5}\right) + \dots + \right. \\ &\quad \left. \dots + \left(\frac{1}{n-1} - \frac{1}{n+1}\right) + \left(\frac{1}{n} - \frac{1}{n+2}\right) \right\} \\ &= \lim_{n \rightarrow \infty} \left( 1 + \frac{1}{2} - \frac{1}{n+1} - \frac{1}{n+2} \right) \\ &= \frac{3}{2} \end{aligned}$$

144) 답 ①

**풀이**

$$f(x) = \ln \frac{1}{x^2} = -2 \ln |x|,$$

$$g(x) = \left( \ln \frac{1}{x} \right)^2 = (-\ln x)^2 = (\ln x)^2 \text{에서}$$

$$f'(x) = -\frac{2}{x}, \quad g'(x) = \frac{2}{x} \ln x \text{이다.}$$

이때  $h'(x) = (f \circ g)'(x) = f'(g(x))g'(x)$ 이므로

$$h'(e^2) = f'(g(e^2))g'(e^2) = f'(4) \cdot \frac{4}{e^2} = \left(-\frac{1}{2}\right) \cdot \frac{4}{e^2} = -\frac{2}{e^2}$$

145) 답 ⑤

**풀이**

$f(x) = 2x^3 + \ln(\log_2 2x)$ 에서  $f(1) = 2$ 이고

$$f'(x) = 6x^2 + \{\ln(\log_2 2x)\}'$$

$$= 6x^2 + \frac{1}{\log_2 2x} (\log_2 2x)'$$

$$= 6x^2 + \frac{1}{\log_2 2x} \cdot \frac{1}{x \ln 2}$$

$$= 6x^2 + \frac{1}{x \ln 2 \cdot \log_2 2x}$$

$$\text{이므로 } f'(1) = 6 + \frac{1}{\ln 2}$$

$$\therefore f'(1) - 2f(1) = 6 + \frac{1}{\ln 2} - 4 = 2 + \frac{1}{\ln 2}$$

146) 답 ②

**풀이**

함수  $f(x)$ 의 역함수  $g(x)$ 에 대하여 곡선  $y = g(x)$  위의 점  $(\ln 2, g(\ln 2))$ 에서의 접선의 기울기는

$$g'(\ln 2) = \frac{1}{f'(g(\ln 2))}$$

이다.

$$\text{이때 } f(x) = \ln(e^{2x} + e^{3x}) \text{에서 } f'(x) = \frac{2e^{2x} + 3e^{3x}}{e^{2x} + e^{3x}}$$

$\ln(e^{2x} + e^{3x}) = \ln 2$ 에서  $e^{2x} + e^{3x} = 2$ , 즉  $x = 0$ 이므로  $g(\ln 2) = 0$

$$\therefore g'(\ln 2) = \frac{1}{f'(g(\ln 2))} = \frac{1}{f'(0)} = \frac{1}{\frac{1}{5}} = \frac{2}{5}$$

147) 답 ②

풀이

$$f(x) = \frac{\ln x}{x^n} \text{에서}$$

$$f'(x) = \frac{\frac{1}{x} \times x^n - nx^{n-1} \times \ln x}{x^{2n}} = \frac{1-n \ln x}{x^{n+1}}$$

$$f'(x) = 0 \text{이면 } \ln x = \frac{1}{n} \quad \therefore x = e^{\frac{1}{n}}$$

따라서

$$f(e^{\frac{1}{n}}) = \frac{\ln e^{\frac{1}{n}}}{(e^{\frac{1}{n}})^n} = \frac{1}{en} = a_n \text{ 이고}$$

$$a_{n+1} = \frac{1}{e(n+1)} \text{ 이다.}$$

$$\therefore \sum_{n=1}^{\infty} a_n a_{n+1} = \frac{1}{e^2} \sum_{n=1}^{\infty} \frac{1}{n(n+1)}$$

$$= \frac{1}{e^2} \lim_{n \rightarrow \infty} \sum_{k=1}^n \left( \frac{1}{k} - \frac{1}{k+1} \right)$$

$$= \frac{1}{e^2} \lim_{n \rightarrow \infty} \left\{ \left(1 - \frac{1}{2}\right) + \left(\frac{1}{2} - \frac{1}{3}\right) + \left(\frac{1}{3} - \frac{1}{4}\right) + \dots + \left(\frac{1}{n} - \frac{1}{n+1}\right) \right\}$$

$$= \frac{1}{e^2} \lim_{n \rightarrow \infty} \left(1 - \frac{1}{n+1}\right) = \frac{1}{e^2}$$

148) 답 ①

풀이

$$f(x) = x^{\ln x} \text{에서 } \ln f(x) = (\ln x)^2$$

위 등식의 양변을  $x$ 에 대하여 미분하면  $\frac{f'(x)}{f(x)} = \frac{2}{x} \ln x$  이다.

$$\therefore f'(x) = f(x) \left( \frac{2}{x} \ln x \right) = x^{\ln x} \left( \frac{2}{x} \ln x \right)$$

$$g(x) = (\ln x)^x \text{에서 } \ln g(x) = x \ln(\ln x)$$

위 등식의 양변을  $x$ 에 대하여 미분하면

$$\frac{g'(x)}{g(x)} = \ln(\ln x) + x \cdot \frac{1}{\ln x} \cdot \frac{1}{x} \text{ 이다.}$$

$$\therefore g'(x) = g(x) \left\{ \ln(\ln x) + \frac{1}{\ln x} \right\}$$

$$= (\ln x)^x \left\{ \ln(\ln x) + \frac{1}{\ln x} \right\}$$

$$\therefore f'(e) - g'(e) = 2 - 1 = 1$$

149) 답 ②

풀이

$$f(\pi) = \pi^{\sin \pi} = 1 \text{ 이므로}$$

$$\lim_{x \rightarrow \pi} \frac{f(x) - 1}{x - \pi} = \lim_{x \rightarrow \pi} \frac{f(x) - f(\pi)}{x - \pi} = f'(\pi)$$

한편,  $f(x) = x^{\sin x}$  ( $x > 0$ )의 양변에 자연로그를 취하면

$\ln f(x) = \ln x^{\sin x} = \sin x \ln x$ 에서 이 등식의 양변을  $x$ 에 대하여 미분하면

$$\frac{f'(x)}{f(x)} = \cos x \ln x + \frac{\sin x}{x}$$

$$\therefore f'(x) = x^{\sin x} \left( \cos x \ln x + \frac{\sin x}{x} \right)$$

$$\therefore \lim_{x \rightarrow \pi} \frac{f(x) - 1}{x - \pi} = f'(\pi) = \pi^0 \times (-1 \times \ln \pi + 0) = -\ln \pi$$

150) 답 ③

풀이

$$f(x) = \frac{x^5}{(x+3)(x-1)} \text{의 양변의 절댓값에 자연로그를 취하면}$$

$$\ln |f(x)| = \ln \left| \frac{x^5}{(x+3)(x-1)^2} \right|$$

$$= 5 \ln |x| - \ln |x+3| - 2 \ln |x-1|$$

위 등식의 양변을  $x$ 에 대하여 미분하면

$$\frac{f'(x)}{f(x)} = \frac{5}{x} - \frac{1}{x+3} - \frac{2}{x-1} = \frac{2x^2 + 5x - 15}{x(x-1)(x+3)}$$

$$\therefore f'(x) = \frac{2x^2 + 5x - 15}{x(x-1)(x+3)} \cdot \frac{x^5}{(x+3)(x-1)^2}$$

$$= \frac{x^4(2x^2 + 5x - 15)}{(x+3)^2(x-1)^3}$$

$$\therefore f'(-1) = \frac{9}{16}$$

151) 답 ③

풀이

$$e^{4f(x)} = \frac{1 + \sin x}{1 - \sin x} \text{의 양변에 자연로그를 취하면}$$

$$\ln e^{4f(x)} = \ln \frac{1 + \sin x}{1 - \sin x}$$

$$f(x) = \frac{1}{4} \ln \frac{1 + \sin x}{1 - \sin x} = \frac{1}{4} \{ \ln(1 + \sin x) - \ln(1 - \sin x) \}$$

$$\therefore f'(x) = \frac{1}{4} \left( \frac{\cos x}{1 + \sin x} - \frac{-\cos x}{1 - \sin x} \right)$$

$$= \frac{1}{4} \cos x \left( \frac{1}{1 + \sin x} + \frac{1}{1 - \sin x} \right)$$

$$= \frac{1}{4} \cos x \cdot \frac{2}{\cos^2 x}$$

$$= \frac{1}{2 \cos x}$$

$$\therefore f' \left( \frac{\pi}{3} \right) = \frac{1}{2 \cdot \frac{1}{2}} = 1$$

152) 답 ④

풀이

$$\lim_{x \rightarrow a} \frac{f'(x) - f'(a)}{x - a} = 0 \text{ 이므로 } f''(a) = 0 \text{ 이다.}$$

$$f(x) = \frac{1}{x^2 + 2} \text{에서}$$

$$f'(x) = \frac{-2x}{(x^2 + 2)^2}$$

$$f''(x) = \frac{-2(x^2 + 2)^2 - (-2x) \cdot 2(x^2 + 2) \cdot 2x}{(x^2 + 2)^4}$$

$$= \frac{-2(x^2 + 2) + 8x^2}{(x^2 + 2)^3} = \frac{6x^2 - 4}{(x^2 + 2)^3}$$

모든 실수  $x$ 에 대하여  $x^2 + 2 > 0$ 이므로  $f''(x) = 0$ 이면

$$6x^2 - 4 = 0 \quad \therefore x^2 = \frac{2}{3}$$

따라서  $f''(a) = 0$ 인 양수  $a$ 의 값은  $\sqrt{\frac{2}{3}} = \frac{\sqrt{6}}{3}$ 이다.

153) 답 ④

풀이

$$f(x) = (ax + b) \sin x \text{에서}$$

$$f'(x) = a \sin x + (ax + b) \cos x \text{이므로}$$

$$f'(-\pi) = \pi a - b = 0 \dots\dots \text{㉠}$$

또한,  $f''(x) = 2a \cos x - (ax + b) \sin x$ 이므로

$$f(x) + f''(x) = 3 \cos x \text{에서}$$

$$2a \cos x = 3 \cos x$$

$$(2a - 3) \cos x = 0$$

이 식이 모든 실수  $x$ 에 대하여 성립하므로

$$2a - 3 = 0 \quad \therefore a = \frac{3}{2}$$

$a = \frac{3}{2}$ 을 ㉠에 대입하면

$$\frac{3}{2}\pi - b = 0 \quad \therefore b = \frac{3}{2}\pi$$

$$\therefore ab = \frac{3}{2} \times \frac{3}{2}\pi = \frac{9}{4}\pi$$

$$\therefore \tan ab = \tan \frac{9}{4}\pi = \tan \frac{\pi}{4} = 1$$

154) 답 ③

풀이

$f(x) = e^{ax} \cos bx$ 에서

$$f'(x) = ae^{ax} \cos bx + e^{ax}(-b \sin bx)$$

$$= e^{ax}(a \cos bx - b \sin bx)$$

$$f''(x) = ae^{ax}(a \cos bx - b \sin bx) + e^{ax}(-ab \sin bx - b^2 \cos bx)$$

$$= e^{ax}\{(a^2 - b^2) \cos bx - 2ab \sin bx\}$$

$$f''(x) - 6f'(x) + 25f(x) = 0 \text{에서}$$

$$e^{ax}\{(a^2 - b^2) \cos bx - 2ab \sin bx\}$$

$$- 6e^{ax}(a \cos bx - b \sin bx) + 25e^{ax} \cos bx = 0$$

$$(a^2 - b^2 - 6a + 25) \cos bx - 2b(a - 3) \sin bx = 0 \dots \text{㉡}$$

이때 모든 실수  $x$ 에 대하여 ㉡이 성립하려면

$$a^2 - b^2 - 6a + 25 = 0 \text{이고 } -2b(a - 3) = 0 \text{이다.}$$

$$-2b(a - 3) = 0 \text{에서 } a = 3 (\because b > 0)$$

$$a^2 - b^2 - 6a + 25 = 0 \text{에 } a = 3 \text{을 대입하면}$$

$$16 - b^2 = 0 \quad \therefore b = 4 (\because b > 0)$$

$$\therefore a + b = 3 + 4 = 7$$

155) 답 ④

풀이

$f(x) = k^2 e^{2x} + ke^x + 1$ 에서  $f'(x) = 2k^2 e^{2x} + ke^x$ 이고 점

$(2, f(2))$ 에서의 접선이  $x$ 축과 평행하므로

$$f'(2) = 2k^2 e^4 + ke^2 = 0, \quad 2ke^2 + 1 = 0 (\because ke^2 \neq 0)$$

$$\therefore k = -\frac{1}{2e^2}$$

$$\text{즉, } f(x) = \frac{1}{4e^4} e^{2x} - \frac{1}{2e^2} e^x + 1, \quad f'(x) = \frac{1}{2e^4} e^{2x} - \frac{1}{2e^2} e^x$$

이므로

$$f(1) = \frac{1}{4e^4} e^2 - \frac{1}{2e^2} e + 1 = \frac{1}{4e^2} - \frac{1}{2e} + 1$$

$$f'(1) = \frac{1}{2e^4} e^2 - \frac{1}{2e^2} e = \frac{1}{2e^2} - \frac{1}{2e}$$

따라서 점  $(1, f(1))$ 에서의 접선의 방정식은

$$y - \left(\frac{1}{4e^2} - \frac{1}{2e} + 1\right) = \left(\frac{1}{2e^2} - \frac{1}{2e}\right)(x - 1)$$

이므로  $y$ 절편은

$$\frac{1}{4e^2} - \frac{1}{2e} + 1 - \frac{1}{2e^2} + \frac{1}{2e}$$

$$= -\frac{1}{4e^2} + 1 = \frac{4e^2 - 1}{4e^2}$$

156) 답 2

풀이

곡선  $y = \ln(x+a)$ 와 직선  $y = x+1$ 이 접할 때, 접점의 좌표를

$(t, t+1)$ 이라 하면  $y = \ln(x+a)$ 에서  $y' = \frac{1}{x+a}$ 이므로

$$\frac{1}{t+a} = 1, \quad t+a = 1 \quad \dots \text{㉢}$$

또한,  $t+1 = \ln(t+a)$ 에서

$$t+1 = \ln(t+a) = \ln 1 = 0$$

$$\therefore t = -1$$

$\therefore t = -1$ 을 ㉢에 대입하면

$$-1+a = 1$$

$$\therefore a = 2$$

157) 답 ①

풀이

$y = \sin 2x$ 에서  $y' = 2 \cos 2x$ 이므로 점  $\left(\frac{\pi}{6}, \frac{\sqrt{3}}{2}\right)$ 에서의 접선의

$$\text{기울기는 } 2 \cos \frac{\pi}{3} = 2 \times \frac{1}{2} = 1$$

따라서 기울기가 1인 직선과 곡선  $y = x^3 - x^2 + 1$ 이 접할 때의 접점의

좌표를  $(t, t^3 - t^2 + 1)$ 이라 하면  $y' = 3x^2 - 2x$ 이므로

$$3t^2 - 2t = 1, \quad 3t^2 - 2t - 1 = 0$$

$$(3t+1)(t-1) = 0$$

$$\therefore t = -\frac{1}{3} \text{ 또는 } t = 1$$

따라서 접점은  $\left(-\frac{1}{3}, \frac{23}{27}\right), (1, 1)$ 이므로 접선의 방정식은 각각

$$y - \frac{23}{27} = x + \frac{1}{3}, \quad y - 1 = x - 1$$

$$y = x + \frac{32}{27}, \quad y = x$$

따라서 두 직선 사이의 거리는 직선  $y = x$  위의 점  $(0, 0)$ 과 직선

$$y = x + \frac{32}{27}, \text{ 즉 } x - y + \frac{32}{27} = 0 \text{ 사이의 거리와 같으므로}$$

$$\frac{\left|\frac{32}{27}\right|}{\sqrt{1^2 + (-1)^2}} = \frac{16\sqrt{2}}{27}$$

158) 답 ①

풀이

$y = e^x$ 에서  $y' = e^x$ 이므로 점  $(f(t), g(t))$ 에서의 접선의 방정식은

$$y - g(t) = e^{f(t)}(x - f(t))$$

$$\therefore y = e^{f(t)}x - e^{f(t)}f(t) + g(t) \quad \dots \text{㉣}$$

이때  $g(t) = e^{f(t)}$ 이고 ㉣이 점  $(\ln t, 0)$ 을 지나므로

$$e^{f(t)} \ln t - e^{f(t)}f(t) + e^{f(t)} = 0$$

$$\ln t - f(t) + 1 = 0 (\because e^{f(t)} \neq 0)$$

$$\therefore f(t) = \ln t + 1, \quad g(t) = e^{\ln t + 1}$$

$$\therefore \lim_{t \rightarrow +0} \frac{f(t+1) - 1}{g(t)}$$

$$= \lim_{t \rightarrow +0} \frac{\{\ln(t+1) + 1\} - 1}{e^{\ln t + 1}}$$

$$= \lim_{t \rightarrow +0} \frac{\ln(t+1)}{et}$$

$$= \frac{1}{e} \lim_{t \rightarrow +0} \frac{\ln(t+1)}{t}$$

$$= \frac{1}{e} \times 1 = \frac{1}{e}$$

159) 답 ⑤

풀이

ㄱ.  $f'(\beta)$ 는  $x = \beta$ 에서의 접선의 기울기와 같고,  $g'(x)$ 는  $g(x)$ 의 일차항의 계수인 접선의 기울기와 같으므로

$$f'(\beta) = g'(\beta) \text{ (참)}$$

ㄴ. 함수  $y = f(x)$ 의 그래프 위의 두 점  $(\alpha, f(\alpha)), (\beta, f(\beta))$

에서의 접선이 서로 일치하므로  $x = \alpha$ 에서의 미분계수와 닫힌 구간  $[\alpha, \beta]$ 에서의 평균변화율은 일치한다.

$$\therefore f'(\alpha) = \frac{f(\beta) - f(\alpha)}{\beta - \alpha} \quad (\text{참})$$

ㄷ.  $f'(\alpha) = f'(\beta)$ 이고 평균값의 정리에 의하여

$$\frac{f(\beta) - f(\alpha)}{\beta - \alpha} = f'(\gamma)$$

인 실수  $\gamma$ 가  $\alpha$ 와  $\beta$  사이에 적어도 하나 존재한다.

따라서  $f'(\alpha) = f'(\gamma) = f'(\beta)$ 가 성립하고 함수  $y = f(x)$ 는 닫힌구간  $[\alpha, \gamma]$ ,  $[\gamma, \beta]$ 에서 각각 연속이고 열린구간  $(\alpha, \gamma)$ ,  $(\gamma, \beta)$ 에서 각각 미분가능 하므로 롤의 정리에 의하여  $\alpha$ 와  $\gamma$  사이에  $f''(x) = 0$ 인  $x$ 가 적어도 하나 존재하고,  $\gamma$ 와  $\beta$  사이에  $f''(x) = 0$ 인  $x$ 가 적어도 하나 존재한다.

즉,  $f''(c) = 0$ 인 실수  $c$ 가 열린구간  $(\alpha, \beta)$ 에 적어도 두 개 존재한다. (참)

따라서 옳은 것은 ㄱ, ㄴ, ㄷ이다.

160) **답 3**

**풀이**

$$f(x) = (x+a)e^{2x^2} \text{에서}$$

$$f'(x) = e^{2x^2} + (x+a)e^{2x^2} \times 4x = (4x^2 + 4ax + 1)e^{2x^2}$$

함수  $f(x)$ 가 실수 전체의 집합에서 증가하기 위해서는 모든 실수  $x$ 에 대하여  $f'(x) \geq 0$ 이어야 한다.

이때  $e^{2x^2} > 0$ 이므로  $4x^2 + 4ax + 1 \geq 0$ 이어야 한다.

이차방정식  $4x^2 + 4ax + 1 = 0$ 의 판별식을  $D$ 라 하면

$$\frac{D}{4} = (2a)^2 - 4 = 4a^2 - 4 = 4(a-1)(a+1) \leq 0$$

$$\therefore -1 \leq a \leq 1$$

따라서 정수  $a$ 는  $-1, 0, 1$ 의 3개다.

161) **답 4**

**풀이**

$$f(x) = \frac{1}{4}x - \frac{3x-1}{(x+1)^2} \text{에서}$$

$$f'(x) = \frac{1}{4} + \frac{3x-5}{(x+1)^3}$$

$$= \frac{(x+1)^3 + 12x - 20}{4(x+1)^3}$$

$$= \frac{x^3 + 3x^2 + 15x - 19}{4(x+1)^3}$$

$$= \frac{(x-1)(x^2 + 4x + 19)}{4(x+1)^3}$$

함수  $f(x)$ 는  $x = k$ 에서 감소 상태에 있으므로

$f'(k) \leq 0$ 이어야 한다.

$$\frac{(k-1)(k^2 + 4k + 19)}{4(k+1)^3} \leq 0$$

$$(k-1)(k+1)^3(k^2 + 4k + 19) \leq 0$$

$$(k-1)(k+1) \leq 0 \quad (\because (k+1)^2 > 0, k^2 + 4k + 19 > 0)$$

$$\therefore -1 < k < 1 \quad (\because k \neq -1, k \neq 1)$$

따라서 정수  $k$ 는 0이므로

$$f(0) = 1$$

162) **답 3**

**풀이**

$$f(x) = (1 + \sin x)\cos x \text{에서}$$

$$f'(x) = \cos^2 x + (1 + \sin x)(-\sin x)$$

$$= \cos^2 x - \sin x - \sin^2 x$$

$$= 1 - \sin x - 2\sin^2 x$$

$$= -(2\sin x - 1)(\sin x + 1)$$

$$f'(x) < 0 \text{에서}$$

$$(2\sin x - 1)(\sin x + 1) > 0$$

$$\therefore \sin x > \frac{1}{2} \quad (\because \sin x + 1 > 0)$$

$$\therefore \frac{\pi}{6} < x < \frac{5}{6}\pi \quad (\because 0 \leq x \leq \pi)$$

따라서 열린 구간  $(\frac{\pi}{6}, \frac{5}{6}\pi)$ 에서 함수  $f(x)$ 는 감소하므로

$$m = \frac{\pi}{6}, M = \frac{5}{6}\pi$$

$$\therefore M + m = \pi$$

163) **답 4**

**풀이**

$$f(x) = \frac{3x+a}{x^2+1} \text{에서}$$

$$f'(x) = \frac{3(x^2+1) - (3x+a) \times 2x}{(x^2+1)^2} = \frac{-3x^2 - 2ax + 3}{(x^2+1)^2}$$

함수  $f(x)$ 가  $x = 3$ 에서 극값을 가지므로

$$f'(3) = \frac{-27 - 6a + 3}{100} = 0, 6a = -24$$

$$\therefore a = -4$$

$$\therefore f'(x) = \frac{-3x^2 + 8x + 3}{(x^2+1)^2} = \frac{-(3x+1)(x-3)}{(x^2+1)^2}$$

$$f'(x) = 0 \text{에서 } x = -\frac{1}{3} \text{ 또는 } x = 3$$

이때 함수  $f(x)$ 의 증가와 감소를 표로 나타내면 다음과 같다.

|         |            |                |            |    |            |
|---------|------------|----------------|------------|----|------------|
| $x$     | ...        | $-\frac{1}{3}$ | ...        | 3  | ...        |
| $f'(x)$ | -          | 0              | +          | 0  | -          |
| $f(x)$  | $\searrow$ | 극소             | $\nearrow$ | 극대 | $\searrow$ |

$$\text{즉, } f(x) = \frac{3x-4}{x^2+1} \text{에서}$$

$$M = f(3) = \frac{1}{2}, m = f\left(-\frac{1}{3}\right) = -\frac{9}{2}$$

$$\therefore M + m = \frac{1}{2} + \left(-\frac{9}{2}\right) = -4$$

164) **답 5**

**풀이**

$$f(t) = \overline{AP}^2$$

$$= (t-a)^2 + \left(\frac{1}{t} - a\right)^2$$

$$= t^2 - 2at + 2a^2 - \frac{2a}{t} + \frac{1}{t^2}$$

$$f'(t) = 2t - 2a + \frac{2a}{t^2} - \frac{2}{t^3}$$

$$= \frac{2}{t^3}(t^4 - at^3 + at - 1)$$

$$= \frac{2}{t^3}(t-1)(t+1)(t^2 - at + 1)$$

이때  $t > 0$ 이므로

$\{\alpha | f(\alpha)$ 는 함수  $f(x)$ 의 극값이다. $\}$ 의 원소가 서로 다른

세 개가 존재하려면  $t$ 에 대한 이차방정식

$$t^2 - at + 1 = 0 \quad \text{⊖}$$

이 0보다 크고 1이 아닌 서로 다른 두 실근을 가져야 한다.

그런데  $a > 2$ 이므로 ⊖의 판별식을  $D$ 라 하면

$$D = (-a)^2 - 4 = a^2 - 4 > 0$$

⊖의 서로 다른 두 실근을  $\alpha, \beta$  ( $\alpha < \beta$ )라 하면 이차방정식의

근과 계수와의 관계에 의하여

$$\alpha + \beta = a, \alpha\beta = 1$$

따라서  $\alpha < 1 < \beta$ 이므로  $a_1 = \alpha$ ,  $a_2 = 1$ ,  $a_3 = \beta$   
 $\therefore f(a_1) + f(a_2) = f(\alpha) + f(1)$   
 $= \left\{ (\alpha - a)^2 + \left( \frac{1}{\alpha} - a \right)^2 \right\} + \{ (1 - a)^2 + (1 - a)^2 \}$   
 $= \{ (\alpha - a)^2 + (\beta - a)^2 \} + 2(1 - a)^2 \quad (\because \alpha\beta = 1)$   
 $= \{ (\alpha^2 + \beta^2) - 2a(\alpha + \beta) + 2a^2 \} + 2(1 - a)^2$   
 $= \{ (\alpha + \beta)^2 - 2\alpha\beta - 2a(\alpha + \beta) + 2a^2 \} + 2(1 - a)^2$   
 $= (a^2 - 2) + 2(1 - a)^2 \quad (\because \alpha + \beta = a, \alpha\beta = 1)$   
 $= 3a^2 - 4a$   
 $= 3\left(a - \frac{2}{3}\right)^2 - \frac{4}{3}$

즉,  $k = 3\left(a - \frac{2}{3}\right)^2 - \frac{4}{3}$ 이고,  $a > 2$ 이므로  $k > 4$

즉, 자연수  $k$ 의 최솟값은 5이다.

165) **답** ②

**풀이**

$\overline{AC} = x$ 라 하면  $x \sin 2\theta = 4$ ,  $\overline{BC} = x \tan \theta$ 이므로  
삼각형 ACB의 넓이  $f(\theta)$ 는

$$f(\theta) = \frac{1}{2} \times \overline{AC} \times \overline{BC} = \frac{1}{2} x^2 \tan \theta$$

$$= \frac{8 \tan \theta}{\sin^2 2\theta} \quad \left( \because x = \frac{4}{\sin 2\theta} \right)$$

$$= \frac{2}{\sin \theta \cos^3 \theta} \quad (\because \sin 2\theta = 2 \sin \theta \cos \theta)$$

$$\therefore \frac{2}{f(\theta)} = \sin \theta \cos^3 \theta$$

$$\frac{d}{d\theta} \left\{ \frac{2}{f(\theta)} \right\} = \cos^4 \theta + \sin \theta \cdot 3 \cos^2 \theta \cdot (-\sin \theta)$$

$$= \cos^2 \theta (\cos^2 \theta - 3 \sin^2 \theta)$$

$$= \cos^2 \theta (4 \cos^2 \theta - 3)$$

$$= \cos^2 \theta (2 \cos \theta - \sqrt{3})(2 \cos \theta + \sqrt{3})$$

$$\frac{d}{d\theta} \left\{ \frac{2}{f(\theta)} \right\} = 0 \text{에서 } \theta = \frac{\pi}{6} \quad \left( \because 0 < \theta < \frac{\pi}{2} \right)$$

함수  $\frac{2}{f(\theta)}$ 는  $\theta = \frac{\pi}{6}$ 에서 극댓값을 갖는다.

$$\therefore \alpha = \frac{\pi}{6}$$

$$\therefore 9f(\alpha) = 9 \times f\left(\frac{\pi}{6}\right) = 9 \times \frac{2}{\frac{1}{2} \times \left(\frac{\sqrt{3}}{2}\right)^3} = 32\sqrt{3}$$

166) **답** ⑤

**출제의도** 함수의 이계도함수를 이용하여 변곡점을 구할 수 있는  
지를 묻는 문제이다.

**풀이**

$f(x) = \left( \ln \frac{1}{ax} \right)^2$ 이라 하면

$$f(x) = \left( \ln \frac{1}{ax} \right)^2 = \{ \ln(ax)^{-1} \}^2 = (-\ln ax)^2 = \{\ln ax\}^2$$

$$f'(x) = 2 \ln ax \cdot \frac{a}{ax} = \frac{2 \ln ax}{x}$$

$$f''(x) = \frac{\frac{2a}{ax} \cdot x - 2 \ln ax}{x^2} = \frac{2(1 - \ln ax)}{x^2}$$

$$f''(x) = 0 \text{에서 } x = \frac{e}{a}$$

$0 < x < \frac{e}{a}$ 일 때  $f''(x) > 0$ 이고,  $x > \frac{e}{a}$ 일 때,  $f''(x) < 0$ 이

다.

따라서  $x = \frac{e}{a}$ 의 좌우에서  $f''(x)$ 의 부호가 바뀌므로 변곡점의

좌표는  $\left( \frac{e}{a}, 1 \right)$ 이다.

이때 변곡점  $\left( \frac{e}{a}, 1 \right)$ 이 직선  $y = 2x$  위에 있으므로

$$1 = \frac{2e}{a} \quad \therefore a = 2e$$

167) **답** ③

**풀이**

$$f''(x) = \frac{-6(2-2x)}{x^2(2-x)^2} = \frac{12(x-1)}{x^2(2-x)^2}$$

$f''(x) = 0$ 에서  $x = 1$ 이고  $x = 1$ 의 좌우에서  $f''(x)$ 의 부호가  
바뀌므로 변곡점의 좌표는  $(1, f(1))$ , 즉  $(1, 1)$ 이다.

따라서 곡선  $y = f(x)$ 의 변곡점  $(1, 1)$ 에서의 접선의 방정식은  
 $y - 1 = f'(1)(x - 1)$

$$y - 1 = 7(x - 1), \quad y = 7x - 6$$

즉,  $y$ 절편은  $-6$ 이다.

168) **답** ①

**풀이**

$-1 \leq x_1 < x_2 \leq \alpha$ 인 임의의  $x_1, x_2$ 에 대하여

$$\frac{f(x_1) + f(x_2)}{2} < f\left(\frac{x_1 + x_2}{2}\right)$$

가 성립하기 위해서는 함수  $y = f(x)$ 의 그래프가 구간  
 $[-1, \alpha]$ 에서 위로 볼록해야 한다.

즉,  $-1 \leq x \leq \alpha$ 인  $x$ 에 대하여  $f''(x) \leq 0$ 이어야 한다.

$f(x) = e^{\frac{1}{x-1}}$ 에서

$$f'(x) = -\frac{1}{(x-1)^2} e^{\frac{1}{x-1}}$$

$$f''(x) = \frac{2(x-1)}{(x-1)^4} e^{\frac{1}{x-1}} + \frac{1}{(x-1)^4} e^{\frac{1}{x-1}} = \frac{2x-1}{(x-1)^4} e^{\frac{1}{x-1}}$$

$(x-1)^4 > 0$ ,  $e^{\frac{1}{x-1}} > 0$ 이므로

$f''(x) \leq 0$ 이기 위해서는

$$2x - 1 \leq 0$$

$$\therefore x \leq \frac{1}{2}$$

이때 정의역이  $\{x \mid -1 \leq x < 1\}$ 이므로  $-1 \leq x \leq \frac{1}{2}$

따라서  $\alpha$ 의 최댓값  $M = \frac{1}{2}$ 이므로

$$f(M) = f\left(\frac{1}{2}\right) = e^{-2}$$

169) **답** ④

**풀이**

$$f(x) = \ln \{ (2-x)^{2-x} (2+x)^{2+x} \}$$

$$= (2-x) \ln(2-x) + (2+x) \ln(2+x)$$

에서

$$f'(x) = -\ln(2-x) - 1 + \ln(2+x) + 1$$

$$= \ln(2+x) - \ln(2-x)$$

$f'(x) = 0$ 에서

$$\ln(2+x) - \ln(2-x) = 0$$

$$\ln(2+x) = \ln(2-x), \quad 2+x = 2-x$$

$$\therefore x = 0$$

이때  $f(x)$ 는  $x = 0$ 에서 극소이면서 최소이므로 구하는 최솟값은

$$f(0) = \ln(2^2 \times 2^2) = 4 \ln 2$$

170) **답** ④

풀이

$$f(x) = \frac{\cos x}{\sin x + 2} \text{에서}$$

$$f'(x) = \frac{-\sin x(\sin x + 2) - \cos^2 x}{(\sin x + 2)^2}$$

$$= \frac{-2\sin x - 1}{(\sin x + 2)^2}$$

$$f'(x) = 0 \text{에서 } -2\sin x - 1 = 0$$

$$\sin x = -\frac{1}{2}$$

$$\therefore x = \frac{7}{6}\pi \text{ 또는 } x = \frac{11}{6}\pi$$

따라서 함수  $f(x)$ 의 증가와 감소를 표로 나타내면 다음과 같다.

|         |               |            |                       |            |                      |            |               |
|---------|---------------|------------|-----------------------|------------|----------------------|------------|---------------|
| $x$     | 0             | ...        | $\frac{7}{6}\pi$      | ...        | $\frac{11}{6}\pi$    | ...        | $2\pi$        |
| $f'(x)$ |               | -          | 0                     | +          | 0                    | -          |               |
| $f(x)$  | $\frac{1}{2}$ | $\searrow$ | $-\frac{\sqrt{3}}{3}$ | $\nearrow$ | $\frac{\sqrt{3}}{3}$ | $\searrow$ | $\frac{1}{2}$ |

즉, 함수  $f(x)$ 는  $x = \frac{7}{6}\pi$ 일 때 최솟값  $f\left(\frac{7}{6}\pi\right) = -\frac{\sqrt{3}}{3}$ ,

$$x = \frac{11}{6}\pi$$

일 때 최댓값  $f\left(\frac{11}{6}\pi\right) = \frac{\sqrt{3}}{3}$ 을 가지므로

$$a - b = \frac{11}{6}\pi - \frac{7}{6}\pi = \frac{2}{3}\pi$$

171) 답 19

풀이

점  $P(-1, 0)$ 을 지나고 기울기가  $m$ 인 직선의 방정식은

$$y = m(x + 1)$$

이므로 직선과 타원의 교점의  $x$ 좌표는

$$x^2 + 2m^2(x + 1)^2 = 1$$

$$(2m^2 + 1)x^2 + 4m^2x + 2m^2 - 1 = 0$$

$$(x + 1)\{(2m^2 + 1)x + 2m^2 - 1\} = 0$$

$$\therefore x = -\frac{2m^2 - 1}{2m^2 + 1} \quad (\because x \neq -1)$$

$$\therefore Q\left(\frac{-2m^2 + 1}{2m^2 + 1}, m\left(\frac{-2m^2 + 1}{2m^2 + 1} + 1\right)\right), R\left(\frac{-2m^2 + 1}{2m^2 + 1}, 0\right)$$

따라서 삼각형 PQR의 넓이를  $S$ 라 하면

$$S = \frac{1}{2} \times \overline{PR} \times \overline{QR}$$

$$= \frac{1}{2} \times \left(\frac{-2m^2 + 1}{2m^2 + 1} + 1\right) \times m \left(\frac{-2m^2 + 1}{2m^2 + 1} + 1\right)$$

$$= \frac{1}{2} \times \frac{2}{2m^2 + 1} \times m \times \frac{2}{2m^2 + 1}$$

$$= \frac{2m}{(2m^2 + 1)^2}$$

$$S = \frac{2(2m^2 + 1)^2 - 2m \times 2(2m^2 + 1) \times 4m}{(2m^2 + 1)^4}$$

$$= \frac{-12m^2 + 2}{(2m^2 + 1)^3}$$

즉,  $S = 0$ 에서  $m^2 = \frac{1}{6}$ 이고  $m > 0$ 이므로  $m = \frac{\sqrt{6}}{6}$

따라서  $S$ 는  $m = \frac{\sqrt{6}}{6}$ 에서 극대이면서 최대이므로  $S$ 의 최댓값

은

$$S = \frac{2 \times \frac{\sqrt{6}}{6}}{\left(2 \times \frac{1}{6} + 1\right)^2} = \frac{3}{16} \sqrt{6}$$

$$\therefore p + q = 16 + 3 = 19$$

172) 답 ①

풀이

$f(x) = ax + b (a \neq 0)$ 라 하면

$$g(x) = (ax + b)e^{-x^2} \text{이므로}$$

$$g'(x) = ae^{-x^2} + (ax + b)(-2x)e^{-x^2}$$

$$= (-2ax^2 - 2bx + a)e^{-x^2}$$

따라서  $e^{-x^2} > 0$ 이고 방정식  $g'(x) = 0$ 의 서로 다른 두 실근의

합이 0이므로 방정식  $-2ax^2 - 2bx + a = 0$ 의 서로 다른 두 실근의 합이 0이 되어야 한다.

$$-\frac{2b}{2a} = 0 \quad \therefore b = 0$$

또한,

$$g''(x) = (-4ax - 2b)e^{-x^2} + (-2ax^2 - 2bx + a)(-2x)e^{-x^2}$$

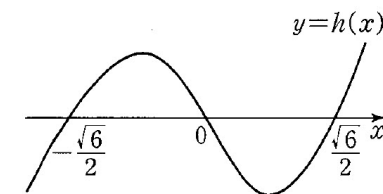
$$= (4ax^3 + 4bx^2 - 6ax - 2b)e^{-x^2}$$

$$= 2ax(\sqrt{2}x - \sqrt{3})(\sqrt{2}x + \sqrt{3})e^{-x^2} \quad (\because b = 0)$$

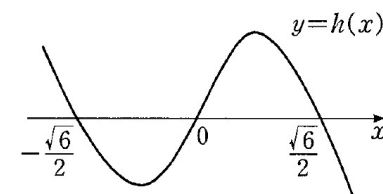
이고  $e^{-x^2} > 0$ 이므로  $h(x) = 2ax(\sqrt{2}x - \sqrt{3})(\sqrt{2}x + \sqrt{3})$

이라 하면

$a > 0$ 일 때,



$a < 0$ 일 때,



따라서  $x < -\frac{\sqrt{6}}{2}$ 에서 함수  $y = g(x)$ 의 그래프가 아래로 볼록

하기 위해서는  $a < 0$ 이어야 한다.

또한,

$$g'(x) = -a(2x^2 - 1)e^{-x^2}$$

$$= -a(\sqrt{2}x - 1)(\sqrt{2}x + 1)e^{-x^2}$$

$$g'(x) = 0 \text{에서 } x = -\frac{1}{\sqrt{2}} \text{ 또는 } x = \frac{1}{\sqrt{2}}$$

따라서  $a < 0$ 이므로 함수  $g(x)$ 는  $x = -\frac{1}{\sqrt{2}}$ 에서 극댓값을 가

지고

조건 (나)에 의하여

$$g\left(-\frac{1}{\sqrt{2}}\right) = -\frac{a}{\sqrt{2}}e^{-\frac{1}{2}} = 2\sqrt{2}e^{-\frac{1}{2}}$$

$$\therefore a = -4$$

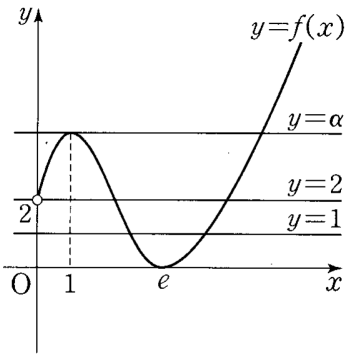
따라서  $f(x) = -4x$ 이므로

$$f(1) = -4$$

173) 답 42

풀이

주어진 조건에 의하여 함수  $y = f(x)$ 의 그래프의 개형은 그림과 같다.



따라서 함수  $f(x)$ 의  $x=1$ 에서의 극댓값을  $\alpha$ 라 하면 방정식  $f(x)=k$ 가 서로 다른 두 실근을 가지려면 그림에서

$$k=1, k=2, k=\alpha$$

이다.

$$1+2+\alpha=13$$

$$\therefore \alpha=10$$

따라서 방정식  $f(x)=m$ 이 서로 다른 세 실근을 갖도록 하는 모든 자연수  $m$ 은 3, 4, 5, ..., 9이므로 그 합은

$$\frac{7(3+9)}{2}=42$$

174) 답 ③

풀이

$g(x)=e^x(\sin x - \cos x)$  ( $0 \leq x \leq 2\pi$ )라 하면

$g(x)=0$ 에서  $\sin x = \cos x$ 이므로

$$x = \frac{\pi}{4} \text{ 또는 } x = \frac{5\pi}{4}$$

또한,

$$g'(x) = e^x(\sin x - \cos x) + e^x(\cos x + \sin x)$$

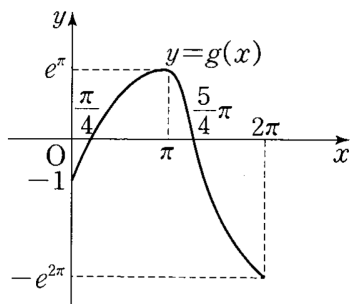
$$= 2e^x \sin x \quad (0 < x < 2\pi)$$

$g'(x)=0$ 에서  $x=\pi$

즉, 함수  $g(x)$ 의 증가와 감소를 표로 나타내면 다음과 같다.

|         |    |     |         |     |             |
|---------|----|-----|---------|-----|-------------|
| $x$     | 0  | ... | $\pi$   | ... | $2\pi$      |
| $g'(x)$ |    | +   | 0       | -   |             |
| $g(x)$  | -1 | ↗   | $e^\pi$ | ↘   | $-e^{2\pi}$ |

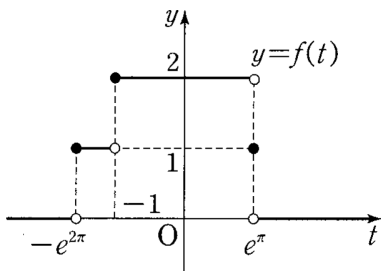
따라서 함수  $y=g(x)$ 의 그래프는 대략 그림과 같다.



따라서

$$f(t) = \begin{cases} 0 & (t < -e^{2\pi} \text{ 또는 } e^\pi < t) \\ 1 & (-e^{2\pi} \leq t < -1 \text{ 또는 } t = e^\pi) \\ 2 & (-1 \leq t < e^\pi) \end{cases}$$

이므로 함수  $y=f(t)$ 의 그래프는 그림과 같다.



즉, 함수  $y=f(t)$ 의 불연속인 점의 개수는 3이다.

175) 답 ②

풀이

$$f(x) = e^x - (1+2x)(1+kx) \text{에}$$

서

$$f(0) = 1 - 1 = 0$$

또한,

$$f'(x)$$

$$= e^x - 2(1+kx) - k(1+2x)$$

$$= e^x - (4kx + k + 2)$$

이므로

$$f'(0) = 1 - k - 2 = -1 - k$$

이때  $f(0)=0$ 이므로  $f'(0) < 0$ 이면  $x \geq 0$ 에서  $f(x) \geq 0$ 에 모순이다.

따라서  $f'(0) \geq 0$ 이어야 한다.

$$\text{즉, } -1 - k \geq 0 \text{에서 } k \leq -1$$

그리고  $k+2 \leq 1$ 에서

$$e^x \geq 4kx + k + 2 \text{이므로}$$

$$f(x) = e^x - (4kx + k + 2) \geq 2$$

따라서  $k$ 의 최댓값은  $-1$ 이다.

176) 답 ③

풀이

$f(x) = \tan x + 2\sin x - 3x$ 라 하면

$$f'(x) = \sec^2 x + 2\cos x - 3$$

$$= \frac{1 + 2\cos^3 x - 3\cos^2 x}{\cos^2 x}$$

이때  $g(x) = 2\cos^3 x - 3\cos^2 x + 1$ 이라 하면

$$g'(x) = 6\cos^2 x(-\sin x) - 6\cos x(-\sin x)$$

$$= 6\sin x \cos x (-\cos x + 1)$$

그런데  $0 < x < \frac{\pi}{2}$ 에서  $g'(x) > 0$ 이고  $g(0) = 0$ 이므로

$$g(x) > 0$$

즉,  $0 < x < \frac{\pi}{2}$ 에서  $f'(x) > 0$ 이고  $f(0) = 0$ 이므로

$$f(x) > 0$$

$$\therefore \tan x + 2\sin x > 3x$$

$$\therefore a = 1, b = 0, h(x) = -\cos x + 1$$

$$\therefore h\left(\frac{a+b}{3}\pi\right) = h\left(\frac{\pi}{3}\right)$$

$$= -\frac{1}{2} + 1 = \frac{1}{2}$$

177) 답 ⑤

풀이

$$\lim_{x \rightarrow 0} \frac{1}{x} \ln \frac{2^x + 3^x}{a} = \lim_{x \rightarrow 0} \frac{\ln(2^x + 3^x) - \ln a}{x} = b \quad \dots \ominus$$

⊖에서  $x \rightarrow 0$  일 때, (분모)  $\rightarrow 0$  이고 극한값을 가지므로 (분자)  $\rightarrow 0$ 이어야 한다.

$$\text{즉, } \lim_{x \rightarrow 0} \{\ln(2^x + 3^x) - \ln a\} = \ln 2 - \ln a = 0 \text{에서 } a = 2$$

또한  $f(x) = \ln(2^x + 3^x)$ 이라 하면  $f(0) = \ln 2$ 이고

$$f'(x) = \frac{2^x \ln 2 + 3^x \ln 3}{2^x + 3^x} \text{에서 } f'(0) = \frac{\ln 2 + \ln 3}{1+1} = \frac{\ln 6}{2}$$

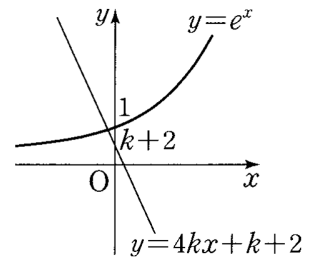
$$\therefore b = \lim_{x \rightarrow 0} \frac{\ln(2^x + 3^x) - \ln 2}{x} = \lim_{x \rightarrow 0} \frac{f(x) - f(0)}{x}$$

$$= f'(0) = \frac{\ln 6}{2}$$

$$\therefore ab = 2 \times \frac{\ln 6}{2} = \ln 6$$

178) 답 ④

풀이



$y = \sin^2 x$ 에서  $y' = 2\sin x \cos x = \sin 2x$  이므로  
 두 점 A, B에서의 접선의 기울기는 각각  $\sin 2\alpha, \sin 2\beta$ 이고  
 두 접선이 서로 수직으로 만나므로  
 $\sin 2\alpha \sin 2\beta = -1$   
 그런데  $0 < 2\alpha < \pi < 2\beta < 2\pi$ 이므로  
 $\sin 2\alpha = 1, \sin 2\beta = -1$   
 $\therefore \alpha = \frac{\pi}{4}, \beta = \frac{3}{4}\pi$   
 $\therefore \sin \alpha \sin \beta = \sin \frac{\pi}{4} \times \sin \frac{3}{4}\pi = \frac{1}{\sqrt{2}} \times \frac{1}{\sqrt{2}} = \frac{1}{2}$

179) **답** ⑤

**풀이**

$x > 0$ 일 때,  $f(x) = 2x^2 \ln x - 5x^2$ 에서  
 $f'(x) = 4x(\ln x - 2), f''(x) = 4(\ln x - 1)$   
 $f''(x) = 0$ 에서  $x = e$   
 $x = e$ 의 좌우에서  $f''(x)$ 의 부호가 달라지므로 점  $(e, -3e^2)$   
 은 변곡점이다.

이때, 변곡점  $(e, -3e^2)$ 에서의 접선의 기울기는  $f'(e) = -4e$   
 이므로 접선의 방정식은

$$y - (-3e^2) = -4e(x - e)$$

$$\therefore y = -4ex + e^2$$

$x < 0$ 일 때,  $f(x) = 2x^2 \ln(-x) - 5x^2$ 에서  
 $f'(x) = 4x\{\ln(-x) - 2\}, f''(x) = 4\{\ln(-x) - 1\}$   
 $f''(x) = 0$ 에서  $x = -e$

$x = -e$ 의 좌우에서  $f''(x)$ 의 부호가 달라지므로 점  
 $(-e, -3e^2)$ 은 변곡점이다.

이때, 변곡점  $(-e, -3e^2)$ 에서의 접선의 기울기는  
 $f'(-e) = 4e$ 이므로 접선의 방정식은

$$y - (-3e^2) = 4e(x + e)$$

$$\therefore y = 4ex + e^2$$

따라서 두 접선의 교점은  $A(0, e^2)$ 이므로 점 A의 y좌표는  $e^2$   
 이다.

180) **답** ④

**풀이**

$g(x) = f(x)e^{-x}$ 에서  
 $g'(x) = f'(x)e^{-x} - f(x)e^{-x} = \{f'(x) - f(x)\}e^{-x}$   
 한편,  $f(x+y) = f(x)e^y + f(y)e^x$ 에  
 $x=y=0$ 을 대입하면  $f(0) = 2f(0)$ 이므로  $f(0) = 0$

$$\begin{aligned} f'(x) &= \lim_{h \rightarrow 0} \frac{f(x+h) - f(x)}{h} \\ &= \lim_{h \rightarrow 0} \frac{f(x)e^h + f(h)e^x - f(x)}{h} \\ &= f(x) \lim_{h \rightarrow 0} \frac{e^h - 1}{h} + e^x \lim_{h \rightarrow 0} \frac{f(h)}{h} \end{aligned}$$

에서

$$\lim_{h \rightarrow 0} \frac{e^h - 1}{h} = 1, \lim_{h \rightarrow 0} \frac{f(h)}{h} = \lim_{h \rightarrow 0} \frac{f(h) - f(0)}{h} = f'(0) = 1$$

이므로

$$f'(x) = f(x) + e^x$$

따라서  $g'(x) = \{f'(x) - f(x)\}e^{-x} = e^x \cdot e^{-x} = 1$ 이므로

$g(x) = x + C$  ( $C$ 는 적분상수)임을 알 수 있다.

그런데  $g(0) = f(0)e^0 = 0$ 이므로

$$g(x) = x, f(x) = g(x)e^x = xe^x$$

이다.

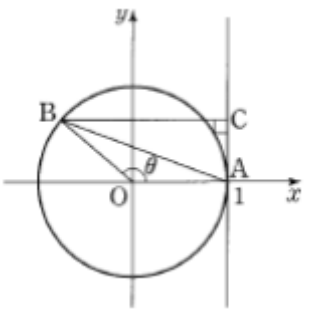
$$\therefore f(1) + g'(2) = e + 1$$

181) **답** ⑤

**풀이**

점 A의 좌표를  $A(1, 0)$ 이라 하면 점 A에서 원에 그은 접선의

방정식은  $x = 1$ 이고  
 $\angle AOB = \theta$  ( $0 < \theta < \pi$ )라 하  
 면  $B(\cos \theta, \sin \theta)$ ,  
 $C(1, \sin \theta)$ 이므로 선분 AC  
 의 길이는  $\sin \theta$ , 선분 BC의  
 길이는  $1 - \cos \theta$ 이다. 따라서  
 삼각형 ABC의 넓이를  $S(\theta)$ 라  
 하면



$$S(\theta) = \frac{1}{2} \sin \theta (1 - \cos \theta)$$

$$\begin{aligned} \therefore \frac{dS(\theta)}{d\theta} &= \frac{1}{2} \{\cos \theta (1 - \cos \theta) + \sin \theta \cdot \sin \theta\} \\ &= \frac{1}{2} \{\cos \theta - \cos^2 \theta + \sin^2 \theta\} \\ &= \frac{1}{2} (\cos \theta - 2\cos^2 \theta + 1) \\ &= -\frac{1}{2} (2\cos \theta + 1)(\cos \theta - 1) \end{aligned}$$

$$\frac{dS(\theta)}{d\theta} = 0 \text{에서 } \cos \theta = -\frac{1}{2} (\because 0 < \theta < \pi) \text{이므로 } \theta = \frac{2}{3}\pi$$

넓이  $S(\theta)$ 의 증가와 감소를 표로 나타내면 다음과 같다.

|              |     |     |                  |     |           |
|--------------|-----|-----|------------------|-----|-----------|
| $\theta$     | (0) | ... | $\frac{2}{3}\pi$ | ... | ( $\pi$ ) |
| $S'(\theta)$ |     | +   | 0                | -   |           |
| $S(\theta)$  |     | ↗   | 극대               | ↘   |           |

따라서  $S(\theta)$ 는  $\theta = \frac{2}{3}\pi$ 에서 극대이면서 최대이고, 이때

$B(-\frac{1}{2}, \frac{\sqrt{3}}{2})$ 이므로 구하는 선분 AB의 길이는

$$\sqrt{\left(-\frac{1}{2} - 1\right)^2 + \left(\frac{\sqrt{3}}{2}\right)^2} = \sqrt{\frac{9}{4} + \frac{3}{4}} = \sqrt{3}$$

182) **답** ③

**풀이**

$h(x) = f(x) - kx^2$ 이라 하면

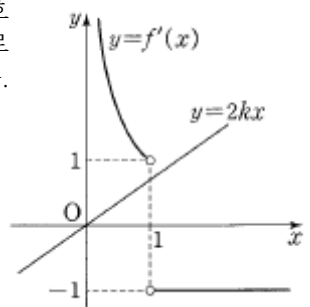
$$h'(x) = f'(x) - 2kx$$

함수  $f'(x) = \begin{cases} \frac{1}{x} & (0 < x < 1) \\ -1 & (x > 1) \end{cases}$  과 함수  $k$ 의 값의 범위에 따라

그림과 같다.

(i)  $0 < k \leq \frac{1}{2}$ 인 경우

$x = 1$ 의 좌우에서  $h'(x)$ 의 부호  
 가 양수에서 음수로 변하므로  
 $h(x)$ 는  $x = 1$ 에서 극대가 된다.



$$\therefore g(k) = h(1) = f(1) - k = 1 - k$$

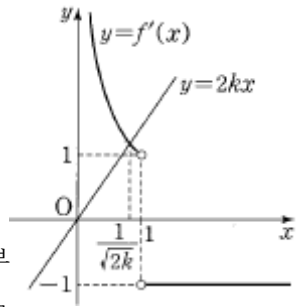
(i)  $k \geq \frac{1}{2}$ 인 경우



$$h'(x) = f'(x) - 2kx$$

$$= \frac{1}{x} - 2kx = 0$$

$$\therefore x = \frac{1}{\sqrt{2k}}$$



$x = \frac{1}{\sqrt{2k}}$ 의 좌우에서  $h'(x)$ 의 부호가 양수에서 음수로 변하므로

$h(x)$ 는  $x = \frac{1}{\sqrt{2k}}$ 에서 극대가 된다.

$$\therefore g(k) = h\left(\frac{1}{\sqrt{2k}}\right) = f\left(\frac{1}{\sqrt{2k}}\right) - k\left(\frac{1}{\sqrt{2k}}\right)^2 = \frac{1}{2}(1 - \ln 2k)$$

$$(i), (ii)에서 g(k) = \begin{cases} 1-k & (0 < k \leq \frac{1}{2}) \\ \frac{1}{2}(1 - \ln 2k) & (k > \frac{1}{2}) \end{cases}$$

따라서  $g\left(\frac{e}{2}\right) = \frac{1}{2}\left\{1 - \ln\left(2 \cdot \frac{e}{2}\right)\right\} = 0$ 이므로

$$\lim_{k \rightarrow \frac{e}{2}} \frac{g(k)}{2k-e} = \lim_{k \rightarrow \frac{e}{2}} \frac{g(k) - g\left(\frac{e}{2}\right)}{2\left(k - \frac{e}{2}\right)} = \frac{1}{2}g'\left(\frac{e}{2}\right)$$

$k > \frac{1}{2}$ 일 때,  $g'(k) = \frac{d}{dk}\left\{\frac{1}{2}(1 - \ln 2k)\right\} = -\frac{1}{2k}$ 이므로

$$g'\left(\frac{e}{2}\right) = -\frac{1}{e}$$

$$\therefore \lim_{k \rightarrow \frac{e}{2}} \frac{g(k)}{2k-e} = \frac{1}{2}g'\left(\frac{e}{2}\right) = -\frac{1}{2e}$$

183) 정답 ②

$g(x) = \ln(2x-1), h(x) = f(g(x))$ 라 하면  $g(1) = \ln 1 = 0$ 이므로

$$\lim_{x \rightarrow 1} \frac{f(\ln(2x-1)) - f(0)}{x-1} = \lim_{x \rightarrow 1} \frac{f(g(x)) - f(g(1))}{x-1}$$

$$= \lim_{x \rightarrow 1} \frac{h(x) - h(1)}{x-1} = 10$$

즉,  $h'(1) = 10$   $h'(x) = f'(g(x))g'(x)$ 이고

$$g'(x) = \frac{2}{2x-1} \text{이므로}$$

$$h'(1) = f'(g(1))g'(1) = f'(0)g'(1) = 2f'(0) = 10 \quad \text{따라서}$$

$$f'(0) = 5$$

184) 정답 5

함수  $f(x)$ 의 역함수가  $g(x)$ 이고,  $f(a) = b$ 이므로  $g(b) = a$ .....㉠

$f'(a) = \frac{1}{g'(b)} = \frac{1}{b}$ .....㉡  $g(b) = 4f'(a)$ 에 ㉠, ㉡을 대입하면

$a = \frac{4}{b}, ab = 4$  두 수  $a, b$ 는 자연수이고  $a < b$ 이므로

$a = 1, b = 4$  따라서  $a + b = 5$

185) 정답 ②

원점  $O$ 에서 직선  $l$ 에 내린 수선의 발을  $H$ 라 하면 직선  $OH$ 는 선분  $AB$ 를 수직이등분한다. 이때  $\angle OPH = \theta$ (맞

꼭지각)이고  $\overline{OP} = 1$ 이므로 직각삼각형  $OHP$ 에서  $\overline{OH} = \overline{OP} \sin \theta = \sin \theta$  이고,

$$\overline{AB} = 2\overline{AH} = 2\sqrt{\overline{OA}^2 - \overline{OH}^2} = 2\sqrt{4 - \sin^2 \theta}$$

따라서 삼각형  $OAB$ 의 넓이  $S(\theta)$ 는

$$S(\theta) = \frac{1}{2} \times \overline{AB} \times \overline{OH} = \sin \theta \times \sqrt{4 - \sin^2 \theta} \quad \text{이므로}$$

$$S'(\theta) = \cos \theta \times \sqrt{4 - \sin^2 \theta} + \sin \theta \times \frac{-2 \sin \theta \cos \theta}{2\sqrt{4 - \sin^2 \theta}}$$

$$= \cos \theta \times \sqrt{4 - \sin^2 \theta} - \frac{\sin^2 \theta \cos \theta}{\sqrt{4 - \sin^2 \theta}}$$

$$S'\left(\frac{\pi}{4}\right) = \cos \frac{\pi}{4} \times \sqrt{4 - \sin^2 \frac{\pi}{4}} - \frac{\sin^2 \frac{\pi}{4} \cos \frac{\pi}{4}}{\sqrt{4 - \sin^2 \frac{\pi}{4}}}$$

$$= \frac{\sqrt{2}}{2} \sqrt{4 - \frac{1}{2}} - \frac{\frac{\sqrt{2}}{4}}{\sqrt{4 - \frac{1}{2}}} = \frac{3\sqrt{7}}{7}$$

186) 정답 ③

$f(x) = \ln(x^2 + 2x)$ 에서  $f'(x) = \frac{(x^2 + 2x)'}{x^2 + 2x} = \frac{2x + 2}{x^2 + 2x}$ 이

므로

$$f'(n) = \frac{2n + 2}{n^2 + 2n} \quad \text{따라서}$$

$$\sum_{n=1}^{\infty} \frac{f'(n)}{2n+2} = \sum_{n=1}^{\infty} \frac{2n+2}{n^2+2n} = \sum_{n=1}^{\infty} \frac{1}{n^2+2n} = \lim_{n \rightarrow \infty} \sum_{k=1}^n \frac{1}{k(k+2)}$$

$$= \frac{1}{2} \lim_{n \rightarrow \infty} \sum_{k=1}^n \left(\frac{1}{k} - \frac{1}{k+2}\right)$$

$$= \frac{1}{2} \lim_{n \rightarrow \infty} \left\{ \left(\frac{1}{1} - \frac{1}{3}\right) + \left(\frac{1}{2} - \frac{1}{4}\right) + \left(\frac{1}{3} - \frac{1}{5}\right) + \dots \right\}$$

$$\dots + \left(\frac{1}{n-1} - \frac{1}{n+1}\right) + \left(\frac{1}{n} - \frac{1}{n+2}\right) \Big\}$$

$$= \frac{1}{2} \lim_{n \rightarrow \infty} \left(1 + \frac{1}{2} - \frac{1}{n+1} - \frac{1}{n+2}\right) = \frac{1}{2} \left(1 + \frac{1}{2}\right) = \frac{3}{4}$$

187) 정답 ①

$f(x) = e^x + e^{2x}$ 에서  $f'(x) = e^x + 2e^{2x}$  함수  $f(2x)$ 의 역함수가  $g(x)$ 이므로  $g(f(2x)) = x$ .....㉠ ㉠의 양변을  $x$ 에 대하여 미분하면  $g'(f(2x))f'(2x) \times 2 = 1$ .....㉡

이때  $g'(2)$ 의 값은 방정식  $f(2x) = 2$ 의 해를 ㉡에 대입하여 구할 수 있다.  $f(2x) = 2$ 에서

$$e^{2x} + e^{4x} = 2 \quad (e^{2x} + 1)(e^{2x} - 1) = 0$$

$$e^{2x} + 2 > 2 \text{이므로 } e^{2x} - 1 = 0, x = 0$$

따라서 ㉡의 양변에  $x = 0$ 을 대입하면

$$g'(f(0))f'(0) \times 2 = 1$$

이때  $f(0) = 2, f'(0) = 3$ 이므로

$$g'(2) = \frac{1}{2f'(0)} = \frac{1}{2 \times 3} = \frac{1}{6}$$

188) **정답** ①

$\frac{g(x)}{f(x)} = \frac{2f(x)}{f(x)+g(x)}$  + 2의 양변을  $x$ 에 대하여 미분하면

$$\frac{g'(x)f(x) - g(x)f'(x)}{\{f(x)\}^2} = \frac{2f'(x)\{f(x)+g(x)\} - 2f(x)\{f'(x)+g'(x)\}}{\{f(x)+g(x)\}^2}$$

$$= \frac{2f'(x)g(x) - 2f(x)g'(x)}{\{f(x)+g(x)\}^2} \text{ 이므로}$$

$$\frac{f(x)g'(x) - f'(x)g(x)}{\{f(x)\}^2} + 2 \times \frac{f(x)g'(x) - f'(x)g(x)}{\{f(x)+g(x)\}^2} = 0$$

$$\{f(x)g'(x) - f'(x)g(x)\} \left[ \frac{1}{\{f(x)\}^2} + \frac{2}{\{f(x)+g(x)\}^2} \right] = 0$$

이때  $\frac{1}{\{f(x)\}^2} + \frac{2}{\{f(x)+g(x)\}^2} > 0$  이므로 모든 실수  $x$ 에 대하여

여  $f(x)g'(x) - f'(x)g(x) = 0 \dots \textcircled{1}$  이 성립한다.

$\lim_{x \rightarrow 1} \frac{f(x)-2}{x-1} = 2 \ln 2$ 에서  $x \rightarrow 1$ 일 때 (분모)  $\rightarrow 0$ 이므로 (분자)  $\rightarrow 0$ 이어야 한다. 즉,  $\lim_{x \rightarrow 1} \{f(x)-2\} = 0$

함수  $f(x)$ 는  $x=1$ 에서 연속이므로  $\lim_{x \rightarrow 1} \{f(x)-2\} = f(1)-2 = 0$ 에서  $f(1) = 2$

이때  $\lim_{x \rightarrow 1} \frac{f(x)-2}{x-1} = \lim_{x \rightarrow 1} \frac{f(x)-f(1)}{x-1} = f'(1)$ 이므로

$f'(1) = 2 \ln 2$   $\textcircled{1}$ 의 양변에  $x=1$ 을 대입하면  $f(1)g'(1) - f'(1)g(1) = 0$   $2g'(1) - (2 \ln 2)g(1) = 0$  따라서  $\frac{g'(1)}{g(1)} = \ln 2$

189) **정답** 15

조건 (가)에서  $f'(f(x))f'(x) = \{f(f(x))\}'$  이므로

$$\{f(f(x))\}' = ax^3 + bx^2 + 12x + c \dots \textcircled{1}$$

이때 자연수  $n$ 에 대하여 함수  $f(x)$ 가  $n$ 차 다항함수이면 합성함수  $f(f(x))$ 는  $n^2$ 차 다항함수이고 그 도함수  $\{f(f(x))\}'$ 은  $(n^2-1)$ 차 다항함수이다.  $\textcircled{1}$ 에서  $a=b, b \neq 0$ 이면  $\{f(f(x))\}'$ 은 이차함수이므로  $n^2-1=2$  이를 만족시키는 자연수  $n$ 의 값은 존재하지 않는다. 또한  $a=0, b=0$ 이면  $\{f(f(x))\}'$ 은 일차함수이므로  $n^2-1=1$  이를 만족시키는 자연수  $n$ 의 값은 존재하지 않는다. 즉,  $a \neq 0$ 이다. 따라서  $n^2-1=3$ 이고,  $n$ 은 자연수이므로  $n=2$ 이다. 다항함수  $f(x)$ 의 최고차항의 계수가 1이므로  $f(x) = x^2 + px + q$  ( $p, q$ 는 상수)라 하면  $f'(x) = 2x + p$  조건 (나)에서  $f'(0) = 1$ 이므로  $p = 1$ 이다. 따라서  $f(x) = x^2 + x + q$ 이므로

$$f(f(x)) = f(x^2 + x + q) = (x^2 + x + q)^2 + (x^2 + x + q) + q = x^4 + 2x^3 + 2(q+1)x^2 + (2q+1)x + q^2 + 2q$$

양변을  $x$ 에 미분하면

$$\{f(f(x))\}' = 4x^3 + 6x^2 + 4(q+1)x + 2q+1 \text{ 이므로 } \textcircled{1} \text{에서 } a=4, b=6, 12=4(q+1), c=2q+1$$

따라서  $q=2, c=5$ 이므로  $a+b+c = 4+5+6 = 15$

190) **정답** ⑤

ㄱ. 함수  $f(x)$ 가 모든 실수  $x$ 에 대하여  $f(1-x) + f(1+x) = 0$ 을 만족시키므로  $x=0$ 을 대입하면  $f(1) + f(1) = 0$   $f(1) = 0$  또한 함수  $f(1-x)$ 의 역함수가  $g(x)$ 이므로  $g(f(1-x)) = x \dots \textcircled{1}$

$\textcircled{1}$ 에  $x=0$ 을 대입하면  $g(f(1)) = g(0) = 0$  (참)

ㄴ.  $f(1-x) + f(1+x) = 0$ 의 양변을  $x$ 에 대하여 미분하면

$$f'(1-x)(1-x)' + f'(1+x)(1+x)' = 0$$

$$-f'(1-x) + f'(1+x) = 0 \dots \textcircled{2} \textcircled{2} \text{의 양변을 } x \text{에 대하여}$$

$$\text{미분하면 } -f''(1-x)(1-x)' + f''(1+x)(1+x)' = 0$$

$$f''(1-x) + f''(1+x) = 0 \dots \textcircled{3} \textcircled{3} \text{에 } x=0 \text{을 대입하면}$$

$$f''(1) + f''(1) = 0 \quad f''(1) = 0 \text{ (참)}$$

ㄷ.  $\textcircled{1}$ 의 양변을  $x$ 에 대하여 미분하면

$$g'(f(1-x))f'(1-x) \times (1-x)' = 1 \quad g'(f(1-x))f'(1-x) = -1$$

이때  $\textcircled{2}$ 에서  $f'(1-x) = f'(1+x)$ 이므로

$$g'(f(1-x))f'(1+x) = -1 \dots \textcircled{4} \textcircled{4} \text{에 } x=1 \text{을 대입하면}$$

$$g'(f(0))f'(2) = -1 \text{ (참)}$$

이상에서 옳은 것은 ㄱ, ㄴ, ㄷ이다.

191) **정답** ①

$\lim_{x \rightarrow 0} \frac{x}{f(x)} = 1$ 에서 0이 아닌 극한값이 존재하고  $\lim_{x \rightarrow 0} x = 0$

이므로  $\lim_{x \rightarrow 0} f(x) = 0$ 이어야 한다. 즉,  $f(0) = 0$ 이므로

$$\lim_{x \rightarrow 0} \frac{x}{f(x)} = \lim_{x \rightarrow 0} \frac{x-0}{f(x)-f(0)} = \lim_{x \rightarrow 0} \frac{1}{\frac{f(x)-f(0)}{x-0}} = \frac{1}{f'(0)} = 1$$

에서

$$f'(0) = 1 \dots \textcircled{1}$$

또  $\lim_{x \rightarrow 1} \frac{x-1}{f(x)} = 2$ 에서 0이 아닌 극한값이 존재하고

$$\lim_{x \rightarrow 1} (x-1) = 0 \text{이므로 } \lim_{x \rightarrow 1} f(x) = 0 \text{이어야 한다.}$$

즉,  $f(1) = 0$ 이므로

$$\lim_{x \rightarrow 1} \frac{x-1}{f(x)} = \lim_{x \rightarrow 1} \frac{x-1}{f(x)-f(1)} = \lim_{x \rightarrow 1} \frac{1}{\frac{f(x)-f(1)}{x-1}} = \frac{1}{f'(1)} = 2$$

에서

$$f'(1) = \frac{1}{2} \dots \textcircled{2}$$

$g(x) = f(f(x))$ 라 하면  $g(1) = f(f(1)) = f(0) = 0$ 이고

$g'(x) = f'(f(x))f'(x)$ 이므로  $\textcircled{1}, \textcircled{2}$ 에 의해

$$g'(1) = f'(f(1))f'(1) = f'(0)f'(1) = 1 \times \frac{1}{2} = \frac{1}{2}$$

따라서

$$\lim_{x \rightarrow 1} \frac{f(f(x))}{2x^2 - x - 1} = \lim_{x \rightarrow 1} \frac{g(x)}{(x-1)(2x+1)} = \lim_{x \rightarrow 1} \left\{ \frac{f(x) - f(1)}{x-1} \times \frac{1}{2x+1} \right\}$$

$$= g'(1) \times \frac{1}{3} = \frac{1}{2} \times \frac{1}{3} = \frac{1}{6}$$

192) **정답** 16

$$\lim_{h \rightarrow 0} \frac{4g(8h) - \pi}{h} = 4 \lim_{h \rightarrow 0} \frac{g(8h) - \frac{\pi}{4}}{h} \dots \textcircled{A} \quad \text{이때}$$

$g(a) = \frac{\pi}{4}$ 라 하면

$$f\left(\frac{\pi}{4}\right) = a \text{이고 } f\left(\frac{\pi}{4}\right) = \ln\left(\tan \frac{\pi}{4}\right) = \ln 1 = 0 \text{ 이므로 } a = 0,$$

$$\text{즉 } g(0) = \frac{\pi}{4}$$

$$\text{따라서 } \lim_{h \rightarrow 0} \frac{g(8h) - \frac{\pi}{4}}{h} = 8 \lim_{h \rightarrow 0} \frac{g(8h) - g(0)}{8h} = 8g'(0) \dots \textcircled{B}$$

⊙

$$\text{그런데 } f'(x) = \frac{(\tan x)'}{\tan x} = \frac{\sec^2 x}{\tan x} = \frac{1}{\sin x \cos x}$$

이므로

$$f'\left(\frac{\pi}{4}\right) = \frac{1}{\sin \frac{\pi}{4} \cos \frac{\pi}{4}} = \frac{1}{\frac{\sqrt{2}}{2} \times \frac{\sqrt{2}}{2}} = 2$$

$$\text{따라서 } g'(0) = \frac{1}{f'(g(0))} = \frac{1}{f'\left(\frac{\pi}{4}\right)} = \frac{1}{2} \text{ 이므로 } \textcircled{A}, \textcircled{B} \text{에서}$$

$$\lim_{h \rightarrow 0} \frac{4g(8h) - \pi}{h} = 4 \times 8 \times g'(0) = 32 \times \frac{1}{2} = 16$$

193) **정답** ④

곡선  $y = -\frac{1}{x} (x < 0)$  위의 점 A의 좌표를  $(t, -\frac{1}{t}) (t < 0)$

이라 하면 점 A를 지나고 x축에 평행한 직선이 곡선

$y = -\ln x$ 와 만나는 점의 x좌표는  $-\frac{1}{t} = -\ln x \quad x = e^{\frac{1}{t}}$

즉, 점 B의 좌표는  $(e^{\frac{1}{t}}, -\frac{1}{t})$ 이다. 따라서 선분 AB의 길

이는  $e^{\frac{1}{t}} - \frac{1}{t}$ 이고, 선분 AA'의 길이는  $-\frac{1}{t}$ 이므로 직사

각형 AA'B'의 넓이를 S(t)라 하면

$$S(t) = (e^{\frac{1}{t}} - t) \times \left(-\frac{1}{t}\right) = 1 - \frac{e^{\frac{1}{t}}}{t}$$

$$S'(t) = -\frac{(e^{\frac{1}{t}})'t - e^{\frac{1}{t}}(t)'}{t^2} = -\frac{(-e^{\frac{1}{t}}t^{-2})t - e^{\frac{1}{t}}}{t^2} = \frac{e^{\frac{1}{t}}}{t} + e^{\frac{1}{t}}$$

$$= \frac{e^{\frac{1}{t}}(1+t)}{t^2}$$

$S'(t) = 0$ 에서  $t = -1$   $t < 0$ 에서 함수 S(t)의 증가와 감소를 표로 나타내면 다음과 같다.

|       |     |    |     |     |
|-------|-----|----|-----|-----|
| t     | ... | -1 | ... | (0) |
| S'(t) | +   | 0  | -   |     |
| S(t)  | ↗   | 극대 | ↘   |     |

함수 S(t)는  $t = -1$ 에서 극대이면서 최대이다. 따라서 직사각형 AA'B'B의 넓이의 최댓값은

$$S(-1) = 1 - \frac{e^{-1}}{-1} = 1 + \frac{1}{e}$$

194) **정답** ③

$f(x) = e^{\sin x + \cos x}, g(x) = k$ 라 하면

$f'(x) = e^{\sin x + \cos x}(\cos x - \sin x) \quad f'(x) = 0$ 에서

$\cos x - \sin x = 0, \cos x = \sin x, \tan x = 1$

이때  $0 \leq x \leq 2\pi$ 이므로  $x = \frac{\pi}{4}$  또는  $x = \frac{5\pi}{4}$

$0 \leq x \leq 2\pi$ 에서 함수 f(x)의 증가와 감소를 표로 나타내면 다음과 같다.

|       |      |     |                 |     |                  |     |        |
|-------|------|-----|-----------------|-----|------------------|-----|--------|
| x     | 0    | ... | $\frac{\pi}{4}$ | ... | $\frac{5\pi}{4}$ | ... | $2\pi$ |
| f'(x) |      | +   | 0               | -   | 0                | +   |        |
| f(x)  | f(0) | ↗   | 극대              | ↘   | 극소               | ↗   | f(2π)  |

$$\text{이때 } f(0) = e^{0+1} = e, f\left(\frac{\pi}{4}\right) = e^{\frac{\sqrt{2}}{2} + \frac{\sqrt{2}}{2}} = e^{\sqrt{2}},$$

$$f\left(\frac{5\pi}{4}\right) = e^{-\frac{\sqrt{2}}{2} + (-\frac{\sqrt{2}}{2})} = e^{-\sqrt{2}}, f(2\pi) = e^{0+1} = e \quad \text{이므로}$$

로 함수  $y = f(x)$ 의 그래프의 개형은

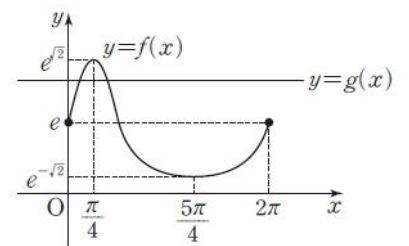
다음 그림과 같다. 주어진 방정식이

서로 다른 두 실근을 갖기 위해서는

두 함수  $y = f(x), y = g(x)$ 의 그래프

의 교점의 개수가 2이어야 하므로 이

를 만족시키는 모



든 실수 k의 범위는  $e^{-\sqrt{2}} < k < e$  또는  $e < k < e^{\sqrt{2}}$

따라서  $\alpha = e^{-\sqrt{2}}, \beta = e, \gamma = e^{\sqrt{2}}$ 이므로

$$\alpha\beta\gamma = e^{-\sqrt{2}} \times e \times e^{\sqrt{2}} = e$$

195) **정답** ⑤

모든 양수 x에 대하여  $-1 \leq \cos x \leq 1$ 이므로

$$-2 \leq 2\cos x \leq 2, 1 \leq 2\cos x + 3 \leq 5$$

$e^1 \leq e^{2\cos x + 3} \leq e^5$ , 즉  $e \leq g(x) \leq e^5$  .....㉠  
 $f(x) = x(\ln x - 3)$ 에 서

$f'(x) = 1 \times (\ln x - 3) + x \times \frac{1}{x} = \ln x - 2$   $f'(x) = 0$ 에서

$x = e^2$   $x > 0$ 에서 함수  $f(x)$ 의 증가와 감소를 표로 나타내면 다음과 같다.

|         |     |     |       |     |
|---------|-----|-----|-------|-----|
| $x$     | (0) | ... | $e^2$ | ... |
| $f'(x)$ |     | -   | 0     | +   |
| $f(x)$  |     | ↘   | 극소    | ↗   |

$g(x) = t$ 라 하면 ㉠에서  $e \leq t \leq e^5$ 이고

$(f \circ g)(x) = f(g(x)) = f(t) = t(\ln t - 3)$

이때 함수  $f(t)$ 는  $t = e^2$ 에서 극소이고

$f(e) = e(\ln e - 3) = -2e$ ,  $f(e^2) = e^2(\ln e^2 - 3) = -e^2$ ,

$f(e^5) = e^5(\ln e^5 - 3) = -2e^5$  이므로  $e \leq t \leq e^5$ 에서

$f(t)$ , 즉 합성함수  $(f \circ g)(x)$ 의 최댓값은

$M = 2e^5$ , 최솟값은  $m = -e^2$  따라서  $\frac{M}{m} = \frac{2e^5}{-e^2} = -2e^3$

196) 정답 ㉠

$g_n(x) = x^n e^{-x}$ 이라 하면  $n = 1$ 일 때

$g_1'(x) = e^{-x} + x(-e^{-x}) = -e^{-x}(x-1)$

이므로  $g_1'(x) = 0$ 에서  $x = 1$   $n \geq 2$ 일 때

$g_n'(x) = nx^{n-1}e^{-x} + x^n(-e^{-x}) = -x^{n-1}e^{-x}(x-n)$  이므로

로

$g_n'(x) = 0$ 에서  $x = 0$  또는  $x = n$

(i)  $n = 1$ 일 때, 함수  $g_1(x)$ 의 증가와 감소를 표로 나타내면 다음과 같다.

|           |     |    |     |
|-----------|-----|----|-----|
| $x$       | ... | 1  | ... |
| $g_1'(x)$ | +   | 0  | -   |
| $g_1(x)$  | ↗   | 극대 | ↘   |

(ii)  $n$ 이 1이 아닌 홀수일 때, 함수  $g_n(x)$ 의 증가와 감소를 표로 나타내면 다음과 같다.

|           |     |   |     |     |     |
|-----------|-----|---|-----|-----|-----|
| $x$       | ... | 0 | ... | $n$ | ... |
| $g_n'(x)$ | +   | 0 | +   | 0   | -   |
| $g_n(x)$  | ↗   |   | ↗   | 극대  | ↘   |

(iii)  $n$ 이 짝수 일 때, 함수  $g_n(x)$ 의 증가와 감소를 표로 나타내면 다음과 같다.

|           |     |    |     |     |     |
|-----------|-----|----|-----|-----|-----|
| $x$       | ... | 0  | ... | $n$ | ... |
| $g_n'(x)$ | -   | 0  | +   | 0   | -   |
| $g_n(x)$  | ↘   | 극소 | ↗   | 극대  | ↘   |

따라서 함수  $g_n(x)$ 는  $n$ 의 값에 관계없이  $x = n$ 에서 극댓값  $g_n(x)$ 을 갖는다.

이때  $\lim_{x \rightarrow \infty} g_n(x) = \lim_{x \rightarrow \infty} x^n e^{-x} = 0$ 이고,

$\lim_{x \rightarrow -\infty} g_n(x) = \lim_{x \rightarrow -\infty} x^n e^{-x}$ 에서  $x = -t$ 라 하면  $x \rightarrow -\infty$ 일 때  $t \rightarrow \infty$ 이므로

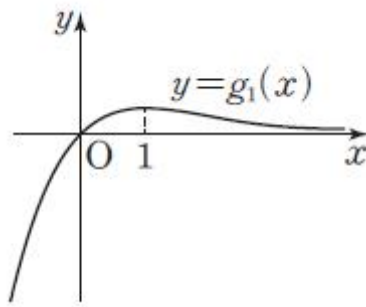
$\lim_{x \rightarrow -\infty} x^n e^{-x} = \lim_{t \rightarrow \infty} (-t)^n e^t$

따라서  $n$ 이 홀수이면  $\lim_{x \rightarrow -\infty} g_n(x) = -\infty$ 이고  $n$ 이 짝수이면

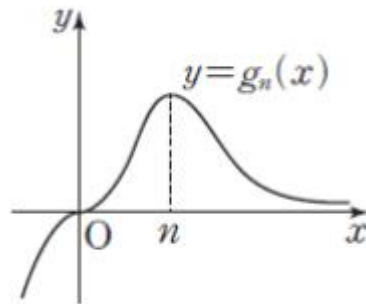
$\lim_{x \rightarrow -\infty} g_n(x) = \infty$  이므로 함수  $y = g_n(x)$ 의 그래프의

개형은 다음 그림과 같다.

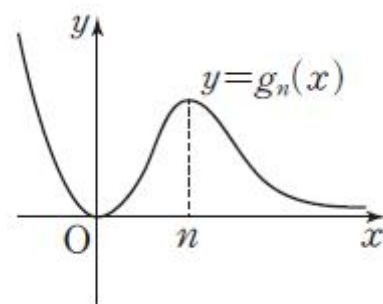
(i)  $n = 1$ 일 때



(ii)  $n$ 이 1이 아닌 홀수일 때



(iii)  $n$ 이 짝수 일 때



주어진 방정식의 서로 다른 실근의 개수는  $n$ 의 값에 따라 다음과 같다.

$n = 1$ 일 때,  $g_1(1) = 1^1 e^{-1} = \frac{1}{e}$ 이고  $2 < e < 3$ 이므로  $g_1(1) < 1$ 이다. 따라서  $f(1) = 0$ 이다.

$n = 2$ 일 때,  $g_2(2) = 2^2 e^{-2} = \frac{4}{e^2}$ 이고  $4 < e^2 < 9$ 이므로  $g_2(2) < 1$ 이다. 따라서  $f(2) = 1$ 이다.

$n = 3$ 일 때,  $g_3(3) = 3^3 e^{-3} = \frac{27}{e^3}$ 이고  $8 < e^3 < 27$ 이므로  $g_3(3) < 1$ 이다. 따라서  $f(3) = 2$ 이다.

$n = 4$ 일 때,  $g_4(4) = 4^4 e^{-4} = \frac{256}{e^4}$ 이고  $16 < e^4 < 81$ 이므로

로

$g_4(4) < 1$ 이다. 따라서  $f(4) = 3$ 이다.

마찬가지

방법으로

$f(5) = f(7) = f(9) = 2, f(6) = f(8) = f(10) = 3$  이므로

$$\sum_{n=1}^{10} f(n) = 0 + 1 + 2 + 3 + 2 + 3 + 2 + 3 + 2 + 3 = 21$$

197) 정답 ②

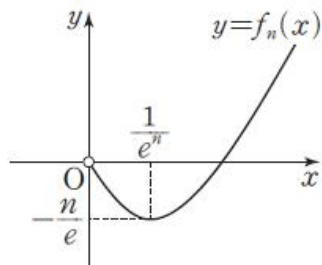
$f_n(x) = x^{\frac{1}{n}} \ln x$ 라 하면

$$f_n'(x) = \frac{1}{n} x^{\frac{1}{n}-1} \ln x + x^{\frac{1}{n}} \times \frac{1}{x} = x^{\frac{1}{n}-1} \left( \frac{1}{n} \ln x + 1 \right)$$

$f_n'(x) = 0$ 에서  $x > 0$ 이므로  $\frac{1}{n} \ln x + 1 = 0 \quad x = \frac{1}{e^n}$

$x > 0$ 에서 함수  $f_n(x)$ 의 증가와 감소를 표로 나타내면 다음과 같다.

|           |     |            |                 |            |
|-----------|-----|------------|-----------------|------------|
| $x$       | (0) | ...        | $\frac{1}{e^n}$ | ...        |
| $f_n'(x)$ |     | -          | 0               | +          |
| $f_n(x)$  |     | $\searrow$ | 극소              | $\nearrow$ |



함수  $f_n(x)$ 는  $x = \frac{1}{e^n}$ 에서 극소이면서 최소이고

$f_n\left(\frac{1}{e^n}\right) = -\frac{n}{e}$ 이므로  $x^{\frac{1}{n}} \ln x \geq -\frac{n}{e}$  즉, 실수  $p$ 의 최댓값

은  $-\frac{n}{e}$ 이므로  $a_n = -\frac{n}{e}$

따 라 서

$$\sum_{n=1}^{10} a_n = \sum_{n=1}^{10} \left( -\frac{n}{e} \right) = -\frac{1}{e} \sum_{n=1}^{10} n = -\frac{1}{e} \times \frac{10 \times 11}{2} = -\frac{55}{e}$$

198) 120

[해설]

{출제 의도}

삼각함수의 도함수를 구한 후 방정식이 실근을 갖도록 하는 조건을 구할 수 있는지를 묻는 문제이다.

{풀이}

$$f(x) = ax + n \cos x \text{에서}$$

$$f'(x) = a - n \sin x$$

$$f'(x) = 0, \text{ 즉 } a - n \sin x = 0 \text{에서}$$

$$\sin x = \frac{a}{n}$$

$$-1 \leq \sin x \leq 1 \text{이므로 } -1 \leq \frac{a}{n} \leq 1$$

즉,  $-n \leq a \leq n$ 이므로 정수  $a$ 의 개수는  $2n+1$ 이다.

따라서  $g(n) = 2n+1$ 이므로

$$\sum_{n=1}^{10} g(n) = \sum_{n=1}^{10} (2n+1) = 2 \times \frac{10 \times 11}{2} + 10 = 120$$

199) ③

[해설]

$f(x) = x \cos x - \sin x$ 에서

$$f'(x) = \cos x + x(-\sin x) - \cos x = -x \sin x \text{이므로}$$

$$\lim_{h \rightarrow 0} \frac{f(\pi+h) - f(\pi-h)}{h}$$

$$= \lim_{h \rightarrow 0} \frac{f(\pi+h) - f(\pi) - f(\pi-h) + f(\pi)}{h}$$

$$= \lim_{h \rightarrow 0} \left\{ \frac{f(\pi+h) - f(\pi)}{h} + \frac{f(\pi-h) - f(\pi)}{-h} \right\}$$

$$= \lim_{h \rightarrow 0} \frac{f(\pi+h) - f(\pi)}{h} + \lim_{h \rightarrow 0} \frac{f(\pi-h) - f(\pi)}{-h}$$

$$= f'(\pi) + f'(\pi) = 2f'(\pi)$$

$$= 2 \times (-\pi) \times \sin \pi$$

$$= -2\pi \times 0 = 0$$

{참고}

미분계수의 정의를 이용하지 않고, 다음과 같이 삼각함수의 성질과 극한의 성질을 이용하여 풀 수도 있다.

$$f(\pi+h) - f(\pi-h)$$

$$= (\pi+h)\cos(\pi+h) - \sin(\pi+h)$$

$$- \{(\pi-h)\cos(\pi-h) - \sin(\pi-h)\}$$

$$= -(\pi+h)\cos h + \sin h - \{ -(\pi-h)\cos h - \sin h \}$$

$$= -(\pi+h)\cos h + \sin h + (\pi-h)\cos h + \sin h$$

$$= -2h \cos h + 2 \sin h$$

이므로

$$\lim_{h \rightarrow 0} \frac{f(\pi+h) - f(\pi-h)}{h} = \lim_{h \rightarrow 0} \frac{-2h \cosh + 2 \sinh}{h}$$

$$= \lim_{h \rightarrow 0} \left( -2 \cosh + \frac{2 \sinh}{h} \right)$$

$$= -2 \lim_{h \rightarrow 0} \cosh + 2 \lim_{h \rightarrow 0} \frac{\sinh}{h}$$

$$= -2 \times 1 + 2 \times 1 = 0$$

200) 110

[해설]

$f(x) = n(x - \sin x), g(x) = n(1 - \cos x)$ 에서

$$f'(x) = n(1 - \cos x), g'(x) = n \sin x \text{이므로}$$

$$h(x) = \sqrt{\{f'(x)\}^2 + \{g'(x)\}^2}$$

$$= \sqrt{n^2(1 - \cos x)^2 + n^2 \sin^2 x}$$

$$= n \sqrt{1 - 2 \cos x + \cos^2 x + \sin^2 x}$$

$$= n \sqrt{2 - 2 \cos x}$$

$$-1 \leq \cos x \leq 1 \text{에서 } 0 \leq n \sqrt{2 - 2 \cos x} \leq 2n \text{이므로}$$

$$0 \leq h(x) \leq 2n$$

함수  $h(x)$ 의 최댓값은  $2n$ 이므로  $a_n = 2n$

$$\text{따라서 } \sum_{n=1}^{10} a_n = \sum_{n=1}^{10} 2n = 2 \times \frac{10 \times 11}{2} = 110$$

201) ②

[해설]

함수  $f(x)$ 가 실수 전체의 집합에서 미분가능하므로 함수  $f(x)$ 가  $x=0$ 에서 미분가능하다.

함수  $f(x)$ 가  $x=0$ 에서 미분가능하면  $x=0$ 에서 연속이므로

$$\lim_{x \rightarrow 0^-} f(x) = f(0)$$

$$\lim_{x \rightarrow 0^-} (b \cos x - 1) = 1$$

$$b - 1 = 1$$

$$\text{즉, } b = 2 \text{이므로 } f(x) = \begin{cases} x^2 + ax + 1 & (x \geq 0) \\ 2 \cos x - 1 & (x < 0) \end{cases}$$

함수  $f(x)$ 가  $x=0$ 에서 미분가능하므로  $f'(0)$ 의 값이 존재한다

$$\lim_{x \rightarrow 0^-} \frac{f(h) - f(0)}{h} = \lim_{x \rightarrow 0^-} \frac{2 \cosh - 1 - 1}{h}$$

$$= \lim_{x \rightarrow 0^-} \frac{2 \cosh - 2}{h}$$

$$= - \lim_{x \rightarrow 0^-} \frac{2(1 - \cosh)}{h}$$

$$\begin{aligned}
&= - \lim_{x \rightarrow 0^-} \frac{2(1 - \cos^2 h)}{h(1 + \cosh)} \\
&= - \lim_{x \rightarrow 0^-} \frac{2\sin^2 h}{h(1 + \cosh)} \\
&= - 2 \lim_{x \rightarrow 0^-} \frac{\sinh}{h} \times \lim_{x \rightarrow 0^-} \frac{\sinh}{1 + \cosh} \\
&= - 2 \times 1 \times \frac{0}{1+1} \\
&= 0 \\
\lim_{x \rightarrow 0^+} \frac{f(h) - f(0)}{h} &= \lim_{x \rightarrow 0^+} \frac{h^2 + ah + 1 - 1}{h} \\
&= \lim_{x \rightarrow 0^+} \frac{h^2 + ah}{h} \\
&= \lim_{x \rightarrow 0^+} (h + a) \\
&= a
\end{aligned}$$

이므로  $a = 0$

따라서  $a = 0$ ,  $b = 2$ 이므로

$$a + b = 0 + 2 = 2$$

202) ④

[해설]

{출제 의도}

함수의 몫의 미분법을 이용하여 미분계수를 구할 수 있는지를 묻는 문제이다.

{풀이}

$$h(x) = \frac{f(x)}{g(x)} \text{라 하면}$$

$$\text{조건 (가)에 의하여 } h(1) = \frac{f(1)}{g(1)} = \frac{4}{1} = 4$$

함수의 몫의 미분법에 의하여

$$h'(x) = \left\{ \frac{f(x)}{g(x)} \right\}' = \frac{f'(x)g(x) - f(x)g'(x)}{\{g(x)\}^2} \text{이므로}$$

함수  $h(x) = \frac{f(x)}{g(x)}$ 의  $x = 1$ 에서의 미분계수는

$$h'(1) = \frac{f'(1)g(1) - f(1)g'(1)}{\{g(1)\}^2}$$

$$\lim_{x \rightarrow 1} \frac{\frac{f(x)}{g(x)} - 4}{x - 1} = \lim_{x \rightarrow 1} \frac{\frac{f(x)}{g(x)} - \frac{f(1)}{g(1)}}{x - 1} = \lim_{x \rightarrow 1} \frac{h(x) - h(1)}{x - 1} = h'(1)$$

이고  $f(1) = 4$ ,  $g(1) = 1$ ,  $f'(1) = 12$ ,  $g'(1) = 2$ 이므로

$$\begin{aligned} \lim_{x \rightarrow 1} \frac{\frac{f(x)}{g(x)} - 4}{x - 1} &= h'(1) = \frac{f'(1)g(1) - f(1)g'(1)}{\{g(1)\}^2} \\ &= \frac{12 \times 1 - 4 \times 2}{1^2} = 4 \end{aligned}$$

{다른 풀이}

$$\begin{aligned} \lim_{x \rightarrow 1} \frac{\frac{f(x)}{g(x)} - 4}{x - 1} &= \lim_{x \rightarrow 1} \frac{g(x) - 4g(x)}{g(x)(x - 1)} \\ &= \lim_{x \rightarrow 1} \frac{f(x) - 4 - 4(g(x) - 1)}{g(x)(x - 1)} \\ &= \lim_{x \rightarrow 1} \left[ \frac{1}{g(x)} \left\{ \frac{f(x) - 4}{x - 1} - 4 \times \frac{g(x) - 1}{x - 1} \right\} \right] \\ &= \lim_{x \rightarrow 1} \left[ \frac{1}{g(x)} \left\{ \frac{f(x) - f(1)}{x - 1} - 4 \times \frac{g(x) - g(1)}{x - 1} \right\} \right] \\ &= \frac{1}{g(1)} \{f'(1) - 4g'(1)\} \\ &= 12 - 4 \times 2 = 4 \end{aligned}$$

203) ③

[해설]

$$g(x) = \frac{1}{1 + f(x)} \text{에서}$$

$$g'(x) = \frac{f'(x)}{\{1 + f(x)\}^2}$$

따라서 함수  $g(x)$ 의  $x = 1$ 에서의 미분계수는

$$g'(1) = - \frac{f'(1)}{\{1 + f(1)\}^2} = - \frac{12}{(1 + 1)^2} = -3$$

204) ①

[해설]

$$\frac{f(x)}{3 - f(x)} = e^{7(x-1)} \text{에서 } f(x) = e^{7(x-1)} \{3 - f(x)\}$$

$$\{1 + e^{7(x-1)}\} f(x) = 3e^{7(x-1)}$$

$$f(x) = \frac{3e^{7(x-1)}}{1 + e^{7(x-1)}}$$

$$f(x) = \frac{3}{e^{-7(x-1)} + 1} \text{이므로}$$

$$f'(x) = \frac{3e^{-7(x-1)} \times (-7)}{\{e^{-7(x-1)} + 1\}^2} = \frac{21e^{-7(x-1)}}{\{e^{-7(x-1)} + 1\}^2}$$

$$\text{따라서 } f'(1) = \frac{21e^{-7(1-1)}}{\{e^{-7(1-1)} + 1\}^2} = \frac{21 \times 1}{(1 + 1)^2} = \frac{21}{4}$$

{다른 풀이}

$$\frac{f(x)}{3 - f(x)} = e^{7(x-1)} \quad \dots \textcircled{7}$$

⑦의 양변을  $x$ 에 대하여 미분하면

$$\frac{f'(x)\{3 - f(x)\} - f(x)\{-f'(x)\}}{\{3 - f(x)\}^2} = 7e^{7(x-1)} \quad \dots \textcircled{8}$$

⑧의 양변에  $x = 1$ 을 대입하면

$$\frac{f'(1)\{3 - f(1)\} - f(1)\{-f'(1)\}}{\{3 - f(1)\}^2} = 7e^{7(1-1)} \text{에서}$$

$$\frac{3f'(1)}{\{3 - f(1)\}^2} = 7$$

$$f'(1) = \frac{7}{3} \{3 - f(1)\}^2$$

⑦의 양변에  $x = 1$ 을 대입하면

$$\frac{f(1)}{3 - f(1)} = e^0 = 1 \text{에서}$$

$$f(1) = \frac{3}{2}$$

$$\text{따라서 } f'(1) = \frac{7}{3} \left(3 - \frac{3}{2}\right)^2 = \frac{7}{3} \times \left(\frac{3}{2}\right)^2 = \frac{21}{4}$$

{다른 풀이 2}

$$\frac{f(x)}{3 - f(x)} = e^{7(x-1)} \quad \dots \textcircled{9}$$

⑨의 양변에  $x = 1$ 을 대입하면

$$\frac{f(1)}{3 - f(1)} = e^0 = 1 \text{에서 } f(1) = \frac{3}{2}$$

⑨의 양변에 자연로그를 취하면

$$\ln \left| \frac{f(x)}{3 - f(x)} \right| = 7(x - 1) \text{에서}$$

$$\ln |f(x)| - \ln |3 - f(x)| = 7(x - 1) \quad \dots \textcircled{10}$$

⑩의 양변을  $x$ 에 대하여 미분하면

$$\frac{f'(x)}{f(x)} - \frac{-f'(x)}{3 - f(x)} = 7 \text{에서}$$

$$\frac{f'(x)}{f(x)} + \frac{f'(x)}{3 - f(x)} = 7 \quad \dots \textcircled{11}$$

⑪의 양변에  $x = 1$ 을 대입하면

$$\frac{f'(1)}{f(1)} + \frac{f'(1)}{3 - f(1)} = 7 \text{에서}$$

$$\frac{2}{3} f'(1) + \frac{2}{3} f'(1) = 7$$

$$\frac{4}{3} f'(1) = 7$$

$$\text{따라서 } f'(1) = \frac{21}{4}$$

{다른 풀이 3}

$$\frac{f(x)}{3 - f(x)} = e^{7(x-1)} \quad \dots \textcircled{12}$$

⑫의 양변에  $x = 1$ 을 대입하면

$$\frac{f(1)}{3-f(x)} = e^0 = 1 \text{에서 } f(1) = \frac{3}{2}$$

$$e^{7(x-1)} > 0 \text{이므로 } f(x) \neq 0$$

㉠에서

$$\frac{3-f(x)}{f(x)} = e^{-7(x-1)}$$

$$\frac{3}{f(x)} - 1 = e^{-7(x-1)}$$

㉡의 양변을  $x$ 에 대하여 미분하면

$$-\frac{3f'(x)}{\{f(x)\}^2} = 7e^{-7(x-1)} \text{에서}$$

$$\frac{3f'(x)}{\{f(x)\}^2} = 7e^{-7(x-1)}$$

㉡의 양변에  $x=1$ 을 대입하면

$$\frac{3f'(1)}{\{f(1)\}^2} = 7e^{-7(1-1)} \text{에서}$$

$$\frac{3f'(1)}{\{f(1)\}^2} = 7$$

$$\text{따라서 } f'(1) = \frac{7}{3} \{f(1)\}^2 = \frac{7}{3} \times \left(\frac{3}{2}\right)^2 = \frac{21}{4}$$

205) ㉡

[해설]

$$g(x) = \frac{f(x)}{(\ln x)^2} \text{에서}$$

$$g'(x) = \frac{f'(x) \times (\ln x)^2 - f(x) \times 2 \ln x \times \frac{1}{x}}{(\ln x)^4}$$

$$= \frac{(\ln x)^2 f'(x) - \frac{2f(x) \ln x}{x}}{(\ln x)^4}$$

이므로

$$g'(e) = \frac{(\ln e)^2 f'(e) - \frac{2f(e) \ln e}{e}}{(\ln e)^4} = f'(e) - \frac{2f(e)}{e}$$

$$\text{그러므로 } f'(e) - g'(e) = \frac{2f(e)}{e}$$

$$g(e) = \frac{f(e)}{(\ln e)^2} = \frac{f(e)}{1^2} = f(e) \text{이므로}$$

$$\lim_{h \rightarrow 0} \frac{f(e+h) - g(e+h)}{h}$$

$$= \lim_{h \rightarrow 0} \frac{f(e+h) - f(e) - \{g(e+h) - f(e)\}}{h}$$

$$= \lim_{h \rightarrow 0} \frac{f(e+h) - f(e) - \{g(e+h) - g(e)\}}{h}$$

$$= \lim_{h \rightarrow 0} \frac{f(e+h) - f(e)}{h} - \lim_{h \rightarrow 0} \frac{g(e+h) - g(e)}{h}$$

$$\equiv f'(e) - g'(e) = \frac{2f(e)}{e} = 4$$

따라서  $f(e) = 2e$

206) ㉢

[해설]

$$f(x) = \{\ln(x+1) + 3\}^4 \text{에서}$$

$$f'(x) = 4\{\ln(x+1) + 3\}^3 \times \{\ln(x+1) + 3\}'$$

$$= 4\{\ln(x+1) + 3\}^3 \times \frac{1}{x+1}$$

$$= \frac{4\{\ln(x+1) + 3\}^3}{x+1}$$

이므로

$$f'(0) = \frac{4\{\ln(0+1) + 3\}^3}{0+1} = \frac{4 \times 3^3}{1} = 108$$

207) 18

[해설]

$$f\left(\frac{x}{2}\right) = \sqrt{4\left(\frac{x}{2}\right)^2 + 1} = \sqrt{x^2 + 1} \text{이므로}$$

$$g(x) = \left\{f\left(\frac{x}{2}\right)\right\}^3 = (\sqrt{x^2 + 1})^3 = (x^2 + 1)^{\frac{3}{2}}$$

따라서 함수  $g(x)$ 의 도함수는

$$g'(x) = \frac{3}{2}(x^2 + 1)^{\frac{1}{2}}(x^2 + 1)' = 3x\sqrt{x^2 + 1} \text{이므로}$$

$$g'(1) = 3 \times 1 \times \sqrt{2} = 3\sqrt{2}$$

따라서  $p = 3\sqrt{2}$ 이므로

$$p^2 = (3\sqrt{2})^2 = 18$$

{다른 풀이}

$$f(x) = \sqrt{4x^2 + 1} \text{에서 } f\left(\frac{1}{2}\right) = \sqrt{2}$$

$$f'(x) = \frac{(4x^2 + 1)'}{2\sqrt{4x^2 + 1}} = \frac{8x}{2\sqrt{4x^2 + 1}} = \frac{4x}{\sqrt{4x^2 + 1}} \text{이므로}$$

$$f'\left(\frac{1}{2}\right) = \frac{2}{\sqrt{2}} = \sqrt{2}$$

$$g(x) = \left\{f\left(\frac{x}{2}\right)\right\}^3 \text{에서}$$

$$g'(x) = 3\left\{f\left(\frac{x}{2}\right)\right\}^2 \times \left\{f\left(\frac{x}{2}\right)\right\}'$$

$$= 3\left\{f\left(\frac{x}{2}\right)\right\}^2 \times \frac{1}{2}f'\left(\frac{x}{2}\right)$$

$$= \frac{3}{2}\left\{f\left(\frac{x}{2}\right)\right\}^2 f'\left(\frac{x}{2}\right)$$

이므로

$$g'(1) = \frac{3}{2}\{f(1/2)\}^2 f'\left(\frac{1}{2}\right) = \frac{3}{2} \times (\sqrt{2})^2 \times \sqrt{2} = 3\sqrt{2}$$

따라서  $p = 3\sqrt{2}$ 이므로

$$p^2 = (3\sqrt{2})^2 = 18$$

208) 90

[해설]

조건 (나)에서  $g(f(x)) = \frac{1}{2}x$ 의 양변에  $x=2$ 를 대입하면

$$g(f(2)) = 1$$

조건 (가)에서  $g(1) = 1$ 이고, 실수 전체의 집합에서 증가하는 함수

$g(x)$ 는 일대일 대응이므로  $f(2) = 1$

점  $(2, a)$ 는 곡선  $y = f(x)$  위의 점이므로  $a = 1$

조건 (나)에서  $g(f(x)) = \frac{1}{2}x$ 의 양변을  $x$ 에 대하여 미분하면

합성함수의 미분법에 의하여

$$g'(f(x))f'(x) = \frac{1}{2} \text{에서}$$

$$f'(x) = \frac{1}{2g'(f(x))} \quad \dots \textcircled{7}$$

㉦의 양변에  $x=2$ 를 대입하면

$$f'(2) = \frac{1}{2g'(f(2))}$$

$$f(2) = 1 \text{이고 } g'(1) = \frac{1}{4} \text{이므로}$$

$$f'(2) = \frac{1}{2g'(f(2))} = \frac{1}{2g'(1)} = \frac{1}{2 \times \frac{1}{4}} = 2$$

곡선  $y = f(x)$  위의 점  $(2, 1)$ 에서의 접선의 기울기  $b$ 는

$$b = f'(2) = 2$$

따라서  $a = 1, b = 2$ 이므로

$$30(a+b) = 30 \times 3 = 90$$

209) 50

[해설]

$$f(x) = e^{\tan x} \text{에서}$$

$$f'(x) = e^{\tan x} \times (\tan x)' = e^{\tan x} \sec^2 x$$

$$f'\left(\frac{\pi}{4}\right) = e^{\tan \frac{\pi}{4}} \times \sec^2 \frac{\pi}{4} = e \times (\sqrt{2})^2 = 2e$$

$$f\left(\frac{\pi}{4}\right) = e^{\tan \frac{\pi}{4}} = e$$

역함수의 정의에 의하여  $g(e) = \frac{\pi}{4}$  이므로 역함수의 미분법에 의하여

$$g'(e) = \frac{1}{f'\left(\frac{\pi}{4}\right)} = \frac{1}{2e}$$

따라서

$$\begin{aligned} e \times \lim_{h \rightarrow 0} \frac{100g(e+h) - 25\pi}{h} &= 100e \times \lim_{h \rightarrow 0} \frac{g(e+h) - \frac{\pi}{4}}{h} \\ &= 100e \times \lim_{h \rightarrow 0} \frac{g(e+h) - g(e)}{h} \\ &= 100e \times g'(e) \\ &= 100e \times \frac{1}{2e} \\ &= 50 \end{aligned}$$

210) ②

[해설]

$$h(x) = g\left(\frac{x-1}{3}\right) \text{로 놓으면 } h(4) = g(1) = 2 \text{이고,}$$

함수  $f(x)$ 의 역함수는  $h(x)$ 이므로  $f(2) = 4$   
역함수의 미분법에 의하여

$$h'(4) = \frac{1}{f'(2)} = \frac{1}{1} = 1$$

$$h'(x) = \frac{1}{3} g'\left(\frac{x-1}{3}\right) \text{이므로}$$

$$h'(4) = \frac{1}{3} g'(1) \text{에서}$$

$$g'(1) = 3h'(4) = 3 \times 1 = 3$$

$$\text{따라서 } f(2) + g'(1) = 4 + 3 = 7$$

{다른 풀이}

함수  $f(x)$ 의 역함수가  $g\left(\frac{x-1}{3}\right)$ 이므로

$$f\left(g\left(\frac{x-1}{3}\right)\right) = x \quad \dots\dots \textcircled{A}$$

①의 양변에  $x = 4$ 를 대입하면

$$f(g(1)) = 4$$

$$g(1) = 2 \text{이므로 } f(2) = 4$$

①의 양변을  $x$ 에 대하여 미분하면 합성함수의 미분법에 의하여

$$f'\left(g\left(\frac{x-1}{3}\right)\right) \times g'\left(\frac{x-1}{3}\right) \times \frac{1}{3} = 1$$

$$g'\left(\frac{x-1}{3}\right) = \frac{3}{f'\left(g\left(\frac{x-1}{3}\right)\right)} \quad \dots\dots \textcircled{B}$$

①의 양변에  $x = 4$ 를 대입하면

$$g'(1) = \frac{3}{f'(g(1))} = \frac{3}{f'(2)} = \frac{3}{1} = 3$$

$$\text{따라서 } f(2) + g'(1) = 4 + 3 = 7$$

211) ①

[해설]

조건 (가)에서  $x \rightarrow -1$ 일 때 (분모)  $\rightarrow 0$ 이고  $\lim_{x \rightarrow -1} \frac{f(x)+7}{x+1}$ 의 값

이 존재하므로 (분자)  $\rightarrow 0$ 이어야 한다.

$$\text{즉, } \lim_{x \rightarrow -1} \{f(x) + 7\} = 0$$

함수  $f(x)$ 는 연속함수이므로  $f(-1) + 7 = 0$ 에서  $f(-1) = -7$

조건 (가)에서

$$\lim_{x \rightarrow -1} \frac{f(x)+7}{x+1} = \lim_{x \rightarrow -1} \frac{f(x)-f(-1)}{x-(-1)} = f'(-1) = 11$$

조건 (나)에서  $f(x) + f(-x) = 0$ 에  $x = 1$ 을 대입하면

$$f(1) + f(-1) = 0 \text{이므로}$$

$$f(1) = -f(-1) = -(-7) = 7$$

조건 (나)에서  $f(x) + f(-x) = 0$ 의 양변을  $x$ 에 대하여 미분하면

$$f'(x) - f'(-x) = 0 \text{에서}$$

$$f'(x) = f'(-x) \quad \dots\dots \textcircled{C}$$

①의 양변에  $x = 1$ 을 대입하면

$$f'(1) = f'(-1) = 11$$

함수  $f(x)$ 의 역함수가  $g(x)$ 이고,  $f(1) = 7$ 이므로 역함수의 미분법에 의하여

$$\begin{aligned} \lim_{x \rightarrow 7} \frac{x-7}{g(x)-g(7)} &= \frac{1}{g'(7)} \\ &= f'(1) \\ &= 11 \end{aligned}$$

212) 19

[해설]

$f(x) = xe^{ax+1}$ 에서

$$f'(x) = e^{ax+1} + axe^{ax+1} = (1+ax)e^{ax+1}$$

$$f''(x) = ae^{ax+1} + a(1+ax)e^{ax+1} = a(2+ax)e^{ax+1}$$

$$f''(0) = 2ae = 38e \text{에서 } a = 19$$

213) ③

[해설]

$f(x) = (\ln kx)^2$ 에서

$$f'(x) = 2\ln kx \times \frac{k}{kx} = \frac{2\ln kx}{x}$$

$$f''(x) = \frac{\frac{2}{x} \times x - 2\ln kx \times 1}{x^2} = \frac{2(1-\ln kx)}{x^2}$$

$$f''(x) = 0 \text{에서 } 1 - \ln kx = 0, \text{ 즉 } x = \frac{e}{k} \text{이므로 } \alpha = \frac{e}{k}$$

$$f(\alpha) = f\left(\frac{e}{k}\right) = \left\{ \ln \left( k \times \frac{e}{k} \right) \right\}^2 = (\ln e)^2 = 1$$

점  $(\alpha, f(\alpha))$ , 즉  $\left(\frac{e}{k}, 1\right)$ 이 직선  $y = \frac{3}{e}x$  위에 있으므로

$$1 = \frac{3}{e} \times \frac{e}{k} \text{에서 } k = 3$$

214) ③

[해설]

$$g(x) = \ln f'(x) \text{에서 } g'(x) = \frac{f''(x)}{f'(x)}$$

조건 (가)에서

$$f''(x) = 2f(x)f'(x) \text{이고,}$$

$$f'(x) > 0 \text{이므로 } g'(x) = \frac{f''(x)}{f'(x)} = \frac{2f(x)f'(x)}{f'(x)} = 2f(x)$$

$$\text{따라서 } g'\left(\frac{1}{3}\right) = 2f\left(\frac{1}{3}\right) = 2 \times k = 2k$$

215) ①

[해설]

$f(x) = x + \cos x + a$ 라 하면 점  $(0, 3)$ 은 곡선  $y = f(x)$  위의 점이므로

$$3 = 1 + a \text{에서 } a = 2$$

$$\text{즉, } f(x) = x + \cos x + 2 \text{이므로 } f'(x) = 1 - \sin x$$

곡선  $y = f(x)$  위의 점  $(0, 3)$ 에서의 접선의 기울기는

$$1 - \sin 0 = 1 \text{이므로 } b = 1$$

$$\text{따라서 } a + b = 2 + 1 = 3$$

216) ④

[해설]

$$y = \frac{1}{7}e^{\frac{x}{7}} \text{에서 } y' = \frac{1}{7} \times \frac{1}{7}e^{\frac{x}{7}} = \frac{1}{49}e^{\frac{x}{7}}$$

곡선  $y = \frac{1}{7}e^{\frac{x}{7}}$  위의 점  $\left(0, \frac{1}{7}\right)$ 에서의 접선의 기울기는

$$\frac{1}{49}e^0 = \frac{1}{49} \text{이므로 곡선 } y = \frac{1}{7}e^{\frac{x}{7}} \text{ 위의 점 } \left(0, \frac{1}{7}\right) \text{에서의 접선의 방정식은}$$

$$y = \frac{1}{49}x + \frac{1}{7}$$

따라서 곡선  $y = \frac{1}{7}e^{\frac{x}{7}}$  위의  $\left(0, \frac{1}{7}\right)$ 점에서의 접선의  $x$ 절편은

$$0 = \frac{1}{49}x + \frac{1}{7} \text{에서 } x = -7$$

217) ④

[해설]

$f(x) = \ln x$ 로 놓으면

$$f'(x) = \frac{1}{x}$$



곡선  $y = f(x)$  위의 점  $(t, \ln t)$ 에서의 접선의 방정식은

$$y - \ln t = \frac{1}{t}(x - t), \text{ 즉 } y = \frac{1}{t}x + \ln t - 1 \text{ 이다.}$$

이 접선이 원점을 지나면

$\ln t - 1 = 0$ 에서  $t = e$  이므로 구하는 접선의 방정식은

$$y = \frac{1}{e}x \text{ 이다.}$$

곡선  $y = \ln x$  위의 두 점  $(e, 1), (\pi, \ln \pi)$ 에 대하여 원점과 점  $(e, 1)$ 을 지나고 직선의 기울기는 원점과 점  $(\pi, \ln \pi)$ 를 지나고 직선의 기울기보다 크므로

$$\frac{1}{e} > \frac{\ln \pi}{\pi} \text{ 이다.}$$

$\pi > e \ln \pi$ 이므로  $\pi > \ln \pi^e$ 에서  $e^\pi > \pi^e$ 이다.

따라서  $g(t) = \ln t - 1$ 이고,  $p = e$ 이므로

$$g(e) + \ln p = \ln e - 1 + \ln e = 1 - 1 + 1 = 1$$

218) ④ [해설]

$$y = \ln \frac{x}{2} + 1 \text{에서 } y' = \frac{1}{x}$$

곡선  $y = \ln \frac{x}{2} + 1$  위의 점의 좌표를  $(t, \ln \frac{t}{2} + 1)$ 이라 하면

곡선  $y = \ln \frac{x}{2} + 1$  위의 점  $(t, \ln \frac{t}{2} + 1)$ 에서의 접선의 기울기는

$$\frac{1}{t} \text{이므로 곡선 } y = \ln \frac{x}{2} + 1$$

위의 점  $(t, \ln \frac{t}{2} + 1)$ 에서의 접선의 방정식은

$$y = \frac{1}{t}(x - t) + \ln \frac{t}{2} + 1$$

이 접선이 원점  $O$ 를 지나므로

$$0 = \frac{1}{t} \times (-t) + \ln \frac{t}{2} + 1$$

$$\ln \frac{t}{2} = 0 \text{이므로 } \frac{t}{2} = 1$$

즉,  $t = 2$

따라서 원점  $O$ 에서 곡선  $y = \ln \frac{x}{2} + 1$ 에 그은 접선의 기울기는

$$\frac{1}{2} \text{이다.}$$

219) ③

[해설]

$y = 2x^2 - x + 2\sqrt{x}$ 라 하면

$$f'(x) = 4x - 1 + \frac{1}{\sqrt{x}}$$

곡선  $y = f(x)$  위의 점의 좌표를  $(t, 2t^2 - t + 2\sqrt{t})$ 라 하면 접선의 기울기가 2이므로

$$f'(t) = 4t - 1 + \frac{1}{\sqrt{t}} = 2$$

$$4t\sqrt{t} - 3\sqrt{t} + 1 = 0$$

$z = \sqrt{t}$  ( $t > 0$ )이라 하면

$$4z^3 - 3z + 1 = 0$$

$$(z + 1)(2z - 1)^2 = 0$$

$z > 0$ 이므로  $z = \frac{1}{2}$

$$\text{즉, } t = z^2 = \left(\frac{1}{2}\right)^2 = \frac{1}{4}$$

따라서 접점의 좌표는  $(\frac{1}{4}, \frac{7}{8})$ 이고 접선의 방정식은

$$y - \frac{7}{8} = 2\left(x - \frac{1}{4}\right) \text{ 즉 } y = 2x + \frac{3}{8} \text{ 이다.}$$

따라서 구하는 직선의  $y$ 절편은  $\frac{3}{8}$ 이다.

$$\begin{array}{r|rrrr} -1 & 4 & 0 & -3 & 1 \\ & & -4 & 4 & -1 \\ \hline & 4 & -4 & 1 & 0 \end{array}$$

220) 75

[해설]

$y = xe^{x+1}$ 에서  $y' = e^{x+1} + xe^{x+1} = e^{x+1}(x+1)$ 이므로

곡선  $y = xe^{x+1}$  위의 점  $(t, te^{t+1})$ 에서의 접선의 방정식은

$$y - te^{t+1} = e^{t+1}(t+1)(x-t)$$

이 접선이 점  $(n, 0)$ 을 지나므로

$$-te^{t+1} = e^{t+1}(t+1)(n-t)$$

$$e^{t+1}(t^2 - nt - n) = 0$$

$$e^{t+1} > 0 \text{이므로 } t^2 - nt - n = 0$$

이 이차방정식의 두 실근을  $\alpha, \beta$ 라 하면 이차방정식의 근과 계수의 관계에 의하여

$$\alpha + \beta = n, \alpha\beta = -n$$

두 접선의 기울기의 곱  $m_1, m_2$ 는

$$m_1m_2 = e^{\alpha+1}(\alpha+1) \times e^{\beta+1}(\beta+1) = e^{\alpha+\beta+2}\{\alpha\beta + (\alpha+\beta) + 1\} = e^{n+2}$$

이므로  $\ln m_1m_2 = n + 2$

따라서  $f(n) = n + 2$ 이므로

$$\sum_{n=1}^{10} f(n) = \sum_{n=1}^{10} (n+2) = \frac{10 \times 11}{2} + 20 = 75$$

221) ④

[해설]

$f(x) = 4\sin x + ax + 2018$ 에서

$$f'(x) = 4\cos x + a$$

함수  $f(x) = 4\sin x + ax + 2018$ 이 실수 전체의 집합에서 증가하려면 모든 실수  $x$ 에 대하여  $f'(x) \geq 0$ 이어야 한다.

즉, 모든 실수  $x$ 에 대하여  $4\cos x + a \geq 0$ 이어야 한다.

$$4\cos x \geq -4 \text{이므로 } a \geq 4$$

따라서 실수  $a$ 의 최솟값은 4이다

222) ⑤

[해설]

$f(x) = (3x+k)e^{x^2}$ 에서

$$f'(x) = 3e^{x^2} + (3x+k)e^{x^2} \times 2x = e^{x^2}(6x^2 + 2kx + 3)$$

함수  $f(x)$ 가 실수 전체의 집합에서 증가하려면 모든 실수  $x$ 에 대하여  $f'(x) \geq 0$ 에서  $e^{x^2} > 0$ 이므로  $6x^2 + 2kx + 3 \geq 0$ 이어야 한다.

이차방정식  $6x^2 + 2kx + 3 = 0$ 의 판별식을  $D$ 라 하면

$$\frac{D}{4} = k^2 - 6 \times 3 \leq 0$$

즉,  $k^2 \leq 18$

따라서 정수  $k$ 의 값은  $-4, -3, -2, -1, 0, 1, 2, 3, 4$ 로 조건을 만족시키는 정수  $k$ 의 개수는 9이다.

223) ②

[해설]

$f(x) = \ln x - \frac{a}{x} - x$ 에서

$$f'(x) = \frac{1}{x} + \frac{a}{x^2} - 1 = -\frac{x^2 - x - a}{x^2}$$

함수  $f(x) = \ln x - \frac{a}{x} - x$ 가 양의 실수 전체의 집합에서 감소하도록 하려면 모든 양의 실수  $x$ 에 대하여

$$f'(x) \leq 0 \text{이어야 한다.}$$

즉, 모든 양의 실수  $x$ 에 대하여  $-\frac{x^2 - x - a}{x^2} \leq 0$ 에서 모든 양

의 실수  $x$ 에 대하여  $x^2 - x - a \geq 0$ 이다.

$g(x) = x^2 - x - a$ 라 하면

$$g(x) = \left(x - \frac{1}{2}\right)^2 - a - \frac{1}{4}$$

$x > 0$ 일 때 함수  $g(x)$ 는  $x = \frac{1}{2}$ 에서 최솟값  $g\left(\frac{1}{2}\right) = -a - \frac{1}{4}$

을 갖는다.

모든 양의 실수  $x$ 에 대하여  $g(x) \geq 0$ 이므로

$$g\left(\frac{1}{2}\right) = -a - \frac{1}{4} \geq 0$$

따라서  $a \leq -\frac{1}{4}$  이므로 실수  $a$ 의 최댓값은  $-\frac{1}{4}$ 이다.

224) ③

[해설]

$$f(x) = \frac{2x^3}{x^2-1} \text{에서}$$

$$f'(x) = \frac{6x^2(x^2-1) - 2x^3 \times 2x}{(x^2-1)^2} = \frac{2x^4 - 6x^2}{(x^2-1)^2} = \frac{2x^2(x^2-3)}{(x^2-1)^2}$$

$$f'(x) = 0 \text{에서 } x > 1 \text{이므로 } x = \sqrt{3}$$

구간  $(1, \infty)$ 에서 함수  $f(x)$ 의 증가와 감소를 표로 나타내면 다음과 같다.

|         |     |            |            |            |
|---------|-----|------------|------------|------------|
| $x$     | (1) | ...        | $\sqrt{3}$ | ...        |
| $f'(x)$ |     | -          | 0          | +          |
| $f(x)$  |     | $\searrow$ | 극소         | $\nearrow$ |

함수  $f(x)$ 는  $x = \sqrt{3}$ 에서 극솟값  $f(\sqrt{3}) = \frac{6\sqrt{3}}{3-1} = 3\sqrt{3}$  을 갖는다.

따라서  $a = \sqrt{3}$  이므로

$$\frac{f(a)}{a} = \frac{f(\sqrt{3})}{\sqrt{3}} = \frac{3\sqrt{3}}{\sqrt{3}} = 3$$

225) ③

[해설]

$$f(x) = (x^2 - 2x - 2)e^{-x+2} \text{에서}$$

$$f'(x) = (2x-2)e^{-x+2} - (x^2-2x-2)e^{-x+2}$$

$$= -(x^2-4x)e^{-x+2}$$

$$= -(x-4)e^{-x+2}$$

$$f'(x) = 0 \text{에서 } e^{-x+2} > 0 \text{이므로 } x=0 \text{ 또는 } x=4$$

$x=0$ 의 좌우에서  $f'(x)$ 의 부호가 음에서 양으로 바뀌므로 함수  $f(x)$ 는  $x=0$ 에서 극소이고,  $x=4$ 의 좌우에서  $f'(x)$ 의 부호가 양에서 음으로 바뀌므로 함수  $f(x)$ 는  $x=4$ 에서 극대이다.

따라서  $a=0, b=4$ 이고

$$f(a) = f(0) = -2e^2, f(b) = f(4) = 6e^{-2} \text{이므로}$$

$$\frac{f(a) \times f(b)}{a-b} = \frac{-2e^2 \times 6e^{-2}}{0-4} = \frac{-12}{-4} = 3$$

226) 55

[해설]

$$f(x) = \ln(x^2+n^2) + kx \text{에서}$$

$$f'(x) = \frac{2x}{x^2+n^2} + k = \frac{kx^2+2x+n^2k}{x^2+n^2}$$

$k > 0$ 이므로 함수  $f(x)$ 의 극값이 존재하지 않도록 하려면 모든 실수  $x$ 에 대하여 함수  $f(x)$ 가 증가해야 한다.

$$\text{즉, } f'(x) \geq 0 \text{에서 } \frac{kx^2+2x+n^2k}{x^2+n^2} \geq 0$$

$$x^2+n^2 > 0 \text{이므로 } kx^2+2x+n^2k \geq 0$$

이차방정식  $kx^2+2x+n^2k=0$ 의 판별식을  $D$ 라 하면  $k > 0$ 이므로

$$\frac{D}{4} = 1 - k \times n^2k = 1 - n^2k^2 \leq 0$$

$$n^2k^2 - 1 \geq 0$$

$$(nk+1)(nk-1) \geq 0$$

자연수  $n$ 과 양의 실수  $k$ 에 대하여  $nk+1 > 0$ 이므로

$$nk-1 \geq 0$$

$$\text{즉, } nk \geq 1 \text{에서 } k \geq \frac{1}{n}$$

$$k \text{의 최솟값이 } \frac{1}{n} \text{이므로 } g(n) = \frac{1}{n}$$

$$\text{따라서 } \sum_{n=1}^{10} \frac{1}{g(n)} = \sum_{n=1}^{10} n = \frac{10 \times 11}{2} = 55$$

227) ①

[해설]

{출제 의도}

주어진 조건을 이용하여 함수  $f(x)$ 에 대한 명제의 참, 거짓을 판단할 수 있는지를 묻는 문제이다.

{풀이}

ㄱ. 조건 (나)에 의하여 함수  $y=f(x)$ 의 그래프는 원점에 대하여 대칭이고, 조건 (가)에서 모든 실수  $x$ 에 대하여  $f(x) \neq 1$ 이므로 모든 실수  $x$ 에 대하여  $f(x) \neq -1$ 이다. (참)

ㄴ. 조건 (나), (다)에 의하여

$$f'(x) = \{1+f(x)\}\{1+f(-x)\} = \{1+f(x)\}\{1-f(x)\} \text{이다.}$$

함수  $f(x)$ 가 실수 전체의 집합에서 미분가능하고, 함수  $y=f(x)$ 의 그래프는 원점에 대하여 대칭이며 모든 실수  $x$ 에 대하여  $f(x) \neq 1, f(x) \neq -1$ 이므로  $-1 < f(x) < 1$ 이다.

즉,  $1+f(x) > 0, 1-f(x) > 0$ 이므로

$$f'(x) = \{1+f(x)\}\{1-f(x)\} > 0 \text{이다.}$$

그러므로 함수  $f(x)$ 는 실수 전체의 집합에서 증가한다. (거짓)

$$\text{ㄷ. } f'(x) = \{1+f(x)\}\{1+f(-x)\} = 1 - \{f(x)\}^2 \text{이므로}$$

$$\text{양변을 } x \text{에 대하여 미분하면 } f''(x) = -2f(x)f'(x)$$

$$f''(x) = 0 \text{에서 } f'(x) > 0 \text{이므로 } f(x) = 0$$

조건 (나)에  $x=0$ 을 대입하면  $f(0)+f(0)=0$ 에서  $f(0)=0$ 이고, 함수  $f(x)$ 는 실수 전체의 집합에서 증가하므로 곡선

$y=f(x)$ 의 변곡점은  $(0, 0)$ 으로 하나뿐이다. (거짓)

이상에서 옳은 것은 ㄱ이다.

228) ②

[해설]

$$f(x) = \ln(x^2-2x+2) \text{에서}$$

$$f'(x) = \frac{2x-2}{x^2-2x+2}$$

$$f''(x) = \frac{2(x^2-2x+2) - (2x-2) \times (2x-2)}{(x^2-2x+2)^2}$$

$$= \frac{2x^2-4x+4 - (4x^2-8x+4)}{(x^2-2x+2)^2}$$

$$= \frac{-2x^2+4x}{(x^2-2x+2)^2}$$

$$= -\frac{2x(x-2)}{(x^2-2x+2)^2}$$

$$f''(x) = 0 \text{에서 } x(x-2) = 0$$

$x > 0$ 이므로  $x=2$

$x=2$ 의 좌우에서  $f''(x)$ 의 부호가 바뀌므로 점  $(2, f(2))$ , 즉 점  $(2, \ln 2)$ 는 곡선  $y=f(x)$ 의 변곡점이다.

곡선  $y=f(x)$ 의 변곡점  $(2, \ln 2)$ 에서의 접선의 기울기는

$$\frac{2 \times 2 - 2}{2^2 - 2 \times 2 + 2} = 1 \text{이므로 접선의 방정식은}$$

$$y - \ln 2 = x - 2, \text{ 즉 } y = x - 2 + \ln 2$$

따라서  $a=1, b=-2+\ln 2$ 이므로

$$a+b = 1 + (-2 + \ln 2) = -1 + \ln 2$$

229) 45

[해설]

$$f(x) = e^{2x} \cos x \text{에서}$$

$$f'(x) = (e^{2x})' \cos x + e^{2x} (\cos x)' = e^{2x} (2 \cos x - \sin x)$$

$$f(x) = (e^{2x})' (2 \cos x - \sin x) + e^{2x} (2 \cos x - \sin x)'$$

$$= e^{2x} (4 \cos x - 2 \sin x) + e^{2x} (-2 \sin x - \cos x)$$

$$= e^{2x} (3 \cos x - 4 \sin x)$$

곡선  $f(x) = e^{2x} \cos x$ 의 변곡점의 좌표가  $(a, f(a))$ 이므로  $f''(a) = 0$ 이다.

$$f''(a) = e^{2a} (3 \cos a - 4 \sin a) = 0 \text{에서}$$

$$e^{2a} > 0 \text{이므로 } 3 \cos a - 4 \sin a = 0$$

$$\text{따라서 } \frac{\sin a}{\cos a} = \frac{3}{4}$$

$$\tan a = \frac{\sin a}{\cos a} = \frac{3}{4} \text{이므로}$$

$$60 \tan a = 60 \times \frac{3}{4} = 45$$

230) ④

[해설]

$$f(x) = x^2 - 3x + \ln x \text{에서}$$

$$f'(x) = 2x - 3 + \frac{1}{x} = \frac{2x^2 - 3x + 1}{x} = \frac{(2x-1)(x-1)}{x}$$

$$f'(x) = 0 \text{에서 } x = \frac{1}{2} \text{ 또는 } x = 1$$

$$f''(x) = 2 - \frac{1}{x^2} = \frac{2x^2 - 1}{x^2} = \frac{(\sqrt{2}x + 1)(\sqrt{2}x - 1)}{x^2}$$

$$f''(x) = 0 \text{에서 } x > 0 \text{이므로 } x = \frac{1}{\sqrt{2}}$$

ㄱ.  $f'(1) = 0$ 이고  $f''(1) = 2 - 1 = 1 > 0$ 이므로 함수  $f(x)$ 는  $x = 1$ 에서 극솟값  $f(1) = 1 - 3 + \ln 1 = -2$ 를 갖는다. (거짓)

ㄴ.  $f''\left(\frac{1}{\sqrt{2}}\right) = 0$ 이고,  $x = \frac{1}{\sqrt{2}}$ 의 좌우에서  $f''(x)$ 의 부호가 바뀌므로 점  $\left(\frac{1}{\sqrt{2}}, f\left(\frac{1}{\sqrt{2}}\right)\right)$ 은 곡선  $y = f(x)$ 의 변곡점이다.

그러므로 곡선  $y = f(x)$ 의 변곡점의 개수는 1이다. (참)

ㄷ. 열린 구간  $\left(0, \frac{1}{\sqrt{2}}\right)$ 에서  $f''(x) < 0$ 이므로 열린 구간

$\left(0, \frac{1}{\sqrt{2}}\right)$ 에서 곡선  $y = f(x)$ 는 위로 볼록하다. (참)

이상에서 옳은 것은 ㄴ, ㄷ이다.

231) ⑤

[해설]

$$f(x) = e^{-\frac{1}{2}x^2} \text{에서}$$

$$f'(x) = -xe^{-\frac{1}{2}x^2}$$

$$f'(x) = 0 \text{에서 } e^{-\frac{1}{2}x^2} > 0 \text{이므로 } x = 0$$

$$f'(x) = -xe^{-\frac{1}{2}x^2} \text{에서}$$

$$f''(x) = -e^{-\frac{1}{2}x^2} + x^2e^{-\frac{1}{2}x^2}$$

$$= (x^2 - 1)e^{-\frac{1}{2}x^2}$$

$$= (x+1)(x-1)e^{-\frac{1}{2}x^2}$$

$$f''(x) = 0 \text{에서 } x = -1 \text{ 또는 } x = 1$$

함수  $f(x)$ 의 증가와 감소, 곡선  $y = f(x)$ 의 오목과 볼록을 표로 나타내면 다음과 같다.

|          |     |       |     |      |     |       |     |
|----------|-----|-------|-----|------|-----|-------|-----|
| $x$      | ... | -1    | ... | 0    | ... | 1     | ... |
| $f'(x)$  | +   | +     | +   | 0    | -   | -     | -   |
| $f''(x)$ | +   | 0     | -   | -    | -   | 0     | +   |
| $f(x)$   |     | ↗ 변곡점 | ↘   | ↘ 극대 | ↘   | ↗ 변곡점 | ↘   |

ㄱ.  $x > 0$ 에서  $f'(x) < 0$ 이므로 함수  $f(x)$ 는 구간  $(0, \infty)$ 에서 감소한다. (참)

ㄴ.  $f(x) = e^{-\frac{1}{2}x^2} > 0$ 이고,  $\lim_{x \rightarrow 0} f(x) = 0$ ,  $\lim_{x \rightarrow \infty} f(x) = 0$ 이므로 함수  $f(x)$ 는  $x = 0$ 에서 극댓값이면서 최댓값  $f(0) = 1$ 을 갖는다. (참)

ㄷ.  $f''(-1) = 0$ 이고,  $x = -1$ 의 좌우에서  $f''(x)$ 의 부호가 바뀌므로 점  $(-1, f(-1))$ 은 곡선  $y = f(x)$ 의 변곡점이고,  $f''(1) = 0$ 이고,  $x = 1$ 의 좌우에서  $f''(x)$ 의 부호가 바뀌므로 점  $(1, f(1))$ 은 곡선  $y = f(x)$ 의 변곡점이므로 곡선  $y = f(x)$ 의 변곡점의 개수는 2이다. (참)

이상에서 옳은 것은 ㄱ, ㄴ, ㄷ이다.

232) ④

[해설]

ㄱ.  $f(x) = |x-1|\sqrt{x} = \begin{cases} -1(x-1)\sqrt{x} & (0 \leq x < 1) \\ (x-1)\sqrt{x} & (x \geq 1) \end{cases}$ 에 대하여

$$\lim_{h \rightarrow 0^-} \frac{f(1+h) - f(1)}{h} = \lim_{h \rightarrow 0^-} \frac{-h\sqrt{1+h}}{h} = -\lim_{h \rightarrow 0^-} \sqrt{1+h} = -1$$

이고,

$$\lim_{h \rightarrow 0^+} \frac{f(1+h) - f(1)}{h} = \lim_{h \rightarrow 0^+} \frac{h\sqrt{1+h}}{h} = \lim_{h \rightarrow 0^+} \sqrt{1+h} = 1$$

이므로 함수  $f(x)$ 는  $x = 1$ 에서 미분가능하지 않다. (거짓)

ㄴ.  $0 < x < 2$  ( $x \neq 1$ )에서  $f(x) > 0$ 이고,  $f(1) = 0$ 이다.

따라서  $x = 1$ 을 포함하는 어떤 열린 구간에 속하는 모든  $x$ 에 대하여  $f(x) \geq f(1)$ 이므로 함수  $f(x)$ 는  $x = 1$ 에서 극솟값을 갖는다.

$x \geq 1$ 일 때  $f(x) = (x-1)\sqrt{x}$ 이므로  $x > 1$ 일 때

$$f'(x) = \sqrt{x} + (x-1) \times \frac{1}{2\sqrt{x}}$$

$$= \frac{2x + x - 1}{2\sqrt{x}}$$

$$= \frac{3x - 1}{2\sqrt{x}} > 0$$

이므로 함수  $f(x)$ 는 구간  $(1, \infty)$ 에서 증가한다.

$0 \leq x < 1$ 일 때  $f(x) = -(x-1)\sqrt{x}$ 이므로

$0 < x < 1$ 일 때

$$f'(x) = -\sqrt{x} - (x-1) \times \frac{1}{2\sqrt{x}}$$

$$= -\frac{2x + x - 1}{2\sqrt{x}}$$

$$= -\frac{3x - 1}{2\sqrt{x}}$$

$$f'(x) = 0 \text{에서 } 3x - 1 = 0 \text{이므로 } x = \frac{1}{3}$$

$x = \frac{1}{3}$ 의 좌우에서  $f'(x)$ 의 부호가 양에서 음으로 바뀌므로 함

수  $f(x)$ 는  $x = \frac{1}{3}$ 에서 극댓값을 갖는다.

그러므로 함수  $f(x)$ 는 극댓값과 극솟값을 모두 갖는다. (참)

ㄷ.  $0 < x < 1$ 일 때

$$f''(x) = -\frac{3 \times 2\sqrt{x} - (3x-1) \times \frac{1}{\sqrt{x}}}{(2\sqrt{x})^2}$$

$$= \frac{6x - (3x-1)}{4x\sqrt{x}}$$

$$= -\frac{3x+1}{4x\sqrt{x}} < 0$$

이므로 곡선  $y = f(x)$ 는 위로 볼록하다.

따라서 열린 구간  $(0, 1)$ 에서 곡선  $y = f(x)$ 는 위로 볼록하다.

(참)

이상에서 옳은 것은 ㄴ, ㄷ이다.

233) ③

[해설]

$$f(x) = (x-4)^2e^{x-2} \text{에서}$$

$$f'(x) = 2(x-4)e^{x-2} + (x-4)^2e^{x-2}$$

$$= (x-2)(x-4)e^{x-2}$$

$$f'(x) = 0 \text{에서 } e^{x-2} > 0 \text{이므로}$$

$$x = 2 \text{ 또는 } x = 4$$

달린 구간  $[0, 5]$ 에서 함수  $f(x)$ 의 증가와 감소를 표로 나타내면 다음과 같다.

|         |                  |     |         |     |         |     |       |
|---------|------------------|-----|---------|-----|---------|-----|-------|
| $x$     | 0                | ... | 2       | ... | 4       | ... | 5     |
| $f'(x)$ |                  | +   | 0       | -   | 0       | +   |       |
| $f(x)$  | $\frac{16}{e^2}$ | ↗   | 4<br>극대 | ↘   | 0<br>극소 | ↗   | $e^3$ |

함수  $f(x)$ 는  $x = 2$ 에서 극댓값 4를 가지고,  $x = 4$ 에서 극솟값 0을 갖는다.

$$\text{또한 } f(0) = \frac{16}{e^2}, f(5) = e^3 \text{이므로}$$

$$M = e^3, m = 0$$

$$\text{따라서 } M + m = e^3 + 0 = e^3$$

234) 27

[해설]

$$f(x) = \frac{1}{\cos x} + \frac{2\sqrt{2}}{\sin x} \text{에서}$$

$$f'(x) = \frac{\sin x}{\cos^2 x} - \frac{2\sqrt{2} \cos x}{\sin^2 x}$$

$$\begin{aligned}
&= \frac{\sin^3 x - 2\sqrt{2}\cos^3 x}{\sin^2 x \cos^2 x} \\
&= \frac{\cos^3 x (\tan^3 x - 2\sqrt{2})}{\sin^2 x \cos^2 x} \\
&= \frac{\cos^3 x (\tan x - \sqrt{2})(\tan^2 x + \sqrt{2}\tan x + 2)}{\sin^2 x \cos^2 x}
\end{aligned}$$

달힌 구간  $\left[\frac{\pi}{6}, \frac{\pi}{3}\right]$ 에서  $f'(x) = 0$ 일 때,  $\cos x > 0$ ,  
 $\tan^2 x + \sqrt{2}\tan x + 2 > 0$ 이므로  
 $\tan x = \sqrt{2}$   
 $3\frac{\sqrt{3}}{3} = \tan \frac{\pi}{6} \leq \sqrt{2} \leq \tan \frac{\pi}{3} = \sqrt{3}$  이므로  
 $\tan x = \sqrt{2}$  ( $\frac{\pi}{6} \leq x \leq \frac{\pi}{3}$ )를 만족시키는  $x$ 의 값을  
 $\alpha$  ( $\frac{\pi}{6} \leq \alpha \leq \frac{\pi}{3}$ )라 하면

$$\begin{aligned}
\tan \alpha &= \sqrt{2}, \frac{\sin \alpha}{\cos \alpha} = \sqrt{2}, \sin \alpha = \sqrt{2} \cos \alpha \\
\sin^2 \alpha + \cos^2 \alpha &= 3\cos^2 \alpha = 1 \\
\cos \alpha > 0 \text{이므로 } \cos \alpha &= \frac{1}{\sqrt{3}} \\
\sin \alpha &= \sqrt{2} \cos \alpha \\
&= \sqrt{2} \times \frac{1}{\sqrt{3}} \\
&= \frac{\sqrt{2}}{\sqrt{3}}
\end{aligned}$$

달힌 구간  $\left[\frac{\pi}{6}, \frac{\pi}{3}\right]$ 에서 함수  $f(x)$ 의 증가와 감소를 표로 나타내면 다음과 같다.

|         |                 |            |          |            |                 |
|---------|-----------------|------------|----------|------------|-----------------|
| $x$     | $\frac{\pi}{6}$ | $\dots$    | $\alpha$ | $\dots$    | $\frac{\pi}{3}$ |
| $f'(x)$ |                 | -          | 0        | +          |                 |
| $f(x)$  |                 | $\searrow$ | 극소       | $\nearrow$ |                 |

함수  $f(x)$ 는  $x = \alpha$ 에서 극소이면서 최소이므로 함수  $f(x)$ 는  $x = \alpha$ 에서 최솟값

$$f(\alpha) = \frac{1}{\cos \alpha} + \frac{2\sqrt{2}}{\sin \alpha} = \sqrt{3} + 2\sqrt{3} = 3\sqrt{3} \text{을 갖는다.}$$

따라서  $m = 3\sqrt{3}$ 이므로  $m^2 = 27$

235) 43

[해설]

$f(x) = (x+n)\sqrt{n^2-x^2}$ 에서  $n^2-x^2 \geq 0$ 이므로  
 $(x+n)(x-n) \leq 0$

즉,  $-n \leq x \leq n$ 이므로 함수  $f(x)$ 의 정의역은  $\{x | -n \leq x \leq n\}$ 이다.

$-n < x < n$ 일 때

$f(x) = (x+n)\sqrt{n^2-x^2}$ 에서

$$\begin{aligned}
f'(x) &= \sqrt{n^2-x^2} + (x+n) \times \frac{-2x}{2\sqrt{n^2-x^2}} \\
&= \frac{2(n^2-x^2) - 2x(x+n)}{2\sqrt{n^2-x^2}} \\
&= \frac{-4x^2 - 2nx + 2n^2}{2\sqrt{n^2-x^2}} \\
&= \frac{-(2x^2 + nx - n^2)}{\sqrt{n^2-x^2}} \\
&= \frac{-(x+n)(2x-n)}{\sqrt{n^2-x^2}}
\end{aligned}$$

$$f'(x) = 0 \text{에서 } x = \frac{n}{2}$$

함수  $f(x)$ 의 증가와 감소를 표로 나타내면 다음과 같다.

|         |      |            |               |            |     |
|---------|------|------------|---------------|------------|-----|
| $x$     | $-n$ | $\dots$    | $\frac{n}{2}$ | $\dots$    | $n$ |
| $f'(x)$ |      | +          | 0             | -          |     |
| $f(x)$  |      | $\nearrow$ | 극대            | $\searrow$ |     |

함수  $f(x)$ 는  $x = \frac{n}{2}$ 에서 극대이면서 최대이다.

즉, 함수  $f(x)$ 의 최댓값은

$$\begin{aligned}
f\left(\frac{n}{2}\right) &= \left(\frac{n}{2} + n\right) \sqrt{n^2 - \left(\frac{n}{2}\right)^2} \\
&= \frac{3}{2}n \times \sqrt{\frac{3}{4}n^2} \\
&= \frac{3}{2}n \times \frac{\sqrt{3}}{2}n \\
&= \frac{3\sqrt{3}}{4}n^2
\end{aligned}$$

따라서  $g(n) = \frac{3\sqrt{3}}{4}n^2$ 이므로

$$\begin{aligned}
\lim_{n \rightarrow \infty} \frac{\{g(n)\}^2}{(n^2 + 2018)^2} &= \lim_{n \rightarrow \infty} \frac{\left(\frac{3\sqrt{3}}{4}n^2\right)^2}{(n^2 + 2018)^2} \\
&= \lim_{n \rightarrow \infty} \frac{\left(\frac{3\sqrt{3}}{4}\right)^2}{\left(1 + \frac{2018}{n^2}\right)^2} \\
&= \frac{\left(\frac{3\sqrt{3}}{4}\right)^2}{(1+0)^2} \\
&= \left(\frac{3\sqrt{3}}{4}\right)^2 \\
&= \frac{27}{16}
\end{aligned}$$

따라서  $p = 16$ ,  $q = 27$ 이므로

$$p + q = 16 + 27 = 43$$

236) ③

[해설]

$f(x) = e^x - e^2x + k$ 라 하면

$$f'(x) = e^x - e^2$$

$$f'(x) = 0 \text{에서 } x = 2$$

함수  $f(x)$ 의 증가와 감소를 표로 나타내면 다음과 같다.

|         |            |    |            |
|---------|------------|----|------------|
| $x$     | $\dots$    | 2  | $\dots$    |
| $f'(x)$ | -          | 0  | +          |
| $f(x)$  | $\searrow$ | 극소 | $\nearrow$ |

함수  $f(x)$ 는  $x = 2$ 에서 극소이면서 최소이다.

즉, 함수  $f(x)$ 는  $x = 2$ 에서 최솟값

$$f(2) = e^2 - 2e^2 + k = -e^2 + k \text{를 갖는다.}$$

따라서 모든 실수  $x$ 에 대하여  $f(x) \geq 0$ 이 성립하려면  $-e^2 + k \geq 0$ 이어야 한다.

즉,  $k \geq e^2$ 이므로 실수  $k$ 의 최솟값은  $e^2$ 이다.

237) ①

[해설]

$$\ln x = \frac{1}{3}x - n + 6 \text{이라 하면}$$

$$f'(x) = \frac{1}{x} - \frac{1}{3} = 0 \text{에서 } x = 3$$

함수  $f(x)$ 의 증가와 감소를 표로 나타내면 다음과 같다.

|         |     |            |    |            |
|---------|-----|------------|----|------------|
| $x$     | (0) | $\dots$    | 3  | $\dots$    |
| $f'(x)$ |     | +          | 0  | -          |
| $f(x)$  |     | $\nearrow$ | 극대 | $\searrow$ |

함수  $f(x)$ 는  $x = 3$ 에서 극댓값


$$f(3) = \ln 3 - 1 + n - 6 = n - 7 + \ln 3 \text{을 가지고,}$$

$\lim_{x \rightarrow 0^+} f(x) = -\infty$ ,  $\lim_{x \rightarrow \infty} f(x) = -\infty$ 이고,  $x > 3$ 일 때

$f'(x) < 0$ 이므로 함수  $f(x)$ 는 감소한다.

함수  $y = f(x)$ 의 그래프가  $x > 0$ 에서  $x$ 축과 서로 다른 두 점에

서 만나도록 하려면  $n - 7 + \ln 3 > 0$ , 즉  $n > 7 - \ln 3$ 이어야  
 한다.  
 따라서 10 이하의 자연수  $n$ 의 값은 6, 7, 8, 9, 10이므로 구하는  
 모든  $n$ 의 값의 합은  
 $6 + 7 + 8 + 9 + 10 = 40$   
 {참고}  
 $e \approx 2.7$ 이므로  
 $1 = \ln e < \ln 3 < \ln e^2 = 2$ 가 되어  $5 < 7 - \ln 3 < 6$ 이 성립한다.



INSTITUTE OF MATHEMATICS