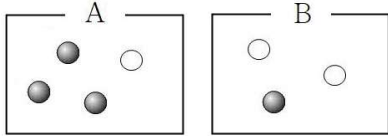


2018학년도 RISE 모의고사

수학 가형 4월 정답표

| | | | | | | | | | | | | | | | | | | | | | | | | | | | | | | | | | | | | | | | | | | | | | | | | | |
|---|---|---|---|---|---|---|---|----|----|----|----|----|----|----|----|----|----|----|----|----|----|----|----|----|----|----|----|----|----|----|---|----|----|----|----|----|---|----|---|----|----|----|---|----|----|----|----|----|----|
| 1 | 2 | 3 | 4 | 5 | 6 | 7 | 8 | 9 | 10 | 11 | 12 | 13 | 14 | 15 | 16 | 17 | 18 | 19 | 20 | 21 | 22 | 23 | 24 | 25 | 26 | 27 | 28 | 29 | 30 | | | | | | | | | | | | | | | | | | | | |
| 6 | 5 | 7 | 4 | 8 | 1 | 9 | 4 | 10 | 3 | 11 | 2 | 12 | 2 | 13 | 2 | 14 | 5 | 15 | 3 | 16 | 4 | 17 | 4 | 18 | 5 | 19 | 3 | 20 | 3 | 21 | 4 | 22 | 15 | 23 | 20 | 24 | 8 | 25 | 6 | 26 | 82 | 27 | 9 | 28 | 79 | 29 | 72 | 30 | 10 |

14. 답 : ⑤



문제에서 구하는 상황은

“참가자가 사회자가 선택한 ‘상자’를 맞출 확률”이다.

참가자가 상자 A로 정답을 맞출 확률은

사회자가 상자 A에서 빨간 공을 꺼내고, 동시에 참가자가 상자 A를 선택해야 하므로

$$\frac{{}_3C_1}{{}_4C_1} \times \frac{{}_1C_1}{{}_2C_1}$$

참가자가 상자 B로 정답을 맞출 확률은

사회자가 상자 B에서 흰 공을 꺼내고, 동시에 참가자가 상자 B를 선택해야 하므로

$$\frac{{}_2C_1}{{}_3C_1} \times \frac{{}_1C_1}{{}_2C_1}$$

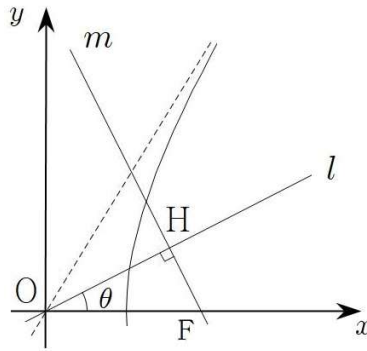
두 경우는 서로 다른 사건이므로 구하는 확률은

$$\frac{3}{4} \times \frac{1}{2} + \frac{2}{3} \times \frac{1}{2} = \frac{3}{8} + \frac{1}{3} = \frac{17}{24}$$

18. 답 : ⑤

쌍곡선의 방정식이 $\frac{x^2}{9} - \frac{y^2}{b^2} = 1$ 이므로

편의상 제1사분면의 그래프를 그려내면 아래와 같은 상황이 된다.



두 직선 l, m의 교점을 H, 각 FOH의 크기를 θ 라 하면

문제의 조건에서 $\overline{OH} = 2\sqrt{5}$

$$\overline{OF} = c$$

$$\therefore \cos\theta = \frac{2\sqrt{5}}{c}$$

이때 쌍곡선의 방정식에서 $9 + b^2 = c^2$ 이고

제1사분면에서의 점근선의 방정식이 $y = \frac{b}{3}x$

$$\therefore \tan 2\theta = \frac{b}{3}$$

따라서 삼각함수의 덧셈정리에 의해

$$\cos 2\theta = \frac{40}{c^2} - 1 \text{ 이고}$$

$$1 + \tan^2 2\theta = \sec^2 2\theta \text{로부터}$$

$$\sec^2 2\theta = 1 + \frac{b^2}{9} = \frac{9 + b^2}{9} = \frac{c^2}{9}$$

$$\therefore \frac{3}{c} = \frac{40}{c^2} - 1 \quad (\because c > 0)$$

$$\therefore c = 5, b = 4$$

구하는 답은 9

21. 답 : ④

$g(x)$ 의 식을 정리하기 위해 $x-t=s$ 라 두면 치환적분법에 의해

$$\begin{aligned} g(x) &= \int_x^{x+1} te^{-t} f(x-t) dt \\ &= \int_{-1}^0 (x-s)e^{-(x-s)} f(s) ds \\ &= xe^{-x} \int_{-1}^0 e^s f(s) ds - e^{-x} \int_{-1}^0 se^s f(s) ds \end{aligned}$$

부분적분법에 의해

$$\begin{aligned} \int_{-1}^0 e^s f(s) ds &= [e^s f(s)]_{-1}^0 - \int_{-1}^0 e^s f'(s) ds \\ \int_{-1}^0 \{se^s \times f(s)\} ds &= [(s-1)e^s f(s)]_{-1}^0 - \int_{-1}^0 (s-1)e^s f'(s) ds \end{aligned}$$

조건 (가)에서 $f(0) = f(-1) = 0$ 이고

조건 (나)에서

$$\int_{-1}^0 e^s f'(s) ds = -e, \quad \int_{-1}^0 se^s f'(s) ds = -e$$

이므로

$$g(x) = xe^{-x+1} \text{ 이다.}$$

함수 $h(x) = \frac{g(x)}{x-k}$ 가 $x < k$ 에서 극값을 갖지 않으므로

$$\begin{aligned} h'(x) &= \frac{(e^{-x+1} - xe^{-x+1})(x-k) - xe^{-x+1}}{(x-k)^2} \\ &= \frac{(-x^2 + kx - k)e^{-x+1}}{(x-k)^2} \end{aligned} \text{ 이고}$$

$e^{-x+1} > 0$ 에서

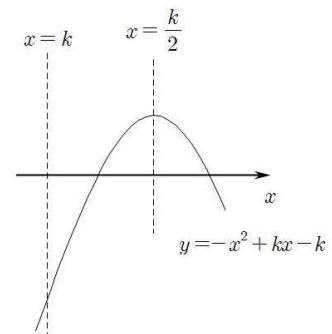
$-x^2 + kx - k = 0$ 인 x 가 $x < k$ 에서 존재하지 않으면 된다.

따라서 두 가지 상황이 존재하게 된다.

(i) $D = k^2 - 4k \leq 0$ 일 때

x 의 범위에 관계 없이 항상 $h'(x) < 0$ 이므로 $0 \leq k \leq 4$

(ii) $D = k^2 - 4k > 0$ 일 때



따라서 $h'(x)=0$ 인 x 가 $x < k$ 에서 존재하지 않기 위한 k 의 범위는

$$k < \frac{k}{2}, -k^2 + k \times k - k \leq 0 \text{에서}$$

$k < 0, k \geq 0$ 이므로
모순.

따라서 (i)에서의 $0 \leq k \leq 4$ 가 문제의 상황을 모두 만족시키는 실수 k 의 범위이고

이때 k 의 최댓값은 4

26. 답 : 82

아이템 강화를 위해 사용하는 돌 A의 개수를 a , B의 개수를 b , C의 개수를 c 라 하면

구하는 경우의 수는

$$a+b+c=18 \quad (0 \leq a, b, c \leq 10)$$

인 정수 순서쌍 (a, b, c) 의 개수이다.

따라서 여사건을 활용하기 위해 전체 사건을 $a+b+c=18$ ($a \geq 0, b \geq 0, c \geq 0$) 이라 하고, 이 경우에서 적어도 한 종류의 돌을 11개 이상 쓰는 경우의 수를 빼주면 된다.

전체 경우의 수는 ${}_3H_{18} = {}_{20}C_2 = 190$ 이고

두 종류 이상의 돌을 11개 이상 쓸 순 없으므로

한 종류의 돌을 11개 이상 쓰는 경우의 수를 구하려면, 예를 들어 a 를 11개 이상 쓴다면 $b+c \leq 7$ ($b \geq 0, c \geq 0$)인

정수 순서쌍 (b, c) 의 개수를 구하면 된다.

이때 $b+c+d=7$ ($b \geq 0, c \geq 0, d \geq 0$)이라 두면 d 의 값에 따라 $b+c \leq 7$ 인 모든 경우가 존재하므로

$b+c \leq 7$ ($b \geq 0, c \geq 0$)인

정수 순서쌍 (b, c) 의 개수는

$${}_3H_7 = {}_9C_2 = 36 \text{ 이고}$$

11개 이상 쓸 돌을 구하는 경우의 수가 ${}_3C_1$

이므로

구하는 전체 경우의 수는

$$190 - 3 \times 36 = 82 \text{ 이다.}$$

29. 답 : 72

점 P에서 x 축에 내린 수선의 발을 H이라 하면, 조건 (가)에서

$$\overrightarrow{AP} \cdot \overrightarrow{AB} = (\overrightarrow{AH} + \overrightarrow{HP}) \cdot \overrightarrow{AB} \text{ 이고}$$

$\overrightarrow{HP} \perp \overrightarrow{AB}$ 이므로

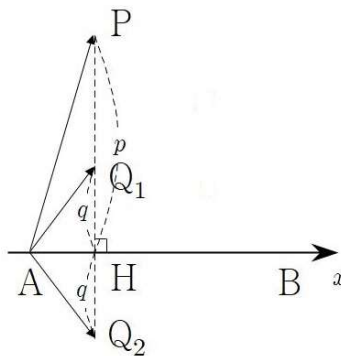
$$\overrightarrow{AP} \cdot \overrightarrow{AB} = 4, |\overrightarrow{AB}| = 4 \text{에서 } H(2, 0) \text{이다.}$$

이때 조건 (가)에서

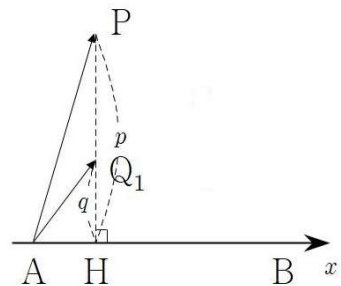
$$\overrightarrow{AP} \cdot \overrightarrow{AB} = \overrightarrow{AQ} \cdot \overrightarrow{AB} = 4 \text{ 이므로}$$

점 Q에서 x 축에 내린 수선의 발 또한 H이다.

따라서 아래의 두 가지 상황이 존재한다.



(i) $Q = Q_1$ 일 때



문제에서 서로 다른 세 점 P, Q, R이라 했으므로 조건 (나)에서 피타고라스의 정리에 의해 $0 \leq q < p \leq 2$ 이고

조건 (다)에서

$$\overrightarrow{BQ_1} = \frac{1}{3}\overrightarrow{BA} + \frac{1}{3}\overrightarrow{BR} + \frac{1}{3}\overrightarrow{BP}$$

$$\begin{aligned} \overrightarrow{BR} &= 3\overrightarrow{BQ_1} - \overrightarrow{BP} - \overrightarrow{BA} \\ &= \overrightarrow{BQ_1} + \overrightarrow{AQ_1} + \overrightarrow{PQ_1} \text{ 이므로} \end{aligned}$$

$$\begin{aligned} |\overrightarrow{BR}|^2 &= |\overrightarrow{BQ_1}|^2 + |\overrightarrow{AQ_1}|^2 + |\overrightarrow{PQ_1}|^2 \\ &+ 2\overrightarrow{BQ_1} \cdot \overrightarrow{AQ_1} + 2\overrightarrow{AQ_1} \cdot \overrightarrow{PQ_1} + 2\overrightarrow{PQ_1} \cdot \overrightarrow{BQ_1} \end{aligned}$$

에서

$$\overrightarrow{BQ_1} \cdot \overrightarrow{AQ_1} = (\overrightarrow{BH} + \overrightarrow{HQ_1}) \cdot (\overrightarrow{AH} + \overrightarrow{HQ_1})$$

$$\overrightarrow{AQ_1} \cdot \overrightarrow{PQ_1} = (\overrightarrow{AH} + \overrightarrow{HQ_1}) \cdot \overrightarrow{PQ_1}$$

$$\overrightarrow{PQ_1} \cdot \overrightarrow{BQ_1} = \overrightarrow{PQ_1} \cdot (\overrightarrow{BH} + \overrightarrow{HQ_1}) \text{ 이므로}$$

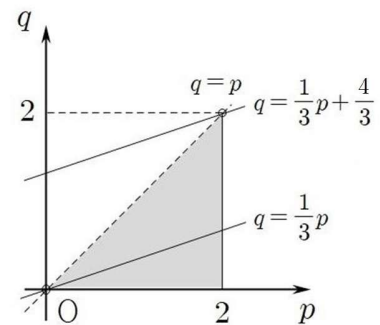
$$\begin{aligned} |\overrightarrow{BR}|^2 &= (9+q^2) + (1+q^2) + (p-q)^2 \\ &+ 2 \times \{1 \times 3 \times (-1) + q^2\} + 2 \times q \times (p-q) \times (-1) \\ &+ 2 \times (p-q) \times q \times (-1) \\ &= (p-3q)^2 + 4 \text{ 이다.} \end{aligned}$$

이때 $0 \leq q < p \leq 2$ 이므로

$$p-3q=k \text{라 하면 } q = \frac{1}{3}p - \frac{1}{3}k \text{에서 구하는}$$

상황은 k^2 의 최대와 최소이므로

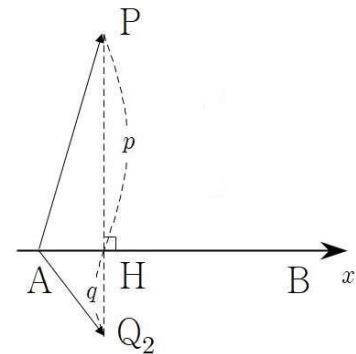
아래와 같은 부등식의 영역에서 (실선은 포함, 점선은 제외)



k^2 의 최댓값은 없고,

최솟값은 $p=3q \neq 0$ 일 때 0이다.

(ii) $Q = Q_2$ 일 때



문제에서 서로 다른 세 점 P, Q, R이라 했으므로 조건 (나)에서 피타고라스의 정리에 의해 $0 \leq q \leq p \leq 2$ 이고

조건 (다)에서

$$\overrightarrow{BQ_2} = \frac{1}{3}\overrightarrow{BA} + \frac{1}{3}\overrightarrow{BR} + \frac{1}{3}\overrightarrow{BP}$$

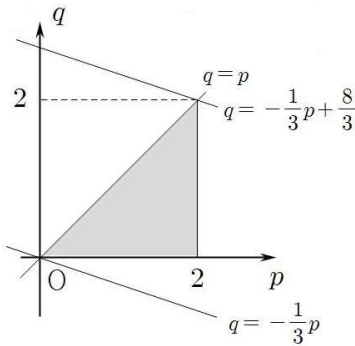
$$\begin{aligned} \overrightarrow{BR} &= 3\overrightarrow{BQ_2} - \overrightarrow{BP} - \overrightarrow{BA} \\ &= \overrightarrow{BQ_2} + \overrightarrow{AQ_2} + \overrightarrow{PQ_2} \text{ 이므로} \end{aligned}$$

$$\begin{aligned} |\overrightarrow{BR}|^2 &= |\overrightarrow{BQ_2}|^2 + |\overrightarrow{AQ_2}|^2 + |\overrightarrow{PQ_2}|^2 \\ &+ 2\overrightarrow{BQ_2} \cdot \overrightarrow{AQ_2} + 2\overrightarrow{AQ_2} \cdot \overrightarrow{PQ_2} + 2\overrightarrow{PQ_2} \cdot \overrightarrow{BQ_2} \end{aligned}$$

에서

$$\begin{aligned} \overline{BQ_2} \cdot \overline{AQ_2} &= (\overline{BH} + \overline{HQ_2}) \cdot (\overline{AH} + \overline{HQ_2}) \\ \overline{AQ_2} \cdot \overline{PQ_2} &= (\overline{AH} + \overline{HQ_2}) \cdot \overline{PQ_2} \\ \overline{PQ_2} \cdot \overline{BQ_2} &= \overline{PQ_2} \cdot (\overline{BH} + \overline{HQ_2}) \text{ 이므로} \\ |\overline{BR}|^2 &= (9+q^2) + (1+q^2) + (p+q)^2 \\ &+ 2 \times (1 \times 3 + 1 + q^2) + 2 \times q \times (p+q) \times 1 \\ &+ 2 \times (p+q) \times q \times 1 \\ &= (p+3q)^2 + 4 \text{ 이다.} \end{aligned}$$

이때 $0 \leq q \leq p \leq 2$ 이므로
 $p+3q=k$ 라 하면 $q = -\frac{1}{3}p + \frac{1}{3}k$ 에서
 구하는 상황은 k^2 의 최대와 최소이므로
 아래와 같은 부등식의 영역에서
 (실선은 포함)



k^2 의 최댓값은 $p=q=2$ 일 때 64,
 최솟값은 $p=q=0$ 일 때 0이지만 이때 그림
 에서 $P=Q=H$ 이므로 서로 다른 세 점이랴
 는 조건에 모순이다.

따라서 구하는 $|\overline{BR}|^2$ 의 최댓값은
 (ii)에서 68, 최솟값은 (i)에서 4이다.

$$\therefore M+m=72$$

30. 답 : 10

조건 (나)를 통해 사차함수 $f(x)$ 를 구하자.

문제에서 $f(0)=1$,
 조건 (가)에서 $f(1)=0$ 이므로

$$\begin{aligned} \lim_{x \rightarrow 0} \frac{f(x+1) \ln f(x)}{x^2} \\ &= \lim_{x \rightarrow 0} \frac{f(x+1)}{x} \times \frac{\ln f(x)}{x} \\ &= \lim_{x \rightarrow 0} \frac{f(x+1)-f(1)}{(x+1)-1} \times \frac{\ln\{1+f(x)-1\}}{f(x)-1} \\ &\quad \times \frac{f(x)-f(0)}{x-0} \text{ 에서} \end{aligned}$$

$f(x)$ 는 실수 전체에서 미분가능하고
 $f(0)=1$ 에서 $\lim_{x \rightarrow 0} f(x) = 1$ 이므로

$$\begin{aligned} \lim_{x \rightarrow 0} \frac{f(x+1)-f(1)}{(x+1)-1}, \lim_{x \rightarrow 0} \frac{\ln\{1+f(x)-1\}}{f(x)-1}, \\ \lim_{x \rightarrow 0} \frac{f(x)-f(0)}{x-0} \text{ 모두 수렴한다.} \end{aligned}$$

따라서

$$\lim_{x \rightarrow 0} \frac{f(x+1) \ln f(x)}{x^2} = f'(1) \times 1 \times f'(0) = 0$$

이고
 조건 (가)에서 $f'(0) = -1$ 이므로
 $f'(1) = 0$ 이다.

최고차항의 계수가 k 인 사차함수 $f(x)$ 를
 $f(x) = (x-1)^2(kx^2+lx+m)$ 이라 하면
 $f(0)=1, f'(0) = -1$ 에서
 $l=1, m=1$
 $\therefore f(x) = (x-1)^2(kx^2+x+1)$ 이다.

따라서 $g(x) = (kx^2+x+1)e^{-x}$ 이다.

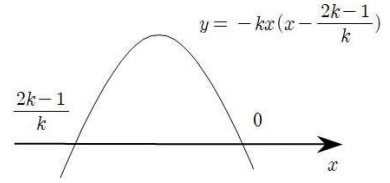
조건 (다)에서
 구간 $[a, \infty)$ 에 속하는 모든 실수 x 에 대하여
 $g(x) \leq g(0)$ 이 성립하려면
 $x \geq a$ 에서 함수 $f(x)$ 의 최댓값이 $g(0)$ 이어야
 하고
 최대, 최소의 정리에 의해
 함수 $g(x)$ 의 최댓값은 구간의 끝값 또는 극
 대이어야 하는데
 조건에서 $a < 0$ 이므로
 $g(0)$ 은 최댓값이자 극댓값이다.

따라서 $g(x)$ 가 $x=0$ 에서 극댓값을 가져야
 하므로

$$g'(x) = -kx(x - \frac{2k-1}{k})e^{-x} \text{에서 } k \text{는 양수,}$$

$$g'(x) = 0 \text{인 } x \text{값은 } 0 \text{ 또는 } \frac{2k-1}{k} \text{ 이므로}$$

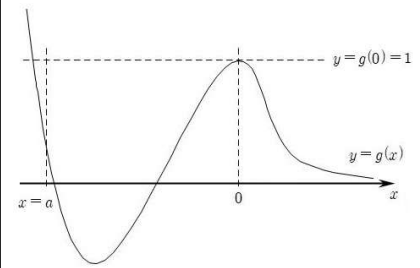
그림과 같은 상황이어야 $g(x)$ 가 $x=0$ 에서
 극대이다.



따라서 $\frac{2k-1}{k} < 0$ 에서 $0 < k < \frac{1}{2}$ 이다.

$\lim_{x \rightarrow \infty} g(x) = 0$ 에서

함수 $y=g(x)$ 의 그래프는 아래와 같다.
 (아래 그래프에서 극솟값과 0과의 대소 관계
 는 문제의 상황에 영향을 주지 않는다.)



따라서 $x \geq a$ 에서 함수 $y=g(x)$ 의 최댓값이
 $g(0)$ 이기 위한 a 가 최소일 때는
 $g(a) = 1$ 일 때이다.

이때 $(ka^2+a+1)e^{-a} = 1$ 에서

$$k = \frac{e^a - a - 1}{a^2} \text{ 이고}$$

이때의 a 값이 $a = h(k)$ 이므로

$$h^{-1}(a) = k$$

$$\therefore h^{-1}(a) = \frac{e^a - a - 1}{a^2} = F(a) \text{라 하면}$$

$F(h(k)) = k$ 에서 역함수의 미분법에 의해
 $F'(h(k)) \times h'(k) = 1$

$$\begin{aligned} F'(a) &= \frac{(e^a - 1)a^2 - (e^a - a - 1) \times 2a}{a^4} \\ &= \frac{(a-2)e^a + a + 2}{a^3} \end{aligned}$$

$$\therefore h'(k) = \frac{1}{F'(h(k))} \text{에서}$$

$$a = -1 \text{일 때 } k = \frac{e^{-1} - (-1) - 1}{(-1)^2} = \frac{1}{e} \text{ 이고}$$

$$h'(\frac{1}{e}) = \frac{1}{F'(-1)} = \frac{-1}{(-3)e^{-1} + 1} \text{ 이므로}$$

$$\frac{1}{h'(\frac{1}{e})} = \frac{3}{e} - 1 \text{에서 } p=3, q=-1$$

따라서 구하는 값은 10 이다.