

제 4교시

사회탐구 영역 (동아시아사)

성명 수험번호

- 문제지 전체 면수가 맞는지 확인하십시오.
- 본 시험지는 2018 개정 세계사 교육과정이 반영되었습니다.
- 본 시험의 저작권은 늘잠이에게 있으며 무단 복사 및 배포는 엄정히 금지됩니다.

1. (가)에 들어갈 사진으로 적절한 것은?

동아시아 청동기 문화 특별전

> 1전시관 < > 2전시관 <

(가)

- 홍강 유역에서 발달한 청동기 문화 체험하기

- 만주와 한반도 일대에서 발달한 청동기 문화 체험하기

장소: ○○ 박물관 기획 전시관
기간: 2020년 △△월 △△일 ~ □□월 □□일



2. 밑줄 친 '황제'에 대한 내용으로 옳은 것은?

변경 지역을 흉노가 계속 위협하자 황제는 장군 위청과 광거병을 보내 이를 토벌하도록 하였다. 한편, 흉노와 접하고 있는 월지와 협력하기 위해 장건을 파견하여 친선을 도모하고자 하고, 안정적인 외교 관계 위에 흉노보다 우위에 서는 형세를 만들었다.

- ① 반랑국을 멸망시켰다.
- ② 황건적의 난을 진압하였다.
- ③ 화폐와 도량형을 통일하였다.
- ④ 남월과 고조선을 정복하였다.
- ⑤ 호경에서 튀양으로 천도하였다.

3. (가), (나) 사이 시기에 동아시아에서 있었던 사실로 옳은 것은?

(가) 나카노오에 황자가 후지와라노 가마타리와 함께 소가씨 일파를 살해하고 정변을 일으켰다. 소가씨의 전횡에 염증을 느낀 나카노오에 황자는 체제를 개혁하기 위해 최초로 연호를 선포하고 오키미 중심으로 정치를 쇄신하였다.

(나) 계필하력이 군사를 이끌고 평양성 바깥에 당도하자 곧이어 당나라 장수 이세적이 연남생 이하 항복한 고구려군 부대와 함께 평양성에 주둔하였다. 여기에 신라군이 합세하여 한 달이 넘도록 포위하니 보장왕이 성 밖으로 나와 항복하였다.

- ① 을지문덕이 우중문의 군대를 격퇴하였다.
- ② 쇼토쿠 태자가 헌법 17개조를 반포하였다.
- ③ 나·당 연합군이 백제 부흥군을 진압하였다.
- ④ 구품중정제를 대신하여 과거제가 시행되었다.
- ⑤ 연개소문이 정변을 일으켜 대막리지에 올랐다.

4. 밑줄 친 '명령'을 선포한 인물에 대한 설명으로 옳은 것은? [3점]

천하 모든 백성의 칼을 모두 몰수하여 대불의 못을 만드는 데 사용하라. 현세에서는 칼로 인해 싸움에 이르러 목숨을 잃는 것을 구하기 위해 내세에서는 못으로 사용하여 만민에게 이익이 되기 위해, 현세와 내세의 이치로 처리하기 위함이니, 멸렬을 하달하도록 하라. 곳곳에서 벌어지는 반란을 수습하고, 호코지 대불전을 건립하는 데 노력을 다하여 성세를 이룩하도록 하라.

- ① 태합 검지를 실시하였다.
- ② 오년의 난을 진압하였다.
- ③ 전국에 고구분지를 세웠다.
- ④ 무로마치 막부를 개창하였다.
- ⑤ 한산도 전투에서 승리하였다.

5. (가) 국가에 대한 설명으로 옳은 것은? [3점]

“형뻐 되는 (가) 황제는 아우 고려국 왕에게 이 편지를 보낸다. 우리 할아버지 때부터 한쪽 지방에 끼여 있으면서 거란을 대국이라 하고 고려를 부모의 나라라 하여 조심스럽게 섬겨 왔는데 거란이 오만하게도 우리의 영토를 유린하고 우리 인민을 노예로 생각했으며 번번이 까닭 없는 군사 행동을 감행하였다. ... 왕은 우리에게 화친을 허락하여 형제의 의를 맺어 영세무궁한 우호 관계를 가지기 바란다.”라고 하면서 좋은 말 한 필을 보냈다.

- 『고려사』 -

- ① 동단국을 수립하였다.
- ② 맹안 모극제를 실시하였다.
- ③ 화변 공주와 혼인을 맺었다.
- ④ 지방에 다루가치를 파견하였다.
- ⑤ 송첸캄포가 부족을 통일하였다.

6. (가) 인물에 대한 설명으로 옳은 것은? [3점]


이곳은 지금의 교토 근처 히에이 산에 위치한 엔라쿠지입니다. 14세의 나이에 이곳에 입적한 (가) 은/는 당으로 건너가 적산 법화원에 머무르면 당나라의 관습과 풍속, 문화를 사실적으로 기록했습니다.



- ① 인도에서 불경을 가져왔다.
- ② 아미타 신앙을 대중화하였다.
- ③ 쇼토쿠 태자의 스승이 되었다.
- ④ 입당구법순례행기를 저술하였다.
- ⑤ 천황의 유품을 도다이지에 바쳤다.

7. 다음 엽서에서 (가)에 대한 설명으로 옳은 것을 <보기>에서 모두 찾아 고른 것은? [3점]

POSTCARD



OOO에게
친구야 잘 지내니? 난 오늘 유네스코 세계 문화 유산에 등재된 이와미 광산을 다녀왔어. 이곳은 16세기부터 본격적으로 개발됐다고 해. 여기서 채굴된 (가) 은/는 회취법이 도입됨으로써 생산량이 엄청 늘어났대. 그 당시 이곳은 아마 아주 잘 나가는 광업도시였겠지?

<보기>

가. 갑오개혁에서 조선 화폐의 본위로 삼았다.
 나. 징더전(경덕진)에서 생산되어 외국에 수출되었다.
 다. 갈레온 무역을 통해 아메리카로부터 중국에 유입되었다.
 라. 장거정의 개혁을 통해 국가에 정세와 지세로서 납부되었다.

- ① 가, 나 ② 가, 다 ③ 가, 라
- ④ 나, 다 ⑤ 다, 라

8. 밑줄 친 '이 책'이 간행되었을 시기의 동아시아 문화에 대한 설명으로 옳은 것은?

영종은 실제 정치를 실시하는 데 있어 보조로 삼아 교훈을 얻을 교본이 필요하다 여겨 구법당 신료들에게 이 책을 편찬하라고 명하였다. 주나라 위열왕이 진나라 삼경을 제후로 인정한 시점부터 오대 십국 시대 후주 때까지의 역사를 묶어 1년씩 정리하여 편년체로 편찬한 것이다. 중국 16개조의 역사를 다루었으며 모두 16기 264권으로 이루어져 있다.

- ① 일본 - 해체신서가 간행되었다.
- ② 일본 - 선종 사찰이 건립되었다.
- ③ 중국 - 이백과 두보가 한시를 썼다.
- ④ 한국 - 장시에서 판소리가 공연되었다.
- ⑤ 한국 - 불교 설화가 삼국유사에 수록되었다.

9. (가), (나) 주장이 제기된 시점 사이에 동아시아 각국에서 일어난 사실로 옳은 것은? [3점]

(가) 신이 직접 시장에 나가 조사한 바에 따르면 모두 말하길 근래 각종 화물의 판로가 모두 시들어서 몇십 년 전에 약 1만 금씩 거래되던 상품이 지금은 단지 그 절반만이 남아있을 뿐이었습니다. 그럼 그 나머지 절반은 어떤 상품으로 거래되었는지 물었더니 한마디로 말해 아편뿐이라고 합니다.

(나) 우리가 이미 강화했으므로 거절할 말이 없고 거절할 수 없어서 내버려두면 배물이나 비단과 부녀자들을 빼앗고 겁취하는 등의 일을 마음대로 할 것입니다. ... 또한 저들은 얼굴만 사람이지 조금만 뜻에 맞지 않으면 거리낌 없이 사람을 죽이고 짓밟을 것입니다.

- ① 한국 - 단발령이 선포되었다.
- ② 한국 - 신유박해가 발생하였다.
- ③ 일본 - 시모노세키 조약을 체결하였다.
- ④ 중국 - 북양함대와 북건함대를 창설하였다.
- ⑤ 중국 - 외국 군대의 베이징에 주둔이 허용되었다.

10. (가) 막부의 통치 제도에 대한 설명으로 옳은 것은?

(가) 막부의 무역 상황에 대해 함께 토론해보자.

다이묘나 상인들에게 주인장을 발급해서 무역을 진흥시켰어.

일본인 상인들이 동남아시아로 진출해서 일본정이 형성됐지.



- ① 폐번치현을 단행하였다.
- ② 에도(도쿄)로 천도하였다.
- ③ 슈고와 지토를 파견하였다.
- ④ 탄정대가 관리를 감찰하였다.
- ⑤ 산킨고타이 제도를 시행하였다.

11. 밑줄 친 ‘이 시기’에 동아시아 각국의 경제 상황에 대한 설명으로 옳은 것은?



이곳은 후쿠오카 현에 위치한 다자이후 텐만구이다. 다자이후는 이 시기에 규슈 일대를 다스리기 위한 일종의 군사령부였다. 일반적으로 전쟁에서 패해 좌천된 인사가 이곳으로 옮겨 왔다.

- ① 일본 - 감합 무역을 실시하였다.
- ② 중국 - 창장강 상류가 개발되었다.
- ③ 중국 - 상인조합인 행이 조직되었다.
- ④ 한국 - 벽란도에서 인삼을 수출하였다.
- ⑤ 한국 - 창원과 덕원에 포구가 발달하였다.

12. (가), (나) 조약에 대한 설명으로 옳은 것을 <보기>에서 찾아 모두 고른 것은? [3점]

(가) 제5조 러시아 제국은 일본해, 오후츠크해, 베링해의 러시아령 연안과 그 어업권을 일본 제국에 양도한다.

(나) 제3조 대일본 제국 정부는 대한 제국 황실을 확실한 친선과 우의로 안전하고 편하게 한다.
제4조 제3국의 침해나 내란으로 중대한 위협이 있을 경우에는...대일본 제국 정부는 전항의 목적을 성취하고자 군사 요충지를 이용할 수 있다.

<보기>

가. (가) - 러시아 제국이 연해주를 할양받았다.
나. (가) - 일본이 뤬순과 다렌의 조차권을 획득하였다.
다. (나) - 메가타가 재정 고문으로 임명되었다.
라. (나) - 이토 히로부미를 한일 친선 대사로 파견하였다.

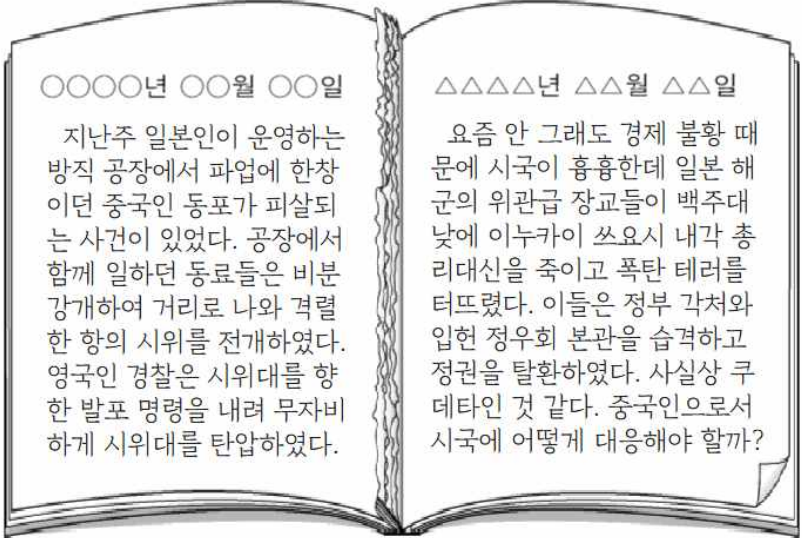
- ① 가, 나 ② 가, 다 ③ 가, 라
- ④ 나, 다 ⑤ 나, 라

13. 밑줄 친 ‘정부’에 대한 설명으로 옳은 것은?

친애하는 동포 여러분! 이전 몇 차례 이루어진 거대한 위세를 보여 준 시위 활동 이후 오늘 우리는 텐안먼 광장에서 단식 투쟁을 진행하기로 결정하였습니다. 단식의 원인은, 첫째, 정부가 학생의 동맹 휴학에 대해 아주 무관심하고 냉담한 태도를 취한 것에 항의하기 위해서입니다. 둘째, 정부가 줄곧 이번의 학생 민주 애국 운동에 대해 동란이란 모자를 씌우면서 일련의 왜곡 보도를 하는 데 항의하기 위해서입니다.

- ① 남순 강화를 실행하였다.
- ② 미국과 국교를 정상화하였다.
- ③ 중화민국 임시약법을 제정하였다.
- ④ 경제 개발 5개년 계획을 실천하였다.
- ⑤ 홍위병이 전통 문화 유산을 파괴하였다.

14. 다음 가상 일기장의 찢어진 부분에 해당하는 사실로 적절한 것은? [3점]

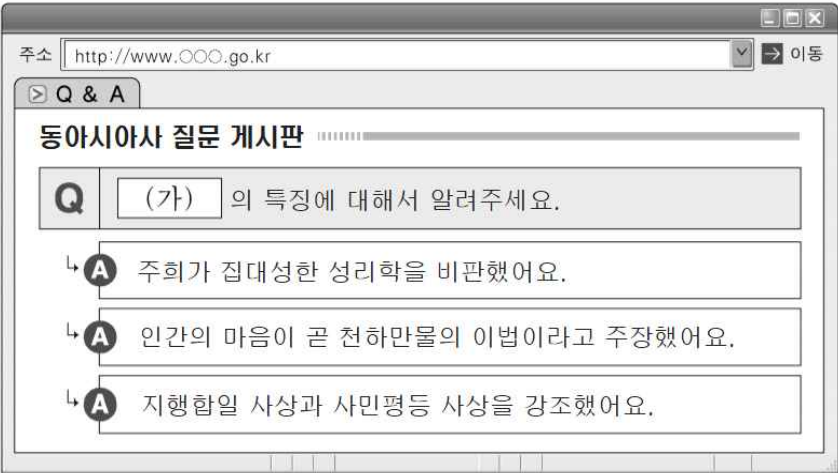


OOOO년 OO월 OO일
지난주 일본인이 운영하는 방직 공장에서 파업에 한창이던 중국인 동포가 피살되는 사건이 있었다. 공장에서 함께 일하던 동료들은 비분강개하여 거리로 나와 격렬한 항의 시위를 전개하였다. 영국인 경찰은 시위대를 향한 발포 명령을 내려 무자비하게 시위대를 탄압하였다.

△△△△년 △△월 △△일
요즘 안 그래도 경제 불황 때문에 시국이 흉흉한데 일본 해군의 위관급 장교들이 백주대낮에 이누카이 쓰요시 내각 총리대신을 죽이고 폭탄 테러를 터뜨렸다. 이들은 정부 각처와 입헌 정우회 본관을 습격하고 정권을 탈환하였다. 사실상 쿠데타인 것 같다. 중국인으로서 시국에 어떻게 대응해야 할까?

- ① 일본에 워싱턴 체제가 수립되었다.
- ② 중국 국민당이 조선 의용대를 공인하였다.
- ③ 도쿄와 요코하마를 연결하는 철도가 개통되었다.
- ④ 대한민국임시정부 중앙 청사가 충칭으로 이동하였다.
- ⑤ 일본이 만주를 병참 기지로 만들고 푸이를 옹립하였다.

15. (가) 사상이 창시된 시대에 대한 설명으로 옳은 것을 <보기>에서 찾아 모두 고른 것은? [3점]



주소 http://www.OOO.go.kr 이동

Q & A

동아시아사 질문 게시판

Q (가)의 특징에 대해서 알려주세요.

A 주희가 집대성한 성리학을 비판했어요.

A 인간의 마음이 곧 천하만물의 이법이라고 주장했어요.

A 지행합일 사상과 사민평등 사상을 강조했어요.

<보기>

가. 고증학과 공양학이 연구되기 시작하였다.
나. 알탄 칸이 침입하여 베이징을 포위하였다.
다. 서유기와 수호전 같은 통속 소설이 유행하였다.
라. 조선에서 온 연행사에게 선진 기술을 전수하였다.

- ① 가, 나 ② 가, 다 ③ 가, 라
- ④ 나, 다 ⑤ 나, 라

16. 밑줄 친 '담판'이 이루어진 시점을 연표에서 찾아 고른 것은?

회담겸쇄환사가 일본으로 파견되자 조일 간 외교 관계에 관한 담판이 이루어졌다. 일본은 전쟁 이후 단절된 국교를 정상화하고 쓰시마 섬과 왜관이 무역을 재개할 것을 요청하였다. 그리하여 외교 창구를 쓰시마 섬으로 일원화하고 사행무역은 쓰시마 번의 진상과이에 대한 회사의 형식으로 제한하는 조약을 체결하였다. 이 과정에서 조선이 필요로 하는 관아의 물품도 매매되었다.

(가)	(나)	(다)	(라)	(마)	
-----	-----	-----	-----	-----	--

나가시노 전투	사쓰마 번 류큐 침공	인조반정 단행	경신 대기근	네르친스크 조약 체결	대전통편 편찬
---------	-------------	---------	--------	-------------	---------

- ① (가) ② (나) ③ (다)
- ④ (라) ⑤ (마)

17. (가), (나) 도시에 대한 탐구 활동으로 적절한 것은? [3점]

제2조 지금부터 대황제는 ... 대청 연해 지역의 □(가) □, 샤먼, 푸저우, 닝보 및 □(나) □ 등 다섯 항구에 기거하면서 아무런 방해받지 않고 무역 통상에 나설 수 있도록 허용한다.
 제5조 대영의 상민이 □(가) □에서 무역을 할 때에 종래에는 모든 것을 두 행상, 혹은 공행에게 넘겨 떠맡아 처리하게 하였다. 지금 대황제는 앞으로는 이전처럼 종래의 사례에 따르지 않아도 되며 영국 상인 등이 각 항구에 가서 무역을 할 경우 어떤 상인과 교역을 하든 상관없이 모두 자유롭게 할 수 있도록 허용한다.

- ① (가) - 장문휴가 출정하여 기습한 곳을 조사한다.
- ② (가) - 태평천국 운동의 중심지가 된 곳을 검색한다.
- ③ (나) - 북벌 도중에 국민혁명군이 점령한 곳을 살펴본다.
- ④ (나) - 정화의 함대가 해상 원정을 시작한 곳을 알아본다.
- ⑤ (가), (나) - 이자성의 농민군에 의해 정복된 곳을 정리한다.

18. (가) 인물에 대한 설명으로 옳은 것은?

지폐로 보는 동아시아사 인물 카드



일본의 1만 엔 지폐는 지폐 속 인물의 이름을 따 □(가) □라 한다. 그는 난학자들과 교류하며 서양 지식을 공부하였다. 그가 쓴 <탈아론>은 당대 일본의 지식인들에게 많은 영향을 끼치 일본이 동아시아를 이끌어야 한다는 사상을 주입하고 게이오주쿠 대학을 창립하였다.

▲ 1984년 ~ 2023년에 통용된 1만 엔 지폐

- ① 일본 반제 동맹을 결성하였다.
- ② 동양척식주식회사를 설립하였다.
- ③ 이와쿠라 사절단으로 파견되었다.
- ④ 미·일 수호 통상 조약에 서명하였다.
- ⑤ 조선의 개화당 인사들을 지원하였다.

19. (가), (나) 사이에 일어난 사실로 옳은 것은? [3점]

(가) 계엄령이 선포되자 시민들은 도청 앞 광장에 모여서 군부 타도와 독재 정권 타도를 외쳤다. 군부는 도시를 봉쇄하고 언론을 장악하여 거짓 보도를 냈으며 경찰을 무장시켰다. 시민들은 무장 경찰에 대항하기 위해 스스로 무기를 구매 무장하고 시민수습대책위원회를 결성하였다.
 (나) 통일 직후에 막대한 재정이 소모되면서 경제가 안정될 기미가 보이지 않았다. 당시 베트남 공산당의 총비서였던 응우옌 반 린은 제6차 대회에서 사회주의 일당 독재 체제를 유지하는 선에서 경제적 개혁, 개방 정책을 취할 것을 선언하며 경제 부흥을 위한 정책을 시행하였다.

- ① 4·13 호헌 조치를 선포하였다.
- ② 미·일 안보 조약이 개정되었다.
- ③ 중국 신헌법에서 인민공사를 해체시켰다.
- ④ 소련과 중국이 국경 지방에서 충돌하였다.
- ⑤ 일본이 경제협력개발기구(OECD)에 가입하였다.

20. 다음 회의가 개최된 시기의 동아시아 각국의 상황에 대한 설명으로 옳은 것은? [3점]



- ① 중국 - 6·25 전쟁에 중공군을 파견하였다.
- ② 한국 - 남한의 단독 총선거를 실시하였다.
- ③ 일본 - 연합군사령부(GHQ)가 수립되었다.
- ④ 타이완 - 총통 직선제 개헌이 이루어졌다.
- ⑤ 베트남 - 시사 군도를 실효적으로 지배하였다.

*** 확인 사항**

○ 답안지의 해당란에 필요한 내용을 정확히 기입(표기)했는지 확인하십시오.