

04 사인법칙과 코사인법칙

유제

본문 57~63쪽

- 1 ③ 2 12 3 ⑤ 4 ③ 5 ⑤
6 ③ 7 ② 8 8

- 1 삼각형 ABC의 외접원의 반지름의 길이가 1이므로 사인법칙에 의하여

$$\frac{\overline{BC}}{\sin A} = \frac{\overline{CA}}{\sin B} = \frac{\overline{AB}}{\sin C}$$

$$= 2 \times 1$$

$$= 2$$

따라서 $\sin A = \frac{\overline{BC}}{2}$, $\sin B = \frac{\overline{CA}}{2}$, $\sin C = \frac{\overline{AB}}{2}$ 이므로

$$\sin A + \sin B + \sin C = \frac{\overline{BC}}{2} + \frac{\overline{CA}}{2} + \frac{\overline{AB}}{2}$$

$$= \frac{\overline{BC} + \overline{CA} + \overline{AB}}{2}$$

$$= \frac{3}{2}$$

답 ③

- 2 $A + B + C = 180^\circ$ 이므로 조건 (가)에서

$$\sin A \times \sin (180^\circ - A) = \frac{9}{25}$$

$\sin A \times \sin A = \frac{9}{25}$ 이고, $0^\circ < A < 180^\circ$ 이므로

$$\sin A = \frac{3}{5}$$

따라서 조건 (나)에서 삼각형 ABC의 외접원의 반지름의 길이가 10이므로 사인법칙에 의하여

$$\frac{\overline{BC}}{\sin A} = 2 \times 10$$

$$\overline{BC} = 20 \sin A$$

$$= 20 \times \frac{3}{5}$$

$$= 12$$

답 12

- 3 $3\overline{AB}^2 + 3\overline{CA}^2 = 3\overline{BC}^2 + 2 \times \overline{AB} \times \overline{CA}$ 에서
 $\overline{AB}^2 + \overline{CA}^2 - \overline{BC}^2 = \frac{2}{3} \times \overline{AB} \times \overline{CA}$ ㉠

또 $\angle CAB = \theta$ 라 하면 코사인법칙에 의하여
 $\overline{BC}^2 = \overline{AB}^2 + \overline{CA}^2 - 2 \times \overline{AB} \times \overline{CA} \times \cos \theta$

$$2 \times \overline{AB} \times \overline{CA} \times \cos \theta = \overline{AB}^2 + \overline{CA}^2 - \overline{BC}^2 \quad \dots\dots \textcircled{2}$$

㉠, ㉡에서

$$2 \times \overline{AB} \times \overline{CA} \times \cos \theta = \frac{2}{3} \times \overline{AB} \times \overline{CA}$$

이므로 $\cos \theta = \frac{1}{3}$

따라서

$$\sin \theta = \sqrt{1 - \cos^2 \theta}$$

$$= \sqrt{1 - \left(\frac{1}{3}\right)^2}$$

$$= \frac{2\sqrt{2}}{3}$$

이므로

$$\tan (\angle CAB) = \tan \theta$$

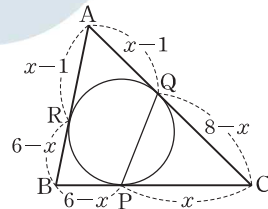
$$= \frac{\sin \theta}{\cos \theta}$$

$$= \frac{\frac{2\sqrt{2}}{3}}{\frac{1}{3}}$$

$$= 2\sqrt{2}$$

답 ⑤

- 4 $\overline{CP} = \overline{CQ}$ 이므로 삼각형 PCQ는 이등변삼각형이다.



$\overline{CP} = x$ 로 놓으면

$$\overline{BP} = 6 - x$$

이때 삼각형 ABC에 내접하는 원이 선분 AB와 만나는 점을 R라 하면

$$\overline{BR} = 6 - x \text{이므로}$$

$$\overline{AR} = 5 - (6 - x)$$

$$= x - 1$$

$$\overline{AQ} = x - 1 \text{이므로}$$

$$\overline{CQ} = 7 - (x - 1)$$

$$= 8 - x$$

$$\overline{CP} = \overline{CQ} \text{에서}$$

$$x = 8 - x$$

$$2x = 8$$



$x=4$

한편 삼각형 ABC에서 코사인법칙에 의하여

$$\overline{AB}^2 = \overline{BC}^2 + \overline{CA}^2 - 2 \times \overline{BC} \times \overline{CA} \times \cos C$$

$$5^2 = 6^2 + 7^2 - 2 \times 6 \times 7 \times \cos C$$

$$\cos C = \frac{6^2 + 7^2 - 5^2}{2 \times 6 \times 7}$$

$$= \frac{5}{7}$$

따라서 삼각형 PCQ에서 코사인법칙에 의하여

$$\overline{PQ}^2 = \overline{CP}^2 + \overline{CQ}^2 - 2 \times \overline{CP} \times \overline{CQ} \times \cos C$$

$$= 4^2 + 4^2 - 2 \times 4 \times 4 \times \frac{5}{7}$$

$$= 16 + 16 - \frac{160}{7}$$

$$= \frac{64}{7}$$

이므로

$$\overline{PQ} = \sqrt{\frac{64}{7}} = \frac{8\sqrt{7}}{7}$$

답 ③

5 $\cos^2(A+B) + (\sin A + \cos B)(\sin A - \cos B)$

$$= \cos^2(180^\circ - C) + (\sin^2 A - \cos^2 B)$$

$$= \cos^2 C + \sin^2 A - \cos^2 B$$

$$= (1 - \sin^2 C) + \sin^2 A - (1 - \sin^2 B)$$

$$= -\sin^2 C + \sin^2 A + \sin^2 B$$

한편 삼각형 ABC의 외접원의 반지름의 길이를 R라 하면 사인법칙에 의하여

$$\sin A = \frac{a}{2R}, \sin B = \frac{b}{2R}, \sin C = \frac{c}{2R} \text{이므로}$$

$$-\left(\frac{c}{2R}\right)^2 + \left(\frac{a}{2R}\right)^2 + \left(\frac{b}{2R}\right)^2 = 0$$

따라서 $a^2 + b^2 = c^2$ 이므로 삼각형 ABC는

$\angle C = 90^\circ$ 인 직각삼각형이다.

답 ⑤

6 코사인법칙에 의하여

$$\cos A = \frac{b^2 + c^2 - a^2}{2bc}$$

$$\cos B = \frac{c^2 + a^2 - b^2}{2ca}$$

이므로

$$a \times \frac{c^2 + a^2 - b^2}{2ca} = b \times \frac{b^2 + c^2 - a^2}{2bc} + c$$

$$\frac{c^2 + a^2 - b^2}{2c} = \frac{b^2 + c^2 - a^2}{2c} + c$$

이 식의 양변에 2c를 곱하면

$$c^2 + a^2 - b^2 = b^2 + c^2 - a^2 + 2c^2$$

이 식을 정리하면

$$a^2 = b^2 + c^2$$

따라서 삼각형 ABC는 $\angle A = 90^\circ$ 인 직각삼각형이다.

답 ③

7 삼각형 ABC에서 $A+B+C=180^\circ$ 이므로

$$\sin(B+C) = \sin(180^\circ - A)$$

$$= \sin A$$

$$\text{즉, } \sin A = \frac{1}{3}$$

따라서 삼각형 ABC의 넓이는

$$\frac{1}{2} \times \overline{AB} \times \overline{AC} \times \sin A = \frac{1}{2} \times 6 \times 9 \times \frac{1}{3}$$

$$= 9$$

답 ②

8 등변사다리꼴 ABCD에서 $\overline{AC} = \overline{BD}$ 이므로

조건 (나)에서 사각형 ABCD의 넓이는

$$\frac{1}{2} \times \overline{AC} \times \overline{BD} \times \sin 60^\circ = \frac{1}{2} \times \overline{AC} \times \overline{AC} \times \frac{\sqrt{3}}{2}$$

$$= \frac{\sqrt{3}}{4} \times \overline{AC}^2$$

조건 (가)에서

$$\frac{\sqrt{3}}{4} \times \overline{AC}^2 = 16\sqrt{3}$$

따라서 $\overline{AC}^2 = 64$ 이므로

$$\overline{AC} = 8$$

답 8

Level 1

기초 연습

본문 64~65쪽

1 ⑤ 2 ① 3 ⑤ 4 3 5 ②

6 ③ 7 ④ 8 61

1 삼각형 ABC의 외접원의 반지름의 길이를 R라 하면

$$\pi R^2 = 3\pi \text{에서}$$

$$R = \sqrt{3}$$

$\angle BCA = \theta$ 라 하면 사인법칙에 의하여

$$\frac{\overline{AB}}{\sin \theta} = 2 \times \sqrt{3}$$

$$\text{즉, } \sin \theta = \frac{3}{2\sqrt{3}} = \frac{\sqrt{3}}{2}$$

답 ⑤

2 삼각형 ABC에서

$$\cos B = \frac{\sqrt{15}}{4} \text{이므로}$$

$$\sin B = \sqrt{1 - \left(\frac{\sqrt{15}}{4}\right)^2}$$

$$= \frac{1}{4}$$

$$\cos C = \frac{2\sqrt{2}}{3} \text{이므로}$$

$$\sin C = \sqrt{1 - \left(\frac{2\sqrt{2}}{3}\right)^2}$$

$$= \frac{1}{3}$$

따라서 사인법칙에 의하여 $\frac{\overline{AC}}{\sin B} = \frac{\overline{AB}}{\sin C}$ 이므로

$$\frac{\overline{AC}}{\frac{1}{4}} = \frac{8}{\frac{1}{3}} \text{에서}$$

$$4 \times \overline{AC} = 24$$

$$\text{즉, } \overline{AC} = 6$$

답 ①

3 삼각형 ABC에서 $A = 120^\circ$, $B = 15^\circ$ 이므로

$$C = 180^\circ - (120^\circ + 15^\circ)$$

$$= 45^\circ$$

삼각형 ABC의 외접원의 반지름의 길이를 R 라 하면

사인법칙에 의하여

$$\frac{\overline{AB}}{\sin C} = 2R$$

$$\frac{6}{\sin 45^\circ} = 2R$$

$$6\sqrt{2} = 2R$$

$$R = 3\sqrt{2}$$

따라서 삼각형 ABC의 외접원의 넓이는

$$\pi \times (3\sqrt{2})^2 = 18\pi$$

답 ⑤

4 점 P가 삼각형 OAB의 외접원의 중심이므로

이 원의 반지름의 길이는 \overline{OP} 이다.

또 직선 $y = \sqrt{3}x$ 가 x 축의 양의 방향과 이루는 예각의 크기가 60° 이므로

$$\angle BOA = 30^\circ$$

이때 사인법칙에 의하여

$$\frac{\overline{AB}}{\sin(\angle BOA)} = 2 \times \overline{OP}$$

$$\text{따라서 } \frac{3}{\frac{1}{2}} = 2 \times \overline{OP} \text{에서}$$

$$\overline{OP} = 3$$

답 3

5 선분 CA의 길이가 최대이므로

$$\angle B = \theta$$

양수 k 에 대하여 $\overline{AB} = 3k$, $\overline{BC} = 4k$, $\overline{CA} = 6k$ 라 하면

코사인법칙에 의하여

$$\overline{CA}^2 = \overline{AB}^2 + \overline{BC}^2 - 2 \times \overline{AB} \times \overline{BC} \times \cos \theta$$

$$(6k)^2 = (3k)^2 + (4k)^2 - 2 \times 3k \times 4k \times \cos \theta$$

따라서

$$\cos \theta = \frac{(3k)^2 + (4k)^2 - (6k)^2}{2 \times 3k \times 4k}$$

$$= \frac{-11k^2}{24k^2}$$

$$= -\frac{11}{24}$$

답 ②

6 삼각형 PQR에서 코사인법칙에 의하여

$$\overline{PR}^2 = \overline{PQ}^2 + \overline{QR}^2 - 2 \times \overline{PQ} \times \overline{QR} \times \cos(\angle PQR)$$

$$= 3^2 + 4^2 - 2 \times 3 \times 4 \times \frac{1}{2}$$

$$= 13$$

이므로

$$\overline{PR} = \sqrt{13}$$

이때 원 C의 반지름의 길이를 R 라 하면

사인법칙에 의하여

$$\frac{\overline{PR}}{\sin(\angle PQR)} = 2R$$

$$\frac{\sqrt{13}}{\frac{\sqrt{3}}{2}} = 2R \text{에서}$$

$$R = \frac{\sqrt{13}}{\sqrt{3}}$$

따라서 원 C의 넓이는



$$\pi \times \left(\frac{\sqrt{13}}{\sqrt{3}}\right)^2 = \frac{13}{3}\pi$$

답 ③

7 $\frac{\sin A}{5} = \frac{\sin B}{6} = \frac{\sin C}{7}$ 에서

$$\sin A : \sin B : \sin C = 5 : 6 : 7$$

또 삼각형 ABC의 외접원의 반지름의 길이를 R라 하면 사인법칙에 의하여

$$\sin A = \frac{a}{2R}, \sin B = \frac{b}{2R}, \sin C = \frac{c}{2R} \text{ 이므로}$$

$$a : b : c = \sin A : \sin B : \sin C = 5 : 6 : 7$$

이때 양수 k에 대하여 $a=5k, b=6k, c=7k$ 로 놓으면 코사인법칙에 의하여

$$a^2 = b^2 + c^2 - 2bc \cos A \text{ 이므로}$$

$$(5k)^2 = (6k)^2 + (7k)^2 - 2 \times 6k \times 7k \times \cos A$$

$$\cos A = \frac{(6k)^2 + (7k)^2 - (5k)^2}{2 \times 6k \times 7k}$$

$$= \frac{60k^2}{84k^2}$$

$$= \frac{5}{7}$$

따라서

$$\sin A = \sqrt{1 - \cos^2 A}$$

$$= \sqrt{1 - \left(\frac{5}{7}\right)^2}$$

$$= \frac{2\sqrt{6}}{7}$$

이므로

$$\tan A = \frac{\sin A}{\cos A} = \frac{\frac{2\sqrt{6}}{7}}{\frac{5}{7}}$$

$$= \frac{2\sqrt{6}}{5}$$

답 ④

8 삼각형 ABC의 넓이는

$$\frac{1}{2} \times \overline{AB} \times \overline{BC} \times \sin(\angle ABC)$$

$$= \frac{1}{2} \times 4 \times \overline{BC} \times \frac{\sqrt{3}}{2}$$

$$= \sqrt{3} \times \overline{BC}$$

이므로

$$\sqrt{3} \times \overline{BC} = 5\sqrt{3} \text{에서}$$

$$\overline{BC} = 5$$

따라서 코사인법칙에 의하여

$$\overline{AC}^2 = \overline{AB}^2 + \overline{BC}^2 - 2 \times \overline{AB} \times \overline{BC} \times \cos(\angle ABC)$$

$$= 4^2 + 5^2 - 2 \times 4 \times 5 \times \left(-\frac{1}{2}\right)$$

$$= 16 + 25 + 20$$

$$= 61$$

답 61

Level 2 기본 연습

본문 66~67쪽

1 32 2 ④ 3 ④ 4 103 5 ⑤

6 8 7 ⑤ 8 ③

1 삼각형 POQ에서 $\angle POQ = 45^\circ$ 이므로 삼각형 POQ의 외접원의 반지름의 길이를 R라 하면 사인법칙에 의하여

$$\frac{\overline{PQ}}{\sin(\angle POQ)} = 2R$$

$$\frac{4}{\frac{\sqrt{2}}{2}} = 2R \text{에서}$$

$$R = 2\sqrt{2}$$

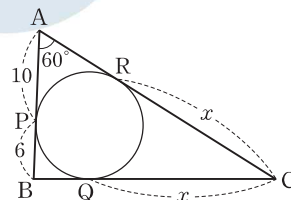
즉, 두 점 P, Q의 위치에 상관없이 삼각형 POQ의 외접원의 반지름의 길이는 $2\sqrt{2}$ 로 일정하다.

따라서 반지름의 길이가 $2\sqrt{2}$ 인 원에 내접하는 삼각형의 한 변의 길이의 최댓값은 지름의 길이와 같으므로 선분 OP의 길이의 최댓값은 $4\sqrt{2}$ 이다.

$$\text{즉, } M^2 = (4\sqrt{2})^2 = 32$$

답 32

2 삼각형 ABC에 내접하는 원이 선분 BC와 만나는 점을 Q, 선분 CA와 만나는 점을 R라 하자.



$$\overline{CQ} = \overline{CR} = x \text{라 하면}$$

$$\overline{AP} = 16 \times \frac{5}{8} = 10,$$

$$\overline{BP} = 16 \times \frac{3}{8} = 6$$

이므로

$$\overline{BC} = 6 + x, \overline{AC} = 10 + x$$

이때 코사인법칙에 의하여

$$\overline{BC}^2 = \overline{AB}^2 + \overline{AC}^2 - 2 \times \overline{AB} \times \overline{AC} \times \cos 60^\circ$$

$$(6+x)^2 = 16^2 + (10+x)^2 - 2 \times 16 \times (10+x) \times \frac{1}{2}$$

$$36 + 12x + x^2 = 256 + 100 + 20x + x^2 - 160 - 16x$$

$$8x = 160$$

따라서 $x = 20$ 이므로

$$\overline{BC} = 6 + 20$$

$$= 26$$

답 ④

- 3** 삼각형 ABC의 외접원의 반지름의 길이를 R라 하면 사인법칙에 의하여

$$\frac{\overline{BC}}{\sin A} = \frac{\overline{CA}}{\sin B} = 2R$$

이므로

$$\overline{BC} = 2R \sin A$$

$$\overline{CA} = 2R \sin B$$

삼각형 ABC의 넓이는

$$\frac{1}{2} \times \overline{BC} \times \overline{CA} \times \sin C$$

$$= \frac{1}{2} \times 2R \sin A \times 2R \sin B \times \sin C$$

$$= 2R^2 \sin A \times \sin B \times \sin C$$

따라서 삼각형 ABC의 넓이가 $8\sqrt{3}$ 이고, 외접원의 반지름의 길이가 4이므로

$$8\sqrt{3} = 2 \times 4^2 \times \sin A \times \sin B \times \sin C \text{에서}$$

$$\sin A \times \sin B \times \sin C = \frac{\sqrt{3}}{4}$$

답 ④

- 4** 삼각형 ABC에서 코사인법칙에 의하여

$$\overline{BC}^2 = \overline{AB}^2 + \overline{CA}^2 - 2 \times \overline{AB} \times \overline{CA} \times \cos A$$

$$7^2 = 6^2 + 3^2 - 2 \times 6 \times 3 \times \cos A \text{에서}$$

$$\cos A = -\frac{1}{9}$$

이때

$$\sin^2 A = 1 - \cos^2 A$$

$$= 1 - \left(-\frac{1}{9}\right)^2$$

$$= \frac{80}{81}$$

이고, $0^\circ < A < 180^\circ$ 이므로

$$\sin A = \frac{4\sqrt{5}}{9}$$

따라서 삼각형 ABC의 외접원의 반지름의 길이를 R라 하면 사인법칙에 의하여

$$\frac{\overline{BC}}{\sin A} = 2R \text{이므로}$$

$$2R = \frac{7}{\frac{4\sqrt{5}}{9}}$$

$$= \frac{63}{4\sqrt{5}} = \frac{63\sqrt{5}}{20}$$

$$R = \frac{63\sqrt{5}}{40}$$

즉,

$$p + q = 40 + 63$$

$$= 103$$

답 103

- 5** 호의 길이의 비가 2 : 7 : 3이므로 중심각의 크기의 비가 2 : 7 : 3이고, 원주각의 크기의 비도 2 : 7 : 3이다.

즉,

$$\angle BCA = 180^\circ \times \frac{2}{12}$$

$$= 30^\circ$$

$$\angle CAB = 180^\circ \times \frac{7}{12}$$

$$= 105^\circ$$

$$\angle ABC = 180^\circ \times \frac{3}{12}$$

$$= 45^\circ$$

따라서 사인법칙에 의하여

$$\frac{\overline{AB}}{\sin(\angle BCA)} = \frac{\overline{AC}}{\sin(\angle ABC)}$$

이므로

$$\frac{\overline{AB}}{\sin 30^\circ} = \frac{5\sqrt{2}}{\sin 45^\circ}$$

$$\text{즉, } \frac{\overline{AB}}{\frac{1}{2}} = \frac{5\sqrt{2}}{\frac{\sqrt{2}}{2}} \text{에서}$$

$$\overline{AB} = 5$$

답 ⑤



- 6 (i) 삼각형 ABC의 외접원의 반지름의 길이를 R 라 하면

사인법칙에 의하여 $\frac{AB}{2R} = \sin C$ 이므로

삼각형 ABC의 넓이는

$$\frac{1}{2} \times \overline{BC} \times \overline{CA} \times \sin C$$

$$= \frac{1}{2} \times \overline{BC} \times \overline{CA} \times \frac{\overline{AB}}{2R}$$

$$= \frac{\overline{AB} \times \overline{BC} \times \overline{CA}}{4R}$$

조건 (가)에서

$$\frac{35}{4R} = \frac{5\sqrt{3}}{2}$$

$$4R = \frac{70}{5\sqrt{3}}$$

$$= \frac{14\sqrt{3}}{3}$$

$$\text{즉, } R = \frac{7\sqrt{3}}{6}$$

- (ii) 삼각형 ABC의 내접원의 반지름의 길이를 r 라 하고, 내접원의 중심을 O 라 하면 삼각형 ABC의 넓이는 세 삼각형 OAB, OBC, OCA의 넓이의 합과 같다.

즉, 삼각형 ABC의 넓이는

$$\frac{1}{2} \times \overline{AB} \times r + \frac{1}{2} \times \overline{BC} \times r + \frac{1}{2} \times \overline{CA} \times r$$

$$= r \times \frac{\overline{AB} + \overline{BC} + \overline{CA}}{2}$$

조건 (나)에서

$$r \times \frac{10}{2} = \frac{5\sqrt{3}}{2}$$

$$\text{즉, } r = \frac{\sqrt{3}}{2}$$

- (i), (ii)에서

$$R + r = \frac{7\sqrt{3}}{6} + \frac{\sqrt{3}}{2} = \frac{5\sqrt{3}}{3} \text{이므로}$$

$$p + q = 3 + 5 = 8$$

답 8

- 7 길이가 각각 5, 9인 두 변 사이의 끼인 각의 크기를 θ 라 하면

$$S = \frac{1}{2} \times 5 \times 9 \times \sin \theta$$

$$= \frac{45}{2} \sin \theta$$

이때 $0 < \sin \theta \leq 1$ 이므로

$$0 < S \leq \frac{45}{2}$$

따라서 자연수 S 의 값은

1, 2, 3, ..., 22

이고, 그 개수는 22이다.

답 ⑤

- 8 삼각형 ABC에서 코사인법칙에 의하여

$$\overline{AC}^2 = \overline{AB}^2 + \overline{BC}^2 - 2 \times \overline{AB} \times \overline{BC} \times \cos 120^\circ$$

$$= 7^2 + 8^2 - 2 \times 7 \times 8 \times \left(-\frac{1}{2}\right)$$

$$= 49 + 64 + 56$$

$$= 169$$

이므로

$$\overline{AC} = 13$$

이때 삼각형 ACD에서 $\angle CDA = \theta$ 라 하면

코사인법칙에 의하여

$$\overline{AC}^2 = \overline{CD}^2 + \overline{DA}^2 - 2 \times \overline{CD} \times \overline{DA} \times \cos \theta$$

$$13^2 = 9^2 + 11^2 - 2 \times 9 \times 11 \times \cos \theta \text{에서}$$

$$\cos \theta = \frac{9^2 + 11^2 - 13^2}{2 \times 9 \times 11}$$

$$= \frac{1}{6}$$

이므로

$$\sin \theta = \sqrt{1 - \cos^2 \theta}$$

$$= \sqrt{1 - \left(\frac{1}{6}\right)^2}$$

$$= \frac{\sqrt{35}}{6}$$

따라서 사각형 ABCD의 넓이는 두 삼각형 ABC, ACD의 넓이의 합과 같으므로

$$\frac{1}{2} \times \overline{AB} \times \overline{BC} \times \sin 120^\circ + \frac{1}{2} \times \overline{CD} \times \overline{DA} \times \sin \theta$$

$$= \frac{1}{2} \times 7 \times 8 \times \frac{\sqrt{3}}{2} + \frac{1}{2} \times 9 \times 11 \times \frac{\sqrt{35}}{6}$$

$$= 14\sqrt{3} + \frac{33}{4}\sqrt{35}$$

즉,

$$p - q = 14 - \frac{33}{4}$$

$$= \frac{23}{4}$$

답 ③

Level 3 실력 완성

본문 68쪽

1 305 2 8 3 ①

1 두 원 C_2, C_3 의 반지름의 길이를 각각 a, b 라 하면

$$\overline{O_1O_2} = 10 + a$$

$$\overline{O_2O_3} = a + b$$

$$\overline{O_3O_1} = b + 10$$

삼각형 $O_1O_2O_3$ 이 직각삼각형이므로

$$\overline{O_1O_2}^2 + \overline{O_2O_3}^2 = \overline{O_3O_1}^2$$

$$(10+a)^2 + (a+b)^2 = (b+10)^2$$

$$100 + 20a + a^2 + a^2 + 2ab + b^2 = b^2 + 20b + 100$$

$$2a^2 + 20a + 2ab = 20b$$

$$a^2 + 10a + ab = 10b \quad \dots\dots \textcircled{1}$$

또 삼각형 $O_1O_2O_3$ 의 넓이가

$$\frac{1}{2} \times \overline{O_1O_2} \times \overline{O_2O_3} = \frac{1}{2} \times (10+a) \times (a+b)$$

이고, 삼각형 $O_1O_2O_3$ 의 넓이가 30이므로

$$\frac{1}{2} \times (10+a) \times (a+b) = 30$$

정리하면

$$a^2 + 10a + ab = 60 - 10b \quad \dots\dots \textcircled{2}$$

①, ②에서

$$10b = 60 - 10b \text{이므로}$$

$$20b = 60$$

$$b = 3$$

①에 $b = 3$ 을 대입하면

$$a^2 + 10a + 3a = 30$$

$$a^2 + 13a - 30 = 0$$

$$(a+15)(a-2) = 0$$

$$a = -15 \text{ 또는 } a = 2$$

$a > 0$ 이므로

$$a = 2$$

한편 삼각형 $O_1O_2O_3$ 에서 $\angle O_3O_1O_2 = \theta$ 라 하면

$$\cos \theta = \frac{\overline{O_1O_2}}{\overline{O_3O_1}}$$

$$= \frac{10+a}{b+10}$$

$$= \frac{12}{13}$$

이므로 삼각형 AO_1O_2 에서 코사인법칙에 의하여

$$\overline{O_2A}^2 = \overline{O_1A}^2 + \overline{O_1O_2}^2 - 2 \times \overline{O_1A} \times \overline{O_1O_2} \times \cos \theta$$

$$= 10^2 + 12^2 - 2 \times 10 \times 12 \times \frac{12}{13}$$

$$= \frac{292}{13}$$

따라서

$$p + q = 13 + \frac{292}{13}$$

$$= 305$$

답 305

2 $\overline{OA} = \overline{OB} = r$ 라 하고, $0 < t < 1$ 인 실수 t 에 대하여

$$\overline{OP} = tr \text{라 하면}$$

$$\overline{AP} = (1-t)r$$

조건 (가)에서

$$\frac{\overline{BQ}}{\overline{OQ}} = \frac{\overline{OP}}{\overline{AP}} \text{이므로}$$

$$\overline{BQ} : \overline{OQ} = \overline{OP} : \overline{AP}$$

$$= t : (1-t)$$

$$\text{즉, } \overline{BQ} = tr, \overline{OQ} = (1-t)r$$

한편 부채꼴 AOB 의 넓이는

$$\frac{1}{2} \times r^2 \times \frac{5\pi}{6} = \frac{5\pi}{12} \times r^2$$

또 삼각형 POQ 의 넓이는

$$\frac{1}{2} \times \overline{OP} \times \overline{OQ} \times \sin 150^\circ = \frac{1}{2} \times tr \times (1-t)r \times \frac{1}{2}$$

$$= \frac{t(1-t)}{4} \times r^2$$

이때 조건 (나)에서

$$\frac{\frac{5\pi}{12} \times r^2}{\frac{t(1-t)}{4} \times r^2} = \frac{125\pi}{18} \text{이므로}$$

$$\frac{5\pi}{3t(1-t)} = \frac{125\pi}{18}$$

이 식을 정리하면

$$25t^2 - 25t + 6 = 0$$

$$(5t-2)(5t-3) = 0$$

$$t = \frac{2}{5} \text{ 또는 } t = \frac{3}{5}$$

$\overline{OP} > \overline{OQ}$ 이므로

$$\frac{\overline{OP}}{\overline{OA}} = t = \frac{3}{5}$$

따라서 $p = 5, q = 3$ 이므로

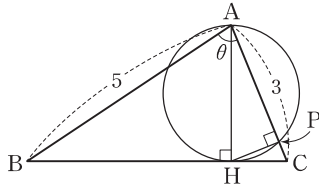
$$p + q = 5 + 3$$

$$= 8$$

답 8



3



삼각형 ABC에서 $\angle CAB = \theta$ 라 하면
 코사인법칙에 의하여

$$\overline{BC}^2 = \overline{AB}^2 + \overline{AC}^2 - 2 \times \overline{AB} \times \overline{AC} \times \cos \theta$$

$$= 5^2 + 3^2 - 2 \times 5 \times 3 \times \frac{1}{5}$$

$$= 25 + 9 - 6$$

$$= 28$$

이므로

$$\overline{BC} = 2\sqrt{7}$$

$$\sin \theta = \sqrt{1 - \cos^2 \theta}$$

$$= \sqrt{1 - \left(\frac{1}{5}\right)^2}$$

$$= \frac{2\sqrt{6}}{5}$$

삼각형 ABC의 넓이는

$$\frac{1}{2} \times \overline{AB} \times \overline{AC} \times \sin \theta = \frac{1}{2} \times 5 \times 3 \times \frac{2\sqrt{6}}{5}$$

$$= 3\sqrt{6}$$
 이때 삼각형 ABC의 넓이는 $\frac{1}{2} \times \overline{BC} \times \overline{AH}$ 이므로

$$\frac{1}{2} \times 2\sqrt{7} \times \overline{AH} = 3\sqrt{6}$$

$$\overline{AH} = \frac{3\sqrt{6}}{\sqrt{7}}$$

따라서 삼각형 AHP에서 $\angle HPA = 90^\circ$ 이므로
 삼각형 AHP와 삼각형 ACH는 서로 닮음이다.
 $\overline{AP} : \overline{AH} = \overline{AH} : \overline{AC}$ 이므로

$$\overline{AP} \times \overline{AC} = \overline{AH}^2$$

$$\overline{AP} \times 3 = \left(\frac{3\sqrt{6}}{\sqrt{7}}\right)^2$$
 따라서

$$\overline{AP} = \frac{1}{3} \times \frac{54}{7}$$

$$= \frac{18}{7}$$

답 ①

05 등차수열과 등비수열

유제

본문 73~79쪽

- | | | | | |
|-----|-------|-----|-----|-----|
| 1 ① | 2 54 | 3 ② | 4 4 | 5 ③ |
| 6 8 | 7 143 | 8 ⑤ | | |

1 등차수열 $\{a_n\}$ 의 공차를 d 라 하자.

$a_1 + a_2 = a_1 + (a_1 + d) = 5$ 에서
 $2a_1 + d = 5$ ㉠
 $a_3 + a_4 + a_5 = 30$ 에서
 a_1 는 a_3 과 a_5 의 등차중항이므로
 $a_3 + a_5 = 2a_4$
 이때

$$a_3 + a_1 + a_5 = 2a_4 + a_1$$

$$= 3a_4 = 30$$

이므로 $a_4 = 10$ 에서
 $a_1 + 3d = 10$ ㉡
 $3 \times \text{㉠} - \text{㉡}$ 을 하면
 $5a_1 = 5$
 $a_1 = 1$

$a_1 = 1$ 을 ㉠에 대입하면
 $2 + d = 5$
 $d = 3$
 따라서 $a_1 = 1, d = 3$ 이므로
 $a_6 = 1 + 5 \times 3$
 $= 16$

답 ①

2 세 수 $1, \log_4 a, 3 \log_2 3$ 은 이 순서대로 등차수열을 이루므로 등차중항의 성질에 의하여

$$2 \log_4 a = 1 + 3 \log_2 3$$

이때

$$(\text{좌변}) = 2 \log_4 a$$

$$= \log_2 a$$

$$(\text{우변}) = 1 + 3 \log_2 3$$

$$= \log_2 2 + \log_2 3^3$$

$$= \log_2 (2 \times 3^3)$$

$$= \log_2 54$$