

2012. 09. 03 모의평가 대비 우수 기출문항자료 (나형)

경희대학교 이과대학 최지훈 (*Shalarla*, 019.406.8265)

* 다음 물음에 답하시오. (정답만 쓰시오, 논술형식으로 쓰지 않아도 좋음. 제한시간 문항당 5분 이내)

1.

두 이차정사각행렬 A, B 가

$$A^2 = A - E, \quad (AB)^2 = E$$

를 만족시킬 때, 옳은 것만을 <보기>에서 있는 대로 고른 것은? (단, E 는 단위행렬이다.) [4점]

<보 기>

ㄱ. A 와 B 는 모두 역행렬을 가진다.

ㄴ. $BAB = -A^2$

ㄷ. $B^2AB^2 = A^2 + B^2$

- ① ㄱ ② ㄷ ③ ㄱ, ㄴ
 ④ ㄴ, ㄷ ⑤ ㄱ, ㄴ, ㄷ

2. 어느 지역에서 1년 동안 발생하는 규모 M 이상인 지진의 평균 발생 횟수 N 은 다음 식을 만족시킨다고 한다.

$$\log N = a - 0.9M \quad (\text{단, } a \text{는 양의 상수})$$

이 지역에서 규모 4 이상인 지진이 1년에 평균 64번 발생할 때, 규모 x 이상인 지진은 1년에 평균 한 번 발생한다. $9x$ 의 값을 구하시오. (단, $\log 2 = 0.3$ 으로 계산한다.)

3. 첫째항이 12 이고 공비가 $\frac{1}{3}$ 인 등비수열 $\{a_n\}$ 에 대하여 수열 $\{b_n\}$ 을 다음 규칙에 따라 정한다.

(가) $b_1 = 1$

(나) $n \geq 1$ 일 때, b_{n+1} 은 점 $P_n(-b_n, b_n^2)$ 을 지나고 기울기가 a_n 인 직선과 곡선 $y = x^2$ 의 교점 중에서 P_n 이 아닌 점의 x 좌표이다.

$\lim_{n \rightarrow \infty} b_n$ 의 값을 구하시오.

4. 두 수열 $\{a_n\}, \{b_n\}$ 의 일반항이 각각

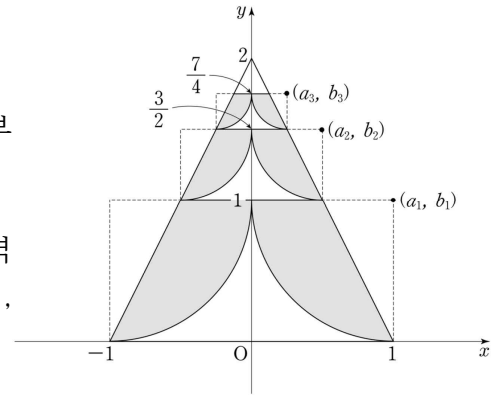
$$a_n = \left(\frac{1}{2}\right)^{n-1}, \quad b_n = \sum_{k=1}^n \left(\frac{1}{2}\right)^{k-1}$$

이다. 좌표평면에서 중심이 (a_n, b_n) 이고 y 축에 접하는 원의 내부

와 연립부등식 $\begin{cases} y \leq b_n \\ 2x + y - 2 \leq 0 \end{cases}$ 이 나타내는

영역의 공통부분을 P_n 이라 하고, y 축에 대하여 P_n 과 대칭인 영역을 Q_n 이라 하자. P_n 의 넓이와 Q_n 의 넓이의 합을 S_n 이라 할 때,

$\sum_{n=1}^{\infty} S_n$ 의 값은?

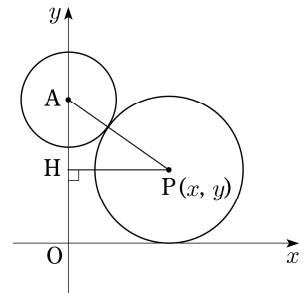


- ① $\frac{5(\pi-1)}{9}$ ② $\frac{11(\pi-1)}{18}$ ③ $\frac{2(\pi-1)}{3}$
- ④ $\frac{13(\pi-1)}{18}$ ⑤ $\frac{7(\pi-1)}{9}$

5. 그림과 같이 중심이 $A(0, 3)$ 이고 반지름의 길이가 1인 원에 외접하고 x 축에 접하는 원의 중심을 $P(x, y)$ 라 하자. 점 P 에서 y 축에 내린 수선의 발을

H 라 할 때, $\lim_{x \rightarrow \infty} \frac{PH^2}{PA}$ 의 값은?

- ① 2 ② 4 ③ 6
- ④ 8 ⑤ 10



6. 다음은 세 변의 길이가 모두 다른 예각삼각형에서 각 변을 같은 길이만큼 짧게 했을 때, 짧아진 세 선분을 각 변으로 하는 직각삼각형이 존재함을 증명한 것이다.

예각삼각형의 세 변의 길이를 a, b, c ($a < b < c$)로 놓으면 $a^2 + b^2 > c^2$ 이다.
 그런데 x 만큼 짧아진 삼각형의 세 변의 길이는 $a - x, b - x, c - x$ 이므로 $0 < x < (가)$ 이다.
 따라서 등식 $(a - x)^2 + (b - x)^2 = (c - x)^2$ 을 만족시키는 실수 x 가 $0 < x < (가)$ 에서 존재함을 보이면 된다.
 $f(x) = (a - x)^2 + (b - x)^2 - (c - x)^2$ 으로 놓으면
 $f(x)$ 는 연속함수이고, $f(0)$ (나) 0, $f(가)$ (다) 0 이므로
 중간값의 정리에 의해 $0 < x < (가)$ 에서 $f(x) = 0$ 인 x 가 존재한다.
 그러므로 짧아진 세 선분을 각 변으로 하는 직각삼각형이 존재한다.

위의 증명에서 (가), (나), (다)에 알맞은 것은?

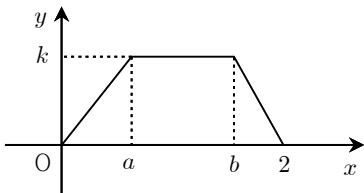
- ① $a + b - c, <, >$
- ② $a + b - c, >, <$
- ③ $a + b + c, <, >$
- ④ $a, <, >$
- ⑤ $a, >, <$

7. $\lim_{n \rightarrow \infty} \sum_{k=1}^n \left(1 + \frac{2k}{n}\right)^3 \frac{1}{n}$ 의 값을 구하시오.

8. 각 면에 1, 1, 1, 2, 2, 3의 숫자가 하나씩 적혀있는 정육면체 모양의 상자를 던져 윗면에 적힌 수를 읽기로 한다. 이 상자를 3번 던질 때, 첫 번째와 두 번째 나온 수의 합이 4이고 세 번째 나온 수가 홀수일 확률은?

- ① $\frac{5}{27}$ ② $\frac{11}{54}$ ③ $\frac{2}{9}$
- ④ $\frac{13}{54}$ ⑤ $\frac{7}{27}$

9. 연속확률변수 X 가 갖는 값의 범위가 $0 \leq X \leq 2$ 이고, 확률밀도함수의 그래프는 다음과 같다.



$P(a \leq X \leq b) = \frac{1}{2}$ 일 때, k 의 값은 $k = \frac{q}{p}$ 이다. $p^2 + q^2$ 의 값을 구하시오. (단, p, q 는 서로소인 자연수이다.)

10. 어느 도시의 학생 2500명을 대상으로 조사한 통학 시간은 정규분포를 따르고 평균이 25분, 표준편차가 5분이라고 한다. 이 2500명의 학생 중 임의로 택한 학생의 통학 시간이 35분 이상일 확률은 p_1 이다. 또, 이 2500명의 학생 중에서 통학 시간이 35분 이상인 학생이 n 명 이상일 확률은 p_2 이다. $p_1 = p_2$ 일 때, 자연수 n 의 값을 구하시오. (단, 오른쪽 표준정규분포표를 이용한다.)

z	$P(0 \leq Z \leq z)$
1.0	0.34
1.5	0.43
2.0	0.48

정 답

1	⑤	2	54	3	19	4	③	5	④
6	②	7	10	8	①	9	25	10	64