

## 제 2 교시

## 수학 영역(가형)

## 5지선다형

1.  $\sqrt[3]{8} \times 4^{\frac{3}{2}}$ 의 값은? [2점]

- ① 1      ② 2      ③ 4      ④ 8      ⑤ 16

2.  $\lim_{n \rightarrow \infty} (\sqrt{9n^2 + 12n} - 3n)$ 의 값은? [2점]

- ① 1      ② 2      ③ 3      ④ 4      ⑤ 5

3. 첫째항이 1이고 공비가 양수인 등비수열  $\{a_n\}$ 에 대하여

$$a_3 = a_2 + 6$$

일 때,  $a_4$ 의 값은? [2점]

- ① 18      ② 21      ③ 24      ④ 27      ⑤ 30

4. 6개의 문자  $a, a, a, b, b, c$ 를 모두 일렬로 나열하는 경우의 수는? [3점]

- ① 52      ② 56      ③ 60      ④ 64      ⑤ 68

# 2

# 수학 영역(가형)

5. 수열  $\{a_n\}$ 에 대하여  $\sum_{n=1}^{\infty} \frac{a_n}{n} = 10$  일 때,  $\lim_{n \rightarrow \infty} \frac{a_n + 2a_n^2 + 3n^2}{a_n^2 + n^2}$ 의

값은? [3점]

$$\lim_{n \rightarrow \infty} \frac{a_n}{n} = 0$$

- ① 3     
  ②  $\frac{7}{2}$      
  ③ 4     
  ④  $\frac{9}{2}$      
  ⑤ 5

6. 두 양수  $a, b$ 에 대하여 좌표평면 위의 두 점  $(2, \log_4 a)$ ,  $(3, \log_2 b)$ 를 지나는 직선이 원점을 지날 때,  $\log_a b$ 의 값은?  
(단,  $a \neq 1$ ) [3점]

- ①  $\frac{1}{4}$      
  ②  $\frac{1}{2}$      
 ③  $\frac{3}{4}$      
  ④ 1     
  ⑤  $\frac{5}{4}$

$$3 \cdot \frac{1}{2} \log_2 a = 2 \log_2 b$$

$$a^3 = b^4 \quad b = a^{\frac{3}{4}}$$

7. 함수

$$f(x) = \lim_{n \rightarrow \infty} \frac{2 \times \left(\frac{x}{4}\right)^{2n+1} - 1}{\left(\frac{x}{4}\right)^{2n} + 3} \quad \left|\frac{x}{4}\right| < 1$$


$$|x| < 4$$

에 대하여  $f(k) = -\frac{1}{3}$ 을 만족시키는 정수  $k$ 의 개수는? [3점]

- ① 5     
 ② 7     
 ③ 9     
 ④ 11     
 ⑤ 13

8. 1학년 학생 2명, 2학년 학생 2명, 3학년 학생 3명이 있다. 이 7명의 학생이 일정한 간격을 두고 원 모양의 탁자에 모두 둘러앉을 때, 1학년 학생끼리 이웃하고 2학년 학생끼리 이웃하게 되는 경우의 수는? (단, 회전하여 일치하는 것은 같은 것으로 본다.) [3점]

- ① 96    ② 100    ③ 104    ④ 108    ⑤ 112



$$5! \times (2!)^2 \times \frac{1}{5}$$

9. 함수

$$f(x) = 2 \log_{\frac{1}{2}}(x+k) \quad \text{값}$$

가 닫힌구간  $[0, 12]$  에서 최댓값  $-4$ , 최솟값  $m$  을 갖는다.  $k+m$  의 값은? (단,  $k$  는 상수이다.) [3점]

- ①  $-1$     ②  $-2$     ③  $-3$     ④  $-4$     ⑤  $-5$

$$f(0) = -2 \log_2 k = -4 \quad k = 4$$

$$f(12) = -2 \log_2 16 = -8 = m$$

10. 실수 전체의 집합에서 연속인 함수  $f(x)$  가 모든 실수  $x$  에 대하여

$$(e^{2x} - 1)^2 f(x) = a - 4 \cos \frac{\pi}{2} x$$

를 만족시킬 때,  $a \times f(0)$  의 값은? (단,  $a$  는 상수이다.) [3점]

- ①  $\frac{\pi^2}{6}$     ②  $\frac{\pi^2}{5}$     ③  $\frac{\pi^2}{4}$     ④  $\frac{\pi^2}{3}$     ⑤  $\frac{\pi^2}{2}$

$$x=0 \text{ 대입 : } 0 = a - 4 \quad a = 4$$

$$f(0) = \lim_{x \rightarrow 0} \frac{4(1 - \cos \frac{\pi}{2} x)}{(e^{2x} - 1)^2} = \frac{\pi^2}{8}$$

11. 실수 전체의 집합에서 미분가능한 함수  $f(x)$ 에 대하여 함수  $g(x)$ 를

$$g(x) = \frac{f(x)}{(e^x + 1)^2}$$

라 하자.  $f'(0) - f(0) = 2$ 일 때,  $g'(0)$ 의 값은? [3점]

- ①  $\frac{1}{4}$     ②  $\frac{3}{8}$     ③  $\frac{1}{2}$     ④  $\frac{5}{8}$     ⑤  $\frac{3}{4}$

$$f(x) = g(x)(e^x + 1)^2, \quad f(0) = 4g(0)$$

$$\begin{aligned} f'(x) &= g'(x)(e^x + 1)^2 + g(x) \cdot 2(e^x + 1)e^x \\ &= 4g'(0) + 4g(0) \end{aligned}$$

$$g'(0) = \frac{1}{2}$$

12. 자연수  $n$ 이  $2 \leq n \leq 11$ 일 때,  $-n^2 + 9n - 18$ 의  $n$ 제곱근 중에서 음의 실수가 존재하도록 하는 모든  $n$ 의 값의 합은?

[3점]

- ① 31    ② 33    ③ 35    ④ 37    ⑤ 39

$$-n^2 + 9n - 18 = -(n-3)(n-6)$$

$n < 3, n > 6$  일때 음수  $\rightarrow n$ 은 홀수여야함.  $n = 9, 11$

$n = 3, 6$  일때 0  $\rightarrow n \times$

$3 < n < 6$  일때 양수  $\rightarrow n$ 은 짝수여야함.  $n = 4$



13. 한 개의 주사위를 두 번 던져서 나오는 눈의 수를 차례로  $a, b$ 라 할 때,  $|a-3|+|b-3|=2$ 이거나  $a=b$ 일 확률은? [3점]

- ①  $\frac{1}{4}$      ②  $\frac{1}{3}$     ③  $\frac{5}{12}$     ④  $\frac{1}{2}$     ⑤  $\frac{7}{12}$

$ a-3 + b-3 =2$	$a$	$b$	
0	2	3	1.5 (2)
1	1	2,4	2.4 (4)
2	0	1,5	3 (2)
$a=b$	1	1	
	3	3	(4)
	5	5	
	6	6	

$\frac{12}{36}$

14.  $0 \leq \theta < 2\pi$ 일 때,  $x$ 에 대한 이차방정식

$$x^2 - (2\sin\theta)x - 3\cos^2\theta - 5\sin\theta + 5 = 0$$

이 실근을 갖도록 하는  $\theta$ 의 최솟값과 최댓값을 각각  $\alpha, \beta$ 라 하자.  $4\beta - 2\alpha$ 의 값은? [4점]

- ①  $3\pi$     ②  $4\pi$     ③  $5\pi$     ④  $6\pi$     ⑤  $7\pi$

$$D/4 = \sin^2\theta - (-3\cos^2\theta - 5\sin\theta + 5)$$

$$= -2\sin^2\theta + 5\sin\theta - 2 \geq 0$$

$$2s^2 - 5s + 2 = (2s-1)(s-2) \leq 0$$



$$\frac{1}{2} \leq \sin\theta \leq 2$$

$$\frac{\pi}{6} \leq \theta \leq \frac{5\pi}{6}$$

"                      "

$\alpha$                        $\beta$

# 6

## 수학 영역(가형)

15. 수열  $\{a_n\}$ 의 일반항은

$$a_n = (2^{2n} - 1) \times 2^{n(n-1)} + (n-1) \times 2^{-n}$$

이다. 다음은 모든 자연수  $n$ 에 대하여

$$\sum_{k=1}^n a_k = 2^{n(n+1)} - (n+1) \times 2^{-n} \dots\dots (*)$$

임을 수학적 귀납법을 이용하여 증명한 것이다.

(i)  $n=1$ 일 때, (좌변)=3, (우변)=3이므로 (\*)이 성립한다.

(ii)  $n=m$ 일 때, (\*)이 성립한다고 가정하면

$$\sum_{k=1}^m a_k = 2^{m(m+1)} - (m+1) \times 2^{-m}$$

이다.  $n=m+1$ 일 때,

$$\sum_{k=1}^{m+1} a_k = 2^{m(m+1)} - (m+1) \times 2^{-m} + (2^{2m+2} - 1) \times \boxed{\text{(가)}} + m \times 2^{-m-1} \quad (= a_{m+1})$$

$$= \boxed{\text{(가)}} \times \boxed{\text{(나)}} - \frac{m+2}{2} \times 2^{-m}$$

$$= 2^{(m+1)(m+2)} - (m+2) \times 2^{-(m+1)}$$

이다. 따라서  $n=m+1$ 일 때도 (\*)이 성립한다.

(i), (ii)에 의하여 모든 자연수  $n$ 에 대하여

$$\sum_{k=1}^n a_k = 2^{n(n+1)} - (n+1) \times 2^{-n}$$

이다.

위의 (가), (나)에 알맞은 식을 각각  $f(m)$ ,  $g(m)$ 이라 할 때,

$\frac{g(7)}{f(3)}$ 의 값은? [4점]  $\frac{2^6}{2^{12}}$

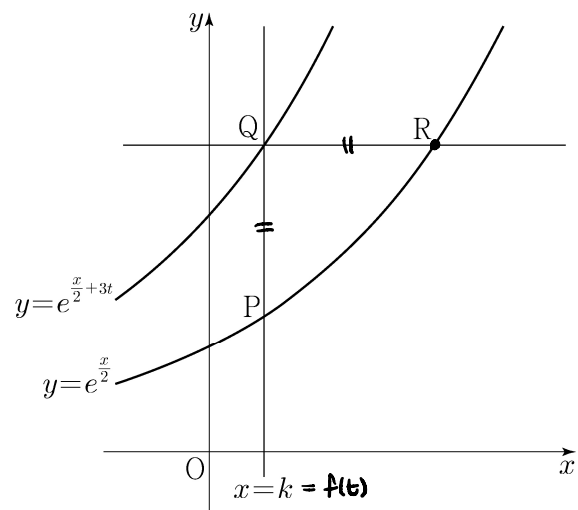
- ① 2      ② 4      ③ 8      ④ 16      ⑤ 32

16. 양수  $t$ 에 대하여 다음 조건을 만족시키는 실수  $k$ 의 값을  $f(t)$ 라 하자.

직선  $x=k$ 와 두 곡선  $y=e^{\frac{x}{2}}$ ,  $y=e^{\frac{x}{2}+3t}$ 이 만나는 점을 각각 P, Q라 하고, 점 Q를 지나고  $y$ 축에 수직인 직선이 곡선  $y=e^{\frac{x}{2}}$ 과 만나는 점을 R라 할 때,  $\overline{PQ} = \overline{QR}$ 이다.

함수  $f(t)$ 에 대하여  $\lim_{t \rightarrow 0^+} f(t)$ 의 값은? [4점]

- ①  $\ln 2$       ②  $\ln 3$       ③  $\ln 4$       ④  $\ln 5$       ⑤  $\ln 6$



$$\overline{PQ} = e^{\frac{k}{2}} (e^{3t} - 1)$$

$R(k + \overline{PQ}, Q \text{의 } y \text{좌표}) = (k + e^{\frac{k}{2}}(e^{3t} - 1), e^{\frac{k}{2} + 3t})$  이  $y = e^{\frac{x}{2}}$  위에 있다.

$$\therefore \ln y = \frac{x}{2} \text{에 대입하면} \quad \frac{k}{2} + 3t = \frac{1}{2}(k + e^{\frac{k}{2}}(e^{3t} - 1))$$

$$3t = \frac{1}{2}e^{\frac{k}{2}}(e^{3t} - 1)$$

$$\left(\frac{6t}{e^{\frac{k}{2}} - 1}\right)^2 = e^k$$


$$k = 2 \ln \left(\frac{6t}{e^{\frac{k}{2}} - 1}\right)$$

$$\lim_{t \rightarrow 0^+} k = 2 \ln 2$$

17. 숫자 1, 2, 3, 4, 5, 6, 7이 하나씩 적혀 있는 7장의 카드가 있다. 이 7장의 카드를 모두 한 번씩 사용하여 일렬로 임의로 나열할 때, 다음 조건을 만족시킬 확률은? [4점]

(가) 4가 적혀 있는 카드의 바로 양옆에는 각각 4보다 큰 수가 적혀 있는 카드가 있다.  
 (나) 5가 적혀 있는 카드의 바로 양옆에는 각각 5보다 작은 수가 적혀 있는 카드가 있다.

- ①  $\frac{1}{28}$      ②  $\frac{1}{14}$     ③  $\frac{3}{28}$     ④  $\frac{1}{7}$     ⑤  $\frac{5}{28}$



i) 4 양옆에 6, 7  
 (6 4 7) (5 -) - 배열 → 3! × 3! × 2  
 ↑ ↑ ↑  
 1, 2, 3 중 하나 배열 (3!)

∴ 12

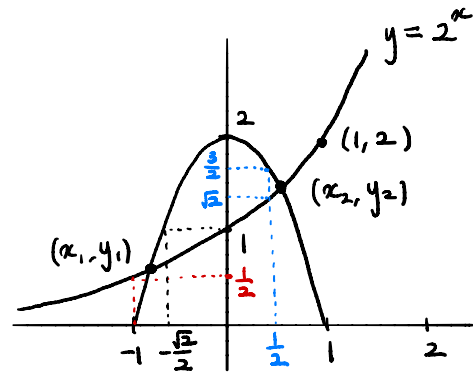
ii) 4 양옆 중 하나에 5  
 (- 4 5 -) - - - 배열 → 4! × 2 × 3 × 2 = 288  
 ↑                    ↑  
 반드시 6 또는 7 → (x2)  
 6, 7은 안됨 → 1, 2, 3 중 하나 배열 (x3)

$$\therefore \frac{360}{7!} = \frac{360}{7 \cdot 6 \cdot 120} = \frac{1}{14}$$

18. 두 곡선  $y=2^x$  과  $y=-2x^2+2$ 가 만나는 두 점을  $(x_1, y_1)$ ,  $(x_2, y_2)$ 라 하자.  $x_1 < x_2$  일 때, <보기>에서 옳은 것만을 있는 대로 고른 것은? [4점]

<보 기>  
 ㄱ.  $x_2 > \frac{1}{2}$   
 ㄴ.  $y_2 - y_1 < x_2 - x_1$   
 ㄷ.  $\frac{\sqrt{2}}{2} < y_1 y_2 < 1$

- ① ㄱ                    ② ㄱ, ㄴ                    ③ ㄱ, ㄷ  
 ④ ㄴ, ㄷ                    ⑤ ㄱ, ㄴ, ㄷ



ㄱ.  $2^{\frac{1}{2}} = \sqrt{2}$  와  $-2(\frac{1}{2})^2 + 2 = 1.5$  중 후자가 더 큼. (참)

ㄴ. ~~옳지 않다~~

$$x_2 + y_1 > \frac{1}{2} + \frac{1}{2} = 1.$$

$$x_1 + y_2 < -\frac{\sqrt{2}}{2} + \frac{3}{2} = 1.5 - 0.707 < 1.$$

∴  $x_1 + y_2 < x_2 + y_1$  이므로  $y_2 - y_1 < x_2 - x_1$  (참)

ㄷ.  $y_1 > \frac{1}{2}$ ,  $y_2 > \sqrt{2}$  이므로  $y_1 y_2 > \frac{\sqrt{2}}{2}$

$$y_1 y_2 = 2^{x_1 + x_2} \text{ 이다.}$$

$$4 = \left(2^{\frac{2}{3}}\right)^3 > \left(-2\left(\frac{2}{3}\right)^2 + 2\right)^3 = \frac{1000}{129} \text{ 이므로 } x_2 < \frac{2}{3}$$

$$x_1 < -\frac{\sqrt{2}}{2} \text{ 이고 } x_2 < \frac{2}{3} \text{ 이므로 } x_1 + x_2 < \frac{2}{3} - \frac{\sqrt{2}}{2} < 0$$

∴  $y_1 y_2 = 2^{x_1 + x_2} < 2^0 = 1$ .  $\frac{\sqrt{2}}{2} < y_1 y_2 < 1$  (참)

19. 두 집합  $A = \{1, 2, 3, 4\}$ ,  $B = \{1, 2, 3\}$ 에 대하여  $A$ 에서  $B$ 로의 모든 함수  $f$  중에서 임의로 하나를 선택할 때, 이 함수가 다음 조건을 만족시킬 확률은? [4점]

$f(1) \geq 2$ 이거나 함수  $f$ 의 치역은  $B$ 이다.

- ①  $\frac{16}{27}$     ②  $\frac{2}{3}$     ③  $\frac{20}{27}$     ④  $\frac{22}{27}$     ⑤  $\frac{8}{9}$

선지가  $\frac{1}{2}$ 보다 확연히 크므로 여사건 이용

$f(1) < 2$  이고  $f$ 의 치역이  $B$ 가 아닌 경우의 수.

$f(1) = 1$ , 치역 원소 2, 3, 4가 대응되는 경우의 수  $3^3$ .

여기서, 치역이  $B$ 가 되는 경우의 수 제외.

(= 2, 3, 4가 공역의 원소 2, 3에 모두 대응되는 경우의 수)

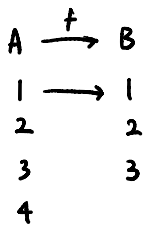
i) 2, 3, 4가 1, 2, 3에 각각 대응  $\rightarrow 3! = 6$

ii) 2, 3, 4가 1에 대응되지 않으면서 2, 3은 모두 치역  $\rightarrow 2^3 - 2 = 6$

$\therefore$  전체 경우의 수는  $3^4$

여사건의 경우의 수는  $3^4 - (3^3 - 12) = 66$

$\therefore \frac{66}{81} = \frac{22}{27}$



20. 그림과 같이  $\overline{AB_1} = 3$ ,  $\overline{AC_1} = 2$ 이고  $\angle B_1AC_1 = \frac{\pi}{3}$ 인

삼각형  $AB_1C_1$ 이 있다.  $\angle B_1AC_1$ 의 이등분선이 선분  $B_1C_1$ 과 만나는 점을  $D_1$ , 세 점  $A, D_1, C_1$ 을 지나는 원이 선분  $AB_1$ 과 만나는 점 중  $A$ 가 아닌 점을  $B_2$ 라 할 때, 두 선분  $B_1B_2$ ,  $B_1D_1$ 과 호  $B_2D_1$ 로 둘러싸인 부분과 선분  $C_1D_1$ 과 호  $C_1D_1$ 로 둘러싸인 부분인  $\triangle$  모양의 도형에 색칠하여 얻은 그림을  $R_1$ 이라 하자.

그림  $R_1$ 에서 점  $B_2$ 를 지나고 직선  $B_1C_1$ 에 평행한 직선이 두 선분  $AD_1$ ,  $AC_1$ 과 만나는 점을 각각  $D_2, C_2$ 라 하자.

세 점  $A, D_2, C_2$ 를 지나는 원이 선분  $AB_2$ 와 만나는 점 중  $A$ 가 아닌 점을  $B_3$ 이라 할 때, 두 선분  $B_2B_3$ ,  $B_2D_2$ 와 호  $B_3D_2$ 로 둘러싸인 부분과 선분  $C_2D_2$ 와 호  $C_2D_2$ 로 둘러싸인 부분인  $\triangle$  모양의 도형에 색칠하여 얻은 그림을  $R_2$ 라 하자.

이와 같은 과정을 계속하여  $n$ 번째 얻은 그림  $R_n$ 에 색칠되어 있는 부분의 넓이를  $S_n$ 이라 할 때,  $\lim_{n \rightarrow \infty} S_n$ 의 값은? [4점]

$\overline{B_1C_1}^2 = 3^2 + 2^2 - 2 \cdot 3 \cdot 2 \cos 60^\circ$   
 $= 7$

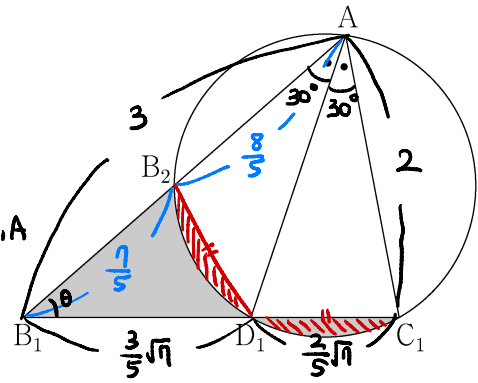
$B_1D_1 : D_1C_1 = 3 : 2$

(각의 이등분선 성질).  $R_1$

$B_1D_1 \times B_1C_1 = B_1B_2 \times B_1A$

$\sqrt{7} \times \frac{3}{5}\sqrt{7} = x \times 3$

$\therefore x = \frac{7}{5}$



원주각이 같으므로

$\overline{B_2D_1} = \overline{D_1C_1}$

$\therefore$  색칠한 넓이는

$\triangle B_1D_1B_2$ 의 넓이와 같다.

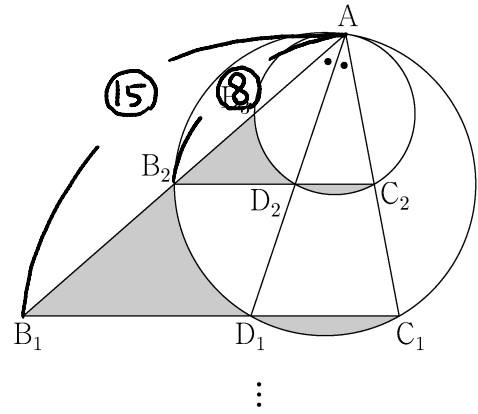
$\cos \theta = \frac{1+7-4}{2 \cdot 3 \cdot \sqrt{7}} = \frac{2}{3\sqrt{7}}$

$\triangle B_1D_1B_2 = \frac{1}{2} \cdot \frac{7}{5} \cdot \frac{3}{5}\sqrt{7} \sin \theta$   
 $= \frac{21}{50}\sqrt{3} = S_1$

앞줄이 15 : 8

뒷줄이 225 : 64.

$\therefore$  공비는  $\frac{64}{225}$   $R_2$



$\therefore \lim S_n$

$= \frac{\frac{21}{50}\sqrt{3}}{1 - \frac{64}{225}} = \frac{21}{46}\sqrt{3}$

①  $\frac{27\sqrt{3}}{46}$

②  $\frac{15\sqrt{3}}{23}$

③  $\frac{33\sqrt{3}}{46}$

④  $\frac{18\sqrt{3}}{23}$

⑤  $\frac{39\sqrt{3}}{46}$

21. 수열  $\{a_n\}$ 의 일반항은

$$a_n = \log_2 \sqrt{\frac{2(n+1)}{n+2}} = \frac{1}{2} \log_2 \frac{2(n+1)}{n+2}$$

이다.  $\sum_{k=1}^m a_k$ 의 값이 100 이하의 자연수가 되도록 하는

모든 자연수  $m$ 의 값의 합은? [4점]

- ① 150    ② 154    ③ 158    ④ 162    ⑤ 166

$$\sum_{k=1}^m a_k = \frac{1}{2} \left( \log_2 \frac{2 \cdot 2}{3} + \log_2 \frac{2 \cdot 3}{4} + \log_2 \frac{2 \cdot 4}{5} + \dots + \log_2 \frac{2(m+1)}{m+2} \right)$$

$$= \frac{1}{2} \log_2 \left( 2^m \times \frac{2}{3} \cdot \frac{3}{4} \cdot \frac{4}{5} \dots \frac{m+1}{m+2} \right)$$

$$= \frac{1}{2} \log_2 \left( \frac{2^{m+1}}{m+2} \right) \text{ 가 100 이하의 자연수라면}$$

$$\log_2 \left( \frac{2^{m+1}}{m+2} \right) = 2n \text{ (짝수). } (n \leq 100 \text{ 인 자연수})$$

$$\frac{2^{m+1}}{m+2} = 2^{2n} \text{ . } m+2 \text{ 가 2의 거듭제곱수여야 하므로}$$

$m$	$\frac{2^{m+1}}{m+2}$	$n$
$2^2 - 2 = 2$	$2^1$	$\frac{1}{2}$ (x)
$2^3 - 2 = 6$	$2^2$	2 (o)
$2^4 - 2 = 14$	$2^3$	$\frac{11}{2}$ (x)
$2^5 - 2 = 30$	$2^4$	13 (o)
$2^6 - 2 = 62$	$2^5$	문 (x)
$2^7 - 2 = 126$	$2^6$	59 (o)

$\therefore 6 + 30 + 126 = 162.$

단답형

22. 다항식  $(1+2x)^4$ 의 전개식에서  $x^2$ 의 계수를 구하시오. [3점]

$$4C_2 \cdot (2x)^2 \quad 24$$

23. 반지름의 길이가 15인 원에 내접하는 삼각형 ABC에서

$\sin B = \frac{7}{10}$  일 때, 선분 AC의 길이를 구하시오. [3점]

$$\frac{b}{\frac{7}{10}} = 30 \quad 21$$

24. 수열  $\{a_n\}$ 은  $a_1=9, a_2=3$ 이고, 모든 자연수  $n$ 에 대하여

$$a_{n+2} = a_{n+1} - a_n$$

을 만족시킨다.  $|a_k|=3$ 을 만족시키는 100 이하의 자연수  $k$ 의 개수를 구하시오. [3점]

$\{a_n\}$ :  $9, \textcircled{3}, -6, -9, \textcircled{-3}, 6, 9, \dots$

$6n+2, 6n+5$  번째이기  $|a_k|=3$ .

↓                      ↓  
17개                    16개

33

25. 곡선  $x^3 - y^3 = e^{xy}$  위의 점  $(a, 0)$ 에서의 접선의 기울기가  $b$ 일 때,  $a+b$ 의 값을 구하시오. [3점]

$$a^3 = 1$$

$3x^2 - 3y^2 \cdot y' = ye^{xy} + xe^{xy} \cdot y'$   $a$ 는 실수,  $a=1$

$$y' = \frac{3x^2 - ye^{xy}}{xe^{xy} + 3y^2}$$

$$b = \frac{3a^2}{a} = 3$$

4

26. 공차가 2인 등차수열  $\{a_n\}$ 의 첫째항부터 제  $n$ 항까지의 합을  $S_n$ 이라 하자.  $S_k = -16, S_{k+2} = -12$ 를 만족시키는 자연수  $k$ 에 대하여  $a_{2k}$ 의 값을 구하시오. [4점]

$$S_{k+2} - S_k = 4 = a_{k+1} + a_{k+2}$$

$$= 2a_{k+1} + 2 \quad a_{k+1} = 1.$$

$$a_1 = 1 - 2k$$

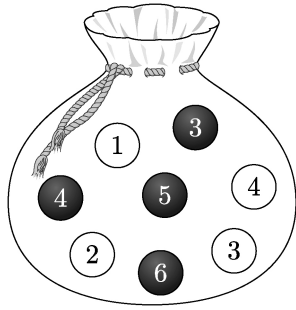
$$\frac{k(a_1 + a_k)}{2} = \frac{k(2a_1 + 2(k-1))}{2} = ka_1 + k(k-1) = -16$$

$$k - 2k^2 + k^2 - k = -16.$$

$$k = 4$$

$$a_8 = 7$$

27. 주머니에 숫자 1, 2, 3, 4가 하나씩 적혀 있는 흰 공 4개와 숫자 3, 4, 5, 6이 하나씩 적혀 있는 검은 공 4개가 들어 있다. 이 주머니에서 임의로 4개의 공을 동시에 꺼내는 시행을 한다. 이 시행에서 꺼낸 공에 적혀 있는 수가 같은 것이 있을 때, 꺼낸 공 중 검은 공이 2개일 확률은  $\frac{q}{p}$ 이다.  $p+q$ 의 값을 구하시오. (단,  $p$ 와  $q$ 는 서로소인 자연수이다.) [4점]



i) 같은 것이 1쌍일 때

○ ●

3 3 은 같이 뽑았다고 하자.

전체 경우의 수: 나머지 6개를 2개를 뽑는데, 흰색과 검색을 함께 뽑는 경우 제외.  ${}^6C_2 - 1 = 14$

구하는 경우의 수: 남은 흰공과 검공 3개씩을 각각 한개씩 뽑고,  $3 \cdot 3 - 1 = 8$

○ ○

4 4 은 같이 뽑은 경우의 수도 같으므로  $\times 2$ .

$\therefore$  전체 28

구하는 16

ii) 같은 것이 2쌍일 때

○ ○

3 3 모두 뽑는다. 전체 경우의 수 1, 구하는 경우의 수 1.

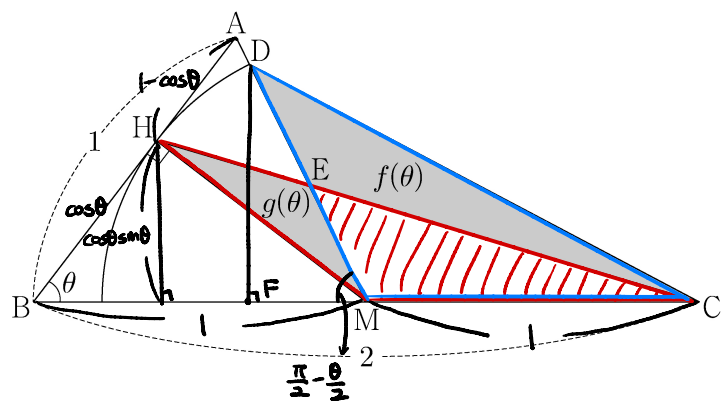
4 4

$$\therefore \frac{16+1}{28+1} = \frac{17}{29} \quad 46$$

28. 그림과 같이  $\overline{AB}=1$ ,  $\overline{BC}=2$ 인 두 선분 AB, BC에 대하여 선분 BC의 중점을 M, 점 M에서 선분 AB에 내린 수선의 발을 H라 하자. 중심이 M이고 반지름의 길이가  $\overline{MH}$ 인 원이 선분 AM과 만나는 점을 D, 선분 HC가 선분 DM과 만나는 점을 E라 하자.  $\angle ABC = \theta$ 라 할 때, 삼각형 CDE의 넓이를  $f(\theta)$ , 삼각형 MEH의 넓이를  $g(\theta)$ 라 하자.

$$\lim_{\theta \rightarrow 0^+} \frac{f(\theta) - g(\theta)}{\theta^3} = a \text{ 일 때, } 80a \text{의 값을 구하시오.}$$

(단,  $0 < \theta < \frac{\pi}{2}$ ) [4점] 넓이를 변형하는 법은 뽕은 생각합니다.



$$\text{Red triangle: } \frac{1}{2} \times (1 \text{ 밑변}) \times \cos\theta \sin\theta \text{ (높이)}$$

$$\text{Blue triangle: } \frac{1}{2} \times (1 \text{ 밑변}) \times DF \text{ (높이)}$$

DF를 구하자.

$\triangle ABM$ 은 이등변  $\triangle$ ,  $\angle AMB = \frac{\pi}{2} - \frac{\theta}{2}$ .

$$DM = HM = \sin\theta. \quad DF = \sin\theta \cdot \sin\left(\frac{\pi}{2} - \frac{\theta}{2}\right) = \sin\theta \cos\frac{\theta}{2}.$$

$$\therefore \lim_{\theta \rightarrow 0^+} \frac{f(\theta) - g(\theta)}{\theta^3} = \frac{\frac{1}{2} \sin\theta (\cos\frac{\theta}{2} - \cos\theta)}{\theta^3}$$

$$= \frac{1}{2} \cdot \frac{\sin\theta}{\theta} \cdot \frac{(\cos\frac{\theta}{2} - \cos\theta)(\cos\frac{\theta}{2} + \cos\theta)}{\theta^2 (\cos\frac{\theta}{2} + \cos\theta)}$$

$$= \frac{1}{2} \cdot 1 \cdot \frac{\cos^2\frac{\theta}{2} - \cos^2\theta}{2\theta^2} = \frac{1}{4} \cdot \frac{\sin^2\theta - \sin^2\frac{\theta}{2}}{\theta^2} = \frac{1}{4} \cdot \left(1 - \frac{1}{4}\right) = \frac{3}{16}$$

$$\therefore 80a = 15$$

29. 검은색 볼펜 1자루, 파란색 볼펜 4자루, 빨간색 볼펜 4자루가 있다. 이 9자루의 볼펜 중에서 5자루를 선택하여 2명의 학생에게 남김없이 나누어 주는 경우의 수를 구하시오. (단, 같은 색 볼펜끼리는 서로 구별하지 않고, 볼펜을 1자루도 받지 못하는 학생이 있을 수 있다.) [4점]

해법: A, B

i) 5자루가 2가지 색인 경우

㉠ (1,4)

검	파	빨
1	4	
1		4
	1	4
	4	1

4가지.

검1, 파4인 경우

검은색을 누구에게 줄지 → 2가지.  
파란색을 A에게 0,1,2,3,4개 → 5가지.  
B에게 4,3,2,1,0개  
∴ 4 × 2 × 5 = 40

㉡ (2,3)

검	파	빨
2	3	
3	2	

2가지.

파2, 빨3

파란색 3가지, 빨간색 4가지.  
∴ 2 × 3 × 4 = 24

ii) 5자루가 3가지 색인 경우

㉠ (1,1,3)

검	파	빨
1	1	3
1	3	1

2가지

검1, 파1, 빨3인 경우

검은색 2가지, 파란색 2가지, 빨간색 4가지.  
∴ 2 × 2 × 4 = 32

㉡ (1,2,2)

검	파	빨
1	2	2

1가지

검은색 2가지, 파란색 3가지, 빨간색 3가지.

∴ 1 × 2 × 3 × 3 = 18

∴ 40 + 24 + 32 + 18 = 114

30. 실수 전체의 집합에서 정의된 함수  $f(x)$ 는  $0 \leq x < 3$  일 때

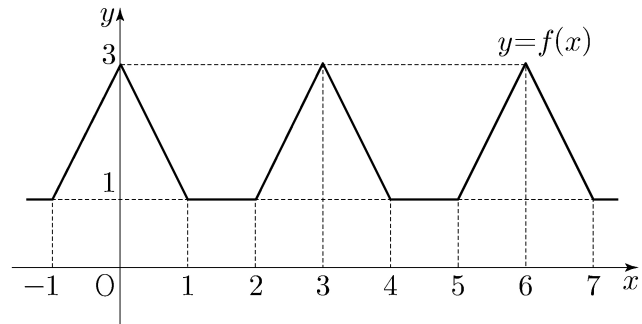
$f(x) = |x-1| + |x-2|$ 이고, 모든 실수  $x$ 에 대하여

$f(x+3) = f(x)$ 를 만족시킨다. 함수  $g(x)$ 를

$$g(x) = \lim_{h \rightarrow 0^+} \left| \frac{f(2^{x+h}) - f(2^x)}{h} \right| = \lim_{t \rightarrow 2^x} \left| \frac{f(t) - f(2^x)}{t - 2^x} \right| = \lim_{t \rightarrow 2^x} |f'(t)| \cdot 2^x \ln 2$$

이라 하자. 함수  $g(x)$ 가  $x=a$ 에서 불연속인  $a$ 의 값 중에서 열린구간  $(-5, 5)$ 에 속하는 모든 값을 작은 수부터 크기순으로 나열한 것을  $a_1, a_2, \dots, a_n$  ( $n$ 은 자연수)라 할 때,

$n + \sum_{k=1}^n \frac{g(a_k)}{\ln 2}$ 의 값을 구하시오. [4점]



위의 식이 의미가 안 되신다면:  $f(2^x) = h(x)$ 라 하면

$$g(x) = \lim_{h \rightarrow 0^+} \left| \frac{h(x+h) - h(x)}{h} \right| = \left| \lim_{t \rightarrow 2^x} h'(t) \right| = \left| \lim_{t \rightarrow 2^x} f'(t) \cdot 2^x \ln 2 \right| = \left| 2^x \ln 2 \cdot \lim_{t \rightarrow 2^x} f'(t) \right|$$

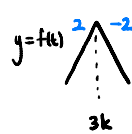
$f(t)$ 의  $t=2^x$ 에서의 무미분계수.

$g(x) = 2^x \ln 2 \left| \lim_{t \rightarrow 2^x} f'(t) \right|$ 는  $f'(2^x)$ 가 존재하면 0이 아닙니다.

즉,  $f'(2^x)$ 가 존재하지 않는 점에 대해 조사하면 됩니다.

$2^x = n$ 라 하면  $f(t)$ 가 존재하지 않는  $n$ 은 크게 3가지로 분류됩니다.

i)  $n = 3k$  일때 (는 정수)



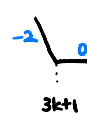
$\lim_{t \rightarrow 3k^+} f(t) = -2$  입니다. 절댓값이 2로 같으므로

$\lim_{t \rightarrow 3k^-} f(t) = 2$

$\left| \lim_{t \rightarrow 2^x} f'(2^x) \right|$ 의 값은  $n = 3k$  좌우에서 2로 같습니다.

$g(x)$ 는  $t = 2^x = 3k$ 일때 연속입니다.

ii)  $t = 3k+1$



좌우 극한의 절댓값이 0입니다.

iii)  $t = 3k+2$



역시 좌우 극한의 절댓값이 2입니다.

여러서  $g(x)$ 는  $t = 2^x = 3k+1, 3k+2$ 일때 불연속입니다.

$-5 < x < 5$ 인  $x$ 에 대해  $2^x = 3k+1$  or  $3k+2$ 인 값을 찾으면,

$$\frac{1}{32} < 2^x < 32. \quad \begin{matrix} 2^x = 1, 4, 7, \dots, 28, 31. \rightarrow 11\text{개} \\ 2^x = 2, 5, 8, \dots, 29. \rightarrow 10\text{개} \end{matrix} \rightarrow n = 21$$

$$\sum_{k=1}^n \frac{g(a_k)}{\ln 2} = \sum_{k=1}^n 2^{a_k} \left| \lim_{t \rightarrow a_k} f'(t) \right| = (2+5+8+\dots+29) \times 2 = 310$$

( $n = 2^{a_k}$ 가  $3k+1$ 이면  $f(t)$ 의 무미분계수가 0  
 $3k+2$ 이면 " 2

∴ 21 + 310 = 331

\* 확인 사항

○ 답안지의 해당란에 필요한 내용을 정확히 기입(표기)했는지 확인하시오.