

제 2 교시

수학 영역

MENTOR

1. $\int_{-1}^1 (x^3 + a) dx = 4$ 일 때, 상수 a 의 값은?

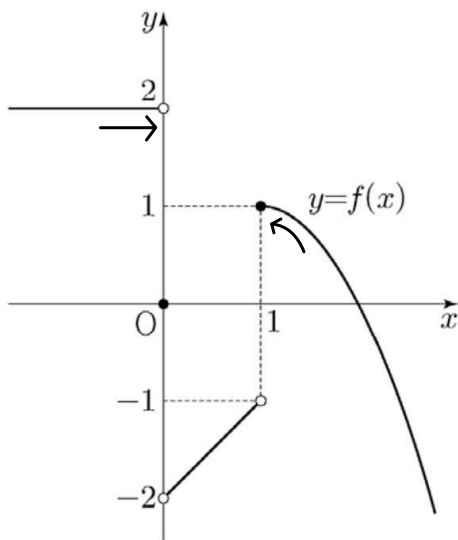
[2022학년도 예시문항 수학 2번]

- ① 1 ② 2 ③ 3 ④ 4 ⑤ 5

$$2 \int_0^1 a dx = 2a = 4$$

$$\therefore a = 2$$

2. 함수 $y=f(x)$ 의 그래프가 그림과 같다.



$\lim_{x \rightarrow 0^-} f(x) - \lim_{x \rightarrow 1^+} f(x)$ 의 값은?

[2022학년도 예시문항 수학 4번]

- ① -2 ② -1 ③ 0 ④ 1 ⑤ 2

$$2 - 1 = 1$$

3. 다항함수 $f(x)$ 가

$$f'(x) = 3x^2 - kx + 1, \quad f(0) = f(2) = 1$$

을 만족시킬 때, 상수 k 의 값은?

[2022학년도 예시문항 수학 6번]

- ① 5 ② 6 ③ 7 ④ 8 ⑤ 9

① 부정적분

$$f(x) = x^3 - \frac{k}{2}x^2 + x + 1$$

$$f(2) = 8 - 2k + 2 + 1 = 11 - 2k = 1$$

$$\therefore k = 5$$

② 정적분

$$f(2) - f(0) = \int_0^2 f'(x) dx$$

$$\int_0^2 (3x^2 - kx + 1) dx = \left[x^3 - \frac{k}{2}x^2 + x \right]_0^2$$

$$= 8 - 2k + 2 = 10 - 2k = 0$$

$$\therefore k = 5$$

4. 함수

$$f(x) = \begin{cases} x-4 & (x < a) \\ x+3 & (x \geq a) \end{cases}$$

에 대하여 함수 $|f(x)|$ 가 실수 전체의 집합에서 연속일 때, 상수 a 의 값은?

[2022학년도 예시문항 수학 7번]

- ① -1 ② $-\frac{1}{2}$ ③ 0 ④ $\frac{1}{2}$ ⑤ 1

$$|f(x)| = \begin{cases} |x-4| & (x < a) \\ |x+3| & (x \geq a) \end{cases}$$

$$|a-4| = |a+3|$$

$$a^2 - 8a + 16 = a^2 + 6a + 9$$

$$14a = 7$$

$$\therefore a = \frac{1}{2}$$

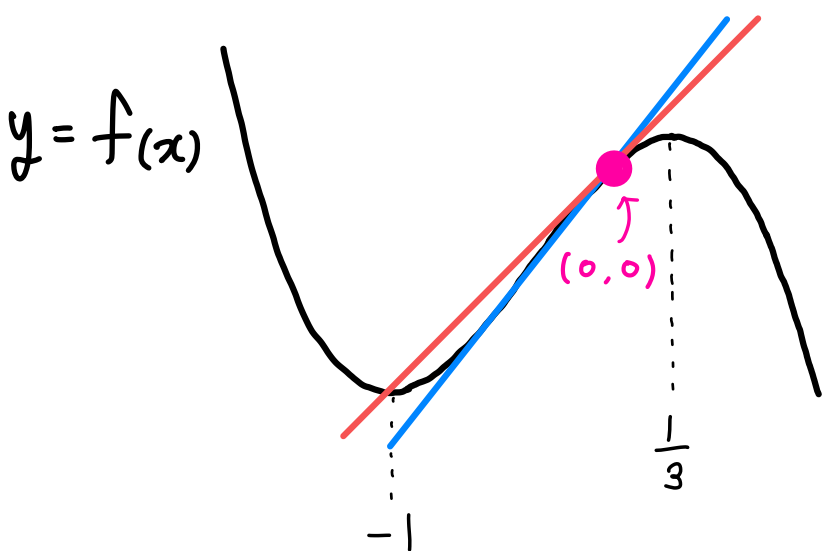
5. 원점을 지나고 곡선 $y = -x^3 - x^2 + x$ 에 접하는 모든 직선의 기울기의 합은?

[2022학년도 예시문항 수학 9번]

- ① 2 ② $\frac{9}{4}$ ③ $\frac{5}{2}$ ④ $\frac{11}{4}$ ⑤ 3

$$f(x) = -x^3 - x^2 + x$$

$$f'(x) = -3x^2 - 2x + 1 = -(3x-1)(x+1)$$



i) $f(x)$ 위의 점 $(0,0)$ 에서 접하는 직선의 기울기
 $f'(0) = 1$

ii) $f(x)$ 위의 점 $(k, -k^3 - k^2 + k)$ 에서 접하고
 원점 $(0,0)$ 을 지나는 직선의 기울기 ($k \neq 0$)

$$\frac{-k^3 - k^2 + k}{k} = -3k^2 - 2k + 1$$

$$-k^2 - k + 1 = -3k^2 - 2k + 1$$

$$2k^2 + k = k(2k+1) = 0$$

$$\therefore k = -\frac{1}{2} \quad (\because k \neq 0)$$

$$f'(-\frac{1}{2}) = -\frac{3}{4} + 1 + 1 = \frac{5}{4}$$

$$\therefore 1 + \frac{5}{4} = \frac{9}{4}$$

6. 최고차항의 계수가 1인 삼차함수 $f(x)$ 가 다음 조건을 만족시킨다.

방정식 $f(x) = 9$ 는 서로 다른 세 실근을 갖고,
 이 세 실근은 크기 순서대로 등비수열을 이룬다.

$f(0) = 1, f'(2) = -2$ 일 때, $f(3)$ 의 값은?

[2022학년도 예시문항 수학 11번]

- ① 6 ② 7 ③ 8 ④ 9 ⑤ 10

$$f(x) - 9 = (x-a)(x-ar)(x-ar^2) \dots \textcircled{A}$$

$$f'(x) = (x-ar)(x-ar^2) + (x-a)(x-ar^2) + (x-a)(x-ar)$$

① 식에 $x=0$ 대입

$$-8 = -a^3r^3 \quad \therefore ar=2$$

$$\therefore f'(x) = (x-2)(x-2r) + (x-a)(x-2r) + (x-a)(x-2) \dots \textcircled{B}$$

② 식에 $x=2$ 대입

$$-2 = (2-a)(2-2r) = 2(2-a)(1-r)$$

$$-1 = 2-2r-a+ar = 4-2r-a$$

$$\therefore 2r+a=5$$

$$\begin{cases} ar=2 \\ 2r+a=5 \end{cases} \Rightarrow \begin{matrix} a=1, r=2 \\ \text{or } a=4, r=\frac{1}{2} \end{matrix}$$

두 경우 모두에서

$$f(x) = (x-1)(x-2)(x-4) + 9$$

$$\therefore f(3) = 2 \times 1 \times (-1) + 9 = 7$$

7. $0 < a < b$ 인 모든 실수 a, b 에 대하여

$$\int_a^b (x^3 - 3x + k) dx > 0$$

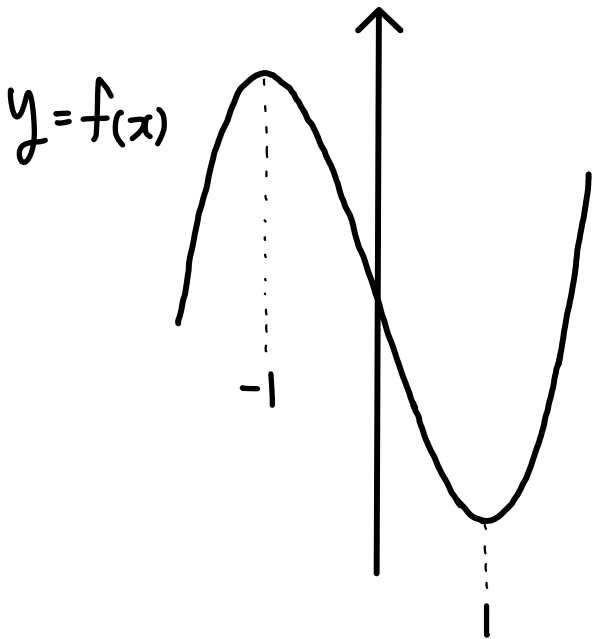
이 성립하도록 하는 실수 k 의 최솟값은?

[2022학년도 예시문항 수학 12번]

- ① 1 ② 2 ③ 3 ④ 4 ⑤ 5

$$f(x) = x^3 - 3x + k$$

$$f'(x) = 3x^2 - 3 = 3(x+1)(x-1)$$



$$\int_a^b f(x) dx > 0 \text{ 이려면}$$

$x \geq 0$ 에서 $f(x) \geq 0$ 이어야 한다.

$$\rightarrow f(1) \geq 0$$

$$k - 2 \geq 0$$

$$\therefore k \geq 2$$

8. 수직선 위를 움직이는 점 P의 시각 t 에서의 가속도가

$$a(t) = 3t^2 - 12t + 9 \quad (t \geq 0)$$

이고, 시각 $t=0$ 에서의 속도가 k 일 때, <보기>에서 옳은 것만을 있는 대로 고른 것은?

<보 기>

- ㉠. 구간 $(3, \infty)$ 에서 점 P의 속도는 증가한다.
 ✗. $k = -4$ 이면 구간 $(0, \infty)$ 에서 점 P의 운동 방향이 ~~두~~번 바뀐다. (한 번)
 ㉡. 시각 $t=0$ 에서 시각 $t=5$ 까지 점 P의 위치의 변화량과 점 P가 움직인 거리가 같도록 하는 k 의 최솟값은 0이다.

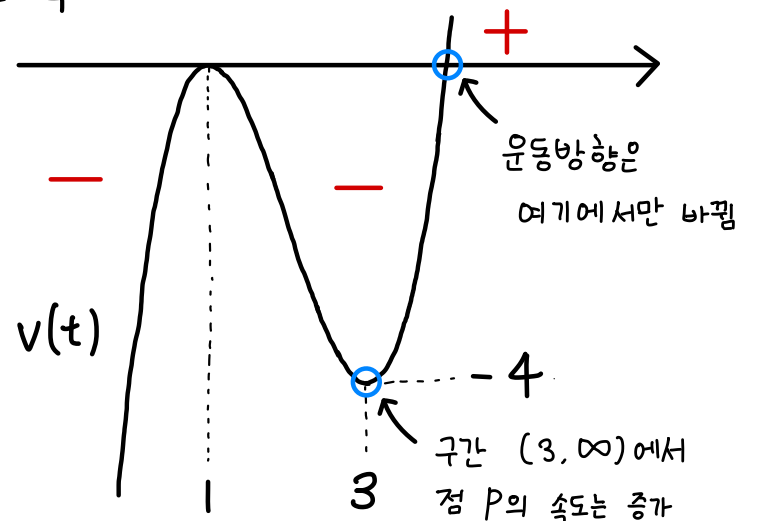
[2022학년도 예시문항 수학 14번]

- ① ㉠ ② ㉡ ③ ㉠, ㉡
 ④ ㉠, ㉡ ⑤ ㉠, ㉡, ㉢

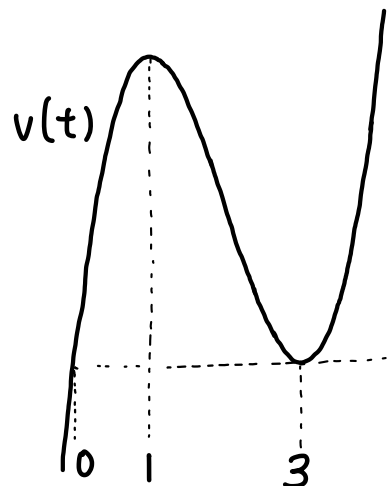
$$\text{속도 } v(t) = t^3 - 6t^2 + 9t + k$$

$$\text{가속도 } a(t) = 3t^2 - 12t + 9 = 3(t-1)(t-3)$$

㉠, ✗. $k = -4$



㉡. 점 P의 위치 변화량과 움직인 거리가 같으려면 $\int v(t) dt = \int |v(t)| dt$ 즉, $v(t) \geq 0$ 이어야 한다.



달린구간 $[0, 5]$ 에서 $v(t)$ 의 최솟값은 $v(0) = v(3) = k$
 $\therefore k \geq 0$

9. 미분가능한 함수 $f(x)$ 가 $f(1)=2$, $f'(1)=4$ 를 만족시킬 때, 함수 $g(x)=(x+1)f(x)$ 의 $x=1$ 에서의 미분계수를 구하시오.

[2022학년도 예시문항 수학 17번]

$$\begin{aligned} g'(x) &= f(x) + (x+1)f'(x) \\ g'(1) &= f(1) + 2f'(1) \\ &= 2 + 8 = 10 \end{aligned}$$

10

10. 실수 k 에 대하여 함수 $f(x)=x^4+kx+10$ 이 $x=1$ 에서 극값을 가질 때, $f(1)$ 의 값을 구하시오.

[2022학년도 예시문항 수학 19번]

$$\begin{aligned} f'(x) &= 4x^3+k \\ f'(1) &= 4+k=0 \\ \therefore k &= -4 \end{aligned}$$

$$f(1) = 1 + k + 10 = 7$$

7

11. 함수

$$f(x) = x^3 - 3px^2 + q$$

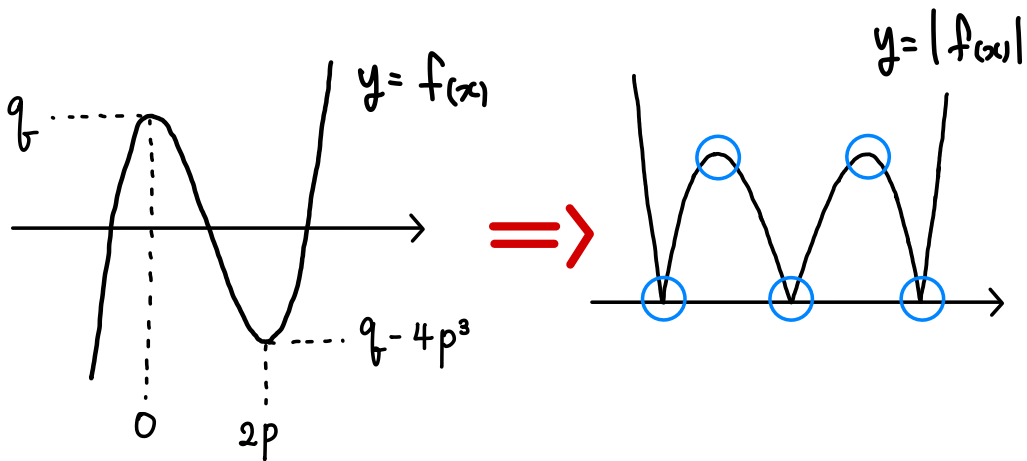
가 다음 조건을 만족시키도록 하는 25 이하의 두 자연수 p, q 의 모든 순서쌍 (p, q) 의 개수를 구하시오.

- (가) 함수 $|f(x)|$ 가 $x=a$ 에서 극대 또는 극소가 되도록 하는 모든 실수 a 의 개수는 5이다.
- (나) 닫힌구간 $[-1, 1]$ 에서 함수 $|f(x)|$ 의 최댓값과 닫힌구간 $[-2, 2]$ 에서 함수 $|f(x)|$ 의 최댓값은 같다.

[2022학년도 예시문항 수학 22번]

$$\begin{aligned} f'(x) &= 3x^2 - 6px \\ &= 3x(x - 2p) \end{aligned}$$

(가) $|f(x)|$ 가 5곳에서 극값을 가지려면



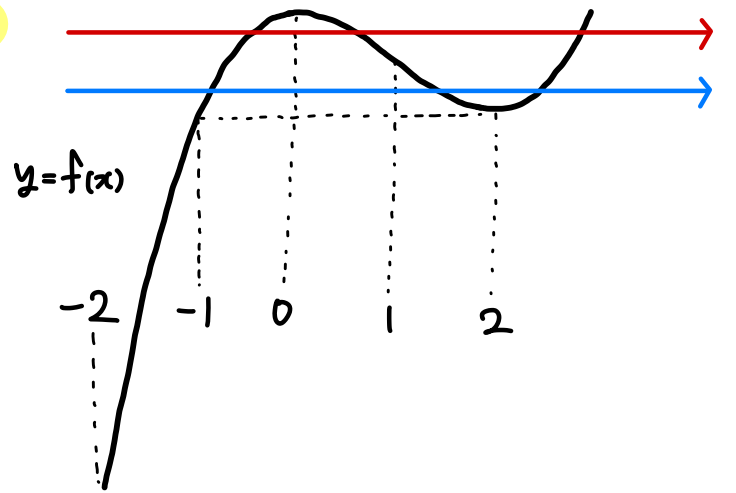
자칫 이 $f(x)$ 의 극값들 사이에 존재해야 한다.

$$\therefore 0 < q < 4p^3$$

Tip

삼차함수 그래프에서
 - 부분이 (pink)
 - 부분보다 변화폭이 크다 (orange)

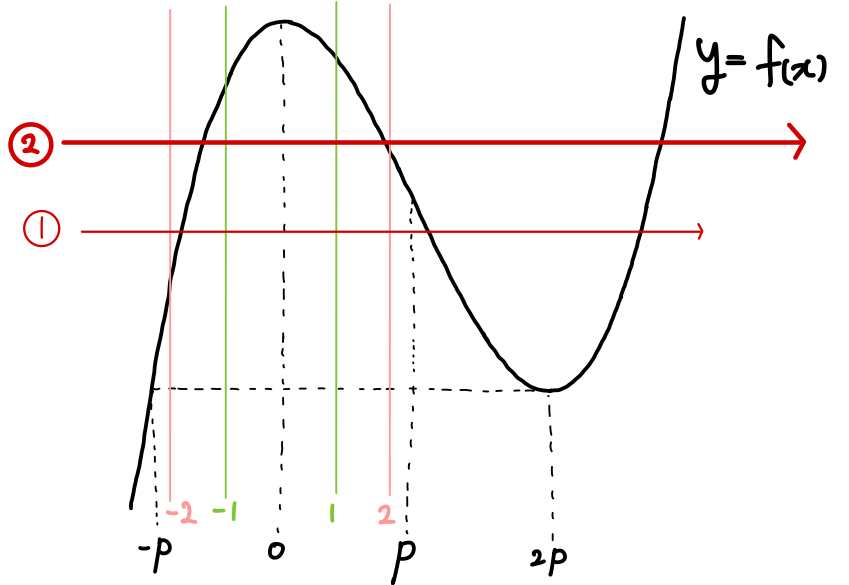
i) $p=1$



삼차함수 그래프의 개형상 불가능하다.

닫힌구간 $[-1, 1]$ 에서 $|f(x)|$ 의 최댓값은 $|f(-1)|$ 과 $|f(0)|$ 이 될 수 있는데, 닫힌구간 $[-2, 2]$ 에서 $|f(x)|$ 의 최댓값 $|f(-2)|$ 가 항상 $|f(0)|, |f(-1)|$ 보다 크다.

ii) $p \geq 2$, 이때 $f(-2) = -8 - 12p + q < 0$
 (\because 25 이하의 두 자연수 p, q)



자칫 이 ① \rightarrow ② 처럼 점점 올라간다고 생각해 보자.

$|f(x)|$ 의 닫힌구간 $[-2, 2]$ 에서 최댓값이 닫힌구간 $[-1, 1]$ 에서 최댓값과 같으려면 $-f(-2) = f(0)$ 인 순간까지 올라갈 수 있다 \rightarrow ②의 상황 (그 이상 올라가면 닫힌구간 $[-2, 2]$ 에서의 최댓값이 더 커진다.)

$$\therefore -f(-2) \leq f(0) \Rightarrow 8 + 12p - q \leq q \quad \therefore 6p + 4 \leq q$$

- 따라서,
- 1) $p=2$, $16 \leq q < 32$ 10개 (16~25)
 - 2) $p=3$, $22 \leq q < 108$ 4개 (22~25)

$$6p + 4 \leq q < 4p^3$$

$$\therefore 10 + 4 = 14$$