




Mini Test 1

[21017-0189]


01 (가) 문화에 대한 설명으로 옳은 것은?

<조사 보고서>

1. 주제 : 신석기 시대 (가) 문화의 특징
2. 수집 자료



▲ 벼 이삭 무늬 토기



▲ 돼지 그림 토기

3. 결론 : 벼 이삭과 돼지 그림이 새겨진 토기를 만들었던 지역에서 발달한 (가) 문화에서 벼농사와 가축 사육이 이루어졌음을 알 수 있다.

- ① 몽골 초원에서 발달하였다.
- ② 흑도와 회도를 제작하였다.
- ③ 비파형 동검을 사용하였다.
- ④ 사슴돌과 판석묘를 만들었다.
- ⑤ 주술적 용도의 동탁을 남겼다.

[21017-0190]

02 다음 자료에 나타난 시기 동아시아의 상황으로 옳은 것은?

BC. 120

곽거병을 표기장군으로 삼아 흉노를 물리쳤다. 곽거병은 언지(焉支)의 기련산을 거쳐 돌아왔다. …… 원수 4년 위청과 곽거병을 파견하여 흉노를 치게 하였다. …… 곽거병은 낭거서산에서 하늘에 제사를 올리고, 고연에서 땅에 제사를 지낸 뒤 돌아왔다. …… 드디어 서역과 통교하기 시작하였다. 주천군과 무위군을 두었다. 병졸 10만 명을 파견하여 남비엿을 토벌하고 9개 군을 두었다.

- ① 분서갱유가 단행되었다.
- ② 소가씨가 정계에서 제거되었다.
- ③ 전국 7웅이 정국을 주도하였다.
- ④ 주몽이 남하하여 고구려를 세웠다.
- ⑤ 고조선이 중계 무역을 전개하였다.

[21017-0191]

03

(가), (나) 시기 사이에 있었던 사실로 옳은 것은?

(가) 왜의 노국이 공물을 바치고 조공하였는데, 사신은 대부를 자칭하였다. 노국은 왜에서 남쪽에 있는 나라이다. **황제는 노국의 사신에게 도장을 하사하였다.** 57

(나) **왜의 여왕 히미코**가 보낸 인물이 대방군에 이르러 **천자에게 나아가 조공하기를 요청**하였다. 이에 대방군 태수가 관리를 시켜 이들을 수도에 이르게 하였다. 239

- ① 후한이 멸망하였다.
- ② 위만이 망명하였다.
- ③ 왕망이 신을 건국하였다.
- ④ 항우와 유방이 대립하였다.
- ⑤ **다이센 고분**이 건립되었다. 5c

[21017-0192]

04

(가) 종교에 대한 학생들의 발표 내용으로 가장 적절한 것은?

전진이 아도를 보내고 동진에서 호승* 오니
 고구려가 (가) 을/를 받아들였고
 백제는 더욱 발전시켰네.
 호승 마라난타가 무슨 신기한 능력을 가졌기에
 궁궐 안까지 초청하여 예우하고 높였는가.
 *호승: 서역 출신의 승려



작자 미상의 이 시를 통해 **고구려와 백제가 4세기에 왕실의 주도로 각각 전진, 동진으로부터 (가) 을/를 수용했음을** 알 수 있습니다.

- ① **심즉리**를 강조하였어요.
- ② 과거제 시행의 토대가 되었어요.
- ③ 일본에서는 신도와 결합하였어요.
- ④ **서원과 향약**을 통해 확산되었어요.
- ⑤ **동중서의 건의**로 한의 통치 이념이 되었어요.



[21017-0193]

05 다음 문서가 작성된 **당시 동아시아의 상황**으로 옳은 것은?

1623

조선국 의정부 좌의정 이경전 등이 삼가 주문을 올립니다. 저희들은 올해 4월 본국 왕대비의 글을 가져와 바쳤습니다. 그 내용은 **일개 범부(凡夫)가 왕위에 있으면서 명을 배반하는 등 여러 잘못을 저질러 쫓겨났으므로** 왕위 계승자인 조카를 책봉하셔서 중요사직을 안정시키고 번방을 확고히 안정시켜 달라는 것을 항상께 간절히 요청하는 것입니다.

- ① 누르하치가 **후금**을 세웠다.
- ② 모문룡이 가도에 주둔하였다.
- ③ **이자성**이 농민들을 이끌고 봉기하였다. 1631
- ④ 명과 조선의 군대가 **사르후 전투**에서 패배하였다.
- ⑤ **도쿠가와 이에야스**가 **도요토미 히데요시** 추종 세력을 물리쳤다.

[21017-0194]

06 밑줄 친 **'이 물품'**에 대한 설명으로 옳은 것만을 <보기>에서 고른 것은?

조선에서 동전을 주조할 때 중요한 원료는 구리와 함석이었다. 구리의 대부분은 일본에서 수입되었고, 함석은 일본보다 값이 저렴한 중국을 통해 들어왔다. 따라서 동전 원료를 수입하기 위해서는 당시 국제적 결제 통화였던 **이 물품**의 확보가 절실하였다. 국내의 산출량이 적은 데 비해 일본에서는 **16세기 중엽 이후** 산출량도 많고 가격도 저렴하였기 때문에 **일본에서 구리와 이 물품**을 수입하는 것이 가장 안정적이었다.

보기

- ㄱ. 영국 상인이 청에 밀수출하였다.
- ㄴ. 상이 제사용 도구 제작에 주로 사용하였다.
- ㄷ. 갈레온 무역의 결과 중국에 대량 유입되었다.
- ㄹ. 일조편법과 지정은제에 따라 조세 징수에 사용되었다.

- ① ㄱ, ㄴ ② ㄱ, ㄷ ③ ㄴ, ㄷ ④ ㄴ, ㄹ ⑤ ㄷ, ㄹ

[21017-0195]

07 다음 자료가 작성된 시기 동아시아의 상황으로 옳은 것은?

1851 ~ 1884

지금 서양 열강들은 중국에 눈독을 들이고 있습니다. 그 후에는 우리 일본을 노릴 것입니다. 지금 중국에서 위세를 떨치는 홍수전의 무리가 진압 작전에 참여하고 있는 영국과 프랑스의 군인들에게 굴복한다면, 영국과 프랑스가 우리 일본을 공격할 것은 명약관화합니다. 러시아는 남쪽을 노리고 있고, 영국과 프랑스는 자신들의 식민지에 피해가 있을 것을 우려하여 러시아를 견제하려 하고 있습니다.

- ① 상하이에서 영국 상인이 활동하였다.
- ② 일본에서 자유 민권 운동이 전개되었다.
- ③ 독립 협회가 만민 공동회를 개최하였다.
- ④ 부청멸양을 앞세운 의화단 운동이 확산되었다.
- ⑤ 운요호 사건을 구실로 일본이 조약 체결을 강요하였다.

[21017-0196]

08 다음 자료에 나타난 사상에 대한 설명으로 옳은 것만을 <보기>에서 고른 것은?

- 지금은 병력이 좌지우지하는 세상이다. 강자는 살아남고 약자는 망한다는 대의만 있을 뿐이다. 권리는 군함에 내포되어 있고, 도리는 함포에서 나온다.
- 세계 각국이 서로 대치하는 것은 금수가 서로 잡아먹으려고 하는 기세의 싸움이다. 잡아먹는 자는 문명의 국민이 되고, 먹히는 자는 미개한 나라의 국민이 될 뿐이다. 후쿠자와 유키치

| 보기 |

- ㄱ. 제1차 세계 대전 이후 대두하였다.
- ㄴ. 대의각미론이 편찬되는 배경이 되었다. 1729
- ㄷ. 일본의 제국주의 침략 합리화에 이용되었다.
- ㄹ. 변법자강 운동이 일어나는 데 영향을 끼쳤다.

- ① ㄱ, ㄴ
- ② ㄱ, ㄷ
- ③ ㄴ, ㄷ
- ④ ㄴ, ㄹ
- ⑤ ㄷ, ㄹ



[21017-0197]

09

다음 발언이 이루어진 시기에 볼 수 있는 모습으로 가장 적절한 것은?

1926 ~ 1989

본토 결전에 돌입하면 어떻게 되는가. 짐(쇼와 천황)은 심히 걱정이다. 일본 민족은 모두 죽어 버리게 되는 것이 아닐까 생각한다. …… 이대로 전쟁을 계속하는 것은 세계 인류에게도 불행한 일이다. 물론 군대의 무장 해제와 전쟁 책임자의 처벌 등이 있을 것이고, 이를 생각하면 실로 견디기 어렵다. 그러나 지금 참기 어려운 일을 참고 견뎌야 한다고 생각한다. 메이지 천황께서 삼국 간섭을 받았을 때의 심정을 생각하면 나 자신은 아무래도 좋다. 견디기 어렵고 참기 어려운 것은 알지만 이 전쟁을 포기할 결심을 한 것이다.

- ① 국가 총동원법을 공포하는 관리
- ② 만주에 파견되는 리튼 조사단원
- ③ 징용으로 공장에 강제 동원된 청년
- ④ 아주 화친회 결성에 참여하는 지식인
- ⑤ 산동반도 이권 회수를 요구하는 대학생

[21017-0198]

10

다음 조약이 체결될 당시의 상황으로 옳은 것은?

1952

일본국과 중화민국(타이완)은 역사적·문화적 유대와 지리적인 근접을 고려하여 선린 관계를 서로 희망하는 점을 인정하고, …… 양자 간 전쟁 상태에 따라 나타난 여러 문제를 해결할 필요가 있다는 점을 인정하고 평화 조약을 체결하기로 결정하였다.

제1조 일본국과 중화민국 간의 전쟁 상태는 이 조약이 효력을 발생하는 날 종료한다.


제4조 1941년 12월 9일 이전에 양국 사이에 체결된 모든 조약, 협약 및 협정은 전쟁의 결과로서 무효가 된 것이 인정된다.

- ① 극동 국제 군사 재판이 개최되었다.
- ② 중국에서 국공 내전이 본격화되었다.
- ③ 6·25 전쟁의 정전 협정이 체결되었다.
- ④ 베트남과 프랑스 사이에 전쟁이 전개되었다.
- ⑤ 제네바 협정에서 군사 분계선이 설정되었다.



[21017-0199]

01 다음 유물을 남긴 왕조에 대한 설명으로 옳은 것은?



이 유물은 **중원 지역의 청동기 문화**가 본격적으로 발전했던 이 나라의 마지막 수도 유적인 은허에서 출토된 네 발 달린 솥입니다. 그 높이가 133cm에, 무게가 800kg이 넘는데 주로 신에게 제사를 지내는 의식에 사용된 것으로 보입니다.

- ① 갑골문을 이용하여 기록을 남겼다.
- ② 처음으로 황제 칭호를 사용하였다.
- ③ 8조의 법을 제정하여 사회 질서를 유지하였다.
- ④ 이민족의 침략을 받아 낙읍(뤄양)으로 천도하였다.
- ⑤ 히미코 여왕 시기에 위에 사신을 보내 조공하였다.

[21017-0200]

02 (가), (나)의 내용에 포함될 사례로 적절한 것만을 <보기>에서 고른 것은?

○○ 논문

8세기 이전 동아시아의 인구 이동

- 목 차 -

1. 머리말

2. 인구 이동의 원인

- (1) 기후 변화와 자연재해
- (2) **집단 내부의 정치적 갈등** (가)
- (3) 이민족의 침략
- (4) **국가 간의 전쟁** (나)

3. 인구 이동의 실태

| 보기 |

ㄱ. (가) - **견당사**를 통한 율령 체제의 수용 **630 ~ 894**

ㄴ. (가) - 부여족의 내분과 주몽 집단의 남하

ㄷ. (나) - 백제의 멸망과 유민의 집단 이주

ㄹ. (나) - 다이묘 통제를 위한 **산킨코타이 제도**의 시행 **1635~**

- ① ㄱ, ㄴ
- ② ㄱ, ㄷ
- ③ ㄴ, ㄷ
- ④ ㄴ, ㄹ
- ⑤ ㄷ, ㄹ



[21017-0201]

03

(가) 국가에 대한 설명으로 옳은 것은?

1032 → 1038

- ~~1044~~ 탕구트족인 이원호가 멋대로 황제를 칭하며 나라를 세워 (가) (이)라고 불렀다.
- 이원호가 신하를 칭할 것을 약속하였으므로, (가)에 내리는 칙서를 고쳐 조서라고 하였다. …… 이후에도 이원호는 자기 나라 안에서 여전히 황제를 칭하였다. 이 무렵 거란(요)의 협산 부락 800호가 이원호에게 귀부하였다. 거란(요)이 돌려달라고 요구하였지만 이원호는 보내지 않았다.

- ① 팽안·모극제를 시행하였다.
- ② 독자적인 문자를 사용하였다.
- ③ 일본에 감함 무역을 허용하였다.
- ④ 고려에 군신 관계를 요구하였다.
- ⑤ 선우 아래 좌현왕과 우현왕을 두었다.

[21017-0202]

04

602 ~ 664
밀줄 친 '법사'의 활동으로 옳은 것은?



인도에 유학하고 돌아온 법사는 절의 남쪽에 돌로 만든 부도를 세워 인도에서 가져온 경전과 불상을 안치할 계획을 세웠다. 경전을 잃어 버리거나 손상되는 것을 방지하기 위해서였다. 이에 부도를 건립하기 위한 표를 올려 황제에게 아뢰니, 칙사가 와서 조칙을 전해 주었다. “그대가 세우려는 탑은 공력이 크게 들기 때문에 완성하기 어려울 것 같으니, 벽돌로 짓는 것이 좋겠소.” 이에 벽돌을 써서 탑을 쌓았다.

◀ 법사가 가져온 불경을 보관하기 위해 세운 대안탑

- ① 대당서역기를 남겼다.
- ② 신라에 화엄종을 들여왔다.
- ③ 왕오천축국전을 저술하였다.
- ④ 장보고 세력의 도움을 받았다.
- ⑤ 일본에 건너가 계율을 전하였다.

[21017-0203]

05 다음 주장이 제기된 시기를 연표에서 옳게 고른 것은?

1622 ~ 1629

모문룡의 군사는 오합지졸이고 그곳 철산에는 재화(財貨)가 많으며, 안주와 의주성은 쉽게 함락시킬 수 있습니다. 새 국왕은 모문룡을 의지하여 왕위에 오른 지 2년이 지났어도 사자(使者)를 보내지 않고 있는데, 군사를 파견하여 화의를 요구하면 쉽게 성공할 수 있을 만큼 인심이 옛 국왕에 쏠려 있습니다. **이럴 때 출병하면 칸[汗]을 천지 부모와 같이 우러러볼 것입니다.**

<i>1623</i>	<i>1609</i>	<i>1623</i>	<i>1629</i>	<i>1644</i>	<i>1673</i>
(가)	(나)	(다)	(라)	(마)	
에도 막부 수립	기유약조 체결	인조반정 발생	정묘호란 발발	명 멸망	삼번의 난 발생

- ① (가) ② (나) ③ (다) ④ (라) ⑤ (마)

[21017-0204]

06 (가)가 처음 발급된 시기 동아시아의 경제 상황으로 옳은 것은?

1715 ~

- 막부는 쇼토쿠신레이를 반포하여 (가) 을/를 제출한 선박에 대해서만 입항과 무역을 허락하였다. 여기에는 일본 천황의 연호가 적혀 있었다.
- 중국의 선박이 일본이 발부한 (가) 을/를 받아 무역에 종사한다는 것은 대국의 체면에 어긋나는 것이므로 정부의 고관들 가운데에는 이러한 방식의 무역에 대해 반대하는 경우가 많았다. 그러나 강희제는 은과 구리를 획득하기 위해 이를 허용하였다.

재위 1661 ~ 1722


- ① 한국 - **벽란도**가 국제 무역항으로 성장하였다.
- ② 중국 - 농민 대부분이 **합작사**에 가입하였다. *1952 ~*
- ③ 중국 - 농민에게 일정 면적의 토지를 지급하는 **균전제**를 시행하였다.
- ④ 일본 - 경기 과열로 **거품 경제**가 형성되었다.
- ⑤ 일본 - **데지마**를 통해 **네덜란드 상인**과 교역하였다.



[21017-0205]

07 다음 인물에 대한 설명으로 옳은 것은?

..... 독립 유공자 정보



- 성명 : ○○ 1866 ~ 1925
- 포상 훈격 : 건국훈장 대한민국장(1968년)
- 주요 활동
 - 1912년 중화민국 임시 대통령 취임
 - 1914년 중국 상하이에서 신규식 등이 조직한 동계사를 지원
 - 1919년 대한민국 임시 정부가 수립되자 이를 후원
 - 1921년 대한민국 임시 정부 승인
 - 1924년 중국 공산당과 제휴

- ① 여권통문을 발표하였다.
- ② 중국 국민당을 조직하였다.
- ③ 한국광복군 창설을 지원하였다.
- ④ 중화 인민 공화국 수립을 선포하였다.
- ⑤ 광서제의 지지를 배경으로 개혁을 추진하였다.

[21017-0206]

08 밑줄 친 '우리'에 대한 설명으로 옳은 것은?

우리는 신의 보살핌을 받고 있다. 하지만 세상이 혼란스러운 것은 서양 오랑캐가 중국을 어지럽히고 있기 때문이다. 그들은 크리스티교를 포교하고 제멋대로 전신주를 세우고 철도를 부설하고 있다. 그들은 성현(聖賢)의 말씀을 따르지 않고 있으니, 그 죄를 이루 헤아릴 수 없다. 중국의 권법을 배운 뒤에 우선 철도를 부수고 전선을 끊고, 최후에는 서양 오랑캐를 남김없이 몰아내자.

- ① 난징을 점령하여 수도로 삼았다.
- ② 정부와 전주 화약을 체결하였다.
- ③ 반군벌·반일 시위를 전개하였다.
- ④ 부청멸양을 내세우며 봉기하였다.
- ⑤ 서양식 입헌 제도 도입을 요구하였다.

[21017-0207]

09

밑줄 친 '이 평화 조약'에 대한 설명으로 옳은 것은?

이 평화 조약의 청구권 및 재산권에 관한 제15조에는 일본에 있었던 각 연합국의 권리 및 이익의 반환을 '1941년 12월 7일부터 1945년 9월 2일까지'로 설정하였다. 이에 대해 중화 인민 공화국 총리 저우언라이는 일본 제국주의가 1931년부터 1937년에 걸쳐 중국을 무력으로 침략하고, 태평양 전쟁이 발발한 1941년까지 전 중국에 대해 침략 전쟁을 일으켰는데, 이 평화 조약은 1941년 12월 7일 이전에 중국 인민이 자력으로 항일 전쟁을 수행하였던 기한을 완전히 무시하였다고 비판하였다.

- ① 일본의 주권 회복을 규정하였다.
- ② 한국과 타이완의 국교 단절을 가져왔다.
- ③ 베트남에서 미군이 철수하는 데 합의하였다.
- ④ 극동 국제 군사 재판(도쿄 재판)이 열리는 근거가 되었다.
- ⑤ 중화 인민 공화국을 중국의 유일한 합법 정부로 인정하였다.

[21017-0208]

10

1966 ~ 1976
 밑줄 친 '혁명'이 전개된 시기 동아시아 정세로 옳은 것은?



이 그림은 마오쩌둥의 어록을 들고
 혁명에 앞장섰던 홍위병의 모습을
 그린 선전물입니다.



- ① 한국 - 6월 민주 항쟁이 일어났다.
- ② 중국 - 농업, 공업, 국방, 과학 기술의 현대화가 추진되었다.
- ③ 일본 - 55년 체제가 유지되었다.
- ④ 타이완 - 민주진보당 후보가 총통에 선출되었다.
- ⑤ 베트남 - 도이머이 정책이 추진되었다.



Mini Test 3

[21017-0209]

01

(가) 국가에 대한 설명으로 옳은 것은?

BC, 215

몽염이 (가) 을/를 물리치고 **하남(오르도스)**을 얻은 뒤 44개의 군현을 두었다. 성을 쌓으면서 지형에 의거하여 험준한 변방 지역을 통제하였다. 랴오둥에 이르기까지 연장한 거리가 모두 1만여 리에 달하였고, 황허를 건너 양산현을 배경으로 구불구불 이어지며 북쪽으로 뻗었다. 10여 년 동안 전쟁에 나간 군사들이 야외에서 숙영하였기 때문에 몽염은 항시 상군(上郡)에 머물러 이들을 지휘하였다. 그의 위세가 (가) 을/를 두려움에 떨게 하였다.

- ① 다이센 고분을 조성하였다.
- ② 월지를 중앙아시아 방면으로 몰아냈다.
- ③ 사회 유지를 위해 8조의 법을 만들었다.
- ④ 남비엣을 멸망시키고 9군을 설치하였다.
- ⑤ 조정에서 선비어의 사용을 금지하는 조칙을 내렸다.

[21017-0210]

02

다음 자료에 나타난 시기 동아시아의 상황에 대한 학생들의 발표 내용으로 가장 적절한 것은?

30%~

- **홍노가 세운 전조**의 유요는 **갈족 출신의 석륵**을 책봉하였다. 이후 유요가 자신을 계속 의심하자 **석륵은 스스로 왕을 칭하며 자립**하였다. 10여 년 뒤 석륵은 유요를 공격하여 포로로 사로잡았고, 이듬해 전조를 멸망시켰다.
- 장안 서쪽에 거주하던 포훙은 전략이 뛰어나 여러 **저족**들이 복종하였다. 전조의 유요가 **진(晉)의 수도였던 장안을 점령하자** 유요에게 항복하였다. 이후 석륵이 전조를 멸망시키자 다시 석륵에게 협조하였다.

- ① 대조영이 **발해**를 세웠어요.
- ② **다이카 개신**이 단행되었어요.
- ③ 광무제가 **왜의 노국왕**에게 **금인**을 주었어요.
- ④ **신라**가 황해를 통해 **중국과 직접 교류**하였어요.
- ⑤ **낙랑(군)의 유민**이 한반도 남부로 이동하였어요.

[21017-0211]

03

다음 자료의 상황에 해당하는 사례를 알아보기 위한 탐구 활동으로 가장 적절한 것은?

지금 천하의 상황은 사람이 거꾸로 매달린 것과 같다. 무릇 천자는 천하의 머리이다. 어찌서인가? 위에 있어야 하기 때문이다. 오랑캐는 천하의 발이다. 어찌서인가? 밑에 있어야 하기 때문이다. 오랑캐에게 명령하는 것은 한족 황제의 권력이다. 천자에게 조공을 바치는 것은 신하가 갖추어야 할 예의이다. 지금은 반대로 발이 위에 놓여 있고 머리는 아래에 있어 천자가 신하에게 조공을 바치고 있다. 이렇게 거꾸로 매달려 있는 상황은 누구도 이해할 수 없을 것이다.

- ○○의 상소문 -

- ① 금과 남송의 관계를 알아본다.
- ② 히미코가 책봉 받은 경위를 조사한다.
- ③ 정화의 항해가 가져온 결과를 파악한다.
- ④ 사르후 전투가 일어난 배경을 찾아본다.
- ⑤ 윤관이 9성을 설치하는 과정을 정리한다.

[21017-0212]

04

다음 상황이 나타난 시기의 사실로 옳은 것은?

자위 626 ~ 649

태종이 석전(釋奠)*의 예를 올렸다. 이때 널리 천하의 명유를 불러 학관으로 삼은 뒤 자주 행차하여 치평(治平)의 이치 등에 대해 강론하게 하였고, 경전에 능통한 자가 있으면 과거에 응하는 것도 허락하였다. 사방의 학자들이 장안의 국자감으로 운집한 배경이 여기에 있다. …… 이 내 고구려, 신라를 비롯한 주변의 여러 나라에서도 자제를 보내 입학을 청하였다. 강연에 나가는 사람이 8,000여 명에 달하였는데, 가르치는 사람의 학설과 관련된 학파가 너무 많고 경전 글귀가 지나치게 복잡한 문제가 있었다. 이에 공영달에게 명하여 여러 유학자들과 함께 오경(五經)에 주석을 달아 정리하도록 하였다.

*석전(釋奠): 공자와 그 제자를 비롯한 유학자들을 제사 지내는 의식

- ① 안향이 성리학을 소개하였다. 1290
- ② 화번공주가 주변국에 보내졌다. **형양공주, 문성공주**
- ③ 전홍다오가 외적의 침입을 물리쳤다. 1257 1284 1287
- ④ 감진이 일본에 건너가 계율을 전파하였다. 753~
- ⑤ 당의 수도를 본떠 헤이조쿄가 건설되었다. 710



[21017-0213]

05

밑줄 친 '전쟁'에 대한 학생들의 발표 내용으로 가장 적절한 것은?

후지와라 세이카가 일찍이 내게 이런 말을 하였다. “나는 중국에 태어나지 못한 것이 참으로 한스럽습니다. 또 어째서 조선에서 태어나지 못하고 바로 이런 때에 일본에서 태어났을까요. 일찍이 신묘년 3월에 배를 타고 중국으로 건너가려 하였으나, 병에 걸려 도로 돌아왔습니다. 병이 좀 낫거든 조선으로 건너가려 하였는데, 전쟁이 벌어져 적국의 사람을 받아줄까 싶어 감히 바다를 건너가지 못하였습니다. 그대의 나라를 구경하지 못하는 건 아마 운명인가 봅니다.”

- ① 인조가 삼전도에서 항복하였어요. 1637
- ② 오삼계 등이 청에 맞서 일으켰어요. 1673 ~ 1681
- ③ 김충선이 여러 전투에서 공을 세웠어요.
- ④ 조선과 후금이 형제 관계를 수립하였어요. 1627
- ⑤ 조충을 앞세운 오다 노부나가가 세력을 확대하였어요. 1575

[21017-0214]

06

다음 자료에 나타난 공연에 대한 설명으로 옳은 것은?

잘생긴 남성이 여자의 모양으로 꾸몄는데, 의복과 수식이 찬란할 뿐 아니라 자색(姿色)이 또한 대단히 아름다웠다. 난간 안으로 다니며 공중을 향하여 손을 저으며 무슨 말을 무수히 하는데 원망하는 기색을 띠었으니, 하는 말이 서러운 사연인가 싶었다. 그윽히 말을 하다가 소리를 높여 노래를 부르는데, 탁자 위의 여러 가지 악기를 일시에 연주하여 그 곡조를 맞춘다. 노래가 그치자 음악도 그쳤는데 노는 법이 그러한가 싶었다. 이윽고 한 사람이 안에서 무대로 나오는데, 나올 때면 종을 여러 번 요란히 빠르게 쳤다. 얼굴에 먹을 광대처럼 흥하게 그린 그 사람은 향우의 역할을 맡아 좌우로 뛰놀며 여장을 한 배우와 대화를 주고받았다.

- 흥대용, 『음병연행록』 -

- ① 양반층의 위선을 풍자하였다.
- ② 베이징을 중심으로 유행하였다.
- ③ 심청가, 춘향가 등이 대표적이다.
- ④ 조년층으로부터 많은 인기를 모았다.
- ⑤ 유럽 인상파 화가들의 그림에 영향을 끼쳤다. 1681~

[21017-0215]

07 (가) 도시에 대한 학생들의 발표 내용으로 적절한 것은?

1678 ~

화륜선이 이틀 밤 동안 끓는 소리를 내더니 (가)에 도착하였네.

초량의 옛집은 조계(租界)로 나뉘고
부자 동네 새로운 마을에는 세관을 만들었다네.
긴 등불과 어책(漁冊), 어망을 거두어 가고
달빛 두른 장삿배는 돌아오는 복을 친다.

- ① 영국 상인이 신보를 창간하였어요. 1872
- ② 강화도 조약에 따라 개항되었어요.
- ③ 러일 전쟁을 종결하는 조약이 체결되었어요. 1905
- ④ 포츠머스 조약에 따라 일본이 차지하였어요.
- ⑤ 반제국주의를 목표로 아주 화친회가 결정되었어요. 1907

[21017-0216]

08 다음 자료에 나타난 시기 동아시아의 상황으로 옳은 것은?

1932. 3월 ~

우리 모두는 기차 안에서 “하늘과 땅 사이에 새로운 만주가 있다.”라고 시작되는 국가를 남더러 들으라는 듯이 목청껏 불렀다. 만주로 수학여행을 떠나기 직전에 부랴부랴 암기한 노래였다. 차 안의 만주 사람들도 스스로 만주 국민으로 생각하고 분명히 따라 부를 것이라고 믿었지만, 모두 모른 채하였다. 아마도 만주국이 세워진 직후이기 때문일 것으로 짐작하였다. 이 일을 마지막으로 2주일간의 수학여행 도중에 그 노래를 흥얼거리는 일은 두 번 다시 없었다.

- 당시 수학여행을 인솔한 교사 예구치 사부로의 회고 -

- ① 제2차 국공 합작이 이루어졌다.
- ② 타이완의 청년들이 징병되었다.
- ③ 조선 혁명군이 중국 의용군과 연합하였다.
- ④ 일본 군대가 난징에서 대학살을 자행하였다.
- ⑤ 무기 생산을 위해 금릉 기기국이 설치되었다. 1865

Mini Test 3

[21017-0217]

09

1950 ~ 1953

밑줄 친 '전쟁'이 전개된 시기의 사실로 옳은 것은?

내가 만난 한국인 중 많은 사람들은 미국이 지출하는 천문학적인 돈의 상당 부분이 일본인의 품으로 들어간다고 말한다. "일본인은 실속만 차리고 있다. 우리는 전쟁으로 시달리고 있는데 일본은 유엔군에 군수 물자를 공급하면서 특수, 신탁수로 편안하게 부흥하고 있다." 일본에 대해 꽤 친근감을 가지고 있는 사람도 마지막으로 이렇게 말하는 실정이다. 이러한 인식이 한국인의 대일 감정을 악화시키는 요소로 작용하고 있다.

- ① 리튼 조사단이 파견되었다. 1932
- ② 신헌법(평화 헌법)이 제정되었다. 1946
- ③ 닉슨 대통령이 중국을 방문하였다. 1972
- ④ 연합국이 한국의 독립을 약속하였다. 1943, 11월
- ⑤ 타이완이 일본과 평화 조약을 체결하였다.

[21017-0218]

10

(가)에 대한 설명으로 옳은 것은?

1992, 8월

한국이 중화 인민 공화국과 수교를 맺자, [가]은/는 한국과의 공식 외교 관계를 단절하고 한국에 대한 모든 무역 특혜의 철회와 민간 항공기의 취항 금지 등 보복 조치를 취한다고 발표하였다. [가]의 외교부는 이번에 한국이 새로 수교를 맺은 나라가 과거 북한이 한국을 침입하였을 때 북한 편에 서서 한국에 대규모로 파병하였음을 상기시켰고, 반면 자신들은 그간 한국의 충실한 동맹국이었다고 강조하였다. 이어 노태우 정부가 자신들의 신의를 저버리고 국제 정의를 짓밟았다며 한국에 대해 가장 강력한 불만과 분노를 표현한다고 밝혔다.

1988 ~ 1993

- ① 도이머이 정책을 통해 경제 성장에 나섰다.
- ② 외국 자본 유치를 위해 합영법을 제정하였다.
- ③ 고도성장을 바탕으로 55년 체제를 유지하였다.
- ④ 민주화 요구에 의해 복수 정당제를 도입하였다. 1986~
- ⑤ 6월 민주 항쟁의 결과 대통령 직선제로 개헌하였다.