

# 수능 특강

과학탐구영역 **화학II**

# 이 책의 차례 Contents

<b>I</b> 물질의 세 가지 상태와 용액	<b>01</b> 기체	6
	<b>02</b> 액체와 고체	23
	<b>03</b> 용액	46
<b>II</b> 반응 엔탈피와 화학 평형	<b>04</b> 반응 엔탈피	74
	<b>05</b> 화학 평형과 평형 이동	94
	<b>06</b> 산 염기 평형	122
<b>III</b> 반응 속도와 촉매	<b>07</b> 반응 속도	144
	<b>08</b> 반응 속도에 영향을 미치는 요인	162
<b>IV</b> 전기 화학과 이용	<b>09</b> 전기 화학과 이용	182

**학생 EBS 교재 문제 검색**  
EBS 단추에서 문항코드나 사진으로 문제를 검색하면 푸러봇이 해설 영상을 제공합니다.

**[22028-0001]**  
1. 아래 그래프를 이해한 내용으로 가장 적절한 것은?

※ EBS 사이트 및 모바일에서 이용이 가능합니다.  
※ 사진 검색은 EBSi 고교강의 앱에서만 이용하실 수 있습니다.

**교사 교사지원센터 교재 자료실**  
교재 문항 한글 문서(HWP)와 교재의 이미지 파일을 무료로 제공합니다.

**교재 자료실**

- 한글다운로드
- 교재이미지 활용
- 강의활용자료

※ 교사지원센터(<http://teacher.ebsi.co.kr>) 접속 후 '교사인증'을 통해 이용 가능

## 이 책의 구성과 특징 Structure

### 교육과정의 핵심 개념 학습과 문제 해결 능력 신장

[EBS 수능특강]은 고등학교 교육과정과 교과서를 분석·종합하여 개발한 교재입니다.

본 교재를 활용하여 대학수학능력시험이 요구하는 교육과정의 핵심 개념과 다양한 난이도의 수능형 문항을 학습함으로써 문제 해결 능력을 기를 수 있습니다. EBS가 심혈을 기울여 개발한 [EBS 수능특강]을 통해 다양한 출제 유형을 연습함으로써, 대학수학능력시험 준비에 도움이 되시길 바랍니다.



### 총실한 개념 설명과 보충 자료 제공

#### 1. 핵심 개념 정리

- 주요 개념을 요약·정리하고 탐구 상황에 적용하였으며, 보다 깊이 있는 이해를 돕기 위해 보충 설명과 관련 자료를 풍부하게 제공하였습니다.

#### 탐구자료 살펴보기

주요 개념의 이해를 돕고 적용 능력을 기를 수 있도록 시험 문제에 자주 등장하는 탐구 상황을 소개하였습니다.

#### 과학 돋보기

개념의 통합적인 이해를 돕는 보충 설명 자료나 배경 지식, 과학사, 자료 해석 방법 등을 제시하였습니다.

#### 2. 개념 체크 및 날개 평가

- 본문에 소개된 주요 개념을 요약·정리하고 간단한 퀴즈를 제시하여 학습한 내용을 갈무리하고 점검할 수 있도록 구성하였습니다.



### 단계별 평가를 통한 실력 향상

[EBS 수능특강]은 문제를 수능 시험과 유사하게 **2점 수능 테스트**와 **3점 수능 테스트**로 구분하여 제시하였습니다.

2점 수능 테스트는 필수적인 개념을 간략한 문제 상황으로 다루고 있으며, 3점 수능 테스트는 다양한 개념을 복잡한 문제 상황이나 탐구 활동에 적용하였습니다.

# I

# 물질의 세 가지 상태와 용액

## 2022학년도 대학수학능력시험 18번

18. 다음은 기체와 관련된 실험이다.

[화학 반응식]  
 $aA(g) + B(g) \rightarrow 2C(g)$  ( $a$ 는 반응 계수)

[실험 과정]  
 (가) 그림과 같이 온도  $T$ 에서 꼭지와 피스톤으로 분리된 실린더에  $A(g)$ ,  $B(g)$ ,  $He(g)$ 을 넣는다.

(나) 고정 장치를 모두 제거하고 충분한 시간이 흐른 후,  $He(g)$ 의 부피( $V_{He}$ )를 측정한다.  
 (다) 꼭지를 열어 반응이 완결되고 충분한 시간이 흐른 후,  $He(g)$ 의 압력( $P_{He}$ )을 측정한다.

[실험 결과]  
 ○ (나) 과정 후  $V_{He}$ 는  $\frac{4}{5}$  L이다.  
 ○ (다) 과정 후  $P_{He}$ 는  $\frac{5}{2}$  atm이고, 혼합 기체에서  $A(g)$ 의 몰 분율은  $\frac{1}{11}$ 이다.

(다) 과정 후  $A(g)$ 의 밀도( $g/L$ )는? (단, 온도는 일정하고, 연결관의 부피와 피스톤의 마찰은 무시한다.)

- ①  $\frac{5}{66}w$     ②  $\frac{5}{22}w$     ③  $\frac{5}{11}w$     ④  $\frac{5}{6}w$     ⑤  $\frac{5}{3}w$

## 2022학년도 EBS 수능완성 12쪽 6번

06

다음은 기체의 반응 실험이다.

• 21071-0015

[화학 반응식]  
 $aA(g) + B(g) \rightarrow 2C(g)$  ( $a$ 는 반응 계수)

[실험 과정]  
 (가) 온도  $T$ 에서 피스톤과 칸막이로 분리된 용기에  $A(g)$ ,  $B(g)$ ,  $He(g)$ 을 각각 그림과 같이 넣는다.

(나) 칸막이를 제거하고 한 기체가 모두 소모될 때까지 반응시킨다.  
 (다) 고정 장치를 제거한 후 충분한 시간 동안 놓아 둔다.

[실험 결과]  
 ○ (다) 과정 후  $He(g)$ 의 부피는 2 L,  $C(g)$ 의 부분 압력은 1 atm이다.

$\frac{a}{P}$ 는? (단, 온도는  $T$ 로 일정하고, 칸막이의 부피와 피스톤의 마찰은 무시한다.)

- ①  $\frac{1}{4}$     ②  $\frac{1}{3}$     ③  $\frac{2}{5}$     ④  $\frac{2}{3}$     ⑤  $\frac{3}{4}$

### 연계 분석

수능 18번 문항은 수능완성 12쪽 6번 문항과 연계하여 출제되었다. 두 문항 모두  $A(g)$ 와  $B(g)$ 가 반응하여  $C(g)$ 가 생성되는 반응의 화학 반응식에서  $A(g)$ 의 반응 계수를 미지수  $a$ 로 제시하였고, 피스톤 또는 칸막이로 분리된 실린더에 3가지 기체  $A(g)$ ,  $B(g)$ ,  $He(g)$ 이 들어 있는 초기 상황이 같다. 또한  $A(g)$ 와  $B(g)$ 의 반응이 완결된 후에  $He(g)$ 의 부피 또는 압력과 반응물 또는 생성물의 양에 대한 자료를 제시하고 있다. 이 자료를 이용하여 화학 반응식의 계수를 구하고, 기체의 성질과 화학 반응식의 양적 관계를 이용하여 반응 후 남은 반응물 및 생성물의 양(질량 또는 mol)과 압력을 구하여 문제를 해결하도록 하는 점에서 매우 유사하다. 따라서 이 문항은 연계 문항과 유사성이 매우 높다.

### 학습 대책

수능 18번 문항은 보일 법칙과 부분 압력 법칙, 그리고 몰 분율에 대한 개념을 통해 문제를 해결하는 문항이지만 샤를 법칙, 아보가드로 법칙 등도 동시에 고려하여 고난도 문항으로 출제되는 경우가 많으므로 반드시 다양한 유형의 문항을 많이 풀어보는 것이 필요하다. 아울러 수능 18번 문항과 같이 화학 I에서의 화학 반응식의 양적 관계를 응용하는 경우가 많으므로 화학 반응식의 양적 관계 문항에 대한 꾸준한 학습도 함께 병행되어야 한다.

## 수능 \_ EBS 교재 연계 사례

## 2022학년도 6월 모의평가 4번

4. 다음은 1 atm에서 물질 X~Z에 대한 자료이다. X~Z는 각각 HF, HCl, F<sub>2</sub> 중 하나이다.

- 끓는점은 HF가 가장 높다.
- X의 끓는점에서 Y와 Z는 각각 액체와 기체 상태로 존재한다.

이에 대한 설명으로 옳은 것만을 <보기>에서 있는 대로 고른 것은? (단, H, F, Cl의 원자량은 각각 1, 19, 35.5이다.) [3점]

—<보기>—

- ㄱ. Y는 HF이다.
- ㄴ. X(l) 분자 사이에 쌍극자·쌍극자 힘이 존재한다.
- ㄷ. 기준 끓는점은 Z가 Cl<sub>2</sub>보다 낮다.

- ① ㄴ      ② ㄷ      ③ ㄱ, ㄴ      ④ ㄱ, ㄷ      ⑤ ㄱ, ㄴ, ㄷ

## 2022학년도 EBS 수능특강 41쪽 4번

[21028-0040]

04 다음은 1 atm에서 물질 (가)~(라)에 대한 자료이다.

- (가)~(라)는 각각 H<sub>2</sub>O, HCl, F<sub>2</sub>, Br<sub>2</sub> 중 하나이다.
- 끓는점은 (가)>(나)>(다)>(라)이다.
- (가)와 (다)는 각각 분자 간에 쌍극자·쌍극자 힘이 작용한다.
- (가)~(라) 중 25°C에서 기체인 것은 2가지이다.

액체 상태에서 (가)~(라)에 대한 설명으로 옳은 것만을 <보기>에서 있는 대로 고른 것은? (단, 분자량은 Br<sub>2</sub>>F<sub>2</sub>>HCl>H<sub>2</sub>O이다.)

ㄱ 보기

- ㄱ. (가)가 (다)보다 끓는점이 높은 주된 요인은 수소 결합이다.
- ㄴ. (나)가 (라)보다 끓는점이 높은 주된 요인은 분산력이다.
- ㄷ. (다)가 (라)보다 끓는점이 높은 주된 요인은 쌍극자·쌍극자 힘이다.

- ① ㄱ      ② ㄷ      ③ ㄱ, ㄴ      ④ ㄴ, ㄷ      ⑤ ㄱ, ㄴ, ㄷ

## 연계 분석

6월 모의평가 4번 문항은 수능특강 41쪽 4번 문항과 연계하여 출제되었다. 두 문항은 모두 분자 간 작용하는 힘의 종류와 크기를 비교할 수 있는 물질이 제시되었고, 주어진 끓는점과 상태에 대한 자료를 통해 물질들을 파악하여 문제를 해결하도록 하는 점에서 매우 유사하다. 또한 두 문항 모두 주어진 물질이 어떤 물질인지를 파악한 후 분자 간 작용하는 힘인 수소 결합, 분산력, 쌍극자·쌍극자 힘과 관련하여 이해하고 있는지와 이러한 힘이 끓는점과 어떠한 관계에 있는지를 묻는 점도 유사하다. 따라서 이 문항은 연계 문항과 유사성이 매우 높다.

## 학습 대책

분자 간 작용하는 힘에 관련된 문항은 출제 빈도가 매우 높은 편이다. 이러한 문항들에서는 보통 몇 가지 물질들과 이 물질들을 구분할 수 있는 자료들이 제시되고, 이를 통해 분자 간 작용하는 힘의 종류 및 크기 비교, 힘의 종류가 끓는점 및 상태에 미치는 영향 등에 대해 묻고 있다. 따라서 분산력이 작용하는 할로젠 이원자 분자인 F<sub>2</sub>, Cl<sub>2</sub>, Br<sub>2</sub>과 14족 원소의 수소 화합물인 CH<sub>4</sub>, SiH<sub>4</sub>의 분자 간 힘과 끓는점 경향성, 그리고 할로젠 수소 화합물인 HF, HCl, HBr의 분자 간 힘과 끓는점 경향성에 대해 명확하게 학습을 하는 것이 중요하다. 어려운 개념이 아니므로 자주 출제되는 물질에 대해 사전에 학습해 놓으면 쉽게 문제를 해결할 수 있다.

## 개념 체크

● **보일 법칙** : 일정한 온도에서 일정량의 기체의 압력과 부피의 곱은 항상 일정하다.

→ 일정한 온도에서 실린더에 압력을 가하면 실린더 외부 압력이 내부 압력보다 커지므로 실린더의 내부 압력과 외부 압력이 같아질 때까지 실린더 내부의 부피가 감소한다.

1. He과 Ne이 한 용기 속에 들어 있을 때 기체의 부피는 He과 Ne이 같다. (○, ×)

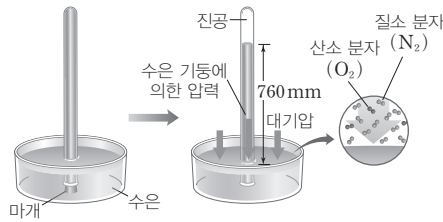
2. 일정한 온도에서 일정량의 기체의 압력은 부피에 ( )한다.

3. 물속에서 잠수부가 호흡할 때 내뿜는 기포는 수면에 가까워질수록 받는 ( )이 감소하므로 부피가 점점 ( )진다.

## 1 기체의 성질

### (1) 기체의 압력과 부피

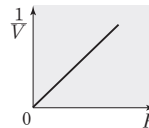
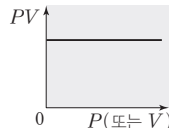
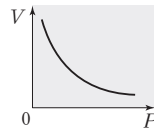
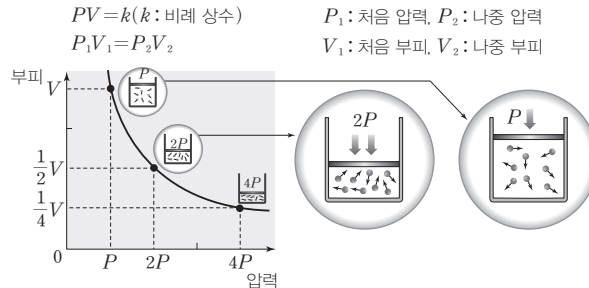
- 기체의 압력 : 기체 분자들은 자유롭게 운동하면서 기체가 담긴 용기의 벽에 충돌하여 힘을 가하는데, 이로 인해 기체의 압력이 나타난다.
- 대기 압력의 측정 : 1643년 토리첼리는 수은을 채운 유리관을 이용하여 대기 압력을 측정하였다. 이때 해수면에서 측정한 수은 기둥 높이 760 mm에 해당하는 대기 압력을 1 atm이라고 한다.



$$1 \text{ atm} = 760 \text{ mmHg}$$

- 기체의 부피 : 기체 분자들이 운동하는 공간을 의미하며, 기체는 용기 전체로 퍼지는 성질이 있으므로 기체의 부피는 항상 기체가 들어 있는 용기의 부피와 같다. 또한 2가지 이상의 기체가 한 용기에 들어 있을 때에도 각 기체의 부피는 용기의 부피와 같다.

(2) **보일 법칙** : 일정한 온도에서 일정량의 기체의 부피( $V$ )는 압력( $P$ )에 반비례한다. 즉, 일정한 온도에서 일정량의 기체의 압력과 부피의 곱은 항상 일정하다.



기체의 양(mol)과 온도( $T$ ) 일정

### ① 일상생활에서 보일 법칙 사례

- 자동차가 충돌할 때 팽창한 에어백은 사람과 부딪히면서 압력을 받게 되고 부피가 줄어들면서 사람에게 가해지는 충격이 완화된다.
- 물속에서 잠수부의 호흡으로 만들어진 기포는 수면에 가까워질수록 받는 압력이 감소하므로 크기가 점점 커진다.
- 하늘로 날린 풍선은 위로 올라가면서 대기 압력이 감소하므로 크기가 점점 커진다.

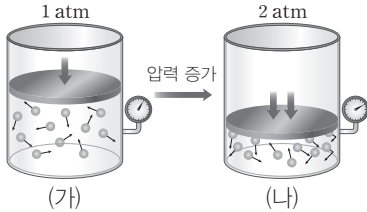
정답

- 
- 반비례
- 압력, 커

개념 체크

● **기체의 압력** : 기체 분자가 용기의 벽에 충돌하여 힘을 가해 기체의 압력이 나타난다. 단위 면적당 충돌 횟수가 많을수록, 충돌의 세기가 증가할수록 기체의 압력이 커진다.

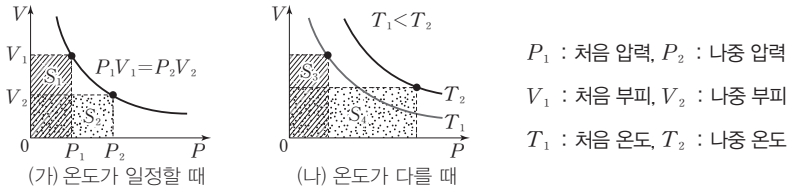
② **기체 분자 운동과 보일 법칙** : 일정한 온도에서 외부 압력을 2배로 하면 기체의 부피가  $\frac{1}{2}$ 로 줄어든다. 따라서 단위 부피당 분자 수가 2배로 증가하여 단위 면적당 충돌 횟수도 2배로 증가한다. 충돌 횟수가 2배로 증가하면 단위 면적에 미치는 힘의 크기도 2배로 증가하므로 기체의 압력이 2배가 된다.



온도, 분자 수	압력	부피
(가)=(나)	(가)<(나)	(가)>(나)
단위 면적당 충돌 횟수	평균 운동 에너지	평균 속력
(가)<(나)	(가)=(나)	(가)=(나)

탐구자료 살펴보기 보일 법칙과 그래프

**자료** 온도가 일정할 때와 온도가 다를 때 일정량의 기체의 압력에 따른 부피 비교



**분석** (가) : 부피 축과 압력 축에 각각 그은 수선 아래 면적은 압력과 부피의 곱으로, 온도가 일정할 때 어느 점에서나 같은 값을 갖는다( $S_1 = S_2$ ).

(나) : 온도가 다른 경우 부피 축과 압력 축에 그은 수선 아래 면적은 높은 온도에서가 낮은 온도에서보다 항상 크다 ( $S_3 < S_4$ ).

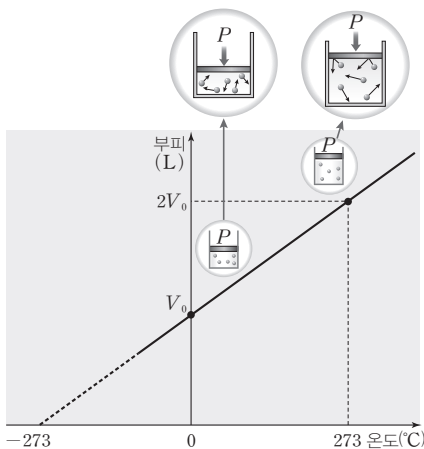
**Point** 기체의 양(mol)과 압력이 일정할 때 기체의 부피는 절대 온도에 비례하고, 기체의 양(mol)과 부피가 일정할 때 기체의 압력은 절대 온도에 비례한다. 따라서 (나)에서 온도가 증가하면 부피 축에 그은 수선 아래의 면적은 증가한다.

1. 25°C, 1 atm에서 일정량의 기체 X의 부피가 100 mL일 때, 같은 온도에서 압력을 2 atm으로 높이면 부피는 ( ) mL이다.

2. 일정한 온도에서 기체의 부피가 증가하면 기체 분자가 용기의 단위 면적에 충돌하는 횟수가 ( )하므로 기체의 압력은 ( )한다.

3. 일정한 압력에서 일정량의 기체의 부피는 온도가 1°C 높아질 때마다 0°C 때 부피( $V_0$ )의 ( )씩 증가한다.

(3) **샤를 법칙** : 일정한 압력에서 일정량의 기체의 부피( $V$ )는 절대 온도( $T$ )에 비례한다. 온도가 1°C 상승할 때마다 0°C 때 부피( $V_0$ )의  $\frac{1}{273}V_0$ 씩 증가한다.



$$V = V_0 + \frac{V_0}{273}t = \frac{V_0}{273}(273 + t)$$

( $V_0$ : 0°C일 때의 부피)

절대 온도( $T$ ) = 섭씨온도( $t$ ) + 273

$$V = \frac{V_0}{273}T \text{이다.}$$

$\frac{V_0}{273}$ 는 일정한 상숫값이므로  $k$ 로 나타내면

$$V = kT \text{이다}(k: \text{비례 상수}).$$

$$\Rightarrow V \propto T$$

$$\frac{V_1}{T_1} = \frac{V_2}{T_2}$$

정답

- 50
- 감소, 감소
- $\frac{1}{273}V_0$

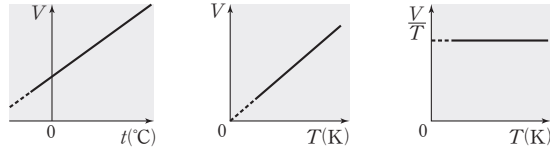
개념 체크

● **샤를 법칙** : 압력이 일정할 때 일정량의 기체의 부피는 절대 온도에 비례한다.

➔ 일정한 압력에서 실린더 속에 들어 있는 기체의 온도를 높이면 실린더 내부 압력이 외부 압력보다 커지므로 실린더의 내부 압력과 외부 압력이 같아질 때까지 실린더 내부의 부피가 증가한다.

1. 일정한 압력에서 일정량의 기체의 부피는 절대 온도에 ( ) 한다.

2. 일정한 압력에서 일정량의 기체의  $\frac{\text{부피}(V)}{\text{절대 온도}(T)}$ 는 ( ) 하다.

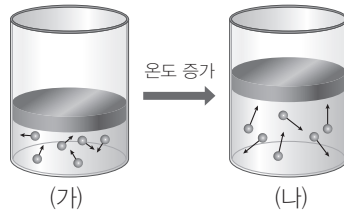


기체의 양(mol)과 압력(P) 일정

① 일상생활에서 샤를 법칙 사례

- 찌그러진 탁구공을 뜨거운 물에 넣으면 탁구공이 펴진다.
- 자동차 타이어는 추운 겨울철이 여름철보다 부피가 줄어들어 공기를 더 주입한다.
- 풍선을 액체 질소에 넣으면 쭈그러들고 꺼내면 다시 원래의 모양이 된다.
- 열기구에 열을 가하면 기체의 부피가 팽창하여 밀도가 줄어들어 위로 뜬다.

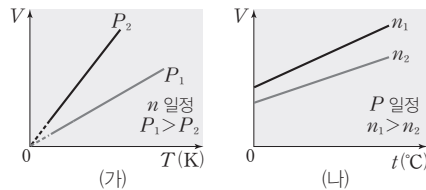
② **기체 분자 운동과 샤를 법칙** : 일정한 압력에서 실린더 속에 들어 있는 기체의 온도를 높이면 기체 분자의 평균 운동 에너지가 증가하여 기체 분자가 더 빠르게 운동한다. 이때 실린더 내부 벽면에 충돌하는 기체 분자의 단위 시간당 충돌 횟수와 충돌의 세기가 증가하게 된다. 따라서 실린더 내부의 압력이 높아지고 실린더 내부의 압력(기체의 압력)과 외부 압력이 같아질 때까지 용기 내부의 부피가 증가하게 된다. 또한 이때 부피가 증가하여 일정하게 된 후의 압력은 온도를 높이기 전의 압력과 같다.



압력, 분자 수	온도	부피
(가)=(나)	(가)<(나)	(가)<(나)
평균 운동 에너지		평균 속력
(가)<(나)		(가)<(나)

탐구자료 살펴보기 샤를 법칙과 그래프

**자료** 기체의 압력(P)이 다를 때와 양(mol)이 다를 때 온도와 부피(V)의 관계



**분석** (가) : 일정량의 기체에서 압력(P)이 서로 다를 때 절대 온도(T)에 따른 기체의 부피(V)를 나타낸 것이다. 온도가 일정한 경우 압력이 작을수록 부피가 크므로  $P_1 > P_2$ 임을 알 수 있으며, 기울기인  $\frac{V}{T}$ 는 압력 P가 일정할 때는 항상 같은 값을 갖는다.

(나) : 압력(P)이 같을 때 섭씨온도(t)에 따른 기체의 부피(V)를 나타낸 것이다. 같은 온도에서 기체의 부피는 기체의 양(mol)에 비례하므로 기체의 양(mol)은  $n_1 > n_2$ 이다.

**Point**

기체의 양(mol)과 온도가 일정할 때 기체의 부피는 압력에 반비례하고, 기체의 온도와 압력이 일정할 때 기체의 부피는 기체의 양(mol)에 비례한다.

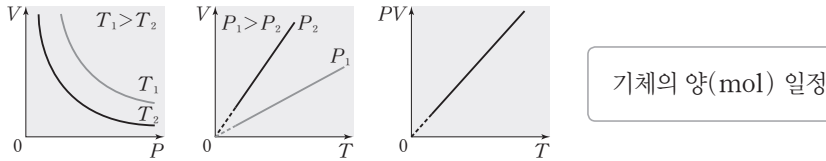
정답

1. 비례
2. 일정



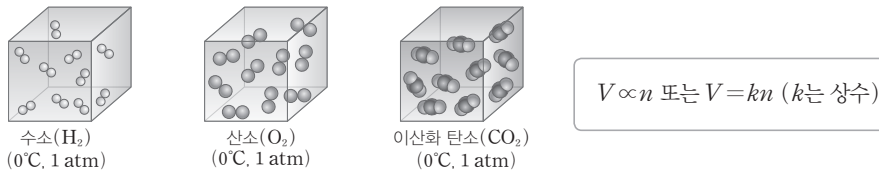
(4) **보일·샤를 법칙**: 일정량의 기체에 대해 기체의 부피( $V$ ), 압력( $P$ ), 절대 온도( $T$ ) 사이의 관계를 정리한 것으로, 부피( $V$ )는 압력( $P$ )에 반비례하고, 절대 온도( $T$ )에 비례한다.

• 보일 법칙:  $V \propto \frac{1}{P}$       • 샤를 법칙:  $V \propto T$   
 • 보일·샤를 법칙:  $V \propto \frac{T}{P} \Rightarrow \frac{PV}{T} = k, \frac{P_1V_1}{T_1} = \frac{P_2V_2}{T_2} = k$   
 (  $k$  : 상수,  $P_1$  : 처음 압력,  $V_1$  : 처음 부피,  $T_1$  : 처음 온도,  $P_2$  : 나중 압력,  $V_2$  : 나중 부피,  $T_2$  : 나중 온도 )



(5) **아보가드로 법칙**: 온도와 압력이 일정할 때 기체의 종류에 관계없이 같은 부피의 기체는 기체의 양(mol)이 같다.

① 일정한 온도와 압력에서 기체의 부피( $V$ )는 기체의 종류에 관계없이 기체의 양(mol)에 비례한다.



② 기체 1 mol의 부피: 0°C, 1 atm에서 기체 1 mol의 부피는 기체의 종류에 관계없이 22.4 L이다.

(6) **이상 기체 방정식**: 기체의 압력( $P$ )과 부피( $V$ ), 기체의 양(mol), 절대 온도( $T$ ) 사이의 관계를 나타낸 방정식이다.

$$PV = nRT$$

(  $P$  : 기체의 압력(atm),  $V$  : 기체의 부피(L),  $n$  : 기체의 양(mol)  
 (  $R$  : 기체 상수 (=0.082 atm·L/(mol·K)),  $T$  : 절대 온도(K) )

① 이상 기체는 분자 간 인력 또는 반발력이 작용하지 않고, 기체 분자 자체의 부피를 무시할 수 있는 가상적인 기체이다.

② 기체의 분자량 측정: 이상 기체 방정식을 이용하여 기체 분자의 분자량을 구할 수 있다.

→ 어떤 기체의 분자량을  $M$ 이라고 하면 기체의 양(mol)  $n = \frac{w}{M}$  ( $w$  : 기체의 질량)이므로 다음과 같이 이상 기체 방정식을 이용하여 분자량을 구할 수 있다.

$$n = \frac{PV}{RT} \Rightarrow \frac{w}{M} = \frac{PV}{RT} \Rightarrow M = \frac{wRT}{PV}$$

**개념 체크**

- **보일·샤를 법칙**: 일정량의 기체의 부피는 압력에 반비례하고, 절대 온도에 비례한다.
- **이상 기체 방정식**: 보일 법칙, 샤를 법칙, 아보가드로 법칙을 하나의 관계식으로 모두 표현한 방정식이다.  
→  $PV = nRT$

1. 일정량의 기체의 온도와 압력이 변해도  $\frac{PV}{T}$ 는 ( ) 하다.
2. 일정량의 기체의 절대 온도( $T$ )에 따른 부피( $V$ ) 그래프에서 기울기는 기체의 압력( $P$ )이 클수록 ( ) 진다.
3. 일정한 압력에서 기체의 절대 온도( $T$ )에 따른 부피( $V$ ) 그래프에서 기울기는 기체의 양(mol)이 ( ) 수록 크다.
4. ( )은 기체의 압력( $P$ ), 부피( $V$ ), 기체의 양(mol), 절대 온도( $T$ ) 사이의 관계를 나타낸 방정식이다.
5. 이상 기체 방정식으로 ( ) 법칙, 샤를 법칙, 아보가드로 법칙을 설명할 수 있다.
6. ( )은 분자 사이의 인력이나 반발력이 작용하지 않고, 분자 자체의 부피를 무시할 수 있는 가상의 기체이다.
7. 기체의 질량( $w$ ), 압력( $P$ ), 부피( $V$ ), 절대 온도( $T$ )를 이용하여 분자량( $M$ )을 구하면 ( )이다.

**정답**

1. 일정    2. 작아
3. 클      4. 이상 기체 방정식
5. 보일    6. 이상 기체
7.  $\frac{wRT}{PV}$

## 개념 체크

● **기체 분자 운동론** : 기체 분자의 자유로운 운동을 토대로 기체의 법칙을 설명하기 위해 제안된 이론이다.

● 기체 분자들이 운동하면서 기체가 담긴 용기의 벽에 충돌하여 힘을 가해 기체의 압력이 나타난다.

1. 기체 분자 운동론에 의하면 기체 분자 사이에는 ( )이나 ( )이 작용하지 않는다.

2. 기체 분자들이 운동하면서 용기 벽에 충돌하여 기체의 ( )이 나타난다.

3. 기체 분자의 평균 운동 에너지는 ( )에 비례한다.

4. 온도와 부피가 일정할 때 기체의 압력은 ( )에 비례한다.

(7) **기체 분자 운동론** : 기체 분자의 운동을 설명하기 위한 이론을 기체 분자 운동론이라고 하는데, 기체 분자 운동론은 다음과 같은 가정을 바탕으로 두고 있으며, 이와 같은 특성을 가지는 기체를 이상 기체라고 한다.

- ① 기체 분자 자체의 크기는 기체가 차지하는 전체 부피에 비하여 매우 작으므로 무시한다.  
→ 절대 영도(0 K)에서 기체의 부피는 0이다.
- ② 기체 분자 간에는 인력이나 반발력이 작용하지 않는다.  
→ 모든 온도와 압력에서 이상 기체 방정식을 만족한다.
- ③ 기체 분자들은 무질서한 방향으로 끊임없이 불규칙한 직선 운동을 한다.
- ④ 기체 분자는 완전 탄성체로서 충돌에 의한 에너지 손실이 없다.
- ⑤ 기체 분자의 평균 운동 에너지( $E_k$ )는 절대 온도( $T$ )에만 비례하며 분자의 크기, 모양 및 종류와는 관계없다( $E_k \propto T$ ).

① **보일 법칙과 기체 분자 운동론** : 온도가 일정할 때 기체 분자들의 평균 운동 속력은 일정하므로 기체가 들어 있는 실린더 내부 벽에 충돌할 때 일정한 압력을 유지한다. 이때 외부 압력을 증가시키면 다음과 같은 과정을 통해 기체의 부피가 감소한다.

$P_{\text{외부}} \text{ 증가} \Rightarrow P_{\text{외부}} > P_{\text{내부}} \Rightarrow V \text{ 감소} \Rightarrow$  실린더 내부 기체 분자들의 충돌 수 증가  
 $\Rightarrow P_{\text{내부}} \text{ 증가} \Rightarrow P_{\text{외부}} = P_{\text{내부}}$  일 때 부피 일정하게 유지

② **샤를 법칙과 기체 분자 운동론** : 기체의 온도가 높아지면 기체 분자의 평균 운동 에너지가 증가하면서 기체 분자의 평균 운동 속력이 증가한다. 이때 기체가 들어 있는 실린더 내부 벽에 충돌하는 충돌 수 및 충돌의 세기가 증가하면서 내부 압력이 증가하고, 기체의 부피가 증가한다.

$T \text{ 증가} \Rightarrow$  기체 분자의 충돌 수 및 충격량 증가  $\Rightarrow P_{\text{내부}} \text{ 증가} \Rightarrow P_{\text{내부}} > P_{\text{외부}}$   
 $\Rightarrow V \text{ 증가} \Rightarrow$  분자 사이 거리 멀어지면서 실린더 내부 기체 분자들의 충돌 수 감소  
 $\Rightarrow P_{\text{내부}} \text{ 감소} \Rightarrow P_{\text{외부}} = P_{\text{내부}}$  일 때 부피 일정하게 유지

③ **아보가드로 법칙과 기체 분자 운동론** : 기체 분자의 양(mol)이 증가하면 다음과 같은 과정을 통해 기체의 부피가 증가한다.

기체 분자의 양(mol) 증가  $\Rightarrow$  실린더 내부 기체 분자들의 충돌 수 증가  $\Rightarrow P_{\text{내부}} \text{ 증가}$   
 $\Rightarrow P_{\text{내부}} > P_{\text{외부}} \Rightarrow V \text{ 증가} \Rightarrow$  분자 사이 거리 멀어지면서 실린더 내부 기체 분자들의  
충돌 수 감소  $\Rightarrow P_{\text{내부}} \text{ 감소} \Rightarrow P_{\text{외부}} = P_{\text{내부}}$  일 때 부피 일정하게 유지

## 2 혼합 기체와 부분 압력

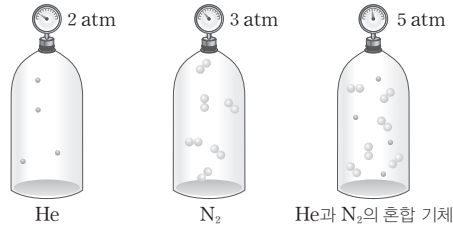
### (1) 부분 압력 법칙

① **부분 압력과 전체 압력** : 서로 반응하지 않는 2가지 이상의 기체가 같은 용기 속에 혼합되어 있을 때, 각 성분 기체가 나타내는 압력을 각 성분 기체의 부분 압력이라고 하며, 혼합된 각 기체의 부분 압력의 합을 전체 압력이라고 한다.

정답

1. 인력, 반발력
2. 압력
3. 절대 온도
4. 기체의 양(mol)

예 같은 온도에서 같은 부피의 용기 속에 들어 있는 2 atm의 헬륨(He) 기체와 3 atm의 질소(N<sub>2</sub>) 기체를 같은 부피의 동일한 용기에 함께 넣어 혼합하면 전체 압력은 5 atm이 된다.



② 부분 압력 법칙: 일정한 온도  $T$ 에서  $n_A$ 만큼의 양(mol)의 기체 A를 부피가  $V$ 인 용기에 넣었을 때의 압력을  $P_A$ 라고 하고,  $n_B$ 만큼의 양(mol)의 기체 B를 부피가  $V$ 인 용기에 넣었을 때의 압력을  $P_B$ 라고 하면, 이상 기체 방정식으로부터 다음과 같은 관계식이 성립한다.

$$P_A = \frac{n_A RT}{V}, \quad P_B = \frac{n_B RT}{V}$$

같은 온도에서 서로 반응하지 않는  $n_A$ 만큼의 양(mol)의 기체 A와  $n_B$ 만큼의 양(mol)의 기체 B를 부피가  $V$ 인 용기에 함께 넣어 혼합하면 혼합 기체의 전체 압력  $P_T$ 는 전체 양(mol)인  $n_A + n_B$ 에 비례한다.

$$P_T = (n_A + n_B) \frac{RT}{V} = P_A + P_B$$

따라서  $P_T = P_A + P_B$ 임을 알 수 있다. 1801년 돌턴은 혼합 기체의 전체 압력은 각 성분 기체의 부분 압력의 합과 같다는 사실을 밝혀냈고, 이것을 부분 압력 법칙이라고 한다.

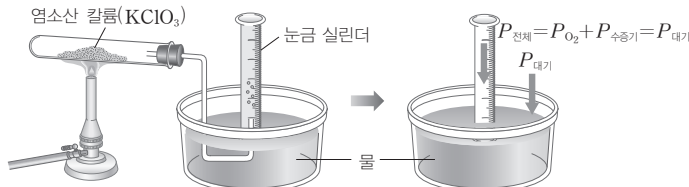
## 개념 체크

● 부분 압력 법칙: 혼합 기체의 전체 압력은 각 성분 기체의 부분 압력의 합과 같다.

1. 서로 반응하지 않는 2가지 이상의 기체가 한 용기 속에 혼합되어 있을 때 각 성분 기체가 나타내는 압력을 각 성분 기체의 ( )이라고 한다.
2. 혼합 기체의 전체 압력은 각 성분 기체의 부분 압력의 ( )과 같다.
3. 부피가  $V$ 인 용기 속에 절대 온도가  $T$ 인 기체 A, B가 혼합되어 있을 때 기체 A의 양(mol)이  $n_A$ 라면 부분 압력  $P_A = ( )$ 이다.

## 탐구자료 살펴보기 기체의 분자량 측정

### 실험 과정



1. 시험관에 고체 염소산 칼륨(KClO<sub>3</sub>)을 넣고 시험관의 질량( $w_1$ )을 측정 후 그림과 같이 장치하여 가열한다.
2. 염소산 칼륨이 열분해되면서 발생하는 기체를 물이 가득 들어 있는 눈금 실린더에 포집한다.
3. 기포 발생이 멈추면 눈금 실린더 안과 밖의 수면 높이를 같게 하여 포집한 기체의 부피( $V$ )를 측정한다.
4. 물의 온도( $T$ )와 대기압( $P_{\text{대기}}$ )을 측정하고,  $T$ (K)에서의 물의 수증기압( $P_{\text{수증기}}$ )을 문헌값을 통해 확인한다.
5. 시험관이 식으면 시험관의 질량( $w_2$ )을 다시 측정한다.
6. 이 실험에서 측정한 결과로부터 이상 기체 방정식을 이용하여 기체의 분자량( $M$ )을 계산한다.

### 실험 결과

- 눈금 실린더에 포집한 기체는 순수한 산소가 아니라 눈금 실린더 속 물 표면에서 증발한 수증기도 포함되므로 눈금 실린더 속 전체 압력( $P_{\text{전체}}$ )은 산소의 부분 압력( $P_{\text{O}_2}$ )과 수증기의 부분 압력( $P_{\text{수증기}}$ )을 합한 값이다.
- 발생한 산소 기체의 질량( $w$ )은  $(w_1 - w_2)$ 이며, 산소 기체의 부분 압력( $P_{\text{O}_2}$ )은  $(P_{\text{대기}} - P_{\text{수증기}})$ 이다.
- 측정한 결과를 이상 기체 방정식에 대입하여 산소 기체의 분자량( $M_{\text{O}_2}$ )을 계산한다.

### 분석 Point

$$PV = nRT = \frac{w}{M} RT \text{에서 기체의 분자량 } M = \frac{wRT}{PV} \text{ 이므로 } M_{\text{O}_2} = \frac{(w_1 - w_2)RT}{(P_{\text{대기}} - P_{\text{수증기}})V} \text{ 이다.}$$

### 정답

1. 부분 압력
2. 합
3.  $\frac{n_A RT}{V}$

개념 체크

● **몰 분율** : 성분 기체의 양(mol)을 전체 양(mol)으로 나눈 값이며, 몰 분율에 전체 압력을 곱해 주면 성분 기체의 부분 압력을 구할 수 있다.

1. 혼합 기체에서 각 성분 기체의 ( )은 각 성분 기체의 양(mol)을 전체 기체의 양(mol)으로 나눈 값이다.
2. 혼합 기체에서 성분 기체의 부분 압력은 ( )에 성분 기체의 몰 분율을 곱한 값이다.
3. He과 Ne이 한 용기에 1:2의 몰비로 혼합되어 있을 때 부분 압력비는  $P_{He} : P_{Ne} = ( )$ 이다.

(2) 몰 분율

① **몰 분율** : 혼합 기체에서 각 성분 기체의 양(mol)을 전체 기체의 양(mol)으로 나눈 값을 그 기체의 몰 분율이라고 한다. 용기 속에 기체 A, B가 각각  $n_A$  mol,  $n_B$  mol이 존재하면 각 기체의 몰 분율은 다음과 같다.

$$A \text{의 몰 분율}(X_A) = \frac{A \text{의 양(mol)}}{\text{전체 기체의 양(mol)}} = \frac{n_A}{n_A + n_B}$$

$$B \text{의 몰 분율}(X_B) = \frac{B \text{의 양(mol)}}{\text{전체 기체의 양(mol)}} = \frac{n_B}{n_A + n_B}$$

② **부분 압력과 몰 분율** : 혼합 기체에서 각 성분 기체의 부분 압력은 다른 기체에 영향을 받지 않으며, 그 기체의 몰 분율에 비례한다. 즉, 혼합 기체에서 각 성분 기체의 부분 압력은 전체 압력( $P_T$ )에 그 기체의 몰 분율을 곱한 값과 같다.

$$P_A = P_T \times \frac{n_A}{n_A + n_B} = P_T \times X_A$$

$$P_B = P_T \times \frac{n_B}{n_A + n_B} = P_T \times X_B$$

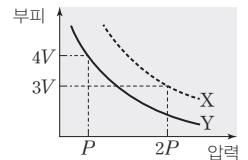
$$\left( \begin{array}{l} P_T : \text{전체 압력, } P_A, P_B : A, B \text{의 부분 압력} \\ n_A, n_B : A, B \text{의 양(mol)} \\ X_A, X_B : A, B \text{의 몰 분율} \end{array} \right)$$

기출문제 다시보기

기체의 성질

2022학년도 6월 모의평가

그림은 X(g)와 Y(g)의 부피를 압력에 따라 나타낸 것이다. X(g)와 Y(g)의 온도는 각각 T K와 2T K이고, X(g)의 질량은 Y(g)의 2배이다.



이에 대한 설명으로 옳은 것만을 <보기>에서 있는 대로 고른 것은? [3점]

보기

- ㄱ. 분자 수는 X가 Y의 3배이다.
- ㄴ. 분자량은 X가 Y의  $\frac{2}{3}$ 배이다.
- ㄷ. 압력이 P일 때,  $\frac{2T \text{ K에서 } X(g) \text{의 밀도}}{T \text{ K에서 } Y(g) \text{의 밀도}} = \frac{1}{3}$ 이다.

- ① ㄱ                      ② ㄷ                      ③ ㄱ, ㄴ                      ④ ㄴ, ㄷ                      ⑤ ㄱ, ㄴ, ㄷ

**해설** ㄱ. 이상 기체 방정식에서 기체의 양(mol)은  $\frac{\text{압력} \times \text{부피}}{\text{온도}}$ 에 비례한다. 따라서 기체의 몰비는 X(g) : Y(g) =  $\frac{2P \times 3V}{T} : \frac{P \times 4V}{2T} = 3 : 1$ 이므로 분자 수는 X가 Y의 3배이다.

ㄴ. 기체의 질량은 X(g)가 Y(g)의 2배이고, 기체의 양(mol)은 X가 Y의 3배이므로 분자량은 X가 Y의  $\frac{2}{3}$ 배이다.

ㄷ. 기체의 압력이 일정할 때 기체의 밀도는  $\frac{\text{분자량}}{\text{온도}}$ 에 비례하므로 압력이 P일 때, 기체의 밀도비는 X(g) : Y(g) =  $\frac{2}{2T} : \frac{3}{T} = 1 : 3$ 이다. 따라서  $\frac{2T \text{ K에서 } X(g) \text{의 밀도}}{T \text{ K에서 } Y(g) \text{의 밀도}} = \frac{1}{3}$ 이다. 답 ⑤

정답

1. 몰 분율
2. 전체 압력
3. 1:2

## 기출문제 다시보기

## 기체의 반응과 성질

2022학년도 대수능

다음은 A(g)로부터 B(g)가 생성되는 반응의 화학 반응식이다.

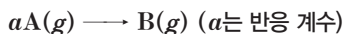
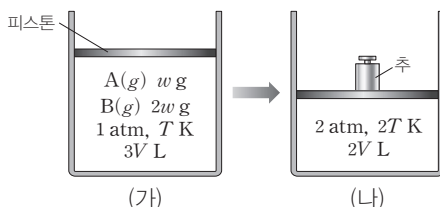


그림 (가)는  $T$  K에서 실린더에 A(g)와 B(g)가 들어 있는 초기 상태를, (나)는  $2T$  K에서 (가)의 피스톤 위에 추를 올려 외부 압력을 증가시킨 후 A(g)의 일부가 반응한 상태를 나타낸 것이다. (나)에서 A(g)의 부분 압력은  $\frac{2}{3}$  atm이다.



(나)에서  $\frac{\text{B의 질량(g)}}{\text{A의 질량(g)}}$ 은? [3점]

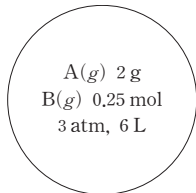
- ① 8                      ② 7                      ③ 6                      ④ 5                      ⑤ 4

**해설** 이상 기체 방정식  $PV = nRT$ 에서 기체의 양(mol)은  $\frac{PV}{RT}$ 에 비례하므로 실린더에 들어 있는 전체 기체의 몰비는 (가) : (나) =  $\frac{3V}{RT} : \frac{2V}{RT} = 3 : 2$ 이다. (나)에서 전체 기체의 압력은 2 atm이고, A(g)의 부분 압력은  $\frac{2}{3}$  atm이므로 B(g)의 부분 압력은  $\frac{4}{3}$  atm이다. 따라서 (가)에서 전체 기체의 양을  $3n$  mol이라고 하면, (나)에서 전체 기체의 양은  $2n$  mol이므로 (나)에서 A(g)와 B(g)의 양은 각각  $\frac{2}{3}n$  mol,  $\frac{4}{3}n$  mol이다. (가)에서 B(g)의 양을  $x$  mol, 반응한 A의 양을  $ay$  mol이라고 하면, 다음과 같이 반응이 일어난다.

	$aA(g)$	$\longrightarrow$	$B(g)$
반응 전(mol)	$3n - x$		$x$
반응(mol)	$-ay$		$+y$
반응 후(mol)	$\frac{2}{3}n$		$\frac{4}{3}n$

$(3n - x) - ay = \frac{2}{3}n$ ,  $x + y = \frac{4}{3}n$ 이므로  $y = \frac{n}{a-1}$  이고, 기체의 분자량비는 A(g) : B(g) = 1 : a이므로  $\frac{w}{1} : \frac{2w}{a} = (3n - x) : x$ 이다. 이를 만족하는  $a = 4$ 이고,  $x = n$ ,  $y = \frac{1}{3}n$ 이므로 (가)에서 A(g)의 양은  $2n$  mol이고, B(g)의 양은  $n$  mol이다. 따라서 (나)에서 A(g)의 질량은  $\frac{1}{3}w$  g이고, B(g)의 질량은  $\frac{8}{3}w$  g이므로 (나)에서  $\frac{\text{B의 질량(g)}}{\text{A의 질량(g)}} = 8$ 이다. 답 ①

01 [22028-0001] 그림은  $T$  K에서 강철 용기에 A(g)와 B(g)가 들어 있는 것을 나타낸 것이다.  $RT=24 \text{ atm} \cdot \text{L/mol}$ 이고, A(g)와 B(g)는 반응하지 않는다.

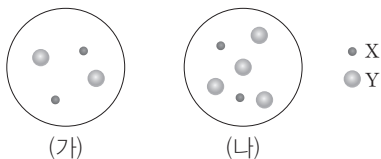


이에 대한 설명으로 옳은 것만을 <보기>에서 있는 대로 고른 것은?

- 보기
- ㄱ. 기체 분자의 평균 운동 에너지는 A(g)가 B(g)보다 크다.
  - ㄴ. A의 분자량은 4이다.
  - ㄷ. A(g)의 부분 압력은 1.5 atm이다.

- ① ㄱ                      ② ㄴ                      ③ ㄷ  
④ ㄱ, ㄴ                  ⑤ ㄴ, ㄷ

02 [22028-0002] 그림 (가)와 (나)는  $T$  K에서 부피가 같은 2개의 강철 용기에 X(g)와 Y(g)의 혼합 기체가 각각 들어 있는 것을 나타낸 것이다. 혼합 기체의 밀도비는 (가) : (나) = 3 : 5이고, X(g)와 Y(g)는 반응하지 않는다.

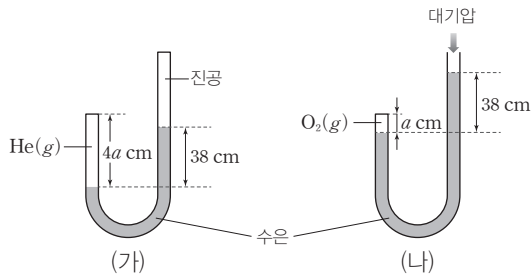


이에 대한 설명으로 옳은 것만을 <보기>에서 있는 대로 고른 것은?

- 보기
- ㄱ. 혼합 기체의 압력은 (가)에서와 (나)에서가 같다.
  - ㄴ. 분자량은 Y가 X의 2배이다.
  - ㄷ. X(g)의 부분 압력은 (가)에서와 (나)에서가 같다.

- ① ㄱ                      ② ㄴ                      ③ ㄷ  
④ ㄱ, ㄷ                  ⑤ ㄴ, ㄷ

03 [22028-0003] 그림 (가)는 양쪽 끝이 막힌 J자관에 헬륨(He) 기체가 들어 있는 것을, (나)는 한쪽 끝이 막힌 J자관에 산소(O<sub>2</sub>) 기체가 들어 있는 것을 나타낸 것이다. 기체의 온도와 J자관 내부의 단면적은 (가)에서와 (나)에서가 같고, 대기압은  $1 \text{ atm} = 76 \text{ cmHg}$ 이다.



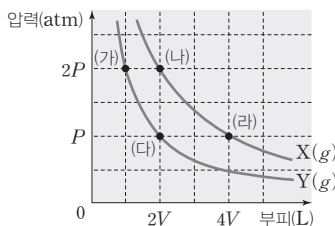
다음은 (가)와 (나)의 J자관에 들어 있는 기체에 대한 자료이다.

- 기체의 양(mol)은 He이 O<sub>2</sub>의  $x$ 배이다.
- 기체의 밀도는 O<sub>2</sub>가 He의  $y$ 배이다.

$\frac{x}{y}$ 는? (단, He, O의 원자량은 각각 4, 16이고, 수은의 증기압은 무시한다.)

- ①  $\frac{1}{18}$                       ②  $\frac{1}{8}$                       ③  $\frac{2}{9}$                       ④ 8                      ⑤ 18

04 [22028-0004] 그림은 일정한 온도에서 X(g)와 Y(g)의 부피에 따른 압력을 나타낸 것이다. 질량은 X(g)가 Y(g)의 4배이다.



이에 대한 설명으로 옳은 것만을 <보기>에서 있는 대로 고른 것은?

- 보기
- ㄱ. 분자량비는 X : Y = 4 : 1이다.
  - ㄴ. 기체의 밀도는 (가)에서와 (라)에서가 같다.
  - ㄷ. 기체 분자의 평균 운동 에너지는 (나)에서와 (리)에서가 같다.

- ① ㄱ                      ② ㄴ                      ③ ㄱ, ㄷ                      ④ ㄴ, ㄷ                      ⑤ ㄱ, ㄴ, ㄷ

05 [22028-0005] 표는 기체 A~C에 대한 자료이다.

기체	온도(K)	압력×부피 (atm·L)	질량(g)
A	$T$	$2a$	1
B	$2T$	$a$	2
C	$3T$	$3a$	1

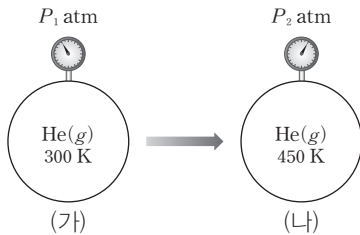
이에 대한 설명으로 옳은 것만을 <보기>에서 있는 대로 고른 것은?

보기

ㄱ. 기체의 몰비는 A : B = 2 : 1이다.  
 ㄴ. 분자량비는 A : C = 2 : 1이다.  
 ㄷ.  $T$  K에서 B(g) 1g의 [압력×부피]는  $\frac{1}{4}a$  atm·L이다.

- ① ㄱ                      ② ㄴ                      ③ ㄷ  
 ④ ㄱ, ㄷ                ⑤ ㄴ, ㄷ

06 [22028-0006] 그림 (가)는 300 K,  $V$  L의 강철 용기에 He(g)이 들어 있는 것을, (나)는 (가)의 온도를 450 K로 높인 상태를 나타낸 것이다.



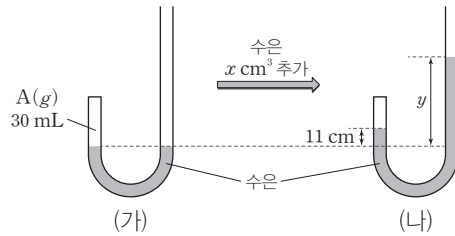
이에 대한 설명으로 옳은 것만을 <보기>에서 있는 대로 고른 것은?

보기

ㄱ.  $\frac{P_1}{P_2} = \frac{2}{3}$ 이다.  
 ㄴ. 기체 분자의 평균 운동 에너지는 (나)에서가 (가)에서보다 크다.  
 ㄷ. 기체 분자 사이의 평균 거리는 (나)에서가 (가)에서보다 멀다.

- ① ㄱ                      ② ㄷ                      ③ ㄱ, ㄴ  
 ④ ㄴ, ㄷ                ⑤ ㄱ, ㄴ, ㄷ

07 [22028-0007] 그림 (가)는 한쪽 끝이 막힌 J자관에 A(g) 30 mL가 들어 있는 것을, (나)는 (가)의 J자관에 수은  $x$  cm<sup>3</sup>를 추가한 것을 나타낸 것이다. J자관 내부의 단면적은 1 cm<sup>2</sup>이고, A(g)의 온도는 300 K로 일정하며, 기체 상수( $R$ )는 0.08 atm·L/(mol·K)이다.



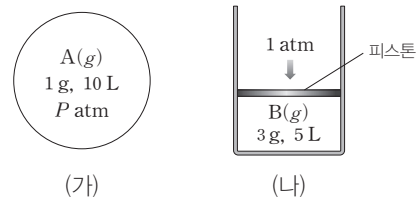
이에 대한 설명으로 옳은 것만을 <보기>에서 있는 대로 고른 것은? (단, A의 분자량은 40이고, 대기압은 1 atm = 76 cmHg로 일정하며, 수은의 증기압은 무시한다.)

보기

ㄱ. A(g)의 질량은 0.05 g이다.  
 ㄴ. (나)에서 A(g)의 압력은 131 cmHg이다.  
 ㄷ.  $\frac{y}{x} = \frac{5}{6}$ 이다.

- ① ㄱ                      ② ㄴ                      ③ ㄱ, ㄴ                ④ ㄱ, ㄷ                ⑤ ㄴ, ㄷ

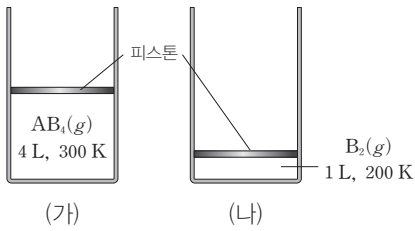
08 [22028-0008] 그림 (가)와 (나)는  $T$  K에서 강철 용기와 실린더에 A(g)와 B(g)가 각각 들어 있는 것을 나타낸 것이다.



(가)와 (나)에서 용기와 실린더에 각각 Ne(g)  $x$  mol을 넣어 Ne(g)의 부분 압력이 (가)와 (나)에서 같아졌을 때,  $P \times x$ 는? (단, A와 B의 분자량은 각각 2, 40이고, 온도는 일정하며, 피스톤의 질량과 마찰은 무시한다.)

- ①  $\frac{1}{12}$                     ②  $\frac{1}{4}$                     ③  $\frac{3}{4}$                     ④  $\frac{9}{4}$                     ⑤ 4

09 [22028-0009] 그림은 실린더 (가)와 (나)에  $AB_4(g)$ 와  $B_2(g)$ 가 각각 들어 있는 것을 나타낸 것이다. 분자량은  $AB_4$ 가  $B_2$ 의 8배이다.



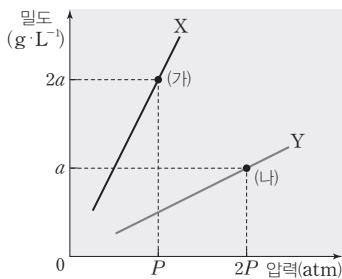
이에 대한 설명으로 옳은 것만을 <보기>에서 있는 대로 고른 것은? (단, A와 B는 임의의 원소 기호이고, 대기압은 일정하며, 피스톤의 질량과 마찰은 무시한다.)

보기

- ㄱ. 기체 분자의 평균 운동 에너지는 (가)에서와 (나)에서 같다.
- ㄴ. 기체의 몰비는  $AB_4 : B_2 = 8 : 3$ 이다.
- ㄷ. (가)와 (나)의 온도를 모두 400 K로 높였을 때, 기체의 밀도비는  $AB_4 : B_2 = 8 : 1$ 이다.

- ① ㄴ    ② ㄷ    ③ ㄱ, ㄴ    ④ ㄱ, ㄷ    ⑤ ㄴ, ㄷ

10 [22028-0010] 그림은  $T$  K에서  $X(g)$ 와  $Y(g)$ 의 압력에 따른 밀도를 나타낸 것이다. 질량은 X가 Y의 2배이다.



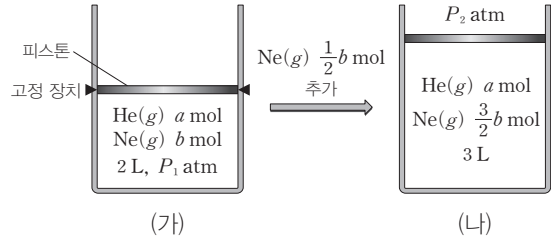
이에 대한 설명으로 옳은 것만을 <보기>에서 있는 대로 고른 것은? (단, 온도는 일정하다.)

보기

- ㄱ. 기체의 부피는 (가)에서와 (나)에서가 같다.
- ㄴ. 분자량은 X가 Y의 2배이다.
- ㄷ.  $2T$  K,  $3P$  atm에서 밀도는  $X(g)$ 가  $Y(g)$ 의 4배이다.

- ① ㄱ    ② ㄷ    ③ ㄱ, ㄴ    ④ ㄱ, ㄷ    ⑤ ㄴ, ㄷ

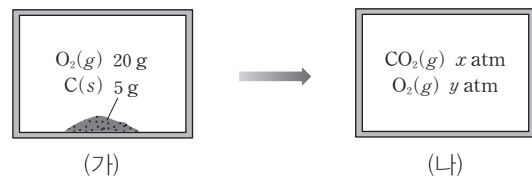
11 [22028-0011] 그림 (가)는  $P_1$  atm에서 실린더에  $He(g)$ 과  $Ne(g)$ 이 들어 있는 것을, (나)는 (가)의 실린더에서 고정 장치를 제거하고  $Ne(g)$   $\frac{1}{2}b$  mol을 추가한 뒤 충분한 시간이 흐른 후의 모습을 나타낸 것이다. (나)에서  $Ne(g)$ 의 몰 분율 =  $\frac{5}{4}$ 이다. (가)에서  $Ne(g)$ 의 몰 분율 =  $\frac{5}{4}$ 이다.



$\frac{P_2}{P_1}$ 는? (단, 온도는 일정하고, 피스톤의 질량과 마찰은 무시한다.)

- ①  $\frac{1}{2}$     ②  $\frac{2}{3}$     ③  $\frac{3}{4}$   
 ④  $\frac{4}{5}$     ⑤ 1

12 [22028-0012] 그림 (가)는 강철 용기에  $C(s)$ 와  $O_2(g)$ 가 들어 있는 것을, (나)는  $C(s)$ 와  $O_2(g)$ 의 반응이 완결된 후의 상태를 나타낸 것이다.



$\frac{y}{x}$ 는? (단, C, O의 원자량은 각각 12, 16이고, 온도는 일정하다.)

- ①  $\frac{1}{4}$     ②  $\frac{1}{2}$     ③ 1  
 ④ 2    ⑤ 4



01 [22028-0013] 표는 1 atm에서 A(g)~C(g)에 대한 자료이다. 기체 상수(R)는 0.08 atm·L/(mol·K)이다.

기체	분자량	질량(g)	온도(K)	부피(L)
A	a	4	T	2V
B	16	12		3V
C	20	5	2T	V

이에 대한 설명으로 옳은 것만을 <보기>에서 있는 대로 고른 것은?

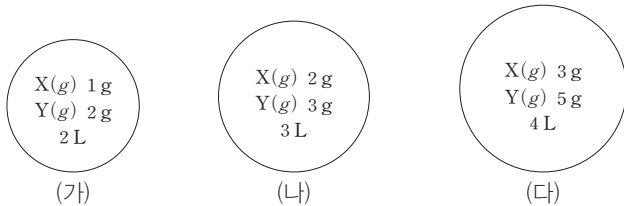
보기

ㄱ. a=4이다.  
 ㄴ. 기체 분자의 평균 운동 에너지는 B가 A보다 크다.  
 ㄷ.  $\frac{T}{V}=25$ 이다.

- ① ㄱ                      ② ㄴ                      ③ ㄱ, ㄷ                      ④ ㄴ, ㄷ                      ⑤ ㄱ, ㄴ, ㄷ

일정한 압력에서 기체의 양 (mol)은  $\frac{\text{부피}}{\text{온도}}$ 에 비례한다.

02 [22028-0014] 그림은 T K에서 3개의 강철 용기(가)~(다)에 X(g)와 Y(g)의 혼합 기체가 각각 들어 있는 것을 나타낸 것이다. (다)에서 X(g)의 몰 분율은  $\frac{3}{4}$ 이고, X(g)와 Y(g)는 반응하지 않는다.



이에 대한 설명으로 옳은 것만을 <보기>에서 있는 대로 고른 것은? (단, 온도는 일정하다.)

보기

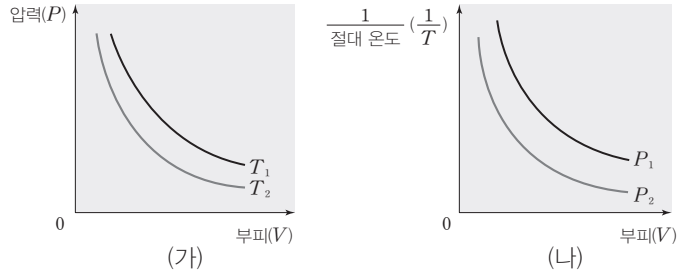
ㄱ. (나)에서 Y(g)의 몰 분율은  $\frac{3}{13}$ 이다.  
 ㄴ.  $\frac{\text{(다)에서 기체의 양(mol)}}{\text{(가)에서 기체의 양(mol)}} > 3$ 이다.  
 ㄷ. 기체의 압력비는 (나) : (다) = 13 : 20이다.

- ① ㄱ                      ② ㄴ                      ③ ㄷ                      ④ ㄱ, ㄴ                      ⑤ ㄱ, ㄷ

온도가 일정할 때 기체의 압력은  $\frac{\text{기체의 양(mol)}}{\text{부피}}$ 에 비례한다.

(나)에서 1 mol의 A(g)에 대해 분피( $\frac{V}{T}$ )는  $P_1$ 일 때  $P_2$ 일 때보다 크다.

**03** [22028-0015] 그림 (가)와 (나)는 A(g) 1 mol의 부피( $V$ ), 압력( $P$ ), 절대 온도( $T$ )의 관계를 나타낸 것이다. A(g) 1 mol의 부피는  $T_1, P_1$ 일 때  $V_1$ 이고,  $T_2, P_2$ 일 때  $V_2$ 이다.



이에 대한 설명으로 옳은 것만을 <보기>에서 있는 대로 고른 것은?

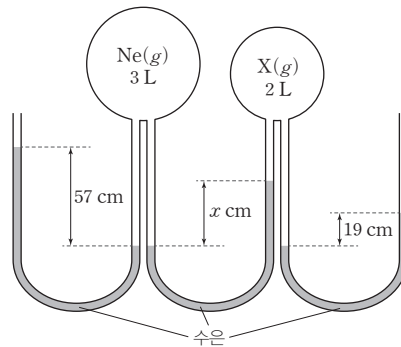
보기

- ㄱ.  $T_1 > T_2$ 이다.
- ㄴ.  $P_1 > P_2$ 이다.
- ㄷ.  $V_1 > V_2$ 이다.

- ① ㄱ      ② ㄷ      ③ ㄱ, ㄴ      ④ ㄱ, ㄷ      ⑤ ㄴ, ㄷ

Ne(g)의 압력은 대기압과 수은 57 cm에 해당하는 압력의 합과 같고, X(g)의 압력은 대기압과 수은 19 cm에 해당하는 압력의 합과 같다.

**04** [22028-0016] 그림은 U자관이 연결된 용기에 같은 질량의 Ne(g)와 X(g)가 각각 들어 있는 모습을 나타낸 것이다. 기체의 온도는 일정하고, 대기압은 76 cmHg이다.



이에 대한 설명으로 옳은 것만을 <보기>에서 있는 대로 고른 것은? (단, Ne의 원자량은 20이고, 연결관의 부피와 수은의 증기압은 무시한다.)

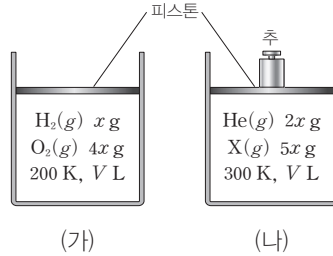
보기

- ㄱ. 기체의 압력비는 Ne : X = 7 : 5이다.
- ㄴ.  $x = 38$ 이다.
- ㄷ. X의 분자량은 42이다.

- ① ㄱ      ② ㄴ      ③ ㄱ, ㄷ      ④ ㄴ, ㄷ      ⑤ ㄱ, ㄴ, ㄷ

05 [22028-0017]

그림 (가)는 실린더에  $H_2(g)$ 와  $O_2(g)$ 가 들어 있는 것을, (나)는 추가 올려져 있는 실린더에  $He(g)$ 과  $X(g)$ 가 들어 있는 것을 나타낸 것이다. 몰 분율은 (가)에서의  $O_2(g)$ 와 (나)에서의  $X(g)$ 가 같고, 기체 상수( $R$ )는  $a \text{ atm} \cdot L / (\text{mol} \cdot K)$ 이며, 기체는 반응하지 않는다.



이에 대한 설명으로 옳은 것만을 <보기>에서 있는 대로 고른 것은? (단, H, He, O의 원자량은 각각 1, 4, 16이고, 대기압은 1 atm으로 일정하며, 피스톤의 질량과 마찰은 무시한다.)

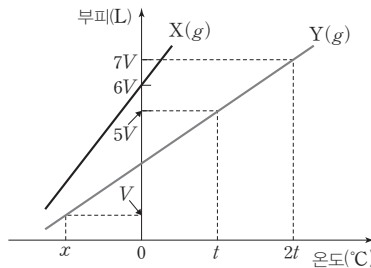
보기

- ㄱ. X의 분자량은 20이다.
- ㄴ. 추 1개에 의한 압력은 1 atm이다.
- ㄷ.  $V = 125ax$ 이다.

- ① ㄱ      ② ㄴ      ③ ㄷ      ④ ㄱ, ㄷ      ⑤ ㄴ, ㄷ

06 [22028-0018]

그림은  $P_1$  atm에서  $X(g)$  1 mol과  $P_2$  atm에서  $Y(g)$  1.5 mol의 온도에 따른 부피를 나타낸 것이다.



이에 대한 설명으로 옳은 것만을 <보기>에서 있는 대로 고른 것은? (단,  $0^\circ\text{C}$ 는 273 K이다.)

보기

- ㄱ.  $x + 2t = 182$ 이다.
- ㄴ.  $\frac{P_1}{P_2} = \frac{1}{2}$ 이다.
- ㄷ.  $3t^\circ\text{C}$ 일 때 기체의 부피비는  $X : Y = 2 : 1$ 이다.

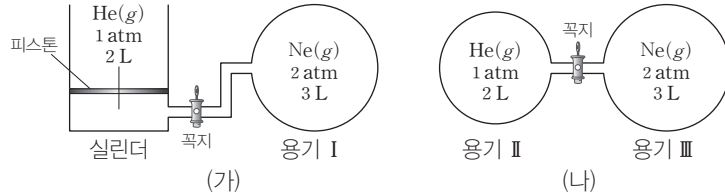
- ① ㄱ      ② ㄷ      ③ ㄱ, ㄴ      ④ ㄱ, ㄷ      ⑤ ㄴ, ㄷ

(가)에서  $O_2(g)$ 의 몰 분율과 (나)에서  $X(g)$ 의 몰 분율이 같고,  $H_2(g)$ 의 양과  $He(g)$ 의 양이  $\frac{x}{2}$  mol로 같으므로 (가)에서  $O_2(g)$ 의 양(mol)과 (나)에서  $X(g)$ 의 양(mol)이 같다.

$0^\circ\text{C}$ 일 때 기체의 부피비는  $X : Y = 2 : 1$ 이므로 온도가 같을 때 기체의 부피비는 항상  $X : Y = 2 : 1$ 이다.

(가)에서 꼭지를 열면 대기압이 1 atm이므로 실린더와 용기 I에서의 기체의 압력은 1 atm이다.

**07** [22028-0019] 그림 (가)는 꼭지로 분리된 실린더와 용기 I에 각각 He(g)와 Ne(g)이 들어 있는 것을, (나)는 꼭지로 분리된 용기 II와 III에 각각 He(g)와 Ne(g)이 들어 있는 것을 나타낸 것이다. 대기압은 1 atm으로 일정하다.



(가)와 (나)에서 각각 꼭지를 열고 충분한 시간이 지났을 때, 이에 대한 설명으로 옳은 것만을 <보기>에서 있는 대로 고른 것은? (단, 온도는 일정하고, 피스톤의 질량과 마찰 및 연결관의 부피는 무시한다.)

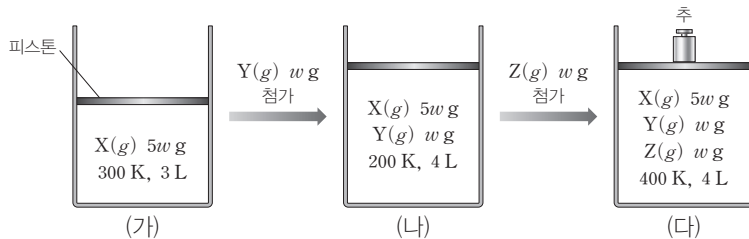
보기

- ㄱ. 실린더의 부피는 6 L이다.
- ㄴ. 실린더에서 He(g)의 양(mol) =  $\frac{25}{16}$ 이다.
- ㄷ. 용기 I에서 Ne(g)의 부분 압력 =  $\frac{5}{8}$ 이다.

- ① ㄱ      ② ㄴ      ③ ㄱ, ㄷ      ④ ㄴ, ㄷ      ⑤ ㄱ, ㄴ, ㄷ

X(g), Y(g), Z(g)의 양(mol)을 각각  $n_X, n_Y, n_Z$ 라고 할 때, 실린더 (가)~(다)에 들어 있는 기체의 양(mol)은 각각  $n_X, n_X+n_Y, n_X+n_Y+n_Z$ 이다.

**08** [22028-0020] 그림 (가)는 실린더에 X(g) 5w g이 들어 있는 것을, (나)는 (가)의 실린더에 Y(g) w g을 첨가한 후 온도를 변화시킨 것을, (다)는 (나)의 실린더에 Z(g) w g을 첨가한 후 온도와 압력을 변화시킨 것을 나타낸 것이다. (다)에서 전체 기체의 압력은 P atm이고, 분자량비는 Y : Z = 2 : 1이며, X(g)~Z(g)는 반응하지 않는다.



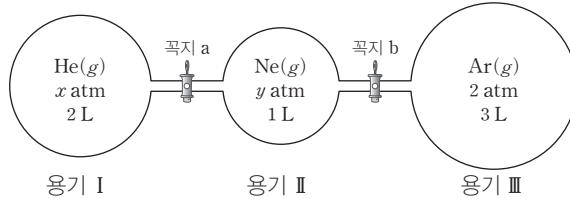
$P \times \frac{Z \text{의 분자량}}{X \text{의 분자량}}$ 은? (단, 대기압은 1 atm으로 일정하고, 피스톤의 질량과 마찰은 무시한다.)

- ①  $\frac{1}{5}$       ②  $\frac{3}{10}$       ③  $\frac{2}{5}$       ④  $\frac{1}{2}$       ⑤  $\frac{3}{5}$

**09** [22028-0021] 다음은 기체의 성질에 대한 실험이다.

**[실험 과정 및 결과]**

(가) 그림과 같이 꼭지로 분리된 3개의 강철 용기 I~Ⅲ에 각각 He(g), Ne(g), Ar(g)을 넣었다.



(나) 꼭지 a를 열고 충분한 시간이 지났을 때 Ne(g)의 몰 분율이  $\frac{1}{4}$ 이었다.

(다) 꼭지 b를 열고 충분한 시간이 지났을 때 용기 속 전체 기체의 압력이  $\frac{7}{3}$  atm이었다.

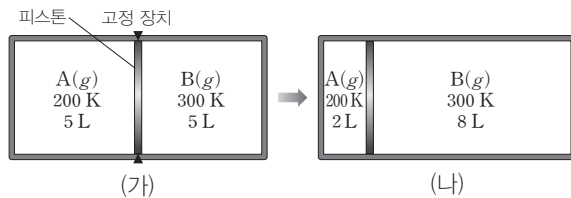
이에 대한 설명으로 옳은 것만을 <보기>에서 있는 대로 고른 것은? (단, 온도는 일정하고, 연결관의 부피는 무시한다.)

**보기**

- ㄱ.  $x+y=3$ 이다.
- ㄴ. (나)에서 용기 I에 들어 있는 기체의 압력은  $\frac{8}{3}$  atm이다.
- ㄷ. (다)에서 기체의 밀도는 용기 II에서가 용기 III에서보다 크다.

- ① ㄱ      ② ㄴ      ③ ㄱ, ㄷ      ④ ㄴ, ㄷ      ⑤ ㄱ, ㄴ, ㄷ

**10** [22028-0022] 그림 (가)는 피스톤으로 분리된 실린더에 서로 다른 온도의 A(g)와 B(g)가 들어 있는 것을, (나)는 고정 장치를 제거하고 충분한 시간이 흐른 후의 모습을 나타낸 것이다.



이에 대한 설명으로 옳은 것만을 <보기>에서 있는 대로 고른 것은? (단, 피스톤의 마찰은 무시하고, 피스톤을 통해 열이 이동하지 않는다.)

**보기**

- ㄱ. 분자 수비는 A(g) : B(g) = 3 : 8이다.
- ㄴ. (가)에서 B(g)의 압력은 (나)에서 A(g)의 압력보다 크다.
- ㄷ. (나)에서 B(g)의 온도를 200 K로 낮추어 충분한 시간이 흘렀을 때 A(g)의 부피는 3 L이다.

- ① ㄱ      ② ㄷ      ③ ㄱ, ㄴ      ④ ㄴ, ㄷ      ⑤ ㄱ, ㄴ, ㄷ

(다)에서 기체가 모두 고르게 퍼져 섞여 있으므로 세 용기 속 기체의 밀도는 모두 같다.

(나)에서 B(g)의 온도를 200 K로 낮추면 기체의 온도(T)와 압력(P)이 일정하므로 기체의 부피(V)는 기체의 양(mol)에 비례한다.

두 용기의 부피를 각각  $V$  L 라고 하면, (나)에서 반응 후 400 K,  $2V$  L일 때  $H_2O(g)$  4 mol의 부분 압력이 0.4 atm 이므로 400 K,  $V$  L일 때 기체 4 mol의 압력은 0.8 atm 이다.

11 [22028-0023] 다음은 기체의 반응 실험이다.

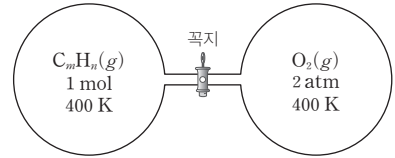
[실험 과정 및 결과]

(가) 그림과 같이 꼭지로 분리된 부피가 같은 2개의 강철 용기에  $C_mH_n(g)$ 과  $O_2(g)$ 를 각각 넣었다.

(나) 꼭지를 열고  $C_mH_n(g)$ 을 모두 완전 연소시켰을 때 용기 속  $O_2(g)$ 의 몰 분율은  $\frac{1}{3}$ 이었고,

$H_2O(g)$ 의 양은 4 mol이었으며,  $H_2O(g)$ 의 부분 압력은 400 K에서 0.4 atm이었다.

(다) 용기 속 기체의 온도를  $a$  K로 유지하였더니 전체 기체의 압력이 1.5 atm이었다.



이에 대한 설명으로 옳은 것만을 <보기>에서 있는 대로 고른 것은? (단, 연결관의 부피는 무시하고, 생성물은 모두 기체이다.)

보기

ㄱ.  $m+n=10$ 이다.

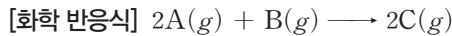
ㄴ. (가)에서  $C_mH_n(g)$ 의 압력은 0.2 atm이다.

ㄷ. (다)에서  $a=500$ 이다.

- ① ㄱ      ② ㄷ      ③ ㄱ, ㄴ      ④ ㄴ, ㄷ      ⑤ ㄱ, ㄴ, ㄷ

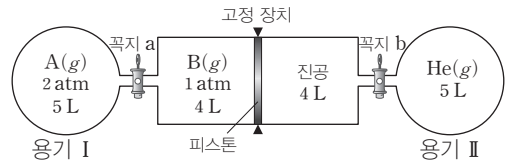
(라)에서 고정 장치를 제거하고 충분한 시간이 지나면  $He(g)$ 의 전체 부피는 10 L가 되므로 (라) 과정 후  $He(g)$ 의 압력( $P_{(라)}$ )은  $P_{(가)} \text{ atm} \times 5L = P_{(라)} \text{ atm} \times 9L = P_{(라)} \text{ atm} \times 10L$ 이다.

12 [22028-0024] 다음은 기체의 반응 실험이다.



[실험 과정]

(가) 그림과 같이  $T$  K에서 용기 I 과 II에는 각각  $A(g)$ 와  $He(g)$ 을, 용기 I 과 연결된 실린더에는  $B(g)$ 를 넣는다.



(나) 꼭지 a를 열고  $A(g)$ 와  $B(g)$ 의 반응을 완결시킨 후  $C(g)$ 의 부분 압력을 측정한다.

(다) 꼭지 b를 열고 충분한 시간이 지난 후  $He(g)$ 의 압력을 측정한다.

(라) 고정 장치를 제거하고 충분한 시간이 지난 후  $C(g)$ 의 부분 압력과 실린더 속  $He(g)$ 의 부피를 측정한다.

[실험 결과]

○  $C(g)$ 의 부분 압력

○ (다) 과정 후  $He(g)$ 의 압력 :  $P$  atm

(나) 과정 후	(라) 과정 후
$x$ atm	$y$ atm

○ (라) 과정 후 실린더 속  $He(g)$ 의 부피 : 5 L

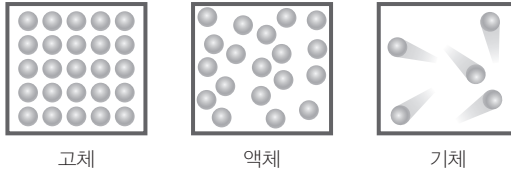
$P \times \frac{y}{x}$  는? (단, 온도는 일정하고, 연결관의 부피와 피스톤의 마찰은 무시한다.)

- ①  $\frac{16}{25}$       ②  $\frac{18}{25}$       ③  $\frac{8}{9}$       ④  $\frac{25}{18}$       ⑤  $\frac{25}{16}$

## 1 분자 간 상호 작용

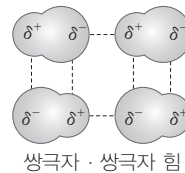
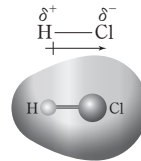
### (1) 분자 간 힘과 물질의 상태

- 온도와 분자 운동 : 액체의 온도가 높아지면 분자의 평균 운동 속력이 증가하면서 분자 운동이 활발해진다. 이때 분자의 운동 에너지가 분자 간 힘을 극복할 만큼 커지면 물질의 상태가 변하면서 기체 상태로 존재한다.
- 분자 운동과 물질의 상태 : 물질의 상태에 따른 분자의 평균 운동 에너지는 고체 < 액체 < 기체 이므로 분자 운동은 기체가 가장 활발하다. 이때 분자 간 힘의 세기는 고체 > 액체 > 기체이다.
- 분자 간 힘과 끓는점 : 분자 간 힘이 클수록 액체에서 기체로의 상태 변화에 많은 에너지가 필요하므로 끓는점이 높다.



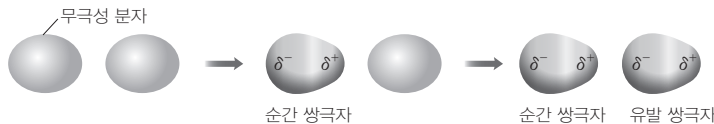
### (2) 쌍극자 · 쌍극자 힘

- 쌍극자 : 염화 수소(HCl)와 같은 극성 분자에서 공유 전자쌍은 전기 음성도가 큰 원자 쪽으로 치우쳐 존재하게 된다. 이때 전기 음성도가 큰 Cl는 부분적인 음전하( $\delta^-$ )를, H는 부분적인 양전하( $\delta^+$ )를 띠게 되는데, 이와 같이 분자 내에 존재하는 양전하와 음전하의 쌍을 쌍극자라고 한다.
- 쌍극자를 갖는 극성 분자들이 서로 접근하면 쌍극자와 쌍극자 사이의 전기적인 인력이 작용하는데, 이러한 분자 간의 힘을 쌍극자 · 쌍극자 힘이라고 한다.
- 쌍극자 · 쌍극자 힘은 분자의 극성이 클수록 강하다(쌍극자 모멘트의 크기는 분리된 전하의 크기가 클수록, 두 전하 사이의 거리가 멀수록 커진다. 쌍극자 모멘트의 크기가 클수록 대체로 분자의 극성이 크다).  
 ➔ 전기적 인력은 전하를 띤 입자의 거리가 가까울수록, 전하의 크기가 클수록 크다.
- 분자량이 비슷하면 무극성 분자 간의 힘보다 극성 분자 간의 힘이 크다.



### (3) 분산력

- 편극 현상 : 분자에서 전자구름이 일시적으로 한쪽으로 치우쳐서 부분적인 전하를 띠는 현상이 일어나는데, 이를 편극 현상이라고 한다.
- 분산력 : 분자 내의 편극 현상에 의해 순간적으로 형성된 쌍극자와 이웃한 분자의 유발 쌍극자 사이에 작용하는 분자 간 힘을 분산력이라고 한다.



## 개념 체크

- 쌍극자 : 극성 분자 내에 존재하는 양전하와 음전하의 쌍을 쌍극자라고 한다.
- 분산력 : 순간 쌍극자와 이에 의해 유발된 유발 쌍극자 사이에 작용하는 분자 간 힘으로, 모든 분자 사이에 작용한다.

- 어떤 한 물질의 세 가지 상태에서 분자 간 힘은 ( ) > ( ) > ( ) 이다.
- 극성 분자에서 전기 음성도가 큰 원자는 ( )를 띠고, 전기 음성도가 작은 원자는 ( )를 띤다.
- ( )은 순간 쌍극자와 이에 의해 유발된 유발 쌍극자 사이에 작용하는 분자 간 힘이다.

### 정답

- 고체, 액체, 기체
- 부분적인 음전하( $\delta^-$ ), 부분적인 양전하( $\delta^+$ )
- 분산력

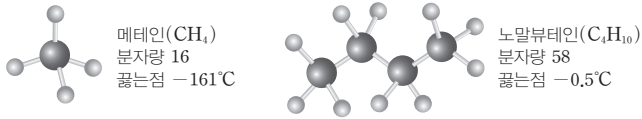
개념 체크

- 대체로 분자량이 클수록 분산력이 크고, 분자량이 비슷할 경우 분자의 표면적이 클수록 분산력이 크다.
- 수소 결합을 하는 물질은 분자량이 비슷한 다른 물질보다 끓는점이 높다.

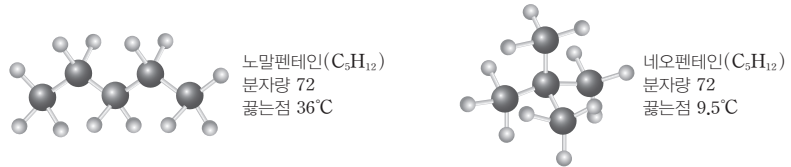
1. 분자량이 비슷할 경우 분자의 표면적이 ( ) 수  
록 분산력이 크다.
2. ( )가 매우 큰 F, O, N  
에 결합된 H 원자를 갖는  
분자는 분자 간에 ( )  
을 한다.
3. DNA 이중 나선 구조에  
서 내부 염기들 사이에  
( )을 한다.

- ③ 전자의 분포는 분자 간의 영향으로 항상 변화하므로 분산력은 모든 분자 간에 작용한다.
- ④ 분자량이 클수록 분자 내 전자가 많아 전자구름의 편극 현상이 크게 일어나므로 대체로 분자량이 큰 분자일수록 분산력이 크다.

예 메테인과 노말뷰테인 : 분자량은 노말뷰테인이 메테인보다 크므로 분산력은 노말뷰테인이 메테인보다 크고, 끓는점은 노말뷰테인이 메테인보다 높다.

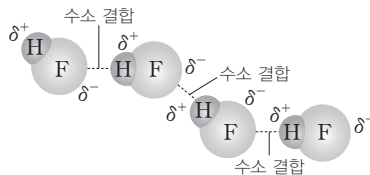


- ⑤ 분자량이 비슷한 분자의 경우 구조에 따라 분자의 표면적이 클수록 분산력이 크다.
- 예 노말펜테인과 네오펜테인 : 노말펜테인과 네오펜테인은 분자량이 같지만 표면적은 노말펜테인이 네오펜테인보다 커서 노말펜테인이 네오펜테인보다 분산력이 크고, 끓는점이 높다.

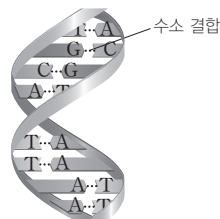


(4) 수소 결합

- ① F, O, N와 같이 전기 음성도가 매우 큰 원자에 결합된 H 원자와, 이웃한 분자의 F, O, N 원자 사이에 작용하는 강한 인력이다.



- ② 수소 결합을 하는 대표적인 물질에는 HF, H<sub>2</sub>O, NH<sub>3</sub> 등이 있다.
- ③ 수소 결합을 하는 물질은 분자량이 비슷한 다른 물질보다 끓는점이 높다.
- ④ 수소 결합은 분자 간에 작용하는 강한 힘이다. 그러나 이온 결합, 공유 결합, 금속 결합과 같은 화학 결합에 비해서는 약한 힘이다.
- ⑤ DNA가 이중 나선 구조를 형성하거나 단백질의 일부가 나선 구조를 이루는 것은 수소 결합을 형성하기 때문으로, 수소 결합은 생명체 내에서도 중요한 역할을 한다.



DNA 이중 나선 구조

정답

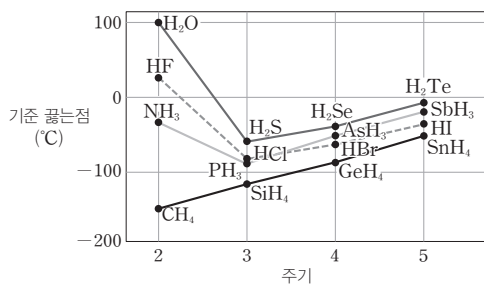
1. 클
2. 전기 음성도, 수소 결합
3. 수소 결합



## 탐구자료 살펴보기 수소 화합물의 끓는점

### 자료

14~17족 원소의 수소 화합물의 주기에 따른 기준 끓는점 비교



### 분석

- 14족부터 17족까지의 원소는 수소와 공유 결합하여 분자를 형성한다.
- 끓는점은 분자 간의 인력이 커질수록 높아진다.
- 14족 원소의 수소 화합물은 무극성 분자이므로 분산력만 작용한다. 이때 14족 원소의 원자 번호가 커질수록 분자량이 커져 분산력이 증가하고, 끓는점이 높아진다.
- 15족, 16족, 17족 원소의 수소 화합물은 극성 분자이므로 분산력 외에 쌍극자·쌍극자 힘이 작용한다. 그런데 같은 족에서 3주기, 4주기, 5주기로 갈수록 끓는점이 높아지는 것은 원소의 원자 번호가 커질수록 분자량이 커져 분산력이 증가하기 때문이다.
- HF, H<sub>2</sub>O, NH<sub>3</sub>가 끓는점이 높은 것은 분자 간에 수소 결합을 하기 때문이다.

### Point

수소 결합을 하는 수소 화합물은 수소 결합을 하지 않는 수소 화합물에 비해 대체로 끓는점이 높다. 또한 분산력은 모든 분자에 작용하는 힘으로 극성 분자의 경우도 분자량이 클수록 분산력이 크게 작용하여 끓는점이 높다.

## 개념 체크

● 14족 원소의 수소 화합물은 무극성 분자이므로 분자 사이에 분산력만 작용하고, 15~17족 원소의 수소 화합물은 극성 분자이므로 쌍극자·쌍극자 힘과 분산력이 함께 작용한다.

1. H<sub>2</sub>O의 끓는점이 다른 16족 원소의 수소 화합물보다 높은 것은 분자 간에 ( )을 하기 때문이다.
2. SiH<sub>4</sub>의 끓는점이 CH<sub>4</sub>보다 높은 것에 영향을 미치는 주된 분자 간 힘은 ( )이다.
3. HBr과 HCl 중 액체 상태에서 분자 간 힘이 큰 것은 ( )이다.

## 과학 돋보기 분자 간 힘 비교

물질	분자량	끓는점(°C)
H <sub>2</sub> O	18	100
Cl <sub>2</sub>	71	-34.0
HCl	36.5	-85.1
F <sub>2</sub>	38	-188.1

### [분산력 비교]

분자량이 클수록 분산력이 대체로 크다.

예 F<sub>2</sub>과 Cl<sub>2</sub>의 비교 : 분자량이 Cl<sub>2</sub>(71)가 F<sub>2</sub>(38)보다 크므로 분산력은 Cl<sub>2</sub>가 F<sub>2</sub>보다 크다.

### [쌍극자·쌍극자 힘 유무 비교]

분자량이 비슷하면 분산력은 비슷하므로 쌍극자·쌍극자 힘이 존재하는 극성 분자가 쌍극자·쌍극자 힘이 존재하지 않는 무극성 분자보다 분자 간 힘이 크다.

예 F<sub>2</sub>과 HCl의 비교 : 분자량은 F<sub>2</sub>(38)과 HCl(36.5)가 비슷하지만, F<sub>2</sub>은 무극성 분자이고, HCl은 극성 분자이므로 분자 간 힘은 HCl이 F<sub>2</sub>보다 크다.

### [수소 결합의 유무에 따른 비교]

F, O, N에 결합된 H 원자와 이웃하는 분자의 F, O, N 사이에 작용하는 수소 결합은 매우 강한 힘으로, 수소 결합을 하는 물질은 분자 간 힘이 매우 크다.

예 H<sub>2</sub>O과 HCl의 비교 : 분자량은 HCl(36.5)가 H<sub>2</sub>O(18)보다 크지만, H<sub>2</sub>O은 수소 결합을 하므로 분자 간 힘은 H<sub>2</sub>O이 HCl보다 크다.

### 정답

1. 수소 결합
2. 분산력
3. HBr

개념 체크

● 물이 얼면 1개의 물 분자가 주변에 이웃한 4개의 물 분자와 수소 결합을 하여 입체 육각 구조의 빈 공간이 있는 결정을 형성하므로, 부피가 증가하고 밀도는 감소한다.

1. 물 분자의 중심 원자인 산소(O)에는 비공유 전자쌍이 2개, 공유 전자쌍이 2개가 있어 물 분자는 ( )의 구조를 이룬다.
2. 물 분자에서 전기 음성도가 큰 ( ) 원자는 부분적인 음전하( $\delta^-$ )를, 전기 음성도가 작은 ( ) 원자는 부분적인 양전하( $\delta^+$ )를 띤다.
3. 얼음은 H<sub>2</sub>O 분자 사이에 작용하는 ( ) 결합에 의해 입체 육각 구조의 빈 공간이 있는 결정을 형성한다.

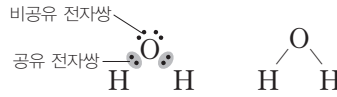
2 액체의 성질

(1) 액체

- ① 외부 압력에 따른 액체의 부피 변화는 기체에 비해 매우 작다.
- ② 액체는 유동성을 갖는 상태로 일정한 모양이 없고 용기에 따라 모양이 달라진다.
- ③ 같은 질량의 기체에 비해 그 부피가 매우 작아 밀도가 크다.

(2) 물 분자 구조와 극성

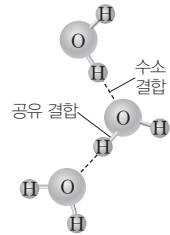
- ① 분자 구조 : 물은 산소 원자 1개와 수소 원자 2개가 공유 결합하여 형성된다. 중심 원자인 산소 원자에 2개의 공유 전자쌍과 2개의 비공유 전자쌍이 있어 그림과 같이 굽은 형의 구조를 이룬다.



- ② 극성 : 물 분자는 전기적으로 볼 때 전체적으로 중성이다. 그러나 전기 음성도가 상대적으로 큰 산소 원자 쪽으로 공유 전자쌍이 치우침에 따라 산소 원자 쪽은 부분적인 음전하( $\delta^-$ )를 띠고, 수소 원자 쪽은 부분적인 양전하( $\delta^+$ )를 띤다. 또한 굽은 형의 분자 구조를 가지는 물 분자의 쌍극자 모멘트는 0이 아니므로 물은 극성 분자이다.

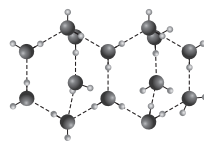


- ③ 물의 수소 결합 : 물 분자 내의 부분적인 음전하를 띠는 산소 원자는 이웃하는 물 분자의 부분적인 양전하를 띠는 수소 원자와 수소 결합을 형성한다. 물 분자 간에 작용하는 수소 결합은 매우 강한 분자 간 힘으로, 이 힘을 끊기 위해서는 많은 에너지가 필요하다. 물은 다른 물질과는 다른 독특한 성질을 나타내는데, 이러한 물의 특성은 대부분 수소 결합과 관련이 있다.

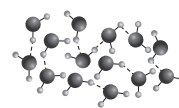


(3) 수소 결합에 의한 물의 특성

- ① 밀도와 부피 변화 : 일반적으로 물질의 상태에 따른 밀도의 크기는 고체 > 액체 > 기체이다. 그러나 물은 고체인 얼음의 밀도가 액체인 물의 밀도보다 작다. 즉 같은 질량의 얼음의 부피는 물의 부피보다 크다. 그 이유는 물이 얼 때 1개의 물 분자가 주변에 이웃한 4개의 물 분자와 수소 결합을 하면서 입체 육각 구조의 빈 공간이 있는 결정을 형성하기 때문이다. 이것으로 얼음이 물 위에 뜨는 이유를 설명할 수 있다.



얼음의 구조  
(빈 공간이 많음)



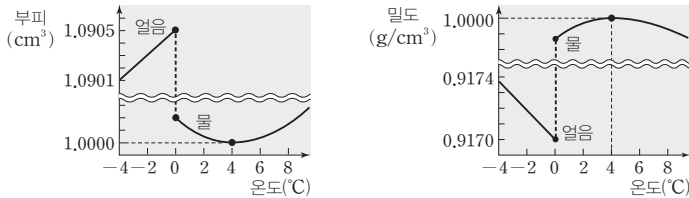
물의 구조

정답

1. 굽은 형
2. 산소(O), 수소(H)
3. 수소

## 탐구자료 살펴보기 온도에 따른 H<sub>2</sub>O의 부피와 밀도

**자료** 얼음을 가열하여 물이 될 때 H<sub>2</sub>O 1g의 온도에 따른 부피와 밀도 변화



### 분석

- 얼음의 온도가 높아지면 분자 운동이 활발해지므로 부피가 증가하고 밀도는 감소한다.
- 0°C에서 얼음이 녹아 0°C 물이 될 때 얼음의 결정 구조를 이루는 수소 결합의 일부가 끊어지면서 부피는 감소하고 밀도는 증가한다.
- 0°C → 4°C에서는 열팽창에 의해 생기는 액체의 부피 증가보다 수소 결합이 끊어지면서 생기는 부피 감소가 더 크기 때문에 물의 부피는 감소하고 밀도는 증가한다.
- 4°C 이상에서는 온도 증가에 따른 액체의 열팽창으로 인해 부피가 증가하고 밀도는 감소한다.

### Point

물 분자 간 수소 결합은 매우 강하여 얼음이 될 때 입체 육각 구조가 형성되어 유지되면서 빈 공간들이 나타난다. 따라서 물은 다른 물질과 달리 고체인 얼음의 밀도가 액체인 물의 밀도보다 작다.

## ② 녹는점과 끓는점

- 고체가 액체로 상태가 변화되거나 액체가 기체로 상태가 변화될 때는 분자 간 힘을 끊어야 하므로 열에너지가 필요하다. 일반적으로 분자 간 힘이 클수록 고체가 액체로 되거나 액체가 기체로 될 때 더 많은 열에너지가 필요하므로 녹는점과 끓는점이 높다.
- 물은 분자 간에 수소 결합을 형성하므로 분자량이 비슷한 다른 물질에 비해 분자 간 힘이 크다. 따라서 분자량이 비슷한 다른 물질에 비해 녹는점과 끓는점이 높다.

물질	분자량	녹는점(°C)	끓는점(°C)
메테인(CH <sub>4</sub> )	16	-182.5	-161.5
암모니아(NH <sub>3</sub> )	17	-77.7	-33.4
물(H <sub>2</sub> O)	18	0	100

③ **기화열(증발열)** : 물 분자는 분자 간 힘이 커서 분자량이 비슷한 다른 물질에 비해 분자 간 힘을 끊고 상태를 변화시키는 데 필요한 열량이 크다. 즉, 물은 분자량이 비슷한 다른 물질보다 기화열(증발열)이 매우 크다.

**예** 더운 여름철 마당에 물을 뿌리면 시원해진다. 그 이유는 증발열이 큰 물이 증발하면서 주변의 열을 많이 흡수하기 때문이다.

④ **비열** : 물질 1g의 온도를 1°C 높이는 데 필요한 열량을 비열이라고 한다.

- 같은 물질이라도 물질의 상태에 따라 비열이 달라지고, 질량이 같을 때 비열이 큰 물질일수록 온도를 높이는 데 많은 열량이 필요하다. 따라서 비열이 큰 물질일수록 같은 열량에 따른 온도 변화가 작게 나타난다.

H <sub>2</sub> O의 상태	고체(얼음)	액체(물)	기체(수증기)
비열(J/(g·°C))	2.10	4.18	2.08

## 개념 체크

❶ **물의 특성** : 물은 분자 간에 강한 수소 결합을 형성하므로 분자량이 비슷한 다른 물질들에 비해 분자 간 힘이 강하여, 끓는점이 높고 기화열, 비열, 표면 장력이 크다.

1. 같은 질량의 부피는 물이 얼음보다 ( )고, 밀도는 물이 얼음보다 ( )다.
2. 0°C → 4°C에서 물은 온도가 높아짐에 따라 열팽창에 의해 생기는 부피 증가보다 수소 결합이 끊어지면서 생기는 부피 감소가 ( )기 때문에 물의 부피는 ( )하고 밀도는 ( )한다.
3. 물의 밀도는 ( )°C일 때 가장 크다.
4. 물은 분자량이 비슷한 다른 물질보다 끓는점이 ( )다.
5. 더운 여름철 마당에 물을 뿌리면 시원해지는 이유는 물의 ( )이 크기 때문이다.

### 정답

1. 작, 크
2. 크, 감소, 증가
3. 4
4. 높
5. 기화열(증발열)

개념 체크

● **비열**: 물질 1g의 온도를 1°C 높이는 데 필요한 열량으로, 질량이 같을 때 비열이 큰 물질일수록 온도를 높이는 데 많은 열량이 필요하다.

● **표면 장력**: 액체의 표면적을 단위 면적만큼 증가시키는 데 필요한 에너지이다.

1. 질량이 같을 때 비열이 큰 물질일수록 온도를 높이는 데 필요한 열량이 ( )다.

2. 물은 ( )이 크므로 다른 물질에 비해 가열할 때 온도가 서서히 높아진다.

3. 물 분자 간에 ( )을 하기 때문에 다른 물질에 비해 표면 장력이 ( )다.

4. 물이 가득 담긴 컵에 동전을 넣어도 물이 바로 넘치지 않는 것은 물의 ( )이 크기 때문이다.

• 물은 비열이 크므로 같은 질량의 다른 액체 물질에 비해 가열할 때 온도가 서서히 높아지고 냉각할 때 온도가 서서히 낮아진다.

물질	물(H <sub>2</sub> O)	에탄올(C <sub>2</sub> H <sub>5</sub> OH)	아세트산(CH <sub>3</sub> COCH <sub>3</sub> )
비열(J/(g·°C))	4.18	2.44	2.18

• 한낮에는 바다보다 비열이 작은 육지의 온도가 더 빨리 높아지기 때문에 육지 쪽 공기가 상대적으로 따뜻하고, 바다 쪽 공기가 상대적으로 차갑다. 반면, 밤에는 육지의 온도가 더 빨리 낮아지기 때문에 육지 쪽 공기가 상대적으로 차갑고, 바다 쪽 공기가 상대적으로 따뜻하다. 이러한 이유로 낮에는 해풍이, 밤에는 육풍이 분다.

• 생물체 내의 물은 외부 기온의 변화에 관계없이 체온을 일정하게 유지하는 데 도움을 준다.

⑤ **표면 장력**: 표면 장력은 액체의 표면적을 단위 면적만큼 증가시키는 데 필요한 에너지로 정의되며, 표면 장력이 클수록 액체가 표면적을 최소화하려는 경향이 크다. 표면 장력이 생기는 이유는 액체 표면의 분자가 내부로만 힘을 받기 때문이다.



분자 간 힘이 큰 액체일수록 대체로 표면 장력이 크다. 물은 분자 간에 수소 결합을 하기 때문에 다른 물질에 비해 분자 간 힘이 크므로 표면 장력이 크다. 물방울이 둥근 모양을 하는 이유는 물방울 표면에 있는 물 분자들은 다른 외부의 물 분자와 인력이 작용하지 않고, 물방울 중심 방향으로만 힘을 받게 되면서 구형을 이루게 된다. 이는 액체가 구형일 때 가장 작은 표면적을 갖기 때문이다.

- 예 • 물보다 밀도가 큰 비늘이나 클립 등을 물 위에 띄울 수 있다.
- 물이 가득 담긴 유리컵에 클립이나 동전을 넣어도 물이 바로 흘러넘치지 않는다.
- 소금쟁이가 물 위에 떠서 다닐 수 있다.
- 풀잎에 물방울이 둥근 모양으로 맺힌다.

탐구자료 살펴보기 물의 표면 장력

실험 과정

실험 I. 양초로 문지른 유리 판의 표면에 스포이트로 물을 몇 방울 떨어뜨린 후 관찰한다.  
 실험 II. 컵에 물을 가득 담고, 클립을 1개씩 조심스럽게 넣으면서 물의 표면을 관찰한다.

실험 결과

실험 I. 물방울이 둥근 모양이다.  
 실험 II. 컵의 물이 바로 넘치지 않고 컵 위로 불룩하게 올라온다.



분석 Point

- 실험 I에서 물방울이 둥근 모양을 나타내는 이유는 물의 표면 장력이 작용하기 때문이다.
- 실험 II에서 물이 바로 넘치지 않고 위로 불룩하게 올라오는 이유는 물의 표면 장력이 작용하여 가장자리의 물이 넘치지 않도록 내부의 물이 강하게 잡아당기고 있기 때문이다.

정답

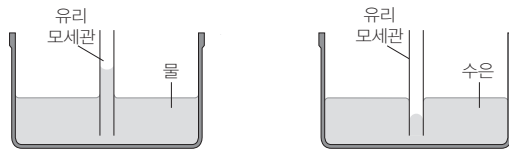
1. 크
2. 비열
3. 수소 결합, 크
4. 표면 장력

㉔ 모세관 현상 : 액체 속에 모세관을 넣었을 때 모세관 내의 액체 면이 외부의 액체 면보다 높아지거나 낮아지는 현상을 모세관 현상이라고 한다.

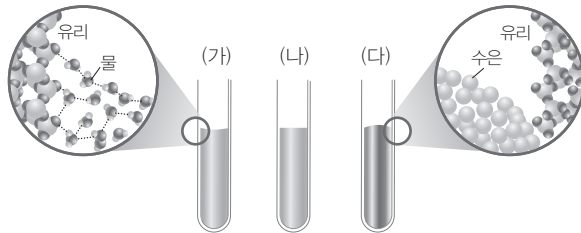
- 물속에 유리 모세관을 넣었을 때는 물과 유리 모세관 사이의 부착력이 물 분자들끼리의 응집력보다 크기 때문에 수면의 모양은 오목하고 수면은 모세관 바깥 쪽보다 위로 올라간다.

예 종이나 수건의 주성분인 셀룰로스에 대하여 물의 부착력이 커서 종이나 수건의 미세한 틈 사이로 물이 스며든다.

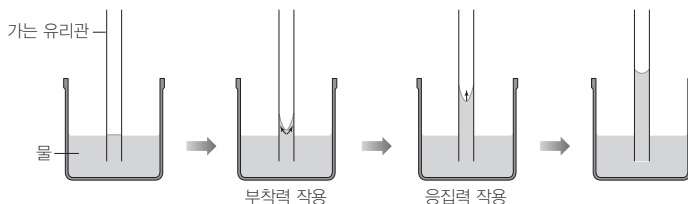
- 수은 속에 유리 모세관을 넣었을 때는 수은의 응집력이 수은과 유리 모세관 사이의 부착력보다 크기 때문에 수은 면의 모양은 볼록하고 수은 면은 모세관 바깥 쪽보다 아래로 내려간다.



과학 돋보기 물의 부착력과 응집력



- (가) : 유리 시험관에 물을 넣었을 때 수면은 가운데 부분이 오목하게 들어가고 가장자리 쪽은 시험관 벽에 붙어 약간 올라간다.
- (나) : 플라스틱 시험관에 물을 넣었을 때 수면은 거의 수평이다.
- (다) : 유리 시험관에 수은을 넣었을 때 수은 면은 가운데 부분이 볼록하게 올라가고 가장자리 쪽은 약간 내려간다.
- 물 분자 사이의 힘과 같이 같은 종류의 입자 사이에 작용하는 힘을 응집력이라고 하고, 물과 유리와 같이 다른 종류의 입자 사이에 작용하는 힘을 부착력이라고 한다.
- (가)에서 유리와 물 분자 사이의 부착력이 물 분자 사이의 응집력보다 크기 때문에 물 분자가 유리벽을 타고 더 올라가게 되어 수면의 가운데 부분이 오목해진다.
- (다)에서 수은 사이의 응집력이 유리와 수은 사이의 부착력보다 크기 때문에 수은 면의 가운데 부분이 볼록해진다.
- 모세관 현상의 원리 : 물이 들어 있는 용기에 가느다란 유리관을 세워 놓으면 유리관 내부 벽과 물 분자 사이의 부착력으로 물 분자가 올라가게 되고, 유리벽을 따라 올라간 물 분자와 수면의 물 분자 사이의 응집력에 의해 당겨져 올라가기 때문에 모세관 현상이 나타난다. 부착력과 응집력에 의해 모세관 안쪽의 수면은 점점 올라가다가 모세관 안쪽과 바깥쪽의 중력 차를 더 이상 극복하지 못하는 높이에서 멈춘다.



개념 체크

1. 모세관 현상 : 가느다란 관을 따라 액체가 올라가거나 내려가는 현상을 말한다.

1. 액체 속에 모세관을 넣었을 때 모세관 내의 액체 면이 외부의 액체 면보다 높아지거나 낮아지는 현상을 ( ) 현상이라고 한다.

2. 물에 유리관을 넣었을 때 유리관 벽과 물 분자 사이에 작용하는 힘을 ( ) 이라고 한다.

3. 수은에 유리관을 넣었을 때 수은 면이 아래로 내려가는 것은 유리관과 수은의 부착력이 수은 사이의 응집력보다 ( ) 기 때문이다.

정답

1. 모세관
2. 부착력
3. 작

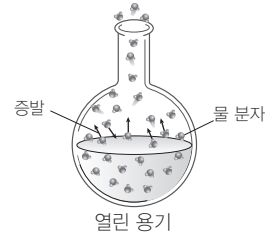
개념 체크

● 증기 압력: 닫힌 용기에 들어 있는 액체 표면의 증발 속도와 증기의 응축 속도가 같은 동적 평형 상태에서 증기가 나타내는 압력을 그 액체의 증기 압력이라고 한다.

1. 닫힌 용기에서 증발 속도와 응축 속도가 같은 상태를 ( ) 평형이라고 한다.
2. 증발 속도와 응축 속도가 같을 때 증기가 나타내는 압력을 ( )이라고 한다.
3. 액체의 증발 속도는 온도가 높을수록 ( )지고, 증기 압력은 온도가 높을수록 ( )다.

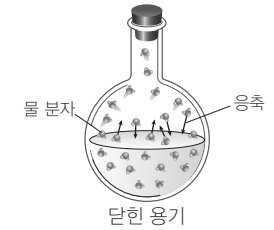
(4) 액체의 증기 압력

① 증발 : 액체 표면의 분자는 내부에 있는 분자에 비해 분자 사이에 작용하는 힘이 상대적으로 작기 때문에 기화되어 날아가는데 이러한 현상을 증발이라고 한다.

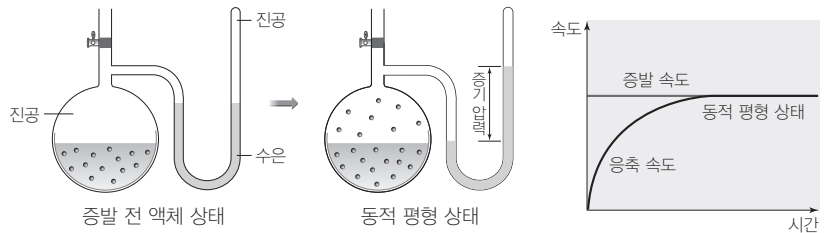


→ 열린 용기에 물을 담아두면 증발이 일어나 시간이 지나면 물의 양이 점점 줄어든다.

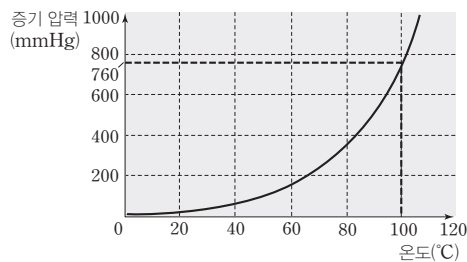
② 응축 : 액체가 담긴 용기를 뚜껑으로 막으면 오랜 시간이 지나도 액체의 양은 변하지 않는다. 이는 액체 표면에서 증발된 기체 분자들 중 일부가 액체 표면과 충돌을 통해 다시 액체로 변하기 때문이다. 이를 응축이라고 한다.



③ 동적 평형과 증기 압력 : 액체 표면에서 일어나는 증발은 액체 분자의 분자 사이의 힘과 운동에 따라 달라지므로 온도의 영향을 받는다. 따라서 온도가 일정할 때 액체 표면에서 일어나는 증발 속도는 일정하다. 그러나 증발된 기체 분자가 다시 응축되는 것은 단위 부피당 기체 분자 수가 많을수록 잘 일어나므로 닫힌 용기에서 응축 속도는 시간이 지날수록 증가하게 된다. 닫힌 용기 내 액체 표면에서의 증발 속도와 증기의 응축 속도가 같아져 동적 평형이 되면 증기의 양이 일정하게 유지된다. 이때 증기가 나타내는 압력을 그 액체의 증기 압력이라고 한다.



④ 온도와 증기 압력 : 액체의 온도가 높아지면 분자의 평균 운동 에너지가 증가하면서 액체 표면에 위치한 분자들의 증발 속도가 증가하게 된다. 따라서 증발된 증기 양이 많아지고, 증기의 온도도 높아지며, 이상 기체 방정식  $PV = nRT$ 에서 부피는 일정하고 증기의 양(mol)과 절대 온도( $T$ )가 증가하므로 증기 압력( $P$ )이 커진다. 이와 같이 온도에 따른 액체의 증기 압력을 나타낸 것을 증기 압력 곡선이라고 한다.



물의 증기 압력 곡선

정답

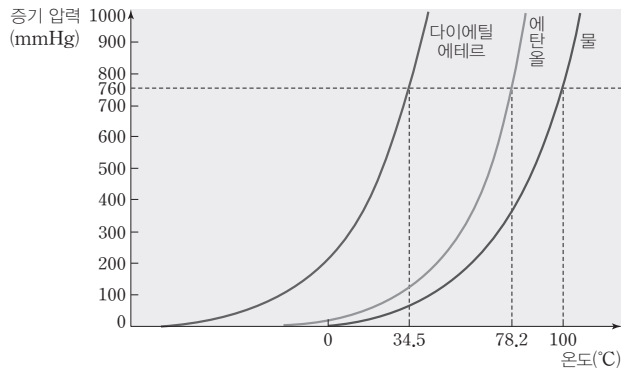
1. 동적
2. 증기 압력
3. 커, 크

⑤ 증기 압력 곡선과 끓는점 : 액체의 온도가 높아져서 증기 압력이 점점 증가하다가 액체의 증기 압력이 외부 압력과 같아지게 되면 액체 내부에서도 기화가 일어나면서 기포가 발생하게 되는데 이러한 현상을 끓음이라고 한다. 또한 이때의 온도를 액체의 끓는점이라고 한다. 특히 외부 압력이 1 atm일 때의 끓는점을 기준 끓는점이라고 하며 물의 기준 끓는점은 100°C이다.

⑥ 분자 사이의 힘과 끓는점 : 액체 상태에서 분자 사이의 힘이 클수록 분자 사이의 힘을 끊고 기체로 상태 변화되기 위해 많은 열에너지가 필요하다. 대체로 분자 사이의 힘이 클수록 액체 표면에서의 증발 속도는 작게 나타나며 증기 압력도 작게 나타난다. 분자 사이의 힘이 클수록 외부 압력과 같아지기 위해 보다 많은 열에너지가 필요하므로 높은 온도에서 끓게 된다. 따라서 분자 사이의 힘이 클수록 같은 온도에서 대체로 증기 압력이 작으며, 기준 끓는점이 높은 경향이 있다.

### 탐구자료 살펴보기 여러 가지 물질의 증기 압력 곡선

**자료** 다이에틸 에테르, 에탄올, 물의 증기 압력 곡선



### 분석

- 온도가 높아질수록 액체의 증기 압력이 커지는데, 이는 온도가 높아질수록 액체 표면에서의 증발 속도가 커지면서 증기의 양(mol)이 증가하고, 또한 증기의 온도가 높아지기 때문이다.
- 증기 압력이 외부 압력과 같을 때의 온도를 끓는점이라고 하며, 외부 압력이 1 atm(760 mmHg)일 때의 끓는점을 기준 끓는점이라고 한다.
- 각 액체의 기준 끓는점

물질	다이에틸 에테르	에탄올	물
기준 끓는점(°C)	34.5	78.2	100

- 상온(25°C)에서 증기 압력은 다이에틸 에테르 > 에탄올 > 물이고, 분자 사이의 힘이 작을수록 증기 압력이 크므로 분자 사이의 힘은 물 > 에탄올 > 다이에틸 에테르이다.
- 증기 압력이 작은 물질일수록 외부 압력과 증기 압력이 같아지기 위해 높은 온도가 필요하므로 끓는점이 높다. 따라서 분자 사이의 힘이 클수록 기준 끓는점이 높다.
- 외부 압력이 1 atm보다 작으면 물은 100°C보다 낮은 온도에서 끓는다.

### Point

분자 사이의 힘이 클수록 대체로 증기 압력이 작게 나타나며 끓는점은 높게 나타난다. 따라서 물질의 기준 끓는점을 알면 액체 분자 사이의 힘을 비교할 수 있다.

### 개념 체크

● **끓는점** : 액체의 증기 압력이 외부 압력과 같을 때의 온도이다.

1. 증기 압력과 외부 압력이 같을 때의 온도를 ( ) 이라고 한다.

2. 액체 A, B 중 분자 사이의 힘이 A가 B보다 클 때, 끓는점은 ( )가 ( )보다 높다.

[3~4] 탐구자료 살펴보기 에서

3. 3가지 물질 중 같은 온도에서 증기 압력이 가장 큰 것은 ( )이다.

4. 3가지 물질 중에서 분자 사이에 작용하는 힘이 가장 큰 것은 ( )이다.

### 정답

1. 끓는점
2. A, B
3. 다이에틸 에테르
4. 물

개념 체크

- 결정성 고체는 녹는점이 일정하지만, 비결정성 고체는 녹는점이 일정하지 않다.
- 분자 결정: 분자들이 분자 사이의 약한 힘에 의해 규칙적으로 배열되어 이루어진 결정이다.
- 원자 결정: 원자들이 공유 결합에 의해 연속적으로 배열되어 이루어진 결정이다.
- 금속 결정: 금속 양이온과 자유 전자 사이의 정전기적 인력에 의한 결합인 금속 결합으로 이루어진 결정이다.

1. 비결정성 고체는 입자 사이의 힘이 일정하지 않으므로 ( )이 일정하지 않다.
2. 분자 결정은 분자 사이의 약한 힘에 의해 분자들이 규칙적으로 배열된 것으로 상대적으로 녹는점과 끓는점이 ( )다.
3. 원자 결정은 원자들 사이의 ( ) 결합으로 이루어진 결정이다.

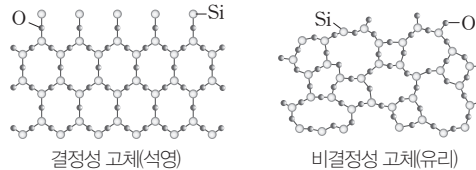
정답

1. 녹는점
2. 낮
3. 공유

3 고체

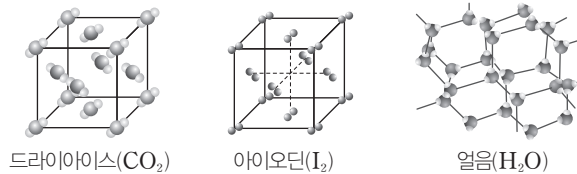
(1) 고체의 분류

- ① 결정성 고체: 고체를 이루는 원자, 이온, 분자 등이 규칙적으로 배열되어 있다. 기본 입자 사이에 작용하는 힘의 크기가 일정하므로 녹는점이 일정하다. ☞ 석영, 염화 나트륨 등
- ② 비결정성 고체: 고체를 이루는 원자, 이온, 분자 등이 불규칙적으로 배열되어 있다. 기본 입자 사이에 작용하는 힘의 크기가 일정하지 않으므로 녹는점이 일정하지 않다. ☞ 유리, 옻, 고무 등

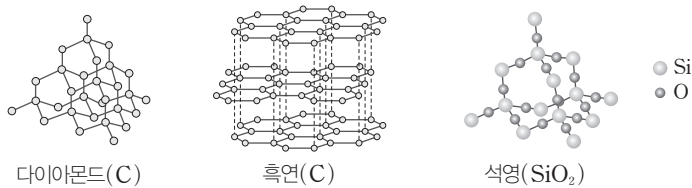


(2) 결정의 종류

- ① 분자 결정: 대체로 비금속 원자들의 공유 결합으로 형성된 분자들이 분자 사이에 작용하는 힘에 의해 규칙적으로 배열되어 이루어진 결정이다. 일반적으로 화학 결합에 비해 분자 사이에 작용하는 힘은 상대적으로 매우 약해 녹는점과 끓는점이 대체로 낮고, 승화성이 있는 물질도 있다. 고체 상태와 액체 상태에서 전기 전도성이 없다.



- ② 원자 결정(공유 결정): 구성 원자들이 모두 공유 결합에 의해 그물처럼 복잡하게 배열되어 이루어진 결정이다. 녹는점, 끓는점이 매우 높으며 고체 상태에서 전기 전도성은 대부분 없지만 흑연의 경우에는 구조적인 특성으로 전기 전도성이 있다.

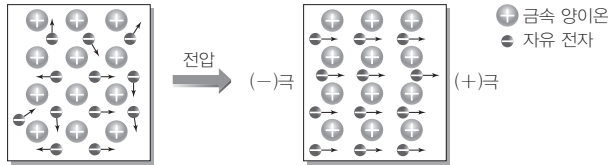


- ③ 금속 결정: 금속은 양전하를 띠는 금속 양이온이 규칙적으로 배열되어 있고, 음전하를 띠는 자유 전자가 금속 양이온 사이를 자유롭게 돌아다니는 상태로 구성되어 있다. 이들 금속 양이온과 자유 전자 사이의 정전기적 인력에 의한 화학 결합을 금속 결합이라고 하며, 금속 결합으로 이루어진 결정을 금속 결정이라고 한다. 대부분의 금속은 밀도가 크며, 녹는점과 끓는점이 비교적 높아 수은을 제외한 대부분의 금속은 상온에서 결정성 고체로 존재한다. 또한 금속 양이온 사이를 자유롭게 돌아다니는 자유 전자 때문에 금속은 다양한 특성을 갖는다.

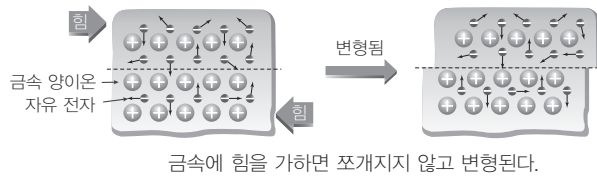
• 열과 전기 전도성이 크다.

➔ 열을 가했을 때 자유 전자의 활발한 운동에 의해 열이 잘 전달되고, 전압을 걸어 주면 자유 전자가 (-)극에서 (+)극 쪽으로 이동하면서 전류가 잘 흐른다.





- 대부분의 금속 표면은 은백색이나 회백색의 광택을 나타낸다. → 금속 표면에 빛이 도달하면 자유 전자에 의해 빛의 산란이 일어나 은백색이나 회백색의 광택을 띠게 된다.
- 전성(펴짐성)과 연성(뺨힘성)이 좋다. → 외부에서 힘을 가하면 금속 양이온들의 배열이 달라지면서 이웃한 양이온 사이의 반발력이 증가하지만 자유 전자에 의해 반발력이 완화되면서 변형된 형태가 유지된다. 이러한 금속의 성질을 이용하여 가공을 통해 다양한 형태의 금속 제품을 만들거나 실과 같은 가느다란 형태로 뽑아 이용하기도 한다.



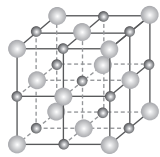
금속의 전성을 이용하여 얇은 금속판을 만든다.



금속의 연성을 이용하여 전선을 만든다.

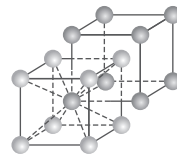
④ 이온 결정 : 양이온과 음이온이 정전기적 인력으로 결합되어 이루어진 결정이다. 결정을 이루는 이온의 종류와 크기에 따라 다양하고 독특한 모양의 결정 구조를 갖는다. 대표적인 예는 염화 나트륨과 염화 세슘이다.

- 염화 나트륨 결정의 경우 1개의 나트륨 이온( $\text{Na}^+$ ) 주위에 전후상하좌우로 6개의 염화 이온( $\text{Cl}^-$ )이 배치되어 있다. 마찬가지로 1개의 염화 이온( $\text{Cl}^-$ ) 주위에 전후상하좌우로 6개의 나트륨 이온( $\text{Na}^+$ )이 배치되어 있다.
- 염화 세슘 결정의 경우 1개의 세슘 이온( $\text{Cs}^+$ )이 정육면체의 중심에 있다고 할 때, 8개의 염화 이온( $\text{Cl}^-$ )이 정육면체의 각 꼭짓점에 배치되어 있다. 마찬가지로 1개의 염화 이온( $\text{Cl}^-$ ) 주위에 8개의 세슘 이온( $\text{Cs}^+$ )이 배치되어 있다.



염화 나트륨( $\text{NaCl}$ ) 결정 구조

●  $\text{Na}^+$   
●  $\text{Cl}^-$



염화 세슘( $\text{CsCl}$ ) 결정 구조

●  $\text{Cs}^+$   
●  $\text{Cl}^-$

⑤ 결정의 종류와 특성 : 분자 결정, 원자 결정(공유 결정), 금속 결정, 이온 결정의 4가지 결정은 각각의 몇 가지 물리적 특성을 이용하여 구분할 수 있다.

### 개념 체크

● 이온 결정 : 양이온과 음이온이 정전기적 인력으로 결합되어 이루어진 결정이다.

1. 금속 결정에 힘을 가하면 ( )에 의해 결합이 끊어지지 않고 유지되기 때문에 금속은 전성과 연성이 좋다.
2. 이온 결정은 양이온과 음이온 사이의 ( ) 인력으로 결합되어 이루어진 결정이다.

### 정답

1. 자유 전자
2. 정전기적

개념 체크

● **단위 세포** : 결정 격자 구조에서 3차원적으로 반복되는 가장 작은 단위 구조이다.

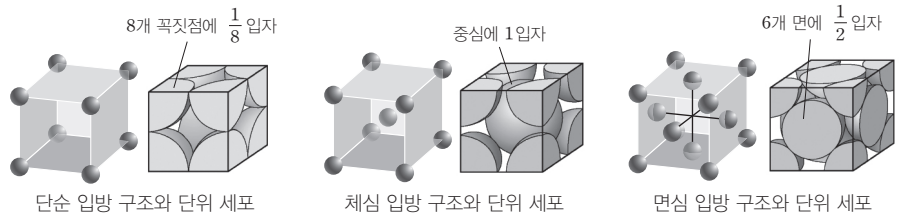
1. 단위 세포에서 정육면체의 꼭짓점에 있는 입자는 입자의 ( )이 단위 세포에 포함된다.
2. ( ) 구조는 정육면체의 8개 꼭짓점과 단위 세포 중심에 입자가 배열된 구조이다.
3. 면심 입방 구조의 단위 세포 내에 포함되는 입자 수는 ( )이다.
4. 면심 입방 구조의 단위 세포에서 면에 위치한 입자는 ( )개의 단위 세포가 공유한다.
5. 염화 나트륨 결정에서 나트륨 이온( $\text{Na}^+$ )의 결정 구조는 ( ) 구조와 같다.

결정의 종류	구성 입자	입자 사이의 힘	녹는점	전기 전도성	
				고체	액체
분자 결정	분자	분자 간 힘	대체로 낮음	없음	없음
원자 결정 (공유 결정)	원자	공유 결합	매우 높음	없음	없음
금속 결정	금속 양이온과 자유 전자	금속 결합	높음	있음	있음
이온 결정	이온	이온 결합	높음	없음	있음

※ 원자 결정 중 흑연과 같은 물질은 전기 전도성이 있음

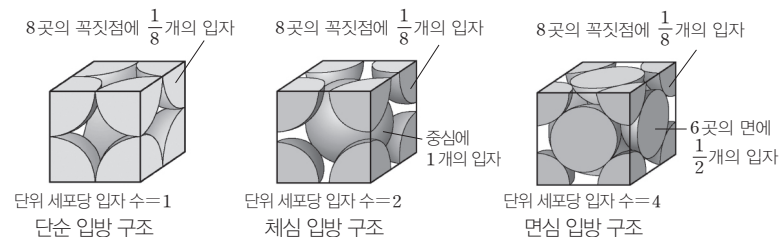
(3) 결정 구조

- ① **단위 세포** : 각 결정성 고체를 구성하는 입자들은 규칙적인 배열을 갖는 결정 격자 구조를 가지고 있는데, 각 결정 격자 구조에서 3차원적으로 반복되는 가장 작은 단위 구조를 단위 세포라고 한다. 이들 단위 세포가 반복적으로 배열되면서 결정성 고체를 형성한다.
- ② **단순 입방 구조** : 단위 세포를 정육면체라고 가정할 때, 정육면체의 8개의 꼭짓점에 동일한 입자가 배열된 구조이다.
- ③ **체심 입방 구조** : 단위 세포를 정육면체라고 가정할 때, 정육면체의 8개의 꼭짓점과 단위 세포 중심에 각각 동일한 입자가 배열된 구조이다.
- ④ **면심 입방 구조** : 단위 세포를 정육면체라고 가정할 때, 정육면체의 8개의 꼭짓점과 단위 세포의 6개의 면 중심에 각각 동일한 입자가 배열된 구조이다.



- ⑤ **단위 세포당 입자 수** : 단위 세포의 각 꼭짓점은 8개의 단위 세포가 만나는 지점이고, 단위 세포의 각 면은 2개의 단위 세포가 공유한다. 또한 단위 세포의 각 모서리는 4개의 단위 세포가 공유하므로 단위 세포에서 입자가 위치하는 지점에 따라 단위 세포에 포함된 입자 수는 다음과 같다.

• 꼭짓점에 있는 입자 : $\frac{1}{8}$ 입자	• 면에 있는 입자 : $\frac{1}{2}$ 입자
• 모서리에 있는 입자 : $\frac{1}{4}$ 입자	• 중심에 있는 입자 : 1 입자



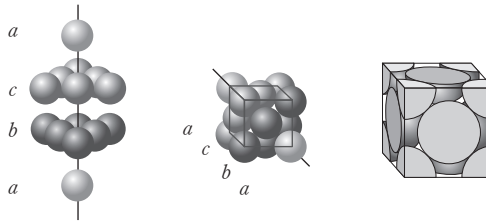
정답

1.  $\frac{1}{8}$
2. 체심 입방
3. 4
4. 2
5. 면심 입방

**탐구자료** 살펴보기 **면심 입방 구조의 단위 세포 만들기**

**실험 과정**

1. 스티아로폼 공 6개로 이루어진 삼각형 모양  $b, c$ 를 만든다.
2. 삼각형  $c$ 를  $180^\circ$  돌려 삼각형  $b$ 와 어긋나게 쌓는다.
3. 위 아래 삼각형의 중심에 공  $a$ 를 각각 붙인다.
4. 구조물을 바닥에 놓고 정육면체로 단면을 자른다.



**실험 결과**

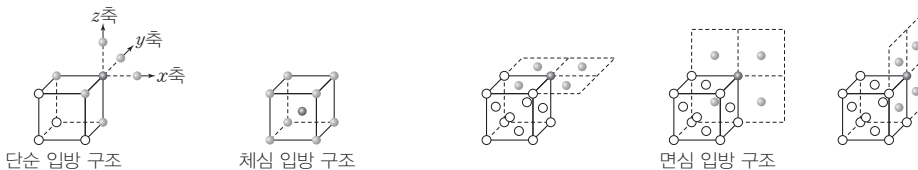
- 과정 1~3과 같이 공을 붙이면 정육면체의 면심 입방 구조가 완성된다.
- 과정 4와 같이 단면을 자르면 면심 입방 구조의 단위 세포가 만들어진다.

**분석 Point**

단위 세포에서 정육면체의 꼭짓점에  $\frac{1}{8}$ 입자가 8개, 면에  $\frac{1}{2}$ 입자가 6개이므로 단위 세포에 포함된 입자 수는 4이다.

**과학 돋보기** 결정 구조에서 한 입자를 둘러싸고 있는 가장 가까운 입자 수

- 단순 입방 구조 : 정육면체의 각 꼭짓점에 입자가 위치하므로 단위 세포의 한 입자를 중심으로 볼 때 이 입자는 8개의 단위 세포가 공유하고 있다. 따라서  $x, y, z$ 축 방향으로 각각 2개의 입자가 둘러싸고 있는 구조이다.  $\Rightarrow$  6개
- 체심 입방 구조 : 단위 세포 중심에 위치한 입자를 중심으로 볼 때 가장 가까운 거리에 있는 입자는 정육면체의 8개 꼭짓점에 위치한 입자이다.  $\Rightarrow$  8개
- 면심 입방 구조 : 단위 세포에서 꼭짓점에 있는 입자를 중심으로 볼 때, 이 입자를 포함하는  $xy, yz, xz$  평면으로 각각 4개씩의 입자가 같은 거리에 위치하여 둘러싸고 있다.  $\Rightarrow$  12개  
(※ 입자를 둘러싸고 있는 가장 가까운 입자 수를 파악할 수 있도록 각각 다른 색으로 표현하였으나 한 단위 세포 내에서 모든 입자는 동일한 입자이다.)



**(4) 기체, 액체, 고체 사이의 상변화**

- ① 온도에 따른 상변화 : 일정한 압력에서 물질을 일정한 열원으로 가열하면 상변화가 없을 때는 온도가 높아지지만, 상변화가 일어날 때는 가해 준 열이 상변화에만 쓰이므로 온도가 일정하게 유지된다. 이때 고체에서 액체로의 상변화 온도는 녹는점이고, 액체에서 기체로의 상변화 온도는 끓는점이다.

**예** 1 atm에서 고체인 얼음을 일정한 열원으로 가열하면  $0^\circ\text{C}$ 에서 물로 상변화가 일어나고,  $100^\circ\text{C}$ 에서 수증기로 상변화가 일어난다.

- ② 압력에 따른 상변화 : 일정한 온도에서 물질에 가해지는 압력을 변화시키면 상변화가 일어난다. 기체에 압력을 가하면 부피가 줄어들면서 기체 분자 사이의 거리가 가까워져 상호 간 힘이 증가하므로 액체나 고체로 변하게 된다.

**예** 스케이트를 신고 얼음판 위에 서면 얼음이 녹아 물이 되면서 스케이트가 잘 미끄러진다.

**개념 체크**

● 면심 입방 구조에서 한 입자를 둘러싸고 있는 가장 가까운 입자 수는 12이고, 체심 입방 구조에서 한 입자를 둘러싸고 있는 가장 가까운 입자 수는 8이다.

1. 단순 입방 구조, 면심 입방 구조, 체심 입방 구조에서 단위 세포에 포함된 입자 수가 가장 큰 것은 ( ) 입방 구조이다.
2. 한 입자를 둘러싸고 있는 가장 가까운 입자 수는 면심 입방 구조는 ( ), 체심 입방 구조는 ( ) 이다.
3. 일정한 압력에서 고체를 가열할 때 액체로 상변화 하는 온도를 ( )이라고 한다.

**정답**

1. 면심
2. 12, 8
3. 녹는점

기출문제 다시보기 증기 압력

2022학년도 대수능

다음은 X(l)와 Y(l)의 증기 압력과 관련된 실험이다.

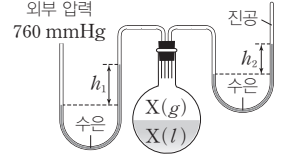
[실험 과정]

(가)  $t^{\circ}\text{C}$ 에서 진공 상태의 플라스크에 X(l)를 넣은 후, 외부 압력이 760 mmHg일 때 그림과 같이 도달한 평형에서 수은 기둥의 높이차  $h_1$ 과  $h_2$ 를 측정한다.

(나) X(l) 대신 Y(l)를 사용하여 과정 (가)를 반복한다.

[실험 결과] ○ 수은 기둥의 높이차

액체	$h_1$ (mm)	$h_2$ (mm)
X(l)	460	300
Y(l)	$a$	140



이에 대한 설명으로 옳은 것만을 <보기>에서 있는 대로 고른 것은? (단, 온도는 일정하고 수은의 증기 압력은 무시한다.) [3점]

보기

- ㄱ.  $a = 620$ 이다.
- ㄴ. 외부 압력이 770 mmHg일 때, X(l)를 사용한 실험에서  $h_2 > 300$ 이다.
- ㄷ. 외부 압력이 300 mmHg일 때, 끓는점은 Y(l)가 X(l)보다 높다.

- ① ㄴ
- ② ㄷ
- ③ ㄱ, ㄴ
- ④ ㄱ, ㄷ
- ⑤ ㄱ, ㄴ, ㄷ

**해설**  $h_1$  mmHg는 외부 압력과  $t^{\circ}\text{C}$ 에서 액체의 증기 압력의 차이이고,  $h_2$  mmHg는  $t^{\circ}\text{C}$ 에서 액체의 증기 압력이다.

ㄱ.  $t^{\circ}\text{C}$ 에서 Y(l)의 증기 압력은  $h_2$  mmHg = 140 mmHg이고,  $a$  mmHg =  $h_1$  mmHg는 외부 압력(760 mmHg)과  $t^{\circ}\text{C}$ 에서 Y(l)의 증기 압력(140 mmHg)의 차이므로  $760 \text{ mmHg} - 140 \text{ mmHg} = 620 \text{ mmHg}$ 이다.

ㄴ. 외부 압력이 770 mmHg일 때, X(l)를 사용한 실험에서  $h_1$  mmHg =  $770 \text{ mmHg} - 300 \text{ mmHg} = 470 \text{ mmHg}$ 가 되지만  $h_2$  mmHg는  $t^{\circ}\text{C}$ 에서 Y(l)의 증기 압력이므로 그대로 300 mmHg이다.

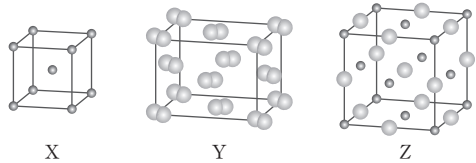
ㄷ.  $t^{\circ}\text{C}$ 에서 X(l)의 증기 압력은 300 mmHg이므로 외부 압력이 300 mmHg일 때 X(l)의 끓는점은  $t^{\circ}\text{C}$ 이다.  $t^{\circ}\text{C}$ 에서 Y(l)의 증기 압력은 140 mmHg이므로 외부 압력이 300 mmHg일 때 Y(l)는 끓지 않으며, Y(l)의 끓는점은  $t^{\circ}\text{C}$ 보다 높다. 따라서 외부 압력이 300 mmHg일 때 끓는점은 Y(l)가 X(l)보다 높다. **답 ④**

기출문제 다시보기 고체의 결정 구조

2022학년도 대수능

그림은 고체 X~Z의 결정 구조를 모형으로 나타낸 것이다. X~Z는 각각 Na(s), NaI(s), I<sub>2</sub>(s) 중 하나이다.

이에 대한 설명으로 옳은 것만을 <보기>에서 있는 대로 고른 것은?



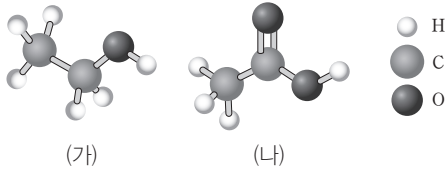
보기

- ㄱ. X는 Na(s)이다.
- ㄴ. Y는 공유 결정이다.
- ㄷ. Z는 양이온과 음이온으로 이루어져 있다.

- ① ㄴ
- ② ㄷ
- ③ ㄱ, ㄴ
- ④ ㄱ, ㄷ
- ⑤ ㄱ, ㄴ, ㄷ

**해설** Z는 2가지 입자로 이루어져 있으므로 NaI(s)이고, Y는 같은 입자 2개가 결합되어 분자를 이루고 그 분자가 규칙적으로 배열되어 있으므로 I<sub>2</sub>(s)이다. ㄱ. Y는 I<sub>2</sub>(s)이고, Z는 NaI(s)이므로 X는 금속 결정인 Na(s)이다. ㄴ. Y는 I<sub>2</sub>(s)으로 분자 결정이다. ㄷ. Z는 NaI(s)으로 양이온인 Na<sup>+</sup>(○)과 음이온인 I<sup>-</sup>(●)으로 이루어져 있다. **답 ④**

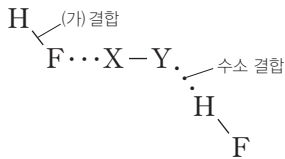
01 [22028-0025] 그림은 탄소 화합물 (가)와 (나)의 분자 모형을 나타낸 것이다.



액체 상태의 (가)와 (나)에 공통적으로 작용하는 분자 간 힘을 <보기>에서 있는 대로 고른 것은?

- 보기
- ㄱ. 분산력
  - ㄴ. 쌍극자·쌍극자 힘
  - ㄷ. 수소 결합
- ① ㄱ                      ② ㄷ                      ③ ㄱ, ㄴ  
 ④ ㄴ, ㄷ                      ⑤ ㄱ, ㄴ, ㄷ

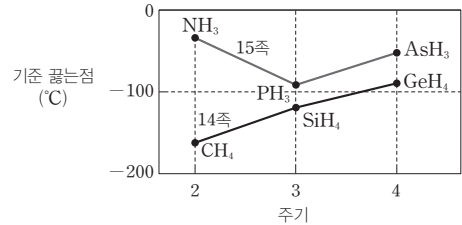
02 [22028-0026] 그림은 액체 상태에서 HF 분자와 관련된 결합 모형을 나타낸 것이다. X와 Y는 각각 H와 F 중 하나이다.



이에 대한 설명으로 옳은 것만을 <보기>에서 있는 대로 고른 것은?

- 보기
- ㄱ. X는 F이다.
  - ㄴ. XY에서 Y는 부분적인 음전하( $\delta^-$ )를 띤다.
  - ㄷ. HF(l)가 기화될 때 (가) 결합 수는 감소한다.
- ① ㄱ                      ② ㄴ                      ③ ㄷ  
 ④ ㄱ, ㄷ                      ⑤ ㄴ, ㄷ


03 [22028-0027] 그림은 6가지 수소 화합물의 기준 끓는점을 중심 원자의 주기와 족에 따라 나타낸 것이다.



이에 대한 설명으로 옳은 것만을 <보기>에서 있는 대로 고른 것은?

- 보기
- ㄱ. 분산력은  $\text{SiH}_4(l)$ 이  $\text{CH}_4(l)$ 보다 크다.
  - ㄴ. 분자 간 힘은  $\text{AsH}_3(l)$ 이  $\text{GeH}_4(l)$ 보다 크다.
  - ㄷ. 기준 끓는점이  $\text{NH}_3(l)$ 가  $\text{PH}_3(l)$ 보다 높은 주된 요인은 수소 결합이다.
- ① ㄱ                      ② ㄷ                      ③ ㄱ, ㄴ  
 ④ ㄴ, ㄷ                      ⑤ ㄱ, ㄴ, ㄷ

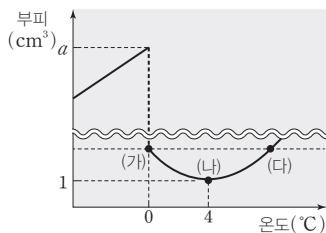
04 [22028-0028] 다음은 표면 장력에 대한 세 학생의 대화이다.



제시한 내용이 옳은 학생만을 있는 대로 고른 것은?

- ① A                      ② C                      ③ A, B  
 ④ B, C                      ⑤ A, B, C

05 [22028-0029] 그림은 1 atm에서 H<sub>2</sub>O 1 g의 온도에 따른 부피를 나타낸 것이다.



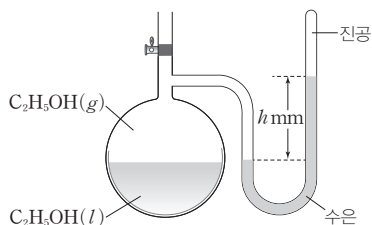
이에 대한 설명으로 옳은 것만을 <보기>에서 있는 대로 고른 것은?

보기

- ㄱ. 0°C, 1 atm에서 H<sub>2</sub>O(s)의 밀도는  $\frac{1}{a}$  g/cm<sup>3</sup>이다.
- ㄴ. 1 cm<sup>3</sup>당 H 원자 수는 (가)와 (다)에서 같다.
- ㄷ. 1 g당 수소 결합 수는 (나)에서가 (가)에서보다 크다.

- ① ㄱ                      ② ㄷ                      ③ ㄱ, ㄴ
- ④ ㄴ, ㄷ                ⑤ ㄱ, ㄴ, ㄷ

06 [22028-0030] 그림은 진공 상태의 용기에 에탄올(C<sub>2</sub>H<sub>5</sub>OH(l))을 넣은 후 25°C에서 평형에 도달한 것을 나타낸 것이다.



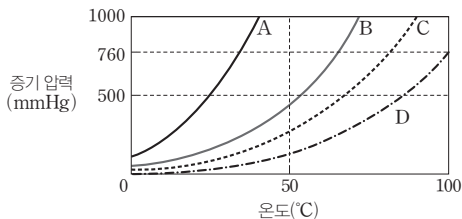
이에 대한 설명으로 옳은 것만을 <보기>에서 있는 대로 고른 것은?

보기

- ㄱ. 25°C에서 C<sub>2</sub>H<sub>5</sub>OH(l)의 증기 압력은 h mmHg이다.
- ㄴ. C<sub>2</sub>H<sub>5</sub>OH(l)의 증발 속도와 C<sub>2</sub>H<sub>5</sub>OH(g)의 응축 속도가 같다.
- ㄷ. 50°C에서 C<sub>2</sub>H<sub>5</sub>OH(l)의 증기 압력은 h mmHg보다 크다.

- ① ㄱ                      ② ㄷ                      ③ ㄱ, ㄴ
- ④ ㄴ, ㄷ                ⑤ ㄱ, ㄴ, ㄷ

07 [22028-0031] 그림은 액체 A~D의 증기 압력 곡선을 나타낸 것이다.



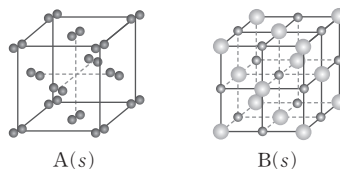
A~D에 대한 설명으로 옳은 것만을 <보기>에서 있는 대로 고른 것은? (단, 1 atm = 760 mmHg이다.)

보기

- ㄱ. 기준 끓는점이 가장 높은 것은 D이다.
- ㄴ. 분자 간 힘은 B(l) > C(l)이다.
- ㄷ. 50°C, 500 mmHg에서 A는 액체이다.

- ① ㄱ                      ② ㄷ                      ③ ㄱ, ㄴ
- ④ ㄴ, ㄷ                ⑤ ㄱ, ㄴ, ㄷ

08 [22028-0032] 그림은 물질 A와 B의 고체 결정 구조를 모형으로 나타낸 것이다. A와 B는 각각 아이오딘(I<sub>2</sub>)과 염화 나트륨(NaCl) 중 하나이다.



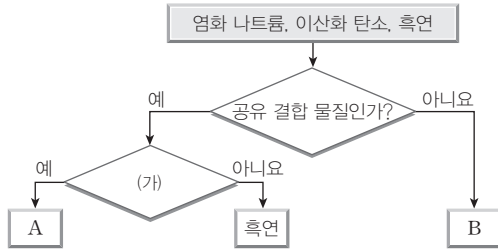
이에 대한 설명으로 옳은 것만을 <보기>에서 있는 대로 고른 것은?

보기

- ㄱ. A는 염화 나트륨이다.
- ㄴ. B(s)는 이온 결정이다.
- ㄷ. 전기 전도도는 A(l) > B(l)이다.

- ① ㄱ                      ② ㄴ                      ③ ㄷ
- ④ ㄱ, ㄴ                ⑤ ㄴ, ㄷ

09 [22028-0033] 그림은 3가지 물질을 주어진 기준에 따라 분류한 것이다.



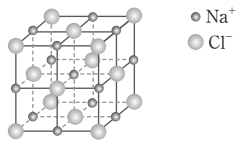
이에 대한 설명으로 옳은 것만을 <보기>에서 있는 대로 고른 것은?

보기

- ㄱ. '고체 상태에서 전기 전도성이 있는가?'는 (가)로 적절하다.
- ㄴ. A는 고체일 때 분자 결정을 이룬다.
- ㄷ. B는 액체 상태에서는 고체 상태에서보다 전기 전도도가 크다.

- ① ㄱ                      ② ㄴ                      ③ ㄷ
- ④ ㄱ, ㄴ                ⑤ ㄴ, ㄷ

10 [22028-0034] 그림은 NaCl(s)의 결정 구조를 나타낸 것이다.



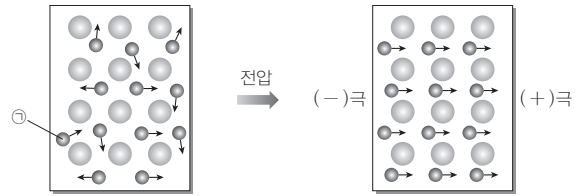
이에 대한 설명으로 옳은 것만을 <보기>에서 있는 대로 고른 것은?

보기

- ㄱ. Na<sup>+</sup>에 가장 가까운 Cl<sup>-</sup> 수는 6이다.
- ㄴ. Na<sup>+</sup>에 가장 가까운 Na<sup>+</sup> 수는 12이다.
- ㄷ. 단위 세포에 포함된 Cl<sup>-</sup> 수는 4이다.

- ① ㄱ                      ② ㄷ                      ③ ㄱ, ㄴ
- ④ ㄴ, ㄷ                ⑤ ㄱ, ㄴ, ㄷ

11 [22028-0035] 그림은 3주기 원소 A(s)에 전압을 걸어주기 전과 후를 모형으로 나타낸 것이다.



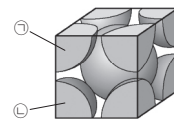
이에 대한 설명으로 옳은 것만을 <보기>에서 있는 대로 고른 것은? (단, A는 임의의 원소 기호이다.)

보기

- ㄱ. A(s)는 비금속이다.
- ㄴ. ㉠은 (+)전하를 띤다.
- ㄷ. A(s)는 전기 전도성이 있다.

- ① ㄱ                      ② ㄷ                      ③ ㄱ, ㄴ
- ④ ㄴ, ㄷ                ⑤ ㄱ, ㄴ, ㄷ

12 [22028-0036] 그림은 금속 M 결정의 단위 세포 모형을 나타낸 것이다.



이에 대한 설명으로 옳은 것만을 <보기>에서 있는 대로 고른 것은? (단, M은 임의의 원소 기호이다.)

보기

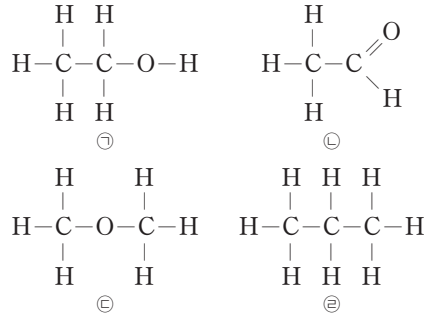
- ㄱ. 단순 입방 구조이다.
- ㄴ. 단위 세포에 포함된 M 원자 수는 2이다.
- ㄷ. ㉠과 ㉡은 서로 가장 가까운 원자이다.

- ① ㄱ                      ② ㄴ                      ③ ㄷ
- ④ ㄱ, ㄴ                ⑤ ㄴ, ㄷ

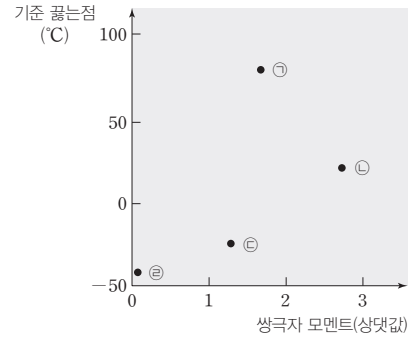
액체 상태에서 분자량이 클수록 분산력이 크므로 분자량이 비슷한 분자들은 대체로 분산력이 비슷하다. 쌍극자 모멘트의 크기가 클수록 대체로 분자의 극성이 커서 쌍극자·쌍극자 힘이 크다.

01 [22028-0037]

그림 (가)는 분자량이 비슷한 탄소 화합물 ㉠~㉣의 구조식을, (나)는 ㉠~㉣의 쌍극자 모멘트와 기준 끓는점을 나타낸 것이다.



(가)



(나)

이에 대한 설명으로 옳은 것만을 <보기>에서 있는 대로 고른 것은? (단, ㉠~㉣의 분자량은 각각 46, 44, 46, 44이다.)

보기

- ㄱ. 액체 상태에서 ㉠은 수소 결합을 한다.
- ㄴ. ㉢이 ㉣보다 기준 끓는점이 높은 주된 요인은 분산력이다.
- ㄷ. 액체 상태에서 ㉢은 ㉣보다 쌍극자·쌍극자 힘이 크다.

- ① ㄱ                      ② ㄷ                      ③ ㄱ, ㄴ                      ④ ㄱ, ㄷ                      ⑤ ㄴ, ㄷ

97°C에서 H<sub>2</sub>O은 액체이므로 H<sub>2</sub>O의 기준 끓는점은 97°C보다 높고, C<sub>2</sub>H<sub>5</sub>OH은 기체이므로 C<sub>2</sub>H<sub>5</sub>OH의 기준 끓는점은 97°C보다 낮다.

02 [22028-0038]

표는 1 atm에서 H<sub>2</sub>O과 C<sub>2</sub>H<sub>5</sub>OH에 대한 자료이다.

온도(°C)	H <sub>2</sub> O		C <sub>2</sub> H <sub>5</sub> OH	
	안정한 상	비열(J/(g·°C))	안정한 상	비열(J/(g·°C))
25	액체	4.18	액체	2.44
97	액체		기체	

1 atm에서 이에 대한 설명으로 옳은 것만을 <보기>에서 있는 대로 고른 것은?

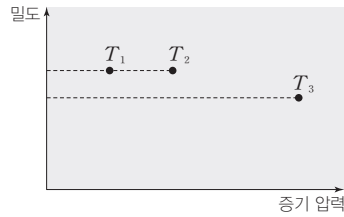
보기

- ㄱ. 25°C의 C<sub>2</sub>H<sub>5</sub>OH(l) 10 g을 26°C로 높이는 데 필요한 열량은 24.4 J이다.
- ㄴ. 25°C의 H<sub>2</sub>O(l) 1 g과 25°C의 C<sub>2</sub>H<sub>5</sub>OH(l) 1 g에 각각 3 J의 열을 가한 후의 온도는 H<sub>2</sub>O(l)이 C<sub>2</sub>H<sub>5</sub>OH(l)보다 높다.
- ㄷ. 분자 간 힘은 H<sub>2</sub>O(l)이 C<sub>2</sub>H<sub>5</sub>OH(l)보다 크다.

- ① ㄱ                      ② ㄴ                      ③ ㄱ, ㄷ                      ④ ㄴ, ㄷ                      ⑤ ㄱ, ㄴ, ㄷ



03 [22028-0039] 그림은 3가지 온도  $T_1 \sim T_3$ 에서  $H_2O(l)$ 의 증기 압력과 밀도를 나타낸 것이다.



이에 대한 설명으로 옳은 것만을 <보기>에서 있는 대로 고른 것은?

보기

- ㄱ.  $T_2 > T_1$ 이다.
- ㄴ.  $H_2O(l)$  1 mL에 들어 있는  $H_2O$  분자 수는  $T_2$ 에서가  $T_3$ 에서보다 크다.
- ㄷ.  $H_2O(l)$  1 g에 들어 있는 수소 결합 수는  $T_1$ 에서가  $T_3$ 에서보다 크다.

- ① ㄱ      ② ㄷ      ③ ㄱ, ㄴ      ④ ㄴ, ㄷ      ⑤ ㄱ, ㄴ, ㄷ

04 [22028-0040] 다음은 학생 A가 설정한 가설과 탐구 활동이다.

[가설]

- 기준 끓는점이 높은 탄화수소일수록 분자량이 크다.

[탐구 과정]

- 노말펜테인( $C_5H_{12}$ ), 아이소펜테인( $C_5H_{12}$ ), 네오펜테인( $C_5H_{12}$ )의 분자 모형, 기준 끓는점, 분자량을 조사한다.

[탐구 결과]

- 탄화수소의 분자 모형, 기준 끓는점, 분자량

탄화수소	노말펜테인	아이소펜테인	네오펜테인
분자 모형			
기준 끓는점(°C)	36.1	27.8	9.5
분자량	72	$x$	$y$

이에 대한 설명으로 옳은 것만을 <보기>에서 있는 대로 고른 것은?

보기

- ㄱ.  $x > y$ 이다.
- ㄴ. 가설은 옳다.
- ㄷ. 분산력은 노말펜테인이 네오펜테인보다 크다.

- ① ㄱ      ② ㄴ      ③ ㄷ      ④ ㄱ, ㄷ      ⑤ ㄴ, ㄷ

액체의 온도가 높아지면 증기 압력이 커진다.

노말펜테인, 아이소펜테인, 네오펜테인은 모두 분자식이  $C_5H_{12}$ 로 같다.

H<sub>2</sub>O은 고체의 밀도가 액체의 밀도보다 작다.

25°C에서 A(l)의 증기 압력은 0.1 atm보다 크고, B(l)의 증기 압력은 0.1 atm보다 작다.

05 [22028-0041] 표는 1 atm에서 물질 A와 B의 온도에 따른 안정한 상과 밀도를 나타낸 것이다. A와 B는 각각 H<sub>2</sub>O과 CH<sub>3</sub>COOH 중 하나이고,  $a > b$ 이다.

온도(°C)	A		B	
	안정한 상	밀도(g/mL)	안정한 상	밀도(g/mL)
-1	고체	$a$	고체	$b$
20	액체	$a - 0.22$	액체	$b + 0.08$

1 atm에서 이에 대한 설명으로 옳은 것만을 <보기>에서 있는 대로 고른 것은?

보기

ㄱ. A는 CH<sub>3</sub>COOH이다.  
 ㄴ. -1°C의 B(s)는 20°C의 B(l)에 뜬다.  
 ㄷ. -1°C에서 부피는  $a$  g B(s)가  $b$  g A(s)보다 크다.

- ① ㄱ                      ② ㄷ                      ③ ㄱ, ㄴ                      ④ ㄴ, ㄷ                      ⑤ ㄱ, ㄴ, ㄷ

06 [22028-0042] 표는 A(l)와 B(l)의 증기 압력이 각각 0.1 atm, 1 atm일 때의 온도를 나타낸 것이다.

액체	증기 압력이 0.1 atm일 때의 온도(°C)	증기 압력이 1 atm일 때의 온도(°C)
A(l)	1	56
B(l)	33	82

이에 대한 설명으로 옳은 것만을 <보기>에서 있는 대로 고른 것은?

보기

ㄱ. A(l)의 기준 끓는점은 56°C이다.  
 ㄴ. 25°C에서 증기 압력은 A(l)가 B(l)보다 크다.  
 ㄷ. 분자 간 힘은 A(l)가 B(l)보다 크다.

- ① ㄱ                      ② ㄷ                      ③ ㄱ, ㄴ                      ④ ㄴ, ㄷ                      ⑤ ㄱ, ㄴ, ㄷ

[07~08] 다음은 증기 압력에 대한 실험이다.

**[실험 과정]**

- (가) 감압 용기 I~Ⅶ을 준비한다.
- (나) 감압 용기 I~Ⅲ에 3가지 액체 A~C를 각각 넣고 액체가 끓을 때까지 압력을 낮추어 액체의 온도와 용기 안 기체의 압력을 측정한다.
- (다) 감압 용기 Ⅳ~Ⅶ에 온도가 서로 다른 H<sub>2</sub>O(l)을 각각 넣고 H<sub>2</sub>O(l)이 끓을 때까지 압력을 낮추어 H<sub>2</sub>O(l)의 온도와 용기 안 기체의 압력을 측정한다.

**07** [22028-0043] 표는 과정 (나)에 대한 실험 결과를 나타낸 것이다.

감압 용기	I	Ⅱ	Ⅲ
액체	A(l)	B(l)	C(l)
액체의 온도(°C)	25	25	25
용기 안 기체의 압력(mmHg)	94	122	470

A(l)~C(l)에 대한 설명으로 옳은 것만을 <보기>에서 있는 대로 고른 것은? (단, 1 atm = 760 mmHg이다.)

보기

- ㄱ. A(l)의 기준 끓는점은 25°C이다.
- ㄴ. 25°C에서 증기 압력은 C(l)가 B(l)보다 크다.
- ㄷ. 분자 간 힘은 C(l)가 가장 크다.

- ① ㄱ                      ② ㄴ                      ③ ㄷ                      ④ ㄱ, ㄴ                      ⑤ ㄴ, ㄷ

**08** [22028-0044] 표는 과정 (다)에 대한 실험 결과를 나타낸 것이다.

감압 용기	Ⅳ	V	Ⅵ	Ⅶ
H <sub>2</sub> O(l)의 온도(°C)	20	40	60	80
용기 안 기체의 압력(mmHg)	x	55	150	356

이에 대한 설명으로 옳은 것만을 <보기>에서 있는 대로 고른 것은?

보기

- ㄱ. x < 55이다.
- ㄴ. 356 mmHg에서 H<sub>2</sub>O(l)의 끓는점은 80°C이다.
- ㄷ. 60°C, 55 mmHg에서 H<sub>2</sub>O는 기체이다.

- ① ㄱ                      ② ㄴ                      ③ ㄱ, ㄷ                      ④ ㄴ, ㄷ                      ⑤ ㄱ, ㄴ, ㄷ

감압 용기에 액체를 넣고 액체가 끓을 때까지 압력을 낮추어 액체의 온도가 a°C, 용기 안 기체의 압력이 b mmHg이면, a°C에서 그 액체의 증기 압력은 b mmHg이다.

40°C에서 H<sub>2</sub>O(l)의 증기 압력은 55 mmHg이다.

-19°C에서 A(l)의 증기 압력은 75 mmHg이다.

09 [22028-0045] 표는 외부 압력에 따른 물질 A(l), B(l)의 끓는점을 나타낸 것이다.

외부 압력(mmHg)	끓는점(°C)	
	A(l)	B(l)
75	-19	30
750	34	78

이에 대한 설명으로 옳은 것만을 <보기>에서 있는 대로 고른 것은? (단, 1 atm = 760 mmHg이다.)

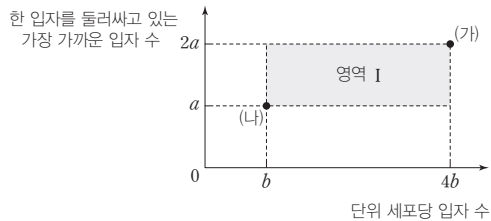
보기

ㄱ. B(l)의 기준 끓는점은 78°C보다 높다.  
 ㄴ. 78°C, 500 mmHg에서 A, B 중 액체는 1가지이다.  
 ㄷ. 34°C에서 A(l)의 증기 압력과 B(l)의 증기 압력의 차는 675 mmHg보다 크다.

- ① ㄱ                      ② ㄴ                      ③ ㄷ                      ④ ㄱ, ㄴ                      ⑤ ㄱ, ㄷ

단순 입방 구조의 단위 세포당 입자 수는 1, 한 입자를 둘러싸고 있는 가장 가까운 입자 수는 6이다.

10 [22028-0046] 그림은 3가지 결정 구조 (가)~(다) 중 (가)와 (나)의 단위 세포당 입자 수와 한 입자를 둘러싸고 있는 가장 가까운 입자 수를 나타낸 것이다. (가)~(다)는 각각 단순 입방 구조, 체심 입방 구조, 면심 입방 구조 중 하나이다.



이에 대한 설명으로 옳은 것만을 <보기>에서 있는 대로 고른 것은?

보기

ㄱ. (가)는 단순 입방 구조이다.  
 ㄴ.  $\frac{a}{b} > 5$ 이다.  
 ㄷ. (다)의 단위 세포당 입자 수와 한 입자를 둘러싸고 있는 가장 가까운 입자 수를 표시하면 영역 I에 위치한다.

- ① ㄱ                      ② ㄴ                      ③ ㄱ, ㄷ                      ④ ㄴ, ㄷ                      ⑤ ㄱ, ㄴ, ㄷ

11 [22028-0047] 다음은 단위 세포와 관련된 탐구 활동이다. ㉠과 ㉡은 각각 단순 입방 구조, 체심 입방 구조 중 하나이다.



**[탐구 과정]**

(가) 반지름이  $a$  cm인 스티이로폼 공과 그 공의  $\frac{1}{8}$  크기로 자른 공 조각을 이용하여 만들어진 ㉠의 단위 세포 모형과 ㉡의 단위 세포 모형의 한쪽 면에 각각 물감을 묻힌 뒤 종이에 찍는다.

(나) (가)에서 사용한 2가지 단위 세포 모형을 모두 해체하고, 공 조각을 붙여 공으로 만든 후 총 공의 수를 센다.

**[탐구 결과]**

○ (가) 과정 후 종이에 찍힌 모양

㉠의 단위 세포 모형	㉡의 단위 세포 모형
	

○ (나) 과정 후 총 공의 수 :  $x$

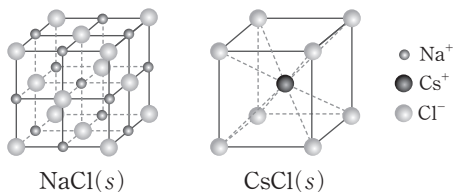
이에 대한 설명으로 옳은 것만을 <보기>에서 있는 대로 고른 것은? (단, 종이에 찍힌 모양은 단위 세포 모형의 한쪽 면의 모양과 같다.)

┆ 보기 ┆

- ㄱ. ㉠은 단순 입방 구조이다.
- ㄴ. ㉡의 단위 세포 모형 중심에는 스티이로폼 공이 있다.
- ㄷ.  $x=3$ 이다.

- ① ㄱ      ② ㄷ      ③ ㄱ, ㄴ      ④ ㄴ, ㄷ      ⑤ ㄱ, ㄴ, ㄷ

12 [22028-0048] 그림은  $\text{NaCl}(s)$ 과  $\text{CsCl}(s)$ 의 결정 구조를 나타낸 것이고, 표는 이온 결합 화합물 (가)와 (나)의 결정에 대한 자료이다. (가)와 (나)는 각각  $\text{NaCl}(s)$ 과  $\text{CsCl}(s)$  중 하나이다.



이온 결합 화합물	(가)	(나)
$\text{Cl}^-$ 을 둘러싸고 있는 가장 가까운 $\text{Cl}^-$ 수	$x$	$y$
$\text{Cl}^-$ 을 둘러싸고 있는 가장 가까운 양이온 수	$z$	$x$

$\frac{y \times z}{x}$  는?

- ① 2      ② 4      ③ 8      ④ 12      ⑤ 16

체심 입방 구조에서 중심에 위치한 입자와 꼭짓점에 위치한 입자는 서로 가장 가까운 입자이므로 꼭짓점에 위치한 입자들은 서로 가장 가까운 입자가 아니다.

$\text{NaCl}$  결정은  $\text{Na}^+$ 끼리,  $\text{Cl}^-$ 끼리 각각 면심 입방 구조를 이루고 있고,  $\text{CsCl}$  결정은  $\text{Cs}^+$ 끼리,  $\text{Cl}^-$ 끼리 각각 단순 입방 구조를 이루고 있다.

## 개념 체크

● 퍼센트 농도 : 용액 100 g 속에 녹아 있는 용질의 질량(g)을 나타낸 농도이다.

● 몰 농도 : 용액 1 L 속에 녹아 있는 용질의 양(mol)을 의미하므로 용액의 몰 농도와 용액의 부피를 알면 용액 속 용질의 양(mol)을 알 수 있다.

1. 퍼센트 농도는 용액 속의 용질의 양(mol)을 나타낸 것이다. (○, ×)

2. 10% 염화 나트륨 수용액 100 g에 녹아 있는 염화 나트륨의 질량은 10 g이다. (○, ×)

3. 25°C, 10% 염화 나트륨 수용액의 온도를 50°C로 높여 주면 농도는 5%가 된다. (○, ×)

4. 물 45 g에 염화 나트륨 5 g이 녹아 있는 수용액의 퍼센트 농도는 ( )%이다.

5. 지하수 10<sup>6</sup> g 중에 산소가 10 g 녹아 있을 때, 이 지하수에 녹아 있는 산소의 농도는 10 ( )이다.

정답

1. ×
2. ○
3. ×
4. 10
5. ppm

## 1 용액의 농도

### (1) 농도

용매와 용질이 섞여 있는 비율을 용액의 농도라고 하며, 농도의 종류에는 퍼센트 농도, ppm 농도, 몰 농도, 몰랄 농도 등이 있다.

### (2) 퍼센트 농도

용액 100 g 속에 녹아 있는 용질의 질량(g)을 나타낸 농도로, 단위는 %를 사용한다.

$$\begin{aligned} \text{퍼센트 농도}(\%) &= \frac{\text{용질의 질량}(g)}{\text{용액의 질량}(g)} \times 100 \\ &= \frac{\text{용질의 질량}(g)}{(\text{용매} + \text{용질})\text{의 질량}(g)} \times 100 \end{aligned}$$

- ① 용액과 용질의 질량으로 나타내므로 온도나 압력의 영향을 받지 않는다.
- ② 용액의 퍼센트 농도를 이용하면 용액에 녹아 있는 용질의 질량을 구할 수 있다.

$$\text{용질의 질량}(g) = \text{용액의 질량}(g) \times \frac{\text{퍼센트 농도}(\%)}{100}$$

### (3) ppm 농도

ppm은 'parts per million'의 약자로 백만분의 1을 나타내는 단위이다.

$$\text{ppm 농도}(\text{ppm}) = \frac{\text{용질의 질량}(g)}{\text{용액의 질량}(g)} \times 10^6$$

- ① 주로 공기나 물속에 극소량 들어 있는 물질의 농도를 나타낼 때 사용한다.
- ② 용액의 농도로 쓰일 때에는 용액 10<sup>6</sup> g 속에 녹아 있는 용질의 질량(g)을 나타낸다.

### (4) 몰 농도

용액 1 L 속에 녹아 있는 용질의 양(mol)을 나타낸 농도로, 단위는 mol/L 또는 M를 사용한다.






$$\text{몰 농도}(M) = \frac{\text{용질의 양}(mol)}{\text{용액의 부피}(L)} = \frac{\text{용질의 양}(mol)}{\text{용액의 부피}(mL)} \times 1000(mL/L)$$

- ① 용액의 부피를 기준으로 하기 때문에 화학 실험 등에서 사용하기에 편리하다.

- ② 온도에 따라 용액의 부피가 변하므로 몰 농도는 온도에 따라 달라진다.
- ③ 용액의 몰 농도와 부피를 알면 용액에 녹아 있는 용질의 양(mol)을 구할 수 있다.

$$\text{용질의 양(mol)} = \text{몰 농도(mol/L)} \times \text{용액의 부피(L)}$$

④ 특정한 몰 농도의 용액을 만들 때 필요한 기구

전자저울	비커	부피 플라스크	씻기병	피펫과 피펫 필러
				
용질의 질량을 측정한다.	용질을 소량의 용매에 용해시킨 후 용액을 부피 플라스크에 옮길 때 사용한다.	표시선까지 용매를 채워 일정 부피의 용액을 만들 때 사용한다.	비커에 남아 있는 용액을 헹구거나 부피 플라스크의 표시선까지 용매를 넣을 때 사용한다.	액체 물질이나 진한 용액의 부피를 정확히 측정하여 옮길 때 사용한다.

**개념 체크**

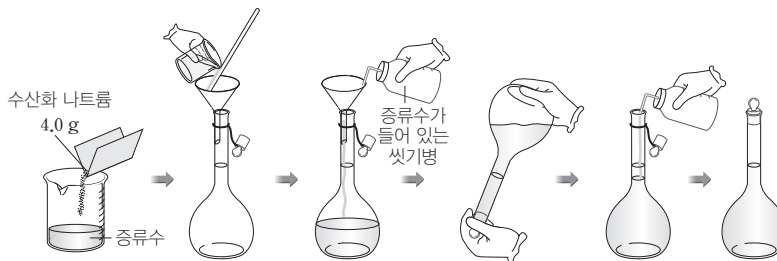
● 몰 농도는 용액 1 L 속에 녹아 있는 용질의 양(mol)을 나타낸 것이다. 용액 속에 녹아 있는 용질의 양(mol)은 온도에 따라 변하지 않지만 용액의 부피는 온도에 따라 변하므로 온도가 변하면 몰 농도도 변한다.

1. 용액 1 L 속에 녹아 있는 용질의 양(mol)을 나타내는 농도는 ( )이다.
2. 0.1 M 설탕 수용액 100 mL 에 녹아 있는 설탕의 양은 ( ) mol이다.
3. 용액의 몰 농도는 용액의 ( )가 기준이므로 온도가 달라지면 몰 농도가 달라진다.

**탐구자료** 살펴보기 **0.1 M 수산화 나트륨 수용액 1 L 만들기**

**실험 과정**

1. 수산화 나트륨(NaOH) 4.0 g을 정확히 측정한 다음 적당량의 증류수가 들어 있는 비커에 넣어 완전히 녹인다.
2. 깔때기를 이용하여 1 L 부피 플라스크에 비커의 용액을 넣은 다음 증류수로 비커와 깔때기에 묻어 있는 용액을 씻어 넣는다.
3. 부피 플라스크에 증류수를  $\frac{2}{3}$  정도 넣은 다음 흔들거나 뒤집어서 용액을 잘 섞는다.
4. 증류수를 가하여 용액을 표시선까지 채운 다음 용액이 잘 섞이도록 충분히 흔들어 준다. 실온으로 식힌 후 다시 표시선까지 증류수를 채운다.



**실험 결과**

수산화 나트륨(NaOH)의 화학식량은 40이므로 4.0 g은 0.1 mol에 해당하며, 이를 1 L 부피 플라스크에 넣고 증류수를 표시선까지 채워 0.1 M 수산화 나트륨 수용액을 만들었다.

**분석 Point**

0.1 M 용액 1 L를 만들기 위해서는 용질 0.1 mol에 해당하는 질량을 정확히 측정하여 용매에 녹인 후 용액의 전체 부피를 1 L로 맞추어야 한다.

**정답**

1. 몰 농도
2. 0.01
3. 부피

개념 체크

- 어떤 용액에 증류수를 가해 희석할 때 용액의 부피와 몰 농도는 달라지지만 용질의 양(mol)은 달라지지 않는다.
- 몰 농도가 서로 다른 두 용액을 혼합할 때 혼합 용액 속 용질의 양(mol)은 혼합 전 각 용액 속 용질의 양(mol)의 합과 같다.
- 몰랄 농도는 용매 1 kg에 녹인 용질의 양(mol)을 나타낸 농도이다.
- 몰 분율은 균일한 혼합물에서 각 성분의 양(mol)을 혼합물의 전체 양(mol)으로 나눈 값이다.

1. 어떤 수용액에 증류수를 가하여 희석하여도 용액 속 ( )의 양(mol)은 변하지 않는다.
2. 몰 농도가  $M$ 인 용액  $V(L)$ 에 증류수를 가하여 몰 농도가  $M'$ 인 용액  $V'(L)$ 가 되었다면  $MV = ( )$ 가 성립한다.
3. 1 kg의 용매에 녹인 용질의 양(mol)을 나타낸 농도를 ( )라고 한다.
4. 포도당 수용액에서 물의 몰 분율이 0.95이면 포도당의 몰 분율은 ( )이다.
5. 용매 0.8 mol과 용질 0.2 mol로 이루어진 용액에서 용질의 몰 분율은 ( )이다.

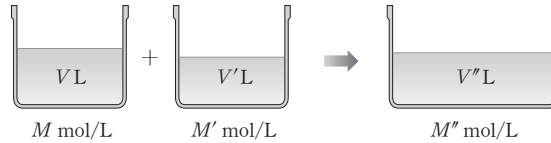
정답

1. 용질
2.  $M'V'$
3. 몰랄 농도
4. 0.05
5. 0.2

- ⑤ 용액 희석하기 : 어떤 용액에 증류수를 가하여 용액을 희석했을 때, 용액의 부피와 농도는 달라지지만 그 속에 녹아 있는 용질의 양(mol)은 변하지 않는다. 용액의 농도가  $M(\text{mol/L})$ 인 용액  $V(L)$ 에 증류수를 가하여 농도가  $M'(\text{mol/L})$ 인 용액  $V'(L)$ 가 되었다면 두 용액에서 용질의 양(mol)이 같으므로 다음과 같은 관계가 성립한다.

$$\begin{aligned} \text{용질의 양(mol)} &= \text{몰 농도(mol/L)} \times \text{용액의 부피(L)} \\ \Rightarrow \text{용질의 양(mol)} &= MV = M'V' \end{aligned}$$

- ⑥ 혼합 용액의 몰 농도 : 같은 종류의 용질이 용해되어 있고 농도가 서로 다른 두 용액을 혼합하면, 용질의 전체 양(mol)은 변하지 않으므로 다음과 같은 관계가 성립한다.



$$MV + M'V' = M''V'' \Rightarrow M'' = \frac{MV + M'V'}{V''} (\text{mol/L})$$

(5) 몰랄 농도

용매 1 kg에 녹인 용질의 양(mol)을 나타낸 농도로, 단위는 mol/kg 또는  $m$ 를 사용한다.

$$\text{몰랄 농도}(m) = \frac{\text{용질의 양(mol)}}{\text{용매의 질량(kg)}} = \frac{\text{용질의 양(mol)}}{\text{용매의 질량(g)}} \times 1000(\text{g/kg})$$

- ① 용매의 질량과 용질의 양(mol)은 온도의 영향을 받지 않으므로 몰랄 농도는 온도의 영향을 받지 않는다.
- ② 용액의 몰랄 농도와 용매의 질량을 알면 용액에 녹아 있는 용질의 양(mol)을 구할 수 있다.

$$\text{용질의 양(mol)} = \text{몰랄 농도(mol/kg)} \times \text{용매의 질량(kg)}$$

(6) 몰 분율

균일한 혼합물에서 각 성분의 양(mol)을 혼합물의 전체 양(mol)으로 나눈 값이다.

- ① 몰 분율은 용매와 용질 구분없이 입자 수를 기준으로 하며, 각 성분의 몰 분율을 모두 더하면 1이 된다.

$$X_A = \frac{n_A}{n_A + n_B + \dots}$$

( $X_A$  : 성분 A의 몰 분율,  $n_A, n_B, \dots$  : 각 성분의 양(mol))



- ② 용질의 몰 분율이 클수록 일정량의 용매에 녹인 용질의 양(mol)이 크므로 몰 분율도 농도의 의미를 포함한다.
- ③ 물질의 양(mol)은 온도의 영향을 받지 않으므로 몰 분율은 온도의 영향을 받지 않는다.

### 과학 돋보기 에탄올 수용액에서의 몰 분율

물( $H_2O$ ) 54 g과 에탄올( $C_2H_5OH$ ) 92 g을 혼합한 수용액에서 물의 분자량은 18이므로 물 54 g은  $\frac{54 \text{ g}}{18 \text{ g/mol}} = 3 \text{ mol}$ 이고, 에탄올의 분자량은 46이므로 에탄올 92 g은  $\frac{92 \text{ g}}{46 \text{ g/mol}} = 2 \text{ mol}$ 이다. 따라서 에탄올 수용액에서 물의 몰 분율은  $\frac{3 \text{ mol}}{3 \text{ mol} + 2 \text{ mol}} = 0.6$ 이고, 에탄올의 몰 분율은  $\frac{2 \text{ mol}}{3 \text{ mol} + 2 \text{ mol}} = 0.4$ 이므로 몰 분율은 분자의 양(mol)이 큰 물이 에탄올보다 크다.

### (7) 농도의 변환

- ① 퍼센트 농도(%)를 몰 농도(M)로 변환 : 용액의 부피를 1 L라고 가정하고, 용액의 밀도, 퍼센트 농도, 용질의 화학식량을 이용하여 몰 농도를 구한다.

[화학식량이  $x$ 인 용질이 녹아 있는  $a\%$  수용액의 밀도가  $d(\text{g/mL})$ 일 때 수용액의 몰 농도]

- 용액 1 L의 질량을 구한다.  
 $\Rightarrow 1000 \text{ mL} \times d(\text{g/mL}) = 1000d(\text{g})$
- 용액 1 L 속에 녹아 있는 용질의 질량을 구한다.  
 $\Rightarrow 1000d(\text{g}) \times \frac{a}{100} = 10ad(\text{g})$
- 용액 1 L 속에 녹아 있는 용질의 양(mol)을 구한다.  
 $\Rightarrow \frac{10ad}{x}(\text{mol})$

$$\therefore a\% \text{ 수용액의 몰 농도(M)} = \frac{10ad}{x}(\text{mol/L})$$

### 과학 돋보기 98%의 진한 황산으로 0.1 M 황산 수용액 만들기

[밀도가 1.84 g/mL인 98%의 황산( $H_2SO_4$  분자량 98)으로 0.1 M 황산 수용액 1 L를 만드는 과정]

(가) 0.1 M 황산 수용액 1 L를 만드는 데 필요한  $H_2SO_4$ 의 질량을 구한다.

$$\Rightarrow 0.1(\text{mol/L}) \times 1(\text{L}) \times 98(\text{g/mol}) = 9.8(\text{g})$$

(나) 98% 황산 100 g 속에는 98 g의  $H_2SO_4$ 이 들어 있음을 이용하여 0.1 M 황산 수용액 1 L를 만들기 위해 필요한 98% 황산의 질량을 구한다.

$$\Rightarrow 100 : 98 = x : 9.8 \quad \therefore x = 10(\text{g})$$

(다) 부피 =  $\frac{\text{질량}}{\text{밀도}}$  을 이용해 필요한 98% 황산 10 g의 부피(V)를 구한다.

$$\Rightarrow V = \frac{10(\text{g})}{1.84(\text{g/mL})} \approx 5.43(\text{mL})$$

(라) 필요한 98% 황산의 부피(5.43 mL)를 피펫으로 정확히 취한 후 300 mL 정도의 증류수가 담긴 비커에 조금씩 넣으며 저어 준다.

(마) (라)의 용액을 1 L 부피 플라스크에 모두 옮긴 후 표시선까지 증류수를 채운다.

### 개념 체크

● 질량과 물질의 양(mol)은 온도에 따라 달라지지 않으므로 몰랄 농도와 몰 분율은 온도에 따라 달라지지 않는다.

1. 0.1 M 포도당 수용액 100 mL에 증류수를 가해 200 mL로 만들면, 이 수용액의 몰 농도는 ( ) M이다.
2. 물 0.5 kg에 염화 나트륨 1 mol을 녹인 수용액의 몰랄 농도는 ( ) m이다.
3. 분자량이 180인 포도당 18 g이 물 100 g에 녹아 있는 수용액의 몰랄 농도는 ( ) m이다.

정답

1. 0.05
2. 2
3. 1

개념 체크

● 농도를 나타내는 방법

[일정량의 용액에 녹아 있는 용질]

• 퍼센트 농도(%) : 용액 100g에 녹아 있는 용질의 질량(g)을 나타낸 농도

• ppm 농도 : 용액 10<sup>6</sup>g에 녹아 있는 용질의 질량(g)을 나타낸 농도

• 몰 농도(M) : 용액 1L에 녹아 있는 용질의 양(mol)을 나타낸 농도

• 용질의 몰 분율 : 용질의 양(mol)을 용액의 전체 양(mol)으로 나눈 값

[일정량의 용매에 녹인 용질]

• 몰랄 농도(m) : 용매 1kg에 녹인 용질의 양(mol)을 나타낸 농도

1. 퍼센트 농도(%)를 이용하여 용액의 몰 농도를 구하기 위해서는 용질의 화학식량과 용액의 ( )를 알아야 한다.

2. 용액의 몰 농도를 몰랄 농도로 변환하려면 용질의 ( )과 용액의 ( )를 알아야 한다.

② 퍼센트 농도(%)를 몰랄 농도(m)로 변환 : 용액의 질량을 100 g이라고 가정하고, 용액의 퍼센트 농도와 용질의 화학식량을 이용하여 몰랄 농도를 구한다.

[화학식량이 x인 용질이 녹아 있는 a% 수용액의 몰랄 농도]

• 용액 100 g 속에 녹아 있는 용질의 질량은 a(g)이고, 용질의 양은  $\frac{a}{x}$  (mol)이다.

• 용액 100 g 속에 들어 있는 용매의 질량을 구한다.  
 $\rightarrow (100 - a)(g)$

• 용매 1 kg에 들어 있는 용질의 양(mol, y)을 구한다.  
 $\rightarrow (100 - a) : \frac{a}{x} = 1000 : y$

$$\therefore a\% \text{ 수용액의 몰랄 농도}(m) = \frac{y(\text{mol})}{1(\text{kg})} = \frac{1000a}{(100 - a)x} (\text{mol/kg})$$

③ 몰 농도(M)를 몰랄 농도(m)로 변환 : 용액의 부피를 1 L라고 가정하고, 용액의 밀도, 몰 농도, 용질의 화학식량을 이용하여 몰랄 농도를 구한다.

[화학식량이 x인 용질이 녹아 있는 b M 수용액의 밀도가 d(g/mL)일 때 수용액의 몰랄 농도]

• 용액 1 L의 질량을 구한다.  
 $\rightarrow 1000 \text{ mL} \times d(\text{g/mL}) = 1000d(\text{g})$

• 용액 1 L 속에 녹아 있는 용질의 양(mol)과 질량을 구한다.  
 $\rightarrow b(\text{mol}), bx(\text{g})$

• 용액 1 L 속에 들어 있는 용매의 질량을 구한다.  
 $\rightarrow (1000d - bx)(g)$

• 용매 1 kg에 들어 있는 용질의 양(mol, y)을 구한다.  
 $\rightarrow (1000d - bx) : b = 1000 : y$

$$\therefore b \text{ M 수용액의 몰랄 농도}(m) = \frac{y(\text{mol})}{1(\text{kg})} = \frac{1000b}{1000d - bx} (\text{mol/kg})$$

2 용액의 증기 압력 내림

(1) 증기 압력

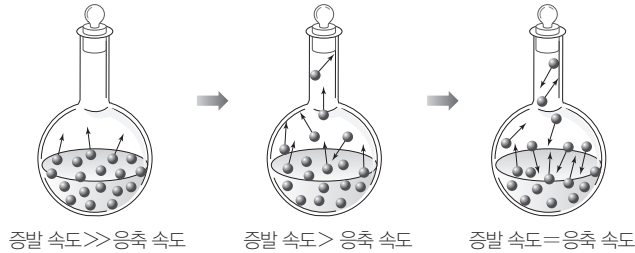
일정한 온도에서 진공 상태의 밀폐 용기 속에 액체를 넣고 충분한 시간이 지나면 증발 속도와 응축 속도가 같아지는데, 이때 용기 속 기체가 나타내는 압력을 그 액체의 증기 압력이라고 한다.

정답

- 1. 밀도
- 2. 화학식량, 밀도

## 과학 돋보기 증기 압력

- 일정 온도에서 진공 상태의 밀폐된 용기에 액체를 넣어 두면 액체 표면에서 증발이 일어나면서 점차 용기 속 기체 분자 수가 많아진다.
- 기체 분자 수가 많아지면 기체 분자 중에서 액체 표면에 충돌하여 액체 상태로 되돌아오는 분자들도 많아진다.
- 일정한 시간 동안 증발하는 분자 수(증발 속도)와 응축하는 분자 수(응축 속도)가 같아지면 겉보기에 아무런 변화가 일어나지 않는 것처럼 보이는데, 이때 기체가 나타내는 압력이 증기 압력이다. 즉 액체를 진공 상태의 밀폐 용기에 넣어 두고 충분한 시간이 경과하여 증발 속도와 응축 속도가 같아졌을 때 용기 속 기체가 나타내는 압력이 증기 압력이다.

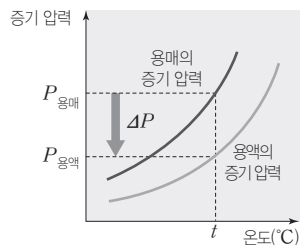
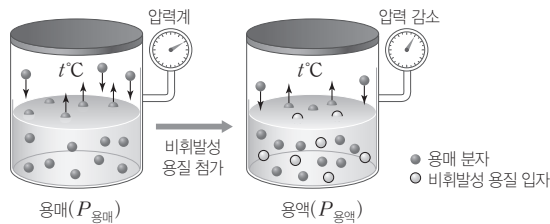


### (2) 증기 압력 내림( $\Delta P$ )

비휘발성 용질이 녹아 있는 묽은 용액에서 용액의 증기 압력은 순수한 용매의 증기 압력보다 작아진다.

$$\text{증기 압력 내림}(\Delta P) = \text{용매의 증기 압력}(P_{\text{용매}}) - \text{용액의 증기 압력}(P_{\text{용액}})$$

- ① 용액 표면에서 증발할 수 있는 용매 입자 수가 감소하기 때문에 증기 압력 내림이 나타난다.



- ② 용액의 농도가 진해질수록 증기 압력 내림이 커진다.
- ③ 온도가 일정할 때 증기 압력 내림은 용질의 종류에는 영향을 받지 않고, 용매의 종류와 용질의 몰 분율에만 영향을 받는다.

## 개념 체크

● 용액 속에 녹아 있는 용질이 비휘발성인 경우, 용질은 증발하지 않으므로 용액의 증기 압력은 용매의 증발에 의한 압력만 고려한다. 용액의 농도가 진할수록 용질의 방해가 많아져서 용매의 증발이 감소하므로 증기 압력이 감소한다.

1. 일정한 온도에서 비휘발성 용질이 녹아 있는 용액의 증기 압력은 순수한 용매의 증기 압력보다 ( )다.
2. 용매의 증기 압력에서 용액의 증기 압력을 뺀 값을 ( )이라고 한다.
3. 증기 압력 내림은 용질의 종류에는 관계없이 용질의 ( )에 영향을 받는다.

### 정답

1. 작
2. 증기 압력 내림
3. 몰 분율(입자 수)

개념 체크

● 라울 법칙은 용질의 종류에 관계없이 용질의 입자 수에만 관계된 법칙이다. 라울 법칙이 잘 적용하려면 묽은 용액이어야 한다.

1. 라울 법칙에 따르면 묽은 용액의 증기 압력 내림은 용질의 ( )에 비례한다.
2. 용질이 비휘발성인 경우 용액의 농도가 진할수록 증기 압력 내림은 ( )진다.
3.  $t^{\circ}\text{C}$ 에서 순수한 용매의 증기 압력이 300 mmHg일 때, 비휘발성, 비전해질 용질의 몰 분율이 0.1인 용액의 증기 압력은 ( ) mmHg이다.

정답

1. 몰 분율
2. 커
3. 270

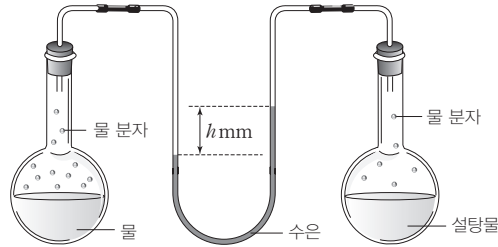
탐구자료 살펴보기 용액의 증기 압력 내림

실험 과정

물과 설탕물을 진공 상태의 플라스크에 넣어 그림과 같이 장치하고 일정한 온도에서 물과 설탕물의 증기 압력을 비교한다.

실험 결과

수은 기둥은 설탕물 쪽이 높으며, 수은 기둥의 높이 차는  $h$  mm이었다.



분석 Point

- 설탕물은 물보다 증기 압력이 작다.
- 증기 압력 내림( $\Delta P$ ) = 물의 증기 압력 - 설탕물의 증기 압력 =  $h$  mmHg
- 증기 압력은 용액의 부피에 영향을 받지 않으므로 온도와 설탕물의 농도가 일정하면 플라스크 속의 물이나 설탕물의 부피를 달리하여도  $h$ 는 일정하다.

(3) 묽은 용액의 증기 압력 내림

- ① 라울 법칙 : 비휘발성, 비전해질인 용질이 녹아 있는 묽은 용액의 증기 압력( $P_{\text{용액}}$ )은 용매의 몰 분율( $X_{\text{용매}}$ )에 비례한다.

$$P_{\text{용액}} = P_{\text{용매}} \times X_{\text{용매}}$$

- ② 묽은 용액의 증기 압력 내림( $\Delta P$ )은 용질의 몰 분율( $X_{\text{용질}}$ )에 비례한다.

$$\begin{aligned} \Delta P &= P_{\text{용매}} - P_{\text{용액}} \\ &= P_{\text{용매}} - P_{\text{용매}} \times X_{\text{용매}} = P_{\text{용매}}(1 - X_{\text{용매}}) \\ 1 - X_{\text{용매}} &= X_{\text{용질}} \\ \therefore \Delta P &= P_{\text{용매}} \times X_{\text{용질}} \end{aligned}$$

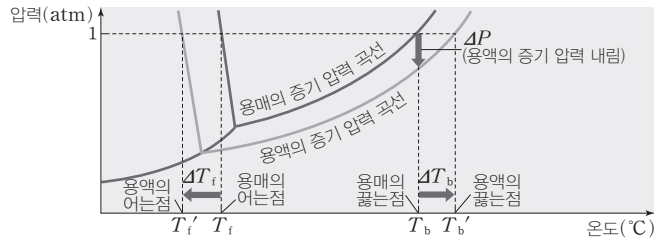
- ③ 용액의 농도가 진해질수록 용질의 몰 분율이 커지므로 증기 압력 내림도 커진다.

3 용액의 끓는점 오름과 어는점 내림

(1) 용액의 끓는점과 어는점

- ① 액체는 증기 압력이 외부 압력과 같을 때 끓게 된다. 같은 온도에서 비휘발성인 용질이 녹아 있는 용액의 증기 압력은 용질의 방해에 의해 용매의 증기 압력보다 작으므로 용액이 끓기 위해서는 용매의 끓는점보다 더 높은 온도가 필요하다. 그러므로 용액의 끓는점은 용매의 끓는점보다 높다.

- ② 비휘발성인 용질이 녹아 있는 용액이 어는 과정에서 용질의 방해가 있으므로 용액이 얼기 위해서는 용매의 어는점보다 더 낮은 온도가 필요하다. 그러므로 용액의 어는점은 용매보다 낮다.
- ③ 용액의 끓는점( $T_b'$ )과 용매의 끓는점( $T_b$ )의 차를 끓는점 오름( $\Delta T_b$ )이라고 하고, 용매의 어는점( $T_f$ )과 용액의 어는점( $T_f'$ )의 차를 어는점 내림( $\Delta T_f$ )이라고 한다.



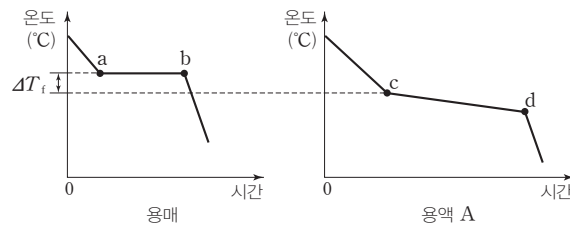
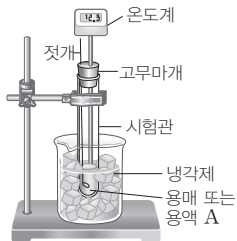
## (2) 끓는점 오름 ( $\Delta T_b$ )과 어는점 내림 ( $\Delta T_f$ )에 영향을 미치는 요인

용액의 끓는점 오름( $\Delta T_b$ )과 어는점 내림( $\Delta T_f$ )은 용매의 종류와 용액 속에 녹아 있는 용질의 입자 수(몰랄 농도)에만 영향을 받는다.

### 탐구자료 살펴보기 어는점 내림 측정

#### 실험 과정 및 결과

그림과 같이 장치하고 시험관 속의 순수한 용매를 젖개로 저어 주면서 시간에 따른 온도를 측정한다. 용액 A에 대해서도 같은 실험을 반복하여 아래와 같은 결과를 얻었다.



#### 분석 Point

- 순수한 용매는 a점에서 얼기 시작하였고, 용액 A는 c점에서 얼기 시작하였다.  
 ⇒ 용액 A의 어는점 내림( $\Delta T_f$ )은 (a점에서의 온도 - c점에서의 온도)이다.
- 순수한 용매는 b점까지 온도가 일정하게 유지되나, 용액 A에서는 d점까지 어는점이 계속 낮아진다.  
 ⇒ 용액에서는 용매만 얼어 용액의 농도가 점점 진해지기 때문이다.

## (3) 몰랄 오름 상수와 몰랄 내림 상수

- ① 몰랄 오름 상수( $K_b$ ) : 용액의 농도가 1 m일 때의 끓는점 오름
- ② 몰랄 내림 상수( $K_f$ ) : 용액의 농도가 1 m일 때의 어는점 내림

### 개념 체크

- 비휘발성 용질이 녹아 있는 용액은 순수한 용매보다 더 높은 온도에서 끓고, 더 낮은 온도에서 언다.
- 용매의 몰랄 오름 상수와 몰랄 내림 상수는 비휘발성, 비전해질 용질을 녹인 용액의 농도가 1 m일 때의 끓는점 오름과 어는점 내림이다.

- 비휘발성 용질이 녹아 있는 용액은 순수한 용매에 비해 끓는점은 ( )고, 어는점은 ( )다.
- 비휘발성 용질이 녹아 있는 용액의 끓는점 오름과 어는점 내림은 용질의 종류에 관계없이 용질의 ( )에 관계된다.
- 비휘발성 용질이 녹아 있는 용액이 어는 동안 용액의 농도가 점점 진해지므로 용액의 어는점은 점점 ( )진다.

#### 정답

- 높, 낮
- 입자 수
- 낮아

개념 체크

● 용액의 끓는점 오름과 어는점 내림은 용액의 몰랄 농도에 비례한다.

● 용액의 끓는점 오름과 어는점 내림을 이용하면 용질의 분자량을 구할 수 있다.

1. 용액의 농도가 1 m로 같을 때 용매의 몰랄 오름 상수가 큰 용액일수록 끓는점 오름 정도가 ( )다.
2. 비휘발성, 비전해질 용질이 녹아 있는 묽은 용액의 끓는점 오름은 용매의 몰랄 오름 상수에 용액의 ( )를 곱한 값이다.
3. 끓는점 오름이나 어는점 내림을 측정하면 비휘발성, 비전해질 용질의 ( )을 구할 수 있다.

③ 몰랄 오름 상수( $K_b$ )와 몰랄 내림 상수( $K_f$ )는 용질의 종류와는 관계없이 용매의 종류에 따라 달라진다.

용매의 종류	기준 끓는점(°C)	$K_b$ (°C/m)	기준 어는점(°C)	$K_f$ (°C/m)
물	100.0	0.51	0.0	1.86
아세트산	117.9	3.22	16.6	3.63
벤젠	80.1	2.64	5.5	5.07
사이클로헥세인	80.7	2.92	6.7	20.8
에틸렌 글라이콜	245.5	2.26	-10.3	3.11

※ 기준 끓는점과 기준 어는점 : 외부 압력이 1 atm일 때의 끓는점과 어는점

④ 비휘발성, 비전해질 용질이 녹아 있는 묽은 용액의 끓는점 오름( $\Delta T_b$ )과 어는점 내림( $\Delta T_f$ )은 용액의 몰랄 농도( $m$ )에 비례한다.

$$\Delta T_b = K_b \times m \quad (K_b : \text{몰랄 오름 상수})$$

$$\Delta T_f = K_f \times m \quad (K_f : \text{몰랄 내림 상수})$$

⑤ 끓는점 오름( $\Delta T_b$ )과 어는점 내림( $\Delta T_f$ )을 이용하여 비휘발성, 비전해질 용질의 분자량( $M$ ) 구하기

- 용질의 양(mol)  $\rightarrow n = \frac{w}{M}$  ( $w$  : 용질의 질량(g))
- 용액의 몰랄 농도  $\rightarrow W : \frac{w}{M} = 1000 : m$  ( $W$  : 용매의 질량(g))

$$\therefore m = \frac{1000w}{MW}$$

$$\Delta T = K \times m = K \times \frac{1000w}{MW}$$

$$\therefore M = \frac{1000Kw}{\Delta TW}$$

( $K : K_b$  또는  $K_f$ ,  $\Delta T : \Delta T_b$  또는  $\Delta T_f$ )

(4) 일상생활에서의 끓는점 오름과 어는점 내림

① 끓는점 오름

- 1 atm에서 끓고 있는 김치찌개의 온도는 100°C보다 높다.
- 1 atm에서 물에 라면 스프를 넣으면 100°C보다 높은 온도에서 끓는다.

② 어는점 내림

- 바닷물은 강물보다 더 낮은 온도에서 언다.
- 눈이 많이 오면 도로에 염화 칼슘을 뿌려 준다.
- 겨울철에 자동차 냉각수로 에틸렌 글라이콜이 들어 있는 부동액을 사용한다.

정답

1. 크
2. 몰랄 농도
3. 분자량

## 과학 돋보기 어느점 내림을 이용하여 포도당의 분자량 구하기

1 atm에서 물 100 g에 포도당 9 g을 녹인 수용액의 어느점이  $-0.93^{\circ}\text{C}$ 이고 순수한 물의 어느점은  $0^{\circ}\text{C}$ , 물의 몰랄 내림 상수( $K_f$ )가  $1.86^{\circ}\text{C}/m$ 라면, 포도당의 분자량( $M$ )은 다음과 같이 구할 수 있다.

• 어느점 내림을 구한다.

$$\Rightarrow \Delta T_f = 0.93^{\circ}\text{C}$$

• 용액의 몰랄 농도를 구한다.

$$\Rightarrow 100 : \frac{9}{M} = 1000 : m \quad \therefore m = \frac{90}{M}$$

•  $\Delta T_f = K_f \times m$ 에 대입하여 분자량( $M$ )을 구한다.

$$\Rightarrow 0.93(^{\circ}\text{C}) = 1.86(^{\circ}\text{C}/m) \times \frac{90}{M}(m) \quad \therefore M = 180$$

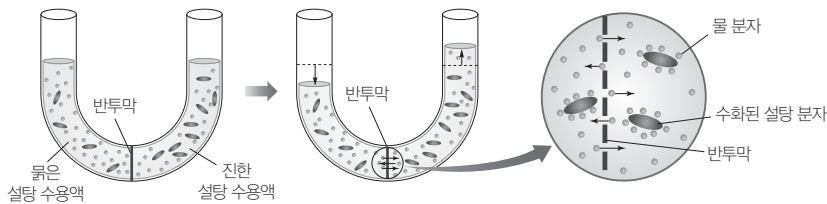
## 4 삼투 현상과 삼투압

### (1) 삼투 현상

① 삼투 : 반투막을 사이에 두고 농도가 서로 다른 용액이 있을 때 용매 분자가 반투막을 통하여 이동하여 농도가 진한 용액은 농도가 점점 묽어지고 농도가 묽은 용액은 농도가 점점 진해지는데, 이러한 현상을 삼투라고 한다.

예 • 소금물에 담가놓은 배추가 쭈글쭈글해진다.

• 짠 음식을 먹으면 갈증을 더 많이 느낀다.

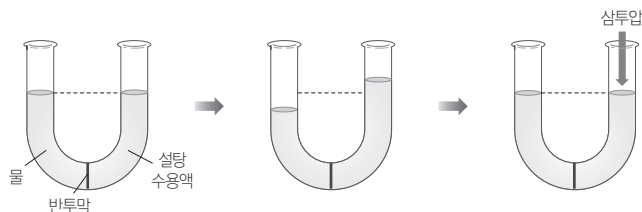


② 반투막 : 물과 같이 크기가 작은 용매 입자는 통과시키지만, 용매화되어 크기가 큰 용질 입자는 통과시키지 못하는 막을 반투막이라고 한다.

예 셀로판지, 달걀의 속껍질, 세포막

### (2) 삼투압

① 삼투압 : 반투막을 사이에 두고 순수한 용매와 용액이 있을 때 용매 분자가 용액 쪽으로 더 많이 이동하는 삼투 현상을 막기 위해 용액 쪽에 가해 주어야 하는 최소한의 압력을 삼투압이라고 한다.



② 삼투압의 크기 : 용질의 종류와는 관계없이 일정량의 용액에 녹아 있는 용질의 입자 수에 비례한다.

## 개념 체크

① 삼투 : 반투막을 통해 농도가 묽은 용액의 용매 분자가 농도가 더 진한 용액 쪽으로 이동하는 현상이다.

1. 크기가 작은 용매 입자는 통과시키지만 용매화되어 크기가 큰 용질 입자는 통과시키지 못하는 막을 ( )이라고 한다.

2. 반투막을 경계로 농도가 진한 수용액과 농도가 묽은 수용액을 두면, 농도가 ( ) 수용액에서 농도가 ( ) 수용액으로 용매 분자의 알짜 이동이 일어난다.

3. 반투막을 사이에 두고 용매와 용액이 있을 때 삼투 현상을 막기 위해 용액에 가해 주어야 하는 최소한의 압력을 ( )이라고 한다.

### 정답

1. 반투막
2. 묽은, 진한
3. 삼투압

개념 체크

- **삼투압과 이상 기체 방정식 :** 이상 기체 방정식( $PV=nRT$ )을 이용하여 기체 분자의 분자량을 구할 수 있듯이 반트호프 법칙( $\pi V=nRT$ )을 이용하여 비휘발성, 비전해질 용질의 분자량을 구할 수 있다.
- **묽은 용액의 총괄성과 농도 :** 비휘발성, 비전해질 용질이 녹아 있는 묽은 용액의 총괄성에서 증기 압력 내림은 용질의 몰 분율에, 끓는점 오름과 어는점 내림은 용액의 몰랄 농도에, 삼투압은 용액의 몰 농도에 비례한다.

1. 반트호프 법칙에 따르면 묽은 용액의 삼투압은 용액의 ( )와 ( )에 비례한다.
2. 비휘발성, 비전해질 용질이 녹아 있는 묽은 용액에서 용질의 종류에는 관계 없이 입자 수에 관계되는 성질을 묽은 용액의 ( )이라고 한다.

(3) 반트호프 법칙

- ① 비휘발성, 비전해질 용질이 녹아 있는 묽은 용액의 삼투압은 용액의 몰 농도와 절대 온도에 비례한다.

$$\pi = CRT \Rightarrow \pi V = nRT$$

$$\left[ \begin{array}{l} \pi : \text{삼투압(atm)}, C : \text{몰 농도(M)} \\ R : \text{기체 상수}(0.082 \text{ atm}\cdot\text{L}/(\text{mol}\cdot\text{K})) \\ T : \text{절대 온도(K)}, V : \text{용액의 부피(L)} \\ n : \text{용질의 양(mol)} \end{array} \right]$$

- ② 반트호프 법칙을 이용한 비휘발성, 비전해질 용질의 분자량 측정 : 용질의 질량이  $w$  g이고 분자량이  $M$ 이면 용질의 양(mol)  $n$ 이  $\frac{w}{M}$ 이므로 반트호프 법칙을 다음과 같이 나타낼 수 있다.

$$\pi V = nRT = \frac{w}{M} RT \Rightarrow M = \frac{wRT}{\pi V}$$

5 묽은 용액의 총괄성

비휘발성, 비전해질 용질이 녹아 있는 묽은 용액에서 증기 압력 내림, 끓는점 오름, 어는점 내림, 삼투압은 용질의 종류와 관계없이 용질의 입자 수에만 비례하는데, 이러한 성질을 묽은 용액의 총괄성이라고 한다. 묽은 용액 속에 존재하는 용질의 입자 수가 증가하면 증기 압력 내림, 끓는점 오름, 어는점 내림, 삼투압도 증가한다.

현상	표현식	관계
증기 압력 내림	$\Delta P = P_{\text{용매}} - P_{\text{용액}} = P_{\text{용매}} \times X_{\text{용질}}$	$X_{\text{용질}}$ (용질의 몰 분율)에 비례
끓는점 오름	$\Delta T_b = K_b \times m$	$m$ (용액의 몰랄 농도)에 비례
어는점 내림	$\Delta T_f = K_f \times m$	$m$ (용액의 몰랄 농도)에 비례
삼투압	$\pi = CRT$	$C$ (용액의 몰 농도)에 비례

기출문제 다시보기 용액의 농도

2022학년도 대수능

1 M A(aq) 200 mL에  $x$  g의 A(s)를 녹인 후 물로 희석하여 만든 A(aq)의 부피, 몰랄 농도, 밀도는 각각 1 L, 1 m, 1.1 g/mL이다.  $x$ 는? (단, A의 화학식량은 100이다.) [3점]

- ① 80                      ② 70                      ③ 60                      ④ 50                      ⑤ 40

**해설** 물 1000 g에 A(s) 1 mol인 100 g을 녹인 A(aq)은 몰랄 농도가 1 m이고 질량이 1100 g이다. 문제에서 최종적으로 만든 1 m A(aq)은 질량이 1000 mL  $\times$  1.1 g/mL = 1100 g이므로 녹아 있는 용질의 질량이 100 g이다. 1 M A(aq) 200 mL에 들어 있는 용질의 질량이 1 M  $\times$  0.2 L  $\times$  100 g/mol = 20 g이므로 추가로 녹인  $x$  g = 100 g - 20 g = 80 g이다. 답 ①

정답

1. 몰 농도, 절대 온도
2. 총괄성



## 기출문제 다시보기

## 용액의 농도와 몰 분율

2022학년도 9월 모의평가

표는  $t^{\circ}\text{C}$ 의 요소 수용액 (가)~(다)에 대한 자료이다. (다)는 (가)에 (나)  $x$  mL와 증류수  $y$  g을 혼합한 것이다. (가)와 (다)에서 요소의 몰 분율은 같다.

$y-x$ 는? (단, 물과 요소의 화학식량은 각각 18, 60이다.) [3점]

요소 수용액	(가)	(나)	(다)
농도	0.25 $m$	0.50 $M$	
요소 질량	27 g		54 g
밀도		1.02 g/mL	

- ① 0                      ② 9                      ③ 18                      ④ 27                      ⑤ 36

**해설** (가)는 0.25  $m$ 이므로 물 1800 g에 요소 27 g을 녹인 수용액이다. 요소 수용액인 (가)와 (다)에서 요소의 몰 분율이 같으므로 (가)와 (다)의 몰랄 농도도 같다. (다)는 (가)와 몰랄 농도는 같은데 용질의 질량이 2배이므로 용매의 질량도 2배인 3600 g이다. (나)  $x$  mL에 들어 있는 요소의 질량이  $54\text{ g} - 27\text{ g} = 27\text{ g}$ 이어야 하므로  $0.50\text{ M} \times \frac{x}{1000}\text{ L} = \frac{27\text{ g}}{60\text{ g/mol}}$ 이고,  $x=900$ 이다. (가)의 질량은  $1800\text{ g} + 27\text{ g} = 1827\text{ g}$ 이고, (나) 900 mL의 질량은  $900\text{ mL} \times 1.02\text{ g/mL} = 918\text{ g}$ 이며, (다)의 질량은  $3600\text{ g} + 54\text{ g} = 3654\text{ g}$ 이다.  $1827\text{ g} + 918\text{ g} + y\text{ g} = 3654\text{ g}$ 이므로  $y=909$ 이다. 따라서  $y-x=909-900=90$ 이다. 답 ②

## 기출문제 다시보기

## 용액의 어는점 내림

2022학년도 대수능

다음은 A와 B의 어는점 내림에 대한 자료이다. 용액 I과 II는 A( $l$ )와 B( $l$ )에 용질 X를 각각 녹인 용액이다.

- A( $l$ )와 B( $l$ )의 기준 어는점과 몰랄 내림 상수

액체	기준 어는점( $^{\circ}\text{C}$ )	몰랄 내림 상수( $^{\circ}\text{C}/m$ )
A( $l$ )	5.5	5.1
B( $l$ )	6.7	20.4

- I과 II의 조성과 기준 어는점

용액	조성	기준 어는점( $^{\circ}\text{C}$ )
I	A( $l$ ) 100 g + X 1 g	5.0
II	B( $l$ ) 50 g + X 1 g	$a$

이에 대한 설명으로 옳은 것만을 <보기>에서 있는 대로 고른 것은? (단, X는 비휘발성, 비전해질이고, 용액은 라울 법칙을 따른다.)

보기

- ㄱ. I의 몰랄 농도는 0.1  $m$ 보다 작다.  
 ㄴ.  $a=4.7$ 이다.  
 ㄷ. X의 화학식량은 102이다.

- ① ㄱ                      ② ㄷ                      ③ ㄱ, ㄴ                      ④ ㄱ, ㄷ                      ⑤ ㄴ, ㄷ

**해설** ㄱ. I의 몰랄 농도는  $\frac{\Delta T_f}{K_f} = \frac{5.5-5.0}{5.1} m < 0.1 m$ 이다. ㄴ.  $\Delta T_f = K_f \times m$ 에서 II는 I보다 몰랄 내림 상수( $K_f$ )가 4배, 몰랄 농도( $m$ )가 2배이므로 어는점 내림( $\Delta T_f$ )은 8배이다. I의 어는점 내림이  $5.5^{\circ}\text{C} - 5.0^{\circ}\text{C} = 0.5^{\circ}\text{C}$ 이므로 II의 어는점 내림은  $6.7^{\circ}\text{C} - a^{\circ}\text{C} = (0.5 \times 8)^{\circ}\text{C}$ 이다. 따라서  $a=2.7$ 이다. ㄷ. X의 화학식량을

$M$ 이라고 할 때, I의 몰랄 농도는  $\frac{\Delta T_f}{K_f} = \frac{0.5}{5.1} m = \frac{\frac{1}{M}\text{ mol}}{0.1\text{ kg}}$ 이므로  $M=102$ 이다. 답 ④

## 2점 수능 테스트

01 [22028-0049] 그림은 어떤 손 소독제의 주성분인 에탄올과 불순물인 메탄올의 농도를 나타낸 것이다.



에탄올의 질량(g)은?  
메탄올의 질량(g)은?

- ① 70                      ② 700                      ③ 7000  
④ 70000                  ⑤ 700000

02 [22028-0050] 그림은 모기 퇴치제에 들어 있는 물질인 DEET에 대한 성분 표시를 나타낸 것이다. 용액의 밀도는  $d$  g/mL이다.



이에 대한 설명으로 옳은 것만을 <보기>에서 있는 대로 고른 것은? (단, DEET의 분자량은 191이다.)

- 보기
- ㄱ. DEET의 퍼센트 농도는 10%이다.  
ㄴ. 용액의 온도가 높아지면 DEET의 퍼센트 농도는 작아진다.  
ㄷ. DEET의 몰 농도는  $\frac{100}{191d}$  M이다.

- ① ㄱ                      ② ㄴ                      ③ ㄷ  
④ ㄱ, ㄴ                  ⑤ ㄱ, ㄷ

03 [22028-0051] 표는 A 수용액 (가)와 (나)에 대한 자료이다.

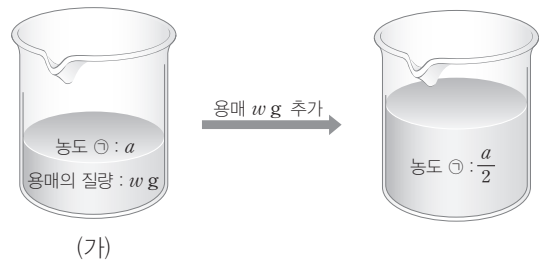
A 수용액	용질의 질량(g)	물의 질량(g)	몰랄 농도(m)
(가)	2	100	$\frac{1}{3}$
(나)	4	$x$	$\frac{2}{3}$

이에 대한 설명으로 옳은 것만을 <보기>에서 있는 대로 고른 것은?

- 보기
- ㄱ.  $x=100$ 이다.  
ㄴ. A의 화학식량은 60이다.  
ㄷ. (나)에서 A의 몰 분율 = 2이다.  
ㄹ. (가)에서 A의 몰 분율 = 2이다.

- ① ㄱ                      ② ㄷ                      ③ ㄱ, ㄴ  
④ ㄴ, ㄷ                  ⑤ ㄱ, ㄴ, ㄷ

04 [22028-0052] 그림은 용액 (가)에 용매  $w$  g을 추가하는 것을 나타낸 것이다.



농도 ㉠으로 적절한 것만을 <보기>에서 있는 대로 고른 것은?

- 보기
- ㄱ. 퍼센트 농도  
ㄴ. 몰랄 농도  
ㄷ. 용질의 몰 분율

- ① ㄱ                      ② ㄴ                      ③ ㄷ  
④ ㄱ, ㄷ                  ⑤ ㄴ, ㄷ

**05** [22028-0053] 표는 NaOH(aq) (가)~(다)에 대한 자료이다. (다)는 (가)와 (나)를 혼합한 수용액이다.

NaOH(aq)	퍼센트 농도(%)	몰랄 농도(m)	용액의 질량(g)
(가)	10	a	100
(나)	30	b	100
(다)	c	d	200

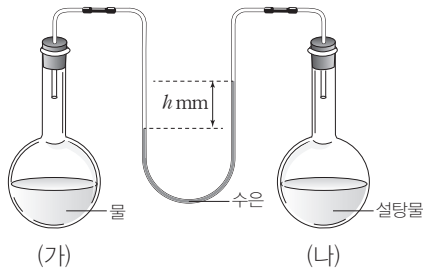
이에 대한 설명으로 옳은 것만을 <보기>에서 있는 대로 고른 것은? (단, NaOH의 화학식량은 40이다.)

보기

ㄱ.  $b = 3a$ 이다.  
 ㄴ.  $c = 20$ 이다.  
 ㄷ.  $d = \frac{25}{4}$ 이다.

- ① ㄱ      ② ㄷ      ③ ㄱ, ㄴ      ④ ㄴ, ㄷ      ⑤ ㄱ, ㄴ, ㄷ

**06** [22028-0054] 그림은 진공 상태의 용기에 물, 설탕물을 각각 넣은 후  $t^\circ\text{C}$ 에서 평형에 도달한 상태를 나타낸 것이다.  $t^\circ\text{C}$ 에서 물의 증기 압력은 300 mmHg이다.



이에 대한 설명으로 옳은 것만을 <보기>에서 있는 대로 고른 것은? (단, 온도는  $t^\circ\text{C}$ 로 일정하고, 설탕물은 라울 법칙을 따르며, 수은의 증기 압력은 무시한다.)

보기

ㄱ.  $t^\circ\text{C}$ 에서 설탕물의 증기 압력은  $(300 - h)$  mmHg이다.  
 ㄴ. (가)에 물을 더 넣으면  $h$ 는 감소한다.  
 ㄷ. (나)에 물을 더 넣으면  $h$ 는 증가한다.

- ① ㄱ      ② ㄴ      ③ ㄱ, ㄷ      ④ ㄴ, ㄷ      ⑤ ㄱ, ㄴ, ㄷ

**07** [22028-0055] 표는  $25^\circ\text{C}$ 에서 수용액 (가)와 (나)에 대한 자료이다.

수용액	용질의 종류	용질의 양(mol)	물의 양(mol)
(가)	설탕	1	99
(나)	포도당	2	48

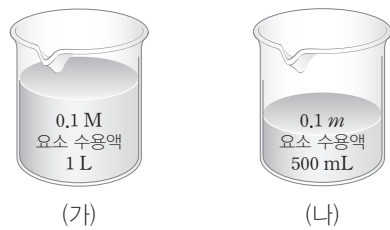
이에 대한 설명으로 옳은 것만을 <보기>에서 있는 대로 고른 것은? (단, 수용액은 라울 법칙을 따른다.)

보기

ㄱ. (가)에서 설탕의 몰 분율은  $\frac{1}{100}$ 이다.  
 ㄴ.  $\frac{\text{(나)의 몰랄 농도}}{\text{(가)의 몰랄 농도}} > 4$ 이다.  
 ㄷ.  $\frac{\text{(나)의 증기 압력 내림}}{\text{(가)의 증기 압력 내림}} = 4$ 이다.

- ① ㄱ      ② ㄷ      ③ ㄱ, ㄴ  
 ④ ㄴ, ㄷ      ⑤ ㄱ, ㄴ, ㄷ

**08** [22028-0056] 그림은 요소 수용액 (가)와 (나)를 나타낸 것이다. (가)와 (나)의 밀도는 1 g/mL이다.



이에 대한 설명으로 옳은 것만을 <보기>에서 있는 대로 고른 것은? (단, 요소의 분자량은 60이고, 수용액은 라울 법칙을 따른다.)

보기

ㄱ. (가)의 몰랄 농도는 0.1 m보다 크다.  
 ㄴ. (나)에 녹아 있는 요소의 질량은 3 g보다 작다.  
 ㄷ.  $25^\circ\text{C}$ 에서 증기 압력은 (가) > (나)이다.

- ① ㄱ      ② ㄷ      ③ ㄱ, ㄴ  
 ④ ㄴ, ㄷ      ⑤ ㄱ, ㄴ, ㄷ

09 [22028-0057] 표는 25°C에서 H<sub>2</sub>O(l)과 A(aq)의 증기 압력을 나타낸 것이다.

	H <sub>2</sub> O(l)	A(aq)
증기 압력(mmHg)	24	23

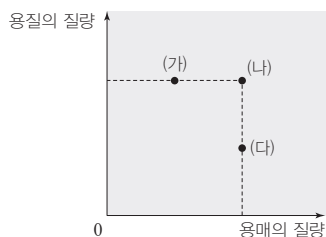
A(aq)의 몰랄 농도를 구하기 위해 반드시 이용해야 할 자료만을 <보기>에서 있는 대로 고른 것은? (단, A는 비휘발성, 비전해질이고, A(aq)은 라울 법칙을 따른다.)

보기

ㄱ. H<sub>2</sub>O의 분자량  
 ㄴ. A의 화학식량  
 ㄷ. 25°C에서 A(aq)의 밀도

- ① ㄱ                      ② ㄴ                      ③ ㄷ  
 ④ ㄱ, ㄴ                ⑤ ㄱ, ㄷ

10 [22028-0058] 그림은 1 atm에서 끓는점은 같고 용질의 종류가 서로 다른 3가지 수용액 (가)~(다)의 용매와 용질의 질량을 나타낸 것이다.



용질의 화학식량을 비교한 것으로 옳은 것은? (단, 용질은 모두 비휘발성, 비전해질이고, 수용액은 라울 법칙을 따른다.)

- ① (가) = (나) > (다)  
 ② (가) > (나) = (다)  
 ③ (가) > (나) > (다)  
 ④ (다) > (나) = (가)  
 ⑤ (다) > (나) > (가)

11 [22028-0059] 다음은 1 atm에서 어느점 내림에 대한 실험이다. 물의 몰랄 내림 상수는 1.86 °C/m이다.

[실험 과정]

- (가) 밀도가 1.1 g/mL인 0.5 M 포도당 수용액 500 mL를 비커에 넣는다.  
 (나) (가)의 비커에 물 w g을 넣고 혼합한 후 어느점을 측정한다.


[실험 결과]

○ (나)에서 측정한 어느점 : -0.62°C

w는? (단, 포도당의 분자량은 180이고, 포도당 수용액은 라울 법칙을 따른다.)

- ① 245                      ② 255                      ③ 275  
 ④ 285                      ⑤ 295


12 [22028-0060] 그림은 1 atm에서 요소 수용액과 포도당 수용액을 나타낸 것이다.



1 atm에서 (나)의 어느점 내림은? (단, 요소와 포도당의 분자량은 각각 60, 180이고, 수용액은 라울 법칙을 따른다.)

- ①  $\frac{5}{12}$                       ②  $\frac{8}{19}$                       ③  $\frac{19}{24}$   
 ④  $\frac{24}{19}$                       ⑤  $\frac{19}{8}$

13 [22028-0061] 그림은 1 atm에서 포도당 수용액 (가)와 (나)를 나타낸 것이다. 물의 몰랄 오름 상수는  $0.51^\circ\text{C}/m$ 이다.



1 atm에서 이에 대한 설명으로 옳은 것만을 <보기>에서 있는 대로 고른 것은? (단, 포도당의 분자량은 180이고, 수용액은 라울 법칙을 따른다.)

보기

- ㄱ. (가)의 퍼센트 농도는 5%보다 크다.
- ㄴ. (나)에 녹아 있는 포도당의 질량은 9 g이다.
- ㄷ. (가)의 끓는점 - (나)의 끓는점 =  $0.068^\circ\text{C}$ 이다.

- ① ㄱ                      ② ㄷ                      ③ ㄱ, ㄴ
- ④ ㄴ, ㄷ                ⑤ ㄱ, ㄴ, ㄷ

14 [22028-0062] 표는 1 atm에서 같은 질량의 포도당이 녹아 있는 수용액 (가)와 (나)의 끓는점을 나타낸 것이다. 물의 몰랄 오름 상수와 몰랄 내림 상수는 각각  $0.51^\circ\text{C}/m$ ,  $1.86^\circ\text{C}/m$ 이다.

수용액	(가)	(나)
끓는점( $^\circ\text{C}$ )	100.04	100.1

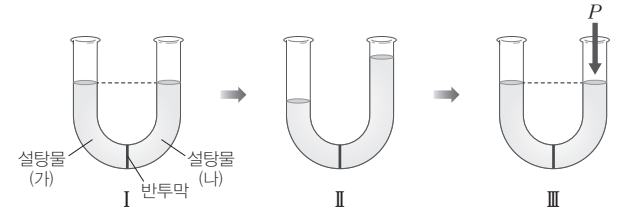
1 atm에서 이에 대한 설명으로 옳은 것만을 <보기>에서 있는 대로 고른 것은? (단, 수용액은 라울 법칙을 따른다.)

보기

- ㄱ. (가)의 몰랄 농도는 0.1 m보다 크다.
- ㄴ. (나)의 어는점은  $-0.186^\circ\text{C}$ 보다 낮다.
- ㄷ.  $\frac{\text{(나)에 들어 있는 물의 질량}}{\text{(가)에 들어 있는 물의 질량}} = \frac{2}{5}$ 이다.

- ① ㄱ                      ② ㄷ                      ③ ㄱ, ㄴ
- ④ ㄴ, ㄷ                ⑤ ㄱ, ㄴ, ㄷ

15 [22028-0063]  $t^\circ\text{C}$ 에서 그림 I은 반투막으로 분리된 U자관에 같은 부피의 묽은 설탕물 (가)와 (나)를 넣은 직후의 모습을, II는 충분한 시간이 지난 후의 모습을, III은 두 설탕물의 부피가 같아지도록 한쪽 설탕물에 추가로 압력 P를 가한 것을 나타낸 것이다.



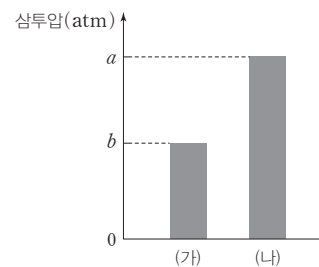
이에 대한 설명으로 옳은 것만을 <보기>에서 있는 대로 고른 것은? (단, 온도는  $t^\circ\text{C}$ 로 일정하고, 물의 증발은 무시한다.)

보기

- ㄱ. I에서 물 농도는 (나) > (가)이다.
- ㄴ. I에서 (나)의 삼투압은 P이다.
- ㄷ. II에서 물 분자는 반투막을 통과할 수 없다.

- ① ㄱ                      ② ㄴ                      ③ ㄱ, ㄷ                ④ ㄴ, ㄷ                ⑤ ㄱ, ㄴ, ㄷ

16 [22028-0064] 그림은 T K에서 같은 질량의 포도당과 설탕을 각각 물에 녹여 만든 1 L 수용액의 삼투압을 나타낸 것이다. (가)와 (나)는 각각 포도당 수용액과 설탕 수용액 중 하나이다.



이에 대한 설명으로 옳은 것만을 <보기>에서 있는 대로 고른 것은? (단, 포도당, 설탕의 분자량은 각각 180, 342이다.)

보기

- ㄱ. 물 농도는 (가)가 (나)보다 크다.
- ㄴ. (가)는 설탕 수용액이다.
- ㄷ.  $a < 2b$ 이다.

- ① ㄱ                      ② ㄴ                      ③ ㄷ                      ④ ㄱ, ㄴ                ⑤ ㄴ, ㄷ

물을 추가하여도 용질의 양 (mol)이 변하지 않으므로 용액의 몰 농도는 용액의 부피에 반비례한다.

A~D의 밀도가 같으므로 밀도가  $d \text{ g/mL}$  라면 수용액 1 L의 질량은  $1000d \text{ g}$ 이다.

01 [22028-0065] 다음은  $\text{NaOH}(aq)$ 과 관련된 실험이다.

[실험 과정]

- (가) 8%  $\text{NaOH}(aq)$  100 g의 부피를 측정한다.
- (나) (가)의  $\text{NaOH}(aq)$ 에 물 100 g을 추가한 후 부피를 측정한다.

[실험 결과]

- (가)에서  $\text{NaOH}(aq)$ 의 부피 : 92 mL
- (나)에서 만든  $\text{NaOH}(aq)$ 의 부피 : 192 mL

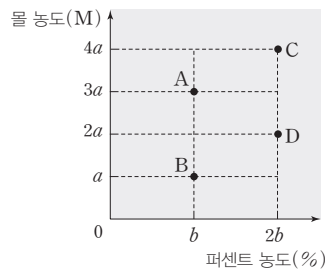
이에 대한 설명으로 옳은 것만을 <보기>에서 있는 대로 고른 것은?

보기

- ㄱ. (가)의  $\text{NaOH}(aq)$ 에 들어 있는 물의 질량은 92 g이다.
- ㄴ. (나)에서 만든  $\text{NaOH}(aq)$ 의 퍼센트 농도는 4%이다.
- ㄷ.  $\frac{\text{(나)에서 만든 } \text{NaOH}(aq)\text{의 몰 농도}}{\text{(가)에서 } \text{NaOH}(aq)\text{의 몰 농도}} > \frac{1}{2}$ 이다.

- ① ㄱ                      ② ㄷ                      ③ ㄱ, ㄴ                      ④ ㄴ, ㄷ                      ⑤ ㄱ, ㄴ, ㄷ

02 [22028-0066] 그림은 밀도가 같은 수용액 A~D의 퍼센트 농도와 몰 농도를 나타낸 것이다.

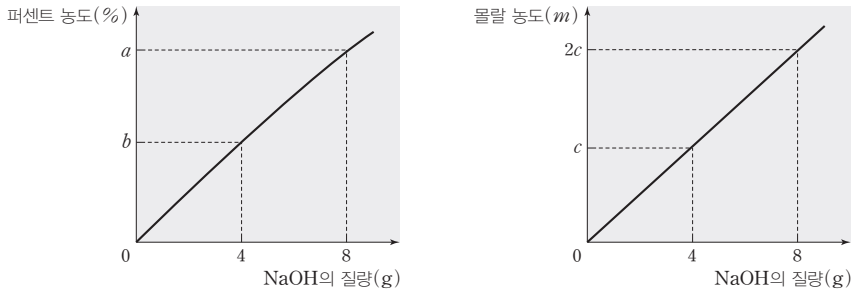


수용액에 녹아 있는 용질의 화학식량비(A : B : C : D)는?

- ① 1 : 3 : 3 : 6                      ② 2 : 6 : 3 : 6                      ③ 3 : 1 : 2 : 1
- ④ 3 : 1 : 4 : 2                      ⑤ 3 : 1 : 8 : 4

**03** [22028-0067]

그림은 25°C에서 물 100 g에 NaOH(s)을 조금씩 녹일 때 NaOH의 질량에 따른 용액의 퍼센트 농도와 몰랄 농도를 나타낸 것이다.



물 100 g에 NaOH(s)을 조금씩 녹일 때 용질의 질량과 함께 용액의 질량도 증가하므로 용액의 퍼센트 농도는 용질의 질량에 비례하지 않는다.

이에 대한 설명으로 옳은 것만을 <보기>에서 있는 대로 고른 것은? (단, NaOH의 화학식량은 40이다.)

보기

ㄱ.  $\frac{a}{b} = \frac{52}{27}$ 이다.

ㄴ.  $c=1$ 이다.

ㄷ. 10°C에서 물 100 g에 NaOH(s) 8 g을 녹인 용액의 몰랄 농도는  $2c$  m이다.

- ① ㄱ      ② ㄷ      ③ ㄱ, ㄴ      ④ ㄴ, ㄷ      ⑤ ㄱ, ㄴ, ㄷ

**04** [22028-0068]

다음은 NaOH(aq) (가)~(다)에 대한 자료이다. (다)는 (가)와 (나)를 혼합한 후 물  $x$  g을 추가한 수용액이다.

(다)에 녹아 있는 NaOH의 질량은 (가)와 (나)에 녹아 있는 NaOH의 질량 합과 같다.

(가) 2% NaOH(aq)  $y$  g

(나) 2 m NaOH(aq) 27 g

(다) 0.4 M NaOH(aq) 250 mL, 밀도 1 g/mL

이에 대한 설명으로 옳은 것만을 <보기>에서 있는 대로 고른 것은? (단, NaOH의 화학식량은 40이다.)

보기

ㄱ. 녹아 있는 용질의 질량은 (가)와 (나)가 같다.

ㄴ.  $y=100$ 이다.

ㄷ.  $x=123$ 이다.

- ① ㄱ      ② ㄷ      ③ ㄱ, ㄴ      ④ ㄴ, ㄷ      ⑤ ㄱ, ㄴ, ㄷ

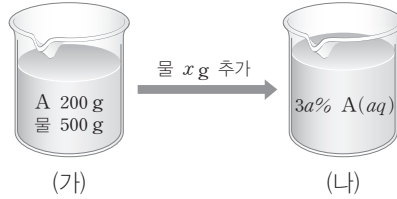
A의 화학식량을  $M$ 이라고 하면 (가)의 몰랄 농도는

$$\frac{\frac{200}{M} \text{ mol}}{\frac{500}{1000} \text{ kg}} = 10 \text{ m이다.}$$

물 1 kg에 A(s) 15 mol을 녹인 A(aq)의 퍼센트 농도는  $b\%$ 이다.

05 [22028-0069]

그림은 A(aq)에 물을 추가하는 것을 나타낸 것이다. A(aq)의 몰랄 농도는 (가)와 (나)에서 각각  $10 \text{ m}$ ,  $a \text{ m}$ 이다.

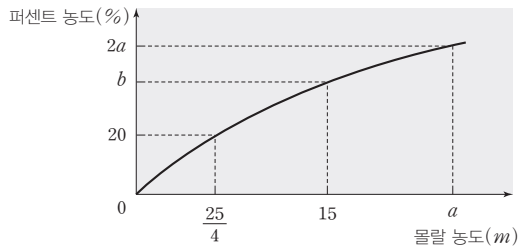


$\frac{x}{a \times A \text{의 화학식량}}$  는?

- ①  $\frac{125}{6}$       ② 10      ③  $\frac{10}{3}$       ④  $\frac{3}{10}$       ⑤  $\frac{6}{125}$

06 [22028-0070]

그림은 물 1 kg에 A(s)의 질량을 달리하여 녹인 A(aq)의 몰랄 농도와 퍼센트 농도를 나타낸 것이다.



이에 대한 설명으로 옳은 것만을 <보기>에서 있는 대로 고른 것은?

보기

ㄱ.  $b\%$  A(aq) 1 kg에 녹아 있는 A의 양은 15 mol보다 작다.  
 ㄴ. A의 화학식량은 60이다.  
 ㄷ.  $a=25$ 이다.

- ① ㄱ      ② ㄴ      ③ ㄱ, ㄷ      ④ ㄴ, ㄷ      ⑤ ㄱ, ㄴ, ㄷ



07 [22028-0071]

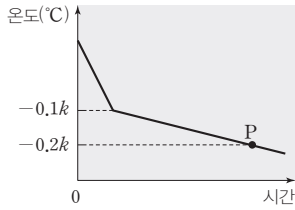
다음은 1 atm에서 A(aq)의 어는점을 측정하는 실험이다. 물의 몰랄 내림 상수는  $k^{\circ}\text{C}/m$ 이다.

[실험 과정]

- (가) 물 500 g에 A(s)  $a$  g을 녹여 A(aq)을 만든다.
- (나) (가)의 수용액 20 g을 시험관에 넣는다.
- (다) 냉각제가 들어 있는 수조에 (나)의 시험관을 넣고 시간에 따른 온도를 측정한다.



[실험 결과]



이에 대한 설명으로 옳은 것만을 <보기>에서 있는 대로 고른 것은? (단, A는 비휘발성, 비전해질이고, 물의 증발은 무시하며, 수용액은 라울 법칙을 따른다.)

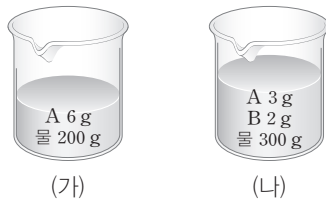
보기

- ㄱ. (가)에서 만든 A(aq)의 몰랄 농도는 0.1  $m$ 이다.
- ㄴ. A의 화학식량은  $10a$ 이다.
- ㄷ. P에서 A(aq)의 몰랄 농도는 0.2  $m$ 이다.

- ① ㄱ      ② ㄴ      ③ ㄱ, ㄷ      ④ ㄴ, ㄷ      ⑤ ㄱ, ㄴ, ㄷ

08 [22028-0072]

그림은 수용액 (가)와 (나)를 나타낸 것이다. 분자량은 A가 B의 3배이다.



(가)와 (나)가 같은 값을 갖는 것만을 <보기>에서 있는 대로 고른 것은? (단, A와 B는 비휘발성, 비전해질이고, 서로 반응하지 않으며, 수용액은 라울 법칙을 따른다.)

보기

- ㄱ. 물의 몰 분율
- ㄴ. 기준 끓는점
- ㄷ. 25°C에서 증기 압력 내림

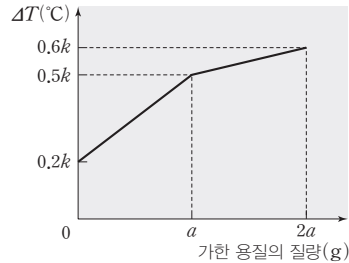
- ① ㄱ      ② ㄷ      ③ ㄱ, ㄴ      ④ ㄴ, ㄷ      ⑤ ㄱ, ㄴ, ㄷ

용액이 얼 때 용매만 얼어 용액의 농도가 점점 진해지고 어는점은 더 낮아진다.

비휘발성, 비전해질 용질이 녹아 있는 묽은 용액의 증기 압력 내림은 용질의 몰 분율에, 끓는점 오름은 용액의 몰랄 농도에 비례한다.

용매의 질량이 일정할 때 비휘발성, 비전해질인 용질을 가하면 가한 용질의 입자수에 비례하여 몰랄 농도가 증가하므로 어는점 내림도 가한 용질의 입자수에 비례한다.

09 [22028-0073] 그림은 물 250 g과 A(s)  $x$  g를 혼합한 수용액에 B(s)와 A(s)를 순서대로 가할 때, 가한 용질의 질량에 따른 수용액의 어는점 내림( $\Delta T$ )을 나타낸 것이다. 물의 몰랄 내림 상수는  $k^\circ\text{C}/m$ 이다.

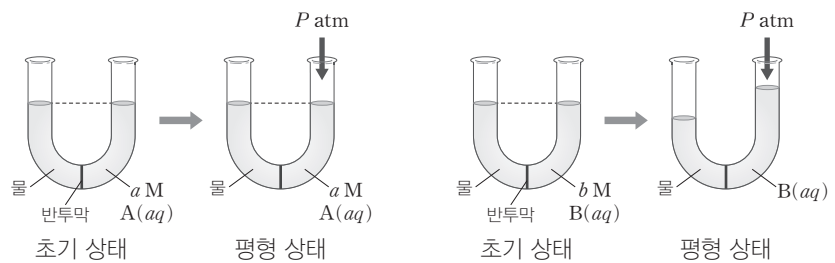


B의 분자량은? (단, 압력은 1 atm으로 일정하고, A와 B는 비휘발성, 비전해질이며 서로 반응하지 않는다. 수용액은 라울 법칙을 따른다.)

- ① 4                      ②  $\frac{20}{3}$                       ③ 8                      ④ 12                      ⑤  $\frac{40}{3}$

$a$  M A(aq)의 삼투압은  $P$  atm이다.

10 [22028-0074] 그림은  $T$  K에서 반투막으로 분리된 2개의 U자관에 물과  $a$  M A(aq),  $b$  M B(aq)을 수면의 높이가 같아지도록 각각 넣은 후 수용액에 추가로  $P$  atm을 가하여 평형에 도달한 모습을 나타낸 것이다. 기체 상수는  $k$  atm · L/(mol · K)이다.



이에 대한 설명으로 옳은 것만을 <보기>에서 있는 대로 고른 것은? (단, 온도는  $T$  K로 일정하고, A와 B는 비휘발성, 비전해질이며, 물의 증발은 무시한다.)

보기

ㄱ.  $b$  M B(aq)의 삼투압은  $P$  atm보다 크다.

ㄴ.  $a < b$ 이다.

ㄷ.  $T = \frac{P}{a \times k}$ 이다.

- ① ㄱ                      ② ㄷ                      ③ ㄱ, ㄴ                      ④ ㄴ, ㄷ                      ⑤ ㄱ, ㄴ, ㄷ

11 [22028-0075] 표는 1 atm에서 몰랄 농도가 다른 2가지 설탕물의 어는점을 나타낸 것이다.

설탕물	(가)	(나)
몰랄 농도( $m$ )	1	$a$
어는점( $^{\circ}\text{C}$ )	-1.86	-0.1

25 $^{\circ}\text{C}$ 에서 설탕물 (나)의 증기 압력을 구하기 위해 반드시 이용해야 할 자료만을 <보기>에서 있는 대로 고른 것은? (단, 설탕물은 라울 법칙을 따른다.)

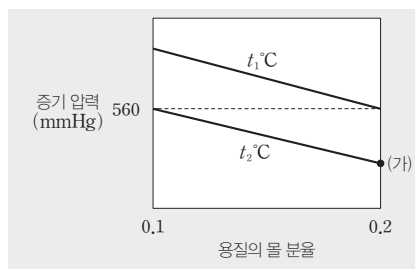
보기

- ㄱ. 물의 분자량
- ㄴ. 설탕의 분자량
- ㄷ. 25 $^{\circ}\text{C}$ 에서 물의 증기 압력

- ① ㄱ      ② ㄴ      ③ ㄱ, ㄷ      ④ ㄴ, ㄷ      ⑤ ㄱ, ㄴ, ㄷ

설탕물의 증기 압력은 물의 증기 압력과 물의 몰 분율의 곱이다.

12 [22028-0076] 그림은 서로 다른 온도에서 A(aq)의 용질의 몰 분율에 따른 증기 압력을 나타낸 것이다.



이에 대한 설명으로 옳은 것만을 <보기>에서 있는 대로 고른 것은? (단, A는 비휘발성, 비전해질이고, 수용액은 라울 법칙을 따른다.)

보기

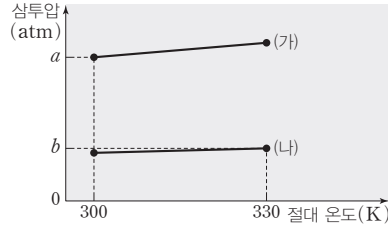
- ㄱ.  $t_1 > t_2$ 이다.
- ㄴ.  $t_1^{\circ}\text{C}$ 에서 물의 증기 압력은 700 mmHg이다.
- ㄷ. 외부 압력이 500 mmHg일 때 (가) 수용액은 끓는다.

- ① ㄱ      ② ㄷ      ③ ㄱ, ㄴ      ④ ㄴ, ㄷ      ⑤ ㄱ, ㄴ, ㄷ

용액의 증기 압력은 용매의 증기 압력과 용매의 몰 분율의 곱이다.

수용액 1 L에 녹아 있는 용질의 질량이 같을 때 분자량이 작은 요소가 분자량이 큰 포도당보다 용질의 양(mol)이 크므로 몰 농도는 요소 수용액이 포도당 수용액보다 크다.

13 [22028-0077] 그림은 용질의 질량이 같은 요소 수용액 1 L와 포도당 수용액 1 L의 온도에 따른 삼투압을 나타낸 것이다. (가)와 (나)는 각각 요소 수용액과 포도당 수용액 중 하나이다.

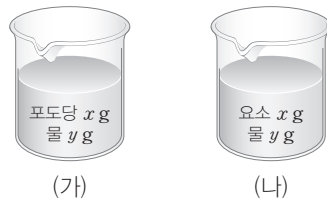


$\frac{a}{b}$ 는? (단, 요소와 포도당의 분자량은 각각 60, 180이다.)

- ①  $\frac{29}{11}$       ②  $\frac{30}{11}$       ③  $\frac{31}{11}$       ④  $\frac{32}{11}$       ⑤ 3

(가)에서 포도당의 양은  $\frac{x}{180}$  mol이고, (나)에서 요소의 양은  $\frac{x}{60}$  mol이다.

14 [22028-0078] 그림은 수용액 (가)와 (나)를, 표는 100°C에서 (가)와 (나)의 증기 압력을 나타낸 것이다. 100°C에서 물의 증기 압력은 760 mmHg이다.



수용액	(가)	(나)
증기 압력 (mmHg)	741	a

이에 대한 설명으로 옳은 것만을 <보기>에서 있는 대로 고른 것은? (단, 물, 요소, 포도당의 분자량은 각각 18, 60, 180이고, 수용액은 라울 법칙을 따른다.)

보기

ㄱ. 몰랄 농도는 (나)가 (가)의 3배이다.

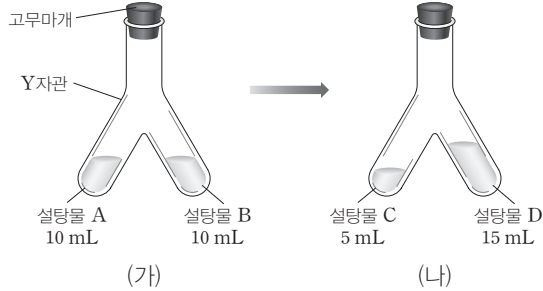
ㄴ.  $\frac{y}{x} = \frac{37}{10}$ 이다.

ㄷ.  $a < 700$ 이다.

- ① ㄱ      ② ㄴ      ③ ㄱ, ㄷ      ④ ㄴ, ㄷ      ⑤ ㄱ, ㄴ, ㄷ

15 [22028-0079]

$t^{\circ}\text{C}$ 에서 그림 (가)와 같이 Y자관에 농도가 서로 다른 설탕물 A와 B를 넣고 고무마개를 닫았다. (나)와 같이 평형에 도달하였다.



설탕물 A~D에 대한 설명으로 옳은 것만을 <보기>에서 있는 대로 고른 것은? (단, 온도는  $t^{\circ}\text{C}$ 로 일정하고, 설탕물은 라울 법칙을 따른다.)

보기

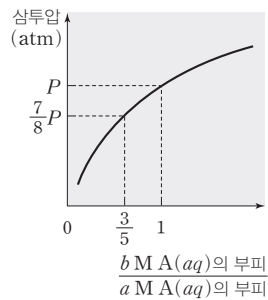
- ㄱ. 용질의 몰 분율은 C와 D가 같다.
- ㄴ. 증기 압력은  $A > B$ 이다.
- ㄷ. 몰 농도는 B가 C의  $\frac{3}{2}$ 배이다.

- ① ㄱ      ② ㄷ      ③ ㄱ, ㄴ      ④ ㄴ, ㄷ      ⑤ ㄱ, ㄴ, ㄷ

(나)에서 평형에 도달하였으므로 설탕물 C와 D는 증기 압력이 같다. 설탕은 비휘발성이므로 설탕물 A와 C에 들어 있는 설탕의 양(mol)은 같다.

16 [22028-0080]

그림은  $t^{\circ}\text{C}$ 에서  $a \text{ M A}(aq) V_1 \text{ L}$ 에  $b \text{ M A}(aq)$ 을 조금씩 가할 때 혼합 용액의 삼투압을 나타낸 것이다.



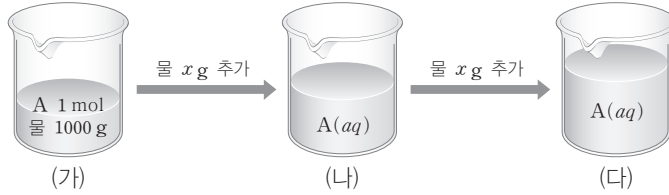
$\frac{b}{a}$ 는? (단, 온도는  $t^{\circ}\text{C}$ 로 일정하고, A는 비휘발성, 비전해질이며, 혼합 용액의 부피는 혼합 전 각 용액의 부피 합과 같다.)

- ① 2      ② 3      ③ 4      ④ 5      ⑤ 6

$a \text{ M A}(aq) V_1 \text{ L}$ 와  $b \text{ M A}(aq) V_2 \text{ L}$ 를 혼합한 용액은 용질의 양이  $(aV_1 + bV_2)$  mol이고, 용액의 부피가  $(V_1 + V_2)$  L이므로, 몰 농도가  $\frac{aV_1 + bV_2}{V_1 + V_2} \text{ M}$ 이다.

(가)는 A 1 mol이 물 1000 g에 녹아 있으므로 몰랄 농도가 1 m이다.

17 [22028-0081] 그림은 1 atm에서 A(aq)에 물  $x$  g을 차례로 추가하는 것을, 표는 물을 추가하기 전과 후 A(aq)의 어는점 차이를 나타낸 것이다.



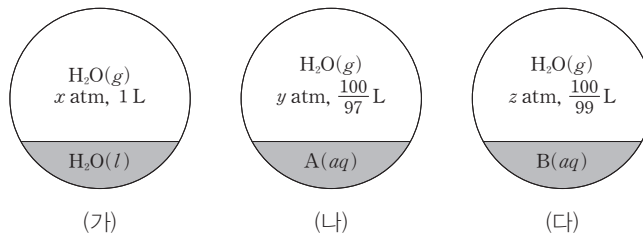
	(가와 (나))	(나)와 (다)
어는점 차이(°C)	$a$	$\frac{1}{2}a$

$x$ 는? (단, A는 비휘발성, 비전해질이고, 수용액은 라울 법칙을 따른다.)

- ① 100      ② 200      ③ 250      ④ 500      ⑤ 1000

온도가 같고, 용기 내  $H_2O(g)$ 의 양(mol)은 모두 같으므로 용기 내  $H_2O(g)$ 의 압력은 부피에 반비례한다.

18 [22028-0082] 그림은 진공 용기에 물과 A(aq), B(aq)을 각각 넣고  $t^\circ C$ 에서 평형에 도달한 것을 나타낸 것이다. 용기 내  $H_2O(g)$ 의 양(mol)은 모두 같다.



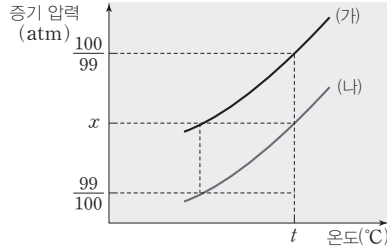
이에 대한 설명으로 옳은 것만을 <보기>에서 있는 대로 고른 것은? (단, A와 B는 비휘발성, 비전해질이고, 수용액은 라울 법칙을 따른다.)

보기

ㄱ. (나)에서 A(aq)의 증기 압력 내림은  $(y-x)$  atm이다.  
 ㄴ. 용질의 몰 분율은 (나)에서 A(aq)이 (다)에서 B(aq)의 3배이다.  
 ㄷ.  $y = -2x + 3z$ 이다.

- ① ㄱ      ② ㄴ      ③ ㄷ      ④ ㄱ, ㄴ      ⑤ ㄴ, ㄷ

19 [22028-0083] 그림은 물과  $a$   $m$  요소 수용액의 온도에 따른 증기 압력을 나타낸 것이다. (가)와 (나)는 각각 물과  $a$   $m$  요소 수용액 중 하나이다.



이에 대한 설명으로 옳은 것만을 <보기>에서 있는 대로 고른 것은? (단, 물의 분자량은 18이고, 요소 수용액은 라울 법칙을 따른다.)

보기

ㄱ.  $x=1$ 이다.

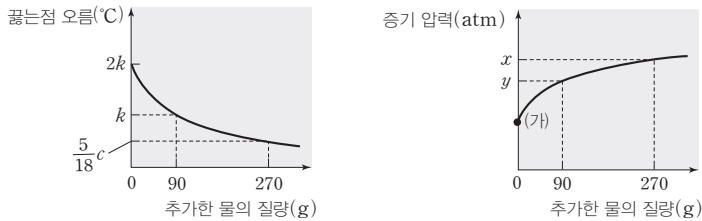
ㄴ.  $a < \frac{1}{2}$ 이다.

ㄷ.  $t^{\circ}\text{C}$ 에서  $\frac{a}{2}m$  요소 수용액의 증기 압력은  $\frac{199}{198}$  atm이다.

- ① ㄱ                      ② ㄴ                      ③ ㄱ, ㄷ                      ④ ㄴ, ㄷ                      ⑤ ㄱ, ㄴ, ㄷ

물에 비휘발성인 용질이 녹아 있는 묽은 수용액에서 수용액의 증기 압력은 물의 증기 압력보다 낮다.

20 [22028-0084] 그림은 1 atm에서 물  $a$  g에 A  $b$  mol을 녹인 수용액에 물을 추가할 때, 추가한 물의 질량에 따른 수용액의 끓는점 오름과 증기 압력을 나타낸 것이다. 물의 몰랄 오름 상수는  $c^{\circ}\text{C}/m$ 이다.



이에 대한 설명으로 옳은 것만을 <보기>에서 있는 대로 고른 것은? (단, 물의 분자량은 18이고, 온도는  $t^{\circ}\text{C}$ 로 일정하다. A는 비휘발성, 비전해질이고, A( $aq$ )은 라울 법칙을 따른다.)

보기

ㄱ. (가)에서 몰랄 농도는  $\frac{2k}{c}m$ 이다.

ㄴ.  $a \times b = 9$ 이다.

ㄷ.  $\frac{x}{y} = \frac{202}{201}$ 이다.

- ① ㄱ                      ② ㄷ                      ③ ㄱ, ㄴ                      ④ ㄴ, ㄷ                      ⑤ ㄱ, ㄴ, ㄷ

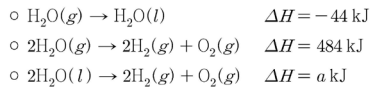
물을 추가하기 전 수용액의 끓는점 오름이  $2k^{\circ}\text{C}$ 이고, 물 90 g을 추가한 수용액의 끓는점 오름이  $k^{\circ}\text{C}$ 로 끓는점 오름이  $\frac{1}{2}$ 배로 감소하였다.

# II

## 반응 엔탈피와 화학 평형

### 2022학년도 대학수학능력시험 5번

5. 다음은 25°C, 1 atm에서 H<sub>2</sub>O과 관련된 3가지 열화학 반응식이다.



25°C, 1 atm에서 이에 대한 설명으로 옳은 것만을 <보기>에서 있는 대로 고른 것은? (단, H<sub>2</sub>O의 화학식량은 18이다.) [3점]

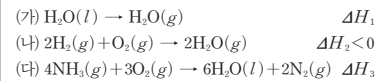
<보 기>

- |  |
|--|
| ㄱ. 9 g의 H <sub>2</sub> O(g)가 액화될 때 22 kJ의 열이 방출된다. |
| ㄴ. H <sub>2</sub> O(g)의 생성 엔탈피는 -484 kJ/mol이다.     |
| ㄷ. $a < 484$ 이다.                                   |

- ① ㄱ      ② ㄴ      ③ ㄷ      ④ ㄱ, ㄴ      ⑤ ㄱ, ㄷ

### 2022학년도 EBS 수능특강 90쪽 11번

11 [21028-0099]  
다음은 25°C, 1 atm에서 3가지 반응의 열화학 반응식이다.



25°C, 1 atm에서 이에 대한 설명으로 옳은 것만을 <보기>에서 있는 대로 고른 것은?

- |  |
|--|
| ㄱ. $\Delta H_1 > 0$ 이다.  |
| ㄴ. (나)에서 결합 에너지의 합은 $[2\text{H}_2(g) + \text{O}_2(g)]$ 이 $[2\text{H}_2\text{O}(g)]$ 보다 작다.                 |
| ㄷ. NH <sub>3</sub> (g)의 생성 엔탈피( $\Delta H$ )는 $\frac{3\Delta H_2 - 6\Delta H_1 - \Delta H_3}{4}$ kJ/mol이다. |

- ① ㄱ      ② ㄷ      ③ ㄱ, ㄴ  
④ ㄴ, ㄷ      ⑤ ㄱ, ㄴ, ㄷ

#### 연계 분석

수능 5번 문항은 수능특강 90쪽 11번 문항과 연계하여 출제되었다. 수능 5번 문항에서 제시된 2가지 열화학 반응식 H<sub>2</sub>O(g)가 H<sub>2</sub>O(l)이 되는 반응과 H<sub>2</sub>O(g)의 분해 반응은 수능특강 문항에서 제시된 자료 (가), (나)의 역반응으로 표현하였지만 동일한 자료를 제시하고 있다. 수능 5번 문항의 <보기> ㄴ은 수능특강 문항의 자료 (나)에 대한 반응 엔탈피로부터 생성 엔탈피의 기본 개념을 알고 있는지를 확인하고 있으며, ㄷ은 수능특강 문항의 <보기> ㄷ과 유사한 평가 요소인 헤스 법칙을 적용하여 반응 엔탈피를 구할 수 있는지를 묻고 있다. 따라서 이 문항은 연계 문항과 유사성이 높다.

#### 학습 대책

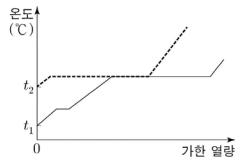
반응 엔탈피 단원에서는 자료로 제시된 열화학 반응식으로부터 헤스 법칙을 이용하여 반응 엔탈피를 구하거나 생성 엔탈피나 결합 에너지 자료를 이용하여 반응 엔탈피를 구하는 문항의 출제 빈도가 매우 높다. 따라서 헤스 법칙의 정 의는 물론 생성 엔탈피와 결합 에너지에 대한 개념을 정확하게 이해하고, 수능특강에 제시된 다양한 반응에서 반응 엔탈피를 구하는 과정과 관련된 문항의 풀이 연습을 충분히 해두는 것이 필요하다.



## 수능 \_ EBS 교재 연계 사례

### 2022학년도 대학수학능력시험 8번

8. 그림은 외부 압력 1 atm에서 동일한 질량의  $C_2H_5OH$ 을 초기 온도를 달리하여 각각 가열할 때, 가한 열량에 따른  $C_2H_5OH$ 의 온도 변화를 나타낸 것이다.



이에 대한 설명으로 옳은 것만을 <보기>에서 있는 대로 고른 것은? [3점]

<보 기>

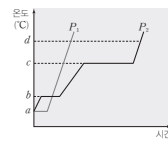
- ㄱ.  $C_2H_5OH(l)$ 의 기준 어는점은  $t_2^\circ C$ 보다 낮다.
- ㄴ.  $t_2^\circ C$ 에서  $C_2H_5OH(l)$ 의 증기 압력은 1 atm보다 크다.
- ㄷ.  $t_2^\circ C$ ,  $P$  atm에서  $C_2H_5OH$ 이 기체일 때,  $P < 1$ 이다.

- ① ㄱ      ② ㄴ      ③ ㄱ, ㄷ      ④ ㄴ, ㄷ      ⑤ ㄱ, ㄴ, ㄷ

### 2022학년도 EBS 수능특강 124쪽 20번

20 [21028-0152]

그림은  $a^\circ C$ 에서 같은 질량의 고체 물질 X를  $P_1$  atm과  $P_2$  atm에서 각각 일정한 열원으로 가열할 때 시간에 따른 온도 변화를 나타낸 것이다.  $d^\circ C$ 일 때  $P_1$  atm과  $P_2$  atm에서 X는 기체 상태이다.



X에 대한 설명으로 옳은 것만을 <보기>에서 있는 대로 고른 것은? (단, X는 고체, 액체, 기체의 3가지 상만 가지며, 액체와 고체가 평형을 이룬 상태에서 일정한 온도를 유지하고 압력을 높이면 액체가 된다.)

< 보 기 >

- ㄱ. X의 상중점 온도는  $a^\circ C$ 보다 높다.
- ㄴ.  $c^\circ C$ 에서 X의 증기 압력은  $P_2$  atm이다.
- ㄷ.  $b^\circ C$ ,  $P_1$  atm에서 물질 X는 고체와 기체의 2가지 상으로 존재한다.

- ① ㄱ      ② ㄷ      ③ ㄱ, ㄴ      ④ ㄴ, ㄷ      ⑤ ㄱ, ㄴ, ㄷ

#### 연계 분석

수능 8번 문항은 수능특강 124쪽 20번 문항과 연계하여 출제되었다. 두 문항은 모두 일정한 질량의 물질을 동일한 열원으로 가열할 때의 가열 곡선을 자료로 제시하고 있다. 수능 8번 문항의 <보기> ㄱ은 기준 어는점의 개념을 확인하고 있으며, ㄴ은 수능특강 문항의 <보기> ㄴ과 유사한 평가 요소인 온도에 따른 액체의 증기 압력 관계를 알고 임의 온도에서 액체 물질의 증기 압력을 파악할 수 있는지를 묻고 있다. 수능 8번 문항의 <보기> ㄷ은 임의의 온도와 압력에서 안정한 상을 제시하였을 때 압력의 크기를 묻는 점에서 수능특강 문항의 <보기> ㄷ과 연결된다. 따라서 이 문항은 연계 문항과 유사성이 매우 높다.

#### 학습 대책

물질의 상평형과 관련된 단원에서 임의의 온도와 압력에서 가장 안정한 상을 찾는 것은 기본적이며 압력이 일정할 때 온도에 따른 상변화, 온도가 일정할 때 압력에 따른 상변화를 파악하는 문제는 출제 빈도가 높은 편이다. 더 나아가 수능 8번 및 수능특강 문항과 같이 물질의 가열 곡선 자료를 물질의 상평형 관점에서 해석하는 문항의 출제도 고려해야 한다. 따라서 수능특강에 제시된 상평형과 관련된 다양한 자료 형태의 문항에 대한 충분한 연습이 필요하다.

## 개념 체크

### ● 반응 엔탈피

= 엔탈피 변화 ( $\Delta H$ )

= 생성물의 엔탈피 합

- 반응물의 엔탈피 합

1. 반응 엔탈피( $\Delta H$ )는 ( )  
의 엔탈피 합에서 ( )  
의 엔탈피 합을 뺀 값으로  
나타낸다.

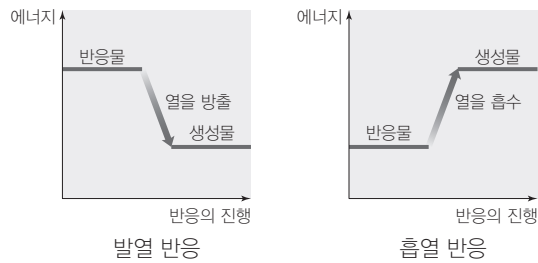
2. 발열 반응은 반응물의 엔  
탈피 합이 생성물의 엔탈  
피 합보다 ( )다.

3. 발열 반응이 일어나면 주  
위의 온도가 높아진다.  
(○, ×)

## 1 반응 엔탈피

### (1) 반응열

- ① 반응물과 생성물이 가지고 있는 에너지가 다르기 때문에 화학 반응이 일어나면 항상 에너지의 출입이 뒤따른다. 화학 반응이 일어날 때 방출하거나 흡수하는 열을 반응열이라고 한다.
- ② 발열 반응 : 화학 반응이 일어날 때 열을 방출하는 반응으로 발열 반응이 일어나면 주위의 온도가 높아진다.
- ③ 흡열 반응 : 화학 반응이 일어날 때 열을 흡수하는 반응으로 흡열 반응이 일어나면 주위의 온도가 낮아진다.



### (2) 엔탈피 ( $H$ )

특정 온도와 압력에서 어떤 물질이 가지는 고유한 에너지이며, 기호  $H$ 로 나타낸다.

### (3) 엔탈피 변화 ( $\Delta H$ )와 반응 엔탈피

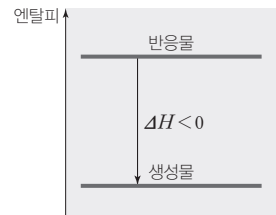
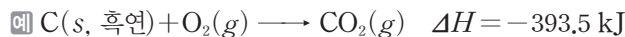
- ① 일정한 압력에서 화학 반응이 일어나면 물질의 종류와 상태, 엔탈피가 달라지므로 반응물과 생성물의 엔탈피 차에 해당하는 열이 출입한다.
- ② 어떤 물질의 엔탈피 ( $H$ )의 절대량을 직접 측정할 수는 없으나, 화학 반응이 진행되는 동안 출입하는 반응열을 측정하면 엔탈피 변화 ( $\Delta H$ )를 알 수 있다.
- ③ 일정한 압력에서 화학 반응이 일어날 때의 엔탈피 변화를 반응 엔탈피 ( $\Delta H$ )라고 한다. 반응 엔탈피 ( $\Delta H$ )는 생성물의 엔탈피 합에서 반응물의 엔탈피 합을 뺀 값으로 나타낸다.

$$\begin{aligned} \text{반응 엔탈피}(\Delta H) &= \text{엔탈피 변화}(\Delta H) = \text{생성물의 엔탈피 합} - \text{반응물의 엔탈피 합} \\ &= \sum H_{\text{생성물}} - \sum H_{\text{반응물}} \end{aligned}$$

### (4) 발열 반응과 흡열 반응

① 발열 반응 : 반응물의 엔탈피 합이 생성물의 엔탈피 합보다 커서 반응이 일어날 때 엔탈피 차에 해당하는 열을 방출하는 반응이다.

- 엔탈피 변화 ( $\Delta H$ )가 0보다 작은 반응으로, 발열 반응이 일어나면 주위의 온도가 높아진다.
- 발열 반응에서는 엔탈피가 감소하므로 반응 엔탈피 부호가 (-)이다.  $\Rightarrow \sum H_{\text{반응물}} > \sum H_{\text{생성물}} \quad \therefore \Delta H < 0$



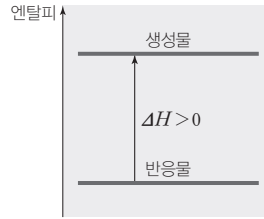
정답

1. 생성물, 반응물
2. 크
3. ○

② 흡열 반응 : 반응물의 엔탈피 합이 생성물의 엔탈피 합보다 작아서 반응이 일어날 때 엔탈피 차에 해당하는 열을 흡수하는 반응이다.

• 엔탈피 변화( $\Delta H$ )가 0보다 큰 반응으로, 흡열 반응이 일어나면 주위의 온도가 낮아진다.

• 흡열 반응에서는 엔탈피가 증가하므로 반응 엔탈피 부호가 (+)이다.  $\rightarrow \Sigma H_{\text{반응물}} < \Sigma H_{\text{생성물}} \quad \therefore \Delta H > 0$



### 개념 체크

- 발열 반응 : 반응물의 엔탈피 합이 생성물의 엔탈피 합보다 크다.
- 흡열 반응 : 반응물의 엔탈피 합이 생성물의 엔탈피 합보다 작다.

1. 흡열 반응이 일어나면 주위의 온도가 ( )진다.
2. 흡열 반응은 엔탈피 변화( $\Delta H$ )가 0보다 ( )다.
3. 열화학 반응식에서 발열 반응은 반응 엔탈피( $\Delta H$ ) 부호가 ( )이다.
4. ( ) 반응은 반응물의 엔탈피 합이 생성물의 엔탈피 합보다 작다.

### 과학 돋보기 반응 엔탈피( $\Delta H$ )의 부호

발열 반응	흡열 반응
<p><math>\text{H}_2(g)</math> 1 mol과 <math>\text{O}_2(g)</math> 0.5 mol의 엔탈피 합이 <math>\text{H}_2\text{O}(g)</math> 1 mol의 엔탈피보다 241.8 kJ만큼 크므로 반응에서 241.8 kJ의 열이 방출되며, <math>\Delta H</math>는 0보다 작고, 부호는 (-)이다.</p>	<p><math>\text{H}_2\text{O}(g)</math> 1 mol의 엔탈피가 <math>\text{H}_2(g)</math> 1 mol과 <math>\text{O}_2(g)</math> 0.5 mol의 엔탈피 합보다 241.8 kJ만큼 작으므로 반응에서 241.8 kJ의 열이 흡수되며, <math>\Delta H</math>는 0보다 크고, 부호는 (+)이다.</p>

## 2 열화학 반응식

### (1) 열화학 반응식

① 화학 반응이 일어날 때 출입하는 반응열은 반응 엔탈피( $\Delta H$ )로 나타내며, 화학 반응식과 반응 엔탈피를 함께 나타낸 식을 열화학 반응식이라고 한다.

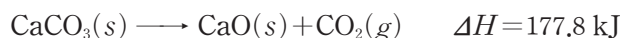
② 열화학 반응식은 반응물과 생성물의 에너지 관계와 화학 반응에서 출입하는 열에너지에 대한 정보를 알려준다.

•  $\text{C}(s, \text{흑연})$  1 mol이  $\text{O}_2(g)$  1 mol과 반응하여  $\text{CO}_2(g)$  1 mol이 생성되는 화학 반응식에서 반응 엔탈피가  $-393.5 \text{ kJ}$ 이라면, 이 반응의 열화학 반응식은 다음과 같다.



➔ 반응 엔탈피 부호가 (-)이므로 발열 반응이고,  $\text{C}(s, \text{흑연})$  1 mol이 연소할 때 393.5 kJ의 열이 방출된다는 것을 알 수 있다.

•  $\text{CaCO}_3(s)$  1 mol이  $\text{CaO}(s)$  1 mol과  $\text{CO}_2(g)$  1 mol로 분해되는 화학 반응식에서 반응 엔탈피가 177.8 kJ이라면, 이 반응의 열화학 반응식은 다음과 같다.



➔ 반응 엔탈피 부호가 (+)이므로 흡열 반응이고,  $\text{CaCO}_3(s)$  1 mol이 분해될 때 177.8 kJ의 열이 흡수된다는 것을 알 수 있다.

정답

1. 낮아
2. 크
3. -
4. 흡열

개념 체크

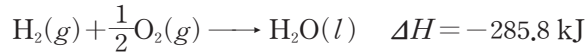
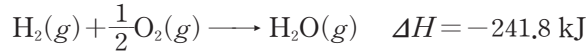
- **열화학 반응식** : 화학 반응이 일어날 때 출입하는 반응열은 반응 엔탈피( $\Delta H$ )로 나타내며, 화학 반응식과 반응 엔탈피를 함께 나타낸 식을 열화학 반응식이라고 한다.
- 물질의 상태에 따라 엔탈피가 달라지므로 열화학 반응식에는 물질의 상태를 반드시 표시해야 한다.

1. 열화학 반응식에서 고체는 ( ), 액체는  $l$ , 기체는  $g$ , 수용액은 ( )로 나타낸다.
2. 열화학 반응식에서 반응 엔탈피는 물질의 ( )에 비례한다.
3. 역반응의 엔탈피 변화( $\Delta H$ )는 정반응의 엔탈피 변화( $\Delta H$ )와 절댓값은 ( ), 부호는 ( )이다.

(2) 열화학 반응식을 나타내는 방법

① 물질의 상태에 따라 엔탈피가 달라지므로 물질의 상태를 반드시 표시해야 한다. 고체는 ( $s$ ), 액체는 ( $l$ ), 기체는 ( $g$ ), 수용액은 ( $aq$ )로 나타낸다.

예 수소 기체( $H_2(g)$ )와 산소 기체( $O_2(g)$ )가 반응하여 수증기( $H_2O(g)$ ) 1 mol이 생성될 때의 반응 엔탈피는  $\Delta H = -241.8 \text{ kJ}$ 이고, 물( $H_2O(l)$ ) 1 mol이 생성될 때의 반응 엔탈피는  $\Delta H = -285.8 \text{ kJ}$ 이다.



② 열화학 반응식에는 온도와 압력을 함께 표시한다. 온도와 압력 조건이 주어지지 않으면 일반적으로  $25^\circ\text{C}$ ,  $1 \text{ atm}$ 이다.

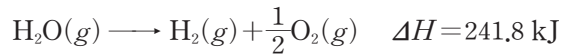

③ 같은 화학 반응이라도 반응 계수에 따라 반응 엔탈피가 달라진다. 반응 엔탈피는 물질의 양(mol)에 비례하므로 열화학 반응식에서 반응 계수가 달라지면 반응 엔탈피도 달라진다.

예  $H_2O(g)$  2 mol이 생성될 때의 반응 엔탈피( $\Delta H$ )는 1 mol이 생성될 때의 2배이다.



④ 역반응의 엔탈피 변화( $\Delta H$ )는 정반응의 엔탈피 변화( $\Delta H$ )와 절댓값은 같고, 부호는 반대이다.

예  $H_2O(g)$  1 mol이 생성되는 반응과 분해되는 반응에서 반응 엔탈피( $\Delta H$ )는 절댓값이 같고 부호는 반대이다.



탐구자료 살펴보기 열화학 반응식 완성하기

자료

$25^\circ\text{C}$ ,  $1 \text{ atm}$ 에서 메탄올( $CH_3OH$ ) 1 mol을 완전 연소시킬 때  $726.4 \text{ kJ}$ 의 열이 발생한다. 이 반응의 열화학 반응식은 다음의 단계를 통해 완성할 수 있다.

[1단계] 반응물과 생성물을 화학식으로 나타내고, 상태를 표시한다.

• 반응물 :  $CH_3OH(l)$ ,  $O_2(g)$  • 생성물 :  $CO_2(g)$ ,  $H_2O(l)$

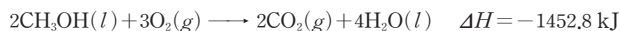
[2단계] 반응물 1 mol에 대한 반응 엔탈피를 표시한다.

→ 메탄올의 연소 반응은 발열 반응이므로  $\Delta H$ 는 부호가 (-)이다.

$$\Delta H = -726.4 \text{ kJ}$$


[3단계] 계수를 고려하여 열화학 반응식을 나타낸다.

→ 반응물의 양(mol)이 2배가 되면 출입하는 에너지도 2배가 된다. 반응물의 계수가 2배 되었으므로 반응 엔탈피도 2배가 된다.



분석

• 화학 반응식에서  $CH_3OH$  앞의 계수를  $\frac{1}{2}$ 로 두었을 때의 열화학 반응식은 다음과 같다.



•  $CH_3OH$ 의 분자량이 32이므로  $CH_3OH$  1 mol은  $32 \text{ g}$ 이며,  $CH_3OH$   $32 \text{ g}$ 이 완전 연소하면  $726.4 \text{ kJ}$ 의 열을 방출하고,  $CH_3OH$   $16 \text{ g}$ 이 완전 연소하면  $363.2 \text{ kJ}$ 의 열을 방출한다.

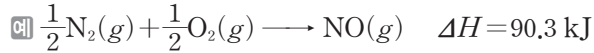
정답

1.  $s$ ,  $aq$
2. 양(mol)
3. 같고, 반대

### 3 생성 엔탈피

#### (1) 생성 엔탈피

- ① 어떤 물질 1 mol이 성분 원소의 가장 안정한 원소로부터 생성될 때의 반응 엔탈피이다.  
 ② 1 atm에서의 생성 엔탈피를 표준 생성 엔탈피라고 하며 단위는 kJ/mol이다.



→ NO(g)의 표준 생성 엔탈피( $\Delta H$ ) = 90.3 kJ/mol

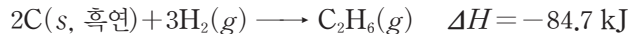
[몇 가지 물질의 표준 생성 엔탈피( $\Delta H$ )]

물질	메테인(CH <sub>4</sub> (g))	에테인(C <sub>2</sub> H <sub>6</sub> (g))	수증기(H <sub>2</sub> O(g))	이산화 탄소(CO <sub>2</sub> (g))
표준 생성 엔탈피( $\Delta H$ ) (kJ/mol)	-74.8	-84.7	-241.8	-393.5

→ CO<sub>2</sub>(g)의 표준 생성 엔탈피( $\Delta H$ ) = -393.5 kJ/mol이고, 탄소와 산소의 가장 안정한 원소는 각각 C(s, 흑연)과 O<sub>2</sub>(g)이므로 이를 열화학 반응식으로 나타내면 다음과 같다.



→ C<sub>2</sub>H<sub>6</sub>(g)의 표준 생성 엔탈피( $\Delta H$ ) = -84.7 kJ/mol이고, 탄소와 수소의 가장 안정한 원소는 각각 C(s, 흑연)과 H<sub>2</sub>(g)이므로 이를 열화학 반응식으로 나타내면 다음과 같다.

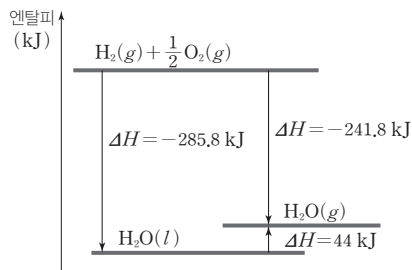


- ③ 원소의 표준 생성 엔탈피( $\Delta H$ ) : 표준 상태에서 원소에 여러 가지 동소체가 존재하는 경우 가장 안정한 물질의 표준 생성 엔탈피는 0이다. 산소의 동소체에는 O<sub>2</sub>(g)와 O<sub>3</sub>(g)이 존재하는데, 가장 안정한 원소는 O<sub>2</sub>(g)이므로 O<sub>2</sub>(g)의 표준 생성 엔탈피가 0이다. 또한 탄소는 흑연, 다이아몬드, 풀러렌 등의 동소체가 존재하며, 이 중 가장 안정한 원소는 흑연이므로 흑연의 표준 생성 엔탈피는 0이다.

물질	산소			탄소		
	O(g)	O <sub>2</sub> (g)	O <sub>3</sub> (g)	C(g)	C(s, 흑연)	C(s, 다이아몬드)
표준 생성 엔탈피( $\Delta H$ ) (kJ/mol)	249.2	0	143	716.7	0	1.9

#### 과학 돋보기 물과 수증기의 엔탈피(H) 비교

- H<sub>2</sub>O(l)과 H<sub>2</sub>O(g)의 표준 생성 엔탈피( $\Delta H$ )를 비교하여 물과 수증기의 엔탈피(H)를 비교할 수 있다. 같은 물질이 상태가 다를 때 표준 생성 엔탈피가 작을수록 상대적으로 엔탈피가 작다. 25°C에서 H<sub>2</sub>O(g), H<sub>2</sub>O(l)의 표준 생성 엔탈피는 다음과 같다.



- H<sub>2</sub>O(l)이 H<sub>2</sub>O(g)보다 표준 생성 엔탈피( $\Delta H$ )가 작으므로 물의 엔탈피가 수증기의 엔탈피보다 작다.  
 • H<sub>2</sub>O(l) 1 mol이 H<sub>2</sub>O(g) 1 mol로 될 때는 H<sub>2</sub>O(g)와 H<sub>2</sub>O(l)의 표준 생성 엔탈피( $\Delta H$ ) 차에 해당하는 44 kJ의 열을 흡수하며 이때의 열화학 반응식은 다음과 같다.  

$$\text{H}_2\text{O}(l) \longrightarrow \text{H}_2\text{O}(g) \quad \Delta H = 44 \text{ kJ}$$

#### 개념 체크

- 생성 엔탈피는 어떤 물질 1 mol이 성분 원소의 가장 안정한 원소로부터 생성될 때의 반응 엔탈피이다.
- 흑연, 다이아몬드, 풀러렌 등의 동소체가 존재하는 탄소의 가장 안정한 원소는 흑연이므로 흑연의 표준 생성 엔탈피는 0이다.

1. 생성 엔탈피( $\Delta H$ )는 항상 (-)값을 갖는다. (○, ×)
2. 표준 생성 엔탈피는 ( ) atm에서의 생성 엔탈피이다.
3. H<sub>2</sub>O(l)은 H<sub>2</sub>O(g)보다 표준 생성 엔탈피( $\Delta H$ )가 ( )으므로 물의 엔탈피는 수증기의 엔탈피보다 작다.
4. 가장 안정한 원소의 표준 생성 엔탈피는 ( ) kJ/mol이다.

#### 정답

1. ×
2. 1
3. 작
4. 0

개념 체크

● 간이 열량계에서  
반응 과정에서 발생한 열에너지  
= 수용액이 흡수한 열에너지(Q)  
=  $C_{\text{수용액}} \times m_{\text{수용액}} \times \Delta t$

1. 간이 열량계에서는 반응 과정에서 발생한 열에너지와 열량계 속 수용액이 흡수한 열에너지가 ( )라고 가정한다.

2. ( )은 물질 1g의 온도를 1°C 높이는 데 필요한 열에너지이다.

(2) 간이 열량계를 이용한 반응열의 측정

① 발생하거나 흡수한 열에너지를 열량계 속의 수용액이 모두 흡수하거나 방출한다고 가정한다.

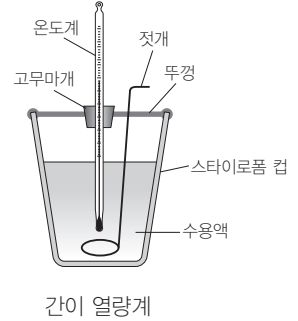
② 반응 과정에서 발생한 열에너지  
= 수용액이 흡수한 열에너지(Q) =  $C_{\text{수용액}} \times m_{\text{수용액}} \times \Delta t$

• 비열(c) : 물질 1g의 온도를 1°C 높이는 데 필요한 열에너지로 단위는 J/(g·°C)이다.

•  $m_{\text{수용액}}$  : 수용액의 질량(g)

•  $\Delta t$  : 수용액의 온도 변화(°C)

③ 반응열을 간단하게 측정할 수 있으나 반응열의 일부가 열량계 등 실험 기구의 온도를 변화시키는 데 쓰이거나, 열량계 바깥과 열 교환이 일어나 오차가 발생한다.

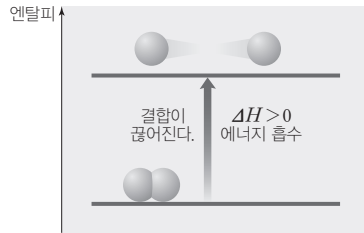


간이 열량계

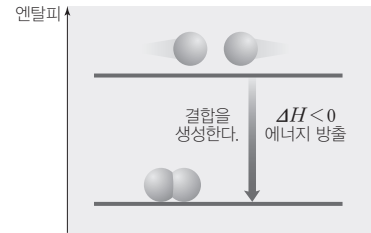
4 결합 에너지와 반응 엔탈피

(1) 결합 에너지

① 화학 반응에서는 반응물을 이루는 원자 사이의 결합이 끊어지고 새로운 결합이 형성되면서 생성물을 만드는데, 이때 원자 사이의 결합이 끊어질 때에는 에너지가 흡수되고 생성될 때에는 에너지가 방출된다.



결합이 끊어질 때의 엔탈피 변화



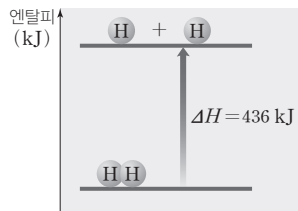
결합이 생성될 때의 엔탈피 변화

② 결합 에너지 : 기체 상태의 물질을 구성하는 두 원자 사이의 공유 결합 1 mol을 끊어 기체 상태의 원자로 만드는데 필요한 에너지이다.

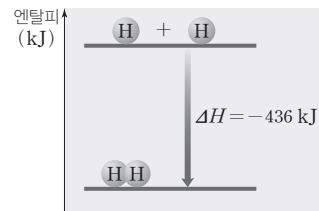
• 결합 에너지는 반응 엔탈피와 마찬가지로  $\Delta H$ 로 나타낸다.

• 결합을 끊으려면 에너지를 흡수해야 하므로 결합 에너지는 항상 (+)값을 갖는다.

예 H-H의 결합 에너지 : 기체 상태의 수소(H<sub>2</sub>) 분자 1 mol이 분자 내 결합이 끊어져 기체 상태의 수소(H) 원자로 될 때 436 kJ의 에너지가 필요하므로 H-H의 결합 에너지 ( $\Delta H$ )는 436 kJ/mol이다.



H-H 결합이 끊어질 때



H-H 결합이 생성될 때

정답

1. 같
2. 비열

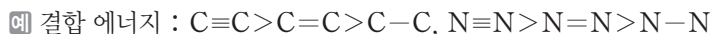
## ③ 결합 에너지와 결합의 세기

- 원자 사이의 결합력이 클수록 결합을 끊기 어려우므로 결합 에너지는 원자 사이의 결합이 강할수록 크다.



➔ H-H의 결합 에너지(436 kJ/mol)는 Cl-Cl의 결합 에너지(243 kJ/mol)보다 크므로 결합의 세기는 H-H 결합이 Cl-Cl 결합보다 강하다.

- 같은 원자 사이의 결합이라도 공유 전자쌍 수가 증가할수록 결합 에너지가 증가한다.



- 평균 결합 에너지 : C-H의 결합 에너지는 메테인(CH<sub>4</sub>)과 에테인(C<sub>2</sub>H<sub>6</sub>)에서 다르다. 이와 같이 다원자 분자에서 원자 사이의 같은 결합이라도 조건에 따라 결합 에너지가 다르게 나타나므로 결합 에너지는 평균값으로 나타낸다.

[몇 가지 결합의 평균 결합 에너지]

결합	결합 에너지(kJ/mol)	결합	결합 에너지(kJ/mol)	결합	결합 에너지(kJ/mol)
H-H	436	O-O	180	F-F	159
H-C	410	O=O	498	Cl-Cl	243
H-F	570	C-O	350	Br-Br	193
H-Cl	432	C=O	732	I-I	151
H-Br	366	N-N	240	C-C	350
H-I	298	N=N	418	C=C	611
H-O	460	N≡N	945	C≡C	835

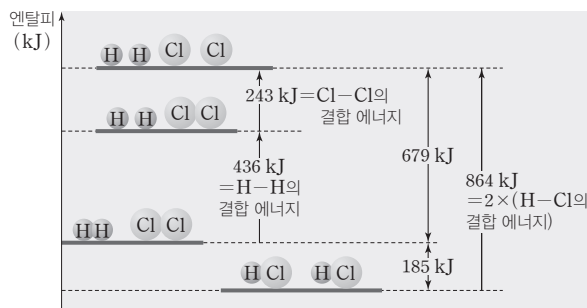
※ CO<sub>2</sub>(g)에서 C=O의 결합 에너지는 799 kJ/mol이다.

## (2) 결합 에너지로부터 반응 엔탈피(ΔH) 구하기

결합이 끊어질 때 에너지를 흡수(ΔH > 0)하고, 결합이 생성될 때 에너지를 방출(ΔH < 0)한다. 기체 반응에서 반응물의 결합이 끊어질 때 흡수하는 에너지와 생성물의 결합이 생성될 때 방출하는 에너지를 뺀 것이 반응 엔탈피(ΔH)이다.

$$\Delta H = (\text{끊어지는 결합의 결합 에너지 총합}) - (\text{생성되는 결합의 결합 에너지 총합}) \\ = (\text{반응물의 결합 에너지 총합}) - (\text{생성물의 결합 에너지 총합})$$

예 수소(H<sub>2</sub>)와 염소(Cl<sub>2</sub>)로부터 염화 수소(HCl)가 생성될 때의 반응 엔탈피 구하기



## 개념 체크

● **결합 에너지** : 기체 상태의 물질을 구성하는 두 원자 사이의 공유 결합 1 mol을 끊어 기체 상태의 원자로 만드는 데 필요한 에너지이다.

- 두 원자 사이의 결합이 강할수록 결합 에너지가 ( )다.
- 공유 결합이 끊어질 때에는 에너지가 ( )되고, 결합이 생성될 때에는 에너지가 ( )된다.
- 기체 반응에서 반응 엔탈피(ΔH)는 ( )의 결합 에너지 총합에서 ( )의 결합 에너지 총합을 뺀 값과 같다.
- 같은 원자 사이의 결합에서 공유 전자쌍 수가 증가하면 결합 에너지가 커진다. ( O, × )
- 발열 반응인 기체 반응에서 반응물의 결합 에너지 총합은 생성물의 결합 에너지 총합보다 ( )다.

정답

- 크
- 흡수, 방출
- 반응물, 생성물
- 
- 작

개념 체크


○ 헤스 법칙 : 화학 반응이 일어나는 동안에 반응물의 종류와 상태, 생성물의 종류와 상태가 같으면 반응 경로에 관계없이 반응 엔탈피 총합은 일정하다.

1.  $H_2(g)$  1 mol이  $H(g)$  2 mol이 될 때 에너지를 ( )한다.
2. 화학 반응에서 반응물과 생성물의 ( )와 ( )가 같으면 반응 엔탈피 총합은 ( )에 관계없이 항상 일정하다.
3.  $C(s, \text{흑연})$  1 mol이 완전 연소할 때의 반응 엔탈피 ( $\Delta H$ )는  $CO_2(g)$ 의 ( )와 같다.

[1단계] 반응물의 결합이 끊어지는 과정



[2단계] 생성물의 결합이 생성되는 과정



• 반응 엔탈피( $\Delta H$ ) : 전체 반응은 1단계와 2단계 반응의 합이다.

$$\Delta H = \Delta H_1 + \Delta H_2 = 679 + (-864) = -185 \text{ kJ}$$

염화 수소(HCl)의 생성 반응

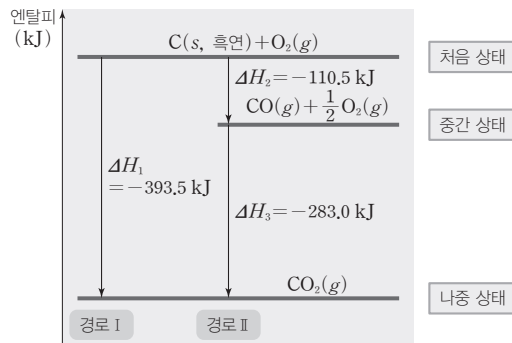


$$\begin{aligned} x &= (\text{반응물의 결합 에너지 총합}) - (\text{생성물의 결합 에너지 총합}) \\ &= (436 + 243) - (2 \times 432) = -185 \end{aligned}$$

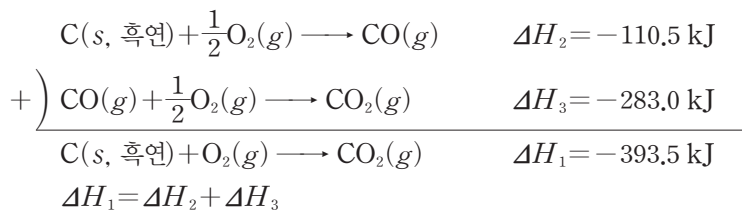
5 헤스 법칙

(1) 헤스 법칙 : 화학 반응이 일어나는 동안에 반응물의 종류와 상태, 생성물의 종류와 상태가 같으면 반응 경로에 관계없이 반응 엔탈피의 총합은 일정하다. 이를 헤스 법칙이라고 한다.

① 탄소의 연소 반응



- 경로 I : 탄소가 연소하여 직접 이산화 탄소가 되는 과정  
 $C(s, \text{흑연}) + O_2(g) \longrightarrow CO_2(g) \quad \Delta H_1 = -393.5 \text{ kJ}$
- 경로 II : 탄소가 연소하여 일산화 탄소가 되었다가 이산화 탄소가 되는 과정  
 $C(s, \text{흑연}) + \frac{1}{2}O_2(g) \longrightarrow CO(g) \quad \Delta H_2 = -110.5 \text{ kJ}$   
 $CO(g) + \frac{1}{2}O_2(g) \longrightarrow CO_2(g) \quad \Delta H_3 = -283.0 \text{ kJ}$
- 경로 II의 반응 엔탈피의 합은  $\Delta H_2 + \Delta H_3 = (-110.5) + (-283.0) = -393.5 \text{ kJ}$ 로 경로 I의 반응 엔탈피  $\Delta H_1 = -393.5 \text{ kJ}$ 와 같다. 따라서 처음 물질과 나중 물질의 종류와 상태가 같으면 반응 경로에 관계없이 출입하는 에너지는 같다.

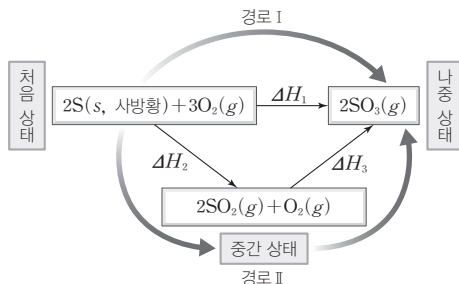


정답

1. 흡수
2. 종류, 상태, 반응 경로
3. 생성 엔탈피



## ② 황의 연소 반응



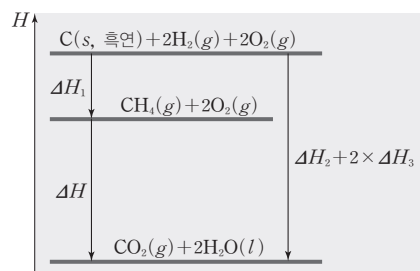
- 경로 I : 황이 연소되어 직접 삼산화 황으로 되는 과정  
 $2S(s, \text{사방황}) + 3O_2(g) \longrightarrow 2SO_3(g) \quad \Delta H_1$
- 경로 II : 황이 이산화 황이 되었다가 삼산화 황으로 되는 과정  
 $2S(s, \text{사방황}) + 2O_2(g) \longrightarrow 2SO_2(g) \quad \Delta H_2$   
 $2SO_2(g) + O_2(g) \longrightarrow 2SO_3(g) \quad \Delta H_3$
- S(s, 사방황)은 경로 I을 통해 SO<sub>3</sub>(g)이 될 수도, 경로 II를 통해 SO<sub>2</sub>(g)이 되었다가 SO<sub>3</sub>(g)이 될 수도 있다.
- 경로 I 과 경로 II의 처음 상태는 모두 S(s, 사방황), O<sub>2</sub>(g)이고, 나중 상태는 모두 SO<sub>3</sub>(g)으로 같다.
- 경로 I의 반응 엔탈피와 경로 II의 반응 엔탈피의 합이 같다.  $\Rightarrow \Delta H_1 = \Delta H_2 + \Delta H_3$

## 개념 체크

● 반응 엔탈피는 생성물의 생성 엔탈피 합에서 반응물의 생성 엔탈피 합을 뺀 값과 같다.

1. 황이 연소되어 삼산화 황이 되는 반응은 발열 반응이다. (○, ×)
2. CO<sub>2</sub>(g)의 생성 엔탈피(ΔH)는 0보다 ( )다.
3. 발열 반응은 반응물의 생성 엔탈피 합이 생성물의 생성 엔탈피 합보다 ( )다.

## 과학 돋보기 생성 엔탈피와 헤스 법칙을 이용하여 반응 엔탈피(ΔH) 구하기

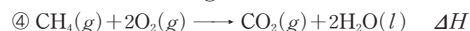


25°C, 1 atm에서 다음 3가지 물질이 생성되는 열화학 반응식은 다음과 같다.

- ① C(s, 흑연) + 2H<sub>2</sub>(g)  $\longrightarrow$  CH<sub>4</sub>(g)  $\Delta H_1$
- ② C(s, 흑연) + O<sub>2</sub>(g)  $\longrightarrow$  CO<sub>2</sub>(g)  $\Delta H_2$
- ③ H<sub>2</sub>(g) +  $\frac{1}{2}$ O<sub>2</sub>(g)  $\longrightarrow$  H<sub>2</sub>O(l)  $\Delta H_3$

ΔH<sub>1</sub>, ΔH<sub>2</sub>, ΔH<sub>3</sub>은 각각 CH<sub>4</sub>(g), CO<sub>2</sub>(g), H<sub>2</sub>O(l)의 생성 엔탈피이다.

25°C, 1 atm에서 CH<sub>4</sub>(g) 연소 반응의 열화학 반응식은 다음과 같다.



헤스 법칙을 이용하면 ④ = ② + 2 × ③ - ①이므로  $\Delta H = \Delta H_2 + 2 \times \Delta H_3 - \Delta H_1$ 이다.

$\Rightarrow \Delta H_2 + 2 \times \Delta H_3$ 은 생성물의 생성 엔탈피 합이고,  $\Delta H_1$ 은 반응물의 생성 엔탈피 합이므로 반응 엔탈피는 다음과 같다.

$$\text{반응 엔탈피}(\Delta H) = \text{생성물의 생성 엔탈피 합} - \text{반응물의 생성 엔탈피 합}$$

정답

1. ○
2. 작
3. 크

개념 체크

● **중화 엔탈피** : 산의  $H^+(aq)$  1 mol과 염기의  $OH^-(aq)$  1 mol이 중화 반응하여 1 mol의  $H_2O(l)$ 이 생성될 때의 반응 엔탈피이다.

1. 수산화 나트륨 ( $NaOH(s)$ ) 이 물에 용해될 때는 열을 ( )하므로 수용액의 온도는 ( )아진다.

2. 중화 반응의 반응 엔탈피 ( $\Delta H$ )는 음수이다. ( O, X )

탐구자료 살펴보기 에서

3. 실험 III에서는 중화 반응만 일어난다. ( O, X )

탐구자료 살펴보기 헤스 법칙 확인

실험 과정

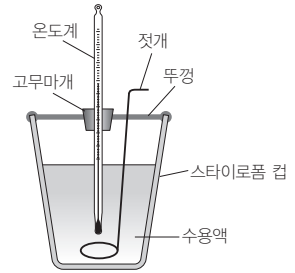
[실험 I] 스타이로폼 컵에 물 100 mL를 넣고 온도를 측정한 후  $NaOH(s)$  2.0 g을 넣고 젓개로 저어 완전히 녹인 후 최고 온도를 측정한다.

[실험 II] 1 M  $NaOH(aq)$  50 mL를 비커에 넣고 25°C로 식히고, 다른 비커에 25°C, 1 M  $HCl(aq)$  50 mL를 넣은 다음 두 용액을 스타이로폼 컵에 넣고 혼합한 후 최고 온도를 측정한다.

[실험 III] 스타이로폼 컵에 0.5 M  $HCl(aq)$  100 mL를 넣고 온도를 측정한 후  $NaOH(s)$  2.0 g을 넣고 젓개로 저어 완전히 녹인 후 용액의 최고 온도를 측정한다.

[자료] 모든 용액의 부피와 밀도, 비열이 동일하다.

- $NaOH$ 의 화학식량 : 40
- 용액의 부피 : 100 mL
- 용액의 밀도 : 1.02 g/mL
- 용액의 비열 :  $4.2 J/(g \cdot ^\circ C)$



실험 결과

실험	처음 온도(°C)	최고 온도(°C)
I	25.0	30.0
II	25.0	31.4
III	25.0	36.4

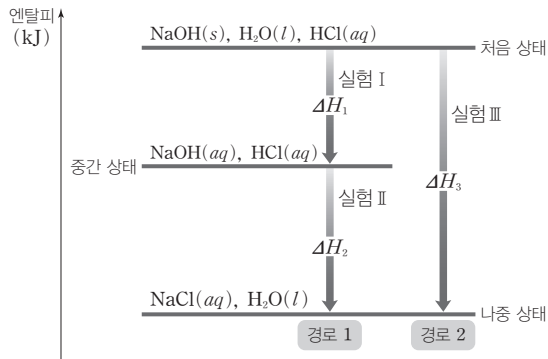
분석 Point

• 반응 엔탈피 계산

실험	열화학 반응식	반응 엔탈피 계산
I	$NaOH(s) \longrightarrow NaOH(aq)$ $\Delta H_1$	$\Delta H_1 = -\frac{4.2 J/(g \cdot ^\circ C) \times 102 g \times 5.0^\circ C}{\frac{2 g}{40 g/mol}} = -42.84 kJ/mol$
II	$NaOH(aq) + HCl(aq) \longrightarrow NaCl(aq) + H_2O(l)$ $\Delta H_2$	$\Delta H_2 = -\frac{4.2 J/(g \cdot ^\circ C) \times 102 g \times 6.4^\circ C}{\frac{50}{1000} mol} \approx -54.84 kJ/mol$
III	$NaOH(s) + HCl(aq) \longrightarrow NaCl(aq) + H_2O(l)$ $\Delta H_3$	$\Delta H_3 = -\frac{4.2 J/(g \cdot ^\circ C) \times 102 g \times 11.4^\circ C}{\frac{50}{1000} mol} \approx -97.68 kJ/mol$

→ 실험 I 과 II 의 반응 엔탈피 합은 실험 III 의 반응 엔탈피와 같다. ∴  $\Delta H_1 + \Delta H_2 = \Delta H_3$

•  $NaOH(aq)$ 과  $HCl(aq)$ 의 반응에서 반응 경로에 따른 엔탈피 변화는 다음과 같다.



→ 경로 1과 경로 2의 처음 상태와 나중 상태가 같으므로 실험 I 과 실험 II 의 반응 엔탈피 합은 실험 III 의 반응 엔탈피와 같다.

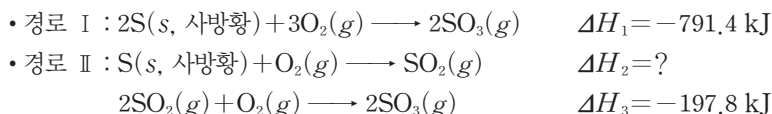
정답

- 1. 방출, 높
- 2. O
- 3. X

(2) **헤스 법칙의 이용** : 화학 반응의 반응 엔탈피를 직접 측정하기 어려운 경우 헤스 법칙을 이용한다.

- ① 구하고자 하는 반응의 열화학 반응식을 적는다.
- ② 주어진거나 변형한 열화학 반응식을 더하거나 빼서 반응 엔탈피를 구한다.

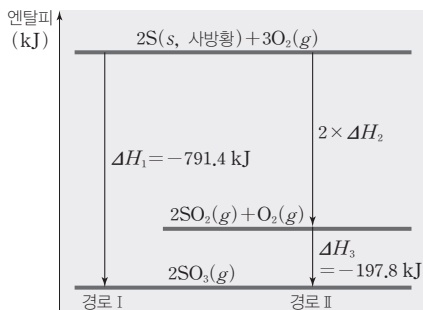
㉮ 헤스 법칙을 이용한 이산화 황( $\text{SO}_2(g)$ )의 생성 엔탈피( $\Delta H$ ) 구하기



➔ 경로 I의 반응 엔탈피와 경로 II의 반응 엔탈피의 합이 같으므로  $\Delta H_1 = 2 \times \Delta H_2 + \Delta H_3$

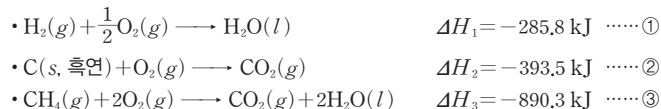
에서  $\Delta H_2 = \frac{1}{2}(\Delta H_1 - \Delta H_3)$ 이다.

따라서  $\Delta H_2 = \frac{1}{2}[-791.4 - (-197.8)] = -296.8 \text{ kJ}$ 이므로  $\text{SO}_2(g)$ 의 생성 엔탈피( $\Delta H$ )는  $-296.8 \text{ kJ/mol}$ 이다.

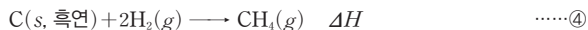


### 과학 돋보기 헤스 법칙의 이용

다음의 열화학 반응식을 이용하여 메테인( $\text{CH}_4$ )의 생성 엔탈피( $\Delta H$ )를 구해 보자.



[1단계] 구하고자 하는 반응의 열화학 반응식을 적는다.



[2단계] 구하고자 하는 화학 반응식에 있는 물질의 계수와 주어진 열화학 반응식의 계수를 맞춘다.

- ④에서  $\text{C}(s, \text{흑연})$ 의 계수는 1이다. ②에서도  $\text{C}(s, \text{흑연})$ 의 계수는 1이고 반응식에서 같은 쪽에 있으므로 ②×1
- ④에서  $\text{H}_2(g)$ 의 계수는 2이다. ①에서  $\text{H}_2(g)$ 의 계수는 1이고 반응식에서 같은 쪽에 있으므로 ①×2
- ④에서  $\text{CH}_4(g)$ 의 계수는 1이다. ③에서도  $\text{CH}_4(g)$ 의 계수는 1이지만 반응식에서 반대 쪽에 있으므로 ③×(-1)

[3단계] 주어진거나 변형한 열화학 반응식을 모두 더하여 반응 엔탈피를 구한다.

$\text{CH}_4(g)$ 의 생성 화학 반응식=①×2+②×1+③×(-1)

$$\begin{aligned} \text{CH}_4(g) \text{의 생성 엔탈피 } \Delta H &= \Delta H_1 \times 2 + \Delta H_2 \times 1 + \Delta H_3 \times (-1) \\ &= [(-285.8) \times 2] + [(-393.5) \times 1] + [(-890.3) \times (-1)] \\ &= -74.8 \text{ kJ/mol} \end{aligned}$$

### 개념 체크

● 헤스 법칙의 이용 : 화학 반응의 반응 엔탈피를 직접 측정하기 어려운 경우 헤스 법칙을 이용한다.

1.  $\text{SO}_3(g)$ 의 생성 엔탈피( $\Delta H$ )는  $-791.4 \text{ kJ/mol}$ 이다. (○, ×)
2.  $\text{S}(s, \text{사방황})$ 이 연소하여  $\text{SO}_2(g)$ 이 될 때 열에너지를 ( )한다.
3. 화학 반응에서 반응물의 생성 엔탈피와 ( )를 알면 반응 엔탈피를 구할 수 있다.

정답

1. ×
2. 방출
3. 생성물의 생성 엔탈피

기출문제 다시보기

반응 엔탈피와 생성 엔탈피

2022학년도 대수능

다음은 25°C, 1 atm에서 H<sub>2</sub>O와 관련된 3가지 열화학 반응식이다.

- H<sub>2</sub>O(g) → H<sub>2</sub>O(l)            ΔH = -44 kJ
- 2H<sub>2</sub>O(g) → 2H<sub>2</sub>(g) + O<sub>2</sub>(g)    ΔH = 484 kJ
- 2H<sub>2</sub>O(l) → 2H<sub>2</sub>(g) + O<sub>2</sub>(g)    ΔH = a kJ

25°C, 1 atm에서 이에 대한 설명으로 옳은 것만을 <보기>에서 있는 대로 고른 것은? (단, H<sub>2</sub>O의 화학식량은 18이다.) [3점]

□ 보기 □

- ㄱ. 9g의 H<sub>2</sub>O(g)가 액화될 때 22 kJ의 열이 방출된다.
- ㄴ. H<sub>2</sub>O(g)의 생성 엔탈피는 -484 kJ/mol이다.
- ㄷ. a < 484이다.

- ① ㄱ                      ② ㄴ                      ③ ㄷ                      ④ ㄱ, ㄴ                      ⑤ ㄱ, ㄷ

**해설** ㄱ. H<sub>2</sub>O 1 mol의 질량은 18g이고, H<sub>2</sub>O(g) 1 mol이 H<sub>2</sub>O(l)이 될 때 44 kJ의 열이 방출되므로 H<sub>2</sub>O(g) 0.5 mol인 9g이 액화될 때 22 kJ의 열이 방출된다.

ㄴ. 생성 엔탈피는 성분 원소의 안정한 물질로부터 1 mol이 생성될 때의 반응 엔탈피로 H<sub>2</sub>O(g)의 생성 엔탈피는 H<sub>2</sub>(g) + 1/2 O<sub>2</sub>(g) → H<sub>2</sub>O(g)의 반응 엔탈피이다. 따라서 H<sub>2</sub>O(g)의 생성 엔탈피는 -242 kJ/mol이다.

ㄷ. 헤스 법칙에 따라 a = 484 - 2 × (-44) = 572이다.

답 ①

기출문제 다시보기

반응 엔탈피와 결합 에너지

2022학년도 9월 모의평가

다음은 25°C, 1 atm에서 2가지 열화학 반응식과 4가지 결합의 결합 에너지이다.

- CH<sub>4</sub>(g) + 2O<sub>2</sub>(g) → CO<sub>2</sub>(g) + 2H<sub>2</sub>O(l)    ΔH = x kJ
- H<sub>2</sub>O(g) → H<sub>2</sub>O(l)                            ΔH = -44 kJ

결합	C-H	C=O	O=O	H-O
결합 에너지(kJ/mol)	410	799	498	460

이 자료로부터 구한 x는?

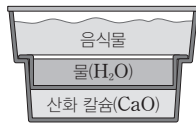
- ① -714                      ② -758                      ③ -846                      ④ -890                      ⑤ -934

**해설** 헤스 법칙에 따라 CH<sub>4</sub>(g) + 2O<sub>2</sub>(g) → CO<sub>2</sub>(g) + 2H<sub>2</sub>O(g) ΔH = (x + 88) kJ이다. 기체 반응에서 반응 엔탈피는 반응물의 결합 에너지 총합에서 생성물의 결합 에너지 총합을 뺀 값과 같다. 따라서 이 반응의 반응 엔탈피 ΔH = [4 × (C-H의 결합 에너지) + 2 × (O=O의 결합 에너지)] - [2 × (C=O의 결합 에너지) + 4 × (H-O의 결합 에너지)]이므로 x + 88 = (4 × 410 + 2 × 498) - (2 × 799 + 4 × 460)이고, x = -890이다.

답 ④

01 [22028-0085] 다음은 발열 도시락에 대한 설명이다.

발열 도시락은 음식물이 담긴 용기 밑 부분에 산화 칼슘(CaO)과 물이 들어 있다. 간단한 조작으로



㉠ 물과 CaO이 섞여 반응하면 음식물이 데워진다.

㉠에 대한 설명으로 옳은 것만을 <보기>에서 있는 대로 고른 것은?

보기

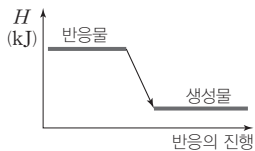
- ㄱ. 발열 반응이다.
- ㄴ. 주위의 온도가 높아진다.
- ㄷ. 엔탈피 합은 생성물이 반응물보다 크다.

- ① ㄱ      ② ㄴ      ③ ㄷ      ④ ㄱ, ㄴ      ⑤ ㄱ, ㄷ

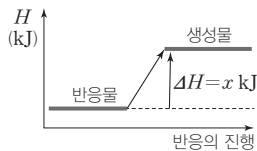
02 [22028-0086] 다음은 반응 (가), (나)에 대한 자료와 25°C, 1 atm에서 (가), (나)의 엔탈피(H) 변화를 순서에 관계없이 나타낸 것이다.

(가) 물에 질산 암모늄(NH<sub>4</sub>NO<sub>3</sub>)을 녹였더니 수용액의 온도가 낮아졌다.

(나) 물에 수산화 나트륨(NaOH)을 녹였더니 수용액의 온도가 높아졌다.



㉠



㉡

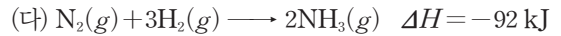
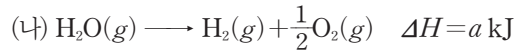
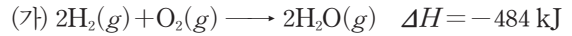
25°C, 1 atm에서 이에 대한 설명으로 옳은 것만을 <보기>에서 있는 대로 고른 것은?

보기

- ㄱ. ㉠은 (가)의 엔탈피 변화이다.
- ㄴ. ㉡에서  $x > 0$ 이다.
- ㄷ. (나)에서 엔탈피는 [NaOH(s) + H<sub>2</sub>O(l)]이 NaOH(aq)보다 크다.

- ① ㄱ      ② ㄴ      ③ ㄱ, ㄷ      ④ ㄴ, ㄷ      ⑤ ㄱ, ㄴ, ㄷ

03 [22028-0087] 다음은 25°C, 1 atm에서 3가지 반응의 열화학 반응식이다.



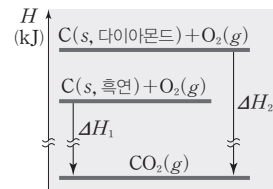
(가)~(다)에 대한 설명으로 옳은 것만을 <보기>에서 있는 대로 고른 것은?

보기

- ㄱ. (나)에서  $a = -242$ 이다.
- ㄴ. 엔탈피가 감소하는 반응은 2가지이다.
- ㄷ. (다)에서 엔탈피의 합은 반응물이 생성물보다 크다.

- ① ㄱ      ② ㄴ      ③ ㄷ  
④ ㄱ, ㄴ      ⑤ ㄴ, ㄷ

04 [22028-0088] 그림은 25°C, 1 atm에서 C와 관련된 2가지 반응의 엔탈피(H) 변화를 나타낸 것이다.



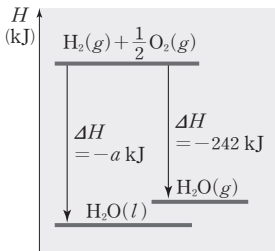
25°C, 1 atm에서 이에 대한 설명으로 옳은 것만을 <보기>에서 있는 대로 고른 것은? (단, C(s, 흑연), O<sub>2</sub>(g)의 생성 엔탈피(ΔH)는 0이다.)

보기

- ㄱ. 1 mol을 완전 연소시킬 때 발생하는 에너지는 C(s, 흑연)이 C(s, 다이아몬드)보다 크다.
- ㄴ. CO<sub>2</sub>(g)의 생성 엔탈피(ΔH)는 ΔH<sub>1</sub> kJ/mol이다.
- ㄷ. C(s, 다이아몬드)의 생성 엔탈피(ΔH)는  $(-\Delta H_1 + \Delta H_2)$  kJ/mol이다.

- ① ㄱ      ② ㄴ      ③ ㄱ, ㄴ  
④ ㄱ, ㄷ      ⑤ ㄴ, ㄷ

05 [22028-0089] 그림은 25°C, 1 atm에서 H<sub>2</sub>(g)와 O<sub>2</sub>(g)가 반응하여 수증기와 물이 생성될 때의 엔탈피(H) 변화를 나타낸 것이다.

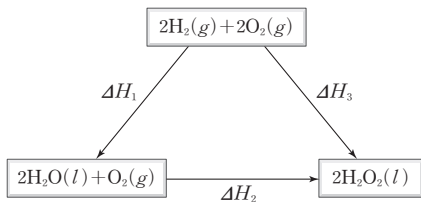


25°C, 1 atm에서 이에 대한 설명으로 옳은 것만을 <보기>에서 있는 대로 고른 것은? (단, H<sub>2</sub>(g), O<sub>2</sub>(g)의 생성 엔탈피(ΔH)는 0이다.)

- 보기
- ㄱ.  $a < 242$ 이다.
  - ㄴ. 생성 엔탈피(ΔH)는 H<sub>2</sub>O(l)이 H<sub>2</sub>O(g)보다 크다.
  - ㄷ. H<sub>2</sub>O(g) → H<sub>2</sub>O(l)은 발열 반응이다.

- ① ㄴ    ② ㄷ    ③ ㄱ, ㄴ    ④ ㄱ, ㄷ    ⑤ ㄴ, ㄷ

06 [22028-0090] 그림은 25°C, 1 atm에서 수소, 산소와 관련된 반응의 반응 엔탈피(ΔH)를 나타낸 것이다.



25°C, 1 atm에서 이에 대한 설명으로 옳은 것만을 <보기>에서 있는 대로 고른 것은? (단, H<sub>2</sub>(g), O<sub>2</sub>(g)의 생성 엔탈피(ΔH)는 0이다.)

- 보기
- ㄱ.  $\Delta H_2 = \Delta H_3 - \Delta H_1$ 이다.
  - ㄴ. H<sub>2</sub>O<sub>2</sub>(l)의 생성 엔탈피(ΔH)는  $\frac{1}{2}\Delta H_3$ 이다.
  - ㄷ. H<sub>2</sub>(g) +  $\frac{1}{2}$ O<sub>2</sub>(g) → H<sub>2</sub>O(l)의 반응 엔탈피(ΔH)는 ΔH<sub>1</sub>이다.

- ① ㄱ    ② ㄷ    ③ ㄱ, ㄴ    ④ ㄴ, ㄷ    ⑤ ㄱ, ㄴ, ㄷ

07 [22028-0091] 다음은 염화 나트륨(NaCl)의 용해와 관련된 반응의 열화학 반응식과 실험이다. t<sub>1</sub> > t<sub>2</sub>이다.

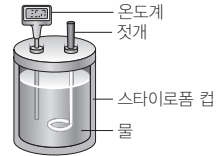
[열화학 반응식]



[실험 과정 및 결과]

(가) 그림과 같이 간이 열량계에 물 100 g을 넣고 온도를 측정하였더니 t<sub>1</sub>°C 이었다.

(나) (가)의 간이 열량계에 t<sub>1</sub>°C의 NaCl(s) w g을 넣고 모두 녹인 다음 수용액의 온도를 측정하였더니 t<sub>2</sub>°C이었다.

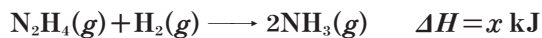


이에 대한 설명으로 옳은 것만을 <보기>에서 있는 대로 고른 것은?

- 보기
- ㄱ.  $x > 0$ 이다.
  - ㄴ. NaCl(s)이 물에 용해될 때 수용액의 온도는 낮아진다.
  - ㄷ. 실험과 같은 조건에서 0.5 mol의 NaCl(s)이 물에 용해될 때의 반응 엔탈피(ΔH)는  $\frac{x}{2}$  kJ이다.

- ① ㄱ    ② ㄷ    ③ ㄱ, ㄴ  
④ ㄴ, ㄷ    ⑤ ㄱ, ㄴ, ㄷ

08 [22028-0092] 다음은 25°C, 1 atm에서 NH<sub>3</sub>(g)와 관련된 열화학 반응식과 2가지 물질의 생성 엔탈피(ΔH)이다.

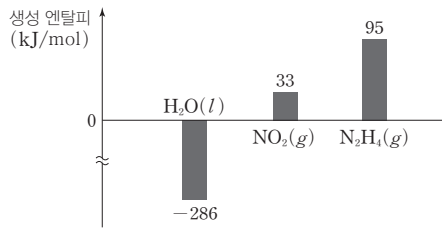


물질	NH <sub>3</sub> (g)	N <sub>2</sub> H <sub>4</sub> (g)
생성 엔탈피(kJ/mol)	-46	95

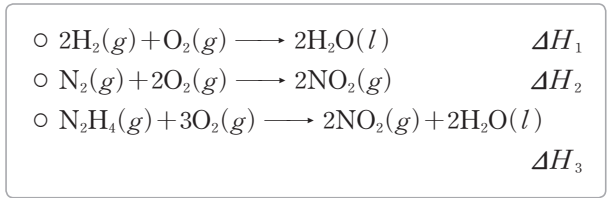
x는? (단, H<sub>2</sub>(g)의 생성 엔탈피(ΔH)는 0이다.)

- ① -187    ② -141    ③ -92  
④ 141    ⑤ 187

**09** [22028-0093] 그림은 25°C, 1 atm에서 3가지 물질의 생성 엔탈피 ( $\Delta H$ )를 나타낸 것이다.



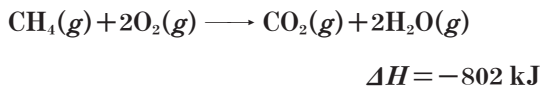
다음은 25°C, 1 atm에서 3가지 반응의 열화학 반응식이다.



$\Delta H_1 + \Delta H_2 + \Delta H_3$ 는? (단, H<sub>2</sub>(g), N<sub>2</sub>(g), O<sub>2</sub>(g)의 생성 엔탈피( $\Delta H$ )는 0이다.)

- ① -1107 kJ      ② -1012 kJ      ③ -601 kJ  
 ④ -506 kJ      ⑤ 95 kJ

**10** [22028-0094] 다음은 25°C, 1 atm에서 CH<sub>4</sub>(g)의 연소 반응의 열화학 반응식과 4가지 결합의 결합 에너지이다.

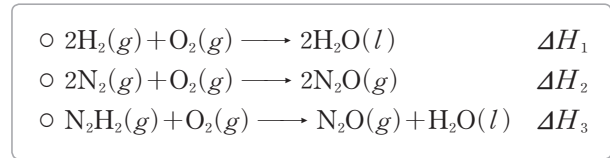


결합	C-H	O=O	C=O	H-O
결합 에너지 (kJ/mol)	410	498	$x$	460

이 자료로부터 구한  $x$ 는?

- ① 615      ② 799      ③ 812  
 ④ 1116      ⑤ 1154

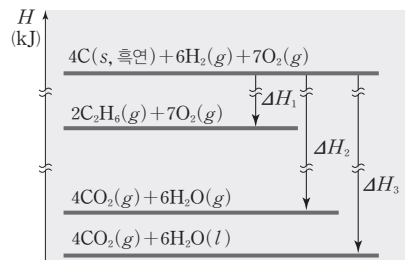
**11** [22028-0095] 다음은 25°C, 1 atm에서 3가지 반응의 열화학 반응식이다.



25°C, 1 atm에서 N<sub>2</sub>H<sub>2</sub>(g)의 생성 엔탈피( $\Delta H$ )는? (단, H<sub>2</sub>(g), N<sub>2</sub>(g), O<sub>2</sub>(g)의 생성 엔탈피( $\Delta H$ )는 0이다.)

- ①  $\frac{\Delta H_1 + \Delta H_2 - 2\Delta H_3}{2}$   
 ②  $\frac{-\Delta H_1 - \Delta H_2 + 2\Delta H_3}{2}$   
 ③  $\Delta H_1 + \Delta H_2 - \Delta H_3$   
 ④  $-\Delta H_1 - \Delta H_2 + \Delta H_3$   
 ⑤  $\Delta H_1 + \Delta H_2 - 2\Delta H_3$

**12** [22028-0096] 그림은 25°C, 1 atm에서 몇 가지 반응에 대한 엔탈피 ( $H$ ) 변화를 나타낸 것이다.



25°C, 1 atm에서 이에 대한 설명으로 옳은 것만을 <보기>에서 있는 대로 고른 것은? (단, H<sub>2</sub>(g), C(s, 흑연), O<sub>2</sub>(g)의 생성 엔탈피( $\Delta H$ )는 0이다.)

보기

ㄱ. C<sub>2</sub>H<sub>6</sub>(g)의 생성 엔탈피( $\Delta H$ )는  $\frac{\Delta H_1}{2}$  kJ/mol이다.  
 ㄴ. 2 mol의 CO<sub>2</sub>(g)와 3 mol의 H<sub>2</sub>O(g)의 결합 에너지의 총합은  $-\frac{\Delta H_2}{2}$  kJ이다.  
 ㄷ. H<sub>2</sub>O(l)  $\longrightarrow$  H<sub>2</sub>O(g)의 반응 엔탈피( $\Delta H$ )는  $\frac{-\Delta H_2 + \Delta H_3}{6}$  kJ이다.

- ① ㄱ      ② ㄴ      ③ ㄱ, ㄷ  
 ④ ㄴ, ㄷ      ⑤ ㄱ, ㄴ, ㄷ

(가)~(다)의 반응은 모두 에너지가 방출되는 발열 반응이고, 반응 엔탈피  $\Delta H < 0$ 이다.

반응 엔탈피( $\Delta H$ )는 생성물의 생성 엔탈피( $\Delta H$ ) 합에서 반응물의 생성 엔탈피( $\Delta H$ ) 합을 뺀 값과 같다.

01 [22028-0097] 표는 1 atm에서 3가지 발열 반응 (가)~(다)에 대한 실험이다.

반응	실험 과정	방출하는 에너지 (kJ)
(가)	25°C 증류수 100 mL가 들어 있는 간이 열량계에 25°C NaOH(s) 2 g을 녹인 후 최고 온도( $t_1$ )를 측정한다.	$Q_1$
(나)	25°C 0.5 M HCl(aq) 100 mL가 들어 있는 간이 열량계에 25°C NaOH(s) 2 g을 녹인 후 최고 온도( $t_2$ )를 측정한다.	$Q_2$
(다)	25°C 1 M HCl(aq) 50 mL가 들어 있는 간이 열량계에 25°C 1 M NaOH(aq) 50 mL를 넣고 최고 온도( $t_3$ )를 측정한다.	$Q_3$

이에 대한 설명으로 옳은 것만을 <보기>에서 있는 대로 고른 것은? (단, NaOH의 화학식량은 40이고, (가)~(다)에서 반응 후 수용액의 열용량은 모두 같으며, 발생한 열량은 모두 수용액에 흡수되었다.)

보기

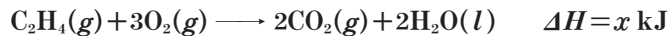
ㄱ.  $t_2 > t_3$ 이다.

ㄴ.  $Q_2 = Q_1 + Q_3$ 이다.

ㄷ. 25°C에서  $\text{NaOH}(s) \rightarrow \text{NaOH}(aq)$ 의 반응 엔탈피( $\Delta H$ )는  $-20Q_1$  kJ이다.

- ① ㄱ                      ② ㄷ                      ③ ㄱ, ㄴ                      ④ ㄴ, ㄷ                      ⑤ ㄱ, ㄴ, ㄷ

02 [22028-0098] 다음은 25°C, 1 atm에서  $\text{C}_2\text{H}_4(g)$ 의 연소 반응의 열화학 반응식과 4가지 물질의 생성 엔탈피( $\Delta H$ )이다.



물질	$\text{CH}_4(g)$	$\text{C}_2\text{H}_4(g)$	$\text{CO}_2(g)$	$\text{H}_2\text{O}(l)$
생성 엔탈피(kJ/mol)	-74	$a$	$b$	-286

25°C, 1 atm에서 이에 대한 설명으로 옳은 것만을 <보기>에서 있는 대로 고른 것은? (단, H, C의 원자량은 각각 1, 12이고,  $\text{O}_2(g)$ 의 생성 엔탈피( $\Delta H$ )는 0이다.)

보기

ㄱ.  $x = a - 2b + 572$ 이다.

ㄴ. C=O의 결합 에너지는  $-\frac{b}{2}$  kJ/mol이다.

ㄷ.  $\text{CH}_4(g)$  8 g이 완전 연소되어  $\text{CO}_2(g)$ 와  $\text{H}_2\text{O}(l)$ 이 생성될 때 방출하는 열에너지는  $(249 - \frac{b}{2})$  kJ이다.

- ① ㄱ                      ② ㄷ                      ③ ㄱ, ㄴ                      ④ ㄱ, ㄷ                      ⑤ ㄴ, ㄷ



03 [22028-0099]

표는 25°C, 1 atm에서 3가지 물질의 연소 반응에 대한 자료이다. 각 물질의 연소 생성물은 H<sub>2</sub>O(l), CO<sub>2</sub>(g) 외에는 없다.

물질	H <sub>2</sub> (g)	C(s, 흑연)	CH <sub>4</sub> (g)
연소된 질량(g)	4	4	8
방출한 에너지(kJ)	a	b	c

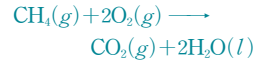
25°C, 1 atm에서 이에 대한 설명으로 옳은 것만을 <보기>에서 있는 대로 고른 것은? (단, H, C의 원자량은 각각 1, 12이고, H<sub>2</sub>(g), C(s, 흑연), O<sub>2</sub>(g)의 생성 엔탈피(ΔH)는 0이다.)

보기

- ㄱ. CO<sub>2</sub>(g)의 생성 엔탈피(ΔH)는 -3b kJ/mol이다.
- ㄴ. CH<sub>4</sub>(g)의 생성 엔탈피(ΔH)는 (-a-3b+2c) kJ/mol이다.
- ㄷ. 1 L를 연소시킬 때 방출하는 열에너지비는 H<sub>2</sub>(g) : CH<sub>4</sub>(g) = a : 4c이다.

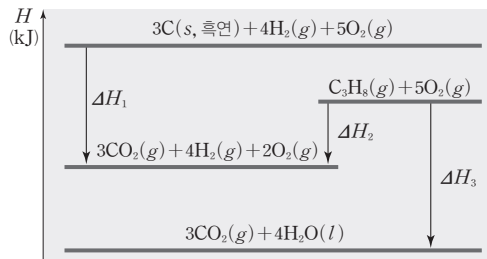
- ① ㄱ      ② ㄷ      ③ ㄱ, ㄴ      ④ ㄴ, ㄷ      ⑤ ㄱ, ㄴ, ㄷ

메테인(CH<sub>4</sub>)의 연소 반응식은 다음과 같다.



04 [22028-0100]

그림은 25°C, 1 atm에서 C<sub>3</sub>H<sub>8</sub>(g)의 연소 반응과 관련된 엔탈피(H) 변화를 나타낸 것이다.



25°C, 1 atm에서 이에 대한 설명으로 옳은 것만을 <보기>에서 있는 대로 고른 것은? (단, H, C, O의 원자량은 각각 1, 12, 16이고, H<sub>2</sub>(g), C(s, 흑연), O<sub>2</sub>(g)의 생성 엔탈피(ΔH)는 0이다.)

보기

- ㄱ. C<sub>3</sub>H<sub>8</sub>(g)의 생성 엔탈피(ΔH)는 (ΔH<sub>1</sub>-ΔH<sub>2</sub>) kJ/mol이다.
- ㄴ. H<sub>2</sub>(g) 4g이 연소되어 H<sub>2</sub>O(l)이 생성되는 반응의 반응 엔탈피(ΔH)는  $\left(\frac{-\Delta H_2 + \Delta H_3}{4}\right)$  kJ이다.
- ㄷ. CO<sub>2</sub>(g)의 생성 엔탈피(ΔH)와 H<sub>2</sub>O(l)의 생성 엔탈피(ΔH)의 합은 (ΔH<sub>1</sub>-ΔH<sub>2</sub>+ΔH<sub>3</sub>) kJ/mol이다.

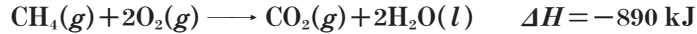
- ① ㄱ      ② ㄷ      ③ ㄱ, ㄴ      ④ ㄴ, ㄷ      ⑤ ㄱ, ㄴ, ㄷ

생성 엔탈피(ΔH)는 가장 안정한 원소로부터 물질 1 mol이 생성될 때의 반응 엔탈피(ΔH)이다.

기체 반응에서 반응 엔탈피 ( $\Delta H$ )는 반응물의 결합 에너지의 총합에서 생성물의 결합 에너지의 총합을 뺀 값과 같다.

생성 엔탈피( $\Delta H$ )는 가장 안정한 원소로부터 물질 1mol이 생성될 때의 반응 엔탈피( $\Delta H$ )이고, 반응 엔탈피( $\Delta H$ )는 생성물의 생성 엔탈피( $\Delta H$ ) 합에서 반응물의 생성 엔탈피( $\Delta H$ ) 합을 뺀 값과 같다.

05 [22028-0101] 다음은  $25^\circ\text{C}$ ,  $1\text{ atm}$ 에서  $\text{CH}_4(g)$ 의 연소 반응의 열화학 반응식과 4가지 결합의 결합 에너지이다.



결합	C=O	C-H	H-H	O=O
결합 에너지(kJ/mol)	$a$	$b$	$c$	$d$

$25^\circ\text{C}$ ,  $1\text{ atm}$ 에서 이에 대한 설명으로 옳은 것만을 <보기>에서 있는 대로 고른 것은? (단, H, C의 원자량은 각각 1, 12이고,  $\text{H}_2(g)$ ,  $\text{O}_2(g)$ 의 생성 엔탈피( $\Delta H$ )는 0이다.)

보기

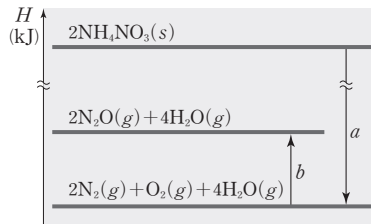
ㄱ.  $\text{CH}_4(g)$  8 g을 완전 연소시킬 때 방출하는 에너지는 445 kJ이다.

ㄴ. 주어진 자료를 이용하여 O-H의 결합 에너지를 구할 수 있다.

ㄷ. 이 자료로부터 구한  $\text{H}_2\text{O}(l)$ 의 생성 엔탈피( $\Delta H$ )는  $(a - 2b + c - \frac{d}{2} - 445)$  kJ/mol이다.

- ① ㄱ                      ② ㄴ                      ③ ㄱ, ㄷ                      ④ ㄴ, ㄷ                      ⑤ ㄱ, ㄴ, ㄷ

06 [22028-0102] 그림은  $25^\circ\text{C}$ ,  $1\text{ atm}$ 에서  $\text{NH}_4\text{NO}_3(s)$ 과 관련된 몇 가지 반응의 엔탈피( $H$ ) 변화를 나타낸 것이다.  $\text{H}_2\text{O}(g)$ 의 생성 엔탈피( $\Delta H$ )는  $c$  kJ/mol이다.



$25^\circ\text{C}$ ,  $1\text{ atm}$ 에서 이에 대한 설명으로 옳은 것만을 <보기>에서 있는 대로 고른 것은? (단,  $\text{H}_2(g)$ ,  $\text{N}_2(g)$ ,  $\text{O}_2(g)$ 의 생성 엔탈피( $\Delta H$ )는 0이다.)

보기

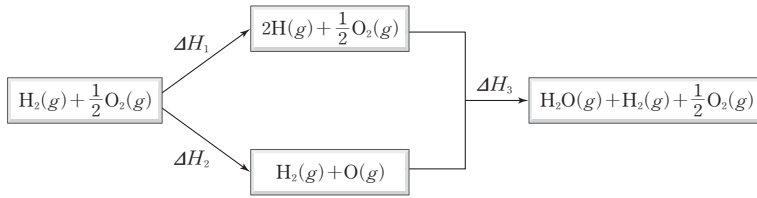
ㄱ. O-H의 결합 에너지는  $-\frac{c}{2}$  kJ/mol이다.

ㄴ.  $\text{NH}_4\text{NO}_3(s)$ 의 생성 엔탈피( $\Delta H$ )는  $-\frac{a+4c}{2}$  kJ/mol이다.

ㄷ.  $\text{NH}_4\text{NO}_3(s) \longrightarrow \text{N}_2\text{O}(g) + 2\text{H}_2\text{O}(l)$ 의 반응 엔탈피( $\Delta H$ )는  $\frac{a+b}{2}$  kJ보다 작다.

- ① ㄱ                      ② ㄴ                      ③ ㄷ                      ④ ㄱ, ㄴ                      ⑤ ㄴ, ㄷ

07 [22028-0103] 그림은 25°C, 1 atm에서 몇 가지 반응의 엔탈피( $H$ ) 변화를 나타낸 것이다.

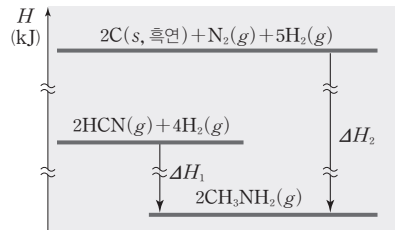


25°C, 1 atm에서 O—O의 결합 에너지가  $a$  kJ/mol일 때,  $\text{H}_2(g) + \text{O}_2(g) \longrightarrow \text{H}_2\text{O}_2(g)$ 의 반응 엔탈피( $\Delta H$ )는? (단,  $\text{H}_2(g)$ ,  $\text{O}_2(g)$ 의 생성 엔탈피( $\Delta H$ )는 0이다.)

- ①  $\Delta H_1 + \Delta H_2 + \Delta H_3 - a$                       ②  $\Delta H_1 + \Delta H_2 - \Delta H_3 - a$
- ③  $\Delta H_1 + 2\Delta H_2 + \Delta H_3 - a$                       ④  $\Delta H_1 + 2\Delta H_2 - \Delta H_3 - a$
- ⑤  $\Delta H_1 + 2\Delta H_2 + 2\Delta H_3 - a$

결합 에너지는 기체 상태의 물질을 구성하는 원자 사이의 공유 결합 1 mol을 끊는 데 필요한 에너지이므로 결합이 형성될 때의 반응 엔탈피( $\Delta H$ )는 결합 에너지와 크기가 같고 부호가 반대이다.

08 [22028-0104] 그림은 25°C, 1 atm에서  $\text{HCN}(g)$ 와 관련된 몇 가지 반응의 엔탈피( $H$ ) 변화를 나타낸 것이고, 표는 이와 관련된 5가지 결합의 결합 에너지이다.



결합	H—H	C—H	C≡N	C—N	N—H
결합 에너지 (kJ/mol)	436	410	$a$	$b$	390

25°C, 1 atm에서 이에 대한 설명으로 옳은 것만을 <보기>에서 있는 대로 고른 것은? (단,  $\text{H}_2(g)$ ,  $\text{C}(s, \text{흑연})$ ,  $\text{N}_2(g)$ 의 생성 엔탈피( $\Delta H$ )는 0이다.)

보기

ㄱ.  $\text{HCN}(g)$ 의 생성 엔탈피( $\Delta H$ )는  $\frac{-\Delta H_1 + \Delta H_2}{2}$  kJ/mol이다.

ㄴ.  $a - b = \frac{\Delta H_1}{2} + 728$ 이다.

ㄷ.  $\text{N}\equiv\text{N}$ 의 결합 에너지를 알면  $\text{NH}_3(g)$ 의 생성 엔탈피( $\Delta H$ )를 구할 수 있다.

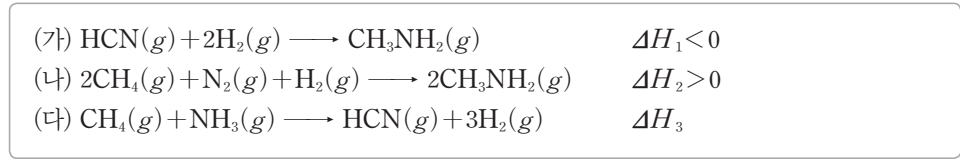
- ① ㄱ                      ② ㄷ                      ③ ㄱ, ㄴ                      ④ ㄴ, ㄷ                      ⑤ ㄱ, ㄴ, ㄷ

기체 반응에서 반응 엔탈피( $\Delta H$ )는 반응물의 결합 에너지의 총합에서 생성물의 결합 에너지의 총합을 뺀 값과 같다.

$\text{NH}_3(g)$ 의 생성 엔탈피 ( $\Delta H$ )는  $\frac{1}{2}\text{N}_2(g) + \frac{3}{2}\text{H}_2(g) \rightarrow \text{NH}_3(g)$ 의 반응 엔탈피( $\Delta H$ )와 같다.

H-I의 결합 에너지는  $\text{HI}(g) \rightarrow \text{H}(g) + \text{I}(g)$ 의 반응 엔탈피( $\Delta H$ )와 같다.

09 [22028-0105] 다음은  $25^\circ\text{C}$ , 1 atm에서 3가지 반응의 열화학 반응식이다.




$25^\circ\text{C}$ , 1 atm에서 이에 대한 설명으로 옳은 것만을 <보기>에서 있는 대로 고른 것은? (단,  $\text{H}_2(g)$ , C(s, 흑연),  $\text{N}_2(g)$ 의 생성 엔탈피( $\Delta H$ )는 0이다.)

보기

ㄱ. (가)에서 생성물의 결합 에너지의 총합은 반응물의 결합 에너지의 총합보다 크다.  
 ㄴ. 생성 엔탈피( $\Delta H$ )는  $\text{CH}_3\text{NH}_2(g)$ 이  $\text{CH}_4(g)$ 보다 크다.  
 ㄷ.  $\text{NH}_3(g)$ 의 생성 엔탈피( $\Delta H$ )는  $(-2\Delta H_1 + \Delta H_2 - 2\Delta H_3)$  kJ/mol이다.

- ① ㄱ                      ② ㄷ                      ③ ㄱ, ㄴ                      ④ ㄴ, ㄷ                      ⑤ ㄱ, ㄴ, ㄷ

10 [22028-0106] 그림은  $25^\circ\text{C}$ , 1 atm에서  $\text{HI}(g)$ 와 관련된 몇 가지 반응의 엔탈피( $H$ ) 변화를 나타낸 것이다.



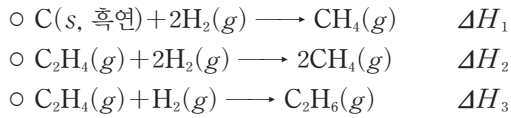
$25^\circ\text{C}$ , 1 atm에서 이에 대한 설명으로 옳은 것만을 <보기>에서 있는 대로 고른 것은? (단,  $\text{H}_2(g)$ ,  $\text{I}_2(s)$ 의 생성 엔탈피( $\Delta H$ )는 0이다.)

보기

ㄱ.  $\text{I}_2(s) \rightarrow \text{I}_2(g)$ 의 반응 엔탈피( $\Delta H$ )는  $(-c-d)$  kJ이다.  
 ㄴ.  $\text{HI}(g)$ 의 생성 엔탈피( $\Delta H$ )는  $\frac{d}{2}$  kJ/mol이다.  
 ㄷ. H-I의 결합 에너지는  $\frac{a+b+c}{2}$  kJ/mol이다.

- ① ㄱ                      ② ㄷ                      ③ ㄱ, ㄴ                      ④ ㄱ, ㄷ                      ⑤ ㄴ, ㄷ

11 [22028-0107] 다음은 25°C, 1 atm에서 3가지 열화학 반응식과 3가지 물질의 생성 엔탈피(ΔH)이다.



물질	CH <sub>4</sub> (g)	C <sub>2</sub> H <sub>4</sub> (g)	C <sub>2</sub> H <sub>6</sub> (g)
생성 엔탈피(kJ/mol)	-74	52	-84

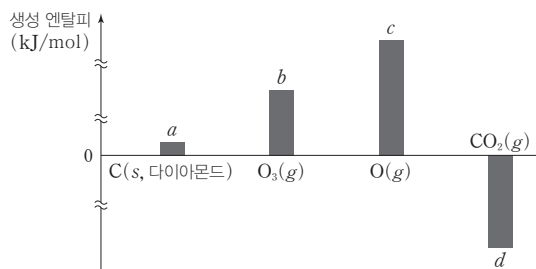
25°C, 1 atm에서 이에 대한 설명으로 옳은 것만을 <보기>에서 있는 대로 고른 것은? (단, H, C의 원자량은 각각 1, 12이고, H<sub>2</sub>(g), C(s, 흑연)의 생성 엔탈피(ΔH)는 0이다.)

- 보기 □  
 ㄱ. 2ΔH<sub>1</sub> > ΔH<sub>2</sub>이다.  
 ㄴ. ΔH<sub>3</sub> = -136 kJ이다.  
 ㄷ. C(s, 흑연)과 H<sub>2</sub>(g)를 반응시켜 C<sub>2</sub>H<sub>6</sub>(g) 10 g이 생성되는 반응의 반응 엔탈피(ΔH)는  $\frac{2\Delta H_1 - \Delta H_2 + \Delta H_3}{3}$  kJ이다.

- ① ㄱ      ② ㄷ      ③ ㄱ, ㄴ      ④ ㄴ, ㄷ      ⑤ ㄱ, ㄴ, ㄷ

반응 엔탈피(ΔH)는 생성물의 생성 엔탈피(ΔH) 합에서 반응물의 생성 엔탈피(ΔH) 합을 뺀 값과 같다.

12 [22028-0108] 그림은 25°C, 1 atm에서 4가지 물질의 생성 엔탈피(ΔH)를 나타낸 것이다.



25°C, 1 atm에서 이에 대한 설명으로 옳은 것만을 <보기>에서 있는 대로 고른 것은? (단, O<sub>2</sub>(g)의 생성 엔탈피(ΔH)는 0이다.)

- 보기 □  
 ㄱ. O=O의 결합 에너지는 2c kJ/mol이다.  
 ㄴ. O<sub>3</sub>(g) → O<sub>2</sub>(g) + O(g)의 반응 엔탈피(ΔH)는 (-b+c) kJ이다.  
 ㄷ. C(s, 다이아몬드) + O<sub>2</sub>(g) → CO<sub>2</sub>(g)의 반응 엔탈피(ΔH)는 (a+d) kJ이다.

- ① ㄱ      ② ㄷ      ③ ㄱ, ㄴ      ④ ㄴ, ㄷ      ⑤ ㄱ, ㄴ, ㄷ

O(g)의 생성 엔탈피(ΔH)는  $\frac{1}{2}$ O<sub>2</sub>(g) → O(g)의 반응 엔탈피(ΔH)와 같다.

## 개념 체크

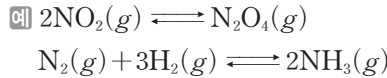
- **가역 반응** : 반응 조건(농도, 압력, 온도 등)에 따라 정반응과 역반응이 모두 일어날 수 있는 반응이다.
- **화학 평형 상태** : 가역 반응에서 반응물과 생성물의 농도가 변하지 않아서 겉으로 보기에 반응이 정지된 것처럼 보이는 동적 평형 상태이다.

1. 정반응과 역반응이 모두 일어날 수 있는 반응을 ( ) 반응이라고 한다.
2. 연소 반응과 같이 한 방향으로만 진행되는 반응을 ( ) 반응이라고 한다.
3. 정반응과 역반응이 모두 일어나고 있는 가역 반응에서 반응물의 농도와 생성물의 농도가 일정하게 유지되는 상태를 ( ) 상태라고 한다.
4. 화학 평형 상태에서는 정반응 속도와 역반응 속도가 ( )다.

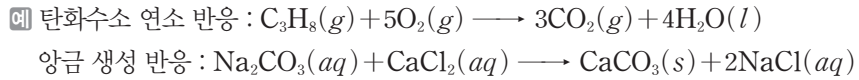
## 1 화학 평형

### (1) 가역 반응과 비가역 반응

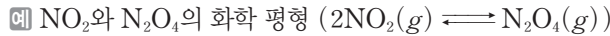
① **가역 반응** : 농도, 압력, 온도 등의 반응 조건에 따라 정반응과 역반응이 모두 일어날 수 있는 반응으로, 화학 반응식에서  $\rightleftharpoons$ 로 나타낸다. 정반응은 화학 반응식에서 오른쪽으로 진행되는 반응이고 역반응은 왼쪽으로 진행되는 반응이다.



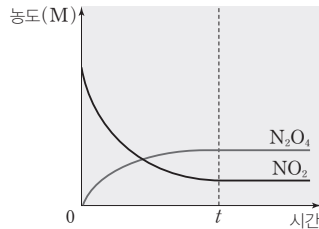
② **비가역 반응** : 한쪽 방향으로만 진행되는 반응으로, 역반응이 정반응에 비해 무시할 수 있을 만큼 거의 일어나지 않는다.



(2) **화학 평형 상태** : 가역 반응에서 반응물과 생성물의 농도가 변하지 않아서 겉으로 보기에 반응이 정지된 것처럼 보이는 상태를 화학 평형 상태라고 한다. 그러나 반응이 정지된 것이 아니라 실제로 정반응과 역반응이 같은 속도로 일어나고 있는 동적 평형 상태이다.

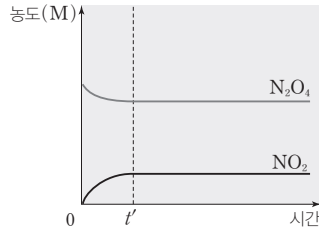


① 반응 용기에  $\text{NO}_2$ 만 넣었을 때



반응 용기에  $\text{NO}_2$ 를 넣으면 정반응이 진행되어 시간이 지남에 따라  $\text{NO}_2$ 의 농도는 감소하고  $\text{N}_2\text{O}_4$ 의 농도는 증가한다.  $\text{N}_2\text{O}_4$ 가 생성되면 역반응도 진행된다. 시간  $t$  이후에는  $\text{NO}_2$ 와  $\text{N}_2\text{O}_4$ 의 농도는 각각 일정해진다.  $\text{NO}_2$ 가 소모되는 반응과  $\text{NO}_2$ 가 생성되는 반응이 같은 속도로 일어나 겉으로 보기에 반응이 정지된 것처럼 보인다. 시간  $t$  이후는 화학 평형 상태이다.

② 반응 용기에  $\text{N}_2\text{O}_4$ 만 넣었을 때



반응 용기에  $\text{N}_2\text{O}_4$ 를 넣으면 역반응이 진행되어 시간이 지남에 따라  $\text{N}_2\text{O}_4$ 의 농도는 감소하고  $\text{NO}_2$ 의 농도는 증가한다. 시간  $t'$  이후에는  $\text{NO}_2$ 와  $\text{N}_2\text{O}_4$ 의 농도는 각각 일정해진다. 시간  $t'$  이후는 화학 평형 상태이다.

정답

1. 가역
2. 비가역
3. 화학 평형
4. 같

**(3) 화학 평형 상태의 성질**

- ① 화학 평형 상태에서 반응물과 생성물의 농도는 외부 조건(온도, 압력 등)이 변하지 않으면 각각 일정하게 유지된다.
- ② 용기에 반응물이나 생성물만 넣어도 화학 평형 상태에 도달한다.
- ③ 화학 평형 상태에서 반응물과 생성물의 농도비는 화학 반응식의 계수비와 무관하다.

**예** 강철 용기에서 일어나는 암모니아 합성 반응( $\text{N}_2(g) + 3\text{H}_2(g) \rightleftharpoons 2\text{NH}_3(g)$ )에서 반응 농도비는 화학 반응식의 계수비와 같은 1:3:2이지만, 화학 평형 상태의 농도비는 계수비와 같지 않다.

	$\text{N}_2(g) + 3\text{H}_2(g) \rightleftharpoons 2\text{NH}_3(g)$			
초기 농도(M)	1.000	1.000	0	
반응 농도(M)	-0.079	-0.237	+0.158	➔ 반응 농도비=1:3:2
평형 농도(M)	0.921	0.763	0.158	➔ 평형 농도비≠1:3:2

**개념 체크**

- 화학 평형 상태에서 반응물과 생성물의 농도는 외부 조건이 변하지 않으면 각각 일정하게 유지된다.
- 용기에 반응물이나 생성물만 넣어도 화학 평형 상태에 도달한다.


1. 가역 반응에서 반응물만 넣을 경우 ( )이 우선하게 진행하여 ( )에 도달한다.
2. 일반적으로 화학 평형 상태에서 반응물과 생성물의 농도비는 화학 반응식의 계수비와 ( 같 / 같지 않 )다.

**탐구자료 살펴보기 이산화 질소(NO<sub>2</sub>)와 사산화 이질소(N<sub>2</sub>O<sub>4</sub>)의 가역 반응과 동적 평형****실험 과정**

1. 적갈색의 NO<sub>2</sub> 기체와 무색의 N<sub>2</sub>O<sub>4</sub> 기체가 혼합되어 들어 있는 시험관을 0°C의 얼음물에 넣어둔다.
2. 과정 1의 시험관을 꺼내어 90°C의 물에 넣어둔다.
3. 과정 2의 시험관을 꺼내어 다시 0°C의 얼음물에 넣어둔다.

**실험 결과**

- 0°C의 얼음물에 넣어둔 시험관은 적갈색이 연해진 후 더 이상 변하지 않는다.
- 90°C의 물에 넣어둔 시험관은 적갈색이 진해지다가 더 이상 변하지 않는다.
- 0°C의 얼음물에 넣어둔 시험관은 다시 적갈색이 연해진 후 더 이상 변하지 않는다.

**분석 Point**

- 온도를 낮추면 N<sub>2</sub>O<sub>4</sub> 기체가 생성되고, 온도를 높이면 NO<sub>2</sub> 기체가 생성되므로 가역 반응이 일어난다.



- 0°C에서는 NO<sub>2</sub> 기체의 농도가 감소하고 N<sub>2</sub>O<sub>4</sub> 기체의 농도가 증가하여 평형에 도달한다. 90°C에서는 N<sub>2</sub>O<sub>4</sub> 기체의 농도가 감소하고 NO<sub>2</sub> 기체의 농도가 증가하여 평형에 도달한다. 0°C와 90°C에서 각각 동적 평형 상태에 도달한다.

**정답**

1. 정반응, 화학 평형 상태
2. 같지 않

개념 체크

- **화학 평형 법칙** : 일정한 온도에서 어떤 가역 반응이 화학 평형 상태에 있을 때, 반응물의 농도 곱에 대한 생성물의 농도 곱의 비는 항상 일정하다.
- **평형 상수** : 일정한 온도에서 평형 상태에 있는 어떤 반응의 반응물의 농도 곱에 대한 생성물의 농도 곱의 비를 평형 상수라고 한다.

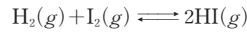
1. 일정한 온도에서 어떤 가역 반응이 화학 평형 상태에 있을 때, 반응물의 농도 곱에 대한 생성물의 농도 곱의 비를 ( )라고 한다.
2. 반응  $H_2(g) + I_2(g) \rightleftharpoons 2HI(g)$ 의 평형 상수식은 ( )이다.
3. 반응  $A(g) \rightleftharpoons 2B(g)$ 에서 용기에 A 1 M, B 2 M가 화학 평형 상태에 있을 때 평형 상수는 ( )이다.
4. 정반응의 평형 상수가 K이면 역반응의 평형 상수는 ( )이다.

2 평형 상수

(1) **화학 평형 법칙** : 일정한 온도에서 어떤 가역 반응이 화학 평형 상태에 있을 때, 반응물의 농도 곱에 대한 생성물의 농도 곱의 비는 항상 일정하다. 화학 평형 상태에서 이 값을 평형 상수(K)라고 한다.

과학 돋보기 평형 상수

표는 일정한 온도에서 다음 반응이 화학 평형 상태에 도달했을 때, 각 물질의 평형 농도와 평형 농도 사이의 관계를 나타낸 것이다.




실험	평형 농도(M)			평형 농도 사이의 관계		
	[H <sub>2</sub> ]	[I <sub>2</sub> ]	[HI]	$\frac{[HI]^2}{[H_2][I_2]}$	$\frac{2 \times [HI]}{[H_2][I_2]}$	$\frac{[HI]^2}{[H_2][I_2]}$
I	0,252	0,119	1,228	40,950	81,899	50,286
II	0,055	0,055	0,390	128,926	257,851	50,281
III	0,165	0,165	1,170	42,975	85,950	50,281

실험 I, II, III에서 화학 평형 상태에서의 농도가 다르더라도  $\frac{[HI]^2}{[H_2][I_2]}$ 의 값은 항상 일정하다.

→ 일정한 온도에서 반응물의 평형 농도 곱에 대한 생성물의 평형 농도 곱의 비는 일정하며, 이를 평형 상수라고 한다.

예 일정한 온도에서 NO<sub>2</sub>와 N<sub>2</sub>O<sub>4</sub>를 서로 다른 초기 농도로 넣고 반응시켜 평형 상태에 도달하였을 때  $\frac{[N_2O_4]}{[NO_2]^2}$ 의 값은 항상 일정하다.



실험	초기 농도(M)		평형 농도(M)		평형에서 $\frac{[N_2O_4]}{[NO_2]^2}$
	[NO <sub>2</sub> ]	[N <sub>2</sub> O <sub>4</sub> ]	[NO <sub>2</sub> ]	[N <sub>2</sub> O <sub>4</sub> ]	
I	0,0800	0	0,0125	0,0337	216
II	0	0,0700	0,0169	0,0616	216
III	0,0400	0,0300	0,0141	0,0430	216

(2) **평형 상수(K)** : 반응물 A와 B가 반응하여 생성물 C와 D가 생성되는 반응에서 평형 상수(K)는 각 물질의 평형 농도(M)로부터 다음과 같이 구할 수 있다.

$$aA + bB \rightleftharpoons cC + dD \quad (a \sim d : \text{반응 계수})$$

$$\text{평형 상수}(K) = \frac{[C]^c [D]^d}{[A]^a [B]^b}$$

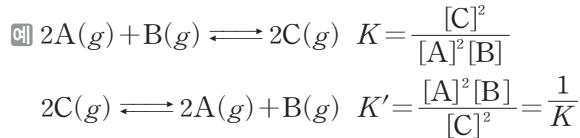
([A], [B], [C], [D]는 각각 A, B, C, D의 평형 농도(M))

- ① 평형 상수는 온도에 의해서만 달라지며 농도나 기체의 압력에 의해서는 달라지지 않는다.
- ② 정반응의 평형 상수가 K일 때 역반응의 평형 상수(K')는  $\frac{1}{K}$ 이다.

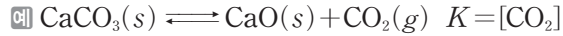
정답

1. 평형 상수
2.  $\frac{[HI]^2}{[H_2][I_2]}$
3. 4
4.  $\frac{1}{K}$



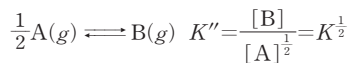
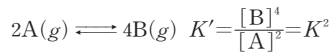
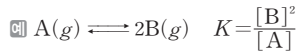


③ 고체 물질이나 용매는 평형 상수식에 나타내지 않는다.



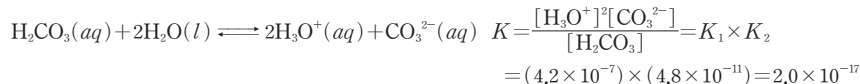
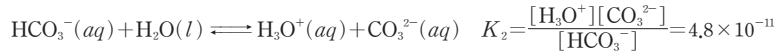
### 과학 돋보기 화학 반응식과 평형 상수

① 정반응의 평형 상수가  $K$ 일 때 화학 반응식의 반응 계수를  $n$ 배하면 평형 상수는  $K^n$ 이 된다.

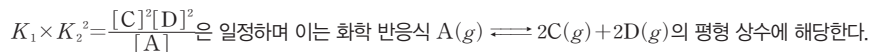
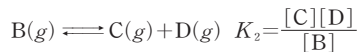
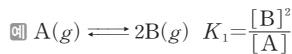


② 전체 반응의 평형 상수는 각 단계 반응의 평형 상수를 이용하여 구할 수 있다.

예 25°C에서 탄산( $H_2CO_3$ )의 이온화 반응에서 평형 상수



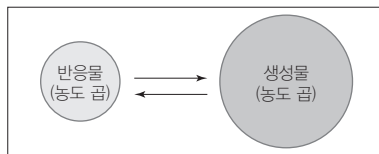
③ 온도가 일정한 1개의 반응 용기에 2가지 화학 반응이 평형을 이루고 있을 때, 2개의 평형 상수를 곱하거나 나눈 값도 일정하다.



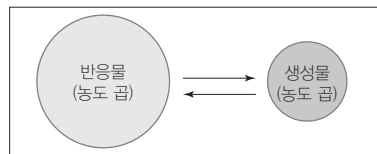
### (3) 평형 상수( $K$ )의 의미

①  $K$ 가 1보다 큰 경우 : 화학 평형 상태에서 반응물의 농도 곱에 비해 생성물의 농도 곱이 크다.

②  $K$ 가 1보다 작은 경우 : 화학 평형 상태에서 생성물의 농도 곱에 비해 반응물의 농도 곱이 크다.



$K$ 가 1보다 크다.



$K$ 가 1보다 작다.

### (4) 평형 상수의 계산

① 화학 반응식을 완결하고 평형 상수식을 쓴다.

② 화학 반응의 양적 관계를 이용하여 화학 평형 상태에서 각 물질의 몰 농도를 구한다.

③ 평형 상수식에 각 물질의 평형 농도( $M$ )를 대입하여 평형 상수를 구한다.

### 개념 체크

●  $K$ 가 1보다 큰 경우 : 화학 평형 상태에서 반응물의 농도 곱에 비해 생성물의 농도 곱이 크다.

●  $K$ 가 1보다 작은 경우 : 화학 평형 상태에서 생성물의 농도 곱에 비해 반응물의 농도 곱이 크다.

1. 평형 상수  $K > 10$ 이면 화학 평형 상태에서 반응물의 농도 곱보다 생성물의 농도 곱이 ( )이다.

2.  $A \rightleftharpoons 2B$ 의 평형 상수가  $K$ 이면  $2A \rightleftharpoons 4B$ 의 평형 상수는 ( )이다.

3.  $2A \rightleftharpoons B$ 의 평형 상수가  $K_1$ 이고,  $B \rightleftharpoons C + D$ 의 평형 상수가  $K_2$ 이면  $2A \rightleftharpoons C + D$ 의 평형 상수는 ( )이다.

정답

1. 크
2.  $K^2$
3.  $K_1 \times K_2$

개념 체크

● 반응 지수(Q) : 평형 상수식에 반응물과 생성물의 현재 농도(M)를 대입하여 구한 값이다.

● 반응 지수와 평형 상수

- $Q < K$ 이면 정반응 쪽으로 우세하게 반응이 진행된다.
- $Q = K$ 이면 화학 평형 상태이다.
- $Q > K$ 이면 역반응 쪽으로 우세하게 반응이 진행된다.

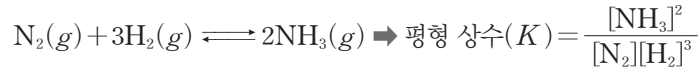
1. 반응물과 생성물의 현재 농도를 평형 상수식에 대입하여 구한 값을 ( ) 라고 한다.

2. 반응 지수  $Q > K$ 일 때 ( ) 쪽으로 우세하게 반응이 진행된다.

3. 반응 지수  $Q < K$ 일 때 ( ) 쪽으로 우세하게 반응이 진행된다.

예 일정한 온도에서 부피가 1.0 L인 강철 용기에  $N_2$  2.5 mol,  $H_2$  6.5 mol을 넣고 반응시켰을 때 평형 상태에서  $NH_3$  3.0 mol이 생성된 경우의 평형 상수 계산하기

• 화학 반응식과 평형 상수식 쓰기



• 평형 농도 구하기

	$N_2(g)$	+	$3H_2(g)$	$\rightleftharpoons$	$2NH_3(g)$
초기 농도(M)	2.5		6.5		0
반응 농도(M)	-1.5		-4.5		+3.0
평형 농도(M)	1.0		2.0		3.0

• 평형 상수 구하기 : 평형 상수식에 평형 농도를 대입한다.

$$\Rightarrow K = \frac{[NH_3]^2}{[N_2][H_2]^3} = \frac{3.0^2}{1.0 \times 2.0^3} = \frac{9}{8}$$

(5) 반응 지수(Q)를 통한 화학 반응의 진행 방향 예측

① 반응 지수(Q) : 평형 상수식에 반응물과 생성물의 현재 농도(M)를 대입하여 구한 값이다.

$$aA + bB \rightleftharpoons cC + dD \quad (a \sim d : \text{반응 계수})$$

$$\text{반응 지수}(Q) = \frac{[C]^c [D]^d}{[A]^a [B]^b}$$

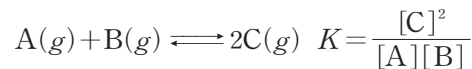
([A], [B], [C], [D]는 각각 A, B, C, D의 현재 농도(M))

② 화학 반응의 진행 방향 예측 : 같은 온도에서 반응 지수(Q)를 평형 상수(K)와 비교하여 반응의 진행 방향을 예측할 수 있다. Q와 K가 같으면 화학 평형 상태이고, 평형에 도달하지 않은 반응은 Q가 K와 같아질 때까지 정반응 또는 역반응 쪽으로 우세하게 반응이 진행된다.

구분	생성물의 농도	반응의 진행 방향
$Q < K$	현재 상태 < 평형 상태	생성물의 농도가 커져야 하므로 정반응 쪽으로 우세하게 반응이 진행
$Q = K$	현재 상태 = 평형 상태	화학 평형 상태
$Q > K$	현재 상태 > 평형 상태	생성물의 농도가 작아져야 하므로 역반응 쪽으로 우세하게 반응이 진행

예 부피가 1 L인 용기 내부에 혼합 기체가 각각 평형을 이루고 있는 상태에서 꼭지를 열었을 때 반응의 진행 방향 예측 (단, 온도는 일정)

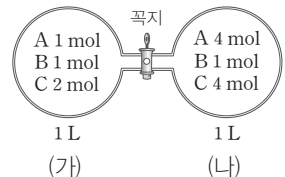
• 화학 반응식을 이용하여 평형 상수식 쓰기



• 꼭지를 열기 전 (가)와 (나)에서 평형 상수 구하기

$$(가) K = \frac{2^2}{1 \times 1} = 4$$

$$(나) K = \frac{4^2}{4 \times 1} = 4$$



정답

1. 반응 지수
2. 역반응
3. 정반응

- 꼭지를 열었을 때 반응 지수 구하기 : 부피가 2 L가 되므로 A~C의 농도는 각각 2.5 M, 1 M, 3 M이다.  $Q = \frac{3^2}{2.5 \times 1} = \frac{18}{5} = 3.6$
- 반응 지수와 평형 상수의 비교 :  $Q < K$ 이므로 꼭지를 열면 정반응 쪽으로 우세하게 반응이 진행되어 평형에 도달한다.

### 3 화학 평형의 이동

(1) **평형 이동 법칙(르사틀리에 원리)** : 화학 평형 상태에 있는 화학 반응에서 농도, 온도, 압력 등의 반응 조건을 변화시키면, 그 변화를 상쇄하려는 방향으로 반응이 우세하게 진행되어 새로운 평형에 도달하게 된다.

#### (2) 평형 이동에 영향을 미치는 요인

① **농도 변화에 의한 평형 이동** : 평형 상태에 있는 화학 반응에서 반응물이나 생성물의 농도를 변화시키면 농도 변화를 상쇄하려는 방향으로 반응이 진행되어 새로운 평형에 도달한다. 농도 변화에 의한 평형 이동이 일어나도 온도가 일정하면 평형 상수( $K$ )는 변하지 않는다.

조건 변화	평형 이동	속도 비교
반응물의 농도 증가 생성물의 농도 감소	정반응 쪽으로 평형 이동 (반응물의 농도 감소, 생성물의 농도 증가 방향)	정반응 속도 > 역반응 속도
반응물의 농도 감소 생성물의 농도 증가	역반응 쪽으로 평형 이동 (반응물의 농도 증가, 생성물의 농도 감소 방향)	정반응 속도 < 역반응 속도

#### 탐구자료

#### 살펴보기

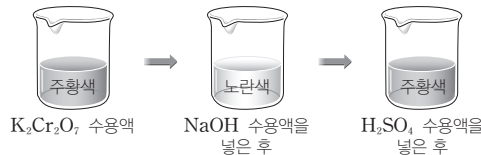
#### 다이크로뮴산 이온( $\text{Cr}_2\text{O}_7^{2-}$ )과 크로뮴산 이온( $\text{CrO}_4^{2-}$ ) 사이의 평형 이동

#### 실험 과정

1. 다이크로뮴산 칼륨( $\text{K}_2\text{Cr}_2\text{O}_7$ ) 수용액에 수산화 나트륨( $\text{NaOH}$ ) 수용액을 넣을 때 색깔 변화를 관찰한다.
2. 과정 1의 용액에 황산( $\text{H}_2\text{SO}_4$ ) 수용액을 넣을 때 색깔 변화를 관찰한다.

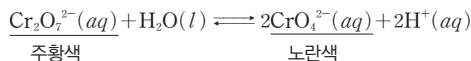
#### 실험 결과

- 다이크로뮴산 칼륨( $\text{K}_2\text{Cr}_2\text{O}_7$ ) 수용액은 주황색을 띤다. 이 용액에 수산화 나트륨( $\text{NaOH}$ ) 수용액을 넣었더니 노란색으로 변화했다.
- 과정 1의 용액에 황산( $\text{H}_2\text{SO}_4$ ) 수용액을 넣었더니 다시 주황색으로 변화했다.



#### 분석 Point

- 다이크로뮴산 칼륨( $\text{K}_2\text{Cr}_2\text{O}_7$ )을 물에 녹이면 다음과 같이 평형을 이룬다.



$\text{K}_2\text{Cr}_2\text{O}_7$  수용액에  $\text{NaOH}$  수용액을 넣으면 수산화 이온( $\text{OH}^-$ )이 수소 이온( $\text{H}^+$ )과 반응하므로 수용액 속  $\text{H}^+$ 의 농도가 감소한다.  $\text{H}^+$ 의 농도가 감소하면 평형은 정반응 쪽으로 이동하여  $\text{CrO}_4^{2-}$ 의 농도가 증가하므로 수용액의 색이 노란색으로 변한다.

- 과정 1의 용액에 황산( $\text{H}_2\text{SO}_4$ ) 수용액을 넣으면  $\text{H}^+$ 의 농도가 증가한다.  $\text{H}^+$ 의 농도가 증가하면 평형은 역반응 쪽으로 이동하여  $\text{Cr}_2\text{O}_7^{2-}$ 의 농도가 증가하므로 수용액의 색이 주황색으로 변한다.

#### 개념 체크

- **르사틀리에 원리** : 화학 평형 상태에서 농도, 온도, 압력 등의 반응 조건을 변화시키면, 그 변화를 상쇄하려는 방향으로 반응이 우세하게 진행되어 새로운 평형에 도달하게 된다.
- **화학 평형 상태에서 반응물 농도 증가** : 정반응이 우세하게 진행되어 새로운 평형에 도달한다.
- **화학 평형 상태에서 생성물 제거** : 정반응이 우세하게 진행되어 새로운 평형에 도달한다.

1.  $\text{Cr}_2\text{O}_7^{2-}(\text{aq}) + \text{H}_2\text{O}(\text{l}) \rightleftharpoons 2\text{CrO}_4^{2-}(\text{aq}) + 2\text{H}^+(\text{aq})$   
반응이 평형 상태에 있을 때  $\text{NaOH}$  수용액을 첨가하면 평형은 ( ) 쪽으로 이동하고,  $\text{H}_2\text{SO}_4$  수용액을 첨가하면 평형은 ( ) 쪽으로 이동한다.

2.  $\text{N}_2(\text{g}) + 3\text{H}_2(\text{g}) \rightleftharpoons 2\text{NH}_3(\text{g})$  반응이 화학 평형에 있을 때  $\text{N}_2$ 를 추가하면 반응 지수( $Q$ )가 평형 상수( $K$ )보다 ( )므로 평형은 ( ) 쪽으로 이동한다.

#### 정답

1. 정반응, 역반응
2. 작음, 정반응

개념 체크

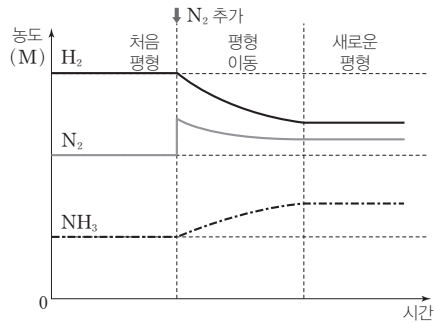
● 화학 평형 상태에서 압력을 높일 때 : 압력을 감소시키는 방향으로 평형이 이동한다.

1.  $N_2(g) + 3H_2(g) \rightleftharpoons 2NH_3(g)$  반응이 평형 상태에 있을 때  $H_2$ 의 농도를 증가시키면  $N_2$ 의 농도는 ( )하고  $NH_3$ 의 농도는 ( )하는 방향으로 평형이 이동한다.

2. 화학 평형 상태에 있는 화학 반응에서 압력을 증가시키면 압력을 ( )시키는 방향으로 평형이 이동한다.

과학 돋보기 농도와 평형 이동

그림은  $N_2(g) + 3H_2(g) \rightleftharpoons 2NH_3(g)$  반응의 화학 평형 상태에서  $N_2$ 를 추가했을 때 각 물질의 농도를 시간에 따라 나타낸 것이다. (단, 온도는 일정하다.)



- $N_2$ 를 추가한 시점 :  $N_2$ 의 농도가 급격하게 증가한다.
- 평형 이동의 원리 :  $N_2$ 의 농도를 감소시키는 방향으로 평형이 이동한다.
- $N_2$ 를 추가하면 반응 지수( $Q$ ) < 평형 상수( $K$ )이며,  $Q$ 가  $K$ 와 같아질 때까지  $N_2$ 와  $H_2$ 의 농도는 작아지고,  $NH_3$ 의 농도는 커져야 하므로 정반응 쪽으로 반응이 진행되어 새로운 평형에 도달한다.
- 새로운 평형 : 각 물질의 농도가 일정하게 유지되는 새로운 평형에 도달한다. 이때 온도는 변하지 않았으므로 새로운 평형에서의 평형 상수는 처음 평형에서의 평형 상수와 같다.

② 압력 변화에 의한 평형 이동 : 화학 평형 상태에 있는 화학 반응에서 압력을 높이면 압력을 낮추는 방향으로 평형이 이동하고, 압력을 낮추면 압력을 높이는 방향으로 평형이 이동한다.

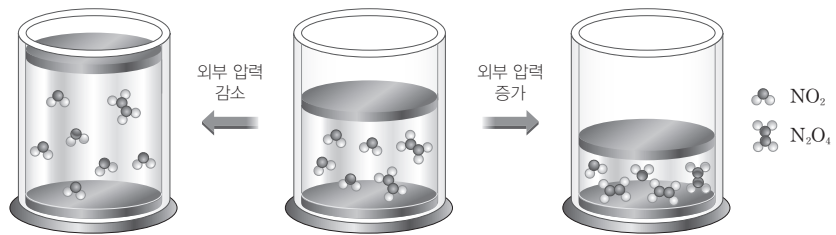
• 고체와 액체의 농도는 압력의 영향을 받지 않고, 기체의 경우에는 압력의 영향을 받는다.

예  $CaCO_3(s) \rightleftharpoons CaO(s) + CO_2(g)$ 의 반응에서 압력 변화와 평형 이동

$CaCO_3$ 과  $CaO$ 이 고체이므로 압력 변화에 의한 평형의 이동은  $CO_2$ 의 압력에 의해 좌우된다.

• 압력 변화에 의한 평형 이동이 이루어지더라도 온도가 일정하면 평형 상수( $K$ )에는 변화가 없다.

예  $N_2O_4(g) \rightleftharpoons 2NO_2(g)$ 의 반응에서 압력 변화와 평형 이동



압력을 감소시키면 압력이 증가하는 방향으로 평형이 이동해야 하므로 전체 기체 분자 수가 증가하는 정반응 쪽으로 반응이 진행되어 새로운 평형인 (가)에 도달한다.  $N_2O_4$ 가  $NO_2$ 로 변화하며 전체 기체 분자 수가 증가한다.

압력을 증가시키면 압력이 감소하는 방향으로 평형이 이동해야 하므로 전체 기체 분자 수가 감소하는 역반응 쪽으로 반응이 진행되어 새로운 평형인 (나)에 도달한다.  $NO_2$ 가  $N_2O_4$ 로

정답

1. 감소, 증가
2. 감소

변화하며 전체 기체 분자 수가 감소한다.

화학 평형 상태에서 (가)와 (나)의 새로운 화학 평형 상태로 이동하더라도 온도가 일정하면 평형 상수는  $K$ 로 일정하다.

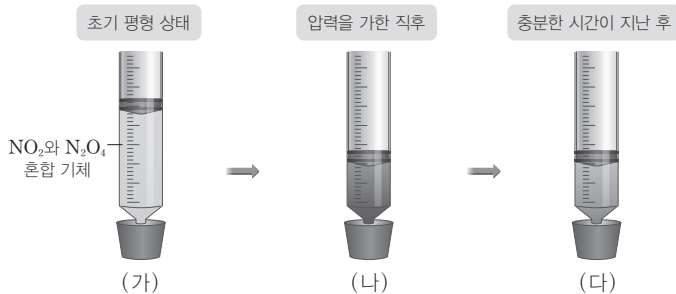
### 탐구자료 살펴보기 기체의 압력 변화에 따른 평형 이동

#### 실험 과정

1. 주사기에 이산화 질소( $\text{NO}_2$ )와 사산화 이질소( $\text{N}_2\text{O}_4$ )의 혼합 기체를 넣고 밀폐한 후 충분한 시간이 지난 후에 색을 관찰한다.
2. 주사기에 압력을 가하여 부피를  $\frac{1}{2}$ 로 감소시킨 직후와 충분한 시간이 지난 후 혼합 기체의 색을 관찰한다.

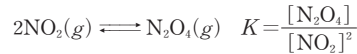
#### 실험 결과

- 과정 1의 결과 혼합 기체는 연한 갈색을 띠었다.
- 부피를  $\frac{1}{2}$ 로 감소시킨 직후 갈색이 매우 짙어졌다가 충분한 시간이 지난 후 조금 열어졌지만 과정 1의 연한 갈색보다 조금 진한 갈색이 유지되었다.



#### 분석 Point

- 다음은 이산화 질소( $\text{NO}_2$ )로부터 사산화 이질소( $\text{N}_2\text{O}_4$ )가 생성되는 반응의 화학 반응식과 평형 상수이다.



- 과정 1의 평형 상태 (가)에서 적갈색의 이산화 질소( $\text{NO}_2$ )와 무색의 사산화 이질소( $\text{N}_2\text{O}_4$ )가 혼합되어 연한 갈색을 띠었을 때의 평형 상수를  $K$ 라고 할 때, 압력을 가하여 부피를  $\frac{1}{2}$ 로 감소시킨 직후인 (나)에서  $\text{NO}_2$ 와  $\text{N}_2\text{O}_4$ 의 농도가 (가)에서보다 각각 2배가 되므로 기체의 색이 (가)보다 진하게 변화된다. 이 경우 반응 지수  $Q = \frac{2[\text{N}_2\text{O}_4]}{(2[\text{NO}_2])^2} = \frac{K}{2}$ 가 되고,  $Q < K$ 이므로 정반응 쪽으로 우세하게 반응이 진행되므로 적갈색의  $\text{NO}_2$ 는 감소하고 무색의  $\text{N}_2\text{O}_4$ 는 증가하여 충분한 시간이 지난 후 (다)에서 기체의 색은 (나)보다 다소 연해진다.

- 부피가 일정한 용기에서 비활성 기체 등 반응에 영향을 주지 않는 기체를 첨가한 경우에는 반응물이나 생성물의 농도가 변하지 않으므로 평형이 이동하지 않는다.

### 과학 돋보기 압력 변화에 의한 평형 이동과 화학 반응식의 계수 관계

$aA(g) + bB(g) \rightleftharpoons cC(g) + dD(g)$  반응을 화학 평형 상태에서

- 압력을 증가시켰을 때 정반응 쪽으로 평형이 이동하였다.  $\Rightarrow$  전체 기체 분자 수가 감소하는 방향으로 평형이 이동하므로 반응물의 계수 합이 생성물의 계수 합보다 크다.  $\Rightarrow a + b > c + d$
- 압력을 감소시켰을 때 정반응 쪽으로 평형이 이동하였다.  $\Rightarrow$  전체 기체 분자 수가 증가하는 방향으로 평형이 이동하므로 반응물의 계수 합이 생성물의 계수 합보다 작다.  $\Rightarrow a + b < c + d$
- 압력을 증가시키거나 감소시켰는데도 평형의 이동이 없다.  $\Rightarrow$  반응물의 계수 합과 생성물의 계수 합이 같다.  $\Rightarrow a + b = c + d$

### 개념 체크

● **압력 변화와 평형 이동** : 압력을 변화시켰음에도 평형이 이동하지 않은 경우 화학 반응식에서 기체 반응물의 계수 합과 기체 생성물의 계수 합은 같다.

1.  $A(g) + B(g) \rightleftharpoons 2C(g)$  반응이 평형 상태에 있을 때 부피를 증가시키면 기체의 압력이 ( )하지만 평형 이동은 일어나지 않는다.
2.  $\text{N}_2\text{O}_4(g) \rightleftharpoons 2\text{NO}_2(g)$  반응이 화학 평형 상태에 있을 때 부피를 감소시켜 압력을 높이면 ( ) 쪽이 우세하게 반응이 진행되어 평형에 도달한다.

정답

1. 감소
2. 역반응

개념 체크

● 온도 변화와 평형 이동 : 온도가 증가할 때 평형 상수가 증가하는 반응은  $\Delta H > 0$ , 온도가 증가할 때 평형 상수가 감소하는 반응은  $\Delta H < 0$ 이다.

1. 온도가 감소할수록 평형 상수가 감소하는 반응은  $\Delta H$ ( )이다.
2. 온도 변화에 의한 평형 이동이 일어나면 평형 상수( $K$ )는 (일정하다 / 변한다).
3. 촉매를 사용해도 평형 상수에는 영향을 주지 않는다. (○, ×)

③ 온도 변화에 의한 평형 이동 : 화학 평형 상태에 있는 화학 반응에서 온도를 높이면 열을 흡수하는 흡열 반응 쪽으로 평형이 이동하고, 온도를 낮추면 열을 방출하는 발열 반응 쪽으로 평형이 이동한다.

- 평형 상태에서 온도가 일정할 때 농도나 압력이 변해 새로운 평형 상태에 도달해도 평형 상수는 일정하지만, 온도가 변하면 평형 상수가 달라진다. 정반응이 흡열 반응일 때 온도를 높이면 평형 상수는 증가하고, 온도를 낮추면 평형 상수는 감소한다. 정반응이 발열 반응일 때 온도를 높이면 평형 상수는 감소하고, 온도를 낮추면 평형 상수는 증가한다.

예)  $N_2(g) + 3H_2(g) \rightleftharpoons 2NH_3(g)$  반응 ( $\Delta H = -92.2 \text{ kJ}$ )의 온도에 따른 평형 상수

온도(K)	평형 상수	온도(K)	평형 상수
300	$2.6 \times 10^8$	500	$1.7 \times 10^2$
400	$3.9 \times 10^4$	600	4.2

이 반응은 발열 반응이므로 온도를 높이면 평형 상수가 감소한다.

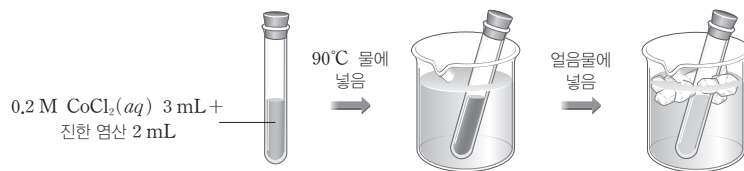
탐구자료 살펴보기 온도에 따른 평형 이동

실험 과정

1. 시험관에 0.2 M 염화 코발트 수용액( $CoCl_2(aq)$ ) 3 mL와 진한 염산( $HCl(aq)$ ) 2 mL를 넣으면서 색 변화를 관찰한다.
2. 과정 1의 시험관을 90°C의 물에 넣고 색 변화를 관찰한다.
3. 과정 2의 시험관을 얼음물에 넣고 색 변화를 관찰한다.

실험 결과

- 붉은색  $CoCl_2(aq)$  3 mL에 진한 염산 2 mL를 넣었더니 보라색으로 변화했다.
- 시험관을 90°C의 물에 넣었더니 푸른색으로 변화했다.
- 시험관을 얼음물에 넣었더니 붉은색으로 변화했다.



분석 Point

$Co(H_2O)_6^{2+}$ 이  $Cl^-$ 과 반응하여  $CoCl_4^{2-}$ 으로 되는 반응은 흡열 반응이다.

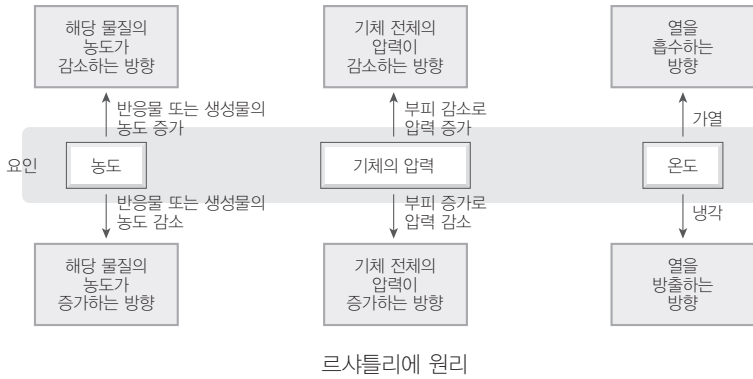


온도를 높이면 흡열 반응인 정반응 쪽으로 우세하게 반응이 진행되어 푸른색의  $CoCl_4^{2-}$ 의 농도가 높아지고, 온도를 낮추면 발열 반응인 역반응 쪽으로 우세하게 반응이 진행되어 붉은색의  $Co(H_2O)_6^{2+}$ 의 농도가 높아지게 된다.

정답

1. >
2. 변한다
3. ○

④ 촉매와 평형 이동 : 촉매는 반응 속도에는 영향을 미치지만 평형을 이동시키지는 않는다. 따라서 촉매는 평형 상수나 생성물의 양에는 영향을 주지 않는다.



**개념 체크**

❶ **수득률** : 화학 반응에서 이론상 최대로 얻을 수 있는 생성물의 양에 대한 실제로 얻어진 생성물의 양의 비율이다.

1. 화학 반응에서 이론상 최대로 얻을 수 있는 생성물의 양에 대한 실제로 얻어진 생성물의 양을 비율로 나타낸 것을 ( )이라고 한다.
2. 정반응이 흡열 반응인 경우 온도를 ( )면 생성물의 수득률을 높일 수 있다.
3. 기체 분자 수가 감소하는 반응의 경우 압력을 ( )면 생성물의 수득률을 높일 수 있다.

**4 평형 이동의 응용**

(1) **수득률** : 화학 반응에서 이론상 최대로 얻을 수 있는 생성물의 양에 대한 실제로 얻어진 생성물의 양의 비율이다.

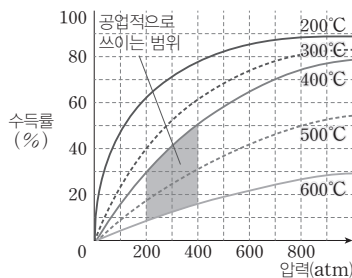
$$\text{수득률(\%)} = \frac{\text{실제로 얻어진 생성물의 양}}{\text{이론상 최대로 얻을 수 있는 생성물의 양}} \times 100$$

- ① **압력에 의한 영향** : 기체 분자 수가 감소하는 반응의 경우에는 압력을 높이면 정반응 쪽으로 평형이 이동하므로 수득률은 증가하고, 압력을 낮추면 역반응 쪽으로 평형이 이동하므로 수득률은 감소한다.
- ② **온도에 의한 영향** : 정반응이 흡열 반응인 경우에는 온도를 높이면 정반응 쪽으로 평형이 이동하므로 수득률은 증가하고, 온도를 낮추면 역반응 쪽으로 평형이 이동하므로 수득률은 감소한다.

**과학 돋보기 암모니아 합성과 수득률**

- ① 암모니아 합성 반응의 열화학 반응식  

$$\text{N}_2(\text{g}) + 3\text{H}_2(\text{g}) \rightleftharpoons 2\text{NH}_3(\text{g}) \quad \Delta H = -92.2 \text{ kJ}$$
- ② 암모니아의 수득률 : 정반응이 발열 반응이므로 온도가 낮을수록 수득률이 증가한다. 정반응이 기체 분자 수가 감소하는 반응이므로 압력이 높을수록 수득률이 증가한다.
- ③ 허버·보슈법 : 공업적으로 암모니아를 합성할 때 압력이 높을수록 수득률이 증가하지만 압력을 너무 높이면 반응 용기를 제작하기 어렵고, 온도가 낮을수록 수득률이 증가하지만 온도가 너무 낮으면 반응 속도가 느려진다. 따라서 적절한 촉매 존재하에서 400~600°C, 200~400 atm 정도의 조건에서 반응시켜 암모니아를 대량으로 합성한다.



정답

1. 수득률
2. 높이
3. 높이

개념 체크

- **상평형 그림** : 온도와 압력에 따른 물질의 상태를 나타낸 그림이다.
- **삼중점** : 기체, 액체, 고체의 3가지 상태가 공존하여 평형을 이루는 온도와 압력이다.
- **물의 상평형 그림의 특징** : 용해 곡선의 기울기가 (-)값을 가진다.

1. 이산화 탄소가 물에 용해되는 반응은 ( ) 반응이므로 온도를 낮추면 이산화 탄소의 용해도가 높아진다.
2. ( )은 온도와 압력에 따른 물질의 상태를 나타낸 그림이다.
3. 상평형 그림에서 ( )은 고체와 액체가 상평형을 이루는 온도와 압력을 나타내고, ( )은 액체와 기체가 상평형을 이루는 온도와 압력을 나타내고, ( )은 고체와 기체가 상평형을 이루는 온도와 압력을 나타낸다.
4. ( )은 기체, 액체, 고체의 3가지 상태가 공존하여 평형을 이루는 온도와 압력이다.
5. 물은 용해 곡선의 기울기가 (-)값이므로 외부 압력이 커지면 어는점이 높아진다. ( O, × )

정답

1. 발열
2. 상평형 그림
3. 용해 곡선, 증기 압력 곡선 (기화 곡선), 승화 곡선
4. 삼중점
5. ×

(2) 실생활에서의 화학 평형 이동

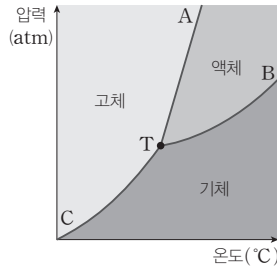
- ① 고압 산소 치료실은 산소의 압력이 높기 때문에 폐를 통해 혈액 속으로 산소가 많이 녹아 들어가 상처 치료가 빨라진다.
- ② 설탕이 물에 용해되는 반응은 흡열 반응이므로 온도를 높이면 설탕이 물에 잘 용해된다.
- ③ 이산화 탄소가 물에 용해되는 반응은 발열 반응이므로 온도를 낮추면 이산화 탄소가 물에 잘 용해된다. 따라서 밀폐되지 않은 탄산음료를 상온에 보관하면 용해되어 있는 이산화 탄소의 양이 감소하므로 툭 쏘는 느낌이 적어진다.

5 상평형

(1) 온도와 압력에 의한 상태 변화

- ① 온도에 의한 상태 변화 : 얼음에 열을 가하여 온도를 높이면 물이 되고, 온도를 더 높이면 수증기가 된다.
- ② 압력에 의한 상태 변화 : 얼음에 압력을 가하면 물이 된다. 고압의 가스통에 들어 있는 액체 뷰테인은 밸브를 열면 기체로 빠져나온다.

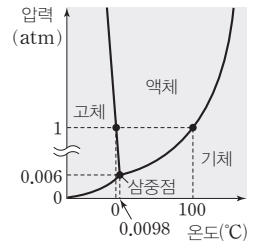
(2) **상평형 그림** : 온도와 압력에 따른 물질의 상태를 나타낸 그림이다. 승화 곡선, 증기 압력 곡선(기화 곡선), 용해 곡선으로 이루어져 있고, 곡선 상의 모든 점에서 2가지 상태가 공존하여 평형을 이룬다(단, 삼중점에서는 3가지 상태가 공존하여 평형을 이룬다).



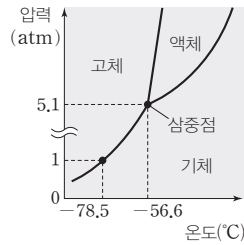
- ① 용해 곡선(AT) : 고체와 액체가 상평형을 이루는 온도와 압력을 나타낸 곡선이다.
- ② 증기 압력 곡선(기화 곡선, BT) : 액체와 기체가 상평형을 이루는 온도와 압력을 나타낸 곡선이다.
- ③ 승화 곡선(CT) : 고체와 기체가 상평형을 이루는 온도와 압력을 나타낸 곡선이다.
- ④ 삼중점(T) : 기체, 액체, 고체의 3가지 상태가 공존하여 평형을 이루는 온도와 압력이다.
- ⑤ 어는점(녹는점) : 고체와 액체가 상평형을 이루는 온도이다.
- ⑥ 끓는점 : 액체와 기체가 상평형을 이루는 온도이다.

(3) 물의 상평형 그림

- ① 물은 용해 곡선의 기울기가 (-)값을 가지므로 외부 압력이 커지면 어는점이 낮아진다.
- ② 물은 삼중점의 압력이 0,006 atm이므로 1 atm에서는 온도를 높일 때 고체에서 액체를 거쳐 기체로 상태가 변하지만, 0,006 atm보다 낮은 압력에서는 온도를 높일 때 고체 상태에서 액체 상태를 거치지 않고 기체 상태로 승화가 일어난다.





**(4) 이산화 탄소의 상평형 그림**

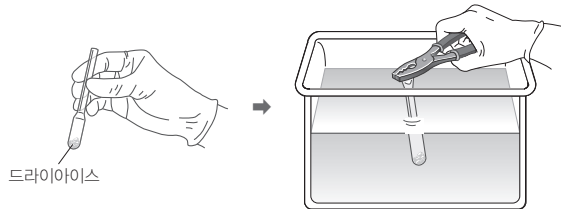
- ① 이산화 탄소는 용해 곡선의 기울기가 (+)값을 가지므로 외부 압력이 커지면 어는점이 높아진다.
- ② 이산화 탄소는 삼중점의 압력이 5.1 atm으로 1 atm보다 높으므로 1 atm에서 드라이아이스는 승화한다.
- ③ 액체 이산화 탄소를 만들기 위해서는 5.1 atm 이상의 압력이 필요하다.

**탐구자료 살펴보기 액체 이산화 탄소 만들기****실험 과정**

1. 일회용 플라스틱 스포이트의 끝을 잘라 입구를 넓힌 후 막자사발에 곱게 간 드라이아이스를 넣는다.
2. 과정 1의 스포이트의 입구를 접고 펜치로 기체가 빠져나가지 않게 막은 후 플라스틱 수조의 물속에 넣는다.

**실험 결과**

수조의 물속에 넣은 스포이트 속 드라이아이스가 액체로 변화하다가 스포이트가 터졌다.

**분석 Point**

수조의 물속에 넣은 스포이트 속 드라이아이스가 빨리 승화되어 기체 이산화 탄소가 생성되고 생성된 이산화 탄소가 빠져나가지 못하므로 스포이트 내부의 압력을 높게 된다. 따라서 이산화 탄소의 삼중점의 압력인 5.1 atm 이상이 되었을 때 드라이아이스가 용해된다. 스포이트가 터진 것은 스포이트 내부 압력이 높기 때문이다.

**(5) 상평형 그림과 물질의 상태 변화**

- ① 물의 상평형 그림에서 증기 압력 곡선을 보면 압력이 높아질수록 끓는점이 높아지는 것을 알 수 있다. 압력솥에서 밥을 지을 경우 1 atm보다 높은 압력으로 물의 끓는점이 100°C보다 높아지므로 높은 온도에서 밥이 빨리 된다. 반면 높은 산에서 밥을 지을 경우 1 atm보다 낮은 압력으로 물의 끓는점이 100°C보다 낮아지므로 낮은 온도에서 밥이 설익는다. 이때 냄비에 돌을 올려놓으면 압력을 높일 수 있어 밥이 설익는 것을 막을 수 있다.
- ② 물의 상평형 그림에서 용해 곡선을 보면 압력이 높아질수록 녹는점이 낮아지는 것을 알 수 있다. 추가 달린 실을 얼음에 올리면 압력에 의해 얼음이 녹아 실이 얼음 속으로 들어간다.

**개념 체크**

● 이산화 탄소의 상평형 그림의 특징 : 삼중점의 압력이 1 atm보다 높다.

1. 이산화 탄소의 상평형 그림에서 삼중점에서의 압력이 1 atm보다 높으므로 드라이아이스는 1 atm에서 승화한다. (○, ×)
2. 액체 이산화 탄소를 만들기 위해서는 ( )에서의 압력인 5.1 atm 이상의 압력이 필요하다.

정답

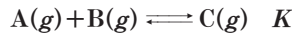
1. ○
2. 삼중점

- ③ 식품을  $-50^{\circ}\text{C}$  정도로 얼린 후 압력을 그 온도에서 승화 곡선 위 점에서의 압력 이하로 낮추면 얼음이 수증기로 승화되어 동결 건조시킬 수 있다. 저온에서 건조하므로 맛과 향, 영양소 파괴가 적다. 이는 우주 식품이나 라면 건더기 스프, 인스턴트 커피 등을 만드는 데 이용한다.

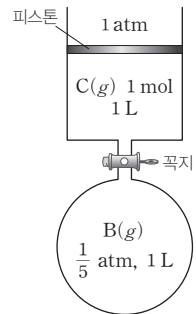
기출문제 다시보기 화학 평형

2022학년도 대수능

다음은  $\text{A}(g)$ 와  $\text{B}(g)$ 가 반응하여  $\text{C}(g)$ 가 생성되는 반응의 화학 반응식과 온도  $T$ 에서 농도로 정의된 평형 상수( $K$ )이다.



그림은  $T$ 에서 꼭지로 분리된 강철 용기와 실린더에  $\text{B}(g)$ 와  $\text{C}(g)$ 가 각각 들어 있는 초기 상태를 나타낸 것이다. 실린더에서 반응이 진행되어 평형 상태 I에 도달하였을 때, 실린더 속 혼합 기체의 부피는  $\frac{5}{4}$  L이다. I에서 피스톤을 고정하고 꼭지를 연 후, 새로운 평형 상태 II에 도달하였다.



이에 대한 설명으로 옳은 것만을 <보기>에서 있는 대로 고른 것은? (단, 온도와 외부 압력은 일정하고, 연결관의 부피와 피스톤의 질량 및 마찰은 무시한다.)

[3점]

보기

- ㄱ.  $K=15$ 이다.
- ㄴ. I에서  $\text{C}(g)$ 의 부분 압력은  $\frac{3}{5}$  atm이다.
- ㄷ. II에서  $\text{A}(g)$ 의 양은  $\frac{1}{4}$  mol보다 작다.

- ① ㄱ                      ② ㄷ                      ③ ㄱ, ㄴ                      ④ ㄴ, ㄷ                      ⑤ ㄱ, ㄴ, ㄷ

**해설** ㄱ. 초기 상태의 실린더에서 역반응이 일어난 후 평형 상태 I에 도달하였을 때, 실린더 속 혼합 기체의 부피는  $\frac{5}{4}$  L이므로 반응한 C의 양은  $\frac{1}{4}$  mol이고 생성된 A와 B의 양은 모두  $\frac{1}{4}$  mol이다. 평형 상태 I에서 A~C의 양은 각각  $\frac{1}{4}$  mol,  $\frac{1}{4}$  mol,  $\frac{3}{4}$  mol이고 혼합 기체의 부피는  $\frac{5}{4}$  L이므로 A~C의 몰 농도는 각각  $\frac{1}{5}$  M,  $\frac{1}{5}$  M,  $\frac{3}{5}$  M이다. 따라서 평형 상수( $K$ )는  $\frac{[\text{C}]}{[\text{A}][\text{B}]} = \frac{\frac{3}{5}}{(\frac{1}{5})^2} = 15$ 이다.

ㄴ. 평형 상태 I에서 C의 몰 분율은  $\frac{3}{5}$ 이고 혼합 기체의 압력은 1 atm이므로 C( $g$ )의 부분 압력은  $\frac{3}{5}$  atm이다.


ㄷ. 반응 초기 실린더에 들어 있는 C( $g$ ) 1 mol의 압력과 부피가 각각 1 atm, 1 L이다. 따라서 부피 1 L인 용기에 들어 있는 B( $g$ )의 압력이  $\frac{1}{5}$  atm이므로 B의 양은  $\frac{1}{5}$  mol이다. 평형 상태 I에서 실린더의 피스톤을 고정시키고 꼭지를 열면 A~C의 양은 각각  $\frac{1}{4}$  mol,  $\frac{9}{20}$  mol,  $\frac{3}{4}$  mol이고 혼합 기체의 부피는  $\frac{9}{4}$  L이므로 A~C의

몰 농도는 각각  $\frac{1}{9}$  M,  $\frac{1}{5}$  M,  $\frac{1}{3}$  M이다. 반응 지수는  $Q = \frac{\frac{1}{3}}{\frac{1}{9} \times \frac{1}{5}} = 15$ 이므로 평형 상수와 같다. 따라서 평형

상태 II에서 A의 양은  $\frac{1}{4}$  mol이다.

답 ③

01 [2028-0109] 다음은 일정한 온도의 강철 용기에서 반응  $X(g) \rightleftharpoons Y(g)$ 이 평형에 있을 때, 이에 대한 세 학생의 대화이다.



제시한 내용이 옳은 학생만을 있는 대로 고른 것은?

- ① A                      ② B                      ③ A, C  
 ④ B, C                    ⑤ A, B, C

02 [2028-0110] 다음은 A가 반응하여 B와 C를 생성하는 반응의 화학 반응식과 농도로 정의되는 평형 상수( $K$ )이다.

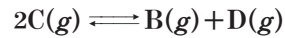
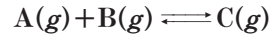


강철 용기에  $w$  g의 A를 넣은 후 이 반응이 평형 상태에 도달했을 때, 이에 대한 설명으로 옳은 것만을 <보기>에서 있는 대로 고른 것은? (단, 온도는 일정하다.)

- 보기
- ㄱ. 평형 상수식  $K = \frac{[B][C]}{[A]}$ 이다.  
 ㄴ. A는 생성되지 않는다.  
 ㄷ.  $w$ 가 클수록  $K$ 도 크다.

- ① ㄱ                      ② ㄴ                      ③ ㄱ, ㄷ  
 ④ ㄴ, ㄷ                    ⑤ ㄱ, ㄴ, ㄷ

03 [2028-0111] 다음은 온도  $T$ 에서 2가지 반응의 화학 반응식이다.

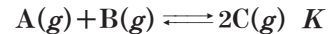


온도  $T$ 의 하나의 강철 용기에서 2가지 반응이 평형 상태에 도달했을 때, 일정한 값만을 <보기>에서 있는 대로 고른 것은?

- 보기
- ㄱ.  $\frac{[C]}{[A][B]}$                     ㄴ.  $\frac{[B][D]}{[C]^2}$                     ㄷ.  $\frac{[A][C]}{[D]}$

- ① ㄱ                      ② ㄴ                      ③ ㄱ, ㄷ  
 ④ ㄴ, ㄷ                    ⑤ ㄱ, ㄴ, ㄷ

04 [2028-0112] 다음은 A와 B가 반응하여 C를 생성하는 반응의 화학 반응식과 온도  $T$ 에서 농도로 정의되는 평형 상수( $K$ )이다.



표는 강철 용기에서 이 반응이 평형에 도달했을 때, 초기 농도와 평형 농도를 나타낸 것이다.

구분	A(g)	B(g)	C(g)
초기 농도(M)	1.2	$y$	0
평형 농도(M)	$x$	0.1	1.6

이에 대한 설명으로 옳은 것만을 <보기>에서 있는 대로 고른 것은? (단, 온도는  $T$ 로 일정하다.)

- 보기
- ㄱ.  $x=0.4$ 이다.  
 ㄴ.  $y=1.0$ 이다.  
 ㄷ.  $K=4$ 이다.

- ① ㄱ                      ② ㄴ                      ③ ㄱ, ㄷ  
 ④ ㄴ, ㄷ                    ⑤ ㄱ, ㄴ, ㄷ

05 [22028-0113] 다음은 온도  $T$ 에서  $H_2(g)$ 와  $I_2(g)$ 이 반응하여  $HI(g)$ 를 생성하는 반응의 화학 반응식과  $T$ 에서의 평형 상수( $K$ )이다.



표는 온도  $T$ 의 강철 용기(가)~(다)에서 반응물과 생성물의 초기 농도를 나타낸 것이다.

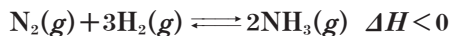
용기	$[H_2](M)$	$[I_2](M)$	$[HI](M)$
(가)	0.4	0.1	0.8
(나)	0.2	0.1	0.4
(다)	0.1	0.2	0.2

이에 대한 설명으로 옳은 것만을 <보기>에서 있는 대로 고른 것은? (단, 온도는  $T$ 로 일정하다.)

- 보기
- ㄱ. (가)는 평형 상태이다.
  - ㄴ. (나)에서 반응 지수( $Q$ ) > 평형 상수( $K$ )이다.
  - ㄷ. (다)에서 정반응이 우세하게 일어난다.

- ① ㄱ                      ② ㄴ                      ③ ㄱ, ㄷ  
 ④ ㄴ, ㄷ                ⑤ ㄱ, ㄴ, ㄷ

06 [22028-0114] 다음은  $N_2(g)$ 와  $H_2(g)$ 가 반응하여  $NH_3(g)$ 를 생성하는 반응의 열화학 반응식이다.



온도  $T$ 인 강철 용기에서 이 반응이 평형 상태에 도달했을 때  $NH_3$ 의 농도를 증가시키는 반응 조건으로 옳은 것만을 <보기>에서 있는 대로 고른 것은?

- 보기
- ㄱ. 온도를 증가시킨다.
  - ㄴ.  $H_2(g)$ 를 첨가한다.
  - ㄷ.  $N_2(g)$ 를 제거한다.

- ① ㄱ                      ② ㄴ                      ③ ㄱ, ㄷ  
 ④ ㄴ, ㄷ                ⑤ ㄱ, ㄴ, ㄷ

07 [22028-0115] 다음은 A가 반응하여 B를 생성하는 반응의 열화학 반응식이다.



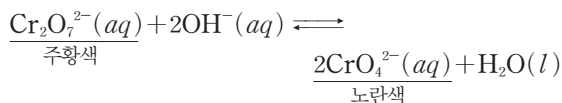
온도  $T$ 의 강철 용기에서 이 반응이 평형 상태에 도달했을 때, 이에 대한 설명으로 옳은 것만을 <보기>에서 있는 대로 고른 것은?

- 보기
- ㄱ. 압력을 낮추면 역반응이 우세하게 일어난다.
  - ㄴ. 온도를 높이면 정반응이 우세하게 일어난다.
  - ㄷ. 온도를 낮추면 평형 상수( $K$ )가 감소한다.

- ① ㄱ                      ② ㄴ                      ③ ㄱ, ㄷ  
 ④ ㄴ, ㄷ                ⑤ ㄱ, ㄴ, ㄷ

08 [22028-0116] 다음은 화학 평형과 관련한 실험이다.

[자료]



[실험 과정]

- (가) 다이크로뮴산 칼륨( $K_2Cr_2O_7$ ) 수용액을 만든다.
- (나) (가)의 수용액에 진한 염산을 몇 방울 떨어뜨린다.
- (다) (가)의 수용액에  $NaOH(s)$ 을 소량 녹인다.

[실험 결과]

- (나)에서 수용액은 (가)의 수용액에 비해
- (다)에서 수용액은 (가)의 수용액에 비해

A와 B로 가장 적절한 것은? (단, 온도는 일정하다.)

- | A            | B          |
|--------------|------------|
| ① 노란색이 진해졌다. | 노란색이 진해졌다. |
| ② 노란색이 진해졌다. | 주황색이 진해졌다. |
| ③ 노란색이 진해졌다. | 색의 변화가 없다. |
| ④ 주황색이 진해졌다. | 노란색이 진해졌다. |
| ⑤ 주황색이 진해졌다. | 주황색이 진해졌다. |

**09** [22028-0117] 다음은 A가 반응하여 B와 C를 생성하는 반응의 열화학 반응식과 온도  $T$  K에서 농도로 정의되는 평형 상수( $K$ )이다.



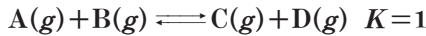
온도  $T$  K의 강철 용기에서 이 반응이 평형 상태에 도달했을 때, 반응 조건을 변화시켜 도달한 평형 상태에 대한 설명으로 옳은 것만을 <보기>에서 있는 대로 고른 것은?

보기

- ㄱ. A를 첨가하면  $K < 2$ 이다.
- ㄴ. C를 제거하면 역반응이 우세하게 진행된다.
- ㄷ. 온도를  $2T$  K로 변화시키면  $K < 2$ 이다.

- ① ㄱ                      ② ㄷ                      ③ ㄱ, ㄴ
- ④ ㄴ, ㄷ                ⑤ ㄱ, ㄴ, ㄷ

**10** [22028-0118] 다음은 A와 B가 반응하여 C와 D를 생성하는 반응의 화학 반응식과 온도  $T$ 에서의 평형 상수( $K$ )이다.



표는 온도  $T$ 의 강철 용기에서 이 반응이 평형 상태에 도달했을 때, 물질의 양(mol)이다.

물질	A(g)	B(g)	C(g)	D(g)
물질의 양(mol)	0.1	0.4	0.2	$x$

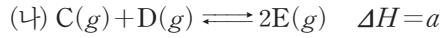
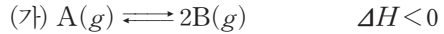
이에 대한 설명으로 옳은 것만을 <보기>에서 있는 대로 고른 것은? (단, 온도는 일정하다.)

보기

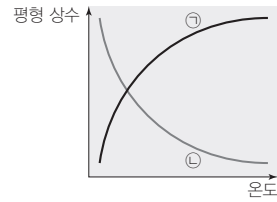
- ㄱ.  $x = 0.2$ 이다.
- ㄴ. A 0.1 mol을 추가하여 새롭게 도달한 평형에서  $[A][B] = [C][D]$ 이다.
- ㄷ. C 0.1 mol을 추가하여 새롭게 도달한 평형에서 C의 양은 0.2 mol보다 크다.

- ① ㄱ                      ② ㄴ                      ③ ㄱ, ㄷ
- ④ ㄴ, ㄷ                ⑤ ㄱ, ㄴ, ㄷ

**11** [22028-0119] 다음은 2가지 열화학 반응식이다.



그림은 화학 반응 (가)와 (나)에서 온도에 따른 평형 상수를 나타낸 것이다. ㉠과 ㉡은 각각 (가)와 (나) 중 하나이다.



이에 대한 설명으로 옳은 것만을 <보기>에서 있는 대로 고른 것은?

보기

- ㄱ. (가)는 ㉠이다.
- ㄴ.  $a > 0$ 이다.
- ㄷ. 강철 용기에서 ㉡이 평형에 있을 때, 온도를 증가시키면 정반응이 우세하게 진행된다.

- ① ㄱ                      ② ㄴ                      ③ ㄱ, ㄷ
- ④ ㄴ, ㄷ                ⑤ ㄱ, ㄴ, ㄷ

**12** [22028-0120] 표는 부피가 서로 다른 2개의 강철 용기에 A(g)의 양(mol)을 달리하여 각각 넣은 후 반응  $2A(g) \rightleftharpoons B(g) + C(g)$ 이 도달한 평형 상태에 대한 자료이다.

용기	부피	온도	전체 기체 압력
(가)	$V$	$T$	$P$
(나)	$2V$	$T$	$P$

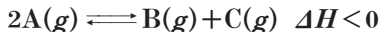
이에 대한 설명으로 옳은 것만을 <보기>에서 있는 대로 고른 것은?

보기

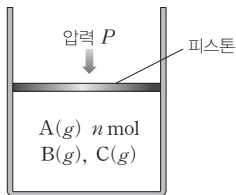
- ㄱ. 반응 초기 A의 양(mol)은 (나) > (가)이다.
- ㄴ. A의 부분 압력은 (나) > (가)이다.
- ㄷ. (가)에서 [B]는 (나)에서 [C]와 같다.

- ① ㄱ                      ② ㄴ                      ③ ㄱ, ㄷ
- ④ ㄴ, ㄷ                ⑤ ㄱ, ㄴ, ㄷ

13 [22028-0121] 다음은 A가 반응하여 B와 C를 생성하는 반응의 열화학 반응식이다.



그림은 실린더에 일정량의 A를 넣은 후 온도 T에서 평형 상태에 도달한 것을 나타낸 것이다.



이에 대한 설명으로 옳은 것만을 <보기>에서 있는 대로 고른 것은? (단, 피스톤의 질량과 마찰은 무시한다.)

보기

- ㄱ. 압력 P를 증가시키면 A(g)의 양은 n mol보다 증가한다.
- ㄴ. 압력을 감소시켜 부피를 2배로 하면 B의 몰 농도는 감소한다.
- ㄷ. 압력을 P로 유지한 채, 온도를 낮추면 B의 몰 분율은 감소한다.

- ① ㄱ                      ② ㄴ                      ③ ㄱ, ㄷ
- ④ ㄴ, ㄷ                ⑤ ㄱ, ㄴ, ㄷ

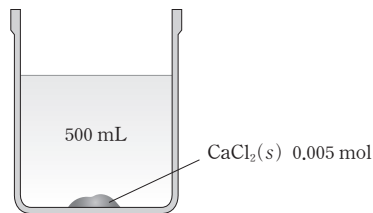
14 [22028-0122] 표는 A(g)~C(g)와 관련된 반응이 온도 T의 강철 용기에서 일어날 때 초기 농도와 평형 농도를 나타낸 것이다. 반응 초기 반응 지수(Q)는 평형 상수(K)보다 크다.

구분	A(g)	B(g)	C(g)
초기 농도(M)	0.2	0	0.4
평형 농도(M)	0.1	0.2	0.2

T에서 K는? (단, 온도는 일정하다.)

- ① 0.1                      ② 0.2                      ③ 0.4
- ④ 5                        ⑤ 10

15 [22028-0123] 그림은 온도 T의 비커에서 CaCl<sub>2</sub>(aq)과 CaCl<sub>2</sub>(s)이 평형 상태에 도달한 것을 나타낸 것이다.



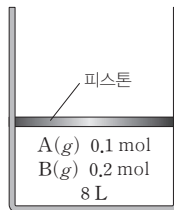
충분한 시간이 지났을 때 수용액 속 Ca<sup>2+</sup>의 양(mol)을 증가시키는 반응 조건만을 <보기>에서 있는 대로 고른 것은? (단, 온도는 일정하고, Ca<sup>2+</sup>과 CO<sub>3</sub><sup>2-</sup>은 결합하여 물에 녹지 않는 염을 생성한다.)

보기

- ㄱ. CaCl<sub>2</sub>(s) 1 g을 첨가한다.
- ㄴ. 물 100 mL를 첨가한다.
- ㄷ. Na<sub>2</sub>CO<sub>3</sub>(s) 0.01 mol을 첨가한다.

- ① ㄱ                      ② ㄴ                      ③ ㄱ, ㄷ
- ④ ㄴ, ㄷ                ⑤ ㄱ, ㄴ, ㄷ

16 [22028-0124] 그림은 반응 A(g) ⇌ 2B(g)이 온도 T의 실린더에서 평형 상태에 도달한 것을 나타낸 것이다.



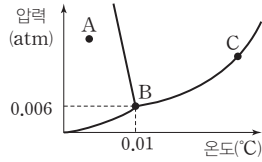
이에 대한 설명으로 옳은 것만을 <보기>에서 있는 대로 고른 것은? (단, 온도와 대기압은 일정하고, 피스톤의 질량과 마찰은 무시한다.)

보기

- ㄱ. 평형 상수 K=0.05이다.
- ㄴ. 외부 압력을 2배로 하여 도달한 평형 상태에서 기체 부피는 4 L보다 작다.
- ㄷ. He(g) 0.3 mol을 첨가한 초기 상태에서 반응 지수 Q > K이다.

- ① ㄱ                      ② ㄷ                      ③ ㄱ, ㄴ
- ④ ㄴ, ㄷ                ⑤ ㄱ, ㄴ, ㄷ

17 [22028-0125] 그림은 물의 상평형 그림을 나타낸 것이다.



이에 대한 설명으로 옳은 것만을 <보기>에서 있는 대로 고른 것은?

- 보기
- ㄱ. A에서 물은 고체로 존재한다.
  - ㄴ. B는 물의 삼중점이다.
  - ㄷ. C의 평형 상태에서 온도를 일정하게 유지하며 압력을 낮추면 물은 수증기가 된다.

- ① ㄱ                      ② ㄴ                      ③ ㄱ, ㄷ
- ④ ㄴ, ㄷ                ⑤ ㄱ, ㄴ, ㄷ

18 [22028-0126] 표는 1 atm에서 온도에 따른 물의 안정한 상태를 나타낸 것이다.

온도(°C)	안정한 상태
$t_1$	고체, 액체
$t_2$	액체, 기체
$t_3$	고체

이에 대한 설명으로 옳은 것만을 <보기>에서 있는 대로 고른 것은?

- 보기
- ㄱ. 물의 기준 끓는점은  $t_2$ °C이다.
  - ㄴ.  $t_1 < t_3$ 이다.
  - ㄷ. 물의 삼중점에서의 온도는  $t_1$ °C보다 높다.

- ① ㄱ                      ② ㄴ                      ③ ㄱ, ㄷ
- ④ ㄴ, ㄷ                ⑤ ㄱ, ㄴ, ㄷ

19 [22028-0127] 표는 각각 이산화 탄소와 물의 삼중점에서의 온도( $T_T$ )와 압력( $P_T$ )이다. A와 B는 각각 물과 이산화 탄소 중 하나이다.

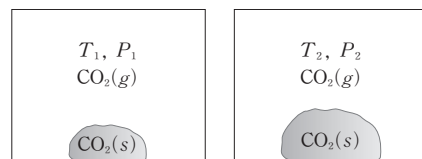
물질	$T_T$ (K)	$P_T$ (atm)
이산화 탄소	216	5.1
물	273	0.006

일정한 압력  $P$  atm에서 온도  $T$  K의 A(s)와 B(s)를 온도를 증가시켰을 때 A(s)는 용해되어 A(l)로, B(s)는 승화되어 B(g)로 각각 변화했을 때, 이에 대한 설명으로 옳은 것만을 <보기>에서 있는 대로 고른 것은?

- 보기
- ㄱ. A는 물이다.
  - ㄴ.  $T < 216$ 이다.
  - ㄷ.  $P > 0.006$ 이다.

- ① ㄱ                      ② ㄴ                      ③ ㄱ, ㄷ
- ④ ㄴ, ㄷ                ⑤ ㄱ, ㄴ, ㄷ

20 [22028-0128] 그림은 서로 다른 온도의 강철 용기에서  $CO_2(g)$ 와  $CO_2(s)$ 가 평형 상태에 도달한 것을 나타낸 것이다.  $T_1 > T_2$ 이다.



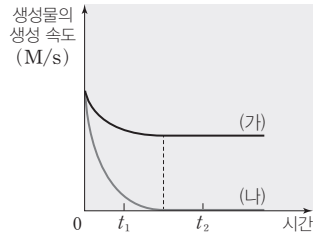
이에 대한 설명으로 옳은 것만을 <보기>에서 있는 대로 고른 것은?

- 보기
- ㄱ.  $P_1 > P_2$ 이다.
  - ㄴ. 삼중점에서의 압력은  $P_1$ 보다 크다.
  - ㄷ. 삼중점에서의 온도는  $T_2$ 보다 낮다.

- ① ㄴ                      ② ㄷ                      ③ ㄱ, ㄴ
- ④ ㄱ, ㄷ                ⑤ ㄱ, ㄴ, ㄷ

(가)에서 생성물의 생성 속도가 감소하다가 일정한 값을 가지므로 (가)는 가역 반응이고, (나)에서 생성물의 생성 속도가 0이 되므로 (나)는 비가역 반응이다.

01 [22028-0129] 그림은 일정량의 반응물을 2개의 강철 용기에 각각 넣은 후 반응 (가)와 (나)가 일어날 때 시간에 따른 생성물의 생성 속도를 나타낸 것이다.



이에 대한 설명으로 옳은 것만을 <보기>에서 있는 대로 고른 것은? (단, 온도는 일정하다.)

보기

- ㄱ. (가)에서  $t_1$ 일 때 정반응 속도 > 역반응 속도이다.
- ㄴ. (나)는 가역 반응이다.
- ㄷ. (가)에서 생성물의 농도는  $t_1 > t_2$ 이다.

- ① ㄱ                      ② ㄴ                      ③ ㄱ, ㄷ                      ④ ㄴ, ㄷ                      ⑤ ㄱ, ㄴ, ㄷ

평형 상수( $K$ )는 온도가 같으면 일정한 값을 가지므로 (가)와 (나)에서  $K$ 는 같다.

02 [22028-0130] 표는 온도  $T$ 에서 각각 초기 농도를 달리하여  $A(g)$ 를 넣은 2개의 강철 용기에서 반응  $A(g) \rightleftharpoons 2B(g)$ 이 평형 상태에 도달했을 때 A와 B의 농도를 나타낸 것이다.

용기	평형 농도(M)	
	$A(g)$	$B(g)$
(가)	0.2	0.2
(나)	0.8	$a$

이에 대한 설명으로 옳은 것만을 <보기>에서 있는 대로 고른 것은? (단, 온도는 일정하다.)

보기

- ㄱ. 온도  $T$ 에서 평형 상수  $K=0.2$ 이다.
- ㄴ. 용기 속 전체 기체 압력비는 (가) : (나) = 1 : 3이다.
- ㄷ. A의 초기 농도는 (나)가 (가)의 4배이다.

- ① ㄱ                      ② ㄷ                      ③ ㄱ, ㄴ                      ④ ㄴ, ㄷ                      ⑤ ㄱ, ㄴ, ㄷ



03 [22028-0131]

다음은 기체 A가 반응하여 기체 B를 생성하는 반응의 화학 반응식과 온도 T에서의 평형 상수 (K)이다.

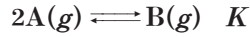
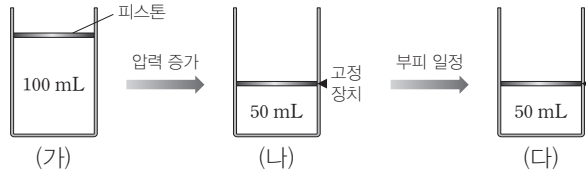


그림 (가)는 실린더에서 이 반응이 도달한 평형 상태를, (나)는 (가)에서 압력을 가하여 혼합 기체의 부피를 50 mL로 만든 초기 상태를, (다)는 (나)의 실린더에서 혼합 기체의 부피를 50 mL로 유지시켜 도달한 새로운 평형 상태를 나타낸 것이다.



이에 대한 설명으로 옳은 것만을 <보기>에서 있는 대로 고른 것은? (단, 온도는 T로 일정하다.)

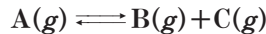
보기

- ㄱ. (나)에서 반응 지수  $Q > K$ 이다.
- ㄴ. (다)에서 혼합 기체의 압력은 (가)의 2배보다 작다.
- ㄷ.  $\frac{[A]}{[B]}$ 는 (가) > (다)이다.

- ① ㄱ      ② ㄴ      ③ ㄱ, ㄷ      ④ ㄴ, ㄷ      ⑤ ㄱ, ㄴ, ㄷ

04 [22028-0132]

다음은 기체 A가 반응하여 기체 B와 C를 생성하는 반응의 화학 반응식이다.



표는 온도 T에서 동일한 3개의 강철 용기에 A~C의 양(mol)을 달리하여 넣은 초기 상태를 나타낸 것이다.

강철 용기	A의 양(mol)	B의 양(mol)	C의 양(mol)
(가)	0.1	0.1	0
(나)	0	0.1	0.1
(다)	0	0	0.2

충분한 시간이 지났을 때, 이에 대한 설명으로 옳은 것만을 <보기>에서 있는 대로 고른 것은? (단, 온도는 일정하다.)

보기

- ㄱ. A의 부분 압력은 (가) > (나)이다.
- ㄴ. 전체 기체 압력은 (나) = (다)이다.
- ㄷ. (다)에서 C의 양(mol)이 감소한다.

- ① ㄱ      ② ㄴ      ③ ㄱ, ㄷ      ④ ㄴ, ㄷ      ⑤ ㄱ, ㄴ, ㄷ

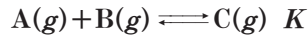
반응 지수(Q)는 현재의 농도를 평형 상수식에 대입하여 얻을 수 있으며,  $Q < K$ 일 때 정반응 쪽으로 평형이 이동하고  $Q > K$ 일 때 역반응 쪽으로 평형이 이동하며  $Q = K$ 일 때가 평형 상태이다.

강철 용기에 A 0.1 mol을 넣어 도달한 평형 상태와 (나)에서 도달한 평형 상태에서 B 0.1 mol을 첨가했을 때 도달한 평형 상태는 같다.

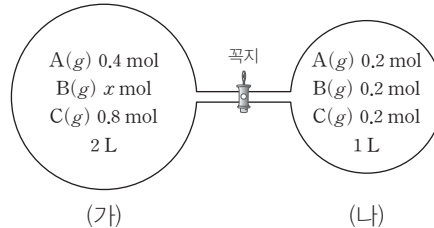
(나)의 평형 농도로부터 평형 상수를 구한 후, (가)의 평형 농도로부터  $x$ 를 구한다.

05 [22028-0133]

다음은  $A(g)$ 와  $B(g)$ 가 반응하여  $C(g)$ 를 생성하는 반응의 화학 반응식과 온도  $T$ 에서 농도로 정의되는 평형 상수( $K$ )이다.



그림은 꼭지로 연결된 온도  $T$ 의 두 용기에서 이 반응이 각각 평형 상태에 도달한 것을 나타낸 것이다.



이에 대한 설명으로 옳은 것만을 <보기>에서 있는 대로 고른 것은? (단, 온도는 일정하고, 연결관의 부피는 무시한다.)

보기

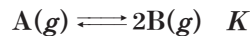
- ㄱ.  $K=5$ 이다.
- ㄴ.  $x=0.2$ 이다.
- ㄷ. 꼭지를 열면 정반응이 우세하게 진행된다.

- ① ㄱ      ② ㄴ      ③ ㄱ, ㄷ      ④ ㄴ, ㄷ      ⑤ ㄱ, ㄴ, ㄷ

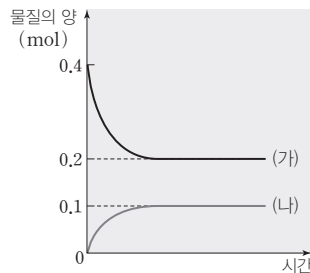
화학 반응식의 반응 계수와 반응 전과 평형 상태에서 물질의 양(mol)으로부터 (가)와 (나)를 찾을 수 있다.

06 [22028-0134]

다음은  $A(g)$ 로부터  $B(g)$ 가 생성되는 반응의 화학 반응식과 온도  $T$ 에서 농도로 정의되는 평형 상수( $K$ )이다.



그림은 2 L의 강철 용기에 A 또는 B를 넣은 후 이 반응이 일어날 때 시간에 따른 A와 B의 양(mol)을 나타낸 것이다. (가)와 (나)는 각각 A와 B 중 하나이다.

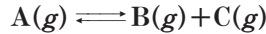


(가)와  $K$ 로 옳은 것은? (단, 온도는  $T$ 로 일정하다.)

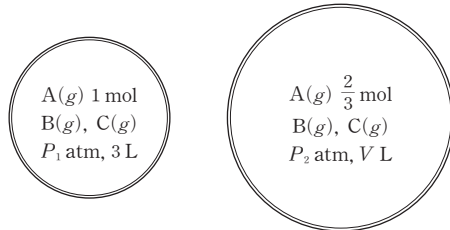
- |     |      |     |     |
|-----|------|-----|-----|
| (가) | $K$  | (가) | $K$ |
| ① A | 0.02 | ② A | 0.4 |
| ③ A | 5    | ④ B | 0.2 |
| ⑤ B | 0.4  |     |     |

07 [22028-0135]

다음은 A(g)가 반응하여 B(g)와 C(g)를 생성하는 반응의 화학 반응식이다.



그림은 온도 T에서 2개의 강철 용기에 각각 2 mol의 A(g)를 넣고 반응이 진행되어 평형 상태에 도달한 것을 나타낸 것이다.



$P_1 : P_2$ 는? (단, 온도는 일정하다.)

- ① 4 : 1      ② 3 : 1      ③ 5 : 2      ④ 12 : 5      ⑤ 10 : 6

부피가 3 L인 용기에서 화학 반응의 양적 관계로부터 평형 농도를 구하면 A~C의 농도는 각각  $\frac{1}{3}$  M이다.

08 [22028-0136]

다음은 A(g)와 B(g)가 반응하여 C(g)를 생성하는 반응의 화학 반응식이다.

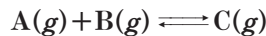
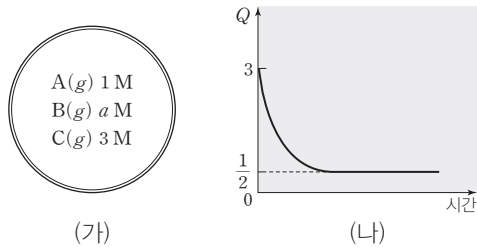


그림 (가)는 온도 T의 강철 용기에 A(g)~C(g)가 들어 있는 초기 상태를, (나)는 (가)의 용기에서 이 반응이 일어날 때, 반응 시간에 따른 반응 지수(Q)를 나타낸 것이다.



이에 대한 설명으로 옳은 것만을 <보기>에서 있는 대로 고른 것은? (단, 온도는 일정하다.)

보기

- ㄱ.  $a=1$ 이다.
- ㄴ. 반응 초기에 정반응이 우세하게 일어난다.
- ㄷ. 평형 상태에서 A의 몰 분율은  $\frac{1}{3}$ 이다.

- ① ㄱ      ② ㄴ      ③ ㄱ, ㄷ      ④ ㄴ, ㄷ      ⑤ ㄱ, ㄴ, ㄷ

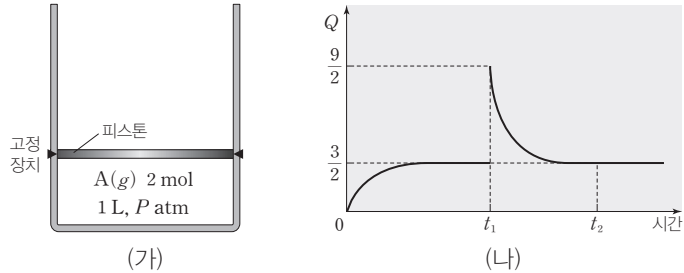
반응 지수가  $\frac{1}{2}$ 에 수렴하므로 온도 T에서 평형 상수(K)는  $\frac{1}{2}$ 이다.

그림에서 평형 상수( $K$ )는  $\frac{3}{2}$ 임을 알 수 있고,  $t_1$ 에서 반응 지수가  $\frac{9}{2}$ 이므로 변화시킨 후의 부피를 구할 수 있다.

고체는 평형 상수식에 포함하지 않는다. 따라서 이 반응의 평형 상수  $K = [\text{CO}_2]$ 이다.

09 [22028-0137]

그림 (가)는 온도  $T$ 의 실린더에  $A(g)$ 를 넣은 초기 상태를, (나)는 (가)의 실린더에서 반응  $2A(g) \rightleftharpoons B(g)$ 이 일어날 때, 시간에 따른 반응 지수( $Q$ )를 나타낸 것이다.  $t_1$ 에서 실린더의 부피를 변화시킨 후 부피를 일정하게 유지시켰다.



$t_2$ 일 때 전체 기체 압력(atm)은? (단, 온도는 일정하다.)

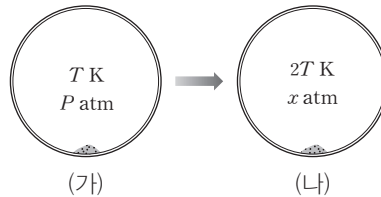
- ①  $\frac{1}{8}P$       ②  $\frac{1}{4}P$       ③  $\frac{3}{8}P$       ④  $\frac{1}{2}P$       ⑤  $\frac{3}{4}P$

10 [22028-0138]

다음은  $\text{CaCO}_3(s)$ 이 반응하여  $\text{CaO}(s)$ 과  $\text{CO}_2(g)$ 를 생성하는 열화학 반응식이다.



그림 (가)는  $T \text{ K}$ ,  $P \text{ atm}$ 의 강철 용기에서 반응이 도달한 평형 상태를, (나)는 (가)의 온도를  $2T \text{ K}$ 로 증가시켜 도달한 평형 상태를 나타낸 것이다.



이에 대한 설명으로 옳은 것만을 <보기>에서 있는 대로 고른 것은? (단, 고체의 부피는 무시한다.)

- 보기
- ㄱ. 평형 상수( $K$ )는 (가) > (나)이다.
  - ㄴ.  $x > 2P$ 이다.
  - ㄷ.  $\text{CaO}(s)$ 의 질량은 (가) > (나)이다.

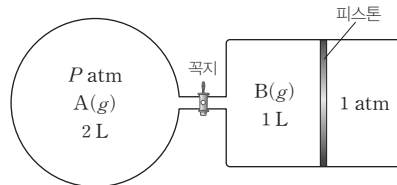
- ① ㄱ      ② ㄴ      ③ ㄱ, ㄷ      ④ ㄴ, ㄷ      ⑤ ㄱ, ㄴ, ㄷ

11 [2028-0139]

다음은 A(g)로부터 B(g)가 생성되는 반응의 화학 반응식과 온도 T K에서 농도로 정의되는 평형 상수(K)이다.



그림은 꼭지로 연결된 용기와 실린더에 A(g)와 B(g)가 각각 들어 있는 초기 상태를 나타낸 것이다. 꼭지를 열어 이 반응이 일어나 도달한 평형 상태에서 실린더 속 기체 부피는 1 L이었다.

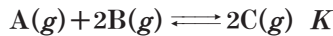


평형 상태에서 A의 몰 분율은? (단, 기체 상수는  $R \text{ L} \cdot \text{atm}/(\text{mol} \cdot \text{K})$ 이고, 온도와 대기압은 일정하며, 피스톤의 마찰과 연결관의 부피는 무시한다.)

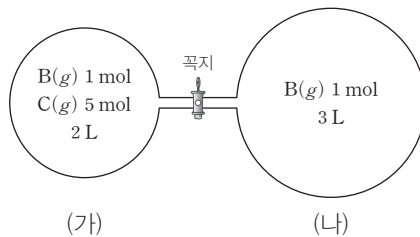
- ①  $\frac{1}{4}$       ②  $\frac{1}{3}$       ③  $\frac{1}{2}$       ④  $\frac{2}{3}$       ⑤  $\frac{3}{4}$

12 [2028-0140]

다음은 A(g)와 B(g)가 반응하여 C(g)를 생성하는 화학 반응식과 온도 T에서 농도로 정의되는 평형 상수(K)이다.



그림은 온도 T에서 꼭지로 연결된 2개의 용기에 각각 B(g)와 C(g), B(g)를 넣은 초기 상태를 나타낸 것이다. (가)에서 도달한 평형 상태에서  $\frac{\text{C의 양(mol)}}{\text{B의 양(mol)}} = 2$ 이다.



충분한 시간이 지난 후에 대한 설명으로 옳은 것만을 <보기>에서 있는 대로 고른 것은? (단, 온도는 일정하고, 연결관의 부피는 무시한다.)

보기

ㄱ.  $K = 8$ 이다.  
 ㄴ. 전체 기체의 압력비는 (가) : (나) = 39 : 4이다.  
 ㄷ. 꼭지를 열었을 때 정반응이 우세하게 일어난다.

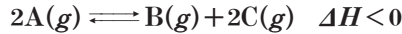
- ① ㄱ      ② ㄴ      ③ ㄱ, ㄷ      ④ ㄴ, ㄷ      ⑤ ㄱ, ㄴ, ㄷ

이상기체 방정식( $PV = nRT$ )에서 기체의 양(mol)은  $n = \frac{PV}{RT}$ 이므로 반응 전 A와 B의 양은 각각  $\frac{2P}{RT}$  mol,  $\frac{1}{RT}$  mol이다.

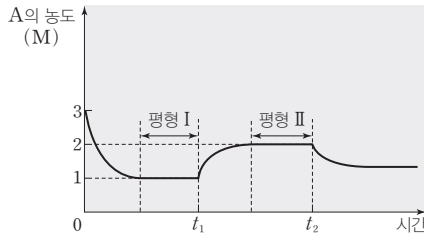
(가)의 평형 상태에서  $\frac{\text{C의 양(mol)}}{\text{B의 양(mol)}} = 2$ 이므로 이 반응의 양적 관계를 통해 A~C의 농도를 구한다.

$t_1$ 에서 A의 농도가 증가하므로  $t_1$ 에서 첨가한 물질은 B 또는 C이다.

13 [22028-0141] 다음은 A(g)가 반응하여 B(g)와 C(g)를 생성하는 반응의 열화학 반응식이다.



그림은 1 L의 강철 용기에 A를 넣고 반응이 일어날 때, 시간에 따른 A의 농도를 나타낸 것이다.  $t_1$ 에서 A~C 중 1가지 물질을 첨가하였고,  $t_2$ 에서 온도를 변화시켰으며, II에서 C의 농도는 1 M이다.



이에 대한 설명으로 옳은 것만을 <보기>에서 있는 대로 고른 것은? (단, 평형 I 과 II에서 온도는 같다.)

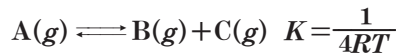
보기

- ㄱ.  $t_1$ 에서 A를 첨가하였다.
- ㄴ.  $t_2$ 에서 온도를 낮추었다.
- ㄷ. A의 몰 분율은 I에서가 II에서보다 작다.

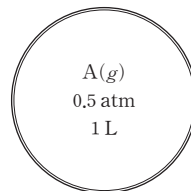
- ① ㄱ      ② ㄴ      ③ ㄱ, ㄷ      ④ ㄴ, ㄷ      ⑤ ㄱ, ㄴ, ㄷ

평형 상수(K)와 화학 반응의 양적 관계로부터 A~C의 평형 농도를 구한다.

14 [22028-0142] 다음은 A가 반응하여 B와 C를 생성하는 반응의 화학 반응식과 온도 T K에서 농도로 정의되는 평형 상수(K)이다.



그림은 온도 T K의 강철 용기에 A(g)를 넣은 초기 상태를 나타낸 것이다.



이 반응의 평형 상태에서 A(g)의 몰 분율은? (단, 온도는 일정하고, 기체 상수는  $R \text{ L} \cdot \text{atm} / (\text{mol} \cdot \text{K})$ 이다.)

- ①  $\frac{1}{6}$       ②  $\frac{1}{5}$       ③  $\frac{1}{4}$       ④  $\frac{1}{3}$       ⑤  $\frac{1}{2}$

[22028-0143]

15 표는 온도  $T$ , 대기압 1 atm에서 실린더에 A(g) 2 mol을 넣은 초기 상태와 반응이 진행되어 도달한 평형 상태 I 과, I 에 A(g)  $x$  mol을 첨가하여 도달한 새로운 평형 상태 II 에서 실린더에 존재하는 물질의 양(mol)을 나타낸 것이다.

구분	물질의 양(mol)	
	A(g)	B(g)
반응 초기	2.0	0
평형 I	0.5	0.75
평형 II	$2n$	$3n$

이에 대한 설명으로 옳은 것만을 <보기>에서 있는 대로 고른 것은? (단, 온도와 대기압은 일정하고, 피스톤의 질량과 마찰은 무시한다.)

보기

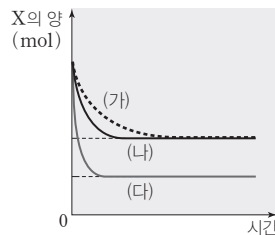
- ㄱ. 화학 반응식은  $2A(g) \rightleftharpoons B(g)$ 이다.
- ㄴ. II 에서 A의 양은  $(0.5 - \frac{3}{4}x)$  mol이다.
- ㄷ. 혼합 기체의 밀도비는 I : II = 2 : 3이다.

- ① ㄱ                      ② ㄴ                      ③ ㄱ, ㄷ                      ④ ㄴ, ㄷ                      ⑤ ㄱ, ㄴ, ㄷ

[22028-0144]

16 표는 강철 용기에 일정량의 X를 넣고 반응  $X(g) \rightleftharpoons Y(g)$ 이 일어날 때 반응 조건을, 그림은 (가)~(다)에서 시간에 따른 X의 양(mol)을 나타낸 것이다.

반응 조건	온도(°C)	촉매 사용 여부
(가)	$t_1$	×
(나)	$t_1$	○
(다)	$t_2$	×



이에 대한 설명으로 옳은 것만을 <보기>에서 있는 대로 고른 것은?

보기

- ㄱ.  $t_1 < t_2$ 이다.
- ㄴ. (나)에서 사용한 촉매는 정촉매이다.
- ㄷ. 이 반응의 반응 엔탈피  $\Delta H > 0$ 이다.

- ① ㄱ                      ② ㄴ                      ③ ㄱ, ㄷ                      ④ ㄴ, ㄷ                      ⑤ ㄱ, ㄴ, ㄷ

온도와 압력이 일정한 실린더에서 반응 초기 A의 양(mol)과 관계없이 평형 상태에서 혼합 기체의 밀도는 일정하다.

평형 농도가 같은 (가)와 (나)는 평형 상수(K)가 같으므로 온도가 같고, 반응 초기 기울기의 절댓값이 초기 반응 속도에 해당하므로 온도는 (다) > (가)이다.

(가)의 평형 상태에서 A의 몰 분율이  $\frac{1}{3}$ 이므로 A와 B의 압력은 각각  $\frac{P}{3}$  atm,  $\frac{2P}{3}$  atm이다.

17 [22028-0145] 다음은 A가 반응하여 B를 생성하는 반응의 열화학 반응식이다.



표는 실린더에 A(g) 1 mol을 넣어 이 반응이 평형 상태에 도달하였을 때의 자료이다.

평형 상태	A의 몰 분율	외부 압력(atm)	온도(K)
(가)	$\frac{1}{3}$	$P$	$T$
(나)	$\frac{1}{4}$	$x$	$T$
(다)	$\frac{1}{3}$	$y$	$\frac{5}{4}T$

이에 대한 설명으로 옳은 것만을 <보기>에서 있는 대로 고른 것은? (단, 피스톤의 질량과 마찰은 무시한다.)

□ 보기 □

ㄱ.  $x = \frac{5}{3}P$ 이다.

ㄴ. 혼합 기체의 밀도비는 (가) : (나) = 9 : 5이다.

ㄷ.  $y < P$ 이다.

- ① ㄱ                      ② ㄴ                      ③ ㄱ, ㄷ                      ④ ㄴ, ㄷ                      ⑤ ㄱ, ㄴ, ㄷ

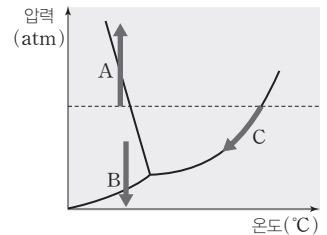
높은 산에서 밥을 하면 쌀이 설익는 것은 끓는점이 낮아지기 때문이다.

18 [22028-0146] 다음은 우리 주변에서 볼 수 있는 3가지 현상과 물의 상평형 그림을 나타낸 것이다. A~C는 각각 현상 (가)~(다)를 설명하는 변화 중 하나이다.

(가) 높은 산에서 밥을 하면 쌀이 설익는다.

(나) 얼음에 압력을 가하면 얼음이 녹는다.

(다) 동결 건조 방법을 이용하여 건조 식품을 만든다.



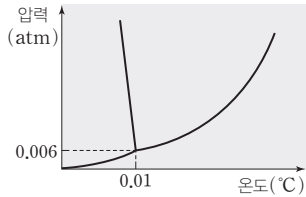
(가)~(다)를 짝 지은 것으로 옳은 것은?

- |   |     |     |     |   |     |     |     |
|---|-----|-----|-----|---|-----|-----|-----|
|   | (가) | (나) | (다) |   | (가) | (나) | (다) |
| ① | A   | B   | C   | ② | B   | A   | C   |
| ③ | B   | C   | A   | ④ | C   | A   | B   |
| ⑤ | C   | B   | A   |   |     |     |     |

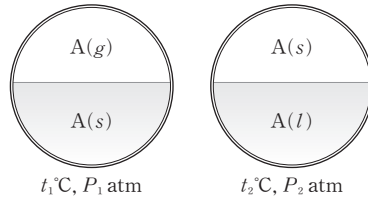


19 [22028-0147]

그림 (가)는 A의 상평형 그림을, (나)는 2개의 강철 용기에 서로 다른 온도, 압력에서 A(g)와 A(s), A(s)와 A(l)가 평형을 이루는 것을 나타낸 것이다.



(가)



(나)

A(g)와 A(s)가 평형을 이루는 온도와 압력은 승화 곡선의 온도와 압력에 해당하고, A(s)와 A(l)가 평형을 이루는 온도와 압력은 용해 곡선의 온도와 압력에 해당한다.

이에 대한 설명으로 옳은 것만을 <보기>에서 있는 대로 고른 것은?

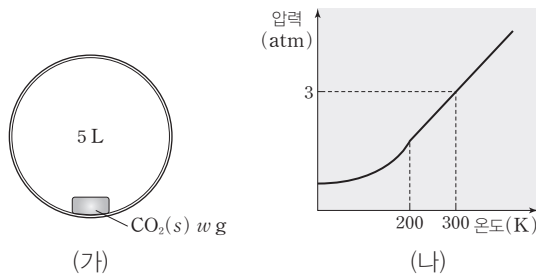
보기

- ㄱ.  $P_1 < P_2$ 이다.
- ㄴ.  $t_1 < 0.01$ 이다.
- ㄷ.  $t_2 > 0.01$ 이다.

- ① ㄱ      ② ㄷ      ③ ㄱ, ㄴ      ④ ㄴ, ㄷ      ⑤ ㄱ, ㄴ, ㄷ

20 [22028-0148]

그림 (가)는 강철 용기에 w g의 CO<sub>2</sub>(s)를 넣은 것을, (나)는 (가)에서 강철 용기의 온도를 서서히 증가시켰을 때, 온도에 따른 CO<sub>2</sub>(g)의 압력을 나타낸 것이다.



(가)

(나)

(나)의 그래프에서 200 K 이하의 온도에서 고체와 기체가 상평형을 이루고, 200 K보다 높은 온도에서 기체만 존재함을 알 수 있다.

이에 대한 설명으로 옳은 것만을 <보기>에서 있는 대로 고른 것은? (단, CO<sub>2</sub>의 분자량은 44, 기체 상수 (R)는 0.08 L·atm/(mol·K)이다.)

보기

- ㄱ. 삼중점에서 압력은 2 atm보다 크다.
- ㄴ. 200 K, 1 atm에서 안정한 상태는 기체이다.
- ㄷ.  $w = 27.5$ 이다.

- ① ㄱ      ② ㄴ      ③ ㄱ, ㄷ      ④ ㄴ, ㄷ      ⑤ ㄱ, ㄴ, ㄷ

### 개념 체크

● **강산, 강염기, 약산, 약염기** : 강산과 강염기는 물에 녹아 대부분 이온화하는 산과 염기이고, 약산과 약염기는 물에 녹아 일부만 이온화하는 산과 염기이다.

1. 같은 온도와 농도일 때  $\text{HCl}(aq)$ 이  $\text{CH}_3\text{COOH}(aq)$ 보다 이온화하는 정도가 ( )다.
2. 같은 농도, 같은 부피일 때,  $\text{OH}^-$  수는  $\text{NaOH}(aq) > \text{NH}_3(aq)$ 이다. (○, ×)
3. 같은 농도, 같은 부피의 수용액에 들어 있는 전체 이온 수는  $\text{CH}_3\text{COOH}(aq) > \text{HCl}(aq)$ 이다. (○, ×)

## 1 산과 염기의 세기

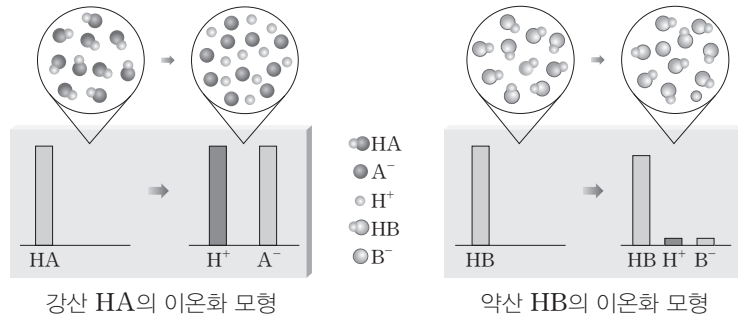
### (1) 이온화와 산·염기의 세기

① **강산과 약산** : 물에 녹아 대부분 이온화하는 산을 강산, 물에 녹아 일부만 이온화하는 산을 약산이라고 한다.

예 강산 : 염산( $\text{HCl}$ ), 황산( $\text{H}_2\text{SO}_4$ ), 질산( $\text{HNO}_3$ ) 등

약산 : 탄산( $\text{H}_2\text{CO}_3$ ), 인산( $\text{H}_3\text{PO}_4$ ), 아세트산( $\text{CH}_3\text{COOH}$ ) 등

• 강산은 약산보다 같은 온도와 농도인 수용액에서 이온화하는 정도가 커 수소 이온( $\text{H}^+$ )을 더 많이 내놓는다.



② **강염기와 약염기** : 물에 녹아 대부분 이온화하는 염기를 강염기, 물에 녹아 일부만 이온화하는 염기를 약염기라고 한다.

예 강염기 : 수산화 나트륨( $\text{NaOH}$ ), 수산화 칼륨( $\text{KOH}$ ), 수산화 칼슘( $\text{Ca}(\text{OH})_2$ ) 등

약염기 : 암모니아( $\text{NH}_3$ ), 메틸 아민( $\text{CH}_3\text{NH}_2$ ) 등

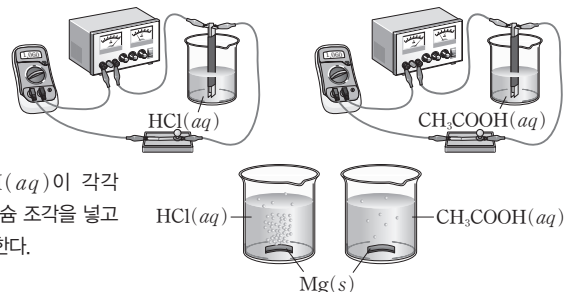
• 강염기는 약염기보다 같은 온도, 농도, 부피인 수용액에서 수산화 이온( $\text{OH}^-$ )을 더 많이 내놓는다.

### 탐구자료 살펴보기 산의 세기 비교

#### 실험 과정

1. 농도가 같은  $\text{HCl}(aq)$ 과  $\text{CH}_3\text{COOH}(aq)$ 을 2개의 비커에 각각 넣고, 전극을 담근 후 전류의 세기를 측정하여 이온화하는 정도를 알아본다.

2. 농도가 같은  $\text{HCl}(aq)$ 과  $\text{CH}_3\text{COOH}(aq)$ 이 각각 50 mL씩 들어 있는 비커에 동일한 마그네슘 조각을 넣고 반응 초기에 발생하는  $\text{H}_2(g)$ 의 양을 비교한다.



#### 실험 결과

• 반응 초기에 발생하는  $\text{H}_2(g)$ 의 양은  $\text{HCl}(aq)$ 에서가  $\text{CH}_3\text{COOH}(aq)$ 에서보다 많았다.

#### 분석 Point

반응 초기 발생하는  $\text{H}_2(g)$ 의 양이 많을수록, 수용액 속  $\text{H}^+$ 의 농도가 크므로 이온화가 잘 되는 산이다.

→ 수용액에 존재하는  $\text{H}^+$  수 :  $\text{HCl}(aq) > \text{CH}_3\text{COOH}(aq)$

→ 물에 녹아 이온화하는 정도는  $\text{HCl}$ 가  $\text{CH}_3\text{COOH}$ 보다 크다.

정답

1. 크
2. ○
3. ×

## 과학 돋보기 이온화도

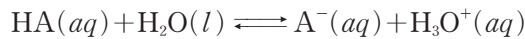
- 이온화 평형을 이루는 전해질 수용액에서 용해된 전해질의 양(mol)에 대한 이온화된 전해질의 양(mol)의 비를 이온화도( $\alpha$ )라고 한다.

$$\text{이온화도}(\alpha) = \frac{\text{이온화된 전해질의 양(mol)}}{\text{용해된 전해질의 양(mol)}} \quad (0 < \alpha < 1)$$

- 농도가 같을 때 산과 염기의 이온화도가 클수록 산과 염기의 세기가 강하다.
- 강산과 강염기는 용해된 물질의 대부분이 이온화되므로 이온화도는 1에 가깝고, 약산과 약염기는 용해된 물질의 일부분만 이온화되므로 이온화도가 매우 작다.

### (2) 이온화 상수와 산과 염기의 세기

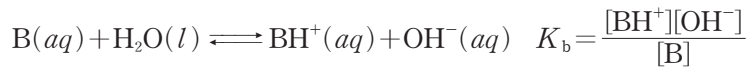
- ① 산의 이온화 상수( $K_a$ ) : 산 HA는 물에 녹아 다음과 같이 이온화 평형을 이룬다.



이 반응의 평형 상수  $K = \frac{[\text{H}_3\text{O}^+][\text{A}^-]}{[\text{HA}][\text{H}_2\text{O}]}$ 이다. 수용액에서 용매인 물의 농도는 평형 상수를

구하는 식에 나타내지 않으며, 상수  $K_a$ 로 나타내면  $K_a = \frac{[\text{H}_3\text{O}^+][\text{A}^-]}{[\text{HA}]}$ 이고, 이때  $K_a$ 를 산의 이온화 상수라고 한다.

- ② 염기의 이온화 상수( $K_b$ ) : 염기 B가 물에 녹아 이온화 평형을 이룰 때 염기의 이온화 상수  $K_b$ 는 다음과 같다.



- ③  $K_a$ 와  $K_b$ 의 성질

- $K_a$ 와  $K_b$ 는 일종의 평형 상수이므로 온도에만 영향을 받고, 온도가 일정하면 농도에 관계없이 항상 일정하다.
- $K_a$ 가 클수록 이온화가 잘 되어  $[\text{H}_3\text{O}^+]$ 가 크므로 상대적으로 강한 산이고,  $K_a$ 가 작을수록 상대적으로 약한 산이다.
- $K_b$ 가 클수록 이온화가 잘 되어  $[\text{OH}^-]$ 가 크므로 상대적으로 강한 염기이고,  $K_b$ 가 작을수록 상대적으로 약한 염기이다.
- 몇 가지 산의 이온화 상수( $K_a$ )

산	이온화 반응	$K_a$ (25°C)
HCl	$\text{HCl}(aq) + \text{H}_2\text{O}(l) \rightleftharpoons \text{Cl}^-(aq) + \text{H}_3\text{O}^+(aq)$	매우 크다.
$\text{CH}_3\text{COOH}$	$\text{CH}_3\text{COOH}(aq) + \text{H}_2\text{O}(l) \rightleftharpoons \text{CH}_3\text{COO}^-(aq) + \text{H}_3\text{O}^+(aq)$	$1.8 \times 10^{-5}$
HCN	$\text{HCN}(aq) + \text{H}_2\text{O}(l) \rightleftharpoons \text{CN}^-(aq) + \text{H}_3\text{O}^+(aq)$	$6.2 \times 10^{-10}$

➔ 산의 세기 :  $\text{HCl} > \text{CH}_3\text{COOH} > \text{HCN}$

- 몇 가지 염기의 이온화 상수( $K_b$ )

염기	이온화 반응	$K_b$ (25°C)
$\text{CH}_3\text{NH}_2$	$\text{CH}_3\text{NH}_2(aq) + \text{H}_2\text{O}(l) \rightleftharpoons \text{CH}_3\text{NH}_3^+(aq) + \text{OH}^-(aq)$	$4.6 \times 10^{-4}$
$\text{NH}_3$	$\text{NH}_3(aq) + \text{H}_2\text{O}(l) \rightleftharpoons \text{NH}_4^+(aq) + \text{OH}^-(aq)$	$1.8 \times 10^{-5}$

➔ 염기의 세기 :  $\text{CH}_3\text{NH}_2 > \text{NH}_3$

## 개념 체크

- 산 HA의 이온화 상수

$$K_a = \frac{[\text{H}_3\text{O}^+][\text{A}^-]}{[\text{HA}]}$$

- 염기 B의 이온화 상수

$$K_b = \frac{[\text{BH}^+][\text{OH}^-]}{[\text{B}]}$$

1.  $K_a$ 와  $K_b$ 는 평형 상수이므로 ( )에 의해서만 그 값이 변한다.

2. ( )은  $K_a$ 가 크고, ( )은  $K_a$ 가 작다.

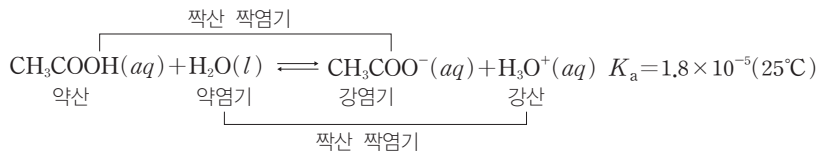
3. 산 HA(aq)이 이온화 평형을 이룰 때  $[\text{A}^-]$  ( )  $[\text{H}_3\text{O}^+]$ 이다.

정답

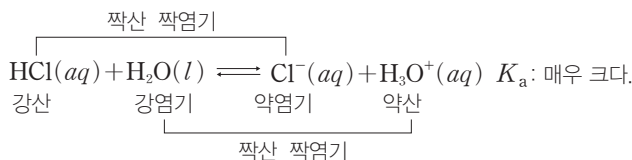
- 온도
- 강산, 약산
- =



다.  $H_3O^+$ 은  $CH_3COOH$ 보다 산의 세기가 강하므로  $H_3O^+$ 의 짝염기인  $H_2O$ 은  $CH_3COOH$ 의 짝염기인  $CH_3COO^-$ 보다 염기의 세기가 약하다.



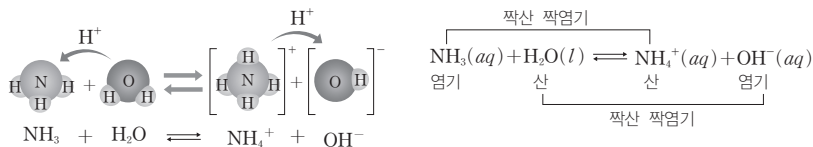
**예** 강산인 HCl의 이온화 반응은  $K_a$ 가 매우 크므로 정반응이 우세한 평형을 이룬다. HCl는  $H_3O^+$ 보다 산의 세기가 강하므로 HCl의 짝염기인  $Cl^-$ 은  $H_3O^+$ 의 짝염기인  $H_2O$ 보다 염기의 세기가 약하다.



**과학 돋보기**  $NH_3$ 와  $H_2O$ 의 반응에서 짝산 짝염기

[ $NH_3$ 와  $H_2O$ 이 반응할 때의 반응 모형과 화학 반응식]

- 정반응에서  $H_2O$ 이 내놓은  $H^+$ 을  $NH_3$ 가 받으므로  $H_2O$ 은 산이고,  $NH_3$ 는 염기이다.
- 역반응에서  $NH_4^+$ 이 내놓은  $H^+$ 을  $OH^-$ 이 받으므로  $NH_4^+$ 은 산이고,  $OH^-$ 은 염기이다.
- $NH_3$ 의 짝산은  $NH_4^+$ 이고,  $H_2O$ 의 짝염기는  $OH^-$ 이다.



**탐구자료** 살펴보기 산과 그 짝염기의 상대적 세기

자료

산의 세기	짝산 짝염기		짝염기의 세기
	산	염기	
↑ 강     약 ↓	HCl	$Cl^-$	약     강
	$H_3O^+$	$H_2O$	
	HF	$F^-$	
	$CH_3COOH$	$CH_3COO^-$	
	$NH_4^+$	$NH_3$	
	$H_2O$	$OH^-$	

분석

- 산의 세기:  $H^+$ 을 잘 내놓을수록 강산이다.  $\Rightarrow HCl > H_3O^+ > HF > CH_3COOH > NH_4^+ > H_2O$
- 짝염기의 세기:  $H^+$ 을 잘 받을수록 강염기이다.  $\Rightarrow Cl^- < H_2O < F^- < CH_3COO^- < NH_3 < OH^-$

Point

- 산의 세기가 강할수록 그 짝염기의 세기는 약하다.
- $HCl + H_2O \rightleftharpoons Cl^- + H_3O^+$ 의 반응에서 산의 세기는  $HCl > H_3O^+$ 이고 염기의 세기는  $Cl^- < H_2O$ 이다.

**개념 체크**

❶ 짝산과 짝염기의 상대적 세기: 산의 세기가 강할수록 그 짝염기의 세기는 약하고, 산의 세기가 약할수록 그 짝염기의 세기는 강하다.

1. 산이나 염기가 수용액에서 평형을 이룰 때 이온화 상수가 큰 물질은 ( )이 우세한 평형을 이룬다.
2. 산의 세기가 강할수록 그 짝염기의 세기는 ( )하고, 산의 세기가 약할수록 그 짝염기의 세기는 ( )하다.
3.  $HA(aq) + H_2O(l) \rightleftharpoons A^-(aq) + H_3O^+(aq)$   $K_a = 1.8 \times 10^{-5} (25^\circ\text{C})$ 의 반응에서 산의 세기는  $HA$  ( )  $H_3O^+$ 이고, 염기의 세기는  $H_2O$  ( )  $A^-$ 이다.

정답

1. 정반응
2. 약, 강
3. <, <

개념 체크

● **염의 가수 분해**: 염이 물에 녹을 때 생성된 이온이 물과 반응하여  $H_3O^+$ 이나  $OH^-$ 을 생성하는 반응이다.

- 같은 온도에서 짝산 짝염기 관계인 산의 이온화 상수와 염기의 이온화 상수 곱은 ( )하다.
- 약산과 강염기가 반응하여 생성된 염은 수용액에서 ( )을 나타낸다.
- $CH_3COONa(aq)$ 에서 ( )은 가수 분해한다.
- $NaCl(aq)$ 의 액성은( )이다.

(4) 짝산 짝염기의 이온화 상수

- 산 HA의 이온화 평형이  $HA(aq) + H_2O(l) \rightleftharpoons A^-(aq) + H_3O^+(aq)$ 일 때 HA의 짝염기인  $A^-$ 의 이온화 평형은  $A^-(aq) + H_2O(l) \rightleftharpoons HA(aq) + OH^-(aq)$ 이다.
- 산 HA의 이온화 상수는  $K_a = \frac{[H_3O^+][A^-]}{[HA]}$ 이고, 염기  $A^-$ 의 이온화 상수는  $K_b = \frac{[HA][OH^-]}{[A^-]}$ 이므로  $K_a \times K_b = \frac{[H_3O^+][A^-]}{[HA]} \times \frac{[HA][OH^-]}{[A^-]} = [H_3O^+][OH^-] = K_w$ 이다.

탐구자료 살펴보기 짝산 짝염기의 상대적 세기와 이온화 상수

자료

짝산			짝염기		
이름	화학적식	$K_a$ (25°C)	이름	화학적식	$K_b$ (25°C)
아세트산	$CH_3COOH$	$1.8 \times 10^{-5}$	아세트산 이온	$CH_3COO^-$	㉠
탄산	$H_2CO_3$	$4.2 \times 10^{-7}$	탄산수소 이온	$HCO_3^-$	$2.4 \times 10^{-8}$
암모늄 이온	$NH_4^+$	$5.6 \times 10^{-10}$	암모니아	$NH_3$	$1.8 \times 10^{-5}$

분석

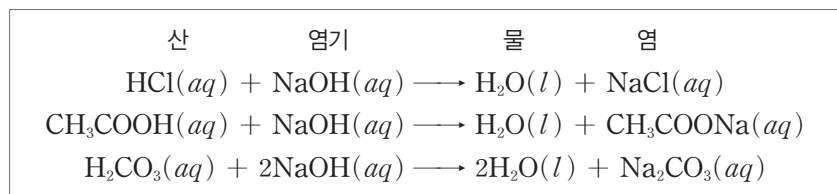
- 산의 이온화 상수( $K_a$ )가  $CH_3COOH > H_2CO_3$ 이므로 산의 세기는  $CH_3COOH > H_2CO_3$ 이며, 짝염기의 세기는  $HCO_3^- > CH_3COO^-$ 이므로 염기의 이온화 상수( $K_b$ )는  $HCO_3^- > CH_3COO^-$ 이다. 따라서 ㉠은  $2.4 \times 10^{-8}$ 보다 작다.
- 짝산 짝염기 관계인 산  $H_2CO_3$ 의 이온화 상수( $K_a$ )와 염기  $HCO_3^-$ 의 이온화 상수( $K_b$ )를 곱하면  $K_a \times K_b = (4.2 \times 10^{-7}) \times (2.4 \times 10^{-8}) \approx 1.0 \times 10^{-14}$ 이고, 짝산 짝염기 관계인 산  $NH_4^+$ 의 이온화 상수( $K_a$ )와 염기  $NH_3$ 의 이온화 상수( $K_b$ )를 곱하면  $K_a \times K_b = (5.6 \times 10^{-10}) \times (1.8 \times 10^{-5}) \approx 1.0 \times 10^{-14}$ 이다.
- 짝산 짝염기 관계인 산  $CH_3COOH$ 의 이온화 상수( $K_a$ )와 염기  $CH_3COO^-$ 의 이온화 상수( $K_b$ )의 곱은  $K_a \times K_b = (1.8 \times 10^{-5}) \times \text{㉠} = 1.0 \times 10^{-14}$ 에서 ㉠  $\approx 5.6 \times 10^{-10}$ 이다.

Point

같은 온도에서 짝산 짝염기의 이온화 상수를 곱한 값은 일정하다.  $\therefore K_a \times K_b = K_w$

2 염의 가수 분해

- 염**: 산의 음이온과 염기의 양이온이 결합하여 생성된 이온 결합 물질을 염이라고 한다. 다음과 같이 산과 염기가 중화 반응하면 물과 염이 생성된다.



- 염의 가수 분해**: 염의 수용액에서 염을 이루는 이온이 물과 반응하여  $H_3O^+$ 이나  $OH^-$ 을 생성하는 반응을 염의 가수 분해라고 한다. 가수 분해에 의해 염 수용액의 액성이 달라진다.

정답

- 일정
- 염기성
- $CH_3COO^-$
- 중성

① 강산과 강염기가 반응하여 생성된 염 : 강산의 음이온과 강염기의 양이온이 모두 가수 분해하지 않는다.

예 NaCl, KCl, NaNO<sub>3</sub> 등 : 양이온과 음이온이 가수 분해하지 않으므로 수용액은 중성이다.  
이온화 :  $\text{NaCl}(aq) \longrightarrow \text{Na}^+(aq) + \text{Cl}^-(aq)$

② 약산과 강염기가 반응하여 생성된 염 : 약산의 짝염기인 음이온이 가수 분해하여 OH<sup>-</sup>을 생성하므로 수용액은 염기성을 나타낸다.

예 CH<sub>3</sub>COONa, NaHCO<sub>3</sub>, Na<sub>2</sub>CO<sub>3</sub> 등  
이온화 :  $\text{CH}_3\text{COONa}(aq) \longrightarrow \text{CH}_3\text{COO}^-(aq) + \text{Na}^+(aq)$   
가수 분해 :  $\text{CH}_3\text{COO}^-(aq) + \text{H}_2\text{O}(l) \rightleftharpoons \text{CH}_3\text{COOH}(aq) + \text{OH}^-(aq)$

③ 강산과 약염기가 반응하여 생성된 염 : 약염기의 짝산인 양이온이 물과 반응하여 H<sub>3</sub>O<sup>+</sup>을 생성하므로 수용액은 산성을 나타낸다.

예 NH<sub>4</sub>Cl, (NH<sub>4</sub>)<sub>2</sub>SO<sub>4</sub> 등  
이온화 :  $\text{NH}_4\text{Cl}(aq) \longrightarrow \text{NH}_4^+(aq) + \text{Cl}^-(aq)$   
가수 분해 :  $\text{NH}_4^+(aq) + \text{H}_2\text{O}(l) \rightleftharpoons \text{NH}_3(aq) + \text{H}_3\text{O}^+(aq)$

반응한 산과 염기	염의 종류	염 수용액의 액성
강산+강염기	NaCl, KNO <sub>3</sub> , Na <sub>2</sub> SO <sub>4</sub>	중성
강산+약염기	NH <sub>4</sub> Cl, (NH <sub>4</sub> ) <sub>2</sub> SO <sub>4</sub> , NH <sub>4</sub> NO <sub>3</sub>	산성
약산+강염기	CH <sub>3</sub> COONa, KHCO <sub>3</sub> , Na <sub>2</sub> CO <sub>3</sub>	염기성

## 개념 체크

● 강산과 약염기가 반응하여 생성된 염은 수용액에서 가수 분해하여 H<sub>3</sub>O<sup>+</sup>을 생성하므로 수용액은 산성이고, 약산과 강염기가 반응하여 생성된 염은 수용액에서 가수 분해하여 OH<sup>-</sup>을 생성하므로 수용액은 염기성이다.

1. 강산과 강염기가 반응하여 생성되는 염은 이온화되어도 ( )하지 않는다.

2. CH<sub>3</sub>COO<sup>-</sup>은 약산의 짝염기로 물과 반응하여 ( )과 ( )을 생성한다.

3. NH<sub>4</sub>Cl 수용액에서 가수 분해하는 이온은 ( )이다.

## 탐구자료 살펴보기 염 수용액의 액성

### 실험 과정

- 3개의 비커에 증류수를 각각 50 mL씩 넣는다.
- 과정 1의 비커에 NH<sub>4</sub>Cl(s), CH<sub>3</sub>COONa(s), NaCl(s)을 각각 2g씩 넣어 녹인다.
- 각 수용액을 유리 막대에 묻힌 다음 pH 시험지를 이용하여 수용액의 액성을 알아본다.

### 자료

- NaCl은 산 HCl과 염기 NaOH이 중화 반응하여 생성된 염이다.
- CH<sub>3</sub>COONa는 산 CH<sub>3</sub>COOH과 염기 NaOH이 중화 반응하여 생성된 염이다.

### 실험 결과

염	염에 들어 있는 이온	염 수용액의 액성
NH <sub>4</sub> Cl	NH <sub>4</sub> <sup>+</sup> , Cl <sup>-</sup>	산성
CH <sub>3</sub> COONa	Na <sup>+</sup> , CH <sub>3</sub> COO <sup>-</sup>	염기성
NaCl	Na <sup>+</sup> , Cl <sup>-</sup>	중성

- 강산 HCl과 약염기 NH<sub>3</sub>가 반응하여 생성된 염인 NH<sub>4</sub>Cl은 수용액에서 NH<sub>4</sub><sup>+</sup>이 가수 분해하여 H<sub>3</sub>O<sup>+</sup>을 생성하므로 수용액은 산성이다.
- CH<sub>3</sub>COONa(aq)이 염기성이고, CH<sub>3</sub>COOH이 약산이므로, NaOH은 강염기이다.  
⇒ CH<sub>3</sub>COO<sup>-</sup>이 가수 분해하여 OH<sup>-</sup>을 생성한다.  
 $\text{CH}_3\text{COO}^-(aq) + \text{H}_2\text{O}(l) \rightleftharpoons \text{CH}_3\text{COOH}(aq) + \text{OH}^-(aq)$
- 강산 HCl과 강염기 NaOH이 반응하여 생성된 염인 NaCl은 수용액에서 가수 분해하지 않으므로 수용액은 중성이다.

### 정답

- 가수 분해
- CH<sub>3</sub>COOH, OH<sup>-</sup>
- NH<sub>4</sub><sup>+</sup>

개념 체크

•  $\text{CH}_3\text{COOH}$ 과  $\text{CH}_3\text{COONa}$ 으로 이루어진 완충 용액 :  $\text{HCl}(aq)$ 을 가하면  $\text{HCl}(aq)$ 의  $\text{H}^+$ 이  $\text{CH}_3\text{COO}^-$ 과 반응하고,  $\text{NaOH}(aq)$ 을 가하면  $\text{NaOH}(aq)$ 의  $\text{OH}^-$ 이  $\text{CH}_3\text{COOH}$ 과 반응하여 수용액의 pH는 거의 변하지 않는다.

[1~3]  $\text{NH}_3$ 와  $\text{NH}_4\text{Cl}$ 으로

이루어진 완충 용액에서

1. 용액에 약염기인  $\text{NH}_3$ 와 그 짝산인 ( )이 존재한다.
2.  $\text{HCl}(aq)$ 을 가하면  $\text{HCl}(aq)$ 의  $\text{H}^+$ 이 ( )와 반응한다.
3.  $\text{NaOH}$ 을 소량 가하면 수용액의 pH가 급격히 증가한다. (○, ×)

3 완충 용액


(1) 완충 용액 : 약산과 그 약산의 짝염기가 섞여 있는 수용액이나 약염기와 그 약염기의 짝산이 섞여 있는 수용액은 산이나 염기를 소량 가해도 pH가 거의 변하지 않는다. 이러한 용액을 완충 용액이라고 한다.

- 증류수는 산이나 염기를 조금 넣어도 pH가 크게 변하지만, 완충 용액은 pH가 거의 변하지 않는다.
- 몇 가지 완충 용액과 pH

완충 용액의 성분	완충 용액의 구성	pH(25°C) (성분 물질의 농도가 같을 때)
$\text{CH}_3\text{COOH}/\text{CH}_3\text{COO}^-$	약산/그 짝염기	4.75
$\text{NH}_3/\text{NH}_4^+$	약염기/그 짝산	9.25
$\text{H}_2\text{CO}_3/\text{HCO}_3^-$	약산/그 짝염기	6.36

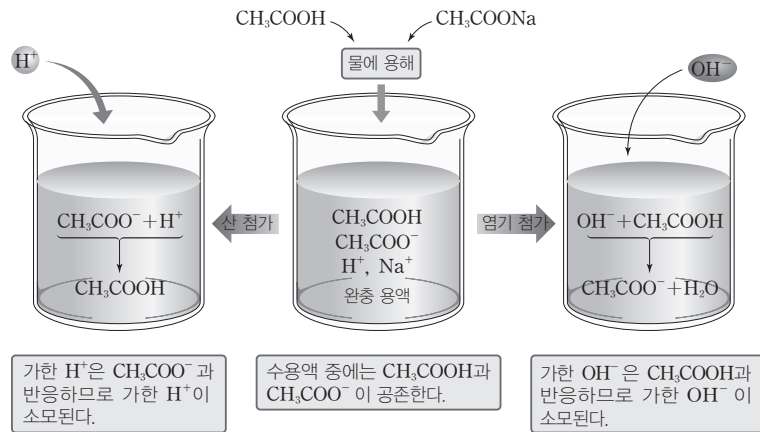
①  $\text{CH}_3\text{COOH}$ 과  $\text{CH}_3\text{COONa}$ 으로 이루어진 완충 용액

- 이온화 평형



- 용액에 약산인  $\text{CH}_3\text{COOH}$ 과 그 짝염기인  $\text{CH}_3\text{COO}^-$ 이 존재한다.

➔ 완충 용액이므로 소량의 산을 가하거나 염기를 가해도 pH가 거의 변하지 않는다.

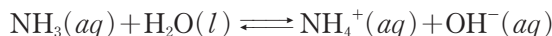


➔  $\text{HCl}(aq)$ 을 소량 가할 때 :  $\text{HCl}(aq)$ 의  $\text{H}^+$ 이  $\text{CH}_3\text{COO}^-$ 과 반응하여  $\text{CH}_3\text{COOH}$ 이 되므로 가한  $\text{H}^+$ 이 소모되어 수용액의 pH는 거의 변하지 않는다.

➔  $\text{NaOH}(aq)$ 을 소량 가할 때 :  $\text{NaOH}(aq)$ 의  $\text{OH}^-$ 은  $\text{CH}_3\text{COOH}$ 과 반응하여  $\text{CH}_3\text{COO}^-$ 과  $\text{H}_2\text{O}$ 이 되므로 가한  $\text{OH}^-$ 이 소모되어 수용액의 pH는 거의 변하지 않는다.

②  $\text{NH}_3$ 와  $\text{NH}_4\text{Cl}$ 으로 이루어진 완충 용액

- 이온화 평형



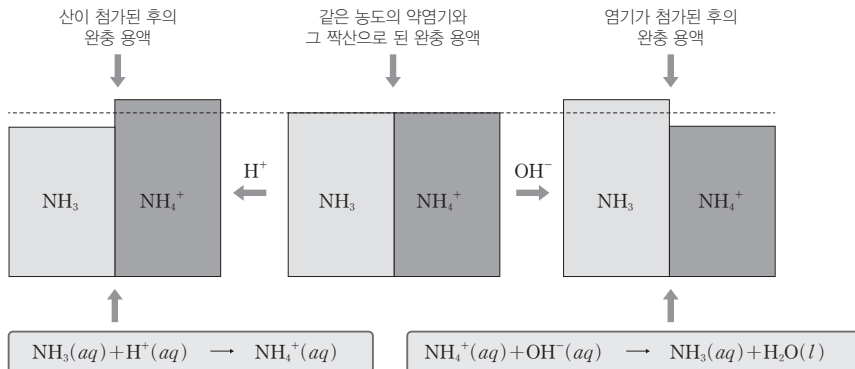
- 용액에 약염기인  $\text{NH}_3$ 와 그 짝산인  $\text{NH}_4^+$ 이 존재한다.

정답

1.  $\text{NH}_4^+$
2.  $\text{NH}_3$
3. ×



- ➔ 완충 용액이므로 소량의 산을 가하거나 염기를 가해도 pH가 거의 변하지 않는다.
- ➔  $\text{HCl}(aq)$ 을 소량 가할 때 :  $\text{HCl}(aq)$ 의  $\text{H}^+$ 이  $\text{NH}_3$ 와 반응하여  $\text{NH}_4^+$ 이 되므로 가한  $\text{H}^+$ 이 소모되어 수용액의 pH는 거의 변하지 않는다.
- ➔  $\text{NaOH}(aq)$ 을 소량 가할 때 :  $\text{NaOH}(aq)$ 의  $\text{OH}^-$ 은  $\text{NH}_4^+$ 과 반응하여  $\text{NH}_3$ 와  $\text{H}_2\text{O}$ 이 되므로 가한  $\text{OH}^-$ 이 소모되어 수용액의 pH는 거의 변하지 않는다.



### 개념 체크

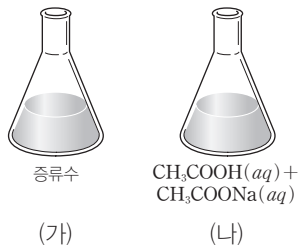
● 완충 용액 : 약산과 그 약산의 짝염기가 섞여 있는 수용액이나 약염기와 그 약염기의 짝산이 섞여 있는 수용액으로 산이나 염기를 소량 가해도 pH가 거의 변하지 않는다.

1.  $\text{NH}_3$ 와  $\text{NH}_4\text{Cl}$ 으로 이루어진 완충 용액에서 소량의  $\text{NaOH}(aq)$ 을 첨가하면  $\text{OH}^-$ 이 ( $\text{NH}_3/\text{NH}_4^+$ )와/과 반응하여 가한  $\text{OH}^-$ 이 소모된다.
2. 증류수에 염기를 가해도 pH가 거의 변하지 않는다. (○, ×)

### 탐구자료 살펴보기 완충 용액의 특징

#### 실험 과정

1. 삼각 플라스크 (가)에는 증류수 100 mL를 넣고, 삼각 플라스크 (나)에는  $\text{CH}_3\text{COOH}$  0.1 mol과  $\text{CH}_3\text{COONa}$  0.1 mol을 녹인 수용액 100 mL를 넣고 pH 측정기로 pH를 측정한다.



2. 과정 1의 (가)와 (나)의 용액에 1 M  $\text{HCl}(aq)$ 을 각각 1 mL씩 떨어뜨린 후 pH 측정기로 pH를 측정한다.
3. 과정 1의 (가)와 (나)의 용액에 1 M  $\text{NaOH}(aq)$ 을 각각 1 mL씩 떨어뜨린 후 pH 측정기로 pH를 측정한다.

#### 실험 결과

실험	수용액의 pH(25°C)	
	증류수	$\text{CH}_3\text{COOH}(aq) + \text{CH}_3\text{COONa}(aq)$
과정 1에서	7	4.75
1 M $\text{HCl}(aq)$ 을 넣었을 때	2	4.74
1 M $\text{NaOH}(aq)$ 을 넣었을 때	12	4.76

- 증류수에 소량의 산이나 염기를 가하면 수용액의 pH가 급격히 변한다.
- 약산  $\text{CH}_3\text{COOH}$ 과 그 짝염기가 포함된 염  $\text{CH}_3\text{COONa}$ 이 녹은 수용액은 완충 용액이며 완충 용액에 소량의 산이나 염기를 가해도 pH가 거의 변하지 않는다.
  - ➔  $\text{CH}_3\text{COOH}$ 과  $\text{CH}_3\text{COONa}$ 이 같은 농도로 녹아 있는 완충 용액의 pH는 4.75 정도이며, 이 완충 용액에 산을 소량 가하면 pH가 조금 작아지고, 염기를 소량 가하면 조금 커지지만, 그 변화 값이 매우 작아 4.75에 가깝다.

#### 분석 Point

완충 용액에 소량의 산이나 염기를 가해도 수용액의 pH는 거의 변하지 않는다.

#### 정답

1.  $\text{NH}_4^+$
2. ×

개념 체크

●  $\text{H}_2\text{CO}_3$ 과  $\text{HCO}_3^-$ 의 완충 용액이 완충 작용할 때 혈액 속의  $\text{OH}^-$ 의 농도가 증가하면 증가한  $\text{OH}^-$ 이  $\text{H}_2\text{CO}_3$ 과 반응하여 소모되므로 혈액의 pH가 일정하게 유지된다.

1. 혈액 속  $\text{H}_3\text{O}^+$ 의 농도가 증가하면, 혈액의 pH는 급격하게 감소한다. (○, ×)

2. 혈액 속의  $\text{H}_2\text{CO}_3$ 은  $\text{HCO}_3^-$ 의 짝염기이다. (○, ×)

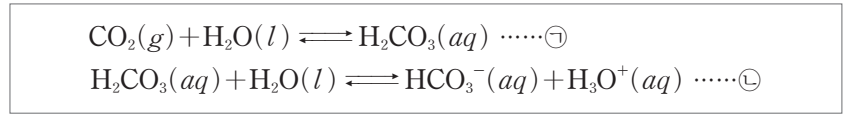
(2) 생체 내 완충 용액

① 혈액은 pH가 7.4 정도로 일정하게 유지되는 완충 용액이다. 생체 내에서 일어나는 화학 반응은 다양한 효소가 관여하며, 효소의 작용은 pH의 영향을 크게 받으므로 적절한 pH를 유지하는 것이 매우 중요하다.

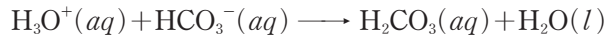
• 혈액에서의 완충 용액 : 혈액에서는 탄산( $\text{H}_2\text{CO}_3$ )과 탄산수소 이온( $\text{HCO}_3^-$ )의 완충 용액, 인산이수소 이온( $\text{H}_2\text{PO}_4^-$ )과 인산수소 이온( $\text{HPO}_4^{2-}$ )의 완충 용액 등이 완충 작용을 한다.

②  $\text{H}_2\text{CO}_3$ 과  $\text{HCO}_3^-$ 의 완충 용액

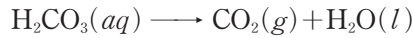
• 혈액에 녹은 이산화 탄소( $\text{CO}_2$ )와 물( $\text{H}_2\text{O}$ )이 반응하여  $\text{H}_2\text{CO}_3$ 을 생성하며, 혈액 속에서  $\text{H}_2\text{CO}_3$ 과 그 짝염기인  $\text{HCO}_3^-$ 은 평형을 이룬다.



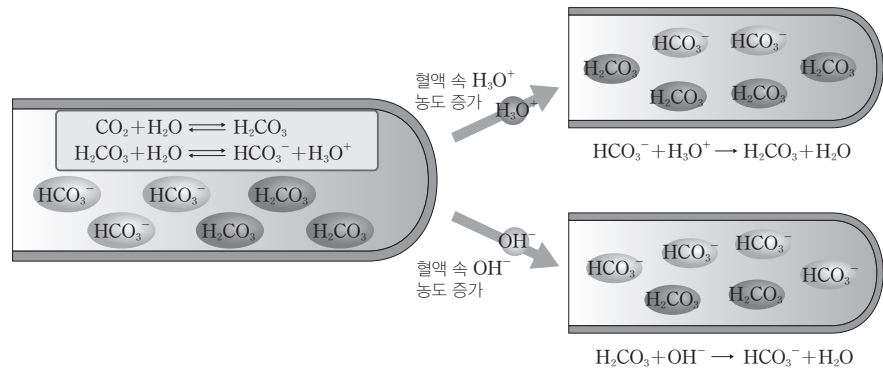
➔ 혈액 속  $\text{H}_3\text{O}^+$ 의 농도 증가 : 운동으로 생긴 젖산 등으로 혈액 속의  $\text{H}_3\text{O}^+$ 의 농도가 증가하면, 증가한  $\text{H}_3\text{O}^+$ 이  $\text{HCO}_3^-$ 과 반응하여 소모되므로 혈액의 pH가 거의 일정하게 유지된다. (㉡의 역반응이 일어남)



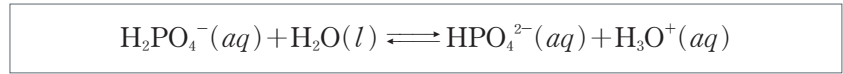
이때 증가한  $\text{H}_2\text{CO}_3$ 은  $\text{CO}_2$ 와  $\text{H}_2\text{O}$ 로 분해되며  $\text{CO}_2$ 는 호흡으로 몸 밖으로 배출된다. (㉠의 역반응이 일어남)



➔ 혈액 속  $\text{OH}^-$ 의 농도 증가 : 혈액 속의  $\text{OH}^-$ 의 농도가 증가하면 증가한  $\text{OH}^-$ 이  $\text{H}_2\text{CO}_3$ 과 반응하여 소모되므로 혈액의 pH가 거의 일정하게 유지된다.



③  $\text{H}_2\text{PO}_4^-$ 과  $\text{HPO}_4^{2-}$ 의 완충 용액 : 혈액 속의  $\text{H}_2\text{PO}_4^-$ 과  $\text{HPO}_4^{2-}$ 의 완충 작용도 혈액의 pH 조절에 영향을 미치며 두 이온은 혈액 속에서 다음과 같은 평형을 이룬다.

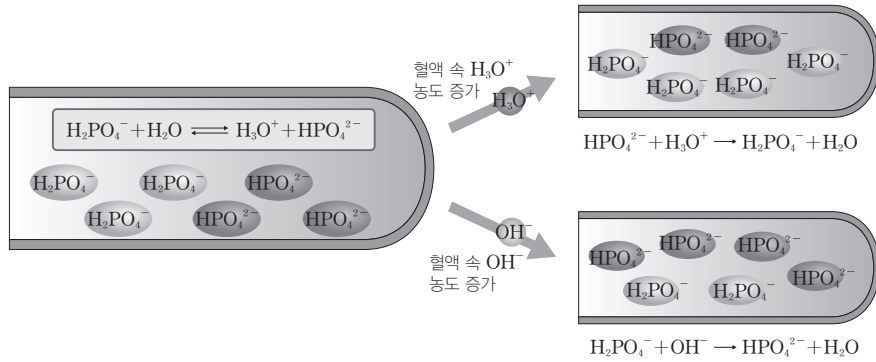


정답

1. ×

2. ×

- ➔ 혈액 속  $H_3O^+$ 의 농도 증가 : 혈액 속  $H_3O^+$ 의 농도가 증가하면, 증가한  $H_3O^+$ 이  $HPO_4^{2-}$ 과 반응하여 소모되므로 혈액의 pH가 거의 일정하게 유지된다.
- ➔ 혈액 속  $OH^-$ 의 농도 증가 : 혈액 속의  $OH^-$ 의 농도가 증가하면 증가한  $OH^-$ 이  $H_2PO_4^-$ 과 반응하여 소모되므로 혈액의 pH가 거의 일정하게 유지된다.



개념 체크

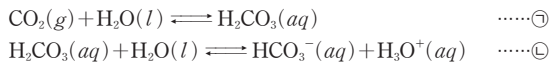
● 혈액에서의 완충 용액 : 혈액에서는 탄산( $H_2CO_3$ )과 탄산수소이온( $HCO_3^-$ )의 완충 용액, 인산이수소 이온( $H_2PO_4^-$ )과 인산수소 이온( $HPO_4^{2-}$ )의 완충 용액 등이 완충 작용을 한다.

[1~2] 혈액 속에서  $H_2PO_4^-(aq) + H_2O(l) \rightleftharpoons HPO_4^{2-}(aq) + H_3O^+(aq)$ 의 이온화 평형을 이루고 있을 때

1. 산을 가하면 정반응 쪽으로 평형이 이동한다. (○, ×)
2. 혈액 속의 ( )의 농도가 증가하면 증가한 ( )이  $H_2PO_4^-$ 과 반응하여 소모되므로 혈액의 pH가 거의 일정하게 유지된다.

과학 돋보기 혈액의 pH와 질병

• 혈액에서는  $H_2CO_3$ 과 그 짝염기인  $HCO_3^-$ 이 1 : 20 정도의 비율을 유지하며 다음과 같은 평형을 이룬다.

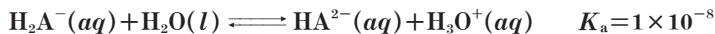


- ➔ 산혈증과 알칼리혈증 : 산혈증은 폐에 이상이 생겨 몸 속에서 생성된 이산화 탄소가 제대로 배출되지 않거나 신장에 이상이 생겨 산이 제대로 배출되지 않을 때 혈액의 pH가 적정 범위 이하로 떨어진 상태로 두통, 피로, 의식 장애 등이 나타난다. 알칼리혈증은 과도한 호흡 운동으로 이산화 탄소를 과다 배출했을 때 혈액의 pH가 적정 범위보다 높아지는 상태로 호흡곤란, 근육 경련, 의식장애 등이 나타난다.
- ➔ 고산병 : 높은 산에서는 산소가 부족해져 산소를 공급하기 위해 호흡량을 늘리면  $CO_2$ 의 배출량이 증가하여 ㉠과 ㉡의 역반응이 우세하게 진행되며, 이로 인해 pH가 적정 범위보다 높아지게 되면, 구토, 두통 등이 일어날 수 있다.

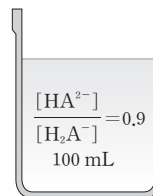
기출문제 다시보기 산 염기 평형

2022학년도 대수능

다음은  $H_2A^-(aq)$ 의 이온화 반응식과  $t^\circ C$ 에서의 이온화 상수( $K_a$ )이다.



그림은  $t^\circ C$ 에서 1 M  $NaH_2A(aq)$ 과 1 M  $Na_2HA(aq)$ 을 혼합하여 만든 수용액 (가)를 나타낸 것이다. (가)에 0.1 M  $HCl(aq)$  1 mL를 첨가하여 수용액 (나)를, (나)에 0.1 M  $NaOH(aq)$  1 mL를 첨가하여 수용액 (다)를 만든다. 이에 대한 설명으로 옳은 것만을 <보기>에서 있는 대로 고른 것은? (단, 수용액의 온도는 일정하다.) [3점]



(가)

- 보기
- ㄱ. (가)에서  $pH > 7.0$ 이다.
  - ㄴ. (나)에서  $\frac{[HA^{2-}]}{[H_2A^-]} > 0.9$ 이다.
  - ㄷ.  $H_2A^-(aq)$ 의 양(mol)은 (다)에서 (나)에서보다 많다.

- ① ㄱ      ② ㄴ      ③ ㄷ      ④ ㄱ, ㄴ      ⑤ ㄱ, ㄷ

정답

1. ×  
2.  $OH^-, OH^-$

**해설** ㄱ. (가)에서  $K_a = \frac{[HA^{2-}][H_3O^+]}{[H_2A^-]} = 1 \times 10^{-8}$ 이고  $\frac{[HA^{2-}]}{[H_2A^-]} = 0.90$ 이므로  $[H_3O^+] = 1 \times 10^{-8} \times \frac{10}{9} = \frac{1}{9} \times 10^{-7}$ 이다. 따라서 (가)에서  $[H_3O^+] < 1 \times 10^{-7}$  M이므로  $pH > 7.0$ 이다.  
 ㄴ. (가)에 0.1 M HCl(aq) 1 mL를 첨가하면 수용액 속  $[H_3O^+]$ 가 증가하여 역반응이 일어나므로  $[H_2A^-]$ 는 증가하고  $[HA^{2-}]$ 는 감소한다. 따라서 (나)에서  $\frac{[HA^{2-}]}{[H_2A^-]} < 0.90$ 이다.  
 ㄷ. (나)에 0.1 M NaOH(aq) 1 mL를 첨가하면  $OH^-$ 이  $H_3O^+$ 과 반응하여  $[H_3O^+]$ 가 감소하므로 정반응이 일어나  $[H_2A^-]$ 는 감소한다. 따라서  $H_2A^-$ 의 양(mol)은 (나)에서가 (다)에서보다 많다. 답 ①

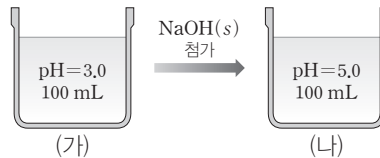
**기출문제 다시보기** 이온화 상수

2022학년도 대수능

다음은 HA(aq)의 이온화 반응식과 이온화 상수( $K_a$ )이다.



그림 (가)는 25°C의 0.3 M HA(aq)을, (나)는 (가)에 소량의 NaOH(s)을 첨가하여 녹인 수용액을 나타낸 것이다.



이에 대한 설명으로 옳은 것만을 <보기>에서 있는 대로 고른 것은? (단, 25°C에서 물의 이온화 상수( $K_w$ )는  $1 \times 10^{-14}$ 이고, 모든 수용액의 온도와 부피는 일정하다.)

보기

- ㄱ. 25°C에서  $K_a = 3 \times 10^{-5}$ 이다.
- ㄴ. (나)에서  $\frac{[A^-]}{[HA]} = \frac{1}{3}$ 이다.
- ㄷ. (나)에 NaOH(s)을 추가로 녹여  $[Na^+] = 0.3$  M가 되도록 만든 수용액의  $pH > 9.0$ 이다.


- ① ㄱ                      ② ㄴ                      ③ ㄷ                      ④ ㄱ, ㄷ                      ⑤ ㄴ, ㄷ

**해설** 25°C에서  $K_a = \frac{[H_3O^+][A^-]}{[HA]} = \frac{(1 \times 10^{-3})^2}{0.3} = \frac{1}{3} \times 10^{-5}$ 이다.

ㄱ. 25°C에서  $K_a = \frac{1}{3} \times 10^{-5}$ 이다.

ㄴ. (나)에서  $K_a = \frac{[H_3O^+][A^-]}{[HA]} = \frac{(1 \times 10^{-5}) \times [A^-]}{[HA]} = \frac{1}{3} \times 10^{-5}$ 이므로  $\frac{[A^-]}{[HA]} = \frac{1}{3}$ 이다.

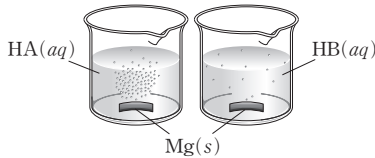
ㄷ. (나)에 NaOH(s)을 추가로 녹여  $[Na^+] = 0.3$  M가 되면 중화점에 해당된다. 중화점에서  $[A^-] = 0.3$  M이고,  $A^-$ 의 가수 분해가 일어나며 가수 분해 반응식과  $K_b$ 는 다음과 같다.



$$K_b = \frac{[HA][OH^-]}{[A^-]} = \frac{K_w}{K_a} = \frac{1.0 \times 10^{-14}}{\frac{1}{3} \times 10^{-5}} = 3 \times 10^{-9}$$

따라서  $K_b = \frac{[OH^-]^2}{0.3} = 3 \times 10^{-9}$ ,  $[OH^-] = 3 \times 10^{-5}$  M이고,  $[H_3O^+] = \frac{1}{3} \times 10^{-9}$  M이므로  $pH > 9.0$ 이다. 답 ⑤

01 [22028-0149] 그림은 25°C에서 물 농도와 부피가 같은 HA(aq)과 HB(aq)에 질량과 모양이 같은 Mg(s)을 넣었을 때, 반응 초기에 H<sub>2</sub>(g)가 발생하는 모습을 나타낸 것이다. 넣어 준 Mg(s)은 모두 반응하였다.

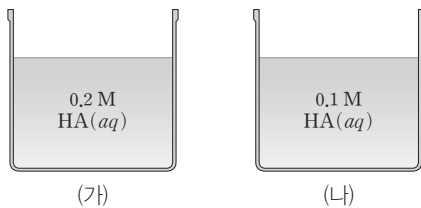


이에 대한 설명으로 옳은 것만을 <보기>에서 있는 대로 고른 것은?

- 보기
- ㄱ. 반응 전 수용액에서 이온화된 분자 수는 HA > HB이다.
  - ㄴ. 반응 초기 pH는 HA(aq) > HB(aq)이다.
  - ㄷ. Mg(s)이 모두 반응했을 때, 발생한 H<sub>2</sub>(g)의 양(mol)은 HA(aq) > HB(aq)이다.

- ① ㄱ                      ② ㄴ                      ③ ㄱ, ㄷ
- ④ ㄴ, ㄷ                ⑤ ㄱ, ㄴ, ㄷ

02 [22028-0150] 그림은 25°C에서 약산 HA의 2가지 수용액을 나타낸 것이다.

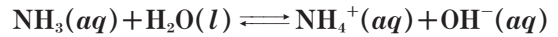


이에 대한 설명으로 옳은 것만을 <보기>에서 있는 대로 고른 것은?

- 보기
- ㄱ. HA의 이온화 상수(K<sub>a</sub>)는 (가) > (나)이다.
  - ㄴ. pOH는 (가) > (나)이다.
  - ㄷ.  $\frac{[A^-]}{[HA]}$ 는 (가) > (나)이다.

- ① ㄱ                      ② ㄴ                      ③ ㄱ, ㄷ
- ④ ㄴ, ㄷ                ⑤ ㄱ, ㄴ, ㄷ

03 [22028-0151] 다음은 NH<sub>3</sub>(aq)의 이온화 반응의 화학 반응식이다.



이에 대한 설명으로 옳은 것만을 <보기>에서 있는 대로 고른 것은?

- 보기
- ㄱ. OH<sup>-</sup>은 브뢴스테드·로리 염기이다.
  - ㄴ. NH<sub>3</sub>는 H<sub>2</sub>O의 짝염기이다.
  - ㄷ. 염기 NH<sub>3</sub>의 이온화 상수(K<sub>b</sub>)는  $\frac{[NH_4^+][OH^-]}{[NH_3]}$ 이다.

- ① ㄱ                      ② ㄴ                      ③ ㄱ, ㄷ
- ④ ㄴ, ㄷ                ⑤ ㄱ, ㄴ, ㄷ

04 [22028-0152] 다음은 25°C에서 약산 HA(aq)과 NaA(s)를 혼합한 수용액을 만드는 실험 과정이다. 25°C에서 약산 HA의 이온화 상수 K<sub>a</sub> = 2 × 10<sup>-6</sup>이다.

[실험 과정]

- (가) 0.05 M HA(aq) 100 mL를 준비한다.
- (나) (가)의 용액에 NaA(s) 0.82 g을 넣는다.

이 혼합 용액의 pH는? (단, NaA의 화학식량은 82이고, 온도는 일정하며, 고체 용해에 의한 부피 변화는 무시한다.)

- ① 4                      ② 5                      ③ 5.5
- ④ 6                      ⑤ 6.5

## 2점 수능 테스트

05 [22028-0153] 표는 25°C에서 3가지 약산의 수용액에 대한 자료이다.

수용액	농도(M)	pH
HA(aq)	0.1	4
HB(aq)	0.01	5
HC(aq)	0.01	4

이에 대한 설명으로 옳은 것만을 <보기>에서 있는 대로 고른 것은? (단, 25°C에서 물의 이온화 상수  $K_w = 1 \times 10^{-14}$ 이다.)

보기

ㄱ.  $[OH^-]$ 는 HA(aq)과 HC(aq)이 같다.  
 ㄴ. 산의 이온화 상수( $K_a$ )는 HA > HB이다.  
 ㄷ. 0.1 M의 수용액에서 pH는 NaB > NaC이다.

- ① ㄱ                      ② ㄴ                      ③ ㄱ, ㄷ  
 ④ ㄴ, ㄷ                ⑤ ㄱ, ㄴ, ㄷ


06 [22028-0154] 표는 물질 (가)~(다)를 2가지 분류 기준에 의해 분류한 것을 나타낸 것이다. (가)~(다)는 각각  $CH_3COONa$ ,  $NaCl$ ,  $NH_4Cl$  중 하나이다.

분류 기준	예	아니요
수용액이 산성인가?	(가)	(나), (다)
수용액에서 음이온이 가수 분해하는가?	(나)	(가), (다)

(가)~(다)로 옳은 것은?

- | (가)           | (나)         | (다)         |
|---------------|-------------|-------------|
| ① $CH_3COONa$ | $NaCl$      | $NH_4Cl$    |
| ② $CH_3COONa$ | $NH_4Cl$    | $NaCl$      |
| ③ $NaCl$      | $CH_3COONa$ | $NH_4Cl$    |
| ④ $NH_4Cl$    | $CH_3COONa$ | $NaCl$      |
| ⑤ $NH_4Cl$    | $NaCl$      | $CH_3COONa$ |

07 [22028-0155] 다음은 산·염기 및 염과 관련된 세 학생의 대화이다.



제시한 내용이 옳은 학생만을 있는 대로 고른 것은?

- ① A                      ② B                      ③ A, C  
 ④ B, C                ⑤ A, B, C

08 [22028-0156] 다음은 염의 가수 분해와 관련된 실험이다.

### [실험 과정]

- (가) 4개의 비커에  $NaCl$ ,  $NaHCO_3$ ,  $CH_3COONa$ ,  $NH_4Cl$ 을 1g씩 각각 넣고 증류수 20mL씩을 가해 녹인다.  
 (나) (가)의 4가지 수용액을 pH 시험지를 이용하여 액성을 알아본다.

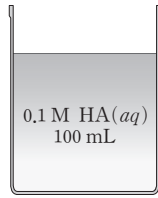
### [실험 결과]

수용액	액성
$NaCl(aq)$	중성
$NaHCO_3(aq)$	A
$CH_3COONa(aq)$	B
$NH_4Cl(aq)$	C

A ~ C로 옳은 것은?

- | A     | B   | C   |
|-------|-----|-----|
| ① 산성  | 산성  | 염기성 |
| ② 산성  | 염기성 | 염기성 |
| ③ 염기성 | 산성  | 산성  |
| ④ 염기성 | 염기성 | 산성  |
| ⑤ 염기성 | 산성  | 염기성 |

09 [22028-0157] 그림은 25°C에서 약산 HA(aq)을 나타낸 것이다. 25°C에서 산 HA의 이온화 상수  $K_a=1 \times 10^{-5}$ 이다.



이 수용액에서  $A^-$ 의 양(mol)을 증가시키는 조건으로 옳은 것만을 <보기>에서 있는 대로 고른 것은? (단, 온도는 일정하다.)

- 보기
- ㄱ. 0.1 M HCl(aq) 10 mL를 첨가한다.
  - ㄴ.  $1 \times 10^{-3}$  mol의 NaOH(s)을 첨가한다.
  - ㄷ.  $1 \times 10^{-3}$  mol의 NaA(s)를 첨가한다.

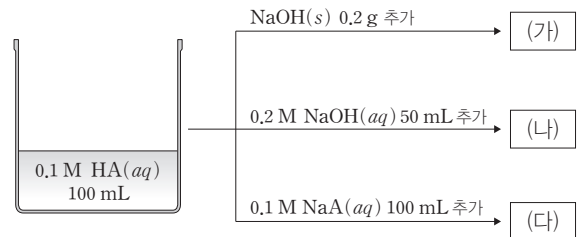
- ① ㄱ                      ② ㄷ                      ③ ㄱ, ㄴ
- ④ ㄴ, ㄷ                ⑤ ㄱ, ㄴ, ㄷ

10 [22028-0158] 25°C에서 0.1 M HA(aq) 100 mL에 0.1 M NaA(aq) 100 mL를 혼합한 용액의 부피가 200 mL일 때, 이 혼합 용액에 대한 설명으로 옳은 것만을 <보기>에서 있는 대로 고른 것은? (단, 온도는 일정하고, 25°C에서 산 HA의 이온화 상수  $K_a=1 \times 10^{-5}$ 이며, 물의 이온화 상수  $K_w=1 \times 10^{-14}$ 이다.)

- 보기
- ㄱ.  $[HA]=[A^-]$ 이다.
  - ㄴ. pOH=9이다.
  - ㄷ. 소량의 염기를 첨가하여도 pH가 크게 변하지 않는다.

- ① ㄱ                      ② ㄷ                      ③ ㄱ, ㄴ
- ④ ㄴ, ㄷ                ⑤ ㄱ, ㄴ, ㄷ

11 [22028-0159] 그림은 0.1 M 약산 HA(aq)에 3가지 물질을 각각 혼합하여 만든 수용액 (가)~(다)를 나타낸 것이다. NaOH의 화학식량은 40이다.



(가)~(다) 중 완충 용액만을 있는 대로 고른 것은?

- ① (가)                      ② (나)                      ③ (가), (다)
- ④ (나), (다)              ⑤ (가), (나), (다)

12 [22028-0160] 표는 25°C에서 수용액 (가)와 (나)에 대한 자료이다.

용액	(가)	(나)
	0.1 M NH <sub>3</sub> (aq) 100 mL	0.1 M NH <sub>3</sub> (aq) 100 mL + 0.1 M HCl(aq) 50 mL
$\frac{[NH_4^+]}{[NH_3]}$	0.01	1
pH	$x$	$y$

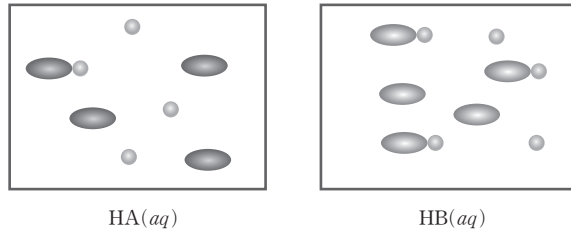
$x - y$ 는?

- ① -2                      ② -1                      ③ 0.5
- ④ 1                        ⑤ 2

물에 용해된 전체 입자 수와 이온화된 입자 수로부터 판단하면 이온화 상수는  $HA > HB$ 이다.

HA와 HB는 모두 1가 산으로 물에 녹아 이온화하여  $H_3O^+$ 과 음이온을 1:1로 생성한다.

01 [22028-0161] 그림은 25°C에서 산  $HA(aq)$ 과  $HB(aq)$ 에서 단위 부피당 입자 모형을 나타낸 것이다.



이에 대한 설명으로 옳은 것만을 <보기>에서 있는 대로 고른 것은?

보기

- ㄱ. ●은  $H^+$ 이다.
- ㄴ. 몰 농도는  $HA(aq) > HB(aq)$ 이다.
- ㄷ. 산의 이온화 상수( $K_a$ )는  $HA > HB$ 이다.

- ① ㄱ      ② ㄴ      ③ ㄱ, ㄷ      ④ ㄴ, ㄷ      ⑤ ㄱ, ㄴ, ㄷ

02 [22028-0162] 표는 25°C에서 약산  $HA(aq)$ 과  $HB(aq)$ 에 대한 자료이다.

수용액	$HA(aq)$	$HB(aq)$
농도(M)	$a$	$2a$
부피(L)	$3V$	$2V$
전체 이온의 양(mol)	$n$	$n$

이에 대한 설명으로 옳은 것만을 <보기>에서 있는 대로 고른 것은?

보기

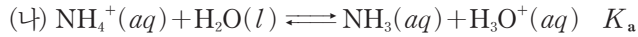
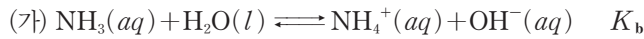
- ㄱ. pH는  $HA(aq) > HB(aq)$ 이다.
- ㄴ. 산의 이온화 상수( $K_a$ )는  $HB > HA$ 이다.
- ㄷ. 중화시키기 위해 필요한  $NaOH(s)$ 의 양(mol)은  $HB(aq) > HA(aq)$ 이다.

- ① ㄱ      ② ㄴ      ③ ㄱ, ㄷ      ④ ㄴ, ㄷ      ⑤ ㄱ, ㄴ, ㄷ



**03** [22028-0163]

다음은 NH<sub>3</sub>와 NH<sub>4</sub><sup>+</sup>의 이온화 반응식과 25°C에서 산, 염기의 이온화 상수이다.



이에 대한 설명으로 옳은 것만을 <보기>에서 있는 대로 고른 것은? (단, 25°C에서 물의 이온화 상수는 K<sub>w</sub>이다.)

보기

ㄱ. 25°C, NH<sub>3</sub>(aq)에서 NH<sub>3</sub>의 농도와 관계없이 K<sub>b</sub>는 일정하다.

ㄴ. 산 NH<sub>4</sub><sup>+</sup>의 이온화 상수(K<sub>a</sub>)식은  $\frac{[\text{NH}_3][\text{H}_3\text{O}^+]}{[\text{NH}_4^+]}$ 이다.

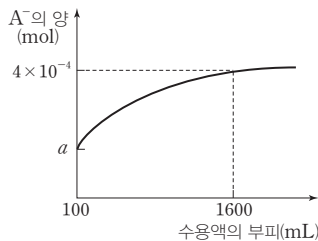
ㄷ.  $K_a = \frac{K_w}{K_b}$ 이다.

- ① ㄱ                      ② ㄴ                      ③ ㄱ, ㄷ                      ④ ㄴ, ㄷ                      ⑤ ㄱ, ㄴ, ㄷ

NH<sub>3</sub>의 K<sub>b</sub>는 일종의 평형 상수로 온도가 같을 때 NH<sub>3</sub>의 농도와 관계없이 일정하다.

**04** [22028-0164]

그림은 25°C에서 약산 HA(aq) 100 mL에 물을 첨가할 때, 수용액의 부피에 따른 혼합 용액 속 A<sup>-</sup>의 양(mol)을 나타낸 것이다. 25°C에서 HA의 이온화 상수 K<sub>a</sub>=1×10<sup>-5</sup>이다.



a는? (단, 온도는 일정하다.)

- ① 2×10<sup>-5</sup>                      ② 5×10<sup>-5</sup>                      ③ 1×10<sup>-4</sup>                      ④ 2×10<sup>-4</sup>                      ⑤ 3×10<sup>-4</sup>

HA(aq)에서 [H<sub>3</sub>O<sup>+</sup>]=[A<sup>-</sup>]이다.

(가)에서 0.1 M NaOH(aq) 100 mL와 0.1 M HA(aq) 100 mL를 혼합하면 완전히 중화되어 0.05 M NaA(aq) 이 된다.

염기 HA<sup>-</sup>의 이온화 상수  $K_b = \frac{K_w}{x}$ 이다.

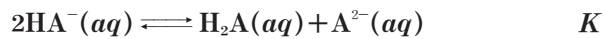
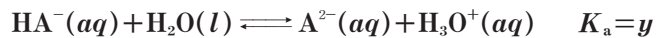
05 [22028-0165] 표는 25°C에서 0.1 M NaOH(aq)과 0.1 M HA(aq)을 혼합한 용액에 대한 자료이다.

혼합 용액	혼합 전 수용액의 부피(mL)		[H <sub>3</sub> O <sup>+</sup> ] (M)
	0.1 M NaOH(aq)	0.1 M HA(aq)	
(가)	100	100	$1 \times 10^{-10}$
(나)	100	150	$x$

$x$ 는? (단, 25°C에서 물의 이온화 상수  $K_w = 1 \times 10^{-14}$ 이고, 온도는 일정하며, 혼합 용액의 부피는 혼합 전 수용액의 부피 합과 같다.)

- ①  $1 \times 10^{-8}$     ②  $2.5 \times 10^{-8}$     ③  $5 \times 10^{-8}$     ④  $2 \times 10^{-7}$     ⑤  $5 \times 10^{-7}$

06 [22028-0166] 다음은 약산 H<sub>2</sub>A와 관련된 3가지 평형 반응의 화학 반응식과 25°C에서 이온화 상수 및 평형 상수이다.  $x > y$ 이다.



이에 대한 설명으로 옳은 것만을 <보기>에서 있는 대로 고른 것은? (단, 25°C에서 물의 이온화 상수  $K_w = 1 \times 10^{-14}$ 이다.)

보기

ㄱ. 염기의 이온화 상수( $K_b$ )는  $A^{2-} > HA^-$ 이다.

ㄴ.  $K = x \times y$ 이다.

ㄷ. 25°C, 0.1 M Na<sub>2</sub>A(aq)에서  $[HA^-] > [H_2A]$ 이다.

- ① ㄱ    ② ㄴ    ③ ㄱ, ㄷ    ④ ㄴ, ㄷ    ⑤ ㄱ, ㄴ, ㄷ

**07** [22028-0167]

표 I 은 25°C에서 몰 농도가 같은 2가지 수용액의 pH를, II 는 25°C에서 산 HA와 염기 B의 이온화 상수를 나타낸 것이다.

수용액	pH	물질	이온화 상수
NaA(aq)	9	HA	$K_a = 1 \times 10^{-x}$
BHCl(aq)	5	B	$K_b = 1 \times 10^{-6}$

I II

$x$ 는? (단, 25°C에서 물의 이온화 상수  $K_w = 1 \times 10^{-14}$ 이다.)

- ① 5                      ② 6                      ③ 7                      ④ 8                      ⑤ 9

약산 HA(aq)에서  $[H_3O^+] = [A^-]$ 이고, 매우 적은 양 (mol)이 이온화하므로  $[HA]$  는 초기 농도( $[HA]_0$ )와 같다.

**08** [22028-0168]

표는 25°C에서 약산 HA(aq)과 HB(aq)에 대한 자료이다.

수용액	HA(aq)	HB(aq)
몰 농도(M)	0.1	0.2
부피(mL)	200	100
$[A^-]$ 또는 $[B^-]$ (M)	$1 \times 10^{-4}$	$1 \times 10^{-4}$

이에 대한 설명으로 옳은 것만을 <보기>에서 있는 대로 고른 것은?

보기

ㄱ. pH는 HA(aq)과 HB(aq)이 같다.

ㄴ. HA(aq)에서 HA의 양(mol)과 HB(aq)에서 HB의 양(mol)은 같다.

ㄷ. 산의 이온화 상수( $K_a$ )는 HA > HB이다.

- ① ㄱ                      ② ㄴ                      ③ ㄱ, ㄷ                      ④ ㄴ, ㄷ                      ⑤ ㄱ, ㄴ, ㄷ

HA(aq)에서  $[H_3O^+] = [A^-] = 1 \times 10^{-4}$ 이다.

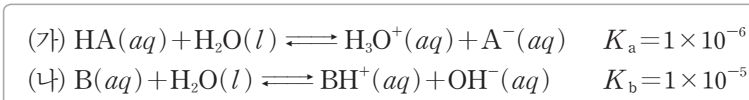
염기 B의 이온화 상수( $K_b$ )로부터 산  $BH^+$ 의 이온화 상수( $K_a$ )를 구하면 다음과 같다.

$$K_a = \frac{K_w}{K_b}$$

$NH_3$ 의 이온화 상수( $K_b$ )로부터  $NH_4^+$ 의 이온화 상수( $K_a$ )를 구하면 다음과 같다.

$$K_a = \frac{K_w}{K_b}$$

09 [22028-0169] 다음은 산 HA와 염기 B의 이온화 반응의 화학 반응식과 25°C에서 이온화 상수를 나타낸 것이다.

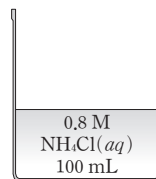


이에 대한 설명으로 옳은 것만을 <보기>에서 있는 대로 고른 것은? (단, 25°C에서 물의 이온화 상수  $K_w = 1 \times 10^{-14}$ 이다.)

- 보기
- ㄱ. 염기  $A^-$ 의 이온화 상수  $K_b = 1 \times 10^{-8}$ 이다.
  - ㄴ. 산의 이온화 상수  $K_a$ 는  $HA > BH^+$ 이다.
  - ㄷ. 25°C에서 0.1 M  $HA(aq)$ 에서의  $\frac{[A^-]}{[HA]}$ 은 0.1 M  $B(aq)$ 에서의  $\frac{[BH^+]}{[B]}$ 보다 작다.

- ① ㄱ                      ② ㄴ                      ③ ㄱ, ㄷ                      ④ ㄴ, ㄷ                      ⑤ ㄱ, ㄴ, ㄷ

10 [22028-0170] 그림은 25°C에서  $NH_4Cl(aq)$ 을 나타낸 것이다. 25°C에서  $NH_3$ 의 이온화 상수  $K_b = 2 \times 10^{-5}$ 이다.



이에 대한 설명으로 옳은 것만을 <보기>에서 있는 대로 고른 것은? (단, 물의 이온화 상수는  $K_w = 1 \times 10^{-14}$ 이다.)

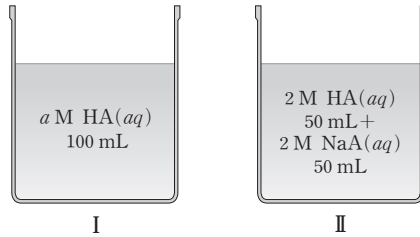
- 보기
- ㄱ.  $NH_4^+$ 의 이온화 상수  $K_a = 5 \times 10^{-10}$ 이다.
  - ㄴ.  $[H_3O^+] = 1 \times 10^{-5}$  M이다.
  - ㄷ. 증류수를 추가하여 용액의 부피가 200 mL일 때,  $[NH_3] < 1 \times 10^{-5}$  M이다.

- ① ㄱ                      ② ㄴ                      ③ ㄱ, ㄷ                      ④ ㄴ, ㄷ                      ⑤ ㄱ, ㄴ, ㄷ

11 [22028-0171] 다음은 완충 용액과 관련된 실험이다. NaOH의 화학식량은 40이고, 25°C에서 물의 이온화 상수  $K_w = 1 \times 10^{-14}$ 이다.

[실험 과정]

(가) 그림과 같이 비커 I에  $a$  M 약산 HA(aq) 100 mL를, II에 2 M HA(aq) 50 mL와 2 M NaA(aq) 50 mL의 혼합 용액을 각각 넣고 각각 pH를 측정한다.



(나) I과 II에 각각 NaOH(s) 1 g씩을 가한 후 각각 pH를 측정한다.

[실험 결과] pH

과정	I	II
(가)	3	6
(나)	$x$	$y$

이에 대한 설명으로 옳은 것만을 <보기>에서 있는 대로 고른 것은? (단, 온도는 25°C로 일정하고, 모든 용액의 부피는 100 mL이다.)

보기

- ㄱ. 산 HA의 이온화 상수  $K_a = 1 \times 10^{-6}$ 이다.
- ㄴ.  $a = 1$ 이다.
- ㄷ.  $x - 3 > y - 6$ 이다.

- ① ㄱ      ② ㄷ      ③ ㄱ, ㄴ      ④ ㄴ, ㄷ      ⑤ ㄱ, ㄴ, ㄷ

12 [22028-0172] 다음은 혈액의 완충 작용과 관련된 반응의 화학 반응식과 산의 이온화 상수이다.  $a > b$ 이다.



이에 대한 설명으로 옳은 것만을 <보기>에서 있는 대로 고른 것은?

보기

- ㄱ. 염기의 이온화 상수( $K_b$ )는  $\text{HCO}_3^- > \text{HPO}_4^{2-}$ 이다.
- ㄴ. 혈액에 약산인 젖산의 농도가 증가하면  $\text{HPO}_4^{2-}$ 의 농도는 감소한다.
- ㄷ. 혈액에 암모니아의 농도가 증가하면 혈액의 pH는 감소한다.

- ① ㄱ      ② ㄴ      ③ ㄱ, ㄷ      ④ ㄴ, ㄷ      ⑤ ㄱ, ㄴ, ㄷ

완충 용액에 소량의 산 또는 염기를 가할 때 pH가 크게 변하지 않는다.

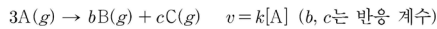
산의 이온화 상수( $K_a$ )는  $\text{H}_2\text{CO}_3 > \text{H}_2\text{PO}_4^-$ 이므로 짝 염기의 이온화 상수( $K_b$ )는  $\text{HPO}_4^{2-} > \text{HCO}_3^-$ 이다.

# III

## 반응 속도와 촉매

2022학년도 대학수학능력시험 17번

17. 다음은 A(g)로부터 B(g)와 C(g)가 생성되는 반응의 화학 반응식과 반응 속도식이다.  $k$ 는 반응 속도 상수이다.



그림은 강철 용기에 A(g)를 넣은 후 반응이 진행될 때, 전체 압력을 반응 시간에 따라 나타낸 것이다.

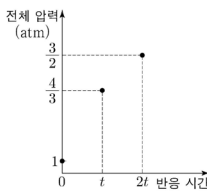
$t$ 와  $2t$ 에서 C의 질량(g) 기체의 전체 질량(g)은

각각  $x$ 와  $\frac{1}{8}$ 이고,  $3t$ 에서 C(g)의

부분 압력은  $\frac{7}{24}$  atm이다.

$b \times x$ 는? (단, 온도는 일정하다.) [3점]

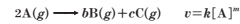
- ①  $\frac{1}{8}$     ②  $\frac{1}{6}$     ③  $\frac{1}{4}$     ④  $\frac{1}{3}$     ⑤  $\frac{1}{2}$



2022학년도 EBS 수능완성 95쪽 5번

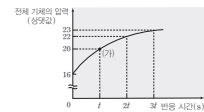
05

다음은 A(g)로부터 B(g)와 C(g)가 생성되는 반응의 화학 반응식과 반응 속도식이다.



( $b$ 와  $c$ 는 반응 계수,  $k$ 는 반응 속도 상수,  $m$ 은 반응 차수)

그림은 강철 용기에 A(g)를 넣고 반응시킬 때, 반응 시간에 따른 용기 속 전체 기체의 압력을 나타낸 것이다. (가)에서 C의 부분 압력  $\frac{1}{2}$ 이다.



이에 대한 설명으로 옳은 것만을 (보기에서 있는 대로 고른 것은?) (단, 온도는 일정하다.)

보기

- ㄱ.  $m=1$ 이다.  
 ㄴ.  $\frac{c}{b} = \frac{1}{2}$ 이다.  
 ㄷ.  $3t$  s일 때 B의 부분 압력  $\frac{7}{24}$ 이다.

- ① ㄱ    ② ㄷ    ③ ㄱ, ㄴ    ④ ㄴ, ㄷ    ⑤ ㄱ, ㄴ, ㄷ

### 연계 분석

수능 17번 문항은 수능완성 95쪽 5번 문항과 연계하여 출제되었다. 두 문항은 모두 1차 반응에서 반응 시간에 따른 전체 압력을 제시하고, 이를 통해 반감기를 구하도록 하는 점에서 유사하다. 또한 특정 반응 시간에서의 전체 압력과 부분 압력 자료를 이용하여 반응 계수를 결정하는 점에서 매우 높은 유사성을 보인다. 수능완성 문항에서는 반감기가 3번 지난 시점에서 부분 압력비를, 수능 문항에서는 반감기가 1번 지난 시점에서 전체 질량에 대한 C의 질량비를 묻고 있다.

### 학습 대책

1차 반응에서는 전체 압력, 반응물과 생성물의 농도비, 몰 분율 등이 표나 그림으로 다양하게 제시되고 있는데 무엇보다 반감기를 찾아내는 것이 중요하다. 반감기가  $n$ 번 지나면 반응물의 농도는 초기 농도의  $(\frac{1}{2})^n$ 배가 됨을 이용하여 화학 반응식의 계수, 분자량비, 질량비 등의 정보를 알아낼 수 있다. 1차 반응에서는 일정한 규칙에 의해 반응물과 생성물의 농도가 변화하므로 주어진 자료에서 규칙성을 찾아내는 것이 중요하다. 문항에서 제시된 자료를 변형하여 새로운 정보를 알아내는 연습을 통해 1차 반응에 익숙해지려는 노력이 필요하다.

## 수능 \_ EBS 교재 연계 사례

## 2022학년도 9월 모의평가 5번

5. 다음은  $A(g)$ 로부터  $B(g)$ 가 생성되는 반응의 화학 반응식과 반응 속도식이다.



표는 온도  $T$ 에서 3개의 강철 용기에  $A(g)$ 를 각각 넣고 반응시킨 실험 I~III에 대한 자료이다.

실험	A의 초기 농도 (M)	첨가한 촉매	$t$ s일 때 B의 농도 (M)
I	$a$	없음	$b$
II	$a$	X(s)	$4b$
III	$2a$	없음	$2b$

이에 대한 설명으로 옳은 것만을 <보기>에서 있는 대로 고른 것은? (단, 온도는  $T$ 로 일정하다.)

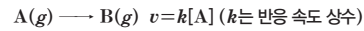
<보기>

- ㄱ. X(s)는 부촉매이다.  
 ㄴ.  $k$ 는 I에서와 III에서가 같다.  
 ㄷ. 정반응의 활성화 에너지는 I에서와 II에서가 같다.

- ① ㄱ    ② ㄴ    ③ ㄱ, ㄷ    ④ ㄴ, ㄷ    ⑤ ㄱ, ㄴ, ㄷ

## 2022학년도 EBS 수능특강 177쪽 9번

- [21028-0209]  
 09 다음은  $A(g)$ 가 반응하여  $B(g)$ 가 생성되는 반응의 화학 반응식과 반응 속도식이다.



표는 강철 용기에  $A(g)$ 를 넣고 반응시킨 실험 I~III에서 반응 초기 조건과  $t$  s 동안 생성된  $B(g)$ 의 농도에 대한 자료이다. I~III에서 A의 초기 농도는 같다.

실험	온도	첨가한 촉매	$t$ s 동안 생성된 B(g)의 농도(M)
I	$T_1$	없음	0.2
II	$T_2$	없음	0.4
III	$T_1$	X(s)	0.8

이에 대한 설명으로 옳은 것만을 <보기>에서 있는 대로 고른 것은?

<보기>

- ㄱ.  $T_2 > T_1$ 이다.  
 ㄴ. 반응 속도 상수는 III에서가 II에서보다 크다.  
 ㄷ. 반응의 활성화 에너지는 II에서가 I에서보다 크다.

- ① ㄱ    ② ㄷ    ③ ㄱ, ㄴ  
 ④ ㄴ, ㄷ    ⑤ ㄱ, ㄴ, ㄷ

## 연계 분석

9월 모의평가 5번 문항은 수능특강 177쪽 9번 문항과 연계하여 출제되었다. 두 문항은 모두 조건이 다른 1차 반응에서  $t$  s일 때 생성된 B의 농도를 비교하여 반응 속도를 비교하는 점에서 유사하다. 또한 첨가한 촉매 X(s)의 종류를 판단하는 점과 <보기>에서 반응 속도 상수의 비교, 활성화 에너지의 비교를 묻는 점에서 매우 높은 유사성을 보인다. 수능특강 문항에서는 온도 조건을 달리하였으나 9월 모의평가 문항에서는 A의 초기 농도 조건에 변화를 주었다.

## 학습 대책

수능특강을 공부할 때에는 주어진 문제의 정답을 찾는 것에 그치지 않고 반응물의 초기 농도, 온도, 촉매의 유무 및 종류 등 반응 조건이 다를 때 변화하는 것이 무엇인지 정리해야 한다. 초기 반응 속도가 변하는 조건, 반응 속도 상수가 변하는 조건을 구분하여야 하며, 제시된 자료를 분석하여 반응 속도가 어떤 경우에 더 크지를 판단할 수 있어야 한다. 또한 1차 반응에서는 주어진 조건이 반감기에 어떤 영향을 주는지도 정리해야 하며, 제시된 자료 전체를 분석하여 각 조건을 유기적으로 판단할 수 있는 연습과 노력이 필요하다.

### 개념 체크

● 화학 반응의 빠르기는 반응에 따라 여러 가지 방법으로 측정할 수 있다.

1. 중화 반응, 연소 반응, 양금 생성 반응 등은 상대적으로 ( 빠른 / 느린 ) 반응이다.

2. 화학 반응의 빠르기는 단위 시간 동안 반응물의 ( )한 농도나 생성물의 ( )한 농도를 측정하여 나타낸다.

3. 기체가 발생하는 반응에서 화학 반응의 빠르기는 ( )에 따라 발생한 기체의 질량이나 부피를 측정하여 나타낼 수 있다.


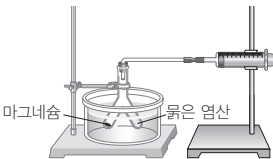

## 1 화학 반응 속도

(1) **빠른 반응과 느린 반응** : 우리 주위에서 일어나는 다양한 화학 반응은 빠르게 일어나는 반응과 느리게 일어나는 반응으로 구분할 수 있다.

① 빠른 반응의 예 : 중화 반응, 연소 반응, 양금 생성 반응 등

② 느린 반응의 예 : 석회 동굴의 생성 반응, 철의 부식 반응 등

(2) **화학 반응의 빠르기 측정** : 화학 반응에 따라 여러 가지 방법으로 측정할 수 있다.

반응	기체가 발생하는 경우		고체가 생성되는 경우
측정	시간에 따른 질량 측정	시간에 따른 기체 생성물의 부피 측정	고체 때문에 ×표가 보이지 않을 때까지 걸리는 시간 측정
실험 장치			
화학 반응식	$\text{CaCO}_3(s) + 2\text{HCl}(aq) \longrightarrow \text{CaCl}_2(aq) + \text{H}_2\text{O}(l) + \text{CO}_2(g)$	$\text{Mg}(s) + 2\text{HCl}(aq) \longrightarrow \text{MgCl}_2(aq) + \text{H}_2(g)$	$\text{Na}_2\text{S}_2\text{O}_3(aq) + 2\text{HCl}(aq) \longrightarrow \text{S}(s) + 2\text{NaCl}(aq) + \text{H}_2\text{O}(l) + \text{SO}_2(g)$
반응의 빠르기	$\frac{\text{발생한 CO}_2\text{의 질량(g)}}{\text{시간(s)}}$	$\frac{\text{발생한 H}_2\text{의 부피(mL)}}{\text{시간(s)}}$	$\frac{1}{\times \text{표가 보이지 않을 때까지 걸린 시간(s)}}$

### 탐구자료 살펴보기 화학 반응의 빠르기 측정하기

#### 실험 과정

- 충분한 양의 묽은 염산이 들어 있는 삼각 플라스크를 전자저울 위에 올려놓는다.
- 탄산 칼슘 5g을 넣은 후, 10 s 간격으로 질량을 측정한다.



#### 실험 결과

반응 시간(s)	0	10	20	30	40	50
질량(g)	192.4	191.4	190.9	190.6	190.4	190.3

#### 분석 Point

- 위 반응에서 반응의 빠르기는 시간에 따라 발생한 CO<sub>2</sub>의 질량을 측정하여 나타낼 수 있다. 각 구간에서 질량의 차이는 발생한 CO<sub>2</sub>의 질량에 해당하므로 반응의 빠르기는  $\frac{\text{발생한 CO}_2\text{의 질량(g)}}{\text{시간(s)}}$ 으로 나타낼 수 있고, 단위는 g/s를 사용할 수 있다.
- 각 구간에서 반응의 빠르기

구간	0~10 s	10~20 s	20~30 s	30~40 s	40~50 s
발생한 CO <sub>2</sub> 의 질량(g)	1	0.5	0.3	0.2	0.1
반응의 빠르기(g/s)	0.1	0.05	0.03	0.02	0.01

정답

- 빠른
- 감소, 증가
- 시간



### ③ 반응 속도

화학 반응이 일어나는 빠르기이며, 단위 시간 동안의 반응물 또는 생성물의 농도 변화량으로 나타낼 수 있다.

$$\text{반응 속도} = \frac{\text{반응물의 농도 감소량}}{\text{반응 시간}} \quad \text{또는} \quad \frac{\text{생성물의 농도 증가량}}{\text{반응 시간}}$$

(단위: mol/(L·s), mol/(L·min), M/s, M/min 등)

- ① 반응 속도의 표현: 화학 반응이 일어날 때 시간( $\Delta t$ )에 따른 반응물의 농도 변화 또는 생성물의 농도 변화로 반응 속도를 나타낸다. 화학 반응식에서 반응물이나 생성물의 농도 변화를 화학 반응식의 계수로 나누어서 나타낸다. 반응물의 농도는 반응 과정에서 감소하므로 반응 속도를 표현할 때에는 (-)를 붙인다.

$$aA + bB \longrightarrow cC + dD$$

$$v = -\frac{1}{a} \frac{\Delta[A]}{\Delta t} = -\frac{1}{b} \frac{\Delta[B]}{\Delta t} = \frac{1}{c} \frac{\Delta[C]}{\Delta t} = \frac{1}{d} \frac{\Delta[D]}{\Delta t}$$

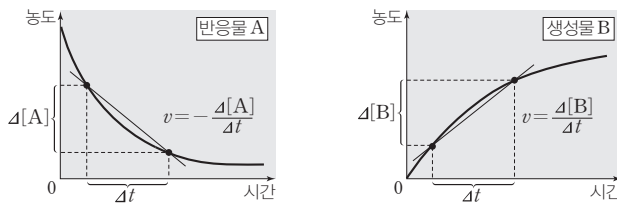
예  $\text{H}_2(g) + \text{I}_2(g) \longrightarrow 2\text{HI}(g)$ 의 반응 속도 표현

• 반응 계수비가  $\text{H}_2 : \text{I}_2 : \text{HI} = 1 : 1 : 2$ 이므로  $\text{H}_2$ 의 농도가 감소하는 속도나  $\text{I}_2$ 의 농도가 감소하는 속도는  $\text{HI}$ 의 농도가 증가하는 속도의  $\frac{1}{2}$ 과 같다.

• 반응물과 생성물의 농도 변화에 따른 반응 속도 사이에는 다음과 같은 관계가 성립한다.

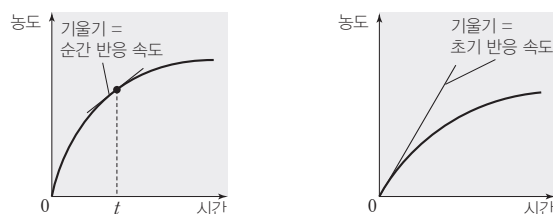
$$-\frac{\Delta[\text{H}_2]}{\Delta t} = -\frac{\Delta[\text{I}_2]}{\Delta t} = \frac{1}{2} \frac{\Delta[\text{HI}]}{\Delta t}$$

- ② 평균 반응 속도: 반응물이나 생성물의 농도 변화량을 반응이 일어난 시간으로 나누어 나타내는 반응 속도이며, 시간·농도 그래프에서 두 점을 지나는 직선의 기울기(절댓값)에 해당한다.



- ③ 순간 반응 속도: 특정 시간에서의 반응 속도를 나타내며, 시간·농도 그래프에서 특정 시간( $t$ )에서의 접선의 기울기(절댓값)에 해당한다.

- ④ 초기 반응 속도: 시간·농도 그래프에서  $t=0$ 일 때의 순간 반응 속도이다.



### 개념 체크

- **반응 속도:** 화학 반응에서 단위 시간 동안 변화한 물질의 농도와 부피, 질량 등으로 나타낼 수 있다.
- **평균 반응 속도:** 시간·농도 그래프에서 두 지점을 지나는 직선의 기울기(절댓값)이다.

1. 시간(s)에 따른 반응물의 몰 농도(mol/L) 변화를 나타낸 반응 속도의 단위는 ( )이다.
2.  $\text{H}_2(g) + \text{I}_2(g) \rightarrow 2\text{HI}(g)$ 의 반응에서  $\text{HI}$ 의 농도가 증가하는 속도는  $\text{H}_2$ 의 농도가 감소하는 속도의 ( )배이다.
3. ( ) 반응 속도는 시간·농도 그래프에서 두 지점을 지나는 직선의 기울기(절댓값)에 해당한다.
4. 일반적으로 반응이 진행될수록 반응물의 농도가 감소하므로 반응 속도는 점점 ( )진다.

### 정답

1. mol/(L·s)
2. 2
3. 평균
4. 느려

개념 체크

● **반응 속도식** : 반응 속도가 반응물의 농도와 어떤 관계가 있는지를 보여주는 식이다.

● **반응 차수** : 반응 속도식  $v=k[A]^m[B]^n$ 에서  $m$ 과  $n$ 은 각 물질에 대한 반응 차수이고, 전체 반응 차수는  $(m+n)$ 이다.

1.  $aA+bB \rightarrow cC+dD$ 의 반응이 A에 대한  $m$ 차 반응이고, B에 대한  $n$ 차 반응이면, 반응 속도식은 ( )으로 나타낸다.

2. 반응 속도 상수는 반응물의 농도에 따라 달라진다. (○, ×)

3. 반응 속도식이  $v=k[A]^2$ 의 반응에서  $k$ 는 ( )이고, 반응 시간의 단위가 s일 때,  $k$ 의 단위는 ( )이다.

2 반응 속도식

(1) **반응 속도식(반응 속도 법칙)** : 반응 속도는 반응물의 농도에 따라 달라지며, 물질 A와 B가 반응하여 물질 C와 D가 생성되는 반응에서 반응 속도식은 다음과 같이 나타낼 수 있다.

$$aA + bB \rightarrow cC + dD \quad v = k[A]^m[B]^n \quad (k : \text{반응 속도 상수})$$

① 반응 차수

- $m$ 과  $n$ 은 반응 차수를 나타낸다.
- $m, n$ 은 실험을 통해 구하며, 반응식의 계수인  $a, b$ 와 관계가 없다.
- 반응 속도식이  $v=k[A]^m[B]^n$ 인 반응은 A에 대한  $m$ 차 반응, B에 대한  $n$ 차 반응이고, 전체 반응 차수는  $(m+n)$ 이다.

예 화학 반응식과 반응 속도식

화학 반응식	반응 속도식	전체 반응 차수
$H_2(g) + I_2(g) \rightarrow 2HI(g)$	$v = k[H_2][I_2]$	2
$CH_3CHO(g) \rightarrow CH_4(g) + CO(g)$	$v = k[CH_3CHO]^2$	2

② **반응 속도 상수( $k$ )** :  $k$ 는 반응에 따라 다른 값을 가지며, 농도에 따라서는 달라지지 않는 상수로, 온도와 활성화 에너지에 따라서는 그 값이 달라진다.  $k$ 의 단위는 전체 반응 차수에 따라 다르다.

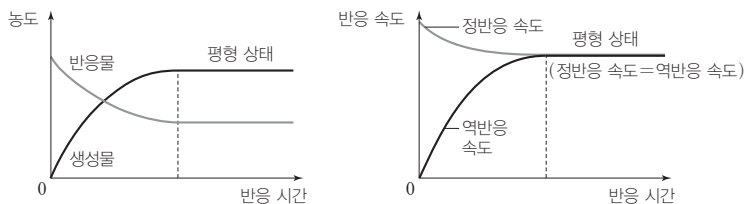
예  $v = k[A]^2[B]$ 의 반응 속도식에서 전체 반응 차수는 3이고, 반응 속도 상수( $k$ )는  $k = \frac{v}{[A]^2[B]}$ 이므로 반응 시간의 단위가 s일 때,  $k$ 의 단위는  $\frac{\text{mol}/(\text{L}\cdot\text{s})}{(\text{mol}/\text{L})^2 \times (\text{mol}/\text{L})} = \text{L}^2/(\text{mol}^2\cdot\text{s})$ 이다.

③ 반응 속도식에서 전체 반응 차수와 반응 속도 상수( $k$ )의 단위는 표와 같이 나타낼 수 있다.

반응 속도식	전체 반응 차수	반응 속도 상수( $k$ )의 단위
$v = k$	0	$\text{mol}/(\text{L}\cdot\text{s})$
$v = k[A]$	1	1/s
$v = k[A][B]$	2	$\text{L}/(\text{mol}\cdot\text{s})$
$v = k[A]^2[B]$	3	$\text{L}^2/(\text{mol}^2\cdot\text{s})$

과학 돋보기 화학 평형과 반응 속도

화학 평형 상태는 정반응 속도와 역반응 속도가 같아져서 더 이상 반응이 일어나지 않는 것처럼 보이는 상태이다. 가역 반응에서 반응 용기에 반응물만 넣어 주면 반응물의 농도는 점점 감소하므로 정반응 속도는 점점 느려지고, 생성물의 농도는 점점 증가하므로 역반응 속도는 점점 빨라진다. 시간이 흘러 정반응 속도와 역반응 속도가 같아지면 화학 평형 상태가 된다.



정답

1.  $v = k[A]^m[B]^n$
2. ×
3. 반응 속도 상수,  $\text{L}/(\text{mol}\cdot\text{s})$

## (2) 반응 차수와 반응 속도 상수의 결정

$v = k[A]^m[B]^n$ 에서 반응 차수  $m$ 과  $n$ 은 실험을 통해 구한다. 한 물질의 초기 농도가 같은 상태에서 다른 물질의 초기 농도를 변화시켜 가면서 초기 반응 속도를 측정한 다음, 반응물의 초기 농도비와 초기 반응 속도의 비를 비교하면 구할 수 있다.

예  $2\text{NO}(g) + \text{O}_2(g) \longrightarrow 2\text{NO}_2(g)$ 의 반응에서 반응물인 NO와  $\text{O}_2$ 의 초기 농도를 달리 하면서 초기 반응 속도를 측정한다.

실험	반응물의 초기 농도(mol/L)		초기 반응 속도 (mol/(L·s))
	NO	$\text{O}_2$	
I	0.02	0.01	0.028
II	0.02	0.02	0.056
III	0.04	0.02	0.224

① 반응 속도식을 쓴다.

$$\rightarrow v = k[\text{NO}]^m[\text{O}_2]^n$$



② 실험 I과 II를 비교하면  $\text{O}_2$ 의 초기 농도가 2배가 될 때 반응 속도가 2배가 됨을 알 수 있다. 이 반응은  $\text{O}_2$ 에 대한 1차 반응이다. ( $n=1$ )

$$\rightarrow v = k[\text{NO}]^m[\text{O}_2]$$



③ 실험 II와 III을 비교하면 NO의 초기 농도가 2배가 될 때 반응 속도가 4배가 됨을 알 수 있다. 이 반응은 NO에 대한 2차 반응이다. ( $m=2$ )

$$\rightarrow v = k[\text{NO}]^2[\text{O}_2]$$



④ 반응 속도식  $v = k[\text{NO}]^2[\text{O}_2]$ 에 어느 한 실험에서의 반응물의 초기 농도와 반응 속도를 대입하여 반응 속도 상수를 구한다.

$$\rightarrow k = \frac{v}{[\text{NO}]^2[\text{O}_2]} = \frac{0.028 \text{ mol/(L}\cdot\text{s)}}{(0.02 \text{ mol/L})^2 \times 0.01 \text{ mol/L}} = 7 \times 10^3 \text{ L}^2/(\text{mol}^2\cdot\text{s})$$

## 개념 체크

● 반응 차수 구하기: 반응 속도식  $v = k[A]^m[B]^n$ 에서 반응 차수  $m$ 과  $n$ 은 한 물질의 초기 농도가 같은 상태에서 다른 물질의 초기 농도를 변화시켜 가면서 초기 반응 속도를 비교하는 실험을 통해 구한다.

- $v = k[A]^m[B]^n$ 에서 반응 차수  $m$ 과  $n$ 은 ( ) 을 통해 구한다.
- $v = k[A]^m[B]^n$ 에서 B의 농도가 같은 경우, A의 초기 농도가 2배로 될 때 초기 반응 속도가 2배가 된다면  $m$ 은 ( )이다.

## 과학 돋보기 반응 차수와 반응 계수

화학 반응식	$2\text{H}_2\text{O}_2(aq) \longrightarrow 2\text{H}_2\text{O}(l) + \text{O}_2(g)$
반응 속도식	$v = k[\text{H}_2\text{O}_2]$
화학 반응식	$2\text{NO}_2(g) \longrightarrow 2\text{NO}(g) + \text{O}_2(g)$
반응 속도식	$v = k[\text{NO}_2]^2$

- 화학 반응식의 반응 계수와 반응 속도식의 반응 차수는 무관하다.
- 반응 속도식은 실험적으로 반응물의 초기 농도를 바꿔가면서 측정된 결과를 토대로, 반응 속도식을 세워 나타낼 수 있다.

정답

- 실험
- 1

## 개념 체크

● 1차 반응 : 반응 속도가 반응물의 농도에 비례한다.

1. A → B 반응이 A에 대한 1차 반응이라면 반응 속도식은 ( )이다.
2. 1차 반응의 반응 속도는 반응물의 농도에 비례한다. (○, ×)

## 탐구자료 살펴보기 반응 속도식 구하기

## 자료

- 화학 반응식 :  $2\text{NO}(g) + \text{Br}_2(g) \longrightarrow 2\text{NOBr}(g)$
- 일산화 질소(NO)와 브로민( $\text{Br}_2$ )의 반응에서 NO와  $\text{Br}_2$ 의 초기 농도를 달리하면서 초기 반응 속도를 측정하였다.

실험	[NO](M)	[Br <sub>2</sub> ](M)	초기 반응 속도(M/s)
I	0.1	0.2	20
II	0.2	0.2	80
III	0.1	0.4	40

## 분석

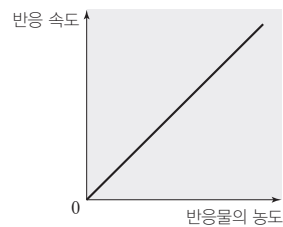
- 실험 I 과 II를 비교하여 NO의 농도가 2배가 될 때, 초기 반응 속도가 4배가 됨을 알 수 있다.  
→ NO에 대한 2차 반응
- 실험 I 과 III을 비교하여  $\text{Br}_2$ 의 농도가 2배가 될 때, 초기 반응 속도가 2배가 됨을 알 수 있다.  
→  $\text{Br}_2$ 에 대한 1차 반응
- 반응 속도식  $v = k[\text{NO}]^2[\text{Br}_2]$
- 실험 I 에서  $20 \text{ M/s} = k(0.1 \text{ M})^2 \times 0.2 \text{ M}$ 이므로  $k = 10000 \text{ M}^{-2} \cdot \text{s}^{-1}$ 이다.

## Point

2가지 이상의 반응물이 있는 경우 다른 반응물의 초기 농도가 일정한 상태에서 한 반응물의 농도 변화와 초기 반응 속도의 변화를 통해 각 반응물에 대한 반응 차수를 구한 뒤, 반응 속도식을 완성하면 된다.

## (3) 1차 반응과 반감기

- ① 1차 반응의 특징 : 1차 반응에서는 반응물의 농도에 따라 반응 속도가 비례한다. 반응물의 농도에 따른 반응 속도 그래프에서 기울기는 반응 속도 상수( $k$ )에 해당한다.



(기울기 : 반응 속도 상수( $k$ ))

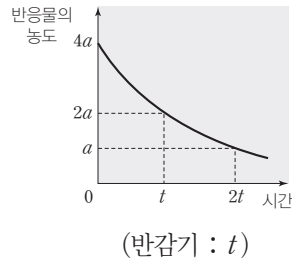
- 예
- 오산화 이질소( $\text{N}_2\text{O}_5$ )의 분해 반응  
 $2\text{N}_2\text{O}_5(g) \longrightarrow 4\text{NO}_2(g) + \text{O}_2(g) \quad v = k[\text{N}_2\text{O}_5]$
  - 과산화 수소( $\text{H}_2\text{O}_2$ )의 분해 반응  
 $2\text{H}_2\text{O}_2(aq) \longrightarrow 2\text{H}_2\text{O}(l) + \text{O}_2(g) \quad v = k[\text{H}_2\text{O}_2]$

- ② 반감기 : 반응물의 농도가 반으로 줄어들 때까지 걸리는 시간이며, 반감기는 반응 차수에 따라 다른 특성을 나타낸다.

정답

1.  $v = k[A]$
2. ○

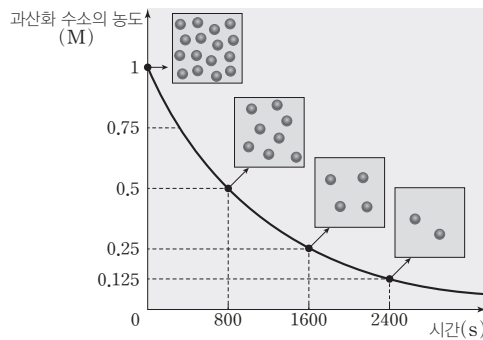
- 1차 반응과 반감기 : 1차 반응은 반응물의 농도가 반이 되는 데 걸리는 시간이 일정하여 반응물의 농도에 관계없이 반감기가 일정하다.



### 탐구자료 살펴보기 1차 반응의 반감기

#### 자료

그림은 과산화 수소의 분해 반응에서 시간에 따른 과산화 수소의 농도 변화를 나타낸 것이다.



#### 분석

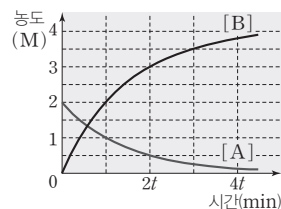
- 화학 반응식 :  $2\text{H}_2\text{O}_2(aq) \longrightarrow 2\text{H}_2\text{O}(l) + \text{O}_2(g)$
- 반감기는 800 s로 일정하므로 이 반응은 1차 반응이다. 따라서 반응 속도식은  $v = k[\text{H}_2\text{O}_2]$ 이다.

#### Point

반감기가 일정한 반응은 1차 반응이므로 반응 속도가 반응물의 농도에 비례한다.

### 과학 돋보기 1차 반응과 반응 계수

반응  $a\text{A}(g) \longrightarrow b\text{B}(g)$  ( $a, b$ 는 반응 계수)에서 시간에 따른 A와 B의 농도 변화를 통하여 반감기가  $t$  min이므로 1차 반응이고, 같은 시간 동안 감소한 A의 양(mol)과 증가한 B의 양(mol)을 통하여 반응 계수비  $a : b = 1 : 2$ 이고, 화학 반응식은  $\text{A} \longrightarrow 2\text{B}$ 임을 알 수 있다.



### 개념 체크

- **반감기** : 반응물의 농도가 반으로 줄어듦 때까지 걸리는 시간이다.
- **1차 반응** : 반응 속도가 반응물의 농도에 비례하며, 반응물의 농도에 따른 반응 속도 그래프에서 기울기는 반응 속도 상수( $k$ )에 해당한다.
- **1차 반응의 반감기** : 1차 반응은 반응물의 농도에 관계없이 반감기가 일정하다.

1. 반응물의 농도가 반으로 줄어듦 때까지 걸리는 시간을 ( )라고 한다.
2. 1차 반응에서 반응물의 농도에 따른 반응 속도 그래프에서 기울기는 ( )에 해당한다.
3. 1차 반응에서  $t$  s 동안 반응물의 농도가 처음 농도의  $\frac{1}{4}$ 배로 감소한다면 반감기는 ( ) s이다.
4. 1차 반응에서 반감기는 반응물의 농도에 관계없이 일정하다. (○, ×)

#### 정답

1. 반감기
2. 반응 속도 상수
3.  $\frac{t}{2}$
4. ○

개념 체크

- **활성화 에너지** : 화학 반응을 일으키는 데 필요한 최소한의 에너지이다.
- **활성화 에너지와 반응 엔탈피 ( $\Delta H$ )** : 반응 엔탈피는 정반응의 활성화 에너지에서 역반응의 활성화 에너지를 빼서 구할 수 있다.

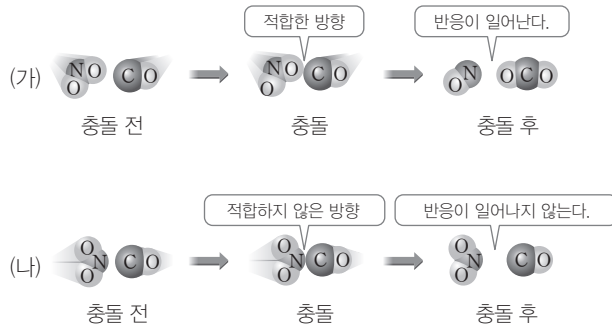
1. 반응물이 충돌하여 화학 반응을 일으키는 데 필요한 최소한의 에너지를 ( ) 라고 한다.
2. 활성화 에너지는 반응물과 생성물의 엔탈피 차이에 해당한다. ( O, X )
3. 반응 엔탈피( $\Delta H$ )는 ( 정반응 / 역반응 )의 활성화 에너지에서 ( 정반응 / 역반응 )의 활성화 에너지를 빼서 구할 수 있다.

3 활성화 에너지

(1) 화학 반응과 충돌 방향

화학 반응이 일어나려면 반응하는 물질의 입자들이 충돌해야 하며, 충돌하는 순간에 입자들의 방향이 화학 반응을 일으키기에 적합해야 한다.

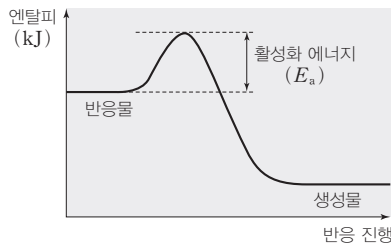
예  $\text{NO}_2(g) + \text{CO}(g) \longrightarrow \text{NO}(g) + \text{CO}_2(g)$ 의 반응에서 입자의 충돌 방향과 화학 반응



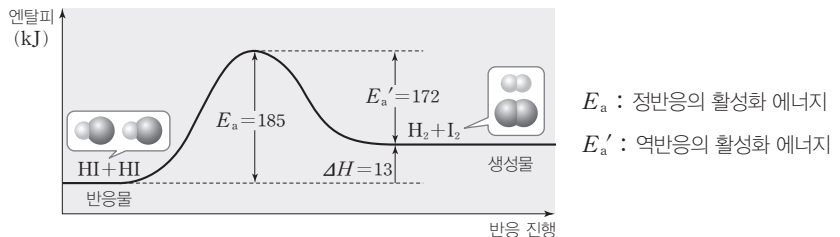
$\text{NO}_2(g)$ 와  $\text{CO}(g)$ 가 반응하여  $\text{NO}(g)$ 와  $\text{CO}_2(g)$ 를 생성하기 위해서는 (가)와 같이  $\text{NO}_2(g)$ 의 O 원자와  $\text{CO}(g)$ 의 C 원자가 충돌해야 한다. (나)와 같이 적합하지 않은 방향으로 충돌하면 반응은 일어나지 않는다.

(2) 활성화 에너지( $E_a$ )

① **활성화 에너지** : 화학 반응을 일으키는 데 필요한 최소한의 에너지이다. 활성화 에너지는 반응물이 생성물로 되기 위해 넘어야 하는 에너지 장벽이라고 할 수 있다.



② **활성화 에너지( $E_a$ )와 반응 엔탈피( $\Delta H$ )** : 반응 엔탈피( $\Delta H$ )는 생성물의 엔탈피 합에서 반응물의 엔탈피 합을 뺀 값에 해당하므로 활성화 에너지와는 관계가 없다.



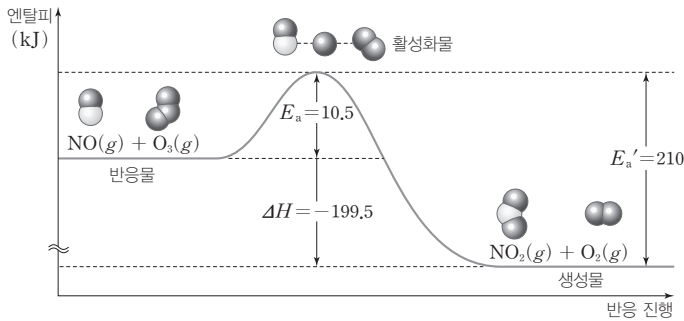
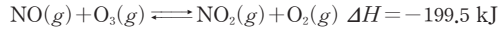
③ **활성화 에너지와 반응 속도** : 온도와 반응물의 농도가 일정할 때, 반응의 활성화 에너지가 작을수록 반응 속도가 빠르고, 활성화 에너지가 클수록 반응 속도가 느리다.

정답

1. 활성화 에너지
2. X
3. 정반응, 역반응

과학 돋보기 **활성화물**

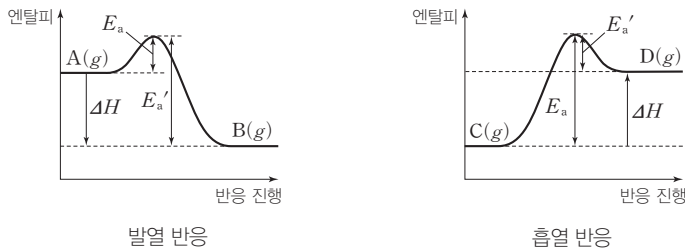
일산화 질소(NO)와 오존(O<sub>3</sub>)의 반응의 열화학 반응식과 반응의 진행에 따른 엔탈피 변화는 다음과 같다.



- 활성화 에너지 이상의 에너지를 가진 분자들이 에너지가 가장 높은 불안정한 상태에 도달한 것을 활성화 상태라고 하고, 활성화 상태에 있는 불안정한 화합물을 활성화물이라고 한다.
- 활성화물은 화학 결합이 끊어지기 직전의 불안정한 상태이다.
- 활성화물은 다시 반응물이 되거나 생성물로 변한다.

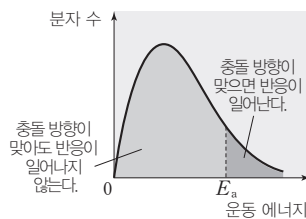
과학 돋보기 **발열 반응과 흡열 반응에서의 활성화 에너지**

- 열화학 반응식:  $A(g) \rightleftharpoons B(g) \quad \Delta H < 0$   
 ➔ 정반응의 활성화 에너지( $E_a$ )가 역반응의 활성화 에너지( $E_a'$ )보다 작다.
- 열화학 반응식:  $C(g) \rightleftharpoons D(g) \quad \Delta H > 0$   
 ➔ 정반응의 활성화 에너지( $E_a$ )가 역반응의 활성화 에너지( $E_a'$ )보다 크다.



(3) 유효 충돌과 비유효 충돌

- ① 유효 충돌: 화학 반응이 일어나기에 적합한 방향으로 활성화 에너지 이상의 에너지를 가진 입자들이 충돌하여 화학 반응이 일어나는 충돌이다.
- ② 비유효 충돌: 충돌 방향이 반응이 일어나는 데 적합하지 않거나 입자의 에너지가 활성화 에너지보다 작을 때 충돌해도 화학 반응이 일어나지 않는 충돌이다.



개념 체크

- **활성화 에너지와 반응 속도**: 활성화 에너지가 작을수록 반응 속도가 빠르다.
- **발열 반응과 활성화 에너지**: 역반응의 활성화 에너지가 정반응의 활성화 에너지보다 크다.
- **유효 충돌**: 활성화 에너지 이상의 에너지를 가진 입자들이 반응을 일으킬 수 있는 방향으로 충돌할 때 반응이 일어나는 충돌이다.

1. 온도와 반응물의 농도가 일정할 때, 활성화 에너지가 ( )면 반응 속도가 느리고, 활성화 에너지가 ( )면 반응 속도가 빠르다.
2. 발열 반응은 정반응의 활성화 에너지가 역반응의 활성화 에너지보다 ( )고, 흡열 반응은 정반응의 활성화 에너지가 역반응의 활성화 에너지보다 ( )다.
3. (유효 / 비유효) 충돌은 활성화 에너지 이상의 에너지를 가진 입자들이 반응을 일으킬 수 있는 방향으로 충돌할 때 반응이 일어나는 충돌이다.

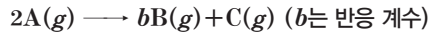
정답

1. 크, 작
2. 작, 크
3. 유효

기출문제 다시보기 **반응 속도와 압력**

2022학년도 대수능

다음은 A(g)로부터 B(g)와 C(g)가 생성되는 반응의 화학 반응식이다.



표는 온도 T에서 강철 용기에 A(g)의 압력이 1 atm 이 되도록 넣은 후 반응이 진행될 때, 반응 시간(t)에 따른 C(g)의 부분 압력(P<sub>C</sub>)을 나타낸 것이다. t=100 s일 때, B(g)의 부분 압력은 1 atm이다.

t(s)	0	100	200
P <sub>C</sub> (atm)	0	$\frac{1}{4}$	$\frac{3}{8}$

이에 대한 설명으로 옳은 것만을 <보기>에서 있는 대로 고른 것은? (단, 온도는 일정하다.)

보기

- ㄱ. t=200 s일 때, 혼합 기체의 압력은  $\frac{17}{8}$  atm이다.
- ㄴ. 순간 반응 속도는 t=100 s일 때가 t=200 s일 때의 2배이다.
- ㄷ. 평균 반응 속도는 t=0~100 s 동안이 t=0~200 s 동안의 2배이다.

- ① ㄱ                      ② ㄷ                      ③ ㄱ, ㄴ                      ④ ㄴ, ㄷ                      ⑤ ㄱ, ㄴ, ㄷ

**해설** 반응 몰비는 B : C = 4 : 1이므로 b=4이다. 이 반응은 A에 대한 1차 반응이고, 반감기는 100 s이다.

ㄱ. t=200 s일 때, A(g)의 부분 압력은  $1 \times \left(\frac{1}{2}\right)^2 = \frac{1}{4}$  atm, B(g)의 부분 압력은  $\left(1 - \frac{1}{4}\right) \times 2 = \frac{3}{2}$  atm, C(g)의 부분 압력은  $\frac{3}{2} \times \frac{1}{4} = \frac{3}{8}$  atm이다. 따라서 t=200 s일 때, 혼합 기체의 압력은  $\frac{1}{4} + \frac{3}{2} + \frac{3}{8} = \frac{17}{8}$  atm이다.

ㄴ. 주어진 반응은 1차 반응이므로 순간 반응 속도는 A(g)의 농도(M)에 비례한다. A(g)의 농도(M)는 t=100 s일 때가 t=200 s일 때의 2배이므로 순간 반응 속도는 t=100 s일 때가 t=200 s일 때의 2배이다.

ㄷ. A(g)의 부분 압력과 농도(M)는 비례하고, t=0~100 s 동안의 A(g)의 부분 압력은  $1 - \frac{1}{2} = \frac{1}{2}$  atm 감소했고, t=0~200 s 동안 A(g)의 부분 압력은  $1 - \frac{1}{4} = \frac{3}{4}$  atm 감소했다. 따라서 t=0~100 s 동안과 t=0~200 s 동안의 평균 반응 속도비는  $\frac{1}{200} : \frac{3}{800} = 4 : 3$ 이다. 답 ③

기출문제 다시보기 **반응 속도와 농도**

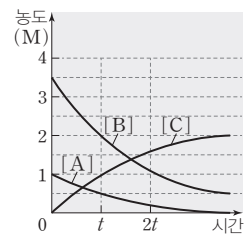
2022학년도 9월 모의평가

다음은 A(g)와 B(g)가 반응하여 C(g)가 생성되는 반응의 화학 반응식이다.



그림은 온도 T에서 강철 용기에 A(g)와 B(g)를 넣은 후 반응이 진행될 때, 시간에 따른 [A]~[C]를 나타낸 것이다.

이에 대한 설명으로 옳은 것만을 <보기>에서 있는 대로 고른 것은? (단, 온도는 T로 일정하다.)



보기

- ㄱ. b=c이다.
- ㄴ. 순간 반응 속도는 t일 때가 2t일 때보다 크다.
- ㄷ. 평균 반응 속도는 0~t 동안이 t~2t 동안보다 크다.

- ① ㄱ                      ② ㄴ                      ③ ㄱ, ㄷ                      ④ ㄴ, ㄷ                      ⑤ ㄱ, ㄴ, ㄷ

**해설** ㄱ. 0~t 동안 감소한 A(g)와 B(g)의 농도는 각각 0.5 M, 1.5 M이고, 증가한 C(g)의 농도는 1 M이므로 b=3, c=2이다. ㄴ. 반응 시간이 지날수록 A(g)와 B(g)의 농도 그래프의 기울기가 감소하므로 순간 반응 속도는 t 일 때가 2t일 때보다 크다. ㄷ. 감소한 A(g)의 농도는 0~t에서가 0.5 M, t~2t에서가 0.5 M보다 작으므로 평균 반응 속도는 0~t 동안이 t~2t 동안보다 크다. 답 ④



01 [22028-0173] 다음은 1차 반응  $X(g) \longrightarrow Y(g)$ 에 대한 학생들의 대화이다.

반응 속도는  $\frac{X \text{의 농도 감소량}}{\text{반응 시간}}$ 으로 나타낼 수 있어.

단위 시간 동안 반응한 X의 양(mol)과 생성된 Y의 양(mol)은 같아.

반응 속도식은  $v=k[X]$  ( $k$ 는 반응 속도 상수)로 나타낼 수 있어.

학생 A          학생 B          학생 C

제시한 내용이 옳은 학생만을 있는 대로 고른 것은?

- ① A                      ② C                      ③ A, B  
 ④ B, C                  ⑤ A, B, C

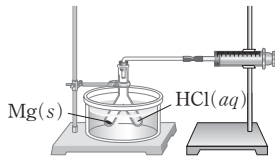
02 [22028-0174] 다음은  $Mg(s)$ 과  $HCl(aq)$ 의 반응 속도 실험이다.

○ 화학 반응식



[실험 과정]

(가) 그림과 같은 실험 장치에서  $Mg(s)$ 과  $HCl(aq)$ 을 반응시킨다.



(나) 0~50 s 동안 발생한 ㉠을/를 측정하여 평균 반응 속도를 구한다.

[실험 결과]

○ 0~50 s 동안 평균 반응 속도 : 1.2 mL/s

이에 대한 설명으로 옳은 것만을 <보기>에서 있는 대로 고른 것은?

[ 보기 ]

- ㄱ. 'H<sub>2</sub>(g)의 부피(mL)'는 ㉠으로 적절하다.  
 ㄴ. 반응이 진행되면 Mg(s)의 질량은 감소한다.  
 ㄷ. 일정 시간 동안  $-\frac{\Delta[Mg^{2+}]}{\Delta[H^+]}$  = 1이다.

- ① ㄱ                      ② ㄷ                      ③ ㄱ, ㄴ  
 ④ ㄴ, ㄷ                  ⑤ ㄱ, ㄴ, ㄷ

03 [22028-0175] 그림은 2가지 화학 반응의 빠르기를 측정하기 위한 실험과 각 반응의 반응물을 나타낸 것이다.



(가)와 (나)의 공통점으로 옳은 것만을 <보기>에서 있는 대로 고른 것은?

[ 보기 ]

- ㄱ. 고체가 석출되는 반응이다.  
 ㄴ. 반응이 진행되면 H<sup>+</sup>(aq)의 농도는 감소한다.  
 ㄷ. 시간에 따른 질량 변화를 측정하여 반응의 빠르기를 나타낸다.

- ① ㄱ                      ② ㄴ                      ③ ㄷ  
 ④ ㄱ, ㄴ                  ⑤ ㄴ, ㄷ

04 [22028-0176] 표는 강철 용기에서 반응  $A(g) \longrightarrow B(g)$ 이 일어날 때 반응 시간에 따른 B(g)의 농도를 나타낸 것이다.

반응 시간(s)	0	10	20	30	40	50
B(g)의 농도(M)	0	0.8	1.2	1.4	1.5	1.5

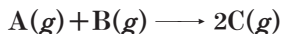
이에 대한 설명으로 옳은 것만을 <보기>에서 있는 대로 고른 것은? (단, 온도는 일정하다.)

[ 보기 ]

- ㄱ. 반응이 진행되는 동안 시간이 지날수록 B(g)의 생성 속도는 감소한다.  
 ㄴ. 순간 반응 속도(M/s)는 10 s일 때가 30 s일 때보다 작다.  
 ㄷ. 반응 초기부터 반응이 완결될 때까지의 평균 반응 속도는 0.03 M/s보다 크다.

- ① ㄱ                      ② ㄴ                      ③ ㄱ, ㄷ  
 ④ ㄴ, ㄷ                  ⑤ ㄱ, ㄴ, ㄷ

05 [22028-0177] 다음은 A(g)와 B(g)가 반응하여 C(g)가 생성되는 반응의 화학 반응식과 반응 속도식이다.



$$v = k[A]^m[B]^n \quad (k \text{는 반응 속도 상수, } m, n \text{은 반응 차수})$$

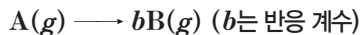
표는 반응물의 초기 농도에 따른 초기 반응 속도를 나타낸 것이다.

실험	초기 농도(M)		초기 반응 속도(M/s)
	A	B	
I	0.1	0.1	0.1
II	0.2	0.1	0.2
III	0.4	0.2	0.8
IV	0.5	x	1.0

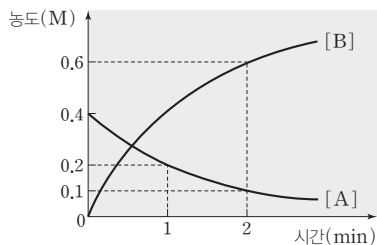
(m+n) × x는? (단, 온도는 일정하다.)

- ① 0.1                      ② 0.2                      ③ 0.3  
 ④ 0.4                      ⑤ 0.6

06 [22028-0178] 다음은 A(g)로부터 B(g)가 생성되는 반응의 화학 반응식이다.



그림은 강철 용기에 A(g)를 넣고 반응시킬 때, 반응 시간에 따른 A(g)와 B(g)의 농도를 나타낸 것이다.



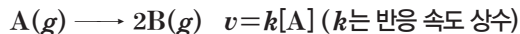
이에 대한 설명으로 옳은 것만을 <보기>에서 있는 대로 고른 것은? (단, 온도는 일정하다.)

보기

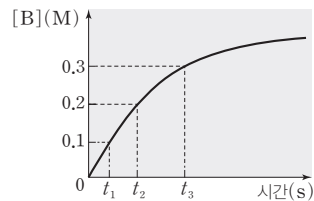
- ㄱ. b=2이다.  
 ㄴ. 이 반응의 전체 반응 차수는 1이다.  
 ㄷ. 0~2 min 동안 평균 반응 속도는 2 min일 때의 순간 반응 속도보다 크다.

- ① ㄱ                      ② ㄴ                      ③ ㄱ, ㄷ  
 ④ ㄴ, ㄷ                ⑤ ㄱ, ㄴ, ㄷ

07 [22028-0179] 다음은 A(g)로부터 B(g)가 생성되는 반응의 화학 반응식과 반응 속도식이다.



그림은 1 L 강철 용기에 A(g) 0.2 mol을 넣고 반응시킬 때, 반응 시간에 따른 B(g)의 농도를 나타낸 것이다.



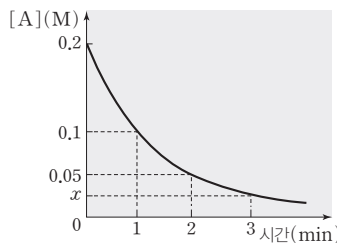
이에 대한 설명으로 옳은 것만을 <보기>에서 있는 대로 고른 것은? (단, 온도는 일정하다.)

보기

- ㄱ. t<sub>1</sub>~t<sub>2</sub> s에서 A(g)의 농도 감소량은 0.05 M이다.  
 ㄴ. 순간 반응 속도는 t<sub>2</sub> s일 때가 t<sub>3</sub> s일 때의 3/2배이다.  
 ㄷ. t<sub>2</sub>=2t<sub>1</sub>이다.

- ① ㄱ                      ② ㄴ                      ③ ㄱ, ㄷ                ④ ㄴ, ㄷ                ⑤ ㄱ, ㄴ, ㄷ

08 [22028-0180] 그림은 강철 용기에서 반응 2A(g) → 4B(g)+C(g)이 일어날 때 반응 시간에 따른 A(g)의 농도를 나타낸 것이다.



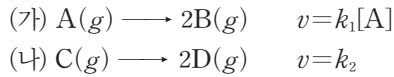
이에 대한 설명으로 옳은 것만을 <보기>에서 있는 대로 고른 것은? (단, 온도는 일정하다.)

보기

- ㄱ. x=0.025이다.  
 ㄴ. 1 min일 때 B(g)의 몰 분율은 4/5이다.  
 ㄷ. 순간 반응 속도는 2 min일 때가 4 min일 때의 2배이다.

- ① ㄱ                      ② ㄴ                      ③ ㄱ, ㄷ                ④ ㄴ, ㄷ                ⑤ ㄱ, ㄴ, ㄷ

**09** [22028-0181] 다음은 2가지 반응의 화학 반응식과 반응 속도식이다.  $k_1$ 과  $k_2$ 는 반응 속도 상수이다.



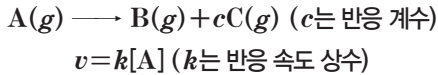
이에 대한 설명으로 옳은 것만을 <보기>에서 있는 대로 고른 것은? (단, 온도는 일정하다.)

보기

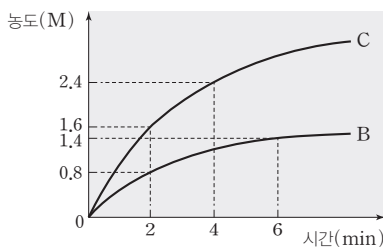
- ㄱ. (가)는 반감기가 일정한 반응이다.
- ㄴ. (나)에서 반응물의 초기 농도가 클수록 초기 반응 속도가 빠르다.
- ㄷ. (가)와 (나)에서 반응이 진행되면 전체 기체의 양(mol)이 증가한다.

- ① ㄱ      ② ㄴ      ③ ㄱ, ㄷ      ④ ㄴ, ㄷ      ⑤ ㄱ, ㄴ, ㄷ

**10** [22028-0182] 다음은  $A(g)$ 로부터  $B(g)$ 와  $C(g)$ 가 생성되는 반응의 화학 반응식과 반응 속도식이다.



그림은 1 L 강철 용기에  $A(g)$   $x$  mol을 넣고 반응시킬 때, 반응 시간에 따른  $B(g)$ 와  $C(g)$ 의 농도를 나타낸 것이다.



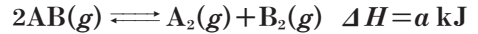
이에 대한 설명으로 옳은 것만을 <보기>에서 있는 대로 고른 것은? (단, 온도는 일정하다.)

보기

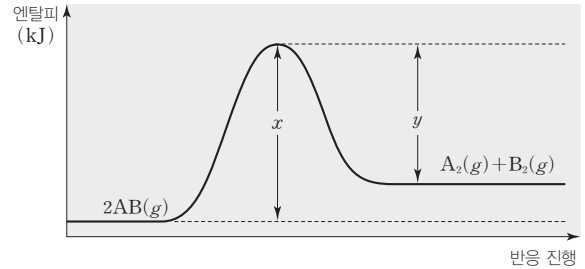
- ㄱ.  $c=2$ 이다.
- ㄴ.  $x=1.6$ 이다.
- ㄷ.  $\frac{4 \text{ min일 때 } [B]}{6 \text{ min일 때 } [A]}=6$ 이다.

- ① ㄱ      ② ㄷ      ③ ㄱ, ㄴ      ④ ㄴ, ㄷ      ⑤ ㄱ, ㄴ, ㄷ

**11** [22028-0183] 다음은  $AB(g)$ 가 분해되는 반응의 열화학 반응식이다.



그림은 반응의 진행에 따른 엔탈피를 나타낸 것이다.



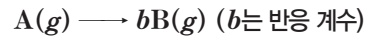
이에 대한 설명으로 옳은 것만을 <보기>에서 있는 대로 고른 것은? (단, 온도는 일정하다.)

보기

- ㄱ.  $a < 0$ 이다.
- ㄴ. 역반응의 활성화 에너지는  $y$  kJ이다.
- ㄷ.  $x = a + y$ 이다.

- ① ㄱ      ② ㄴ      ③ ㄷ  
 ④ ㄱ, ㄴ      ⑤ ㄴ, ㄷ

**12** [22028-0184] 다음은  $A(g)$ 로부터  $B(g)$ 가 생성되는 반응의 화학 반응식이다.



표는 1 L의 강철 용기에  $A(g)$  1 mol을 넣고 반응시킬 때, 반응 시간에 따른  $\frac{[B]}{[A]}$ 를 나타낸 것이다.

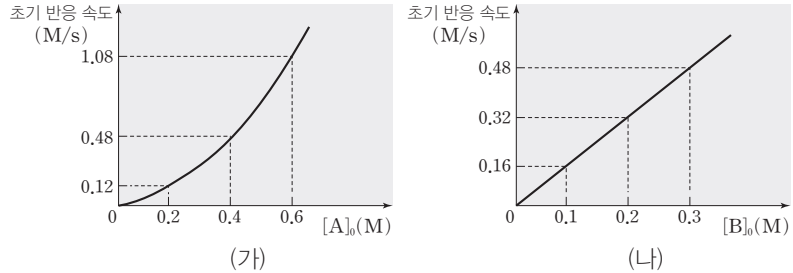
반응 시간(min)	0	1	2	3
$\frac{[B]}{[A]}$	0	2	6	14

2 min일 때,  $\frac{B \text{의 질량}}{A \text{의 질량}}$ 은? (단, 온도는 일정하다.)

- ①  $\frac{3}{2}$       ② 3      ③  $\frac{7}{2}$   
 ④ 4      ⑤  $\frac{9}{2}$

(가)에서 B(g)의 농도가 일정할 때 A(g)의 농도의 제곱과 초기 반응 속도는 비례한다.

01 [22028-0185] A(g)와 B(g)가 반응하여 C(g)가 생성되는 반응에 대하여 그림 (가)는 B(g)의 초기 농도가 0.3 M일 때 A(g)의 초기 농도([A]<sub>0</sub>)에 따른 초기 반응 속도를, (나)는 A(g)의 초기 농도가 x M일 때 B(g)의 초기 농도([B]<sub>0</sub>)에 따른 초기 반응 속도를 나타낸 것이다.



이에 대한 설명으로 옳은 것만을 <보기>에서 있는 대로 고른 것은? (단, 온도는 일정하다.)

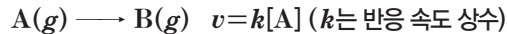
보기

- ㄱ. 이 반응은 A에 대한 2차 반응이다.
- ㄴ. 반응 속도 상수(k)는 10 M<sup>-2</sup>·s<sup>-1</sup>이다.
- ㄷ. x=0.4이다.

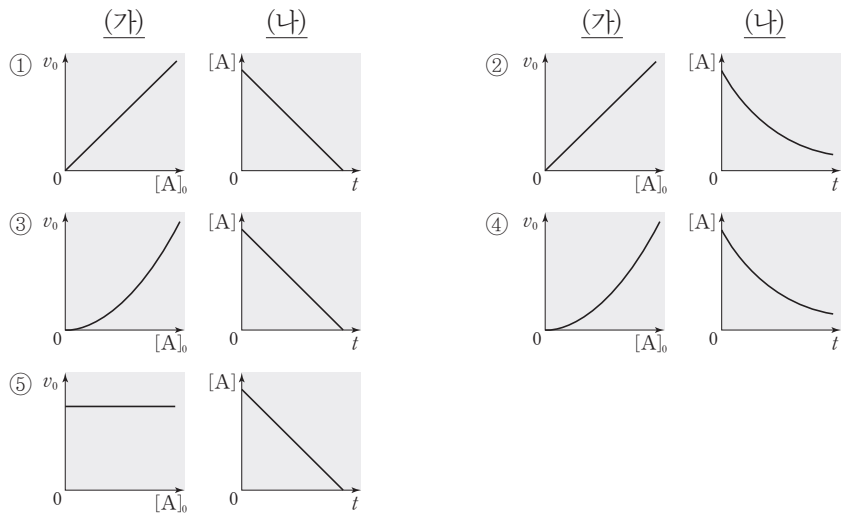
- ① ㄱ      ② ㄷ      ③ ㄱ, ㄴ      ④ ㄴ, ㄷ      ⑤ ㄱ, ㄴ, ㄷ

1차 반응에서 초기 반응 속도는 A(g)의 초기 농도에 비례하고, A(g)의 농도가 반으로 줄어드는 데 걸리는 시간은 같다.

02 [22028-0186] 다음은 A(g)로부터 B(g)가 생성되는 반응의 화학 반응식과 반응 속도식이다.

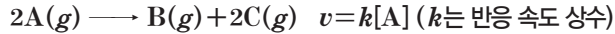


(가) A(g)의 초기 농도([A]<sub>0</sub>)에 따른 초기 반응 속도(v<sub>0</sub>)와 (나) 반응 시간(t)에 따른 A(g)의 농도([A])를 각각 그림으로 나타낸 것으로 가장 적절한 것은? (단, 온도는 일정하다.)

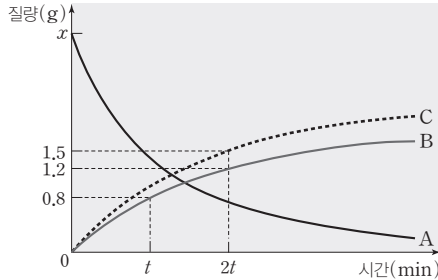


03 [22028-0187]

다음은 A(g)로부터 B(g)와 C(g)가 생성되는 반응의 화학 반응식과 반응 속도식이다.



그림은 강철 용기에 A(g) x g을 넣고 반응시킬 때, 반응 시간에 따른 A(g) ~ C(g)의 질량을 나타낸 것이다.



$x \times \frac{B \text{의 분자량}}{A \text{의 분자량}}$  은? (단, 온도는 일정하다.)

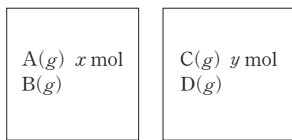
- ① 1.6      ② 2.4      ③ 3.2      ④ 3.6      ⑤ 4.8

04 [22028-0188]

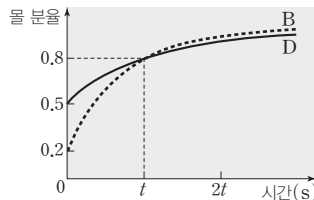
다음은 2가지 반응의 화학 반응식과 반응 속도식이다.  $k_1, k_2$ 는 반응 속도 상수이다.



그림 (가)는 온도 T에서 부피가 동일한 2개의 강철 용기에 A(g)~D(g)를 넣은 초기 상태를, (나)는 (가)의 각 강철 용기에서 이 반응이 진행될 때, 반응 시간에 따른 B(g)와 D(g)의 몰 분율을 나타낸 것이다. t s일 때,  $\frac{D(g) \text{의 부분 압력}}{B(g) \text{의 부분 압력}} = \frac{3}{2}$ 이다.



(가)



(나)

이에 대한 설명으로 옳은 것만을 <보기>에서 있는 대로 고른 것은? (단, 온도는 T로 일정하다.)

보기

- ㄱ.  $k_2 > k_1$ 이다.
- ㄴ.  $2x = 3y$ 이다.
- ㄷ. 2t s일 때,  $\frac{C(g) \text{의 양(mol)}}{A(g) \text{의 양(mol)}} = 3$ 이다.

- ① ㄱ      ② ㄴ      ③ ㄷ      ④ ㄱ, ㄴ      ⑤ ㄴ, ㄷ

0~t min에서 B(g)의 질량 증가가 0.8 g, t~2t min에서 B(g)의 질량 증가가  $0.8 \times \frac{1}{2} = 0.4$  g이므로 이 반응의 반감기는 t min이다.

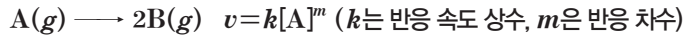
1차 반응에서 반응 속도 상수는 반감기가 짧은 반응이 반감기가 긴 반응보다 크다.

부피와 온도가 일정하므로 기체의 부분 압력은 기체의 양(mol)에 비례한다.

시간 · 농도 그래프에서 특정 시간에서의 접선의 기울기(절댓값)는 순간 반응 속도를 나타낸다.

05 [22028-0189]

다음은 A(g)로부터 B(g)가 생성되는 반응의 화학 반응식과 반응 속도식이다.



표는 1 L 강철 용기에 A(g) 0.8 mol을 넣고 반응시킬 때, 반응 시간에 따른  $\frac{P_B}{P_A}$ 와 순간 반응 속도를 나타낸 것이다.  $P_A$ 와  $P_B$ 는 각각 A와 B의 부분 압력이다.

반응 시간(min)	$t$	$2t$	$3t$
$\frac{P_B}{P_A}$	2	$x$	14
순간 반응 속도(M/min)	0.2	$y$	0.05

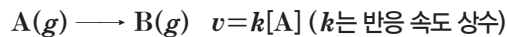
이에 대한 설명으로 옳은 것만을 <보기>에서 있는 대로 고른 것은? (단, 온도는 일정하다.)

- 보기
- ㄱ.  $m=1$ 이다.
  - ㄴ.  $k=0.5 \text{ min}^{-1}$ 이다.
  - ㄷ.  $x \times y=0.6$ 이다.

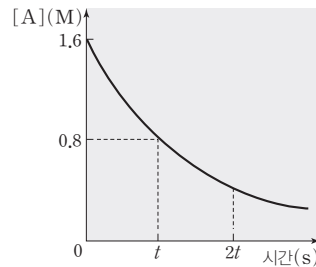
- ① ㄱ      ② ㄷ      ③ ㄱ, ㄴ      ④ ㄴ, ㄷ      ⑤ ㄱ, ㄴ, ㄷ

06 [22028-0190]

다음은 A(g)로부터 B(g)가 생성되는 반응의 화학 반응식과 반응 속도식이다.



그림은 강철 용기에 A(g)를 넣고 반응시킬 때, 반응 시간에 따른 A(g)의 농도를 나타낸 것이다.



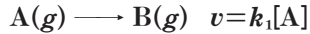
이에 대한 설명으로 옳은 것만을 <보기>에서 있는 대로 고른 것은? (단, 온도는 일정하다.)

- 보기
- ㄱ. 순간 반응 속도는  $t$  s일 때가  $2t$  s일 때의 2배이다.
  - ㄴ. 평균 반응 속도는  $0 \sim t$  s에서가  $t \sim 2t$  s에서의 2배이다.
  - ㄷ.  $0 \sim 2t$  s에서 평균 반응 속도는  $2t$  s일 때 순간 반응 속도보다 크다.

- ① ㄱ      ② ㄷ      ③ ㄱ, ㄴ      ④ ㄴ, ㄷ      ⑤ ㄱ, ㄴ, ㄷ

07 [22028-0191]

다음은 2가지 반응의 화학 반응식과 반응 속도식이다.  $k_1, k_2$ 는 반응 속도 상수이다.



표는 부피가 같은 2개의 강철 용기에 서로 다른 농도의 A(g)와 C(g)를 각각 넣고 반응시킨 실험 I 과 II 에 대한 자료이다.

실험	반응물의 초기 농도	반응 시간 2 min일 때	
		반응물의 농도(M)	생성물의 농도(M)
I	[A]=0.1 M	a	b
II	[C]=0.4 M	a	5b

이에 대한 설명으로 옳은 것만을 <보기>에서 있는 대로 고른 것은? (단, 온도는 일정하다.)

보기

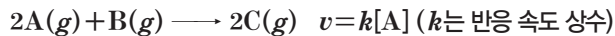
- ㄱ. I에서의 반감기 / II에서의 반감기 = 3이다.
- ㄴ. II에서 반응 시간이 1 min일 때, D(g)의 농도는 0.3 M이다.
- ㄷ. 0~1 min에서의 II에서의 평균 반응 속도 / I에서의 평균 반응 속도 = 6이다.

- ① ㄱ                      ② ㄴ                      ③ ㄷ                      ④ ㄱ, ㄴ                      ⑤ ㄴ, ㄷ

I의 반감기를  $t_1$  min이라 하면  $2t_1$  min일 때 A(g)의 농도는 0.025 M, B(g)의 농도는 0.075 M이다.

08 [22028-0192]

다음은 A(g)와 B(g)가 반응하여 C(g)가 생성되는 반응의 화학 반응식과 반응 속도식이다.



표는 강철 용기에 A(g) ~ C(g)를 넣고 이 반응을 진행시킬 때, 반응 시간(t)에 따른 C(g)의 몰 분율을 나타낸 것이다.

넣어 준 기체의 양(mol)			C(g)의 몰 분율		
A(g)	B(g)	C(g)	t=0	t=10 min	t=20 min
x	y	1	$\frac{1}{9}$	$\frac{8}{15}$	$\frac{2}{3}$

$\frac{y}{x}$ 는? (단, 온도는 일정하다.)

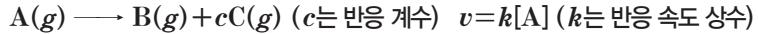
- ①  $\frac{1}{7}$                       ②  $\frac{1}{3}$                       ③  $\frac{3}{5}$                       ④ 1                      ⑤  $\frac{5}{3}$

t=0일 때, A(g)와 B(g)의 양은 각각 x mol, (8-x) mol 이다.

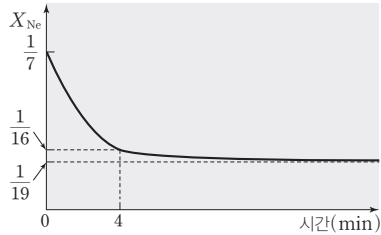
반응 초기에  $\text{Ne}(g)$ 의 몰 분율은  $\frac{1}{7}$ 이므로  $\text{A}(g)$ 의 양은 12 mol이다.  $\text{A}(g)$ 가 모두 반응하였을 때,  $\text{Ne}(g)$ 의 몰 분율이  $\frac{1}{19}$ 이므로  $\text{B}(g)$ 와  $\text{C}(g)$ 의 전체 양은 36 mol이다.

(가)에서  $[\text{A}]_0$ 와 초기 반응 속도가 비례하므로 주어진 반응은 1차 반응이다.

09 [22028-0193] 다음은  $\text{A}(g)$ 로부터  $\text{B}(g)$ 와  $\text{C}(g)$ 가 생성되는 반응의 화학 반응식과 반응 속도식이다.



그림은  $\text{Ne}(g)$  2 mol이 들어 있는 강철 용기에  $\text{A}(g)$ 를 넣고 반응시킬 때, 반응 시간에 따른  $\text{Ne}(g)$ 의 몰 분율( $X_{\text{Ne}}$ )을 나타낸 것이다.



6 min일 때  $\text{C}(g)$ 의 몰 분율은? (단, 온도는 일정하다.)

- ①  $\frac{4}{7}$       ②  $\frac{3}{5}$       ③  $\frac{24}{35}$       ④  $\frac{5}{7}$       ⑤  $\frac{6}{7}$

10 [22028-0194] 다음은  $\text{A}(g)$ 로부터  $\text{B}(g)$ 가 생성되는 반응의 화학 반응식이다.


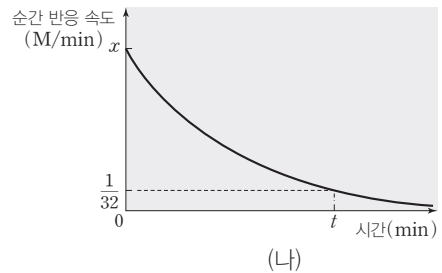
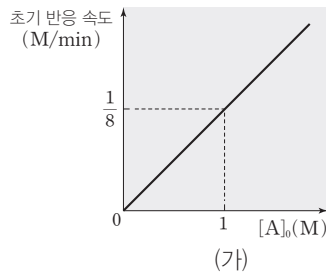


그림 (가)는  $\text{A}(g)$ 의 초기 농도( $[\text{A}]_0$ )에 따른 초기 반응 속도를, (나)는 1 L 강철 용기에  $\text{A}(g)$  2 mol을 넣고 반응시킬 때, 반응 시간에 따른 순간 반응 속도를 나타낸 것이다.



이에 대한 설명으로 옳은 것만을 <보기>에서 있는 대로 고른 것은? (단, 온도는 일정하다.)

보기

ㄱ.  $x = \frac{1}{4}$ 이다.

ㄴ. 이 반응의 반감기는  $\frac{t}{2}$  min이다.

ㄷ.  $t$  min일 때 B의 농도는  $\frac{5}{2}$  M이다.

- ① ㄱ      ② ㄴ      ③ ㄱ, ㄷ      ④ ㄴ, ㄷ      ⑤ ㄱ, ㄴ, ㄷ

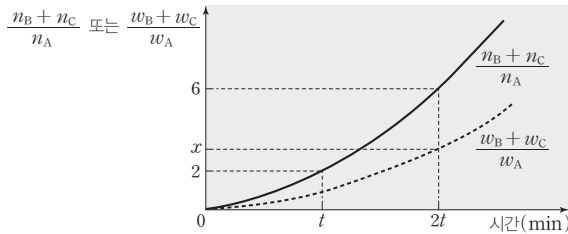


11 [22028-0195]

다음은 A(g)로부터 B(g)와 C(g)가 생성되는 반응의 화학 반응식과 반응 속도식이다.



그림은 강철 용기에 A(g) 1 g을 넣고 반응시킬 때, 반응 시간에 따른  $\frac{n_B + n_C}{n_A}$ 와  $\frac{w_B + w_C}{w_A}$ 를 나타낸 것이다.  $n_A \sim n_C$ 와  $w_A \sim w_C$ 는 각각 A(g)~C(g)의 양(mol)과 질량(g)이다.



이에 대한 설명으로 옳은 것만을 <보기>에서 있는 대로 고른 것은? (단, 온도는 일정하다.)

보기

ㄱ.  $a=1$ 이다.

ㄴ.  $x = \frac{8}{3}$ 이다.

ㄷ.  $\frac{t \text{ min일 때, A의 양(mol)}}{2t \text{ min일 때, B의 양(mol)}} = \frac{3}{4}$ 이다.

- ① ㄱ                      ② ㄴ                      ③ ㄱ, ㄷ                      ④ ㄴ, ㄷ                      ⑤ ㄱ, ㄴ, ㄷ

주어진 반응은 1차 반응이고  
 $0 \sim t \text{ min}$ 에서  $\frac{n_B + n_C}{n_A}$ 가 2  
 증가,  $t \sim 2t \text{ min}$ 에서  
 $\frac{n_B + n_C}{n_A}$ 는  $2 \times 2 = 4$  증가하  
 므로 이를 통해 이 반응의 반  
 감기를 알 수 있다.

12 [22028-0196]

표는 반응 (가)와 (나)에 대한 자료이다.

반응	화학 반응식	반응 속도 상수 ( $\text{min}^{-1}$ )	활성화 에너지 ( $\text{kJ/mol}$ )	반응 엔탈피 ( $\text{kJ}$ )	반감기 ( $\text{min}$ )
(가)	$A(g) \longrightarrow B(g)$	$k_1$	272	-33	$2t$
(나)	$B(g) \longrightarrow A(g)$	$k_2$	$E_a$	$\Delta H$	$3t$

이에 대한 설명으로 옳은 것만을 <보기>에서 있는 대로 고른 것은? (단, 온도는 일정하다.)

보기

ㄱ.  $E_a = 239$ 이다.

ㄴ.  $\Delta H = 33$ 이다.

ㄷ.  $k_1 > k_2$ 이다.

- ① ㄱ                      ② ㄴ                      ③ ㄷ                      ④ ㄱ, ㄴ                      ⑤ ㄴ, ㄷ

역반응의 활성화 에너지는  
 (정반응의 활성화 에너지) -  
 (정반응의 반응 엔탈피)이다.

## 개념 체크

- **농도와 반응 속도** : 화학 반응이 일어나려면 입자 사이에 충돌이 일어나야 하므로 반응물의 농도가 증가하면 반응 속도가 빨라진다.
- **기체의 압력과 반응 속도** : 온도가 일정할 때 기체의 부분 압력이 증가하면 단위 부피당 기체 분자 수가 증가하여 충돌 횟수도 증가하므로 반응 속도가 빨라진다.

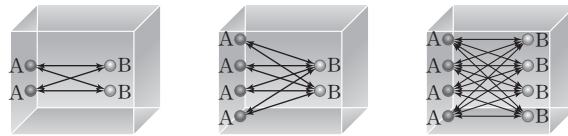
1. 반응물의 농도가 증가하면 입자 간의 ( ) 횟수가 증가하여 반응 속도가 ( )진다.
2. 기체의 부분 압력이 증가하면 단위 부피당 입자 수가 ( )하여 충돌 횟수도 ( )하므로 반응 속도가 빨라진다.
3. 고체 반응물의 표면적이 ( )하면 접촉 면적이 커지고, 충돌 횟수가 ( )하므로 반응 속도가 빨라진다.

## 1 충돌 횟수와 반응 속도

### (1) 농도와 반응 속도

일반적으로 온도가 일정할 때 반응물의 농도가 증가하면 단위 부피당 입자 수가 증가하여 입자 간의 충돌 횟수가 증가하므로 반응 속도가 빨라진다.

농도 증가 → 충돌 횟수 증가 → 반응 속도 증가



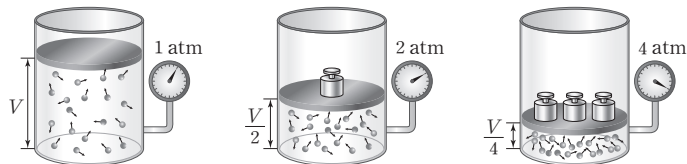
예 농도에 따라 반응 속도가 변하는 경우

- 강철솥은 공기 중에서보다 산소가 든 집기병에서 빠르게 연소된다.
- 탄산 칼슘과 염산의 반응에서 염산의 농도가 증가할수록 반응 속도가 빨라진다.

### (2) 기체의 압력과 반응 속도

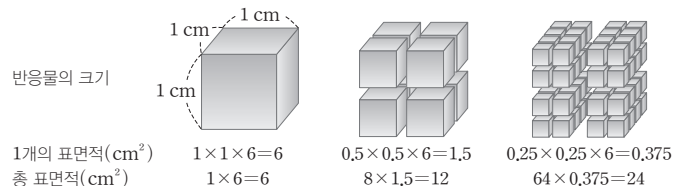
온도가 일정할 때 기체 사이의 반응에서 기체의 부분 압력이 증가하면 단위 부피당 기체 분자 수가 증가하여 충돌 횟수도 증가하므로 반응 속도가 빨라진다.

압력 증가 → 단위 부피당 분자 수 증가 → 충돌 횟수 증가 → 반응 속도 증가



### (3) 표면적과 반응 속도

온도가 일정할 때 반응물이 고체인 경우 표면적이 넓어 반응물 사이의 접촉 면적이 커지면 충돌 횟수가 증가하여 반응 속도가 빨라진다.



예 표면적에 따라 반응 속도가 변하는 경우

- 미세 먼지가 많은 탄광이나 밀가루 공장에서 폭발 사고가 일어나기 쉽다.
- 알약보다 가루약의 흡수가 더 빠르다.

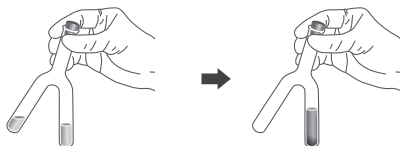
정답

1. 충돌, 빨라
2. 증가, 증가
3. 증가, 증가

## 탐구자료 살펴보기 농도가 반응 속도에 미치는 영향 알아보기

### 실험 과정

1. Y자 시험관 3개의 한쪽 가지에 각각 0.05 M  $\text{NaHSO}_3(aq)$  6 mL를 넣고 여기에 녹말 용액 2 mL를 첨가한다.
2. 과정 1의 Y자 시험관의 다른 한쪽에 0.1 M  $\text{KIO}_3(aq)$ 을 각각 1.4 mL, 2.8 mL, 4.2 mL씩 넣고, 여기에 증류수를 가해 각각의 부피가 6 mL가 되게 한 뒤 시험관을 마개로 막는다.
3. 초시계를 누르면서 3개의 Y자 시험관을 2번씩 뒤집어 두 용액을 잘 섞이게 한다.
4. 한쪽 가지에 혼합 용액을 모은 후 용액의 색이 청람색으로 변하기 시작할 때까지 걸린 시간을 측정한다.



### 실험 결과

시험관	혼합 용액		반응 초기 $\text{KIO}_3(aq)$ 의 농도(M)	색이 변할 때까지 걸린 시간(s)
	0.1 M $\text{KIO}_3(aq)$ 의 부피(mL)	전체 부피(mL)		
I	1.4	14	0.01	36
II	2.8	14	0.02	18
III	4.2	14	0.03	12

### 분석 Point

- 용액의 색이 청람색으로 변하기 시작할 때까지의 시간이 짧을수록 반응 속도는 빠르다.
- $\text{NaHSO}_3(aq)$ 과  $\text{KIO}_3(aq)$ 의 반응에서  $\text{NaHSO}_3(aq)$ 의 초기 농도가 일정하면  $\text{KIO}_3(aq)$ 의 초기 농도가 증가할수록 반응 속도가 빨라진다.

## 개념 체크

① 온도와 반응 속도: 온도가 높아지면 활성화 에너지 이상의 운동 에너지를 갖는 분자 수가 증가하므로 반응 속도가 빨라진다.

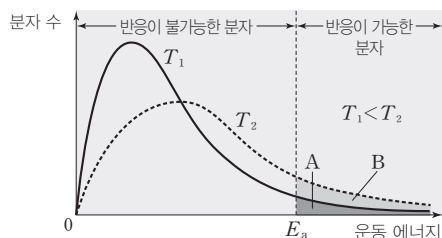
1. 온도가 높아지면 ( ) 에너지 이상의 운동 에너지를 갖는 분자 수가 증가하므로 반응 속도가 ( ) 진다.

2. 온도가 높아지면 활성화 에너지가 감소하므로 반응 속도가 빨라진다. ( O, × )

## 2 온도와 반응 속도

### (1) 온도와 반응 속도

온도가 높아지면 분자들의 평균 운동 에너지가 증가하고, 활성화 에너지( $E_a$ ) 이상의 에너지를 갖는 분자 수가 증가한다. 따라서 온도가 높아지면 반응이 가능한 분자 수가 증가하여 반응 속도가 빨라진다.



온도 증가  $\Rightarrow$  활성화 에너지( $E_a$ ) 이상의 에너지를 갖는 분자 수 증가  $\Rightarrow$  반응 속도 증가

- ① 온도가  $T_1$ 에서  $T_2$ 로 높아져도 전체 분자 수는 변하지 않는다.
- ② 온도가  $T_1$ 에서  $T_2$ 로 높아져도 화학 반응의 활성화 에너지( $E_a$ )는 변하지 않지만, 활성화 에너지 이상의 에너지를 갖는 분자 수는 온도  $T_1$ 일 때 A에서 온도  $T_2$ 일 때 (A+B)로 증가하므로 반응 속도는  $T_1$ 에서보다  $T_2$ 에서 빠르다.

정답

1. 활성화, 빨라
2. ×

개념 체크

- 온도와 반응 속도 상수 : 온도가 높아지면 정반응의 반응 속도 상수와 역반응의 반응 속도 상수가 모두 증가하며, 정반응 속도와 역반응 속도가 모두 빨라진다.
- 반감기와 반응 속도 상수 : 1차 반응에서 반응 속도 상수가 클수록 반감기가 짧다.

1. 온도가 높아져도 반응 속도 상수는 일정하다. (○, ×)
2. 온도가 높아지면 정반응 속도와 역반응 속도가 모두 빨라진다. (○, ×)
3. 반응물의 종류와 농도가 같아도 온도가 높을수록 반응 속도가 빨라지므로 반감기가 ( ) 진다.

(2) **반응 속도 상수와 온도** : 온도가 높아지면 반응 속도가 빨라진다. 이는 반응 속도식에서 반응 속도 상수( $k$ )의 값이 커지기 때문이며, 온도가 높아지면 정반응 속도와 역반응 속도가 모두 빨라진다.

예 온도에 따라 반응 속도가 변하는 경우

- 겨울철에도 온실에서는 식물이 잘 자란다.
- 음식을 냉장고에 보관하면 실온에서보다 오랫동안 보관할 수 있다.

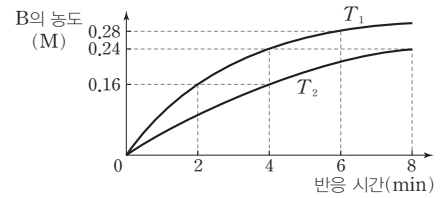
과학 돋보기 온도와 반응 속도

$2A(g) \rightarrow B(g)$ 의 반응이 A에 대한 1차 반응일 때 생성물 B의 농도 변화를 통하여 다음과 같은 내용을 알 수 있다.

- 반응물 A의 초기 농도  $[A]_0$  : A에 대한 1차 반응이므로 반감기는 일정하다.  $T_1$ 에서 2 min일 때 B의 농도가 0.16 M, 4 min일 때 0.24 M, 6 min일 때 0.28 M이다. B의 농도 증가량이  $\frac{1}{2}$ 배씩 감소하는 데 걸린 시간

이 2 min으로 일정하므로  $T_1$ 에서 A의 반감기는 2 min이다. 처음 2 min 동안 생성된 B의 농도가 0.16 M이므로 A의 농도 감소량은 0.32 M이다. 따라서 A의 초기 농도  $[A]_0 = 0.32 M \times 2 = 0.64 M$ 이다.

- 반감기와 반응 속도 상수 : 반감기는  $T_1$ 에서 2 min,  $T_2$ 에서 4 min이고, 1차 반응에서 반감기가 짧을수록 반응 속도 상수는 크다.  $T_1, T_2$ 에서 반응물의 초기 농도가 같으므로 초기 반응 속도는  $T_1$ 일 때가  $T_2$ 일 때보다 크다.
- 8 min일 때 각 온도에서의 A의 농도 :  $T_1$ 에서 8 min일 때 반감기를 4번 거쳤으므로 A의 농도는  $0.64 \times \left(\frac{1}{2}\right)^4 = 0.04(M)$ 이고,  $T_2$ 에서 8 min일 때 반감기를 2번 거쳤으므로 A의 농도는  $0.64 \times \left(\frac{1}{2}\right)^2 = 0.16(M)$ 이다.



탐구자료 살펴보기 온도가 반응 속도에 미치는 영향 알아보기

실험 과정

1. 시험관 3개에 0.5 M 싸이오황산 나트륨( $Na_2S_2O_3$ ) 수용액을 5 mL씩 넣고, 또 다른 시험관 3개에 1 M 염산을 5 mL씩 넣는다.
2. 100 mL 비커 3개에 각각 0°C, 25°C, 50°C의 물을 넣은 후 각 비커에 싸이오황산 나트륨 수용액이 담긴 시험관과 염산이 담긴 시험관을 각각 1개씩 넣어 비커에 담긴 물과 온도가 같도록 놓아둔다.
3. 3개의 삼각 플라스크 바닥에 유성 펜으로 ×표시를 한다.
4. 온도가 0°C, 25°C, 50°C로 유지되는 장치에 넣은 3개의 삼각 플라스크에 각각 0°C, 25°C, 50°C의 싸이오황산 나트륨 수용액과 염산을 넣어 섞은 후, ×표가 보이지 않을 때까지 걸리는 시간을 측정한다.

실험 결과

온도(°C)	0	25	50
걸린 시간(s)	140	50	42
반응의 빠르기( $s^{-1}$ )	0.007	0.02	0.023

분석 Point

$Na_2S_2O_3(aq)$ 과 염산의 반응에서 온도가 높아질수록 반응 속도가 빨라진다.

정답

1. ×
2. ○
3. 짧아

### 3 촉매와 반응 속도

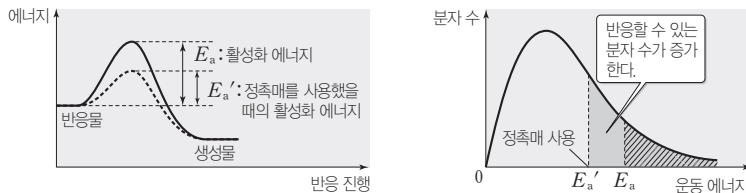
- (1) **촉매** : 화학 반응에서 자신은 소모되지 않으면서 반응 속도를 빠르게 또는 느리게 하는 물질이다. 촉매를 사용하면 반응의 활성화 에너지의 크기가 변하여 반응 속도가 달라진다.

촉매 사용  $\rightarrow$  활성화 에너지의 크기 변화  $\rightarrow$  반응 속도 변화

#### (2) 촉매의 종류

- ① **정촉매** : 활성화 에너지의 크기를 감소시켜 반응할 수 있는 분자 수가 증가하므로 반응 속도가 빨라진다.

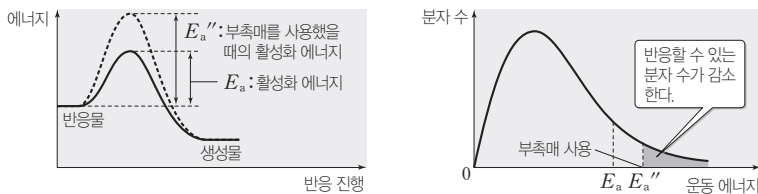
정촉매 사용  $\rightarrow$  활성화 에너지 감소  $\rightarrow$  반응 속도 증가



**예** 과산화 수소수에 이산화 망가니즈를 넣으면 과산화 수소가 물과 산소로 분해되는 속도가 빨라진다.

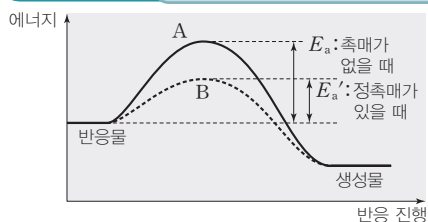
- ② **부촉매** : 활성화 에너지의 크기를 증가시켜 반응할 수 있는 분자 수가 감소하므로 반응 속도가 느려진다.

부촉매 사용  $\rightarrow$  활성화 에너지 증가  $\rightarrow$  반응 속도 감소



**예** 과산화 수소수에 인산을 넣으면 과산화 수소의 분해 반응 속도가 느려진다.

#### 과학 돋보기 촉매와 반응 경로



촉매를 사용하면 반응 경로가 바뀌면서 활성화 에너지의 크기가 달라지므로 반응 속도가 달라진다. 경로 A는 촉매를 사용하지 않은 것이고, 경로 B는 정촉매를 사용한 것이다.

#### 개념 체크

- **촉매** : 화학 반응에서 자신은 소모되지 않으면서 반응 속도를 변하게 하는 물질이다.
- **촉매와 활성화 에너지** : 촉매를 사용하면 활성화 에너지의 크기가 달라져서 반응 속도가 변한다.
- **촉매와 반응 경로** : 촉매를 사용하면 반응의 경로가 달라지면서 활성화 에너지가 달라지므로 반응 속도가 변한다.
- **정촉매** : 활성화 에너지를 감소시켜 반응 속도를 빠르게 한다.
- **부촉매** : 활성화 에너지를 증가시켜 반응 속도를 느리게 한다.

1. ( )를 사용하면 활성화 에너지의 크기를 감소시키므로 반응 속도가 빨라진다.
2. 정촉매를 사용하면 반응 속도 상수가 ( )므로 반응 속도가 빨라진다.
3. 과산화 수소의 분해 반응에서 이산화 망가니즈는 ( )로 작용하고, 인산은 ( )로 작용한다.
4. 촉매를 사용하면 반응 경로가 ( 변한다/ 변하지 않는다).

#### 정답

1. 정촉매
2. 커
3. 정촉매, 부촉매
4. 변한다

개념 체크

● 촉매와 반응 엔탈피( $\Delta H$ ): 촉매를 사용해도 화학 반응의 반응 엔탈피( $\Delta H$ )는 변하지 않는다.

1. 촉매를 사용하면 화학 반응의 반응 엔탈피( $\Delta H$ )는 감소한다. (○, ×)
2. 촉매를 사용하면 정반응 속도와 역반응 속도가 모두 달라진다. (○, ×)

탐구자료 살펴보기 촉매가 반응 속도에 미치는 영향 알아보기

실험 과정

1. 눈금 실린더 2개에 10% 과산화 수소수( $H_2O_2(aq)$ )를 10 mL씩 넣고 주방용 세제 2 mL를 각각 넣는다.
2. 한 실린더에는 아무것도 넣지 않고, 다른 실린더에는 소량의 KI(s) 가루를 넣고 변화를 관찰한다.

실험 결과

소량의 KI(s)을 넣은 눈금 실린더에서 비누 거품이 더 빠르게 생성되었다.

분석 Point

KI은 과산화 수소의 분해 반응을 빠르게 일어나게 하는 정촉매이다.

③ 촉매의 특징

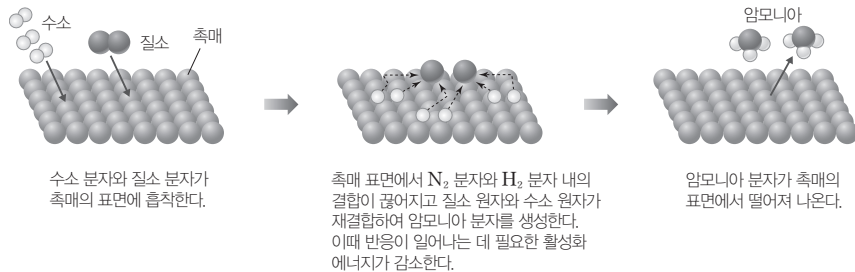
- 촉매는 활성화 에너지의 크기를 변화시키므로 정반응 속도와 역반응 속도를 모두 변화시킨다.
- 촉매를 사용해도 활성화 에너지의 크기만 달라지고, 반응물과 생성물의 에너지는 달라지지 않는다. 따라서 촉매를 사용해도 반응 엔탈피( $\Delta H$ )는 변하지 않는다.

과학 돋보기 암모니아( $NH_3$ ) 합성 과정에서 촉매의 역할

암모니아의 합성 반응식은 다음과 같다.



암모니아를 합성할 때 정촉매를 사용하면 활성화 에너지의 크기가 작아지므로 반응 속도가 빨라지며, 반응 시간이 단축되고 정촉매를 사용하기 전보다 낮은 온도에서도 반응이 가능해진다. 이때  $\Delta H = -92 \text{ kJ}$ 로 변화 없다.



4 생명 현상과 산업 현장에서 촉매의 이용

(1) 효소의 작용

① 효소 : 생물체 내에서 일어나는 여러 가지 화학 반응에서 촉매 역할을 하는 물질이다.

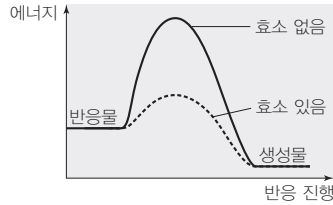
예)  $2H_2O_2(l) \longrightarrow 2H_2O(l) + O_2(g)$ 의 반응에서 효소는 정촉매와 마찬가지로 반응의 활성화 에너지의 크기를 감소시킨다. 효소가 활성화 에너지를 감소시키므로 반응 속도는 효소를 사용할 때가 효소를 사용하지 않을 때보다 빠르다.

정답

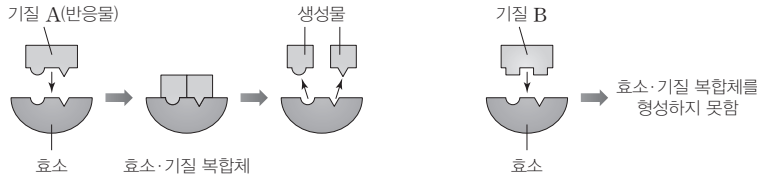
1. ×
2. ○

개념 체크

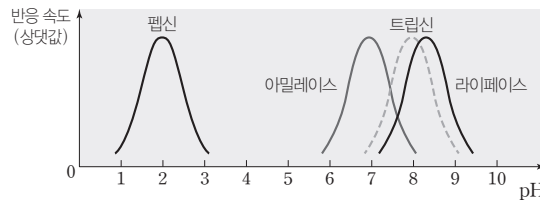
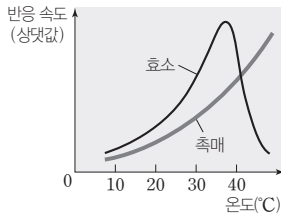
- 효소 : 생물체 내에서 일어나는 화학 반응에서 촉매 작용을 하는 물질이다.
- 효소의 기질 특이성 : 효소는 특정 기질과 결합할 수 있는 활성 부위를 가지고 있다.
- 효소의 작용과 온도 : 효소는 주로 단백질로 이루어져 있으므로 효소가 작용할 수 있는 최적 온도가 있다.
- 효소의 작용과 pH : 각각의 효소가 작용할 수 있는 최적 pH가 있다.



② 효소의 기질 특이성 : 효소에는 특정 기질과 반응할 수 있는 활성 부위가 존재한다. 따라서 효소는 특정 기질과 반응하며, 다른 기질과는 반응하지 않는 기질 특이성이 있다.



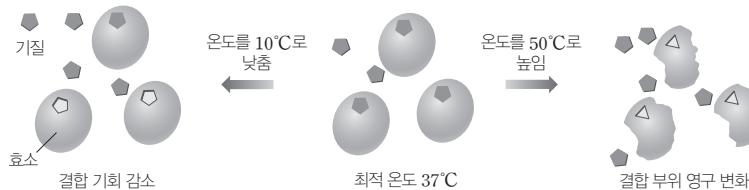
③ 효소의 작용과 온도 및 pH : 효소는 주로 단백질로 이루어져 있기 때문에 온도와 pH의 영향을 받는다. 효소는 백금과 같은 표면 촉매와는 달리 최적 온도와 최적 pH가 있다. 일반적으로 온도가 높아질수록 반응 속도가 증가하지만 효소가 작용하는 반응의 경우 최적 온도 이상으로 온도가 높아지면 효소가 파괴되어 반응 속도가 현저하게 감소한다. 또한 pH에 따라서도 효소의 활성 부위가 파괴될 수 있으므로 효소는 특정 pH에서 반응 속도가 최대가 된다.



④ 효소의 중요성 : 효소는 생체 내에서 일어나는 반응의 촉매 역할을 하므로 시간이 오래 걸리는 반응들의 반응 속도를 빠르게 하여 반응이 쉽게 일어날 수 있게 하는 역할을 한다.

1. 생물체 내에서 일어나는 화학 반응의 촉매 역할을 하는 물질을 ( ) 라고 한다.
2. 효소는 생물체 내에서 일어나는 화학 반응의 ( ) 에너지를 변화시키는 역할을 한다.
3. 효소는 특정 기질에만 작용하며, 이를 ( ) 라고 한다.
4. 효소가 작용할 때 온도와 pH의 영향을 받는다. ( O, × )
5. 효소는 온도가 너무 높으면 구조가 변화되거나 파괴되어 반응 속도가 느려질 수 있다. ( O, × )

과학 돋보기 효소와 온도



일반적으로 온도가 높아질수록 반응 속도가 증가하지만, 효소가 작용하는 반응의 경우 온도가 너무 낮으면 기질과의 결합 기회가 감소하여 반응 속도가 느려지고 온도가 너무 높으면 효소가 파괴되어 반응 속도가 느려진다. 따라서 효소가 작용하는 최적 온도가 있다.

정답

1. 효소
2. 활성화
3. 기질 특이성
4. O
5. O

개념 체크

● **효소의 열쇠 · 자물쇠 모형 :**  
효소는 열쇠, 기질은 자물쇠에 비유하여 효소가 특정 기질과만 반응하는 기질 특이성을 설명한다.

1. 효소에는 특정 기질과 반응하며, 다른 기질과 반응하지 않는 ( )이 있다.
2. 효소는 모든 온도에서 반응 속도를 빠르게 해 준다. ( O, X )

⑤ **효소의 이용 :** 주로 식품에 이용하고 있으며 포도주, 치즈, 된장, 청국장, 식혜, 김치 등이 효소를 이용한 발효 식품의 예이다.

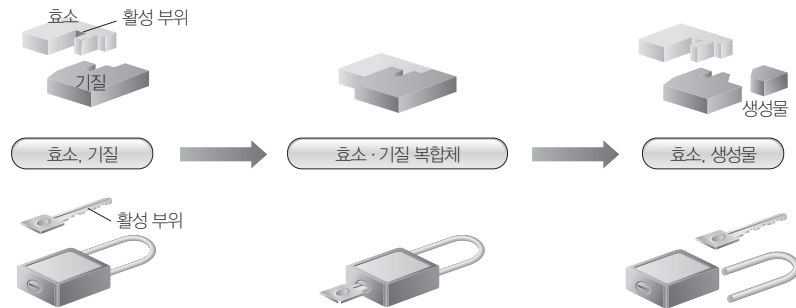
탐구자료 살펴보기 효소의 구조와 기능

목적

효소의 구조와 기능에 대한 열쇠 · 자물쇠 모형을 알아본다.

자료

그림은 효소의 기질 특이성에 대한 모형을 나타낸 것이다.



Point

- 효소는 열쇠, 기질은 자물쇠에 비유할 수 있다. 자물쇠는 특정 열쇠로만 열 수 있고 다른 열쇠로는 열리지 않으므로 효소의 특성을 설명할 수 있는 모형이다.
- 효소는 특정 기질과 반응할 수 있는 활성 부위가 존재하기 때문에 다른 기질과는 반응하지 않는다. 즉 효소는 특정 기질과만 반응하는 기질 특이성을 갖는다.
- 기질 특이성을 갖는 효소는 다른 촉매에 비하여 활성화 에너지를 더 크게 감소시킬 수 있기 때문에 효율적으로 반응 속도를 빠르게 하는 역할을 한다.

(2) **현대 산업과 촉매 :** 촉매를 사용하면 활성화 에너지가 낮아지므로 낮은 온도에서 반응이 빠르게 일어날 수 있어서 산업에서 제조 비용의 감소, 시간의 단축, 생산량 증가의 측면에서 매우 유용하다.

① **효소의 산업적 이용 :** 효소를 산업에 적용하여 효율적으로 이용할 수 있다.

분류	효소의 이용	효소(주성분)
식품	녹말을 엿당으로 분해시킨다.	아밀레이스
	유지방을 지방산으로 분해시켜 치즈의 생성 속도를 빠르게 한다.	라이페이스
생활용품	세탁물의 때를 빠르게 분해시킬 수 있다. 콘택트렌즈에 남아 있는 단백질을 빠르게 분해시킬 수 있다.	프로테이스, 라이페이스 등
의약품	소화 효소를 포함한 소화제를 복용하면 소화가 빨리 된다.	펩신, 아밀레이스, 프로테이스 등

② **표면 촉매**

- 백금(Pt), 팔라듐(Pd), 니켈(Ni)과 같은 다양한 금속이 포함된 고체 상태의 촉매로 암모니아의 합성, 탄소 사이의 2중 결합의 수소화 반응 등에 널리 사용되고 있다.

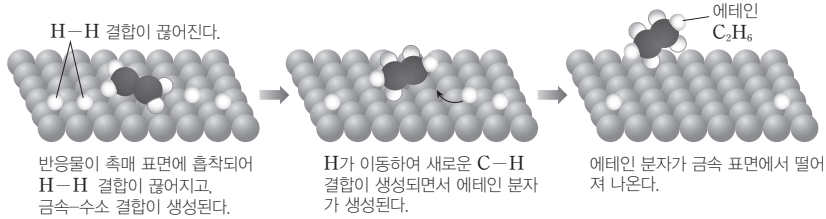
정답

1. 기질 특이성
2. X



- 표면 촉매의 작용은 기체 또는 액체 상태의 반응물이 고체 상태의 촉매 표면에 흡착되어 일어난다.

예 에텐의 수소화 반응에서 표면 촉매의 작용



- 표면 촉매는 촉매로서의 활성이 높아서 널리 사용되지만, 불안정하고 부수적인 반응물에 대한 예측이 어려워서 폐기물의 문제가 나타나기도 한다.

③ 유기 촉매

- 반응을 조절하기 어려운 표면 촉매의 단점을 보완하고자 유기물 형태로 유기 촉매를 만들어 사용하고 있다.
- 유기 촉매는 반응의 선택성이 높고, 쉽게 분해될 수 있다.

예 의약품의 합성 과정에서 유기 촉매로 사용할 수 있는 프롤린(C<sub>5</sub>H<sub>9</sub>NO<sub>2</sub>)

④ 광촉매

- 빛에너지를 받을 때 촉매 작용을 일으키는 물질을 광촉매라고 한다.
- 이산화 타이타늄(TiO<sub>2</sub>)이 가장 널리 사용되며, TiO<sub>2</sub>은 빛에너지를 받으면 물을 수소와 산소로 분해하거나 유기물을 분해하는 특징을 나타낸다.

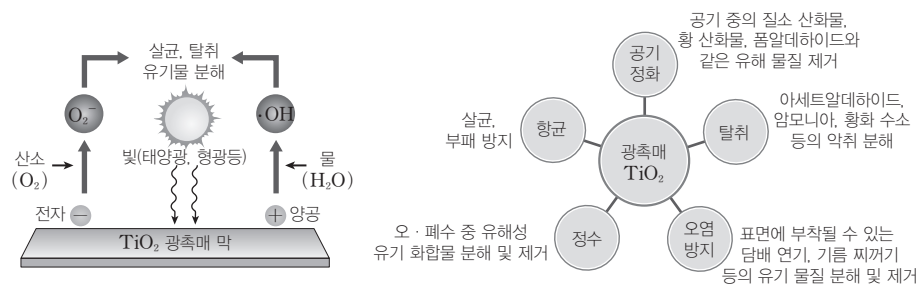
예 TiO<sub>2</sub>은 수소 연료 전지에 수소를 공급하는 장치나 공기 청정기, 타일, 벽지 등의 세균 번식을 막는 데 이용된다.

개념 체크

- **표면 촉매** : 금속이 포함된 고체 상태의 촉매
- **유기 촉매** : 유기물로 이루어진 촉매
- **광촉매** : 빛에너지를 받을 때 촉매 작용을 일으키는 물질

1. 암모니아 합성에 촉매로 이용되는 철(Fe)은 ( ) 촉매이다.
2. 빛에너지를 받을 때 촉매 작용을 일으키는 물질을 ( )라고 한다.
3. 이산화 타이타늄(TiO<sub>2</sub>)은 대표적인 유기 촉매이다. ( O, X )

과학 돋보기 광촉매의 작용과 이용



- 광촉매인 TiO<sub>2</sub>에 빛에너지를 가하면 공기 중의 산소와 수분으로부터 에너지가 높은 활성화물이 만들어지고 이 물질들이 오염 물질을 분해하게 된다.
- 광촉매는 항균, 공기 정화, 탈취, 정수, 오염 방지 등에 활용할 수 있다.

정답

1. 표면
2. 광촉매
3. X

기출문제 다시보기 **반응 속도와 반감기**

2022학년도 대수능

다음은 A(g)로부터 B(g)가 생성되는 반응의 화학 반응식과 반응 속도식이다. k는 반응 속도 상수이다.



표는 A(g)와 B(g)의 혼합 기체를 강철 용기 (가)와 (나)에 각각 넣은 후 반응이 진행될 때,  $\frac{B(g)의 양(mol)}{A(g)의 양(mol)}$  을 반응 시간에 따라 나타낸 것이다. (가)와 (나)에서 온도는 각각  $T_1$ 과  $T_2$ 로 일정하고, (나)에서 반응 전 A(g)의 몰 분율은  $\frac{2}{3}$ 이다.

반응 시간		2t	3t
$\frac{B(g)의 양(mol)}{A(g)의 양(mol)}$	(가)	7	$\frac{29}{2}$
	(나)		$\frac{7}{2}$

이에 대한 설명으로 옳은 것만을 <보기>에서 있는 대로 고른 것은? [3점]

□ 보기 □

- ㄱ. (가)에서 반응 전 A(g)의 몰 분율은  $\frac{1}{2}$ 이다.
- ㄴ.  $T_2$ 에서 이 반응의 반감기는  $\frac{3}{2}t$ 이다.
- ㄷ.  $T_2 > T_1$ 이다.

- ① ㄱ                      ② ㄴ                      ③ ㄷ                      ④ ㄱ, ㄷ                      ⑤ ㄴ, ㄷ


**해설** ㄱ. (가)에서 반응 시간이 2t일 때  $\frac{B(g)의 양(mol)}{A(g)의 양(mol)} = 7$ 이므로 A(g)와 B(g)의 양(mol)을 각각 4n, 28n이라고 하면 반응 시간이 3t일 때  $\frac{B(g)의 양(mol)}{A(g)의 양(mol)} = \frac{29}{2}$ 이므로 A(g)와 B(g)의 양(mol)은 각각 2n, 29n이다. 따라서 A(g)의 양(mol)은 3t에서가 2t에서의  $\frac{1}{2}$ 배이므로 (가)에서의 반감기는 t이다. (가)에서 반응 전 A(g)와 B(g)의 양(mol)을 각각 x, y라고 하면, 반응 시간이 2t일 때 A(g)의 양(mol)은  $x \times \left(\frac{1}{2}\right)^2 = 4n$ 이므로  $x = 16n$ 이다. 따라서 반응 시간 0~2t 동안 생성된 B(g)의 양(mol)은  $\frac{16n - 4n}{2} = 6n$ 이므로 반응 전 B(g)의 양(mol)은  $y = 28n - 6n = 22n$ 이다. (가)에서 반응 전 A(g)의 몰 분율은  $\frac{16n}{16n + 22n} = \frac{8}{19}$ 이다.

ㄴ. (나)에서 반응 전 A(g)와 B(g)의 양(mol)을 각각 2n과 n, 0~3t 동안 반응한 A(g)의 양(mol)을 m이라고 하면 반응 시간이 3t일 때,  $\frac{B(g)의 양(mol)}{A(g)의 양(mol)} = \frac{n+m}{2n-2m} = \frac{7}{2}$ 이므로  $m = \frac{3}{4}n$ 이다. (나)에서 3t일 때, A(g)와 B(g)의 양(mol)은 각각  $\frac{1}{2}n, \frac{7}{4}n$ 이므로 A(g)의 양(mol)은 반응 전의  $\frac{1}{4}$ 배이다. 따라서 3t일 때 반감기가 2번 지난 시점이므로  $T_2$ 에서 반감기는  $\frac{3}{2}t$ 이다.

ㄷ. 온도가 높을수록 반응 속도는 크고 반감기는 작다. 반감기는  $T_1$ 에서 t이고  $T_2$ 에서  $\frac{3}{2}t$ 이므로  $T_1 > T_2$ 이다.

답 ②


01 [22028-0197] 다음은 반응  $A(g) \rightleftharpoons B(g)$ 에서 촉매의 사용에 대한 학생들의 대화이다.



제시한 내용이 옳은 학생만을 있는 대로 고른 것은?

- ① A                      ② B                      ③ A, C
- ④ B, C                  ⑤ A, B, C

02 [22028-0198] 다음은  $A(g)$ 로부터  $B(g)$ 가 생성되는 반응의 화학 반응식이다.



표는 온도  $T$ 에서 2개의 강철 용기에  $A(g)$ 의 양을 달리하여 넣고 반응시킨 실험 I과 II에서 반응 시간( $t$ )에 따른  $A(g)$ 의 농도  $[A]$ 를 나타낸 것이다.

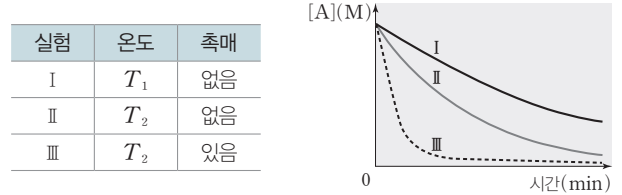
$t$ (min)	$[A]$ (M)	
	I	II
0	0.8	$x$
$t_1$	0.4	0.2
$2t_1$	0.2	0.1

이에 대한 설명으로 옳은 것만을 <보기>에서 있는 대로 고른 것은? (단, 온도는  $T$ 로 일정하다.)

- 보기
- ㄱ.  $x=0.4$ 이다.
  - ㄴ.  $t_1$  min일 때, 순간 반응 속도는 I에서가 II에서의 2배이다.
  - ㄷ.  $\frac{\text{I에서 } t_1 \text{ min일 때 기체의 압력}}{\text{II에서 } 2t_1 \text{ min일 때 기체의 압력}} = 2$ 이다.

- ① ㄱ                      ② ㄷ                      ③ ㄱ, ㄴ
- ④ ㄴ, ㄷ                  ⑤ ㄱ, ㄴ, ㄷ

03 [22028-0199] 표는 3개의 강철 용기에  $A(g)$ 를 각각 넣고 후 반응  $A(g) \longrightarrow B(g)$ 를 진행시킨 실험 I~III의 반응 조건을, 그림은 I~III에서 반응 시간에 따른  $A(g)$ 의 농도를 나타낸 것이다.



이에 대한 설명으로 옳은 것만을 <보기>에서 있는 대로 고른 것은?

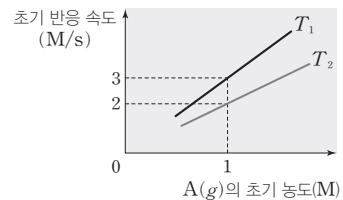
- 보기
- ㄱ.  $T_1 > T_2$ 이다.
  - ㄴ. III에서 사용한 촉매는 정촉매이다.
  - ㄷ. 활성화 에너지는  $\text{III} > \text{II}$ 이다.

- ① ㄱ                      ② ㄴ                      ③ ㄷ
- ④ ㄱ, ㄴ                  ⑤ ㄴ, ㄷ

04 [22028-0200] 다음은  $A(g)$ 로부터  $B(g)$ 가 생성되는 반응의 화학 반응식이다.



그림은  $A(g)$ 를 강철 용기에 넣고 반응시킬 때, 온도  $T_1$ 과  $T_2$ 에서  $A(g)$ 의 초기 농도에 따른 초기 반응 속도를 나타낸 것이다.

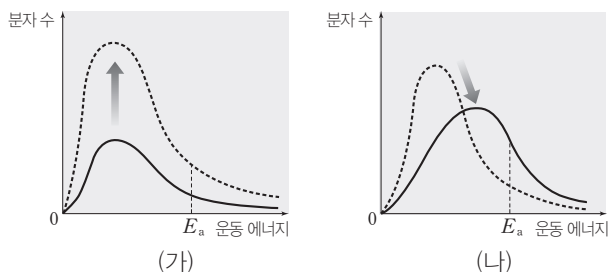


이에 대한 설명으로 옳은 것만을 <보기>에서 있는 대로 고른 것은?

- 보기
- ㄱ.  $T_1 > T_2$ 이다.
  - ㄴ.  $T_1$ 에서 반응 속도 상수 =  $\frac{3}{2}$ 이다.
  - ㄷ. 반감기는  $T_1$ 에서가  $T_2$ 에서보다 길다.

- ① ㄱ                      ② ㄷ                      ③ ㄱ, ㄴ
- ④ ㄴ, ㄷ                  ⑤ ㄱ, ㄴ, ㄷ

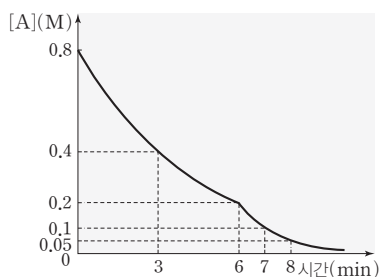
05 [22028-0201] 그림 (가)와 (나)는 반응 속도에 영향을 주는 요인을 각각 변화시켰을 때, 반응물의 분자 운동 에너지 분포 곡선의 변화를 나타낸 것이다.  $E_a$ 는 활성화 에너지이다.



(가)와 (나)에서 변화시킨 요인으로 가장 적절한 것은?

- |      |     |      |     |
|------|-----|------|-----|
| (가)  | (나) | (가)  | (나) |
| ① 농도 | 농도  | ② 농도 | 온도  |
| ③ 농도 | 촉매  | ④ 온도 | 농도  |
| ⑤ 온도 | 촉매  |      |     |

06 [22028-0202] 그림은 반응  $A(g) \rightarrow B(g)$ 이 일어날 때, 반응 시간에 따른  $A(g)$ 의 농도를 나타낸 것이다. 반응 시간이  $x$  min일 때, 온도를 변화시켰다.



이에 대한 설명으로 옳은 것만을 <보기>에서 있는 대로 고른 것은?

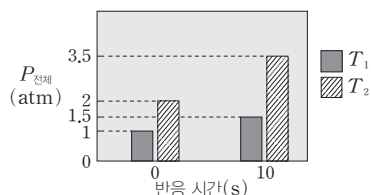
보기

- ㄱ. 이 반응은 1차 반응이다.
- ㄴ.  $x=6$ 이다.
- ㄷ. 반응 속도 상수는 7 min일 때가 3 min일 때보다 크다.

- ① ㄱ      ② ㄷ      ③ ㄱ, ㄴ  
 ④ ㄴ, ㄷ      ⑤ ㄱ, ㄴ, ㄷ

07 [22028-0203] 다음은  $A(g)$ 로부터  $B(g)$ 와  $C(g)$ 가 생성되는 반응의 화학 반응식과 반응 속도식이다.

$A(g) \rightarrow B(g) + C(g) \quad v = k[A]$  ( $k$ 는 반응 속도 상수)  
 그림은 부피가 같은 2개의 강철 용기에 각각  $A(g)$ 를 넣고 온도  $T_1$ 과  $T_2$ 에서 반응시킬 때, 반응 시간 0과 10 s일 때 전체 기체의 압력( $P_{\text{전체}}$ )을 나타낸 것이다.



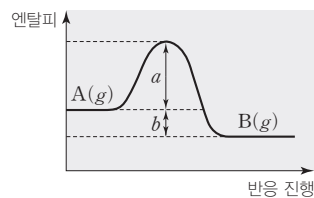
이에 대한 설명으로 옳은 것만을 <보기>에서 있는 대로 고른 것은?

보기

- ㄱ. 반감기는  $T_1$ 에서  $T_2$ 에서의 2배이다.
- ㄴ. 5 s일 때,  $T_2$ 에서  $B(g)$ 의 부분 압력은 1 atm이다.
- ㄷ. 10 s일 때,  $A(g)$ 의 부분 압력은  $T_1$ 에서와  $T_2$ 에서가 같다.

- ① ㄱ      ② ㄷ      ③ ㄱ, ㄴ  
 ④ ㄴ, ㄷ      ⑤ ㄱ, ㄴ, ㄷ

08 [22028-0204] 그림은 반응  $A(g) \rightarrow B(g)$ 에서 반응의 진행에 따른 엔탈피를 나타낸 것이다.



이 반응에 정촉매를 사용했을 때의 변화에 대한 설명으로 옳은 것만을 <보기>에서 있는 대로 고른 것은? (단, 온도는 일정하다.)

보기

- ㄱ.  $a$ 가 감소한다.
- ㄴ.  $b$ 가 감소한다.
- ㄷ.  $B(g)$ 의 생성 속도가 증가한다.

- ① ㄱ      ② ㄴ      ③ ㄱ, ㄷ  
 ④ ㄴ, ㄷ      ⑤ ㄱ, ㄴ, ㄷ

09 [22028-0205] 표는 4개의 강철 용기에 A(g)를 각각 넣고 반응  $A(g) \rightarrow 2B(g)$ 을 진행시킨 실험 I ~ IV에 대한 자료이다.

실험	A(g)의 초기 농도(M)	온도	첨가한 정촉매	초기 반응 속도 (M/s)
I	a	$T_1$	없음	v
II	2a	$T_1$	없음	2v
III	a	$T_2$	없음	2v
IV	2a	$T_2$	있음	x

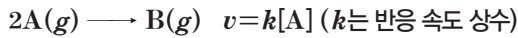
이에 대한 설명으로 옳은 것만을 <보기>에서 있는 대로 고른 것은?

보기

- ㄱ.  $T_1 > T_2$ 이다.
- ㄴ.  $x > 4v$ 이다.
- ㄷ. 반감기는 I에서가 II에서의 2배이다.

- ① ㄱ                      ② ㄴ                      ③ ㄷ
- ④ ㄱ, ㄴ                ⑤ ㄴ, ㄷ

10 [22028-0206] 다음은 A(g)로부터 B(g)가 생성되는 반응의 화학 반응식과 반응 속도식이다.



표는 강철 용기에 A(g)를 넣어 반응시킬 때, 반응 시간(t)에 따른 B(g)의 질량을 나타낸 것이다. 3 min이 되기 전 특정 시점에 소량의 고체 촉매 X를 넣었다.

반응 시간(min)	0	1	2	3
B(g)의 질량(상댓값)	0	8	12	15

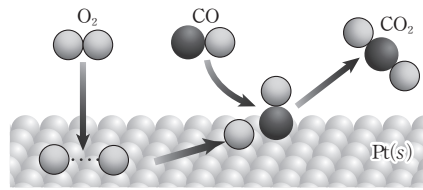
이에 대한 설명으로 옳은 것만을 <보기>에서 있는 대로 고른 것은? (단, 온도는 일정하다.)

보기

- ㄱ.  $\frac{\text{초기 반응 속도}}{1 \text{ min일 때의 순간 반응 속도}} = 2$ 이다.
- ㄴ. X는 1~2 min에 넣었다.
- ㄷ. X는 부촉매이다.

- ① ㄱ                      ② ㄴ                      ③ ㄱ, ㄷ
- ④ ㄴ, ㄷ                ⑤ ㄱ, ㄴ, ㄷ

11 [22028-0207] 그림은 Pt(s) 촉매 표면에서 CO(g)와 O<sub>2</sub>(g)가 반응하여 CO<sub>2</sub>(g)를 생성하는 과정을 모형으로 나타낸 것이다.



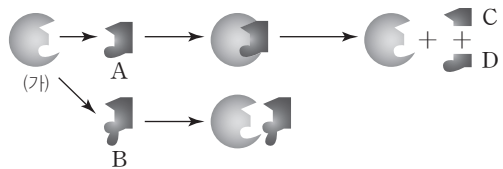
이에 대한 설명으로 옳은 것만을 <보기>에서 있는 대로 고른 것은?

보기

- ㄱ. 반응 전과 후 Pt(s)의 질량은 같다.
- ㄴ. Pt(s)은 반응  $2CO(g) + O_2(g) \rightarrow 2CO_2(g)$ 의 반응 엔탈피를 감소시킨다.
- ㄷ. Pt(s)은 이 반응의 활성화 에너지를 변화시킨다.

- ① ㄱ                      ② ㄴ                      ③ ㄱ, ㄴ
- ④ ㄱ, ㄷ                ⑤ ㄴ, ㄷ

12 [22028-0208] 그림은 효소와 기질의 반응을 모형으로 나타낸 것이다.



이에 대한 설명으로 옳은 것만을 <보기>에서 있는 대로 고른 것은?

보기

- ㄱ. (가)와 A는 효소·기질 복합체를 형성한다.
- ㄴ. A와 B는 효소이다.
- ㄷ. A가 분해되는 반응의 생성물은 C와 D이다.

- ① ㄱ                      ② ㄴ                      ③ ㄱ, ㄴ
- ④ ㄱ, ㄷ                ⑤ ㄴ, ㄷ



03 [22028-0211]

다음은 A(g)로부터 B(g)가 생성되는 반응의 화학 반응식과 반응 속도식이다.



표는 온도 T에서 부피가 같은 강철 용기에 A(g)를 넣고 반응시킨 실험 I과 II의 자료이다. t는 반응 시간이다.

실험	[A] (M)		[B] (M)		초기 반응 속도(M/s)
	t=0	t=30 s	t=0	t=30 s	
I	2		0	3	5v
II		0.3	0	x	3v

b × x는? (단, 온도는 T로 일정하다.)

- ① 1.8                      ② 3.6                      ③ 4.8                      ④ 5.4                      ⑤ 6

온도가 일정하므로 I과 II에서 k와 반감기는 각각 같다.

04 [22028-0212]

다음은 학생 A가 수행한 탐구 활동이다.

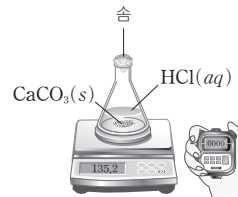
[가설]

- 반응물의 가 증가하면 반응 속도는 빨라진다.

[탐구 과정]

(가) 그림과 같은 실험 장치에서 CaCO<sub>3</sub>(s) 1 g과 충분한 양의 3% HCl(aq)을 반응시키고 5 s 동안 생성된 CO<sub>2</sub>(g)의 질량을 측정한다.

(나) 충분한 양의 7% HCl(aq)으로 (가) 과정을 반복한다.



[탐구 결과]

- 5 s 동안 생성된 CO<sub>2</sub>(g)의 질량

탐구 과정	CO <sub>2</sub> (g)의 질량(g)
(가)	0.3
(나)	0.4

[결론]

- 가설은 옳다.

학생 A의 결론이 타당할 때, 이에 대한 설명으로 옳은 것만을 <보기>에서 있는 대로 고른 것은? (단, 온도는 일정하다.)

보기

- ㄱ. '농도'는 ㉠으로 적절하다.
- ㄴ. 0~5 s에서의 평균 반응 속도(g/s)는 (나)에서가 (가)에서의  $\frac{4}{3}$ 배이다.
- ㄷ. 반응이 완결되었을 때 (가)와 (나)에서 생성된 CO<sub>2</sub>(g)의 질량은 같다.

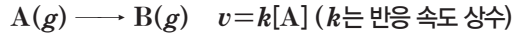
- ① ㄱ                      ② ㄷ                      ③ ㄱ, ㄴ                      ④ ㄴ, ㄷ                      ⑤ ㄱ, ㄴ, ㄷ

반응물의 농도가 증가하면 반응물 간의 충돌 횟수가 증가하므로 반응 속도는 빨라진다.

I 과 II에서 A(g)의 초기 농도가 같으므로 A(g)가 모두 반응할 때, 생성된 B(g)의 양은 같고, III에서 A(g)의 초기 농도는 I 과 II의 2배이므로 A(g)가 모두 반응할 때, 생성된 B(g)의 양도 I 과 II의 2배이다.

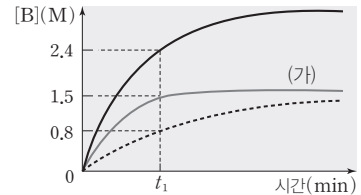
05 [22028-0213]

다음은 A(g)로부터 B(g)가 생성되는 반응의 화학 반응식과 반응 속도식이다.



표는 3개의 강철 용기에 A(g)를 각각 넣은 후 반응시킨 실험 I ~ III의 반응 조건을, 그림은 I ~ III에서 반응 시간에 따른 B(g)의 농도를 나타낸 것이다.

실험	온도	A(g)의 초기 농도 (M)	정촉매
I	$T_1$	1.6	없음
II	$T_1$	1.6	있음
III	$T_2$	3.2	없음



이에 대한 설명으로 옳은 것만을 <보기>에서 있는 대로 고른 것은?

보기

ㄱ. (가)는 I이다.

ㄴ.  $T_2 > T_1$ 이다.

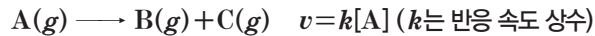
ㄷ.  $t_1$  min일 때, A(g)의 농도는 III에서가 II에서의 8배이다.

- ① ㄱ                      ② ㄴ                      ③ ㄷ                      ④ ㄱ, ㄷ                      ⑤ ㄴ, ㄷ

I에서 0~20 min에서 반응한 A(g)의 농도를 nM라 하면  
 $3 : a = \frac{21}{4} : a + n, n = \frac{3}{4}a$ 이다.

06 [22028-0214]

다음은 A(g)로부터 B(g)와 C(g)가 생성되는 반응의 화학 반응식과 반응 속도식이다.



표는 부피가 같은 2개의 강철 용기에 A(g)를 각각 넣고 온도  $6T, 5T$ 에서 반응시킬 때, 반응 시간(t)에 따른 기체의 전체 압력을 나타낸 것이다. 실험 II에는 반응 초기에 촉매 X(s)를 첨가하였다.

실험	온도	A(g)의 초기 농도 (M)	기체의 전체 압력 (atm)		
			t=0	t=10 min	t=20 min
I	$6T$	a	3		$\frac{21}{4}$
II	$5T$	b	5	$\frac{35}{4}$	

이에 대한 설명으로 옳은 것만을 <보기>에서 있는 대로 고른 것은?

보기

ㄱ.  $\frac{b}{a} = 2$ 이다.

ㄴ. X(s)는 정촉매이다.

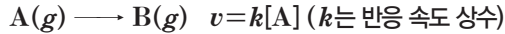
ㄷ. t=20 min일 때, I에서 [A] : II에서 [A] = 4이다.

- ① ㄱ                      ② ㄷ                      ③ ㄱ, ㄴ                      ④ ㄴ, ㄷ                      ⑤ ㄱ, ㄴ, ㄷ



**07** [22028-0215]

다음은 A(g)로부터 B(g)가 생성되는 반응의 화학 반응식과 반응 속도식이다.



표는 3개의 강철 용기에 A(g)를 각각 넣은 후 반응시킨 실험 I ~ III에 대한 자료이다. t는 반응 시간이다.

실험	A(g)의 초기 농도(M)	t=6 min일 때, A(g)의 농도(M)	온도	첨가한 촉매
I	a	$\frac{1}{4}a$	T <sub>1</sub>	없음
II	2a	a	T <sub>2</sub>	없음
III	4a	$\frac{1}{2}a$	T <sub>2</sub>	X(s)

이에 대한 설명으로 옳은 것만을 <보기>에서 있는 대로 고른 것은?

보기

- ㄱ. 반응 속도 상수는 III에서 가장 크다.
- ㄴ. T<sub>2</sub> > T<sub>1</sub>이다.
- ㄷ. X(s)는 정촉매이다.

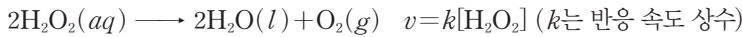
- ① ㄱ                      ② ㄴ                      ③ ㄱ, ㄷ                      ④ ㄴ, ㄷ                      ⑤ ㄱ, ㄴ, ㄷ

**08** [22028-0216]

다음은 반응 속도와 반응 속도 상수에 영향을 미치는 요인을 알아보기 위한 탐구 활동이다.

[자료]

○ 화학 반응식과 반응 속도식



[가설]

- (가) 온도가 높을수록 반응 속도는 빠르다.
- (나) 정촉매를 사용하면 반응 속도는 빨라진다.

[탐구 과정]

표와 같이 I ~ III의 조건에서 H<sub>2</sub>O<sub>2</sub>(aq)을 반응시키고, t s 후 O<sub>2</sub>(g)의 압력을 측정한다.

실험	H <sub>2</sub> O <sub>2</sub> (aq)의 초기 농도(M)	온도(°C)	첨가한 정촉매
I	0.4	25	없음
II	0.4	35	없음
III	0.4	35	있음

가설 (가)와 (나)를 검증하기 위해 비교해야 할 실험으로 가장 적절한 것은?

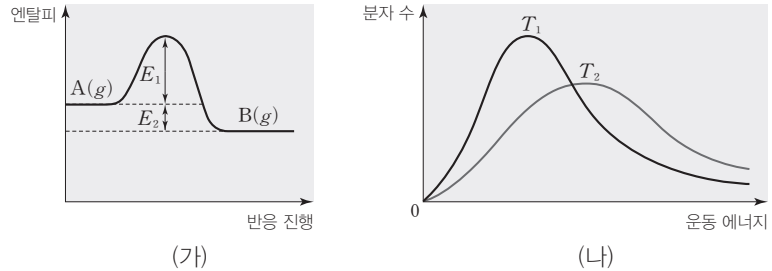
- |           |        |          |         |
|-----------|--------|----------|---------|
| (가)       | (나)    | (가)      | (나)     |
| ① I, II   | I, III | ② I, II  | II, III |
| ③ I, III  | I, II  | ④ I, III | II, III |
| ⑤ II, III | I, II  |          |         |

A(g)의 초기 농도가 a M, t=6 min일 때, A(g)의 농도가  $a \times \left(\frac{1}{2}\right)^2 = \frac{1}{4}a$  M이므로 I에서 반감기는  $\frac{t}{2}$  min이다.

반응 속도에 영향을 미치는 요인은 반응물의 농도, 온도, 촉매가 있다.

(가)의  $E_1$ 은 반응  $A(g) \rightarrow B(g)$ 에서 활성화 에너지,  $E_2$ 는 반응 엔탈피의 크기이다.

09 [22028-0217] 그림 (가)는 온도  $T_1$ 에서 반응  $A(g) \rightarrow B(g)$ 이 일어날 때, 반응의 진행에 따른 엔탈피를, (나)는 온도  $T_1$ 과  $T_2$ 에서  $A(g)$  1 mol의 분자 운동 에너지 분포 곡선을 나타낸 것이다.



이에 대한 설명으로 옳은 것만을 <보기>에서 있는 대로 고른 것은?

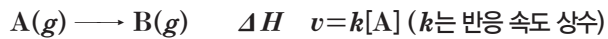
보기

- ㄱ.  $T_1 > T_2$ 이다.
- ㄴ.  $T_2$ 에서 반응  $B(g) \rightarrow A(g)$ 의 활성화 에너지는  $E_1$ 보다 크다.
- ㄷ.  $T_1$ 에서 정축매를 사용하면  $E_2$ 는 작아진다.

- ① ㄱ      ② ㄴ      ③ ㄱ, ㄷ      ④ ㄴ, ㄷ      ⑤ ㄱ, ㄴ, ㄷ

실험 I과 II의 온도가 같으므로 반응 속도 상수의 크기 비교를 통해 촉매 X(s)의 종류를 알 수 있다.

10 [22028-0218] 다음은  $t^\circ\text{C}$ , 1 atm에서  $A(g)$ 로부터  $B(g)$ 가 생성되는 반응의 열화학 반응식과 반응 속도식이다.



표는  $t^\circ\text{C}$ , 1 atm에서 반응 조건을 달리한 실험 I과 II에 대한 자료를, 그림은 I과 II에서 반응의 진행에 따른 에너지 변화를 나타낸 것이다. (가)와 (나)는 각각 I과 II 중 하나이고,  $k_2 > k_1$ 이다.

실험	촉매	반응 속도 상수	활성화 에너지
I	없음	$k_1$	$E_a$
II	X(s)	$k_2$	$E_a'$

에너지 vs. 반응 진행. (가)는 높은 활성화 에너지를 가진 곡선, (나)는 낮은 활성화 에너지를 가진 곡선이다.

이에 대한 설명으로 옳은 것만을 <보기>에서 있는 대로 고른 것은? (단, 온도는 일정하다.)

보기

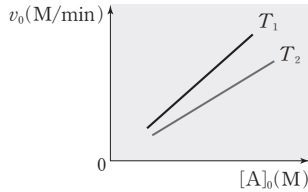
- ㄱ. (가)는 II이다.
- ㄴ. X(s)는 정축매이다.
- ㄷ.  $E_a - E_a' = \Delta H$ 이다.

- ① ㄱ      ② ㄴ      ③ ㄷ      ④ ㄱ, ㄷ      ⑤ ㄴ, ㄷ

11 [22028-0219] 다음은 A(g)로부터 B(g)가 생성되는 반응의 화학 반응식이다.



그림은 온도  $T_1$ 와  $T_2$ 에서 A(g)의 초기 농도([A]<sub>0</sub>)에 따른 초기 반응 속도( $v_0$ )를, 표는 2개의 강철 용기에 서로 다른 양의 A(g)를 각각 넣고 온도  $T_1$ 와  $T_2$ 에서 반응시킬 때, 반응 시간( $t$ )에 따른 B(g)의 농도를 나타낸 것이다.



실험	[B] (M)	
	$t=6 \text{ min}$	$t=12 \text{ min}$
I	$\frac{7}{5}$	$\frac{63}{40}$
II	$\frac{9}{5}$	$\frac{9}{4}$

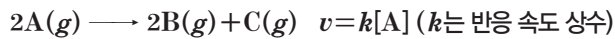
이에 대한 설명으로 옳은 것만을 <보기>에서 있는 대로 고른 것은?

보기

- ㄱ. I의 온도는  $T_1$ 이다.
- ㄴ. A(g)의 초기 농도는 II에서가 I에서의  $\frac{3}{2}$ 배이다.
- ㄷ. 6 min일 때,  $\frac{\text{I에서 [A]}}{\text{II에서 [A]}} = 1$ 이다.

- ① ㄱ      ② ㄷ      ③ ㄱ, ㄴ      ④ ㄴ, ㄷ      ⑤ ㄱ, ㄴ, ㄷ

12 [22028-0220] 다음은 A(g)로부터 B(g)와 C(g)가 생성되는 반응의 화학 반응식과 반응 속도식이다.



표는 3개의 강철 용기에 A(g)를 각각 넣고 반응시킨 실험 I~III의 반응 조건과  $\frac{[B]+[C]}{[A]} = \frac{9}{2}$ 일 때의 시간( $t$ )을 나타낸 것이다.

실험	온도	A(g)의 초기 농도(M)	첨가한 물질	$t$ (min)
I	$T_1$	0.1	없음	4
II	$T_1$	0.2	X(s)	2
III	$T_2$	0.8	X(s)	1

이에 대한 설명으로 옳은 것만을 <보기>에서 있는 대로 고른 것은?

보기

- ㄱ. 반응 속도 상수는 III > I이다.
- ㄴ. 0~2 min에서 평균 반응 속도는 II에서가 I에서의 3배이다.
- ㄷ. 2 min일 때, 순간 반응 속도는 II > III이다.

- ① ㄱ      ② ㄴ      ③ ㄷ      ④ ㄱ, ㄴ      ⑤ ㄱ, ㄷ

[A]<sub>0</sub>에 따른  $v_0$ 를 나타낸 그래프에서 기울기는 반응 속도 상수( $k$ )를 나타낸다.

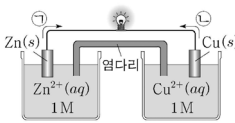
반응  
 $2A(g) \longrightarrow 2B(g) + C(g)$   
 에서 A(g)의 초기 농도를  $a \text{ M}$ , 반감기를  $t_1$ 이라 하면,  
 $t_1$ 일 때,  $\frac{[B]+[C]}{[A]} = \frac{3}{2}$ .  
 $2t_1$ 일 때,  $\frac{[B]+[C]}{[A]} = \frac{9}{2}$ 이다.

# IV

## 전기 화학과 이용

2022학년도 9월 모의평가 9번

9. 그림은 아연(Zn)과 구리(Cu)를 전극으로 사용한 화학 전지에서 전지 반응이 진행될 때를 나타낸 것이다. 이온화 경향은  $Zn > Cu$  이고, 전자의 이동 방향은 ㉠과 ㉡ 중 하나이다.



이에 대한 설명으로 옳은 것만을 <보기>에서 있는 대로 고른 것은? (단, 온도는 25℃로 일정하고, 물의 증발은 무시하며 음이온은 반응하지 않는다.) [3점]

<보기>

- ㉠. Zn 전극에서 산화 반응이 일어난다.
- ㉡. 전자의 이동 방향은 ㉡이다.
- ㉢. 반응이 진행됨에 따라  $\frac{Cu^{2+}(aq) \text{에서의 } [Cu^{2+}]}{Zn^{2+}(aq) \text{에서의 } [Zn^{2+}]}$ 는 증가한다.

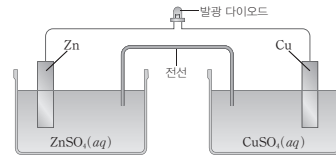
- ① ㉠      ② ㉡      ③ ㉠, ㉢      ④ ㉡, ㉢      ⑤ ㉠, ㉡, ㉢

2022학년도 EBS 수능완성 109쪽 1번

01

▶ 21071-0206

다음은 학생들이 구성한 화학 전지와 구성된 화학 전지에서 초기에 발광 다이오드가 켜졌다가 꺼진 이유에 대한 세 학생의 대화이다.



우리가 구성한 화학 전지는 Zn 전극에서 Cu 전극으로 전자가 이동해.

초기에 발광 다이오드가 켜졌다 꺼지는 이유는 (+)극과 (-)극에서 생기는 전하 불균형 때문이야.

Zn보다 이온화 경향이 더 큰 금속으로 바꿔서 전지를 구성하면 전류가 끊기는 현상을 해결할 수 있어.



제시한 내용이 옳은 학생만을 있는 대로 고른 것은?

- ① A                      ② C                      ③ A, B  
④ B, C                      ⑤ A, B, C

연계  
분석

9월 모의평가 9번 문항은 수능완성 109쪽 1번 문항과 연계하여 출제되었다. 두 문항은 모두 아연(Zn)과 구리(Cu)를 전극으로 사용한 화학 전지에서 일어나는 반응을 다루고 있다. 9월 모의평가 9번 문항은 Zn 전극에서 산화 반응이 일어나는지와 반응이 진행될 때 수용액 속 금속 양이온의 농도 변화를 파악할 수 있는지를 묻고 있고, 수능완성 1번 문항은 염다리의 역할을 알고 있는지를 묻는 점이 차이가 있지만, 금속의 이온화 경향을 통해 전자의 이동 방향을 파악할 수 있는지를 묻고 있는 점에서 유사하다. 따라서 이 문항은 연계 문항과 유사성이 높다.

학습  
대책

화학 전지에서는 제시된 금속의 이온화 경향을 이용하여 (-)극에서 일어나는 산화 반응과 (+)극에서 일어나는 환원 반응을 파악하거나 각 전극에서 일어나는 산화 환원 반응을 분석하여 금속의 이온화 경향을 비교할 수 있어야 한다. 또한 각 전극에서 금속의 질량 변화와 수용액에서 금속 이온의 양(mol)의 변화를 분석하여 금속의 이온화 경향을 파악하는 유형의 문항이 출제되므로 이를 대비한 학습이 필요하다.

## 수능 \_ EBS 교재 연계 사례

### 2022학년도 대학수학능력시험 6번

6. 다음은 NaCl의 전기 분해 실험이다. (가)와 (나)는 각각 NaCl(aq)과 NaCl(l) 중 하나이다.

[자료]

○ 환원되기 쉬운 경향:  $H_2O(l) > Na^+(aq)$

[실험 과정 및 결과]

○ NaCl(aq)과 NaCl(l)을 각각 전기 분해한 결과, (+)극과 (-)극에서의 생성물은 표와 같았다.

물질	(+)극	(-)극
(가)		$H_2(g)$
(나)	$Cl_2(g)$	ⓐ

이에 대한 설명으로 옳은 것만을 <보기>에서 있는 대로 고른 것은?

<보 기>

- ㄱ. (가)는 NaCl(aq)이다.
- ㄴ. ⓐ은  $H_2(g)$ 이다.
- ㄷ. (나)의 전기 분해에서 생성된 양(mol)은 ⓐ이  $Cl_2(g)$ 보다 많다.

- ① ㄱ    ② ㄴ    ③ ㄷ    ④ ㄱ, ㄴ    ⑤ ㄱ, ㄷ

### 2022학년도 EBS 수능특강 210쪽 15번

[21028-0255]

15 다음은 전기 분해 실험이다.

[실험 과정]

- (가)  $Na_2SO_4(aq)$ 을 비커에 넣는다.
- (나) 그림과 같이 장치하고 전류를 흘려준다.
- (다) NaCl(aq)과  $CuSO_4(aq)$ 으로 (가)와 (나)의 과정을 반복한다.



[실험 결과] ○ 각 전극에서 생성된 물질

실험	수용액	(+)극	(-)극
I	$Na_2SO_4(aq)$	$O_2$	$H_2$
II	$NaCl(aq)$	$Cl_2$	$H_2$
III	$CuSO_4(aq)$	$O_2$	Cu

이에 대한 설명으로 옳은 것만을 <보기>에서 있는 대로 고른 것은? (단, I ~ III에서 수용액의 온도는 같다.)

[ 보 기 ]

- ㄱ. I에서 생성된 기체의 양(mol) 비는  $O_2 : H_2 = 1 : 1$ 이다.
- ㄴ. I ~ III은 모두 (-)극에서  $H_2O$ 이 환원된다.
- ㄷ. 수용액의 pH는  $II > I > III$ 이다.

- ① ㄱ    ② ㄴ    ③ ㄷ    ④ ㄱ, ㄴ    ⑤ ㄴ, ㄷ

### 연계 분석

수능 6번 문항은 수능특강 210쪽 15번 문항과 연계하여 출제되었다. 두 문항은 모두 전해질의 수용액이나 용융액을 전기 분해하는 실험에서 실험 과정과 결과를 분석하여 각 전극에서 일어나는 산화 환원 반응 및 생성되는 물질을 파악할 수 있는지를 묻고 있다. 수능 6번 문항에서는 NaCl(aq)과 NaCl(l)을 전기 분해하는 실험으로, 수능특강 210쪽 15번 문항에서는  $Na_2SO_4(aq)$ , NaCl(aq),  $CuSO_4(aq)$ 을 전기 분해하는 실험으로 설계한 점에서 차이가 있지만, 전기 분해에서 발생하는 물질의 몰비를 비교할 수 있는지를 묻는 점에서 대단히 유사하다. 따라서 이 문항은 연계 문항과 유사성이 높다.

### 학습 대책

전기 분해에서 전해질의 음이온과  $H_2O$  중 산화되기 쉬운 물질과 양이온과  $H_2O$  중 환원되기 쉬운 물질을 파악한 후, (+)극과 (-)극에서 각각 일어나는 산화 반응과 환원 반응을 나타내고 각 전극에서 생성되는 물질을 알 수 있어야 한다. 또한 화학 반응식을 통해 생성되는 물질의 양(mol)을 비교할 수 있어야 한다. 이 단원에서는 비교적 어렵지 않은 유형의 문제가 출제되므로 다양한 전해질의 수용액이나 용융액을 전기 분해할 때의 결과를 비교하는 학습을 많이 하면 좋은 결과를 얻을 수 있다.

### 개념 체크

- **산화** : 산소를 얻거나 전자를 잃거나 산화수가 증가하는 반응이다.
- **환원** : 산소를 잃거나 전자를 얻거나 산화수가 감소하는 반응이다.
- 이온화 경향은 금속의 종류에 따라 다르며, 이온화 경향이 클수록 전자를 잃고 산화되기 쉽다.

1. 자신은 환원되면서 다른 물질을 산화시키는 물질을 ( )라고 하고, 자신은 산화되면서 다른 물질을 환원시키는 물질을 ( )라고 한다.
2. Cu와 Ag<sup>+</sup>의 반응에서 Cu는 전자를 잃고 ( 산화 / 환원 )되고, Ag<sup>+</sup>은 전자를 얻어 ( 산화 / 환원 )된다.
3. 금속 원소가 전자를 잃고 양이온이 되려는 성질을 ( ) 경향이라고 한다.

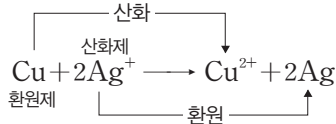
## 1 화학 전지

### (1) 산화 환원 반응

- ① 산화와 환원 : 산화는 산소를 얻거나 전자를 잃거나 산화수가 증가하는 반응이고, 환원은 산소를 잃거나 전자를 얻거나 산화수가 감소하는 반응이다.

산화 환원 정의 기준	산소	전자	산화수
산화(Oxidation)	얻음	잃음	증가
환원(Reduction)	잃음	얻음	감소

- ② 산화제와 환원제 : 산화제는 자신은 환원되면서 다른 물질을 산화시키는 물질이고, 환원제는 자신은 산화되면서 다른 물질을 환원시키는 물질이다.
- ③ 산화와 환원의 동시성 : 한 물질이 전자를 잃어 산화될 때 다른 물질이 그 전자를 얻어 환원되므로 산화 반응과 환원 반응은 항상 동시에 일어난다.



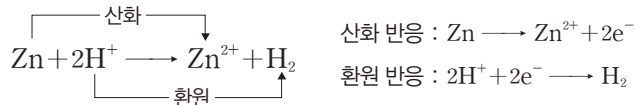
구리(Cu)는 전자를 잃고 구리 이온(Cu<sup>2+</sup>)으로 산화되고, 은 이온(Ag<sup>+</sup>)은 그 전자를 얻어 은(Ag)으로 환원된다. 이처럼 산화 반응과 환원 반응은 항상 동시에 일어난다.

### (2) 금속의 반응성

- ① 금속들은 공기 중의 산소, 물, 산 수용액과 반응하는 정도가 서로 다르다. ➡ 금속이 공기 중의 산소, 물, 산 수용액과 반응하는 빠르기나 반응 여부에 따라 금속의 반응성 순서가 정해진다.

금속	K	Ca	Na	Mg	Al	Zn	Fe	Ni	Sn	Pb	(H)	Cu	Hg	Ag	Pt	Au
공기 중의 산소와의 반응	상온에서 산화됨											산화되지 않음				
물과의 반응	찬물과도 반응하여 수소 발생			고온의 수증기와 반응하여 수소 발생				반응하지 않음								
산과의 반응	묽은 산과 반응하여 수소 발생											진한 질산, 진한 황산과 반응		왕수와 반응		

- ② 금속과 산의 반응 : 산 수용액에 수소(H<sub>2</sub>)보다 반응성이 큰 금속(Zn, Fe, Ni 등)을 넣으면 금속은 산화되어 양이온이 되고, H<sup>+</sup>이 환원되어 수소(H<sub>2</sub>) 기체가 발생한다. 수소(H<sub>2</sub>)보다 반응성이 작은 금속(Au, Pt, Ag, Hg, Cu)은 H<sup>+</sup>과 반응하지 않는다.



- ③ 이온화 경향 : 금속 원소는 일반적으로 전자를 잃고 양이온이 되려는 성질이 있는데 이를 이온화 경향이라고 한다. 금속의 이온화 경향이 클수록 전자를 잃고 산화되기 쉽다.

K	Ca	Na	Mg	Al	Zn	Fe	Ni	Sn	Pb	(H)	Cu	Hg	Ag	Pt	Au
칼륨	칼슘	나트륨	마그네슘	알루미늄	아연	철	니켈	주석	납	수소	구리	수은	은	백금	금

← 이온화 경향이 크다. 전자를 잃기 쉽다. 산화되기 쉽다.

→ 이온화 경향이 작다. 전자를 잃기 어렵다. 산화되기 어렵다.

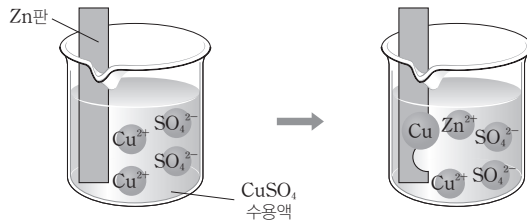
#### 정답

1. 산화제, 환원제
2. 산화, 환원
3. 이온화

## 탐구자료 살펴보기 금속과 금속 이온의 반응

### 실험 과정

그림과 같이 황산 구리( $\text{CuSO}_4$ ) 수용액에 아연( $\text{Zn}$ )판을 담근 후, 일어나는 변화를 관찰한다.

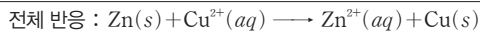
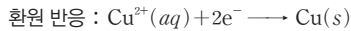
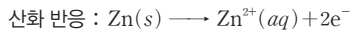


### 실험 결과

황산 구리( $\text{CuSO}_4$ ) 수용액의 푸른색이 점차 옅어지고 Zn판 표면에 Cu가 석출된다.

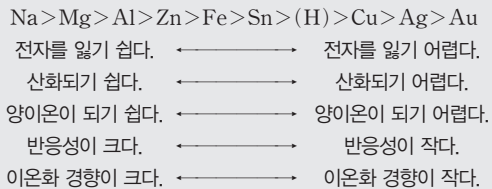
### 분석 Point

Zn은 전자를 잃고  $\text{Zn}^{2+}$ 로 산화되고, Zn판 표면에서 푸른색  $\text{Cu}^{2+}$ 은 전자를 얻어 Cu로 환원된다.



## 과학 돋보기 금속의 반응성과 산화 환원 반응

- 금속의 반응성은 금속이 전자를 잃고 산화되어 양이온이 되기 쉬운 정도를 나타낸다.



- 금속의 반응성 비교와 산화 환원 반응 : 금속 이온( $\text{A}^{2+}$ )이 들어 있는 수용액에 다른 금속(B)을 넣었을 때, 반응성이  $\text{B} > \text{A}$ 이면 전자가 이동하는 산화 환원 반응이 일어난다. 상대적으로 반응성이 큰 금속은 반응성이 작은 금속 이온에게 전자를 주고 양이온이 된다.

예 반응성이 아연( $\text{Zn}$ ) > 구리( $\text{Cu}$ )이므로 황산 구리( $\text{CuSO}_4$ ) 수용액에 Zn을 넣으면 산화 환원 반응이 일어난다.  
 $\text{Cu}^{2+} + \text{Zn} \longrightarrow \text{Cu} + \text{Zn}^{2+}$   
 → 반응성이 큰 금속이 전자를 잃고 산화되어 양이온으로 존재  
 황산 아연( $\text{ZnSO}_4$ ) 수용액에 Cu를 넣으면 반응이 일어나지 않는다.

### (3) 화학 전지의 원리

- ① 화학 전지 : 금속의 반응성 차이에 의한 자발적인 산화 환원 반응을 이용하여 화학 에너지를 전기 에너지로 전환시키는 장치로 (-)극과 (+)극의 두 전극과 전해질 용액으로 구성된다.
  - ➔ 일반적으로 (-)극과 (+)극의 두 전극은 이온화 경향 차이가 큰 금속을 이용한다. (-)극은 이온화 경향이 큰 금속으로 (-)극에서는 산화 반응이 일어나고, (+)극은 이온화 경향이 작은 금속으로 (+)극에서는 환원 반응이 일어난다.

## 개념 체크

④ 화학 전지 : 자발적인 산화 환원 반응을 이용하여 화학 에너지를 전기 에너지로 전환시키는 장치이다.

1.  $\text{Zn}(s)$ 을  $\text{CuSO}_4(aq)$ 에 넣어 주면 Zn은  $\text{Zn}^{2+}$ 으로 (산화 / 환원)되고,  $\text{Cu}^{2+}$ 은 Cu로 (산화 / 환원)된다.
2. 금속 A(s)를 금속 이온( $\text{B}^{+}$ )이 들어 있는 수용액에 넣어 산화 환원 반응이 일어났다면, 금속의 반응성은 A가 B보다 (크다 / 작다).
3. 이온화 경향이 서로 다른 두 금속을 전극으로 하여 화학 전지를 구성하였을 때 이온화 경향이 큰 금속이 (+ / -)극이 되고, 이온화 경향이 작은 금속이 (+ / -)극이 된다.
4. 화학 전지의 (-)극에서는 (산화 / 환원) 반응이, (+)극에서는 (산화 / 환원) 반응이 일어난다.

### 정답

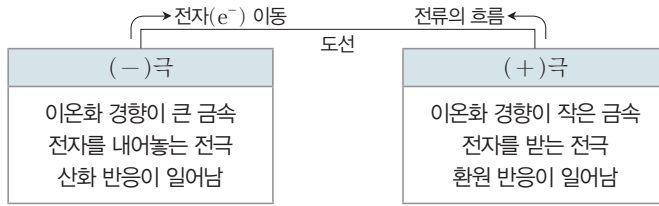
1. 산화, 환원
2. 크다
3. -, +
4. 산화, 환원

개념 체크

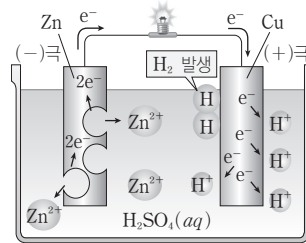
- **분극 현상** : 볼타 전지의 (+)극에서 발생하는 수소 기체가 전자의 이동을 방해하여 전압이 급격히 떨어지는 현상이다.
- **감극제** : 분극 현상을 없애는 물질로 강한 산화제이다.

1. 볼타 전지의 Zn판에서는 (산화 / 환원) 반응이 일어나고, Cu판에서는 (산화 / 환원) 반응이 일어난다.
2. 볼타 전지에서 반응이 일어날 때 (-)극인 Zn판의 질량은 (증가 / 감소 / 일정) 하고, (+)극인 Cu판의 질량은 (증가 / 감소 / 일정) 한다.
3. 볼타 전지에서는 전류가 잠시 흐르다가 전압이 급격히 떨어지는 ( ) 현상이 일어난다.
4. 분극 현상을 없애기 위해 넣어 주는 물질을 ( ) 라고 한다.

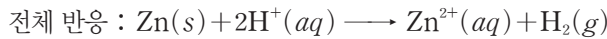
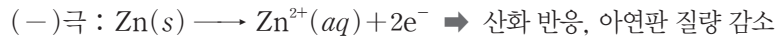
• 도선을 따라 전자는 (-)극에서 (+)극으로 이동하고, 전류는 (+)극에서 (-)극으로 흐른다.



② 볼타 전지 : 아연(Zn)판과 구리(Cu)판을 묽은 황산(H<sub>2</sub>SO<sub>4</sub>(aq))에 담고 도선으로 두 금속판을 연결한 전지이다.



• 전극 반응



→ 아연판에서는 아연(Zn)이 전자를 잃고 아연 이온(Zn<sup>2+</sup>)으로 산화되어 용액 속으로 녹아들어 가고, 전자는 도선을 따라 구리판 쪽으로 이동한다. 구리판에서는 수소 이온(H<sup>+</sup>)이 전자를 얻어 수소(H<sub>2</sub>) 기체로 환원된다. 이때 산화 반응이 일어나는 아연판은 (-)극이 되고, 환원 반응이 일어나는 구리판은 (+)극이 된다.

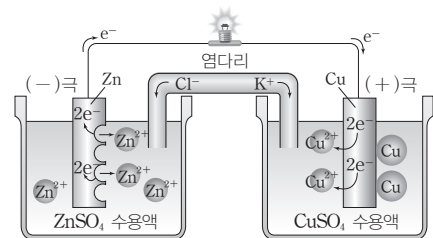
• 분극 현상 : 볼타 전지에서는 전류가 잠시 흐르다가 전압이 급격히 떨어지는 분극 현상이 일어난다.

과학 돋보기 분극 현상

- 분극 현상의 원인 : 구리판의 표면에서 발생한 수소(H<sub>2</sub>) 기체가 구리판을 둘러싸 수소 이온(H<sup>+</sup>)이 구리판에서 전자를 받는 반응을 방해하기 때문에 전압이 급격히 떨어지는 분극 현상이 일어난다.
- 감극제 : 분극 현상을 해소하기 위해 수소 기체를 물로 산화시키는 산화제를 감극제라고 하며, 이산화 망가니즈(MnO<sub>2</sub>), 과산화 수소(H<sub>2</sub>O<sub>2</sub>) 등과 같은 강한 산화제가 이용된다.



③ 다니엘 전지 : 아연(Zn)판을 황산 아연(ZnSO<sub>4</sub>) 수용액에 담고, 구리(Cu)판을 황산 구리(CuSO<sub>4</sub>) 수용액에 담은 다음 두 전해질 수용액을 염다리로 연결하고, 도선으로 두 금속판을 연결한 전지이다.



정답

1. 산화, 환원
2. 감소, 일정
3. 분극
4. 감극제



## • 전극 반응

(-)극 :  $\text{Zn}(s) \longrightarrow \text{Zn}^{2+}(aq) + 2e^- \rightarrow$  산화 반응, 아연판 질량 감소

(+)극 :  $\text{Cu}^{2+}(aq) + 2e^- \longrightarrow \text{Cu}(s) \rightarrow$  환원 반응, 구리판 질량 증가, Cu 석출

전체 반응 :  $\text{Zn}(s) + \text{Cu}^{2+}(aq) \longrightarrow \text{Zn}^{2+}(aq) + \text{Cu}(s)$

→ 아연판에서는 아연(Zn)이 전자를 잃고 아연 이온( $\text{Zn}^{2+}$ )으로 산화되어 용액 속으로 녹아들어 가고, 전자는 도선을 따라 구리판 쪽으로 이동한다. 구리판에서는 구리 이온( $\text{Cu}^{2+}$ )이 전자를 얻어 구리(Cu)로 석출된다. 이때 산화 반응이 일어나는 아연판은 (-)극이 되고, 환원 반응이 일어나는 구리판은 (+)극이 된다.

→ 반응이 진행됨에 따라 (-)극인 Zn 전극 주위에는  $\text{Zn}^{2+}$ 이 계속 생성되므로 양이온이 음이온보다 많아지고, (+)극인 Cu 전극 주위에는  $\text{Cu}^{2+}$ 이 계속 소모되므로 양이온이 음이온보다 적어져 양전하와 음전하의 불균형이 생긴다. 염다리를 통해 양이온인  $\text{K}^+$ 이 Cu 전극 쪽으로 이동하고, 음이온인  $\text{Cl}^-$ 이 Zn 전극 쪽으로 이동하면 전하의 불균형이 해소되어 두 전해질 용액은 전기적으로 중성을 유지한다.

## 과학 돋보기 염다리

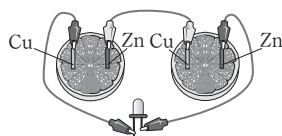
다니엘 전지에서는 두 전해질 용액이 염다리로 연결되어 있다. 염다리는 전극 반응에 영향을 주지 않는  $\text{KCl}$ ,  $\text{KNO}_3$ ,  $\text{Na}_2\text{SO}_4$  등으로 이루어져 있으며, 이온의 이동 통로가 되어 양쪽 전해질 용액이 전기적으로 중성을 유지하도록 한다.

- (-)극에서는 양이온이 음이온보다 많아져 전하의 불균형이 생기므로 염다리 내의 음이온( $\text{Cl}^-$ ,  $\text{NO}_3^-$ ,  $\text{SO}_4^{2-}$ )은 (-)극 쪽으로 이동한다.
- (+)극에서는 양이온이 음이온보다 적어져 전하의 불균형이 생기므로 염다리 내의 양이온( $\text{K}^+$ ,  $\text{Na}^+$ )은 (+)극 쪽으로 이동한다.

## 탐구자료 살펴보기 간단한 화학 전지 만들기

## 실험 과정

1. 오렌지를 반으로 자른 후, 아연판과 구리판을 오렌지에 2 cm 간격으로 꽂는다.
2. 그림과 같이 집게 전선을 이용하여 한 오렌지의 아연판은 다른 오렌지의 구리판에 연결한다.
3. 양 끝의 전선에 발광 다이오드를 연결한다.



## 실험 결과

- 발광 다이오드의 불이 켜졌다.

## 분석 Point

- 오렌지에는 전해질인 시트르산이 녹아 있으므로 오렌지는 화학 전지에서 전해질 용액 역할을 한다. 오렌지 대신 레몬, 자몽, 라임 등을 이용할 수 있고, 묽은 황산 등의 전해질 수용액을 이용할 수 있다.
- 아연판은 오렌지 속의 산 성분과 반응하여 전자를 잃는 산화 반응을 하고, 전자는 도선을 통해 구리판으로 이동하게 되어 전류가 흐른다. 따라서 과일 전지에서 아연판이 (-)극이 되고, 구리판이 (+)극이 된다.

## 개념 체크

◉ 염다리 : 다니엘 전지에서 두 전해질 용액이 전기적으로 중성을 유지하도록 이온의 이동 통로 역할을 한다.

1. 다니엘 전지의 Zn판의 질량은 (증가 / 감소 / 일정) 하고, Cu판의 질량은 (증가 / 감소 / 일정)한/하다.
2. 다니엘 전지에서 ( )는 이온의 이동 통로로서 두 전해질 용액이 전기적으로 중성을 유지하도록 해 준다.
3. 다니엘 전지에서 염다리 내의 양이온은 ( + / - )극 쪽으로 이동하고, 음이온은 ( + / - )극 쪽으로 이동한다.

## 정답

1. 감소, 증가
2. 염다리
3. +, -

개념 체크

● 1차 전지 : 충전할 수 없는 실용 전지로 망가니즈 건전지, 알칼리 건전지 등이 있다.

● 2차 전지 : 충전하여 다시 사용할 수 있는 실용 전지로 납축전지, 리튬 이온 전지 등이 있다.

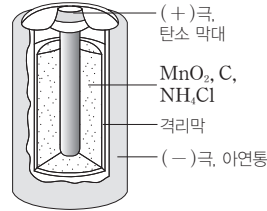
1. 망가니즈 건전지에서 아연 통은 (+ / -)극이고, 탄소 막대는 (+ / -)극이다.

2. 알칼리 건전지는 (1차 / 2차) 전지, 납축전지는 (1차 / 2차) 전지이다.

(4) 실용 전지(여러 가지 전지)

볼타 전지와 다니엘 전지와 같은 화학 전지는 사용하기 불편하므로 일상생활에서는 사용하기 편한 실용 전지가 사용된다. 실용 전지에는 충전할 수 없는 1차 전지와 충전하여 다시 사용할 수 있는 2차 전지가 있다.

① 건전지(망가니즈 건전지)

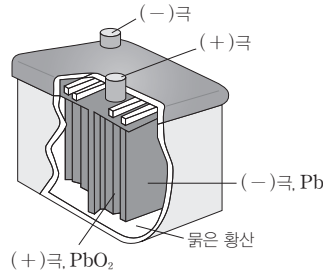


- (-)극은 아연(Zn)통, (+)극은 탄소(C) 막대를 사용하며, 전해질은 염화 암모늄(NH<sub>4</sub>Cl) 포화 수용액에 이산화 망가니즈(MnO<sub>2</sub>)와 탄소(C) 가루를 섞은 반죽 형태로 수분이 거의 없다.
- 값이 저렴하고 가벼우며 다양한 크기로 만들 수 있지만 산화 환원 반응으로 물이 생겨 부식이 일어날 수 있으며, 다른 전지에 비해 전압이 빨리 떨어지는 단점이 있다.

② 알칼리 건전지

- 망가니즈 건전지의 산성 전해질인 염화 암모늄(NH<sub>4</sub>Cl) 대신 염기성인 수산화 칼륨(KOH)을 전해질로 사용한 전지이다.
- 산성 전해질의 경우보다 아연(Zn)의 부식이 잘 일어나지 않으므로 망가니즈 건전지에 비해 수명이 길고, 전압이 일정하게 유지된다.

③ 납축전지



- 묽은 황산(H<sub>2</sub>SO<sub>4</sub>(aq))에 납(Pb)판과 이산화 납(PbO<sub>2</sub>)판을 넣어 만든 화학 전지로 Pb 판이 (-)극이고, PbO<sub>2</sub>판이 (+)극이다.
- 충전이 가능한 2차 전지로 방전될 때 황산 납(PbSO<sub>4</sub>)이 생성되어 양쪽 전극의 질량이 증가하고, 황산 수용액의 농도는 묽어진다.

④ 리튬 이온 전지

- 리튬(Li)은 원자량이 가장 작은 금속으로 가볍고 에너지 저장 능력이 매우 크다. 따라서 리튬 이온 전지는 소형화되는 스마트폰, 태블릿 PC, 노트북 등 휴대용 전자 기기에 널리 쓰이는 2차 전지이다.
- (-)극으로 흑연(C), (+)극으로 리튬 코발트 산화물(LiCoO<sub>2</sub>)과 리튬 망가니즈 산화물(LiMn<sub>2</sub>O<sub>4</sub>) 등이 사용된다.



정답

1. -, +
2. 1차, 2차

- 리튬 이온이 (-)극에서 (+)극으로 이동하면서 전류가 흐른다. 충전 시에는 리튬 이온이 (+)극에서 (-)극으로 이동한다.

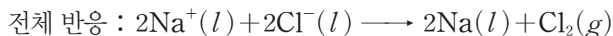

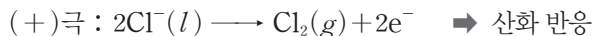
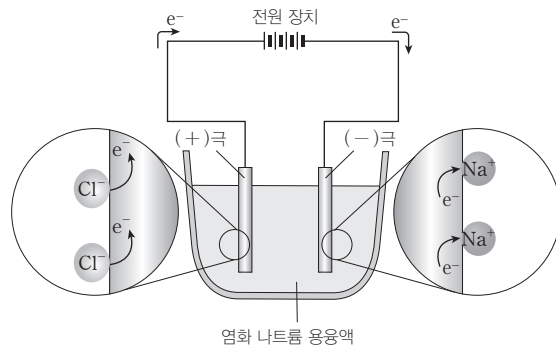
## 2 전기 분해

### (1) 전기 분해

- ① 전기 에너지를 이용하여 비자발적인 산화 환원 반응을 일으키는 과정을 전기 분해라고 한다.
- ② 전해질의 수용액이나 용융액에 직류 전류를 흘려주면 양이온은 (-)극으로 이동하고, 음이온은 (+)극으로 이동한다. 이때 (-)극에서는 전자를 얻기 쉬운 경향이 큰 물질의 환원 반응이 일어나고, (+)극에서는 전자를 잃기 쉬운 경향이 큰 물질의 산화 반응이 일어난다.
- ③ 산화 반응이 일어나는 전극을 산화 전극, 환원 반응이 일어나는 전극을 환원 전극이라고 부른다. 전기 분해에서 (-)극은 환원 전극이고, (+)극은 산화 전극이다.


### (2) 전해질 용융액의 전기 분해

- ① 염화 나트륨(NaCl) 용융액의 전기 분해



- ➔ 염화 나트륨 용융액에 전극을 넣고 직류 전원을 연결하면 (+)극에서는 염화 이온( $\text{Cl}^-$ )이 전자를 내놓고 산화되어 염소( $\text{Cl}_2$ ) 기체가 발생하고, (-)극에서는 나트륨 이온( $\text{Na}^+$ )이 전자를 얻고 환원되어 나트륨( $\text{Na}$ )이 생성된다.

- ② 염화 마그네슘( $\text{MgCl}_2$ ) 용융액의 전기 분해



- ➔ 염화 마그네슘 용융액에 전극을 넣고 직류 전원을 연결하면 (+)극에서는 염화 이온( $\text{Cl}^-$ )이 전자를 내놓고 산화되어 염소( $\text{Cl}_2$ ) 기체가 발생하고, (-)극에서는 마그네슘 이온( $\text{Mg}^{2+}$ )이 전자를 얻고 환원되어 마그네슘( $\text{Mg}$ )이 생성된다.

### 개념 체크

● **전기 분해** : 전기 에너지를 이용하여 비자발적인 산화 환원 반응을 일으키는 과정이다.

● **전해질 용융액의 전기 분해**

- (+)극 : 음이온의 산화 반응이 일어난다.
- (-)극 : 양이온의 환원 반응이 일어난다.

1. ( )는 전기 에너지를 이용하여 비자발적인 산화 환원 반응을 일으키는 과정이다.

2. 전기 분해에서 (+)극에서는 ( 산화 / 환원 ) 반응이, (-)극에서는 ( 산화 / 환원 ) 반응이 일어난다.

3. 전해질 용융액을 전기 분해하면 (+)극에서는 ( 양 / 음 )이온이 산화되고, (-)극에서는 ( 양 / 음 )이온이 환원된다.

4. 염화 마그네슘( $\text{MgCl}_2$ ) 용융액을 전기 분해하면 (+ / -)극에서는 마그네슘 금속이 생성되고, (+ / -)극에서는 염소 기체가 발생한다.

### 정답

1. 전기 분해
2. 산화, 환원
3. 음, 양
4. -, +

개념 체크

● 전해질 수용액의 전기 분해

- (+)극 : 전해질의 음이온과 H<sub>2</sub>O 중에서 산화되기 쉬운 물질이 먼저 산화된다.
- (-)극 : 전해질의 양이온과 H<sub>2</sub>O 중에서 환원되기 쉬운 물질이 먼저 환원된다.

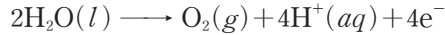
1. 염화 구리(II) 수용액을 전기 분해하면 (+)극에서는 ( ) 기체가, (-)극에서는 ( )가 생성된다.
2. 염화 나트륨 수용액의 전기 분해에서 Na<sup>+</sup>은 H<sub>2</sub>O보다 먼저 환원된다. (○, ×)
3. 황산 구리(II) 수용액의 전기 분해에서 (+)극에서는 ( )이 산화되고, (-)극에서는 ( )이 환원된다.

(3) 전해질 수용액의 전기 분해

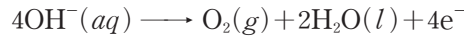
① 전해질 수용액에는 전해질의 양이온, 음이온, H<sub>2</sub>O이 존재하므로 전기 분해할 때 각 전극에서 양이온, 음이온, H<sub>2</sub>O 분자가 산화 환원 반응 경쟁을 한다.

• (+)극 : 전해질의 음이온과 H<sub>2</sub>O 중에서 산화되기 쉬운(전자를 잃기 쉬운) 물질이 먼저 산화된다.

→ F<sup>-</sup>, NO<sub>3</sub><sup>-</sup>, SO<sub>4</sub><sup>2-</sup>, CO<sub>3</sub><sup>2-</sup>, PO<sub>4</sub><sup>3-</sup> 등은 산화되기 어려우므로 H<sub>2</sub>O이 먼저 산화되면서 산소(O<sub>2</sub>) 기체가 발생하고 수소 이온(H<sup>+</sup>)이 생성된다.

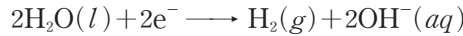


→ Cl<sup>-</sup>, Br<sup>-</sup>, OH<sup>-</sup> 등은 H<sub>2</sub>O보다 산화되기 쉬우므로 먼저 산화된다.

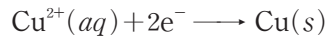


• (-)극 : 전해질의 양이온과 H<sub>2</sub>O 중에서 환원되기 쉬운(전자를 얻기 쉬운) 물질이 먼저 환원된다.

→ Li<sup>+</sup>, Na<sup>+</sup>, K<sup>+</sup>, Mg<sup>2+</sup>, Ca<sup>2+</sup>, Al<sup>3+</sup> 등은 환원되기 어려우므로 H<sub>2</sub>O이 먼저 환원되면서 수소(H<sub>2</sub>) 기체가 발생하고 수산화 이온(OH<sup>-</sup>)이 생성된다.



→ Cu<sup>2+</sup>, Ag<sup>+</sup> 등은 H<sub>2</sub>O보다 환원되기 쉬우므로 먼저 환원되어 금속으로 석출된다.



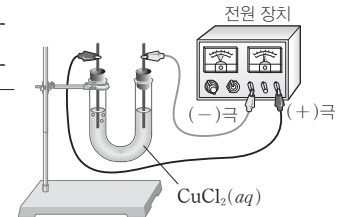
② 염화 구리(CuCl<sub>2</sub>) 수용액의 전기 분해

(+)극 : 2Cl<sup>-</sup>(aq) → Cl<sub>2</sub>(g) + 2e<sup>-</sup> → 산화 반응

(-)극 : Cu<sup>2+</sup>(aq) + 2e<sup>-</sup> → Cu(s) → 환원 반응



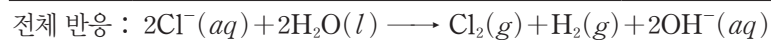
→ (+)극에서는 Cl<sup>-</sup>이 전자를 내놓고 산화되어 Cl<sub>2</sub>(g)가 발생하고, (-)극에서는 Cu<sup>2+</sup>이 전자를 얻고 환원되어 Cu가 석출된다.



③ 염화 나트륨(NaCl) 수용액의 전기 분해

(+)극 : 2Cl<sup>-</sup>(aq) → Cl<sub>2</sub>(g) + 2e<sup>-</sup> → 산화 반응

(-)극 : 2H<sub>2</sub>O(l) + 2e<sup>-</sup> → H<sub>2</sub>(g) + 2OH<sup>-</sup>(aq) → 환원 반응

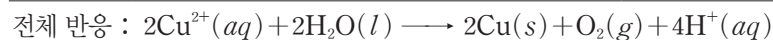


→ (+)극에서는 Cl<sup>-</sup>이 전자를 내놓고 산화되어 Cl<sub>2</sub>(g)가 발생하고, (-)극에서는 H<sub>2</sub>O이 전자를 얻고 환원되어 H<sub>2</sub>(g)가 발생하고 OH<sup>-</sup>이 생성된다.

④ 황산 구리(CuSO<sub>4</sub>) 수용액의 전기 분해

(+)극 : 2H<sub>2</sub>O(l) → O<sub>2</sub>(g) + 4H<sup>+</sup>(aq) + 4e<sup>-</sup> → 산화 반응

(-)극 : 2Cu<sup>2+</sup>(aq) + 4e<sup>-</sup> → 2Cu(s) → 환원 반응



→ (+)극에서는 H<sub>2</sub>O이 전자를 내놓고 산화되어 O<sub>2</sub>(g)가 발생하고 H<sup>+</sup>이 생성되며, (-)극에서는 Cu<sup>2+</sup>이 전자를 얻고 환원되어 Cu가 석출된다.

정답

1. 염소(Cl<sub>2</sub>), 구리(Cu)
2. ×
3. H<sub>2</sub>O(물), Cu<sup>2+</sup>(구리 이온)

## 과학 돋보기 화학 전지와 전기 분해

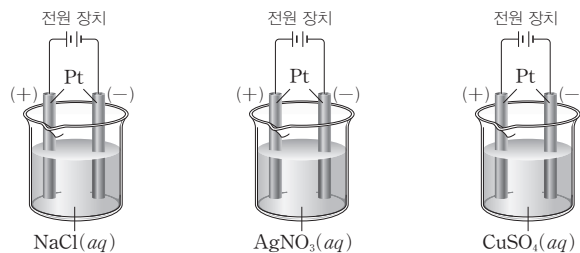
	화학 전지	전기 분해
반응의 자발성	자발적인 산화 환원 반응	비자발적인 산화 환원 반응
에너지 전환	화학 에너지 → 전기 에너지	전기 에너지 → 화학 에너지
전극 반응	<ul style="list-style-type: none"> <li>• (+)극 : 환원 반응</li> <li>• (-)극 : 산화 반응</li> </ul>	<ul style="list-style-type: none"> <li>• (+)극 : 산화 반응</li> <li>• (-)극 : 환원 반응</li> </ul>

- 화학 전지에서는 전기 반응이 자발적으로 일어나지만 전기 분해 장치에서는 분해 반응이 자발적으로 일어나지 않는다. 따라서 전기 분해 반응이 일어나기 위해서는 외부에서 전기 에너지를 공급해 주어야 한다.
- 화학 전지는 산화 환원 반응을 이용하여 화학 에너지를 전기 에너지로 전환시키는 장치이고, 전기 분해 장치는 전기 에너지를 화학 에너지로 전환시키는 장치이다.
- 화학 전지의 (-)극에서는 전자를 잃는 산화 반응이 일어나고, (+)극에서는 (-)극으로부터 이동해 온 전자를 얻는 환원 반응이 일어난다. 전기 분해 장치의 (-)극에서는 전원 장치에서 공급된 전자를 얻는 환원 반응이 일어나고, (+)극에서는 전자를 잃는 산화 반응이 일어난다.

## 탐구자료 살펴보기 전해질 수용액의 전기 분해

### 자료

그림과 같이 염화 나트륨(NaCl) 수용액, 질산 은(AgNO<sub>3</sub>) 수용액, 황산 구리(CuSO<sub>4</sub>) 수용액을 각각 전기 분해하였다. 이때 각 전극에서 일어나는 변화는 표와 같다.



수용액	전극에서 일어나는 변화	
	(+)극	(-)극
NaCl(aq)	기체 발생	기체 발생
AgNO <sub>3</sub> (aq)	기체 발생	금속 석출
CuSO <sub>4</sub> (aq)	기체 발생	금속 석출

### 분석

- NaCl(aq)의 경우 (+)극에서는 염소(Cl<sub>2</sub>) 기체가, (-)극에서는 수소(H<sub>2</sub>) 기체가 발생한다.
- AgNO<sub>3</sub>(aq)의 경우 (+)극에서는 산소(O<sub>2</sub>) 기체가 발생하며, (-)극에서는 Ag이 석출된다.
- CuSO<sub>4</sub>(aq)의 경우 (+)극에서는 산소(O<sub>2</sub>) 기체가 발생하며, (-)극에서는 Cu가 석출된다.

### Point

- 전해질의 음이온이 NO<sub>3</sub><sup>-</sup>, SO<sub>4</sub><sup>2-</sup>인 경우 (+)극에서는  $2\text{H}_2\text{O}(l) \longrightarrow \text{O}_2(g) + 4\text{H}^+(aq) + 4e^-$ 의 산화 반응이 일어나며 O<sub>2</sub> 기체가 발생한다.
- 전해질의 양이온이 Na<sup>+</sup>, Mg<sup>2+</sup>인 경우 (-)극에서는  $2\text{H}_2\text{O}(l) + 2e^- \longrightarrow \text{H}_2(g) + 2\text{OH}^-(aq)$ 의 환원 반응이 일어나며 H<sub>2</sub> 기체가 발생한다.

## 개념 체크

● 전해질 수용액의 전기 분해 : 전해질의 음이온이 NO<sub>3</sub><sup>-</sup>, SO<sub>4</sub><sup>2-</sup>과 같이 H<sub>2</sub>O보다 산화되기 어려운 이온인 경우 (+)극에서는 H<sub>2</sub>O이 먼저 산화되면서 산소(O<sub>2</sub>) 기체가 발생한다.

1. 화학 전지에서는 ( 자발 / 비자발 )적인 산화 환원 반응이 일어나고, 전기 분해 장치에서는 ( 자발 / 비자발 )적인 산화 환원 반응이 일어난다.
2. 질산 은(AgNO<sub>3</sub>) 수용액과 황산 구리(CuSO<sub>4</sub>) 수용액을 각각 전기 분해할 때 (+)극에서는 모두 ( ) 기체가 발생한다.

### 정답

1. 자발, 비자발
2. 산소(O<sub>2</sub>)

개념 체크

- **물의 전기 분해** : 물에  $\text{KNO}_3$  이나  $\text{Na}_2\text{SO}_4$  등의 전해질을 소량 넣고 전기 분해하면 (-)극에서는 수소 기체가, (+)극에서는 산소 기체가 2 : 1의 부피비로 생성된다.
- **전기 도금** : 전기 분해의 원리를 이용하여 물체에 다른 금속의 막을 입히는 과정이다.

1. 물을 전기 분해하면 (+)극에서는 ( ) 기체가, (-)극에서는 ( ) 기체가 발생한다.
2. 황산 나트륨( $\text{Na}_2\text{SO}_4$ ) 수용액의 전기 분해에서 (+)극에서는 ( )이 산화되고, (-)극에서는 ( )이 환원된다.
3. 전기 도금은 ( )의 원리를 이용하여 물체에 다른 금속의 막을 입히는 과정이다.
4. 전기 도금에서는 도금 재료인 금속은 전원 장치의 (+ / -)극에 연결하고, 도금할 물체는 전원 장치의 (+ / -)극에 연결한다.

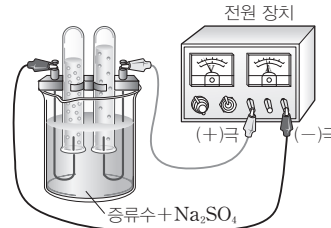
정답

1. 산소( $\text{O}_2$ ), 수소( $\text{H}_2$ )
2. 물( $\text{H}_2\text{O}$ ), 물( $\text{H}_2\text{O}$ )
3. 전기 분해
4. +, -

탐구자료 살펴보기 물의 전기 분해

실험 과정

1. 증류수를 비커에 담은 후,  $\text{Na}_2\text{SO}_4$ 을 소량 첨가하고 BTB 용액을 2~3방울 떨어뜨린다.
2. 과정 1의 수용액으로 가득 채운 2개의 시험관을 전극이 고정된 비커 속에 거꾸로 세운다.
3. 전원 장치를 이용하여 전류를 흘려주어 발생하는 기체를 모으고, 각 전극 주위에서 용액의 색 변화를 관찰한다.



실험 결과

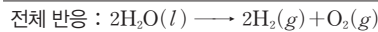
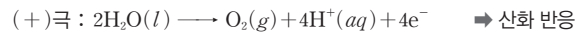
• 전극에서의 변화

전극	생성 기체	용액의 색 변화
(+)극	산소 기체	노란색
(-)극	수소 기체	푸른색

• 생성되는 기체의 부피비  $\text{H}_2(g) : \text{O}_2(g) = 2 : 1$

분석 Point

- 순수한 물은 거의 이온화되지 않아 전류가 흐르지 않으므로, 물보다 산화와 환원이 되기 어려운 이온들로 구성된  $\text{Na}_2\text{SO}_4$ ,  $\text{KNO}_3$  등의 전해질을 소량 넣어 전기 분해한다.
- $\text{Na}_2\text{SO}_4$ 을 소량 넣고 물( $\text{H}_2\text{O}$ )을 전기 분해하면 (+)극에서는 산소 기체가 발생하고, (-)극에서는 수소 기체가 발생한다.

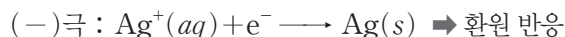
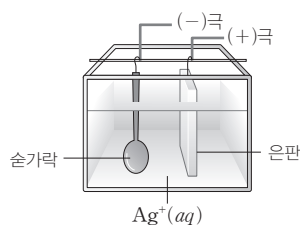


→ (+)극에서는  $\text{SO}_4^{2-}$ 이  $\text{H}_2\text{O}$ 보다 산화되기 어려우므로  $\text{H}_2\text{O}$ 이 산화되면서 산소( $\text{O}_2$ ) 기체가 발생하고  $\text{H}^+$ 이 생성되므로 BTB 용액을 떨어뜨린 용액의 색이 노란색으로 변한다.

→ (-)극에서는  $\text{Na}^+$ 이  $\text{H}_2\text{O}$ 보다 환원되기 어려우므로  $\text{H}_2\text{O}$ 이 환원되면서 수소( $\text{H}_2$ ) 기체가 발생하고,  $\text{OH}^-$ 이 생성되므로 BTB 용액을 떨어뜨린 용액의 색이 푸른색으로 변한다.

(4) 전기 분해의 이용

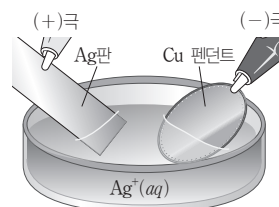
- ① 전기 도금 : 전기 분해의 원리를 이용하여 물체에 다른 금속의 막을 입히는 것을 전기 도금이라고 한다.
  - 금속의 이온이 들어 있는 용액에 전극을 넣고 전류를 흘려주면 (+)극에서는 금속의 산화 반응이 일어나 금속이 이온화하고, (-)극에서는 금속 이온의 환원 반응이 일어나 금속이 석출된다.
  - 도금 재료인 금속은 전원 장치의 (+)극에 연결하고, 도금할 물체는 전원 장치의 (-)극에 연결한다.
- ② 은 도금 : 손가락에 은( $\text{Ag}$ ) 도금을 할 때 (+)극에는 은( $\text{Ag}$ )판, (-)극에는 손가락을 연결한 후, 은 이온( $\text{Ag}^+$ )이 들어 있는 수용액에 담가 전류를 흘려주면 손가락에 은 도금이 된다.



### 탐구자료 살펴보기 은 도금

#### 실험 과정

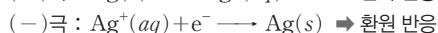
1. 페트리 접시에 은 이온( $Ag^+$ )이 들어 있는 다이시아이아노은(I)산 칼륨( $KAg(CN)_2$ ) 수용액을 넣는다.
2. 도금이 깨끗하게 될 수 있도록 솔 등을 이용하여 은(Ag)판과 구리(Cu) 펜던트의 표면을 깨끗하게 잘 닦는다.
3. Ag판은 9V 전지의 (+)극에 연결하고, Cu 펜던트는 (-)극에 연결한 후 Ag판과 Cu 펜던트를 용액에 넣는다.
4. 펜던트의 표면에서 일어나는 변화를 관찰한다.



**실험 결과** 펜던트 표면이 은색으로 변하였다.

#### 분석 Point

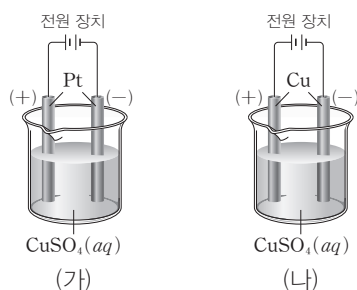
- 도금 재료인 Ag판을 전지의 (+)극에 연결하고, 도금할 물체인 Cu 펜던트는 전지의 (-)극에 연결한다.
- 전지의 (+)극에 연결한 Ag판에서 Ag의 산화 반응이 일어나고, 전지의 (-)극에 연결한 Cu 펜던트에서  $Ag^+$ 의 환원 반응이 일어난다.



### 과학 돋보기 백금(Pt) 전극과 구리(Cu) 전극을 사용한 전기 분해

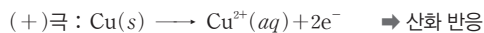
그림과 같이 백금 전극과 구리 전극을 각각 황산 구리( $CuSO_4$ ) 수용액에 넣은 후 전원 장치에 연결하면 (가)와 (나)의 (+)극에서 서로 다른 물질이 생성된다.

전자를 잃기 쉬운 경향은  $Cu > H_2O$ 이고, 전자를 얻기 쉬운 경향은  $Cu^{2+} > H_2O$ 이다.



- 전기 분해에서 백금 전극은 산화 반응과 환원 반응을 하지 않으며, 비활성 전극이라고 한다.
- (가)에서는  $CuSO_4(aq)$ 이 전기 분해되며 각 전극에서 일어나는 반응의 화학 반응식은 다음과 같다.
 
$$(+)극 : 2H_2O(l) \longrightarrow O_2(g) + 4H^+(aq) + 4e^- \rightarrow \text{산화 반응}$$

$$(-)극 : 2Cu^{2+}(aq) + 4e^- \longrightarrow 2Cu(s) \rightarrow \text{환원 반응}$$
- (나)에서는 Cu가  $H_2O$ 보다 산화되기 쉬우므로 (+)극에서는 Cu가 산화되는 반응이 일어나며,  $Cu^{2+}$ 은  $H_2O$ 보다 환원되기 쉬우므로 (-)극에서는  $Cu^{2+}$ 이 환원되는 반응이 일어난다. (나)의 각 전극에서 일어나는 반응의 화학 반응식은 다음과 같다.



### 개념 체크

• 은 도금 : 은을 도금할 때 도금 재료인 Ag판은 전원 장치의 (+)극에 연결하고, 도금할 물체는 전원 장치의 (-)극에 연결한다.

1. 구리 펜던트에 은 도금할 때 구리 펜던트에서는 은 이온의 (산화 / 환원) 반응이 일어난다.

2. 백금(Pt) 전극을 이용하여 황산 구리( $CuSO_4$ ) 수용액을 전기 분해하면 (-)극에서는 ( )가 석출된다.

정답

1. 환원
2. 구리(Cu)

개념 체크

● 수소 연료 전지 : 연료인 수소가 공기 중의 산소와 반응할 때 발생하는 에너지를 전기 에너지로 전환시키는 전지이다.

● 수소 연료 전지의 전극 반응  
 • (-)극 :  $2\text{H}_2 \longrightarrow 4\text{H}^+ + 4\text{e}^-$   
 • (+)극 :  $\text{O}_2 + 4\text{H}^+ + 4\text{e}^- \longrightarrow 2\text{H}_2\text{O}$

1. 수소 연료 전지에서 수소 기체는 ( 산화 / 환원 )되고, 산소 기체는 ( 산화 / 환원 )된다.

2. 수소 연료 전지의 최종 생성물은 ( )이다.

3. 수소 연료 전지에서 수소 기체가 공급되는 연료극은 ( + / - )극이고, 산소 기체가 공급되는 공기극은 ( + / - )극이다.

3 수소 연료 전지

(1) 연료 전지

- ① 공급된 연료를 이용하여 자발적인 산화 환원 반응을 일으키게 하여 화학 에너지를 전기 에너지로 전환하는 장치이다.
- ② 반응물이 소모되면 폐기하거나 재충전해야 하는 화학 전지와는 달리 연료 전지는 반응물이 전지 내부에 저장되어 있지 않고 외부로부터 계속해서 공급됨으로써 지속적으로 작동되는 전지이므로 충전할 필요가 없다.

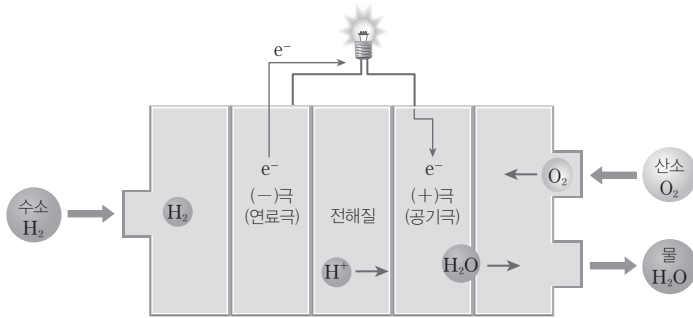
(2) 수소 연료 전지

① 수소 연료 전지 : 연료인 수소가 공기 중의 산소와 반응할 때 발생하는 에너지를 전기 에너지로 전환시키는 전지를 수소 연료 전지라고 한다.

② 수소 연료 전지의 구성 : 수소 연료 전지는 2개의 전극과 분리막, 전해질로 이루어져 있고, 외부에서 수소( $\text{H}_2$ ) 기체와 산소( $\text{O}_2$ ) 기체가 계속 공급된다.

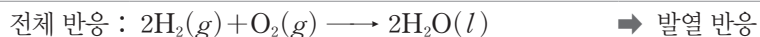
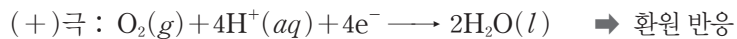
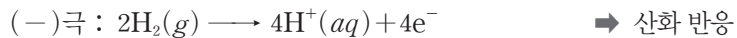
➔ 수소 연료 전지는 작동 온도와 전해질의 종류에 따라 여러 가지 종류가 있다.

③ 수소 연료 전지의 전기 발생 원리



- 공급된 수소( $\text{H}_2$ ) 기체는 (-)극인 연료극에서 수소 이온( $\text{H}^+$ )과 전자로 분해된다.
  - ➔  $\text{H}^+$ 은 전해질을 거쳐 (+)극인 공기극으로 이동한다.
  - ➔ 전자는 외부 회로를 따라 이동하며 전류가 발생한다.
  - ➔ 공기극에서  $\text{H}^+$ 과 전자, 산소( $\text{O}_2$ ) 기체가 반응하여 물이 생성된다.

④ 수소 연료 전지의 전극 반응식



➔ 수소 연료 전지의 생성물은 물( $\text{H}_2\text{O}$ )이므로 환경 오염을 거의 일으키지 않고, 소음도 없다. 또한 에너지 효율도 40~60%로 매우 높으며, 반응 과정에서 방출되는 열을 이용하면 에너지 효율은 80% 정도가 된다. 하지만 수소 연료 전지의 실용성을 높이기 위해서는 수소를 효율적으로 생산하는 기술과 수소 저장 기술 등 해결해야 할 과제가 남아 있다.

⑤ 수소 생산 기술 : 수소를 생산하는 방법으로는 전기 에너지를 이용하여 화석 연료를 리포밍(개질)하는 방법, 미생물을 이용하는 방법, 물을 전기 분해하는 방법, 물의 광분해 반응 등이 있다.

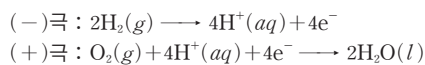
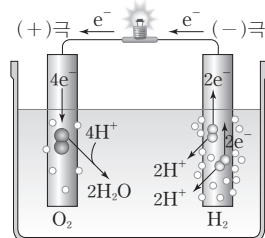
정답

- 1. 산화, 환원
- 2.  $\text{H}_2\text{O}$ (물)
- 3. -, +



## 과학 돋보기 수소 연료 전지의 원리

- 물에 소량의 전해질을 녹인 후 탄소(C) 막대나 백금(Pt) 전극을 넣고 전류를 흘려주면 (-)극 표면에 수소(H<sub>2</sub>) 기체가, (+)극 표면에 산소(O<sub>2</sub>) 기체가 모인다. 전원 장치를 떼고 두 전극을 회로로 연결하면, H<sub>2</sub>(g)는 전자를 내놓고 수소 이온(H<sup>+</sup>)이 되어 물에 녹아 들어가고, O<sub>2</sub>(g)는 (-)극으로부터 이동한 전자를 (+)극에서 받아 주변의 H<sup>+</sup>과 결합하여 물 분자가 된다.



- 전체 반응은 수소와 산소가 반응하여 물이 생성되는 반응으로 발열 반응이고, 이때 외부 회로를 따라 이동한 전자에 의해 전류가 발생한다.

## 개념 체크

☉ 물의 광분해 : 태양 에너지를 이용하여 물을 분해함으로써 수소를 얻는 과정이다.

1. 물의 광분해는 태양 에너지를 이용하여 ( ) 기체를 얻는 과정이다.
2. 물의 ( )를 이용하여 수소를 얻는 과정에서 식물의 엽록소를 대신하여 광촉매나 반도체성 광전극을 사용한다.

## 과학 돋보기 물로부터 수소를 얻는 방법

### 물의 전기 분해

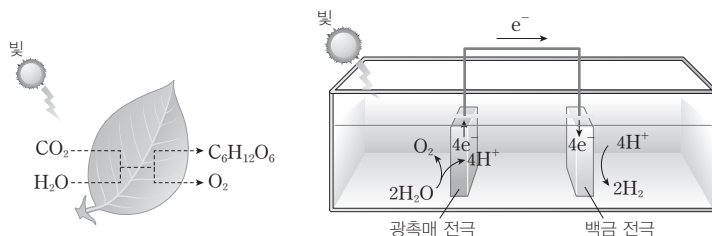
물에 전기 에너지를 공급하면 물이 분해되어 (-)극에서 수소(H<sub>2</sub>) 기체가 발생한다.

### 식물의 광합성

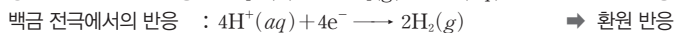
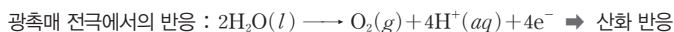
광합성은 명반응과 암반응 두 단계로 일어나는데, 명반응은 엽록소에 의해 흡수된 빛에너지가 화학 에너지로 전환되는 과정으로 엽록소는 태양 에너지를 이용하여 물을 분해한다.

### 물의 광분해

태양 에너지를 이용하여 물을 분해함으로써 수소를 얻는 방법이다. 식물의 광합성 과정 중 엽록소에 빛이 흡수되면 물이 분해되어 수소 이온(H<sup>+</sup>)과 산소(O<sub>2</sub>) 기체가 발생하는데, 엽록소를 대신하여 광촉매나 반도체성 광전극을 이용하여 물을 광분해하면 수소 기체를 얻을 수 있다.



빛을 광촉매 전극에 쬐어주면 광촉매 전극에서 물이 전자를 내놓고 산소(O<sub>2</sub>)로 산화되고, 전자는 외부 도선을 따라 백금(Pt) 전극으로 이동하여 수소 이온(H<sup>+</sup>)을 환원시켜 수소(H<sub>2</sub>) 기체를 얻을 수 있다.



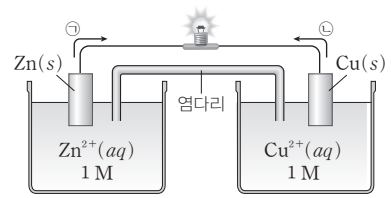
정답

1. H<sub>2</sub>(수소)
2. 광분해

기출문제 다시보기 화학 전기

2022학년도 9월 모의평가

그림은 아연(Zn)과 구리(Cu)를 전극으로 사용한 화학 전지에서 전기 반응이 진행될 때를 나타낸 것이다. 이온화 경향은  $Zn > Cu$ 이고, 전자의 이동 방향은 ㉠과 ㉡ 중 하나이다. 이에 대한 설명으로 옳은 것만을 <보기>에서 있는 대로 고른 것은? (단, 온도는  $25^{\circ}C$ 로 일정하고, 물의 증발은 무시하며 음이온은 반응하지 않는다.) [3점]



- 보기
- ㄱ. Zn 전극에서 산화 반응이 일어난다.
  - ㄴ. 전자의 이동 방향은 ㉡이다.
  - ㄷ. 반응이 진행됨에 따라  $\frac{Cu^{2+}(aq)}{Zn^{2+}(aq)}$ 에서의  $[Cu^{2+}]$ 는 증가한다.

- ① ㄱ                      ② ㄴ                      ③ ㄱ, ㄷ                      ④ ㄴ, ㄷ                      ⑤ ㄱ, ㄴ, ㄷ

**해설** 화학 전지에서 (-)극은 이온화 경향이 큰 금속으로 (-)극에서는 산화 반응이 일어나고, (+)극은 이온화 경향이 작은 금속으로 (+)극에서는 환원 반응이 일어난다.

- ㄱ. 이온화 경향이  $Zn > Cu$ 이므로 Zn 전극에서  $Zn^{2+}$ 이 생성되는 산화 반응이 일어난다.
- ㄴ. 화학 전지에서 전자는 도선을 따라 (-)극에서 (+)극으로 이동하므로 전자는 (-)극인 Zn 전극에서 (+)극인 Cu 전극 쪽으로 이동한다. 따라서 전자의 이동 방향은 ㉠이다.
- ㄷ. 반응이 진행됨에 따라  $Zn^{2+}$ 의 양(mol)은 증가하고,  $Cu^{2+}$ 의 양(mol)은 감소하므로  $\frac{Cu^{2+}(aq)}{Zn^{2+}(aq)}$ 에서의  $[Cu^{2+}]$ 는 감소한다. 답 ①

기출문제 다시보기 전기 분해

2022학년도 대수능

다음은 NaCl의 전기 분해 실험이다. (가)와 (나)는 각각  $NaCl(aq)$ 과  $NaCl(l)$  중 하나이다.

[자료] ○ 환원되기 쉬운 경향 :  $H_2O(l) > Na^+(aq)$

[실험 과정 및 결과]

- $NaCl(aq)$ 과  $NaCl(l)$ 을 각각 전기 분해한 결과, (+)극과 (-)극에서의 생성물은 표와 같았다.

물질	(+)극	(-)극
(가)		$H_2(g)$
(나)	$Cl_2(g)$	㉠

이에 대한 설명으로 옳은 것만을 <보기>에서 있는 대로 고른 것은?

- 보기
- ㄱ. (가)는  $NaCl(aq)$ 이다.                      ㄴ. ㉠은  $H_2(g)$ 이다.
  - ㄷ. (나)의 전기 분해에서 생성된 양(mol)은 ㉠이  $Cl_2(g)$ 보다 많다.

- ① ㄱ                      ② ㄴ                      ③ ㄷ                      ④ ㄱ, ㄴ                      ⑤ ㄱ, ㄷ

**해설**  $NaCl(aq)$ 을 전기 분해할 때 (+)극에서는  $Cl_2(g)$ 가, (-)극에서는  $H_2(g)$ 가 생성되고,  $NaCl(l)$ 을 전기 분해할 때 (+)극에서는  $Cl_2(g)$ 가, (-)극에서는  $Na(l)$ 이 생성된다.

- ㄱ. (가)를 전기 분해할 때 (-)극에서  $H_2(g)$ 가 생성되었으므로 (가)는  $NaCl(aq)$ 이다.
- ㄴ. (나)는  $NaCl(l)$ 이며, (나)를 전기 분해할 때 (-)극에서  $Na(l)$ 이 생성되므로 ㉠은  $Na(l)$ 이다.
- ㄷ. (나)의 전기 분해에서 전체 반응의 화학 반응식은  $2Na^+(l) + 2Cl^-(l) \rightarrow 2Na(l) + Cl_2(g)$ 이다. 따라서 (나)의 전기 분해에서 생성된 양(mol)은 ㉠이  $Cl_2(g)$ 의 2배이다. 답 ⑤

01 [22028-0221] 다음은 물질 A에 대한 설명이다.

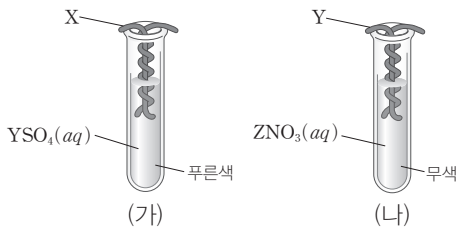
- (가)는 물질 A와 산소를 이용하여 전기 에너지를 발생시키는 전지이다.
- A는 ① 물의 광분해 반응으로 얻을 수 있다.

이에 대한 설명으로 옳은 것만을 <보기>에서 있는 대로 고른 것은?

- 보기
- ㄱ. '수소 연료 전지'는 (가)로 적절하다.
  - ㄴ. ①은 산화 환원 반응이다.
  - ㄷ.  $\text{Na}_2\text{SO}_4$ 을 소량 녹인 물을 전기 분해하면 (+)극에서 A가 생성된다.

- ① ㄱ                      ② ㄷ                      ③ ㄱ, ㄴ
- ④ ㄴ, ㄷ                ⑤ ㄱ, ㄴ, ㄷ

02 [22028-0222] 그림 (가)는 금속 X를 푸른색의  $\text{YSO}_4(\text{aq})$ 에, (나)는 금속 Y를 무색의  $\text{ZNO}_3(\text{aq})$ 에 넣은 것을 나타낸 것이다. (가)의 수용액은 푸른색이 없어졌고, (나)의 수용액은 푸른색으로 변했다.

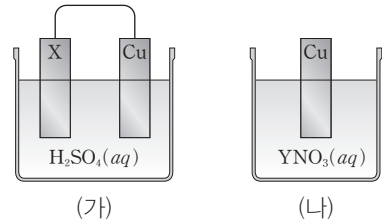


반응이 진행될 때, 이에 대한 설명으로 옳은 것만을 <보기>에서 있는 대로 고른 것은? (단, X~Z는 임의의 원소 기호이다.)

- 보기
- ㄱ. (가)에서 X는 산화된다.
  - ㄴ. 금속의 이온화 경향은  $X > Z$ 이다.
  - ㄷ. (나)에서 수용액 속 양이온 수는 감소한다.

- ① ㄱ                      ② ㄷ                      ③ ㄱ, ㄴ
- ④ ㄴ, ㄷ                ⑤ ㄱ, ㄴ, ㄷ

03 [22028-0223] 그림 (가)는 도선으로 연결한 금속 X와 구리(Cu)를  $\text{H}_2\text{SO}_4(\text{aq})$ 에 넣은 것을, (나)는 Cu를  $\text{YNO}_3(\text{aq})$ 에 넣은 것을 나타낸 것이다. (가)에서 X 전극의 질량은 감소했고, Cu 전극에서는 기체가 발생하였으며, (나)에서 금속 Y가 석출되었다.

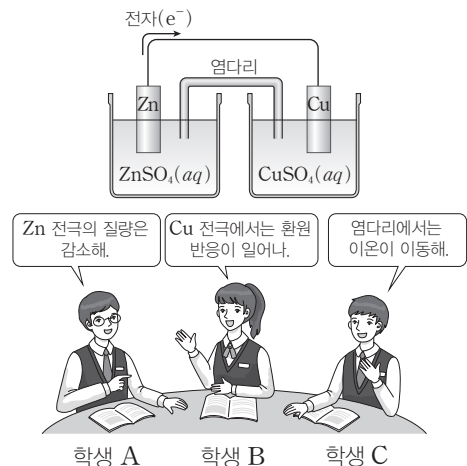


반응이 진행될 때, 이에 대한 설명으로 옳은 것만을 <보기>에서 있는 대로 고른 것은? (단, X, Y는 임의의 원소 기호이다.)

- 보기
- ㄱ. (가)에서 수용액 속  $\text{H}^+$ 의 양(mol)은 감소한다.
  - ㄴ. (가)에서 전자는 도선을 따라 X 전극에서 Cu 전극으로 이동한다.
  - ㄷ. X와 Y를 전극으로 사용한 화학 전지에서 Y 전극은 (-)극이다.

- ① ㄱ                      ② ㄷ                      ③ ㄱ, ㄴ                ④ ㄴ, ㄷ                ⑤ ㄱ, ㄴ, ㄷ

04 [22028-0224] 다음은 아연(Zn)과 구리(Cu)를 전극으로 사용한 화학 전지와 이에 대한 세 학생의 대화이다. 금속의 이온화 경향은  $\text{Zn} > \text{Cu}$ 이다.

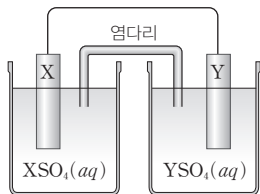


제시한 내용이 옳은 학생만을 있는 대로 고른 것은?

- ① A                      ② C                      ③ A, B                ④ B, C                ⑤ A, B, C

2점 수능 테스트

05 [22028-0225] 다음은 금속 X와 Y를 전극으로 사용한 화학 전지와 각 전극에서 일어나는 반응의 화학 반응식을 나타낸 것이다.



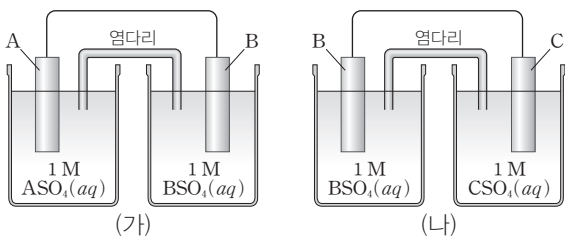
- $X^{2+}(aq) + 2e^- \longrightarrow X(s)$
- $Y(s) \longrightarrow Y^{2+}(aq) + 2e^-$

반응이 진행될 때, 이에 대한 설명으로 옳은 것만을 <보기>에서 있는 대로 고른 것은? (단, X, Y는 임의의 원소 기호이다.)

- 보기
- ㄱ. Y 전극은 (+)극이다.
  - ㄴ. X 전극의 질량은 증가한다.
  - ㄷ. 전자는 도선을 따라 X 전극에서 Y 전극으로 이동한다.

- ① ㄱ    ② ㄴ    ③ ㄷ    ④ ㄱ, ㄴ    ⑤ ㄴ, ㄷ

06 [22028-0226] 그림은 금속 A~C를 전극으로 사용한 화학 전지 (가), (나)를 나타낸 것이다. (가)에서는 A 전극의 질량이, (나)에서는 B 전극의 질량이 감소했다.

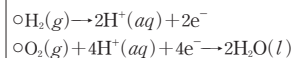
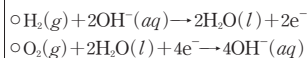
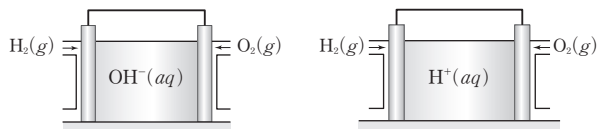


반응이 진행될 때, 이에 대한 설명으로 옳은 것만을 <보기>에서 있는 대로 고른 것은? (단, A~C는 임의의 원소 기호이고, 온도는 25°C로 일정하다.)

- 보기
- ㄱ. 금속의 이온화 경향은 A > C이다.
  - ㄴ. (가)의 B 전극은 (-)극이다.
  - ㄷ. (나)의 C 전극에서는 산화 반응이 일어난다.

- ① ㄱ    ② ㄴ    ③ ㄱ, ㄷ    ④ ㄴ, ㄷ    ⑤ ㄱ, ㄴ, ㄷ

07 [22028-0227] 다음 (가)와 (나)는 전해질의 종류가 다른 2가지 수소 연료 전지와 각 전지에서 일어나는 반응의 화학 반응식을 각각 나타낸 것이다.

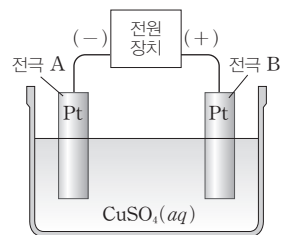


(가)와 (나)의 공통점으로 옳은 것만을 <보기>에서 있는 대로 고른 것은?

- 보기
- ㄱ. H<sub>2</sub>가 공급되는 전극에서는 산화 반응이 일어난다.
  - ㄴ. 전체 반응에서 H<sub>2</sub> 1 mol이 반응하면 H<sub>2</sub>O 1 mol이 생성된다.
  - ㄷ. 전체 반응에서 반응이 진행될 때 이온의 양(mol)이 감소한다.

- ① ㄱ    ② ㄷ    ③ ㄱ, ㄴ    ④ ㄴ, ㄷ    ⑤ ㄱ, ㄴ, ㄷ

08 [22028-0228] 그림은 CuSO<sub>4</sub>(aq)을 전기 분해하는 장치를 나타낸 것이다.

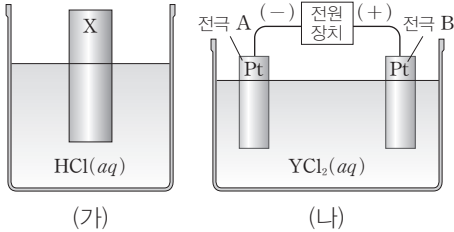


반응이 진행될 때, 이에 대한 설명으로 옳은 것만을 <보기>에서 있는 대로 고른 것은?

- 보기
- ㄱ. A에서 환원 반응이 일어난다.
  - ㄴ. B에서 H<sub>2</sub>(g)가 발생한다.
  - ㄷ. A에서 금속 1 mol이 생성될 때, B에서는 기체 1 mol이 생성된다.

- ① ㄱ    ② ㄴ    ③ ㄱ, ㄷ    ④ ㄴ, ㄷ    ⑤ ㄱ, ㄴ, ㄷ

**09** [22028-0229] 그림 (가)는 금속 X를  $\text{HCl}(aq)$ 에 넣은 것을, (나)는  $\text{YCl}_2(aq)$ 을 전기 분해하는 장치를 나타낸 것이다. (가)의 X와 전극 A에서 같은 종류의 기체가 발생했다.

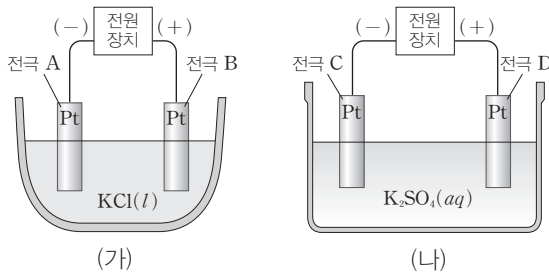


반응이 진행될 때, 이에 대한 설명으로 옳은 것만을 <보기>에서 있는 대로 고른 것은? (단, X, Y는 임의의 금속 원소 기호이다.)

- 보기
- ㄱ. 염화 구리( $\text{CuCl}_2$ )는  $\text{YCl}_2$ 로 적절하다.
  - ㄴ. A에서는 환원 반응이 일어난다.
  - ㄷ. B에서는 염소( $\text{Cl}_2$ ) 기체가 발생한다.

- ① ㄱ    ② ㄴ    ③ ㄱ, ㄷ    ④ ㄴ, ㄷ    ⑤ ㄱ, ㄴ, ㄷ

**10** [22028-0230] 그림은  $\text{KCl}(l)$ 과  $\text{K}_2\text{SO}_4(aq)$ 을 전기 분해하는 장치를 나타낸 것이다.



반응이 진행될 때, 이에 대한 설명으로 옳은 것만을 <보기>에서 있는 대로 고른 것은?

- 보기
- ㄱ. C에서는 금속이 석출된다.
  - ㄴ. B와 D에서는 모두 기체가 발생한다.
  - ㄷ. (가)에서 생성되는 물질의 양(mol)은 A에서가 B에서의 2배이다.

- ① ㄱ    ② ㄴ    ③ ㄱ, ㄷ    ④ ㄴ, ㄷ    ⑤ ㄱ, ㄴ, ㄷ

**11** [22028-0231] 다음은 3가지 용융액 또는 수용액 (가)~(다)에 대한 자료이다.

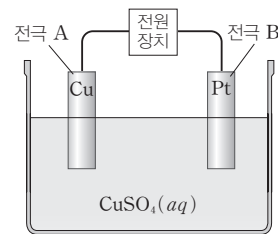
- (가)  $\text{NaCl}(l)$
- (나)  $\text{Na}_2\text{SO}_4(aq)$
- (다)  $\text{CuCl}_2(aq)$

백금(Pt) 전극을 사용하여 (가)~(다)를 각각 전기 분해할 때, (가)~(다)에 대한 설명으로 옳은 것만을 <보기>에서 있는 대로 고른 것은?

- 보기
- ㄱ. (+)극에서 기체가 발생하는 것은 1가지이다.
  - ㄴ. (-)극에서 금속이 생성되는 것은 2가지이다.
  - ㄷ. (다)에서 수용액 속 전체 이온의 양(mol)은 변하지 않는다.

- ① ㄱ    ② ㄴ    ③ ㄷ    ④ ㄱ, ㄴ    ⑤ ㄴ, ㄷ

**12** [22028-0232] 그림은 구리(Cu) 전극과 백금(Pt) 전극을  $\text{CuSO}_4(aq)$ 에 넣은 후 전원 장치에 연결한 것을 나타낸 것이다. 전극 A에서는  $\text{Cu}(s)$ 의 질량이 감소했고, 전극 B에서는 금속이 석출되었다.

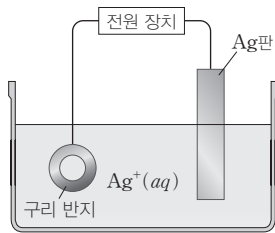


반응이 진행될 때, 이에 대한 설명으로 옳은 것만을 <보기>에서 있는 대로 고른 것은?

- 보기
- ㄱ. A는 (-)극이다.
  - ㄴ. 수용액 속  $\text{Cu}^{2+}$ 의 양(mol)은 증가한다.
  - ㄷ. B에서는 환원 반응이 일어난다.

- ① ㄱ    ② ㄷ    ③ ㄱ, ㄴ    ④ ㄴ, ㄷ    ⑤ ㄱ, ㄴ, ㄷ

13 [22028-0233] 그림은 구리(Cu) 반지에 은(Ag)을 도금하는 장치를 나타낸 것이다.

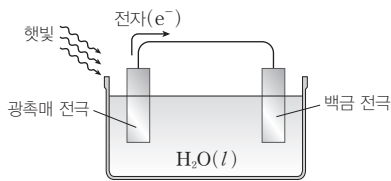


반응이 진행될 때, 이에 대한 설명으로 옳은 것만을 <보기>에서 있는 대로 고른 것은? (단, 전자를 잃기 쉬운 경향은  $Ag > H_2O$ 이고, 음이온은 반응하지 않는다.)

- 보기
- ㄱ. Ag판이 연결된 전극은 (+)극이다.
  - ㄴ. Ag판의 질량은 감소한다.
  - ㄷ. 구리 반지에서는 환원 반응이 일어난다.

- ① ㄱ                      ② ㄷ                      ③ ㄱ, ㄴ
- ④ ㄴ, ㄷ                ⑤ ㄱ, ㄴ, ㄷ

14 [22028-0234] 다음은 물의 광분해 장치와 각 전극에서 일어나는 반응을 나타낸 것이다.



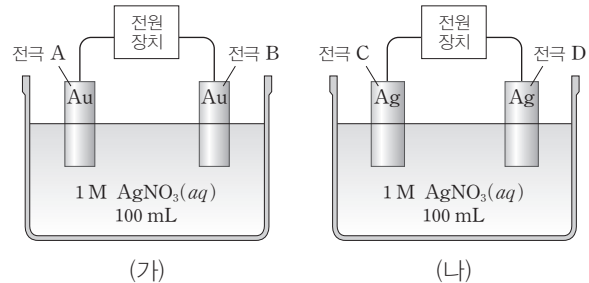
- (가)  $2H^+(aq) + 2e^- \longrightarrow H_2(g)$   
 (나)  $2H_2O(l) \longrightarrow O_2(g) + 4H^+(aq) + 4e^-$

이에 대한 설명으로 옳은 것만을 <보기>에서 있는 대로 고른 것은?

- 보기
- ㄱ. 백금 전극에서는 반응 (가)가 일어난다.
  - ㄴ.  $H_2O$  1 mol이 반응할 때  $H_2$  0.5 mol이 생성된다.
  - ㄷ. 광촉매 전극에서는 환원 반응이 일어난다.

- ① ㄱ                      ② ㄴ                      ③ ㄱ, ㄷ
- ④ ㄴ, ㄷ                ⑤ ㄱ, ㄴ, ㄷ

15 [22028-0235] 그림 (가)와 (나)는 금(Au) 전극과 은(Ag) 전극을 각각  $AgNO_3(aq)$ 에 넣은 후 전원 장치에 연결한 것을 나타낸 것이다. 전자를 잃기 쉬운 경향은  $Ag > H_2O > Au$ 이며, 전류를 흘려주었을 때 전극 A와 C에서는 전극의 질량이 증가했다.

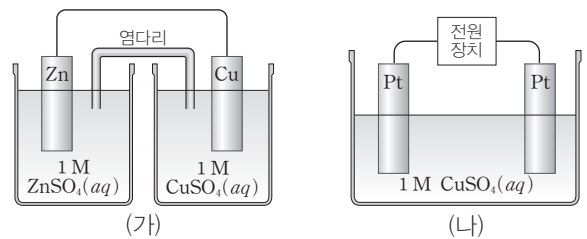


반응이 진행될 때, 이에 대한 설명으로 옳은 것만을 <보기>에서 있는 대로 고른 것은?

- 보기
- ㄱ. B에서 기체가 발생한다.
  - ㄴ. D에서  $Ag(s)$ 의 질량은 감소한다.
  - ㄷ. 같은 양(mol)의 전자가 이동했을 때 수용액 속  $Ag^+$ 의 양(mol)은 (나) > (가)이다.

- ① ㄱ                      ② ㄷ                      ③ ㄱ, ㄴ                ④ ㄴ, ㄷ                ⑤ ㄱ, ㄴ, ㄷ

16 [22028-0236] 그림 (가)는 아연(Zn)과 구리(Cu)를 전극으로 사용한 화학 전지를, (나)는  $CuSO_4(aq)$ 을 전기 분해하는 장치를 나타낸 것이다. 금속의 이온화 경향은  $Zn > Cu$ 이다.

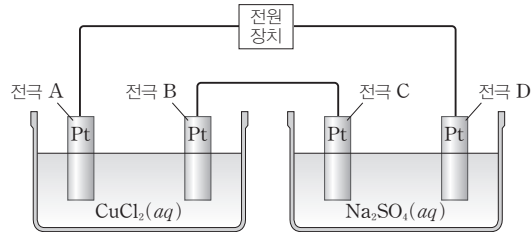


(가)와 (나)에서 반응이 진행될 때, 공통점으로 옳은 것만을 <보기>에서 있는 대로 고른 것은? (단, 온도는  $25^\circ C$ 로 일정하다.)

- 보기
- ㄱ. (-)극에서 산화 반응이 일어난다.
  - ㄴ. (+)극에서 금속이 석출된다.
  - ㄷ.  $CuSO_4(aq)$ 에서  $Cu^{2+}$ 의 양(mol)이 감소한다.

- ① ㄱ                      ② ㄷ                      ③ ㄱ, ㄴ                ④ ㄴ, ㄷ                ⑤ ㄱ, ㄴ, ㄷ

01 [22028-0237]  
 그림은  $\text{CuCl}_2(aq)$ 과  $\text{Na}_2\text{SO}_4(aq)$ 을 전기 분해하는 장치를 나타낸 것이다. 전극 A에서는 금속이 석출되었다.



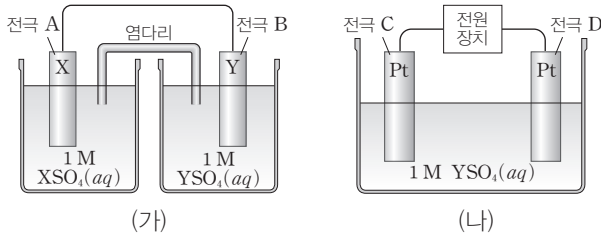
A에서  $\text{Cu}^{2+}(aq) + 2e^- \rightarrow \text{Cu}(s)$ 의 환원 반응이 일어나 Cu가 석출되므로 A는 (-)극, B는 (+)극, C는 (-)극, D는 (+)극이다.

반응이 진행될 때, 이에 대한 설명으로 옳은 것만을 <보기>에서 있는 대로 고른 것은?

- 보기
- ㄱ. B와 D에서는 같은 종류의 기체가 발생한다.
  - ㄴ. C에서는 환원 반응이 일어난다.
  - ㄷ.  $\text{CuCl}_2(aq)$ 에서  $\text{Cu}^{2+}$ 의 양(mol)은 변하지 않는다.

- ① ㄱ      ② ㄴ      ③ ㄷ      ④ ㄱ, ㄴ      ⑤ ㄴ, ㄷ

02 [22028-0238]  
 그림 (가)는 금속 X와 Y를 전극으로 사용한 화학 전지를, (나)는  $\text{YSO}_4(aq)$ 을 전기 분해하는 장치를 나타낸 것이고, 표는 (가)와 (나)에서 반응이 진행되었을 때 각 전극에서 일어나는 반응 결과이다.



화학 전지에서 금속이 석출되는 B는 (+)극으로 환원 반응이 일어나고, 전기 분해에서 금속이 석출되는 C는 (-)극으로 환원 반응이 일어난다.

전극	A	B	C	D
반응 결과	X(s)의 질량 감소	금속 석출	금속 석출	기체 발생

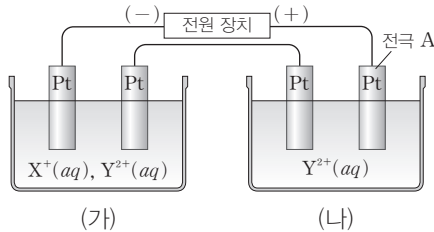
반응이 진행될 때, 이에 대한 설명으로 옳은 것만을 <보기>에서 있는 대로 고른 것은? (단, X, Y는 임의의 원소 기호이고, 온도는 25°C로 일정하다.)

- 보기
- ㄱ. 금속의 이온화 경향은  $X > Y$ 이다.
  - ㄴ. D에서는 환원 반응이 일어난다.
  - ㄷ. (나)에서 수용액의 pH는 감소한다.

- ① ㄱ      ② ㄴ      ③ ㄱ, ㄷ      ④ ㄴ, ㄷ      ⑤ ㄱ, ㄴ, ㄷ

전자 1 mol이 이동할 때  $X^+(aq) + e^- \rightarrow X(s)$ 의 반응이 일어나면 X 1 mol이 석출되고,  $Y^{2+}(aq) + 2e^- \rightarrow Y(s)$ 의 반응이 일어나면 Y 0.5 mol이 석출된다.

**03** [22028-0239] 다음은  $X^+$ 과  $Y^{2+}$ 이 들어 있는 수용액과  $Y^{2+}$ 이 들어 있는 수용액을 전기 분해하는 장치와 (가), (나)의 전극에서 일어나는 반응의 모든 화학 반응식이다. 전기 분해하기 전 (가)와 (나)에 들어 있는  $Y^{2+}$ 의 양은 2 mol씩이고, 일정 시간 전류를 흘려주었을 때 (-)극에서 생성된 금속의 양이 (가)에서는 1.5 mol, (나)에서는 1 mol이었다.



- $X^+(aq) + e^- \rightarrow X(s)$
- $Y^{2+}(aq) + 2e^- \rightarrow Y(s)$
- $2H_2O(l) \rightarrow O_2(g) + 4H^+(aq) + 4e^-$

반응이 진행될 때, 이에 대한 설명으로 옳은 것만을 <보기>에서 있는 대로 고른 것은? (단, X, Y는 임의의 금속 원소 기호이다.)

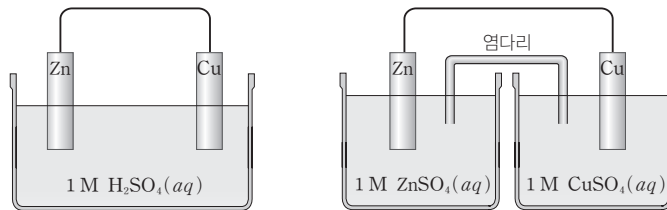
보기

- ㄱ. A에서는  $O_2(g)$ 가 발생한다.
- ㄴ. 금속 이온이 금속으로 환원되는 경향은  $Y^{2+} > X^+$ 이다.
- ㄷ. (가)에서 수용액의 pH는 증가한다.

- ① ㄱ                      ② ㄴ                      ③ ㄱ, ㄷ                      ④ ㄴ, ㄷ                      ⑤ ㄱ, ㄴ, ㄷ

볼타 전지의 Zn 전극에서는 Zn이  $Zn^{2+}$ 으로, Cu 전극에서는  $H^+$ 이  $H_2$ 로 되므로 전극의 질량이 (-)극에서는 감소하고, (+)극에서는 변화가 없으며, 다니엘 전지의 Zn 전극에서는 Zn이  $Zn^{2+}$ 으로, Cu 전극에서는  $Cu^{2+}$ 이 Cu가 되므로 전극의 질량이 (-)극에서는 감소하고, (+)극에서는 증가한다.

**04** [22028-0240] 그림은 아연(Zn)과 구리(Cu)를 전극으로 사용한 2가지 화학 전지를 나타낸 것이다. 금속의 이온화 경향은  $Zn > Cu$ 이다.



반응이 진행될 때, 두 전지의 공통점으로 옳은 것만을 <보기>에서 있는 대로 고른 것은? (단, 온도는 25°C로 일정하다.)

보기

- ㄱ. (+)극에서 기체가 발생한다.
- ㄴ. Zn 전극의 질량은 감소한다.
- ㄷ. 전자는 도선을 따라 Zn 전극에서 Cu 전극으로 이동한다.

- ① ㄱ                      ② ㄴ                      ③ ㄷ                      ④ ㄱ, ㄴ                      ⑤ ㄴ, ㄷ



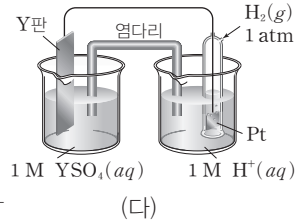
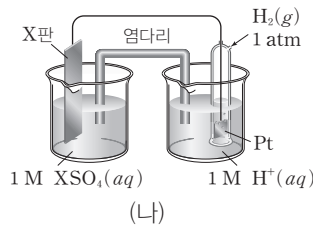
**05** [22028-0241] 다음은 25°C에서 금속 X, Y의 이온화 경향을 비교하는 실험이다.

**[실험 과정]**

(가) 1 M H<sup>+</sup>(aq)에 백금판을 꽂고, 이 백금판을 1 atm의 H<sub>2</sub>(g)가 둘러싸고 있는 수소 전극을 준비한다.

(나) (가)의 수소 전극과 금속 X를 전극으로 사용한 화학 전지에서 X판의 질량 변화를 관찰한다.

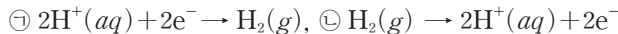
(다) (가)의 수소 전극과 금속 Y를 전극으로 사용한 화학 전지에서 Y판의 질량 변화를 관찰한다.



**[실험 결과]**

○ (나)에서 X판의 질량이 감소하였고, (다)에서 Y판의 질량이 증가하였다.

**[자료]** ○ 수소 전극에서 일어나는 반응의 화학 반응식



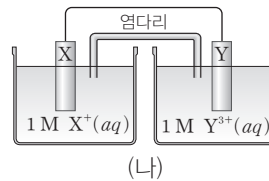
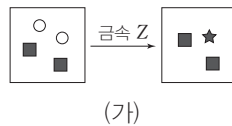
이에 대한 설명으로 옳은 것만을 <보기>에서 있는 대로 고른 것은? (단, X, Y는 임의의 원소 기호이고, 온도는 25°C로 일정하다.)

**보기**

- ㄱ. 금속의 이온화 경향은 X > Y이다.
- ㄴ. (나)의 수소 전극에서는 반응 ㉠이 일어난다.
- ㄷ. (다)에서 전자는 도선을 따라 Y 전극에서 수소 전극으로 이동한다.

- ① ㄱ      ② ㄷ      ③ ㄱ, ㄴ      ④ ㄴ, ㄷ      ⑤ ㄱ, ㄴ, ㄷ

**06** [22028-0242] 그림 (가)는 X<sup>+</sup>과 Y<sup>3+</sup>이 들어 있는 수용액에 충분한 양의 금속 Z를 넣어 반응시켰을 때 수용액 속에 존재하는 금속 양이온만을 모형으로 나타낸 것이고, (나)는 금속 X, Y를 전극으로 사용한 화학 전



지를 나타낸 것이다. Z 이온의 산화수는 +1, +2, +3 중 하나이고, (나)의 (-)극에서는 금속의 질량이 감소했으며, (+)극에서는 금속의 질량이 증가했다.

반응이 진행될 때, 이에 대한 설명으로 옳은 것만을 <보기>에서 있는 대로 고른 것은? (단, X~Z는 임의의 원소 기호이고, 온도는 25°C로 일정하며, (가)와 (나)에서 음이온은 반응하지 않는다.)

**보기**

- ㄱ. (가)에서 Y<sup>3+</sup>은 환원된다.
- ㄴ. (나)의 X 전극에서는 환원 반응이 일어난다.
- ㄷ. 금속 이온의 산화수는 ■이 ★보다 크다.

- ① ㄱ      ② ㄴ      ③ ㄱ, ㄷ      ④ ㄴ, ㄷ      ⑤ ㄱ, ㄴ, ㄷ

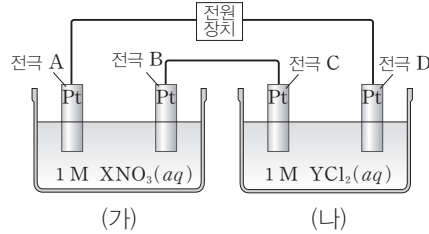
(나)의 X 전극에서는  $\text{X}(\text{s}) \rightarrow \text{X}^{2+}(\text{aq}) + 2\text{e}^-$ 의 산화 반응이 일어나고, (다)의 Y 전극에서는  $\text{Y}^{2+}(\text{aq}) + 2\text{e}^- \rightarrow \text{Y}(\text{s})$ 의 환원 반응이 일어난다.

(가)에서는  $2\text{X}^+(\text{aq}) + \text{Z}(\text{s}) \rightarrow 2\text{X}(\text{s}) + \text{Z}^{2+}(\text{aq})$ 의 반응이 일어난다.

A와 C는 (+)극으로 산화 반응이 일어나며, B와 D는 (-)극으로 환원 반응이 일어난다.

07 [22028-0243]

그림은  $XNO_3(aq)$ 과  $YCl_2(aq)$ 을 전기 분해하는 장치를, 표는 이 장치에 일정량의 전류를 흘려주었을 때 전극 A~D에서 생성된 물질의 양을 나타낸 것이다.



전극	생성된 물질의 양
A	기체 0.01 mol 발생
B	금속 4.32 g 석출
C	⊖
D	금속 1.28 g 석출

반응이 진행될 때, 이에 대한 설명으로 옳은 것만을 <보기>에서 있는 대로 고른 것은? (단, X, Y는 임의의 원소 기호이다.)

보기

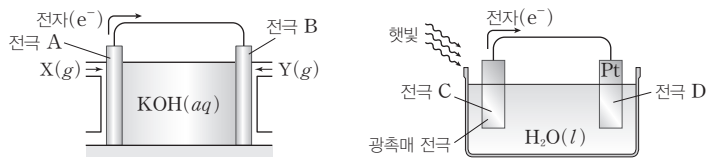
ㄱ. A에서는 산화 반응이 일어난다.  
 ㄴ. '기체 0.005 mol 발생'은 ⊖으로 적절하다.  
 ㄷ. 원자량은 X가 Y의 2배보다 크다.

- ① ㄱ      ② ㄴ      ③ ㄱ, ㄷ      ④ ㄴ, ㄷ      ⑤ ㄱ, ㄴ, ㄷ

수소 연료 전지에서 전자가 도선을 따라 A에서 B로 이동했으므로 A는 (-)극, B는 (+)극이고, A에서는 산화 반응이, B에서는 환원 반응이 일어난다.

08 [22028-0244]

다음은 수소 연료 전지, 물의 광분해 장치와 전극 A~D에서 일어나는 반응의 화학 반응식을 순서 없이 나타낸 것이다. X, Y는 각각  $H_2$ ,  $O_2$  중 하나이다.



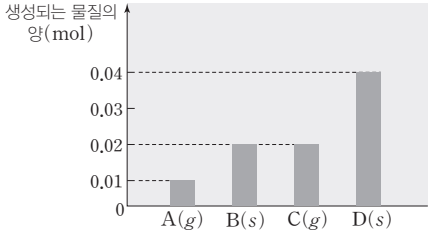
- ⊖  $2H_2O(l) \longrightarrow O_2(g) + 4H^+(aq) + 4e^-$   
 ⊕  $2H_2(g) + 4OH^-(aq) \longrightarrow 4H_2O(l) + 4e^-$   
 ⊖  $4H^+(aq) + 4e^- \longrightarrow 2H_2(g)$   
 ⊖  $O_2(g) + 2H_2O(l) + 4e^- \longrightarrow 4OH^-(aq)$

A~D에서 일어나는 반응으로 옳은 것은?

- |   |          |          |          |          |   |          |          |          |          |
|---|----------|----------|----------|----------|---|----------|----------|----------|----------|
|   | <u>A</u> | <u>B</u> | <u>C</u> | <u>D</u> |   | <u>A</u> | <u>B</u> | <u>C</u> | <u>D</u> |
| ① | ⊖        | ⊖        | ⊕        | ⊖        | ② | ⊖        | ⊖        | ⊕        | ⊖        |
| ③ | ⊕        | ⊖        | ⊖        | ⊖        | ④ | ⊕        | ⊖        | ⊖        | ⊖        |
| ⑤ | ⊖        | ⊕        | ⊖        | ⊖        |   |          |          |          |          |

09 [22028-0245]

다음은 백금(Pt) 전극을 사용한  $\text{AgNO}_3(aq)$ 과  $\text{CuCl}_2(aq)$ 의 전기 분해 장치에서 각각 0.04 mol의 전자가 이동했을 때 각 전극에서 생성되는 물질 A~D의 양(mol)과 일어나는 반응의 화학 반응식을 순서없이 나타낸 것이다. A~D는 각각 Ag,  $\text{O}_2$ , Cu,  $\text{Cl}_2$  중 하나이다.



- $a\text{Cl}^-(aq) \longrightarrow \text{Cl}_2(g) + ae^-$
- $\text{Cu}^{2+}(aq) + 2e^- \longrightarrow \text{Cu}(s)$
- $\text{Ag}^+(aq) + e^- \longrightarrow \text{Ag}(s)$
- $2\text{H}_2\text{O}(l) \longrightarrow \text{O}_2(g) + b\text{H}^+(aq) + be^-$   
(a, b는 반응 계수)

0.04 mol의 전자가 이동하여 전기 분해될 때,  $\text{AgNO}_3(aq)$ 에서는  $\text{Ag}(s)$  0.04 mol,  $\text{O}_2(g)$  0.01 mol이 생성되며,  $\text{CuCl}_2(aq)$ 에서는  $\text{Cu}(s)$  0.02 mol,  $\text{Cl}_2(g)$  0.02 mol이 생성된다.

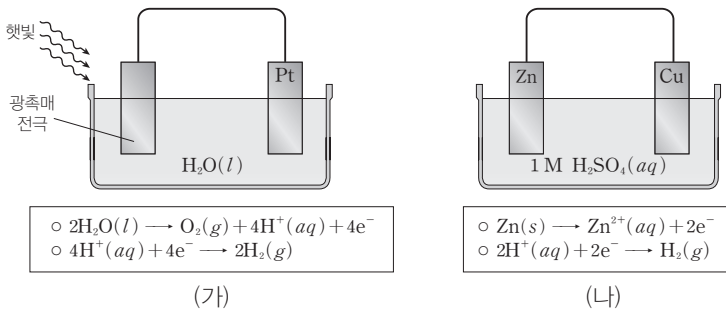
반응이 진행될 때, 이에 대한 설명으로 옳은 것만을 <보기>에서 있는 대로 고른 것은?

- 보기
- ㄱ.  $a + b = 4$ 이다.
  - ㄴ. B(s)는 (-)극에서 생성된다.
  - ㄷ.  $\text{CuCl}_2(aq)$ 을 전기 분해하면 A(g)와 D(s)가 생성된다.

- ① ㄱ      ② ㄴ      ③ ㄷ      ④ ㄱ, ㄴ      ⑤ ㄴ, ㄷ

10 [22028-0246]

다음은 물의 광분해 장치 및 아연(Zn)과 구리(Cu)를 전극으로 사용한 화학 전지와 각 전극에서 일어나는 반응의 화학 반응식을 나타낸 것이다.



(나)의 화학 전지에서  $\text{H}^+$ 의 양(mol)이 감소하므로 수용액의 pH는 증가한다.

반응이 진행될 때, 이에 대한 설명으로 옳은 것만을 <보기>에서 있는 대로 고른 것은?

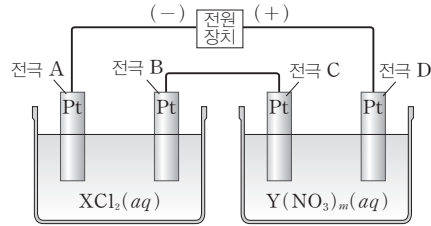
- 보기
- ㄱ. (가)와 (나)에서 모두  $\text{H}_2(g)$ 가 발생한다.
  - ㄴ. (가)에서  $\text{H}^+$ 의 양(mol)은 증가한다.
  - ㄷ. (나)에서 수용액의 pH는 감소한다.

- ① ㄱ      ② ㄴ      ③ ㄱ, ㄷ      ④ ㄴ, ㄷ      ⑤ ㄱ, ㄴ, ㄷ

전기 분해에서  $O_2$ 는 (+)극에서  $H_2O$ 이 산화되어 생성되고,  $H_2$ 는 (-)극에서  $H_2O$ 이 환원되어 생성된다.

11 [22028-0247]

그림은  $XCl_2(aq)$ 과  $Y(NO_3)_m(aq)$ 의 전기 분해 장치를, 표는 이 장치에 일정량의 전류를 흘려주었을 때 각 전극에서 생성되는 물질과 양(mol)을 나타낸 것이다. ㉠ ~ ㉤은 각각 A~D 중 하나이다.



전극	㉠	㉡	㉢	㉣
생성되는 물질	Y	$O_2$	$Cl_2$	$H_2$
생성되는 물질의 양 (mol)	0.1	x	y	0.1

이에 대한 설명으로 옳은 것만을 <보기>에서 있는 대로 고른 것은? (단, X, Y는 임의의 원소 기호이다.)

보기

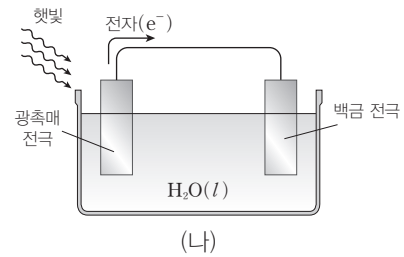
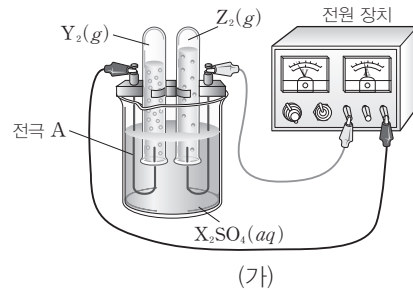
- ㄱ. ㉣은 A이다.
- ㄴ.  $m \times \frac{x}{y} = 1$ 이다.
- ㄷ. 금속 이온이 금속으로 환원되는 경향은  $Y^{m+} > X^{2+}$ 이다.

- ① ㄱ      ② ㄷ      ③ ㄱ, ㄴ      ④ ㄴ, ㄷ      ⑤ ㄱ, ㄴ, ㄷ

$X^+$ 이  $H_2O$ 보다 환원되기 쉬운 경우 (가)의 (-)극에서는  $X^+(aq) + e^- \rightarrow X(s)$ 의 환원 반응이 일어난다.

12 [22028-0248]

그림 (가)는 물의 전기 분해 장치를, (나)는 물의 광분해 장치를 나타낸 것이다. (가)에서 발생한 기체의 몰비는  $Y_2 : Z_2 = 2 : 1$ 이다.



반응이 진행될 때, 이에 대한 설명으로 옳은 것만을 <보기>에서 있는 대로 고른 것은? (단, X~Z는 임의의 원소 기호이다.)

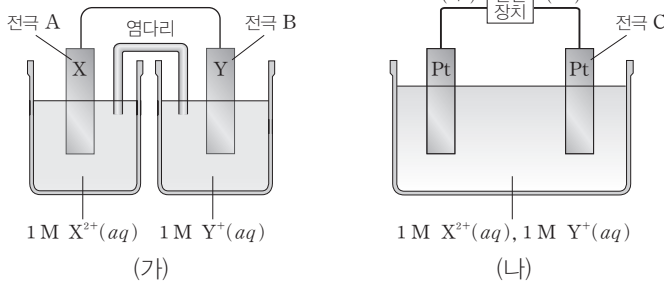
보기

- ㄱ. (가)의 A에서는 산화 반응이 일어난다.
- ㄴ.  $X^+$ 은  $H_2O$ 보다 환원되기 쉽다.
- ㄷ. (나)의 백금 전극에서는  $Y_2(g)$ 가 발생한다.

- ① ㄱ      ② ㄷ      ③ ㄱ, ㄴ      ④ ㄴ, ㄷ      ⑤ ㄱ, ㄴ, ㄷ

13 [22028-0249]

그림 (가)는 금속 X, Y를 전극으로 사용한 화학 전지를, (나)는  $X(NO_3)_2(aq)$ 과  $YNO_3(aq)$ 의 혼합 용액을 전기 분해하는 장치를 나타낸 것이다. 반응이 진행되었을 때 (가)의 (+)극에서는 금속의 질량이 증가했고, (나)의 (-)극에서는 Y(s)가 석출된 후 기체가 발생했다.



(나)에서  $Y^+(aq) + e^- \rightarrow Y(s)$ 의 환원 반응이 일어난 후,  $2H_2O(l) + 2e^- \rightarrow H_2(g) + 2OH^-(aq)$ 의 환원 반응이 일어나므로 전자를 얻기 쉬운 경향은  $Y^+ > H_2O > X^{2+}$ 이다.

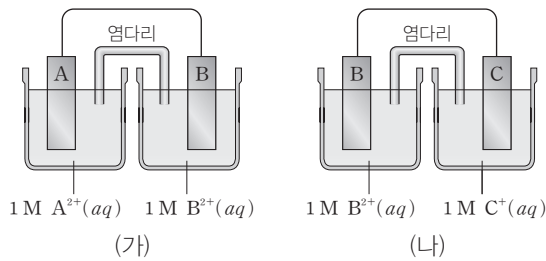
반응이 진행될 때, 이에 대한 설명으로 옳은 것만을 <보기>에서 있는 대로 고른 것은? (단, X, Y는 임의의 원소 기호이고, 온도는 25°C로 일정하다.)

- 보기
- ㄱ. A는 (+)극이다.
  - ㄴ. B에서 Y(s)의 질량은 증가한다.
  - ㄷ. C에서 발생한 기체는 산소(O<sub>2</sub>) 기체이다.

- ① ㄱ      ② ㄴ      ③ ㄷ      ④ ㄱ, ㄴ      ⑤ ㄴ, ㄷ

14 [22028-0250]

그림은 금속 A~C를 전극으로 사용한 화학 전지를 나타낸 것이다. (가)와 (나) 중 하나에서는 B 전극의 질량이 증가하고, 다른 하나에서는 B 전극의 질량이 감소하며, 금속의 이온화 경향은  $A > B > C$ 이다.



금속의 이온화 경향이  $B > C$ 이므로 (나)에서 B 전극은 (-)극, C 전극은 (+)극이다.

반응이 진행될 때, 이에 대한 설명으로 옳은 것만을 <보기>에서 있는 대로 고른 것은? (단, A~C는 임의의 원소 기호이고, 온도는 25°C로 일정하며, 음이온은 반응하지 않는다.)

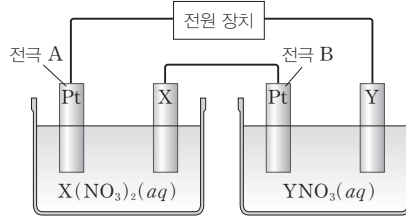
- 보기
- ㄱ. (가)의  $A^{2+}(aq)$ 에서  $A^{2+}$ 의 양(mol)은 증가한다.
  - ㄴ. (나)에서 B 전극의 질량은 감소한다.
  - ㄷ. A와 C를 전극으로 사용한 화학 전지에서 전자는 도선을 따라 A에서 C로 이동한다.

- ① ㄱ      ② ㄷ      ③ ㄱ, ㄴ      ④ ㄴ, ㄷ      ⑤ ㄱ, ㄴ, ㄷ

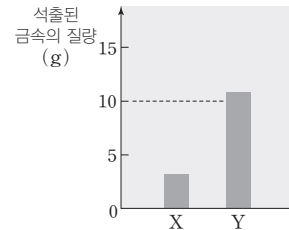
A에서는  $X^{2+}(aq) + 2e^- \rightarrow X(s)$ 의 환원 반응이, X 전극에서는  $X(s) \rightarrow X^{2+}(aq) + 2e^-$ 의 산화 반응이 일어난다.

[22028-0251]

15 그림 (가)는 백금(Pt)과 금속 X, Y를  $X(NO_3)_2(aq)$ 과  $YNO_3(aq)$ 에 넣은 후, 전원 장치에 연결한 것을, (나)는 (가)에서 일정량의 전류를 흘려주었을 때 전극 A와 B에서 석출된 금속의 질량을 나타낸 것이다. 전자를 잃기 쉬운 경향은  $X > Y > H_2O$ 이고, 전자를 얻기 쉬운 경향은  $Y^+ > X^{2+} > H_2O$ 이다.



(가)



(나)

반응이 진행될 때, 이에 대한 설명으로 옳은 것만을 <보기>에서 있는 대로 고른 것은? (단, X, Y는 임의의 원소 기호이다.)

보기

ㄱ. A는 (-)극이다.

ㄴ. 원자량은  $Y > X$ 이다.

ㄷ.  $X(NO_3)_2(aq)$ 에서  $X^{2+}$ 의 양(mol)은 감소한다.

① ㄱ

② ㄷ

③ ㄱ, ㄴ

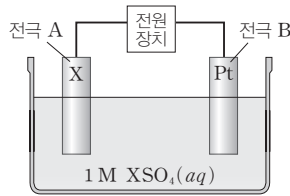
④ ㄴ, ㄷ

⑤ ㄱ, ㄴ, ㄷ

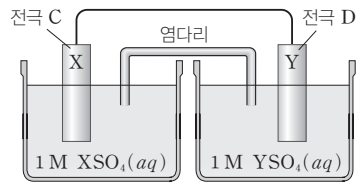
전극 A에서는 금속의 질량이 감소했으므로  $X(s) \rightarrow X^{2+}(aq) + 2e^-$ 의 산화 반응이 일어난다.

[22028-0252]

16 그림 (가)는 백금(Pt)과 금속 X를  $XSO_4(aq)$ 에 넣은 후 전원 장치에 연결한 것을, (나)는 금속 X와 Y를 전극으로 사용한 화학 전지를 나타낸 것이다. A와 D에서는 금속의 질량이 감소했고, B와 C에서는 금속이 석출되었다.



(가)



(나)

반응이 진행될 때, 이에 대한 설명으로 옳은 것만을 <보기>에서 있는 대로 고른 것은? (단, X, Y는 임의의 원소 기호이고, 온도는 25°C로 일정하다.)

보기

ㄱ. A는 (+)극이다.

ㄴ. C에서는 산화 반응이 일어난다.

ㄷ. 금속의 이온화 경향은  $X > Y$ 이다.

① ㄱ

② ㄴ

③ ㄱ, ㄷ

④ ㄴ, ㄷ

⑤ ㄱ, ㄴ, ㄷ

MEMO

# 고2~N수 수능 집중 로드맵

과목	수능 입문	기출 / 연습	연계+연계 보완	고난도	모의고사
국어	수능 감(感)잡기		수능연계교재의 국어 어휘	수능연계완성 3/4주 특강 고난도 · 신유형	FINAL 실전모의고사
영어		수능 기출의 미래	수능연계교재의 VOCA 1800 수능연계 기출 Vaccine VOCA		만점마무리 봉투모의고사
수학	수능특강 Light	<b>강의노트</b> 수능개념	<b>연계</b> 수능특강	수능의 7대 함정	만점마무리 봉투모의고사 RED EDITION
한국사 사회		수능특강Q 미니모의고사	<b>완성</b> 수능완성	박봄의 사회 · 문화 표 분석의 패턴	고난도 시크릿X 봉투모의고사
과학					

구분	시리즈명	특징	수준	영역
수능 입문	수능 감(感)잡기	동일 소재 · 유형의 내신과 수능 문항 비교로 수능 입문	●	국/수/영
	수능특강 Light	수능 연계교재 학습 전 연계교재 입문서	●	국/영
	수능개념	EBS 대표 강사들과 함께하는 수능 개념 다지기	●	전영역
기출/연습	수능 기출의 미래	올해 수능에 딱 필요한 문제만 선별한 기출문제집	●	전영역
	수능특강Q 미니모의고사	매일 15분으로 연습하는 고퀄리티 미니모의고사	●	전영역
연계 + 연계 보완	수능특강	최신 수능 경향과 기출 유형을 분석한 종합 개념서	●	전영역
	수능특강 사용설명서	수능 연계교재 수능특강의 지문 · 자료 · 문항 분석	●	전영역
	수능특강 연계 기출	수능특강 수록 작품 · 지문과 연결된 기출문제 학습	●	국/영
	수능완성	유형 분석과 실전모의고사로 단련하는 문항 연습	●	전영역
	수능완성 사용설명서	수능 연계교재 수능완성의 국어 · 영어 지문 분석	●	국/영
	수능연계교재의 국어 어휘	수능 지문과 문항 이해에 필요한 어휘 학습서	●	국어
	수능연계교재의 VOCA 1800	수능특강과 수능완성의 필수 중요 어휘 1800개 수록	●	영어
수능연계 기출 Vaccine VOCA	수능-EBS 연계 및 평가원 최다 빈출 어휘 선별 수록	●	영어	
고난도	수능연계완성 3/4주 특강	단기간에 끝내는 수능 킬러 문항 대비서	●	국/수/영/과
	수능의 7대 함정	아깝게 틀리기 쉬운 영역별 수능 함정 문제 유형 분석	●	국/수/영/사/과
	박봄의 사회 · 문화 표 분석의 패턴	박봄 선생님과 사회 · 문화 표 분석 문항의 패턴 연습	●	사회탐구
모의고사	FINAL 실전모의고사	수능 동일 난도의 최다 분량, 최다 과목 모의고사	●	전영역
	만점마무리 봉투모의고사	실제 시험지 형태와 OMR 카드로 실제 훈련 모의고사	●	전영역
	만점마무리 봉투모의고사 RED EDITION	신규 문항 2회분으로 국어 · 수학 · 영어 논스톱 모의고사	●	국/수/영
	고난도 시크릿X 봉투모의고사	제대로 어려운 고퀄리티 최고난도 모의고사	●	국/수/영