

수학 영역

홀수형

성명

수험 번호

- 문제지의 해당란에 성명과 수험번호를 정확히 쓰시오.
- 답안지의 필적 확인란에 다음의 문구를 정자로 기재하시오.

이 불꽃이 저 태양보다 뜨거울 테니

- 답안지의 해당란에 성명과 수험 번호를 쓰고, 또 수험 번호, 문형 (홀수/짝수), 답을 정확히 표시하시오.
- 단답형 답의 숫자에 '0'이 포함되면 그 '0'도 답란에 반드시 표시하시오.
- 문항에 따라 배점이 다르니, 각 물음의 끝에 표시된 배점을 참고하시오. 배점은 2점, 3점 또는 4점입니다.
- 계산은 문제지의 여백을 활용하시오.

※ 시험이 시작되기 전까지 표지를 넘기지 마시오.

제 2 교시

수학 영역

홀수형

5지선다형

1. $(\frac{4}{\sqrt{2}})^{\frac{1}{2}} \times 2^{\frac{1}{4}}$ 의 값은? [2점]

- ① 1
- ② 2
- ③ 3
- ④ 4
- ⑤ 5

$$(2^{2-\frac{1}{2}})^{\frac{1}{2}} \times 2^{\frac{1}{4}} = 2^{\frac{3}{4}+\frac{1}{4}} = \boxed{2}$$

2. 함수 $f(x) = 2x^2 + 3$ 에 대하여 $\lim_{x \rightarrow 1} \frac{f(x) - f(1)}{\sqrt{x} - 1}$ 의 값은?

[2점]

- ① 6
- ② 7
- ③ 8
- ④ 9
- ⑤ 10

$$\begin{aligned} & \lim_{x \rightarrow 1} \frac{f(x) - f(1)}{(\sqrt{x} - 1)(\sqrt{x} + 1)} \times (\sqrt{x} + 1) \\ &= \lim_{x \rightarrow 1} \frac{f(x) - f(1)}{x - 1} \times (\sqrt{x} + 1) \\ &= f'(1) \times 2 \\ &= 2(4) = \boxed{8} \end{aligned}$$

3. $\cos(\frac{1}{2}\pi + \theta) = \frac{\sqrt{5}}{5}$ 이고 $\cos\theta > 0$ 일 때, $\tan\theta$ 의 값은? [3점]

- ① -2
- ② $-\frac{1}{2}$
- ③ 1
- ④ $\frac{5}{2}$
- ⑤ $\frac{7}{2}$

$$-\sin\theta = \frac{1}{\sqrt{5}}$$

$$\sin\theta < 0, \cos\theta > 0$$

$$\therefore \tan\theta < 0$$



$$\tan\theta = -\frac{1}{2}$$

4. 함수

$$f(x) = \begin{cases} 7x - 2a & (x \leq a) \\ ax + 4 & (x > a) \end{cases}$$

가 실수 전체의 집합에서 연속이 되도록 하는 모든 상수 a 의 값의 합은? [3점] $\hookrightarrow x=a$ 만 확인!

- ① 1
- ② 2
- ③ 3
- ④ 4
- ⑤ 5

$$f(a^-) = 7a - 2a = 5a$$

$$f(a^+) = a^2 + 4$$

$$a^2 + 4 = 5a, a = 1, 4$$

$$4 + 1 = \boxed{5}$$

5. 등차수열 $\{a_n\}$ 에 대하여

$$7a_1 = a_5, \quad a_2 + a_3 + a_4 = 24$$

일 때, a_2 의 값은? [3점]

- ① 3 ② 4 5 ④ 6 ⑤ 7

$$a_3 = 8$$

$$7(a_3 - 2d) = a_3 + 2d$$

$$7(8 - 2d) = 8 + 2d$$

$$16d = 48, \quad d = 3$$

$$\therefore a_2 = a_3 - d = \boxed{5}$$

6. 다항함수 $f(x)$ 가 모든 실수 x 에 대하여

$$\int_2^x f(t)dt = x^2 - ax + 2$$

를 만족시킬 때, $f(a)$ 의 값은? [3점]

- ① 2 3 ③ 4 ④ 5 ⑤ 6

$$x=2 \text{ 대입} \rightarrow 0 = 4 - 2a + 2, \quad a=3$$

$$\text{양변 미분} \rightarrow f(x) = 2x - a$$

$$\therefore f(a) = a = \boxed{3}$$

7. 공비가 $\frac{1}{4}$ 인 등비수열 $\{a_n\}$ 이

$$\sum_{k=1}^5 (-\sqrt{a_k} + 2\sqrt{a_{k+2}}) = -\frac{31}{16}$$

을 만족시킬 때, a_2 의 값은? [3점]

- 1 ② 2 ③ 3 ④ 4 ⑤ 5

$$-\sqrt{a_k} + 2\sqrt{a_{k+2}}$$

$$= -\sqrt{a_k} + 2\sqrt{a_{k+1} \times \frac{1}{4}}$$

$$= -\sqrt{a_k} + \sqrt{a_{k+1}}$$

$$\sum_{k=1}^5 (-\sqrt{a_k} + \sqrt{a_{k+1}}) = -\sqrt{a_1} + \sqrt{a_6}$$

$$= -\sqrt{a_1} + \sqrt{a_1 \left(\frac{1}{4}\right)^5}$$

$$= \sqrt{a_1} \left(-1 + \frac{1}{32}\right)$$

$$= \frac{-31}{32} \sqrt{a_1} = -\frac{31}{16}$$

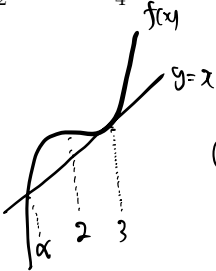
$$\therefore \sqrt{a_1} = 2, \quad a_1 = 4$$

$$a_2 = a_1 \times \frac{1}{4} = \boxed{1}$$

8. 삼차함수 $f(x)$ 에 대하여 함수 $y=f(x)$ 의 그래프와 역함수 $y=f^{-1}(x)$ 의 그래프가 $x=3$ 에서 접한다. $f'(2)=0$ 일 때,

$\int_0^3 f^{-1}(x)dx$ 의 값은? [3점]

- ① $\frac{3}{2}$ ② $\frac{7}{4}$ ③ 2 ④ $\frac{9}{4}$ ⑤ $\frac{5}{2}$



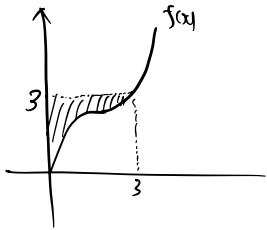
(사칙연산) $= 2+2+2$
 $= \alpha+3+3$

$\therefore \alpha=0$

$f(x)=a(x-2)^3+b$ & $f(2)=3$ & $f(3)=1$

$\hookrightarrow f(x)=\frac{1}{3}(x-2)^3+\frac{8}{3}$

$\int_0^3 f^{-1}(x)dx = 3 \cdot 3 - \int_0^3 f(x)dx$
 $= \frac{9}{4}$



9. 자연수 n 에 대하여 x 에 대한 방정식

$x^{n+1}-64^{\frac{1}{n}}=0$

의 실근 중 양수인 것을 a_n 이라 하자. $a_1 \times \dots \times a_n$ 이 정수가 되도록 하는 모든 n 의 값의 합은? [4점]

- ① 4 ② 5 ③ 6 ④ 7 ⑤ 8

$x^{n+1}=64^{\frac{1}{n}} \Rightarrow x=64^{\frac{1}{n} \cdot \frac{1}{n+1}} = 2^{\frac{6}{n(n+1)}}$

$\therefore a_n = 2^{\frac{6}{n(n+1)}} = 2^{6(\frac{1}{n} - \frac{1}{n+1})}$

$a_1 a_2 \dots a_n = 2^{6(1 - \frac{1}{n+1})}$

$= 2^{\frac{6n}{n+1}} \Rightarrow$ 정수

$n+1 = 1, 2, 3, 6$

$n = 1, 2, 5$

$1+2+5 = \underline{\underline{8}}$

10. 함수 $f(x)=2x^3-6x^2-18x$ 와 사차함수 $g(x)$ 에 대하여 함수

$h(x)=|f(x)-g'(t)(x-t)-g(t)|$

가 실수 전체의 집합에서 미분가능하도록 하는 실수 t 의 값이 3. 6뿐이고 $g(4)=-90$ 일 때, $g(5)$ 의 값은? [4점]

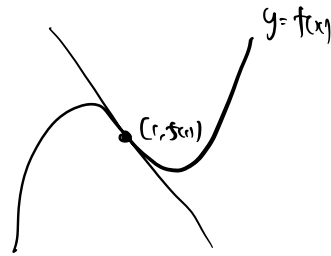
- ① -110 ② -112 ③ -114 ④ -116 ⑤ -118

$h(x) = |f(x) - (t, g(t)) \text{에서의 접선}| = 0$ 미분가능

$\therefore (t, g(t))$ 에서 접선 = $f(x)$ 의 변곡점선

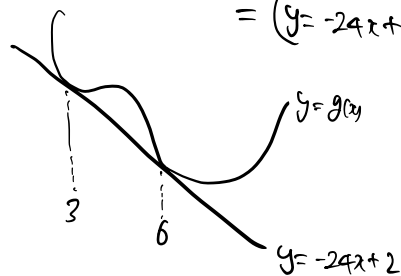
$f'(x) = 6x^2 - 12x - 18$

$f''(x) = 12x - 12 = 0 \rightarrow x=1, f'(1)=-24, f'(5)=-22$



$y = f'(1)(x-1) + f(1)$
 $= -24x + 2$

$((3, g(3)) \text{에서의 접선}) = ((6, g(6)) \text{에서의 접선})$
 $= (y = -24x + 2)$



$g(x) = k(x-3)^2(x-6)^2 - 24x + 2$

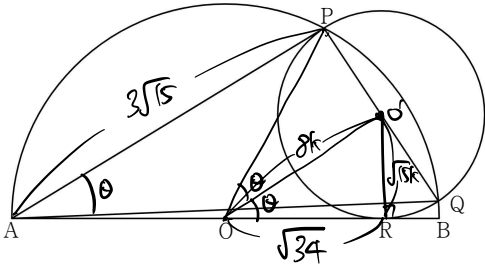
$g(4) = k \cdot (4-3)^2(4-6)^2 - 96 + 2 = -90$

$k=1$

$g(5) = k \cdot 4 \cdot 1 - 118$

$= \underline{\underline{-114}}$

11. 그림과 같이 중심이 O이고 선분 AB를 지름으로 하는 반원이 있다. 반원 위의 두 점 P, Q에 대해 선분 PQ를 지름으로 하는 원이 선분 AB와 점 R에서 접한다. $\overline{AP} = 3\sqrt{15}$, $\overline{OR} = \sqrt{34}$, $\sin \angle PAQ = \frac{\sqrt{15}}{8}$ 일 때, \overline{AQ} 의 값은? [4점]



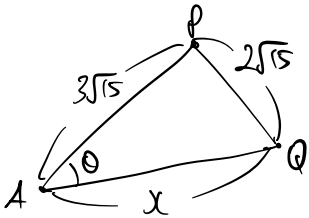
- ① $\sqrt{15}$ ② $2\sqrt{15}$ ③ $3\sqrt{15}$ ④ $4\sqrt{15}$ ⑤ $5\sqrt{15}$

$\sin \theta = \frac{\sqrt{15}}{8}, \cos \theta = \frac{7}{8}$

$(PR)^2 = (\sqrt{34})^2 + (\sqrt{15}k)^2$

$\hookrightarrow k=1$

$\therefore \overline{OP} = \sqrt{15}$



코사인 법칙) $(2\sqrt{15})^2 = (3\sqrt{15})^2 + x^2 - 2 \cdot 3\sqrt{15} \cdot x \cdot \cos \theta$

$2^2 \cdot 15 = 3^2 \cdot 15 + x^2 - \frac{21}{4} \sqrt{15} x$

$x^2 - \frac{21}{4} \sqrt{15} x + 5 \cdot 15 = 0$

$4x^2 - 21\sqrt{15}x + 20\sqrt{15}^2 = 0$

4 -5√15
1 -4√15

$\therefore x = 4\sqrt{15}$

4 / 12

$\therefore f(x) \cdot g(x) = \frac{2\sqrt{15}}{9} \times 2$

12. 함수 $f(x)$ 와 최고차항의 계수가 $\frac{1}{2}$ 인 사차함수 $g(x)$ 가 다음 조건을 만족시킨다.

- (가) 모든 실수 x 에 대하여 $g(x) = |f(x)+1| + |f(x)-1|$ 이다.
 (나) $f(-1) = -1, g(1) = 2$
 (다) 함수 $f(x)$ 가 실수 전체의 집합에서 오직 $x=a$ 에서 불연속이다.

방정식 $f(x) = \frac{2\sqrt{15}}{9}x$ 이 서로 다른 3개의 실근을 가질 때, $f(a) \times g(a)$ 의 값은? [4점]

- ① $\frac{\sqrt{15}}{9}$ ② $\frac{2\sqrt{15}}{9}$ ③ $\frac{\sqrt{15}}{3}$ ④ $\frac{4\sqrt{15}}{9}$ ⑤ $\frac{5\sqrt{15}}{9}$

$g(x) = |f(x)+1| + |f(x)-1| \geq 2$ (∵ $|t+1| + |t-1| \geq 2$)

(나)에서, $g(-1) = g(1) = 2$

$\therefore g(x) = \frac{1}{2}(x+1)^2(x-1)^2 + 2$

(가)를 해석하자.

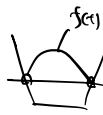
모든 x , $g(x) = |f(x)+1| + |f(x)-1|$

$y = |x+1| + |x-1|$ 과 $y = g(x)$ 의 교점 x좌표

||
f(x)

(i) $t \neq \pm 1$,

$g(x) > 2$ 이므로

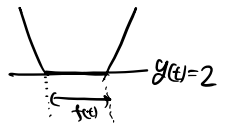


$f(x) = \pm \frac{1}{2}g(x)$

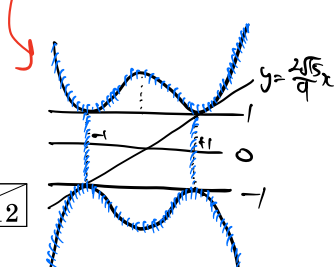
$= \pm (\frac{1}{4}(x-1)^2(x+1)^2 + 1)$

(ii) $t = \pm 1$

$g(x) = 2$ 이므로

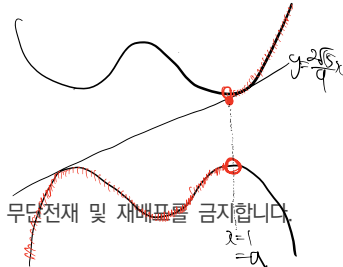


$-1 \leq f(x) \leq 1$



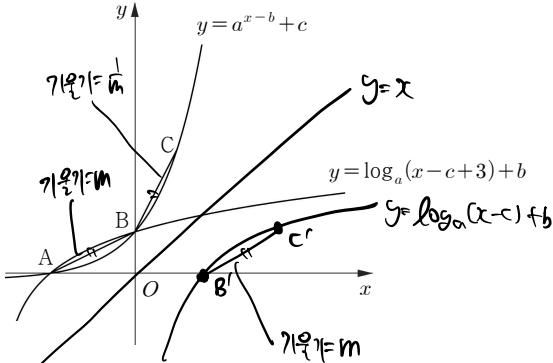
$f(x) = -1, f(x) = \frac{2\sqrt{15}}{9}x$ 같은 3개

가져 불연속 1개 이므로



이 문제지에 대한 무단전재 및 재배판을 금지합니다. x=1, =0

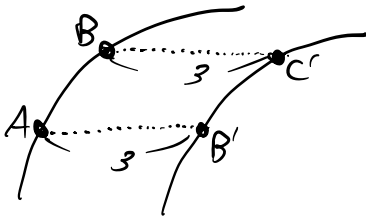
13. 그림과 같이 두 곡선 $y = a^{x-b} + c$ 와 $y = \log_a(x-c+3) + b$ 가 서로 다른 두 점 A, B에서 만난다. 곡선 $y = a^{x-b} + c$ 위의 점 C(1,3)에 대하여 $\overline{AB} = \overline{BC}$ 이고 두 직선 AB와 BC의 기울기의 곱이 1일 때, a의 값은? (단, a, b, c는 상수이다.) [4점]



- ① $1 + \sqrt{2}$ ② $1 + \sqrt{3}$ ③ $2 + \sqrt{2}$
- ④ $2 + \sqrt{3}$ ⑤ $2 + \sqrt{5}$

$\overline{AB} = \overline{BC}$ & $\overleftrightarrow{AB} \perp \overleftrightarrow{BC}$

A의 대응점 B'
B의 대응점 C'



$C(3,1) \rightarrow B(0,1)$
 $A(-2,0)$

A, B, C가 $y = a^{x-b} + c$ 위에 있음

$$\begin{cases} 0 = a^{-2-b} + c \\ 1 = a^{-b} + c \\ 3 = a^{1-b} + c \end{cases} \Rightarrow \begin{cases} c = -a^{-2-b} \\ c = 1 - a^{-b} \\ c = 3 - a^{1-b} \end{cases} \Rightarrow \begin{cases} a^{-2-b} = a^{-b} - 1 \\ a^{-b} = 1 - a^{1-b} \end{cases}$$

$$\Rightarrow a^{-b}(a^{-2} - 1) = -1$$

$$\Rightarrow a^{-b}(1 - a) = -2$$

$$\Rightarrow \frac{-1}{a^{-2}-1} = \frac{-2}{1-a}$$

$$\Rightarrow a = 1 + \sqrt{3}$$

14. 최고차항의 계수가 a인 삼차함수 f(x)에 대하여 실수 전체의 집합에서 연속인 함수 g(x)를

$$g(x) = \begin{cases} |x+a| & (x \geq 0) \\ f(x) & (x < 0) \end{cases}$$

라 하자. 함수

$$h(x) = \left| \int_0^x g(t) dt - k \right|$$

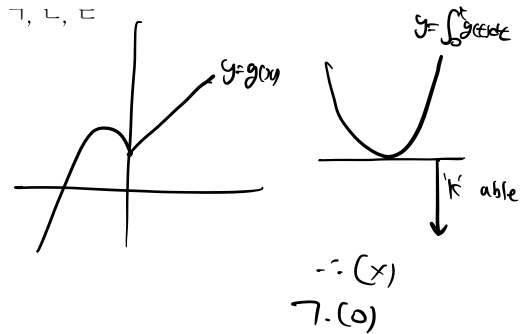
가 실수 전체의 집합에서 미분가능하도록 하는 실수 k의 값이 18뿐일 때, <보기>에서 옳은 것만을 있는 대로 고른 것은? (단, a는 상수이다.) [4점]

< 보기 >

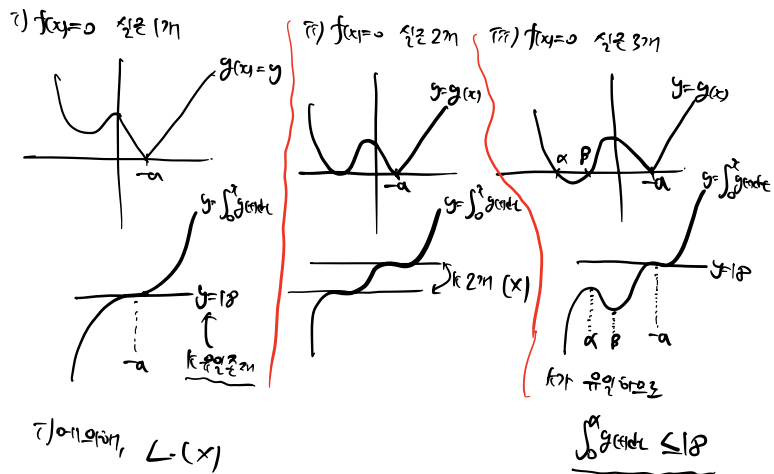
㉠ a < 0
 ㉡ 함수 f(x)의 그래프는 x축과 서로 다른 세 점에서 만난다.
 ㉢ 함수 $\int_0^x g(t) dt$ 가 x = -3에서 극대일 때, f'(0) ≤ -7이다.

- ① ㉠ ② ㉡ ③ ㉠, ㉡
- ④ ㉠, ㉡ ⑤ ㉠, ㉡, ㉢

① a > 0 이면,



② a < 0



㉢. $\int_0^x g(t) dt$ 가 x = -3에서 극대일 때, f'(0) = -7인 경우

$\int_0^x g(t) dt = 18 \Rightarrow a = -6$

$f(x) = -6x^3 + bx^2 + cx + d$

$f(-3) = 0$ & $\int_0^{-3} g(t) dt \leq 18 \Rightarrow C \leq -7$

이 문제에 대한 무단전재 및 재배포를 금지합니다.

15. 모든 항이 정수인 두 등차수열 $\{a_n\}$, $\{b_n\}$ 에 대하여 수열 $\{c_n\}$ 이

$$c_n = a_n b_n$$

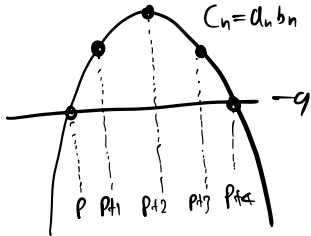
이고 수열 $\{c_n\}$ 과 자연수 r 이 다음 조건을 만족시킨다.

- (가) $c_n = -9$ 인 자연수 n 의 개수는 2이고, $c_n > -9$ 인 자연수 n 의 개수는 3이다.
 (나) $c_{r+5} = r$

$a_1 > b_1$ 일 때, a_1 의 최댓값을 M , 최솟값을 m 이라 하자. $M+m$ 의 값은? [4점]

- ① 18 ② 21 ③ 24 ④ 27 ⑤ 30

(2)에러(2)인



a_n, b_n 중 공차가 양수인 것은 A_n , 음수인 것은 B_n 이라고 하자.

공차가 정수이므로, $\mathbb{N} \setminus \{p\}$ 에서 $\mathbb{N} \setminus \{p+4\}$ 로 넘어갈 때, 4의 배수만큼 q 가 커지거나 작아져야 한다.

$$q = 1 \times 4 = 3 \times 3$$

$$\begin{cases} A_p = 9 \rightarrow A_{p+4} = 13, \dots \\ B_p = -1 \rightarrow B_{p+4} = -3, -7, \dots \end{cases} \Rightarrow c_{p+4} \neq -9 (\times)$$

$$\begin{cases} A_p = 3 \rightarrow A_{p+4} = 7, 11, 15, \dots \\ B_p = -3 \rightarrow B_{p+4} = -7, -11, \dots \end{cases} \Rightarrow c_{p+4} \neq -9 (\times)$$

$$\begin{cases} A_p = 1 \rightarrow A_{p+4} = 5, 9, 13, \dots \\ B_p = -9 \rightarrow B_{p+4} = -13, \dots \end{cases} \Rightarrow c_{p+4} \neq -9 (\times)$$

$$\begin{cases} A_p = -1 \rightarrow A_{p+4} = 3, 7, 11, \dots \\ B_p = +9 \rightarrow B_{p+4} = 5, 1, -3, -7, \dots \end{cases}$$

$$\begin{cases} A_p = -3 \rightarrow A_{p+4} = 1, 5, 9, \dots \\ B_p = 3 \rightarrow B_{p+4} = -1, -5, -9, \dots \end{cases} \quad \text{① or ⑨}$$

$$\begin{cases} A_p = 9 \rightarrow A_{p+4} = -5, -1, 3, 7, 11, \dots \\ B_p = 1 \rightarrow B_{p+4} = 3, -1, -5, \dots \end{cases}$$

$$\therefore \begin{pmatrix} A_p, A_{p+1}, \dots, A_{p+4} \\ B_p, B_{p+1}, \dots, B_{p+4} \end{pmatrix} = \begin{pmatrix} -1 & 0 & 1 & 2 & 3 \\ 9 & 6 & 3 & 0 & -3 \end{pmatrix} \begin{pmatrix} -3 & 0 & 3 & 6 & 9 \\ 3 & 2 & 1 & 0 & -1 \end{pmatrix}$$

$$\begin{pmatrix} -3 & -2 & -1 & 0 & 1 \\ 3 & 0 & -3 & -6 & -9 \end{pmatrix} \begin{pmatrix} -9 & -6 & -3 & 0 & 3 \\ 1 & 0 & -1 & -2 & -3 \end{pmatrix}$$

단답형

16. $\log_3 108 - 2\log_3 2$ 의 값을 구하시오. [3점]

$$\log_3 108 - \log_3 4$$

$$= \log_3 \frac{108}{4}$$

$$= \log_3 27 = \boxed{3}$$

17. 함수 $f(x)$ 에 대하여 $f'(x) = 10x^4 + 6x^2$ 이고 $f(-1) = 3$ 일 때, $f(1)$ 의 값을 구하시오. [3점]

$$f(x) = 2x^5 + 2x^3 + C$$

$$f(-1) = -4 + C = 3$$

$$\boxed{C=7}$$

$$f(1) = 4 + C = \boxed{11}$$

$$\therefore r=3, C_8=3$$

$$d_1 > b_1 \text{ 이므로, } d_n = -3n + 29$$

$$d_n = -n + 9$$

$$d_n = -3n + 21$$

$$d_n = -n + 7$$

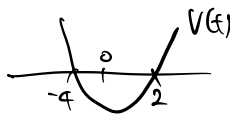
$$\therefore a_1 = 24, 8, 18, 6$$

$$24 + 6 = \boxed{30}$$

18. 수직선 위를 움직이는 P의 시각 $t(t \geq 0)$ 에서의 속도 $v(t)$ 가

$$v(t) = 6t^2 + 12t - 48$$

이다. 점 P가 시각 $t=0$ 일 때부터 움직이는 방향이 바뀔 때까지 움직인 거리를 구하시오. [3점]

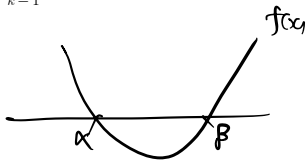
$$\begin{aligned} V(t) &= 6(t^2 + 2t - 8) \\ &= 6(t-4)(t-2) \end{aligned}$$


$$\int_0^4 |v(t)| dt = \int_0^2 -v(t) dt = \int_0^2 -6t^2 - 12t + 48 dt$$

$$= \left[-2t^3 - 6t^2 + 48t \right]_0^2 = -16 - 24 + 96 = 56$$

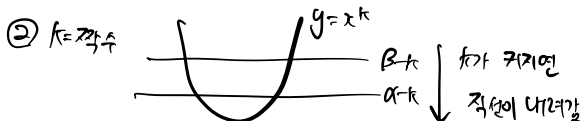
19. 최고차항의 계수가 1인 이차함수 $f(x)$ 에 대하여 방정식 $f(x^k + k) = 0$ 의 서로 다른 실근의 개수를 $g(k)$ 라 하자.

$\sum_{k=1}^6 \log_2 g(k) = 4 + \log_2 3$ 일 때, $f(1)$ 의 값을 구하시오. [3점]



$$x^k + k = \alpha, \beta \Rightarrow x^k = \alpha - k, \beta - k$$

① $k=2$ 일 때, $g(k)=2$



$\therefore k$ 가 커지면 $g(k)$ 는 $4 \rightarrow 3 \rightarrow 2 \rightarrow 1 \rightarrow 0$ 순으로 변함

$$\log_2 g(1) \cdot \dots \cdot g(6) = \log_2 2^4 \cdot 3$$

$$\therefore g(2) \cdot g(4) \cdot g(6) = 2 \cdot 3$$

$$\downarrow \quad \downarrow \quad \downarrow$$

$$3 \quad 2 \quad 1$$

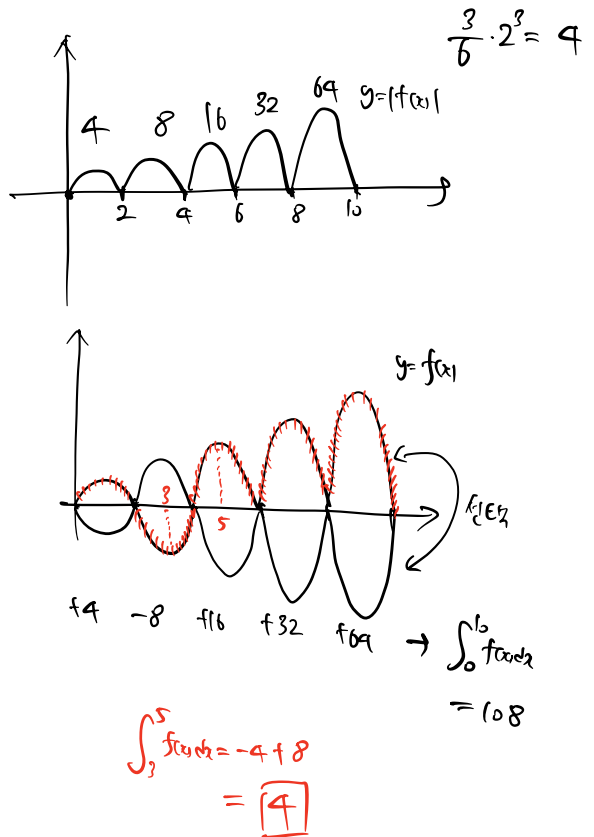
$$\hookrightarrow \alpha=2, \beta=6 \quad f(x) = (x-2)(x-6) \quad f(1) = 5$$

20. 실수 전체의 집합에서 연속인 함수 $f(x)$ 가 다음 조건을 만족시킨다.

(가) $0 \leq x < 2$ 에서 $|f(x)| = |3x(x-2)|$ 이다.

(나) 모든 실수 x 에 대하여 $2|f(x)| = |f(x+2)|$ 이다.

$\int_0^{10} f(x) dx = 108$ 일 때, $\int_3^5 f(x) dx$ 의 값을 구하시오. [4점]



21. 양의 상수 a, b ($0 < b \leq \frac{3}{2}$)에 대하여 닫힌구간 $[0, 12]$ 에서 정의된 두 함수

$$f(x) = a \sin\left(\frac{\pi}{3}x\right), g(x) = a \sin\left(\frac{\pi}{3}(x-b)\right)$$


가 있다. 실수 t 에 대하여 두 집합

$$A = \{x \mid f(x) = t\}, B = \{x \mid g(x) = t\}$$

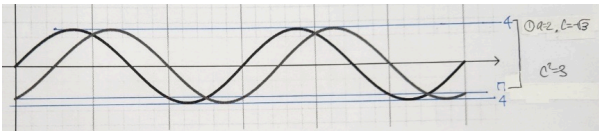
라 하자. $n(A \cup B) = h(t)$ 일 때, $h(2) + h(c) = 11$ 이다. c^2 의 값이 α 또는 β ($\alpha < \beta$)일 때, $\alpha + \beta$ 의 값을 구하시오. [4점]

$h(t) = \begin{cases} y=f(x) \\ y=g(x) \end{cases}$ 와 $y=t$ 가 만나는 서로 다른 점의 개수


① $0 < b < 1 \Rightarrow (X)$




② $b=1 \Rightarrow \alpha=2, c=-\sqrt{3}$



③ $1 < b < \frac{3}{2} \Rightarrow (X)$



④ $b = \frac{3}{2} \Rightarrow \alpha = 2\sqrt{2}, c = -2\sqrt{2}$



$\therefore c^2 = 3 \text{ or } 8$

$3 + 8 = \boxed{11}$

22. 사차함수 $f(x)$ 에 대하여 실수 전체의 집합에서 정의된 함수

$$g(x) = \lim_{t \rightarrow x} \frac{f(t) - f(x)}{(t-x)(t-2x+a)} = \lim_{t \rightarrow x} \frac{f(t) - f(x)}{t-x} \times \frac{1}{(t-2x+a)}$$

이 다음 조건을 만족시킨다.

- (가) 모든 실수 x 에 대하여 $g(x) \geq 0$ 이다.
- (나) $\{x \mid f(x) + g(x) = 5\} = \{g(a), g(a+1), g(a+k)\}$ (단, $k > 1$ 이다.)

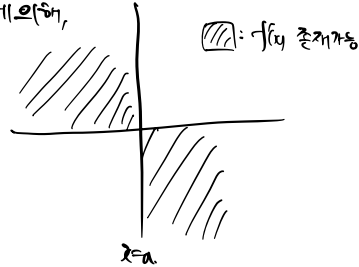
상수 k 에 대하여 $|f(3k^2)|$ 의 값을 구하시오. [4점]

$x \neq a, g(x) = f'(x) \cdot \frac{1}{a-x} \geq 0 \dots \textcircled{1}$

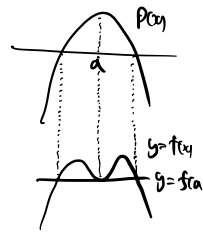
$x = a, g(x) = \lim_{t \rightarrow a} \frac{f(t) - f(a)}{(t-a)^2} = p(a) \geq 0$

$\hookrightarrow f(x) = (x-a)^2 p(x) + f(a)$

②에 의하면,



①) $p(a) > 0$ 일 경우



\hookrightarrow ②에 맞지 않음

②) $p(a) = 0$ 일 경우

$f(x) = (x-a)^2 (Ax+B) + f(a)$

②에 의하면, $f(x) = A(x-a)^2 + C$ ($C = f(a)$, $A < 0$)

$g(x)$ 을 다시 정리하면,

$x \neq a, g(x) = -4A(x-a)^2$

$x = a, g(x) = 0$

$\therefore \forall x, g(x) = -4A(x-a)^2$

$f(x) + g(x) = 5$ 의 세 실근: $x = 0, -4A, -4Ak^2$

$A(x-a)^2 - 4A(x-a)^2 + C = 5$

$\hookrightarrow x=a$ 대입

but 실근개수가 부족

$\therefore x=a$ 가 근에 포함 $\rightarrow C=5$

$A(x-a)^2 (x-a-2)(x-a+2) = 0$

$\{a-2, a, a+2\} = \{0, -4A, -4Ak^2\}$

$a=2, A=-\frac{1}{2}, k=\sqrt{2}$

$\therefore \boxed{123}$

* 확인 사항

$f(3k^2) = f(6) = -128 + 5 = -123$

○ 답안지의 해당란에 필요한 내용을 정확히 기입(표기)했는지 확인하시오.

제 2 교시

수학 영역(미적분)

홀수형

5지선다형

23. $\lim_{x \rightarrow 4} \frac{e^{x-4} - 1}{\sqrt{x} - 2}$ 의 값은? [2점]

- ① 1
- ② 2
- ③ 3
- ④ 4
- ⑤ 5

$$\begin{aligned} & \lim_{x \rightarrow 4} \frac{(e^{x-4} - 1)}{(\sqrt{x} - 2)(\sqrt{x} + 2)} \times (\sqrt{x} + 2) \\ &= \lim_{x \rightarrow 4} \frac{e^{x-4} - 1}{x-4} \times (\sqrt{x} + 2) \\ &= 2 + 2 = 4 \end{aligned}$$

24. 곡선 $y = x^3 + 6 \ln x$ 의 변곡점에서의 접선의 기울기는? [3점]

- ① 6
- ② 7
- ③ 8
- ④ 9
- ⑤ 10

$$y' = 3x^2 + \frac{6}{x}$$

$$y'' = 6x + \frac{-6}{x^2} \Rightarrow (1, 9)$$

$$y'_{x=1} = 9$$

25. $\lim_{n \rightarrow \infty} \frac{1}{n} \sum_{k=1}^n \left(\frac{\pi k}{2n} + 1 \right) \cos \left(\frac{\pi k}{2n} \right)$ 의 값은? [3점]

- 1 2 3 4 5

$$\frac{\pi k}{2n} = x_k, \quad \Delta x_k = \frac{\pi}{2n}$$

$$\lim_{n \rightarrow \infty} \frac{1}{n} \sum_{k=1}^n \left(\frac{\pi k}{2n} + 1 \right) \cdot \cos \frac{\pi k}{2n}$$

$$= \lim_{n \rightarrow \infty} \frac{2}{\pi} - \Delta x_k \sum_{k=1}^n (x_k + 1) \cdot \cos x_k$$

$$= \frac{2}{\pi} \int_0^{\frac{\pi}{2}} (x+1) \cos x \, dx$$

$$= \frac{2}{\pi} \left[(x+1) \sin x + \cos x \right]_0^{\frac{\pi}{2}}$$

$$= \frac{2}{\pi} \left(\frac{\pi}{2} + 1 + 0 - 1 \right)$$

$$= \boxed{1}$$

26. 좌표평면 위를 움직이는 점 P의 시간 $t (t \geq 0)$ 에서의 위치 (x, y) 가

$$x = 2t + \cos t, \quad y = \sin t$$

이다. 점 P의 속력의 최댓값을 M , 최솟값을 m 이라 할 때, $M+m$ 의 값은? [3점]

- 1 2 3 4 5 6

$$\frac{dx}{dt} = 2 - \sin t$$

$$\frac{dy}{dt} = \cos t$$

$$|\vec{v}| = \sqrt{(2 - \sin t)^2 + (\cos t)^2}$$

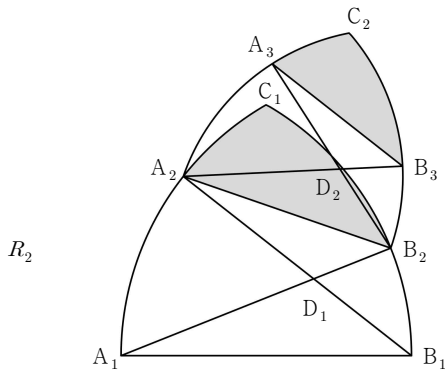
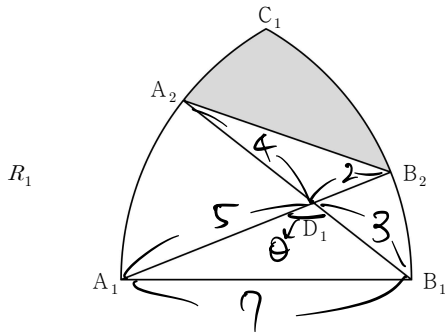
$$= \sqrt{5 - 4 \sin t}$$

$$\therefore M = \sqrt{9} = 3$$

$$m = \sqrt{5-4} = 1$$

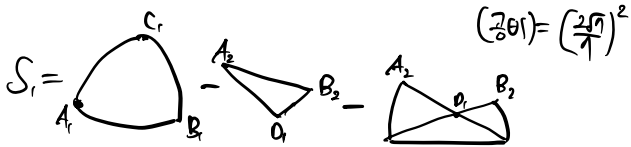
$$M+m = \boxed{4}$$

27. 그림과 같이 길이가 7인 선분 A_1B_1 을 반지름으로 하고 중심이 각각 A_1, B_1 인 두 원이 만나는 점 중 한 점을 C_1 이라 하자. 호 A_1C_1 위의 점 A_2 , 호 B_1C_1 위의 점 B_2 에 대하여 두 선분 A_1B_2, A_2B_1 이 만나는 점을 D_1 이라 하자. $\overline{A_1D_1}=5, \overline{D_1B_1}=3$ 일 때, 선분 A_2B_2 와 두 호 A_2C_1, C_1B_2 로 둘러싸인 \triangle 모양의 도형에 색칠하여 얻은 그림을 R_1 이라 하자. 그림 R_1 에서 $\overline{A_2B_2} : \overline{A_2D_2} : \overline{D_2B_2} = 7 : 5 : 3$ 이 되도록 점 D_2 를 잡자. 그림 R_1 를 얻은 것과 같은 방법으로 세 점 A_3, B_3, C_2 를 잡고 두 호 A_2C_2, B_2C_2 를 그린 후 \triangle 모양의 도형에 색칠하여 얻은 그림을 R_2 라 하자. 이와 같은 과정을 계속하여 n 번째 얻은 그림 R_n 에 색칠되어 있는 부분의 넓이를 S_n 이라 할 때, $\lim_{n \rightarrow \infty} S_n$ 의 값은? [3점]



- ① $\frac{35}{6}(\frac{7}{3}\pi - 2\sqrt{3})$ ② $\frac{35}{6}(\frac{7}{3}\pi - 3\sqrt{3})$ ③ $\frac{49}{6}(\frac{7}{3}\pi - \sqrt{3})$
 ④ $\frac{49}{6}(\frac{7}{3}\pi - 2\sqrt{3})$ ⑤ $\frac{49}{6}(\frac{7}{3}\pi - 3\sqrt{3})$ ⑤

$$\cos \theta = \frac{5^2 + 3^2 - 7^2}{2 \times 5 \times 3} = -\frac{1}{2}, \quad \theta = \frac{2}{3}\pi \rightsquigarrow \overline{A_2B_2} = 2\sqrt{3}$$



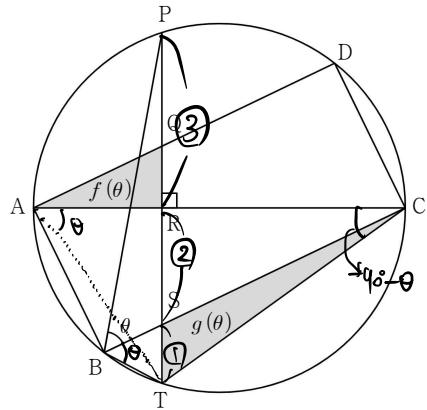
$$S_1 = \frac{49}{6}\pi + \frac{1}{2} \cdot 7 \cdot \left(\frac{\pi}{3} - \frac{\sqrt{3}}{2}\right) - \frac{1}{2} \cdot 7 \cdot 2\sqrt{3}$$

$$= \frac{49}{6}\pi - \frac{2\sqrt{3}}{2}$$

$$\therefore \lim_{n \rightarrow \infty} S_n = \frac{\frac{49}{6}\pi - \frac{2\sqrt{3}}{2}}{1 - \left(\frac{2\sqrt{3}}{7}\right)^2} = \frac{49}{6} \left(\frac{2}{3}\pi - 3\sqrt{3}\right)$$

28. 그림과 같이 반지름의 길이가 1인 원에 내접하는 직사각형 ABCD가 있다. 호 AD 위의 점 P를 지나고 선분 AC에 수직인 직선과 세 선분 AD, AC, BC, 원이 만나는 점을 각각 Q, R, S, T라 하자. $\overline{TB} : \overline{BP} = 1 : 5$ 이고 $\angle CBP = \theta$ 일 때, 삼각형 QAR의 넓이를 $f(\theta)$, 삼각형 CST의 넓이를 $g(\theta)$ 라 하자.

$$\lim_{\theta \rightarrow 0} \frac{g(\theta)}{\theta^4 \times f(\theta)} = k \text{ 일 때, } k \text{의 값은? [4점]}$$



- ① $\frac{1}{4}$ ② $\frac{1}{2}$ ③ $\frac{3}{4}$ ④ 1 ⑤ $\frac{5}{4}$

$$\overline{PC} = \overline{TC} \Rightarrow \angle PBC = \angle CBT \text{ (원주각)}$$

$$\overline{PR} = \overline{RT} \text{ \& } \overline{TB} : \overline{BP} = \overline{TS} : \overline{SP} = 1 : 5 \text{ 이므로}$$

$$\overline{TS} : \overline{SR} : \overline{RP} = 1 : 2 : 3$$

$$\triangle AQR \sim \triangle SCR \Rightarrow \frac{\Delta RSC}{f(\theta)} = \left(\frac{\overline{RC}}{\overline{AR}}\right)^2$$

$$\frac{g(\theta)}{\Delta RSC} = \frac{1}{2}$$

$$\frac{g(\theta)}{f(\theta)} = \frac{1}{2} \times \left(\frac{\overline{RC}}{\overline{AR}}\right)^2$$

$$\overline{TC} = 2\sin\theta$$

$$\overline{RC} = 2\sin^2\theta$$

$$\overline{AR} = 2 - 2\sin^2\theta$$

$$\lim_{\theta \rightarrow 0} \frac{g(\theta)}{\theta^4 \times f(\theta)} = \lim_{\theta \rightarrow 0} \frac{1}{\theta^4} \times \frac{1}{2} \times \left(\frac{2\sin^2\theta}{2 - 2\sin^2\theta}\right)^2$$

$$= \lim_{\theta \rightarrow 0} \frac{1}{2\theta^4} \times \frac{\sin^4\theta}{(\cos^2\theta)^2}$$

$$= \frac{1}{2}$$

단답형

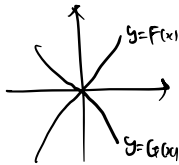
29. 실수 전체의 집합에서 미분가능한 두 함수 $f(x), g(x)$ 가 다음 조건을 만족시킨다.

- (가) 모든 실수 x 에 대하여 $f(x) > 0, g(x) < 0$ 이다.
- (나) $f(0) + g(0) = 0, f(3) = e^{27}, g(3) = -\frac{1}{2}$
- (다) 모든 실수 x 에 대하여 $f(x) \int_0^x g(t)dt - g(x) \int_0^x f(t)dt = 3x^2 \left(\int_0^x f(t)dt \right) \left(\int_0^x g(t)dt \right)$ 이다.

$\int_0^3 f(t)dt = k$ 일 때, $\ln k = a - \ln b$ 이다. $a+b$ 의 값을 구하시오. (단, a 와 b 는 자연수이다.) [4점]

$\int_0^x f(t)dt = F(x), \int_0^x g(t)dt = G(x)$ 라고 하자.

$F'(x) = f(x) > 0, G'(x) = g(x) < 0, F(0) = G(0) = 0$ 이므로,



(다)에서 $f(x)G(x) - g(x)F(x) = 3x^2 F(x)G(x)$
 $\frac{f(x)}{F(x)} - \frac{g(x)}{G(x)} = 3x^2 \quad (x \neq 0)$

양변을 적분하면,

$\ln |f(x)| - \ln |g(x)| = x^3 + c \quad (x \neq 0)$

$\ln \left| \frac{f(x)}{g(x)} \right| = x^3 + c \quad (x \neq 0)$

①..... $\frac{f(x)}{g(x)} = -e^{x^3+c} \quad (x \neq 0) \quad (\because \frac{f(x)}{g(x)} < 0)$

$x \rightarrow 0^+$ 은 0^+ 이므로,

$\lim_{x \rightarrow 0^+} \frac{f(x)}{g(x)} = \lim_{x \rightarrow 0^+} \frac{f(x)-f(0)}{g(x)-g(0)} = \frac{F'(0)}{G'(0)} = \frac{f(0)}{g(0)} = -e^c$

$\therefore e^c = 1, c = 0$

①에 $x=3$ 대입 $\rightarrow F(3) = -e^{27} G(3)$

(다)에 $x=3$ 대입 $\rightarrow e^{27} G(3) + \frac{1}{2} F(3) = 27 F(3) G(3)$

연립하면, $F(3) = \frac{e^{27}}{54} = k$

$\therefore \ln k = 27 - \ln 54 \quad 27 + 54 = \boxed{81}$

30. 함수 $f(x) = |2x^2 - 3x - 5|e^x - k|x+1|$ 가 다음 조건을 만족시킨다.

함수 $|f(x)|$ 가 세 점에서 미분가능하지 않도록 하는 0이 아닌 실수 k 의 집합은 $\{k | k = c_1, k \geq c_2\}$ 이다. (단, $c_1 < c_2$)

$c_1 \times c_2 = pe^q$ 일 때, $2(p+q)$ 의 값을 구하시오. (단, p 와 q 는 유리수이다.) [4점]

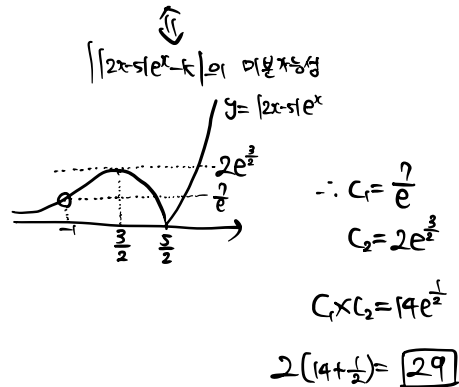
$|f(x)|$ 의 미분가능성 판단

㉠ $x = -1$
 $\lim_{x \rightarrow -1} \frac{|x+1| |2x^2 - 3x - 5| e^x - k|x+1|}{(x+1)}$
 $k = \frac{7}{2} \rightarrow x = -1$ 에서 미분가능
 $k \neq \frac{7}{2} \rightarrow x = -1$ 에서 미분불가

㉡ $x \neq -1$

$|f(x)| = |x+1| \times |2x^2 - 3x - 5| e^x - k|x+1|$
 $x \neq -1$ 에서 미분가능성에 영향 X

$\therefore x \neq -1$ 에서의 $|f(x)|$ 의 미분가능성



* 확인 사항

○ 답안지의 해당란에 필요한 내용을 정확히 기입(표기)했는지 확인 하시오.