



테마별 **기출** 분석집

STORY 2. 정적분으로 정의된 함수



02

정적분으로 정의된 함수

어차피 수II에서는 '다항함수'일 테니까 겁먹지 말자!

 STYLE
 01

어차피 다항함수거든! - 정적분에 대한 허상을 깨자

소위 많은 '허수' 학생들은 휘황찬란한 기호들에 많이 위축되곤 하지.

그중에 제일이 인테그랄, 즉 $\int \leftarrow$ 이 녀석이란 말이야.

하지만, 피적분함수가 다항함수라면, 또 적분구간이 x 에 대한 함수라면,
정적분한 결과도 x 에 대한 다항함수이지 않을까?

[2024학년도 6월 모의평가 20번]

최고차항의 계수가 1인 이차함수 $f(x)$ 에 대하여 함수

$$g(x) = \int_0^x f(t)dt$$

가 다음 조건을 만족시킬 때, $f(9)$ 의 값을 구하시오. [4점]

$x \geq 1$ 인 모든 실수 x 에 대하여
 $g(x) \geq g(4)$ 이고 $|g(x)| \geq |g(3)|$ 이다.

우리만의 실전 풀이

THINKING!

미적분을 학습한 학생이라면 오히려 피적분함수 $f(x)$ 에 대한 조건을 보지 못하고 먼 길을 헤맬 수 있어. 하지만 $f(x)$ 에 대한 식을 아주 직접적으로 제시하였기 때문에 함수 $g(x)$ 의 그래프 개형을 생각할 수 있지.

잠깐, 그 전에! $\int_0^x f(t)dt = F(x) - F(0)$ 라는 걸 모르진 않을 거라 믿을게..?

그래서, 사실 **정적분으로 주어졌지만, 적분상수가 정해진 부정적분으로 봐도 전혀 상관이 없어.**

즉, 정리하면 정적분으로 정의되어있는 함수 $g(x)$ 는 **피적분함수 $f(x)$ 의 부정적분과 밀접한 관련이 있음**을 머릿속에 탑재할 필요가 있다 이 말이야.

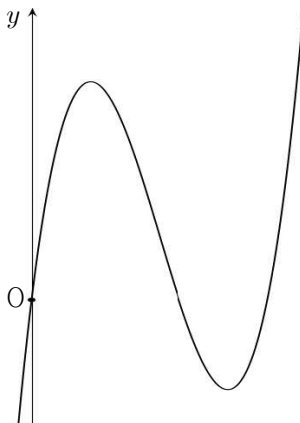
STEP 1 우리는 피적분함수를 알고 있다!

우리는 앞에서 함수 $g(x)$ 가 $f(x)$ 의 부정적분과 밀접한 관련이 있음을 깨달았어.

그런데 $f(x)$ 가 최고차항의 계수가 1인 이차함수이니, 그 부정적분은 최고차항의 계수가 $\frac{1}{3}$ 인 삼차함수겠네?

그리고 가장 기본적인 정적분 함수의 덕목, **‘윗끝과 아랫끝이 같으면 정적분값이 0이다’** 라는 조건을 잊어서는 안되겠지? 따라서 우리는 **원점을 지나고, 최고차항의 계수가 양수인 삼차함수 그래프**를 떠올려야 해.

이는 함수 $f(x)$ 의 부정적분 중 하나가 되겠지.



STEP 2 뭐야, 그냥 다항함수 추론이잖아?

우리는 결과적으로 피적분함수 $f(x)$ 의 식을 구한 다음, $x=9$ 를 대입하여 $f(9)$ 라는 값을 구하려 해.

그런데, 함수 $g(x)$ 의 식을 구해야 할까? 필요 없지. 왜냐?

함수 $g(x)$ 를 미분하면 함수 $f(x)$ 가 나온다는 것을 익히 알고 있거든!

또, $f(x)$ 와 $g(x)$ 는 모두 다항함수이기 때문에 다음이 성립해.

“ $g(x)$ 가 $x=\alpha$ 에서 극값을 가지면 $f(x)$ 는 $(x-\alpha)$ 를 인수로 갖는다.”

아! 그렇다면 $g(x)$ 가 극값을 갖는 x 값 두 개를 찾아서 이를 $f(x)$ 의 식을 구하는 데 사용하면 되겠네.
 우리는 삼차함수를 다룰 때 다음 경우의 수를 살피곤 하지.

- 1) 함수가 x 축에 접하지는 않는가(= 중근 or 삼중근을 갖지는 않는가)?
- 2) 함수가 x 축 위의 점 $(a, 0)$ 에 대해 대칭이지 않은가?
- 3) 극점이 특수하지 않은가?

이 셋 중에서, 위 두 가지 경우의 수 1)과 2)가 아니면 숫자가 다소 더러워져서
 위 두 경우가 아닌 문항은 잘 내지 않아. (230922라는 반례가 존재하나, 이 역시 3)의 경우의 수에 해당)
 그런데 이 문항에서 네모 박스의 조건을 봤을 때 다소 당황스러울 수 있어.

$x \geq 1$ 인 모든 실수 x 에 대하여
 $g(x) \geq g(4)$ 이고 $|g(x)| \geq |g(3)|$ 이다.

일단 $g(x) \geq g(4)$ 라고 하니, 함수 $g(x)$ 가 $x = 4$ 에서 극솟값을 가지겠지?

그런데 ' $|g(x)| \geq |g(3)|$ '라는 조건을 어찌 해석해야 할까?

빠르게 1)번 2)번을 검토해봤을 때 두 경우 모두 불가능하다는 것이 느껴질거야.

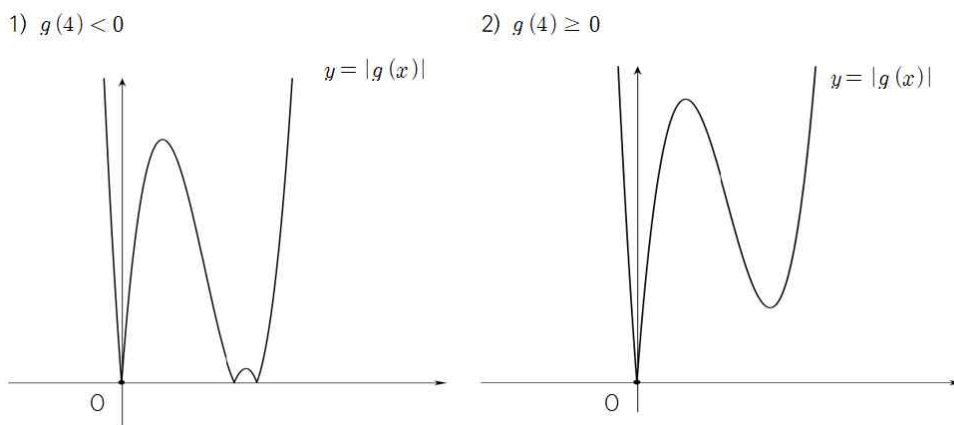
그렇다고 3)을 생각하기에는 절댓값 조건이 더 매력적인 것 같아.

절댓값 함수를 어려워하는 친구들도 꽤 많을거야. 하지만 $|g(x)|$ 를 그리는건 어렵지 않아.

다음 절차만 밟으면 되거든!

“0보다 작으면 들어올리고, 크면 놔둬라.”

또, 우리가 알아냈던 ‘함수 $g(x)$ 가 원점을 지난다’는 성질을 이용해 다음과 같이
 두 개의 $g(x)$ 그래프를 생각해볼 수 있어.



2)의 경우 $|g(3)| > |g(4)|$ 이므로 탈락,

따라서 1)번이면서 동시에 $|g(3)| = 0$ 이어야만 $x \geq 1$ 인 모든 실수 x 에 대하여

$|g(x)| \geq |g(3)|$ 임을 확인할 수 있어!



STEP 3 알아둔 모든 단서를 정리하고, 계산하자

우리는 다음 사실을 알아냈어.

$$g(0) = g(3) = 0, \quad g'(4) = f(4) = 0$$

이때, $x = a$ 에서 함수 $g(x)$ 가 극대일 때,

$$f(x) = (x-a)(x-4) = x^2 - (4+a)x + 4a \text{임을 알 수 있어.}$$

$$\text{즉, 함수 } g(x) = \frac{1}{3}x^3 - \frac{4+a}{2}x^2 + 4ax \text{이고,}$$

$$g(3) = 9 - \frac{36+9a}{2} + 12a = 0 \text{이므로 } a = \frac{6}{5}$$

$$\text{따라서 } f(9) = \left(9 - \frac{6}{5}\right) \times 5 = 39 \text{임을 알 수 있어!}$$

다음 내용을 머릿속에 반드시 넣어두고, 앞으로 나오면 **당황하지 말고 차근차근** 해석해보자.

“다항함수 $f(x)$ 에 대하여 정적분으로 정의된 함수 $\int_a^x f(t)dt$ 는 $f(x)$ 의 부정적분이다.”

★ STYLE01 부록 - 절댓값함수와 차의 함수의 해석

학생들을 어렵게 하려면 별것 없다. '절댓값'을 붙이면 체감 난도 50% 상승!!!
거기에 '차의 함수' 이야기까지 더하면?

EX 1

$y = |f(x)|$ 의 형태 - 2023학년도 7월 학력평가 20번

실수 $t \left(\sqrt{3} < t < \frac{13}{4} \right)$ 에 대하여 두 함수

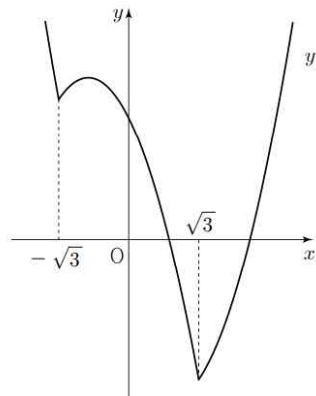
$$f(x) = |x^2 - 3| - 2x, \quad g(x) = -x + t$$

의 그래프가 만나는 서로 다른 네 점의 x 좌표를 작은 수부터 크기 순으로 x_1, x_2, x_3, x_4 라 하자.
 $x_4 - x_1 = 5$ 일 때, 닫힌구간 $[x_3, x_4]$ 에서 두 함수 $y = f(x), y = g(x)$ 의 그래프로 둘러싸인 부분의
넓이는 $p - q\sqrt{3}$ 이다. $p \times q$ 의 값을 구하시오. (단, p, q 는 유리수이다.)

$f(x)$ 의 그래프를 여기에서 어떻게 해석해야 할까?

그냥 $f(x) = |x^2 - 3|$ 이기만 했다면 모르겠는데 거기에 $-2x$ 까지 붙어버리니 생각하기가 쉽지 않아.
하지만, 이렇게 생각할 수 있어.

“ $f(x) + l(x)$ 꼴의 함수는 $l(x)$ 를 축으로 하는 또다른 함수 $g(x)$ 로 생각할 수 있다”

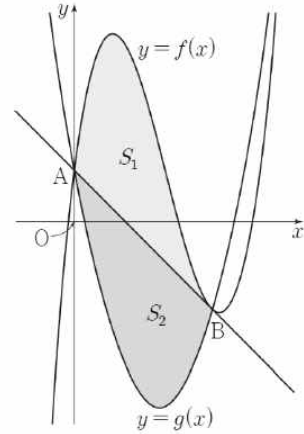


$y = f(x)$ 원래 $y = |x^2 - 3|$ 은 'x축과' $x = \pm \sqrt{3}$ 에서 만나는 곡선이지만,
거기에 $-2x$ 라는 또다른 식이 붙으면
이는 ' $y = -2x$ '와 $x = \pm \sqrt{3}$ 에서 만나는 곡선이 되겠지?
그렇기 때문에 그래프가 x축이 아닌,
 $y = -2x$ 를 기준으로 이보다 밑에 있으면 위로 들어 올리는
꼴의 형태로 그려져 있어.

EX 2

차의 함수 해석하기 - 2023학년도 4월(5월 시행) 학력평가 12번

그림과 같이 삼차함수 $f(x) = x^3 - 6x^2 + 8x + 1$ 의 그래프와 최고차항의 계수가 양수인 이차함수 $y = g(x)$ 의 그래프가 점 $A(0, 1)$, 점 $B(k, f(k))$ 에서 만나고, 곡선 $y = f(x)$ 위의 점 B에서의 접선이 점 A를 지난다. 곡선 $y = f(x)$ 와 직선 AB로 둘러싸인 부분의 넓이를 S_1 , 곡선 $y = g(x)$ 와 직선 AB로 둘러싸인 부분의 넓이를 S_2 라 하자.



$S_1 = S_2$ 일 때, $\int_0^k g(x)dx$ 의 값은? (단, $k > 0$)

특히나, 어떤 곡선이 있고 이에 접하거나 만나는 직선이 있으면
그 직선을 축으로 하는 새로운 곡선의 방정식을 떠올리는 것이 매우 좋아.

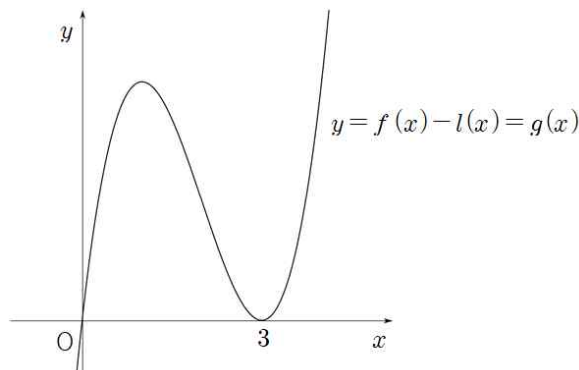
직선 AB의 방정식을 $y = l(x)$ 라 하면,

$f(x) - l(x) = x^3 - 6x^2 + ax + b$ 이므로 세 근의 합이 6이고,

점 B의 x좌표인 k가 중근이므로 $k = 3$ 이야.

따라서 함수 $f(x)$ 의 그래프를 **직선 $l(x)$ 가 x축이 되는 평면에 그리면** 다음과 같이 달라지지.

이 그래프를 함수 $g(x)$ 라고 해보자.



직선 $l(x)$ 를 축으로 하기로 했으니 **새로운 함수 $g(x)$ 의 실근은 $f(x)$ 와 $l(x)$ 의 교점의 x좌표와 같아.**

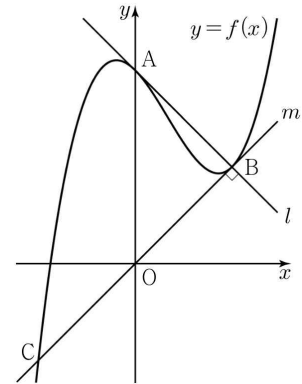
즉, 방정식 $f(x) = l(x)$ 의 실근과 같으므로 $g(x) = f(x) - l(x)$ 로 나타낼 수 있으며,

이를 흔히 **차의 함수**라고 부르기도 하지.

이렇게 차의 함수를 이용해 그래프를 생각해본다면, S_1 과 S_2 를 훨씬 수월하게 구할 수 있겠지?

- 2016학년도 사관학교 A형 21번

최고차항의 계수가 1인 삼차함수 $f(x)$ 에 대하여 곡선 $y=f(x)$ 가 y 축과 만나는 점을 A라 하자. 곡선 $y=f(x)$ 위의 점 A에서의 접선을 l 이라 할 때, 직선 l 이 곡선 $y=f(x)$ 와 만나는 점 중에서 A가 아닌 점을 B라 하자. 또, 곡선 $y=f(x)$ 위의 점 B에서의 접선을 m 이라 할 때, 직선 m 이 곡선 $y=f(x)$ 와 만나는 점 중에서 B가 아닌 점을 C라 하자. 두 직선 l, m 이 서로 수직이고 직선 m 의 방정식이 $y=x$ 일 때, 곡선 $y=f(x)$ 위의 점 C에서의 접선의 기울기는?
(단, $f(0) > 0$ 이다.)



“ $g(x)+l(x)$ 꼴의 함수는 $l(x)$ 를 축으로 하는 또다른 함수로 생각할 수 있다”

이 말은 기억나지? 위 그래프에서 $f(x)$ 와 직선 m (즉, $y=x$)이 만나는 교점의 x 좌표를 x 좌표가 작은 것부터 α, β 라 할 때 $f(x) = (x-\alpha)(x-\beta)^2 + x$ 라고 나타낼 수 있는 이유를 이제 알겠니?
 $l(x) = x, g(x) = (x-\alpha)(x-\beta)^2$ 라 할 때, $g(x)+l(x)$ 는 x 축이 아닌, ‘ $l(x)$ ’와의 교점이 α 와 β 인 삼차함수라는 것을 이용하여 위 그림과 같이 나타낼 수 있어.

- 2015학년도 수능 A형 21번

다음 조건을 만족시키는 모든 삼차함수 $f(x)$ 에 대하여 $f(2)$ 의 최솟값은?

- (가) $f(x)$ 의 최고차항의 계수는 1이다.
- (나) $f(0) = f'(0)$
- (다) $x \geq -1$ 인 모든 실수 x 에 대하여 $f(x) \geq f'(x)$ 이다.

(나)와 (다)에서 모두 $f(x)$ 와 $f'(x)$ 사이의 식을 다루고 있어서, 함수 $f(x)-f'(x)$ 를 한꺼번에 다룰 수 있을 것 같아.
그런데 $f(0)-f'(0) = 0$ 이고, $x \geq -1$ 일 때 $f(x)-f'(x) \geq 0$ 이므로 함수 $f(x)-f'(x)$ 는 $x=0$ 에서 접함을 알 수 있어.

이와 같이, ‘차(-)’의 형태로 나타내어진 함수를 봤을 때, 당황하지 말고 ‘이 역시 (다항)함수이니’라는 생각을 가지며 차근차근 해나가야 할 것을 하자!

특히, 방정식 $f(x)=g(x)$ 의 실근은 함수 $y=f(x)-g(x)$ 의 그래프의 x 절편과 같으며, 방정식 $f(x)=g(x)$ 가 중근을 갖거나, 삼중근을 가지면 함수 $y=f(x)-g(x)$ 의 그래프 역시 x 축에 접하는 양상이 같다는 것을 반드시 알아두어야 해!

STYLE
 02

정적분으로 정의된 함수와 x 축 - 윗끝, 아랫끝이 같으면 0

STYLE01과 이어지는 면이 없지 않아 있으나, 정적분으로 정의된 함수의 개형을 살펴볼 때 중요한 덕목!
 [수학II]에서는 일반적인 함수를 다루려야 다룰 수가 없어!

아무리 복잡해야 구간별로 정의된 다항함수에 불과하지...

다항함수는 직접 그려서 볼 수 있으니까, 직접 그리다 보면 x 축을 어디에 두어야 할 지 길을 잃기도 해.
 가장 기본적인 덕목을 잊은 채...

[2022학년도 10월 학력평가 14번]

최고차항의 계수가 1인 삼차함수 $f(x)$ 와 실수 t 에 대하여 x 에 대한 방정식

$$\int_t^x f(s) ds = 0$$

의 서로 다른 실근의 개수를 $g(t)$ 라 할 때, <보기>에서 옳은 것만을 있는 대로 고른 것은? [4점]

< 보기 >

- ㄱ. $f(x) = x^2(x-1)$ 일 때, $g(1) = 1$ 이다.
- ㄴ. 방정식 $f(x) = 0$ 의 서로 다른 실근의 개수가 3이면 $g(a) = 3$ 인 실수 a 가 존재한다.
- ㄷ. $\lim_{t \rightarrow b} g(t) + g(b) = 6$ 을 만족시키는 실수 b 의 값이 0과 3뿐이면 $f(4) = 12$ 이다.

① ㄱ

② ㄱ, ㄴ

③ ㄱ, ㄷ

④ ㄴ, ㄷ

⑤ ㄱ, ㄴ, ㄷ

우리만의 실전 풀이

THINKING!

주어진 식에 문자가 너무 많아서 1차 당황. $x, t, s \dots$ 애네들을 도대체 어떻게 써야 할까?

가장 중요한 것은 $\int_t^x f(s)ds$ 가 ' **x 에 대한 함수**'라는 것을 잊어선 안 돼.

t 는 어떤 상수를 의미한다고 발문에 나와 있거든!

그리고 STYLE 01에서 봤듯이, 피적분함수 $f(x)$ 가 다항함수이면 $\int_a^x f(t)dt$ 는 $f(x)$ 의 부정적분,

즉, **사차함수**다 이 말이야. 이때부터 이 문제는 **사차함수의 그래프 개형을 추론**하는 문제로 바뀌어버리지!

STEP 1 거저주는 \neg 에서 함수의 조건을 생각해보자.

14번 문항을 풀 때는 항상 \neg 을 보면서 조건으로 주어진 함수를 해석하는 연습을 해야 해.

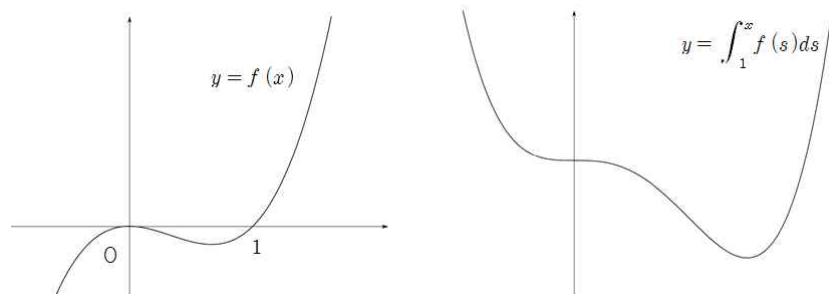
방정식 $\int_t^x f(s)ds = 0$ 의 서로 다른 실근의 개수를 $g(t)$ 라고 해보자.

그런데, 우리는 $\int_t^x f(s)ds$ 가 x 에 대한 사차함수임을 알아냈으므로, 다음과 같이 바꿔 해석할 수 있지.

“사차함수가 x 축과 만나는 교점의 개수를 $g(t)$ 라 하자.”

“ $f(x) = x^2(x-1)$ 일 때, $g(1) = 1$ 이다.”라는 발문을 보고 $t = 1$ 이라는 것은 눈치챌 수 있어.

일단 $f(x)$ 의 부정적분 그래프를 먼저 그려보자.



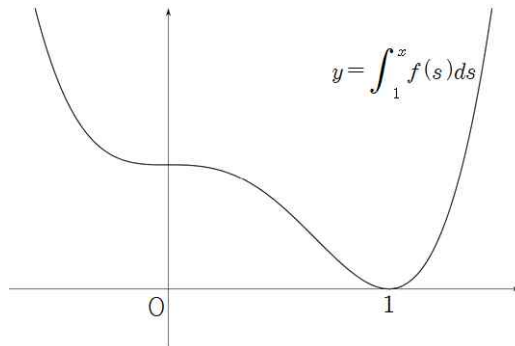
$f(x)$ 의 부정적분은 상수항이 결정되지 않으므로 오른쪽 그림에는 x 축을 그리지 않았어.

그런데, STYLE 01에서 했던 이야기, 기억하고 있지?

$\int_1^x f(s)ds$ 는 **정적분으로 주어졌지만, 적분상수가 정해진 부정적분으로 봐도 전혀 상관이 없어.**

왜냐하면 $x = 1$ 에서 함수값이 0이거든!

따라서 $\int_1^x f(s) ds$ 의 그래프는 다음과 같이 그려지겠지?



요약하자면, 앞으로 $y = \int_t^x f(s) ds$ 꼴의 함수를 그릴 때에는 다음과 같이 그리기!

- 1) $f(x)$ 의 부정적분 $F(x)$ 의 그래프를 그린다.
- 2) 직선 $y = F(t)$ 를 그린다.
- 3) 직선 $y = F(t)$ 를 x 축으로 잡는다. 그럼 끝!




STEP 2 L은 c으로 가는 표지판 - 여전히 정적분으로 정의된 함수를 해석하며...

방정식 $f(x)=0$ 의 서로 다른 실근의 개수가 3이도록 하는 $f(x)$ 의 그래프 개형은 다음 3가지 경우가 있어.

- i) |극댓값| > |극솟값| ii) |극댓값| < |극솟값| iii) |극댓값| = |극솟값|

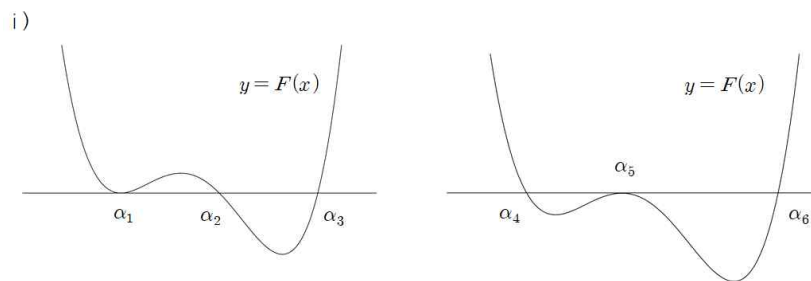
i), ii), iii) 각각에 대하여 다음과 같은 부정적분 $F(x)$ 의 그래프가 그려져.



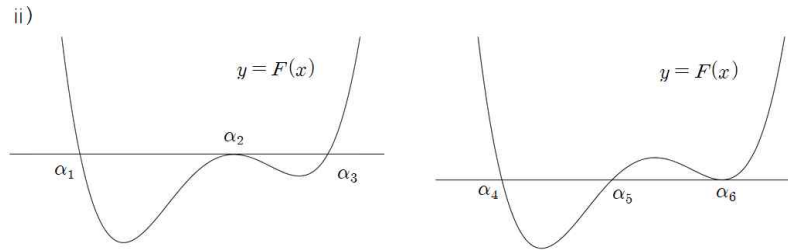
이 그래프들이 x 축과 3개의 점에서 만나도록 하는 t 의 값이 존재하는지를 알아보면 돼.

그런데, 직선 $y = F(t)$ 를 x 축으로 잡으면 만사 OK!

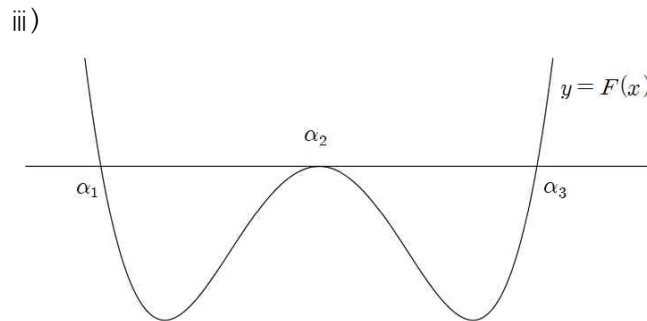
각 케이스 별로 $g(t) = 3$ 이도록 하는 경우가 존재하는지 알아보면 다음과 같아.



t 의 값은 α_1 이든, α_2 이든, \dots , α_6 이든 전혀 상관없어.
 $F(\alpha_1) = F(\alpha_2) = F(\alpha_3)$ 이고, $F(\alpha_4) = F(\alpha_5) = F(\alpha_6)$ 이니까.



t 의 값은 α_1 이든, α_2 이든, \dots , α_6 이든 전혀 상관없어.
 $F(\alpha_1) = F(\alpha_2) = F(\alpha_3)$ 이고, $F(\alpha_4) = F(\alpha_5) = F(\alpha_6)$ 이니까.



역시 마찬가지로 t 의 값은 α_1 이든, α_2 이든, α_3 이든 상관 없어.
 $F(\alpha_1) = F(\alpha_2) = F(\alpha_3)$ 이니까! 따라서 \perp 은 참이라고 할 수 있겠지?
 a 가 각 케이스 별로 3개(i, ii의 경우 6개) 씩이나 있으니 말이야.



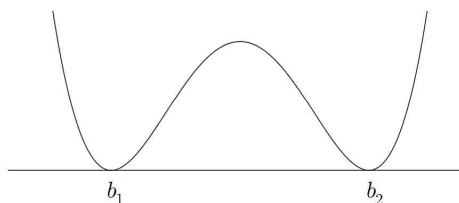
STEP 3 하이라이트 \perp 은 \perp 의 도움을 받아서!

$\lim_{t \rightarrow b} g(t) + g(b) = 6$ 이기 위해서는 $g(b)$ 와 $\lim_{t \rightarrow b} g(t)$ 중 하나가 4이거나 둘 모두가 3이어야 해.

그런데 $g(x)$ 는 사차함수이므로 \perp 에서 본 3가지 케이스 이외에는 두 값 중 하나가 3 이상일 수 없어.
 따라서 b 의 값을 움직이면서 그래프와 축의 교점의 개수를 살펴보자.

STEP 1의 마지막 내용을 제대로 이해했다면 어렵지 않게 생각해볼 수 있어.

아래의 경우 이외에는 $\lim_{t \rightarrow b} g(t) + g(b) = 6$ 인 경우가 존재하지 않아.



t 가 b_1 혹은 b_2 보다 조금 작거나 클 때에는 $y = F(t)$ 가 $y = F(x)$ 와 서로 다른 네 개의 점에서 만나.

즉, $g(t) = 4$ 이란 소리지.

하지만 $g(b_1) = g(b_2) = 2$ 이므로 $\lim_{t \rightarrow b_1} g(t) + g(b_1) = \lim_{t \rightarrow b_2} g(t) + g(b_2) = 6$ 이야.

이때 $b_1 = 0$, $b_2 = 3$ 이라 하면 $g(x)$ 가 $x = \frac{3}{2}$ 에 대해 대칭이므로 $f(x) = x \left(x - \frac{3}{2} \right) (x - 3)$ 이고,

따라서 $f(4) = 4 \times \frac{5}{2} \times 1 = 10$ 임을 알 수 있어!

다음 내용을 머릿속에 반드시 넣어두고, 앞으로 나오면 **당황하지 말고 차근차근** 해석해보자.

“다항함수 $f(x)$ 에 대하여 정적분으로 정의된 함수 $\int_a^x f(t)dt$ 는 $x = a$ 일 때 x 축과 만난다.”

★ STYLE02 부록 - 도함수의 대칭성과 원시함수의 대칭성

미분가능한 함수 $f(x)$ 에 대하여 다음이 성립한다.

- ① $f(a+x) = f(a-x)$ 이면 함수 $f(x)$ 는 $x = a$ 에 대하여 대칭이다.
- ② $f(a+x) + f(a-x) = 2b$ 이면 함수 $f(x)$ 는 점 (a, b) 에 대하여 대칭이다,

①, ②번의 경우, 도함수 $f'(x)$ 은 어떤 성질을 가질까?

1. 미분가능한 함수 $f(x)$ 에 대하여 $f(x)$ 가 $x = a$ 에 대하여 대칭이면 $f'(a) = 0$ 이다.

또, $x = a+h$ 일 때와 $x = a-h$ 일 때 증가/감소하는 경향성이 정확히 정반대여야 한다.

이는 '도함수의 부호가 반대'라는 이야기와 같으므로, $f'(a+x) = -f'(a-x)$ 이다.

즉, 함수 $f(x)$ 가 $x = a$ 에 대하여 대칭이면 도함수 $f'(x)$ 은 점 $(a, 0)$ 에 대하여 대칭이다.

2. 미분가능한 함수 $f(x)$ 에 대하여 $f(x)$ 가 점 (a, b) 에 대해 대칭이라면

$x = a+h$ 일 때와 $x = a-h$ 일 때의 증가/감소하는 경향성이 정확히 일치한다.

이를 식으로 나타내면 $f'(a+x) = f'(a-x)$ 이다.

즉, 함수 $f(x)$ 가 점 (a, b) 에 대하여 대칭이면 도함수 $f'(x)$ 은 $x = a$ 에 대하여 대칭이다.

STYLE
 03

아래에 변수가 있다고..?

낯설게 아랫끝에 변수가 있는 경우 특히 당황을 많이 하는 학생들이 있지.
 하지만, 낯설면 낯설수록 알고보면 '기본적인 개념'을 질문하고 있는 경우가 많아.
 잊지 말자! '미적분의 기본 정리'

[2023학년도 대학수학능력시험 12번]

실수 전체의 집합에서 연속인 함수 $f(x)$ 가 다음 조건을 만족시킨다.

$n - 1 \leq x < n$ 일 때, $|f(x)| = |6(x - n + 1)(x - n)|$ 이다.
 (단, n 은 자연수이다.)

열린구간 $(0, 4)$ 에서 정의된 함수

$$g(x) = \int_0^x f(t) dt - \int_x^4 f(t) dt$$

가 $x = 2$ 에서 최솟값 0을 가질 때, $\int_{\frac{1}{2}}^4 f(x) dx$ 의 값은? [4점]

- ① $-\frac{3}{2}$ ② $-\frac{1}{2}$ ③ $\frac{1}{2}$ ④ $\frac{3}{2}$ ⑤ $\frac{5}{2}$

우리만의 실전 풀이

THINKING!

절댓값도 너무 어렵고, x 는 왜 아랫끝에 있는지...

기초적인 개념이 흔들리는 친구들은 23 수능 문항을 풀 때 정확히 12번부터 막히기 시작할거야.

하지만, '미적분의 기본정리', 기억하지?

$$\int_a^b f(x)dx = [F(x)]_a^b$$

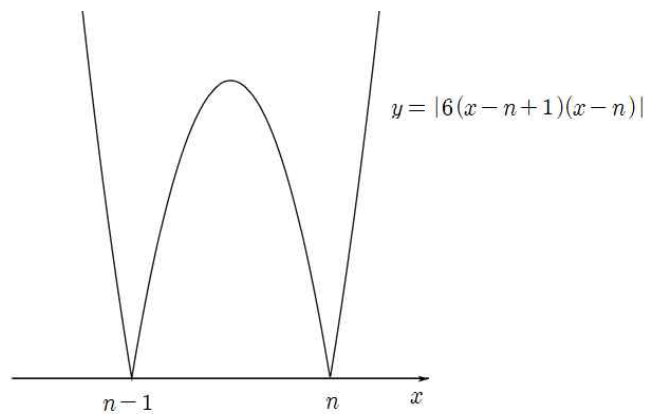
윗끝에 x 가 있든, 아랫끝에 x 가 있든, 똑같이 처리해주면 돼.

근본적인 개념을 정확히 알고 있다면 결코 해낼 일이 없지.

STEP 1 $f(x)$ 가 휘황찬란해 살려줘

절댓값이 많아서 굉장히 복잡해보이지만, 사실 간단해!

절댓값이 있다면, 우선 절댓값 안의 그래프를 파악하는 것이 우선!



보다시피, $n-1 \leq x < n$ 에서 함수 $f(x)$ 가 연속이기 때문에

함수 $|f(x)|$ 는 \cap 자 모양 하나라는 것을 알 수 있어.

그렇다면 $f(x)$ 는 $|f(x)|$ 와 똑같거나, $|f(x)|$ 를 x 축 대칭한 꼴과 똑같은 거야.

절댓값 안의 값이 음수면 (-)가 붙어 나오니까! (STYLE 01 참고)



STEP 2 $g(x)$ 의 최솟값? 최솟값을 어떻게 구할까...

$f(x)$ 가 어떻게 생겨먹었는지 알았어.

근데.. $g(x)$ 가 이상하게 생겨서 접근하기가 힘들지.. 게다가 최솟값을 찾으라니..ㅠㅠ

하지만, STYLE 01에서 강조한 것!

$f(x)$ 는 이차함수의 구간별 정의될 꼴이기 때문에

피적분함수를 $f(x)$ 로 하는 정적분함수 $g(x)$ 역시 그 부정적분인 삼차함수와 밀접한 관련이 있다는 것!

그렇다면, 뭔가 $g(x)$ 를 미분해서 최솟값을 구하는 편이 더 낫겠다는 생각이 들지?

피적분함수 $f(x)$ 가 연속이니 미분도 가능할테고 ㅎㅎ

$$g(x) = F(x) - F(0) - \{F(4) - F(x)\} = 2F(x) - F(0) - F(4) \quad (F(x) \text{는 } f(x) \text{의 부정적분})$$

$f(x)$ 가 연속이기 때문에 이를 도함수로 갖는 $F(x)$ 는 미분가능한 함수야.

이로써 $g(x)$ 를 '미분'할 수 있는 마인드를 챙길 수 있어.

$$g'(x) = 2f(x)$$

이를 통해 알 수 있는 사실: " $f(x)$ 가 될 수 있는 그래프 개형을 생각하면 $g(x)$ 의 개형도 파악할 수 있다!"

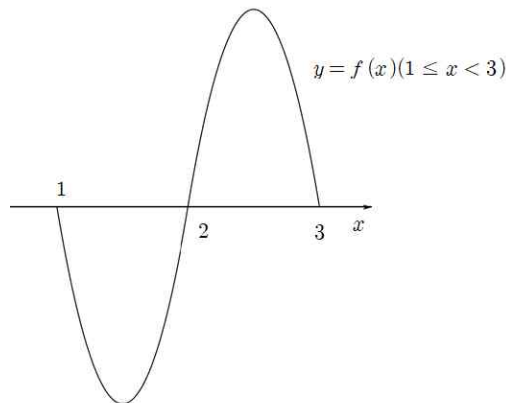
이때 $g(x)$ 가 $x = 2$ 에서 최솟값을 가지니 $g'(2) = 2f(2) = 0$ 이고, **$f(x)$ 가 $x = 2$ 에서 증가해야** 하지.

정적분의 개념 문제가 단순 함수 추론으로 바뀌는 순간!



STEP 3 함수 알아낸 후, 계산계산계산

일단, $1 \leq x < 3$ 에서 함수 $f(x)$ 의 개형은 $x = 2$ 에서 증가해야하기 때문에 다음과 같을 수밖에 없어.



그런데, 왜 굳이 $g(2) = 0$ 이라는 값을 줬을까?

이건 $x = 2$ 를 제발 좀 대입해달라는 평가원의 애원이야. 애원하니 그대로 해줘야겠지?

$$g(2) = \int_0^2 f(t) dt - \int_2^4 f(t) dt = 0, \quad \int_0^2 f(t) dt = \int_2^4 f(t) dt.$$

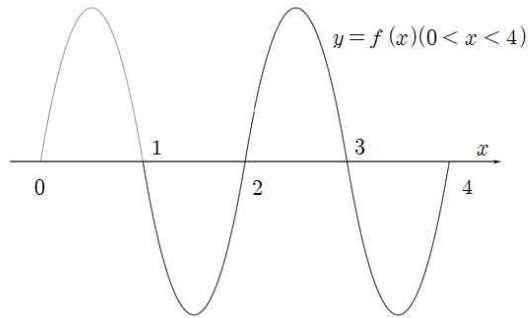
혹시, 변수를 t 라고 설정했다고 헛갈려하는 친구들을 위해 잠시 코멘트!

헛갈릴 필요 전혀 없어!

윗끝, 아랫끝에 x 라는 문자를 썼기 때문에 어쩔 수 없이 t 라는 변수를 잠시 사용했을 뿐이야.

헛갈리지 말고 살펴보면, 그렇지?

$0 \leq x \leq 2$ 에서 $f(x)$ 와 x 축이 이루는 넓이가 $2 \leq x \leq 4$ 에서 $f(x)$ 와 x 축이 이루는 넓이와 같다는 이야기야. 그렇다면 자동으로 $f(x)$ 가 정해지지?



이제 계산만하면 끝!

$$\int_{\frac{1}{2}}^4 f(x) dx = \int_{\frac{7}{2}}^4 f(x) dx = -\frac{1}{2} \times \frac{|6| \times 1^3}{6} = -\frac{1}{2}$$

[참조] 최고차항의 계수가 n 인 이차함수 $f(x) = a(x - \alpha)(x - \beta)$ ($\alpha < \beta$)에 대하여

$$x \text{ 축과 } y = f(x) \text{ 가 이루는 넓이} \rightarrow \left| \int_{\alpha}^{\beta} f(x) dx \right| = \frac{|n|(\beta - \alpha)^3}{6}$$

STYLE
04

이번엔 위/아래 모두 변수가 있다고?

이제 하다하다 위, 아래에 변수를 다 넣어두시겠다?

위/아래에 모두 변수가 있는 경우 다음 세 가지 정도를 염두에 두는 것이 좋아.

[윗끝/아랫끝에 변수가 존재하는 정적분함수를 발견했을 때의 행동강령]

- 1) 윗끝 ~ 아랫끝까지의 구간에서 피적분함수와 x 축이 이루는 도형(의 넓이)
- 2) 윗끝과 아랫끝이 같아지는 순간
- 3) 직접 식을 써서 구하기 (양변 미분, 부정적분 $F(x)$ 의 식 등)

[2023학년도 6월 모의평가 20번]

최고차항의 계수가 2인 이차함수 $f(x)$ 에 대하여 함수 $g(x) = \int_x^{x+1} |f(t)| dt$ 는 $x=1$ 과 $x=4$ 에서

극소이다. $f(0)$ 의 값을 구하시오. [4점]

우리만의 실전 풀이

THINKING!

미적분 선택자에게의 유불리를 쟁점으로 구설수에 올랐던 문항이야.

하지만 위에 적어둔 행동강령을 잘 따르면 미적분을 선택하지 않은 친구들도

충분히 문제풀이를 수월하게 할 수 있는 문항이었지.

먼저, 함수 $f(x)$ 가 최고차항의 계수가 2인 이차함수라는 아주 중요한 정보를 제공하였기 때문에

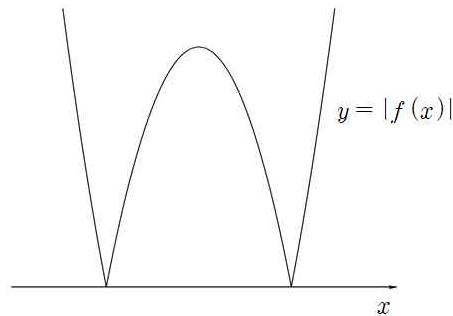
함수 $f(x)$ 의 그래프를 그려볼만 하지?

게다가, 이차함수의 '대칭성'을 이용하여 $f(x)$ 가 $x=3$ 를 중심으로 대칭이라는 것도 알 수 있겠네!

STEP 1 넓이의 순간적인 변화 - 기하적 해석

만약 모든 실수 x 에 대해 $f(x) \geq 0$ 이라면 $\int_x^{x+1} f(t)dt$ 가 최소인 지점이 하나밖에 생기지 않으리라는 것을

직접 함수 $f(x)$ 를 그려보면 알 수 있어. 따라서 함수 $|f(x)|$ 는 다음과 같이 그려져야 해.



이때, $g(x) = \int_x^{x+1} |f(t)| dt$ 가 최소라는 것은 닫힌구간 $[x, x+1]$ 에서

함수 $y = |f(x)|$ 와 x 축이 이루는 넓이가 최소라는 이야기야.

이는 두 가지 방법으로 구할 수 있어.

(i) 피적분함수가 연속이니, $g(x)$ 를 미분하자!

$|f(x)|$ 의 부정적분을 $F(x)$ 라 하면 $g(x) = F(x+1) - F(x)$ 이므로 $g'(x) = |f(x+1)| - |f(x)|$ 이야.

ADVICE 절댓값이 있다고 주지하지 말자. 어떤 함수의 부정적분이란, 미분하면 원시함수가 되는 함수이므로

$F(x)$ 를 미분하면 $|f(x)|$ 가 되는 것은 당연지사!

잠깐, $F'(x+1)$ 이 왜 $f(x+1)$ 일까? 이는 다음과 같이 증명 가능해.

$$\text{함수 } f(x) \text{의 부정적분을 } F(x) \text{라 할 때, } x+k=t \text{라 하면}$$

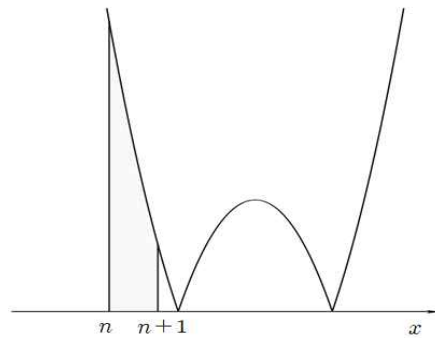
$$\lim_{h \rightarrow 0} \frac{F(t+h) - F(t)}{h} = f(t) = f(x+k) \text{이므로 } F'(t) = F'(x+k) = f(x+k)$$

사실, 미적분 선택자의 경우 합성함수의 미분법을 활용하여 바로 사용할 수 있으나,

미적분 미선택자이더라도 위 사실 정도는 알아두는 것이 좋아

즉, $g(x)$ 가 미분가능하므로 그 도함수인 $|f(x+1)| - |f(x)| = 0$ 일 때 $g(x)$ 가 최솟값(극솟값)을 갖지. 따라서 $|f(1)| = |f(2)|$ 이고, $|f(4)| = |f(5)|$ 여야 해.

(ii) 넓이의 순간적인 변화를 살펴보자



위 그림에서 회색으로 색칠된 영역은 $\int_n^{n+1} |f(t)| dt$, 즉 $g(n)$ 이야.

이때, $y = g(x)$ 는 $x = n$ 에서 증가할까, 감소할까?

이는 피적분함수의 함숫값을 보면 알 수 있어.

$|f(n)| > |f(n+1)|$ 이기 때문에 $g(x)$ 는 $x = n$ 에서 감소하지. 왜?

“피적분 함숫값을 직사각형의 높이로 생각하니, x 가 커질수록 큰놈이 빠지고 작은놈이 붙더라.”

$|f(n)|$ 은 아랫끝에서의 피적분함숫값, $|f(n+1)|$ 은 윗끝에서의 피적분함숫값이야.

함수 $g(x)$ 에 대하여 x 가 증가한다는 것은, 곧

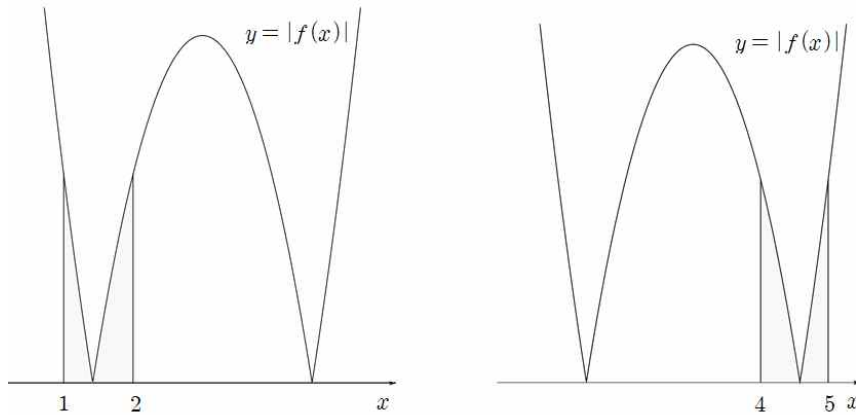
아랫끝에서의 피적분함숫값이 사라지고, 윗끝에서의 피적분함숫값이 추가된다는 의미와 같아.

이는 $|f(n)|$ 을 높이로 하고 밑변이 한없이 작은 직사각형이 사라지고,

$|f(n+1)|$ 을 높이로 하고 밑변이 한없이 작은 직사각형이 생긴다는 것과 같이 해석할 수 있어.

따라서 $|f(n)|$ 이 $|f(n+1)|$ 보다 크면 클수록 정적분값은 빠르게 감소한다는 것을 알 수 있지.

그렇다면, $g(x)$ 가 $x = 1$, $x = 4$ 에서 최솟값을 가지려면 어떻게 해야할까?



먼저 왼쪽 그림부터 보면, $g(x)$ 가 $x=1$ 일 때 극값을 가져야 하므로 $|f(1)| = |f(2)|$ 여야 해.

$x < 1$ 일 때에는 계속 $|f(x)| > |f(x+1)|$ 이기 때문에 $g(x)$ 가 감소하지.

하지만 $x=1$ 에서 $|f(1)| = |f(2)|$ 이고,

x 가 1보다 커지면 $|f(x)| < |f(x+1)|$ 이 되므로 $g(x)$ 가 증가할 거야.

마찬가지로, $x=4$ 일 때 $|f(4)| = |f(5)|$ 이면

$x=4$ 근방에서 $x < 4$ 일 때 $|f(x)| > |f(x+1)|$ 이므로

$g(x)$ 가 감소하지만, $x > 4$ 이면 $|f(x)| < |f(x+1)|$ 이므로 $g(x)$ 가 증가해.

따라서 $g(x)$ 가 $x=1, x=4$ 에서 최솟값을 갖기 위해선 $|f(1)| = |f(2)|, |f(4)| = |f(5)|$ 여야 한다!



STEP 2 역시, 계산계산계산

이차함수의 대칭성에 의해 $f(1) = f(5)$ 임을 알 수 있으므로 $f(x) = 2(x-3)^2 + k$ 임을 알 수 있고,

$f(1) = -f(2)$ 임을 알 수 있으므로 $8+k = -(2+k)$, $k = -5$ 이지.

따라서 $f(0) = 18 - 5 = 13$

SEOL:NAME, The Signature [테크닉 총정리]

CHECK 01 다항함수의 정적분은 다항함수

$f(x)$ 의 부정적분을 $F(x)$ 라 할 때, $g(x) = \int_0^x f(t)dt = F(x) - F(0)$

따라서 정적분으로 정의되어있는 함수 $g(x)$ 는 **피적분함수 $f(x)$ 의 부정적분**과 밀접한 관련이 있다.

CHECK 02 절댓값 함수와 차의 함수의 해석

“ $f(x) + l(x)$ 꼴의 함수는 $l(x)$ 를 축으로 하는 또다른 함수 $g(x)$ 로 생각할 수 있다”

→ $|f(x)| + l(x)$ 꼴의 함수는 $f(x) < 0$ 인 지점에서 $f(x) + l(x)$ 를 $l(x)$ 위로 들어올린다.

“함수 $f(x)$ 와 직선 $l(x)$ 가 만나면 방정식 $f(x) = l(x)$ 의 실근은
 함수 $y = f(x) - l(x)$ 가 x 축과 만나는 실근의 양상과 완전히 똑같다”

→ 직선 $l(x)$ 가 마치 x 축으로 변화하는 것과 같으므로

새로운 함수 $f(x) - l(x)$ 에 대하여 $f(x) - l(x) = 0$ 의 실근은 $f(x)$ 와 $l(x)$ 의 교점의 x 좌표와 같다.

이 함수 $f(x) - l(x)$ 를 흔히 **차의 함수**라고 부르기도 한다.

CHECK 03 정적분함수의 x 축

앞으로 $y = \int_t^x f(s)ds$ 꼴의 함수를 그릴 때에는 다음과 같이 그리면 된다.

- 1) $f(x)$ 의 부정적분 $F(x)$ 를 그린다.
- 2) 직선 $y = F(t)$ 를 그린다.
- 3) 직선 $y = F(t)$ 를 x 축으로 잡는다. 끝!

CHECK 04 정적분함수의 대칭성

미분가능한 함수 $f(x)$ 에 대하여 다음이 성립한다.

1. $f(a+x) = f(a-x)$ 이면 함수 $f(x)$ 는 $x = a$ 에 대하여 대칭이다.
 → $f(x)$ 가 $x = a$ 에 대하여 대칭이면 $f'(a+x) = -f'(a-x)$ 이므로
 도함수 $f'(x)$ 은 점 $(a, 0)$ 에 대하여 대칭이다.
2. $f(a+x) + f(a-x) = 2b$ 이면 함수 $f(x)$ 는 (a, b) 에 대하여 대칭이다
 → $f(x)$ 가 점 (a, b) 에 대해 대칭이면 $f'(a+x) = f'(a-x)$ 이므로
 도함수 $f'(x)$ 은 $x = a$ 에 대하여 대칭이다.

즉, $f(x)$ 가 $x = a$ 에 대하여 대칭이면 $\int_{a-h}^{a+h} f(x)dx = 2 \int_a^{a+h} f(x)dx$ 이고,

점 (a, b) 에 대하여 대칭이면 $\int_{a-h}^{a+h} f(x)dx = 2bh$ 이다.

CHECK 05 윗끝/아랫끝에 변수가 있는 정적분함수

[윗끝/아랫끝에 변수가 존재하는 정적분함수를 발견했을 때의 행동강령]

- 1) 윗끝 ~ 아랫끝까지의 구간에서 피적분함수와 x 축이 이루는 도형(의 넓이)
- 2) 윗끝과 아랫끝이 같아지는 순간
- 3) 직접 식을 써서 구하기 (양변 미분, 부정적분 $F(x)$ 의 식 등)

CHECK 06 이차/삼차함수와 축이 이루는 도형의 넓이

최고차항의 계수가 n 인 이차함수 $f(x)$ 의 실근을 $\alpha, \beta (\alpha < \beta)$ 라 할 때

$$\left| \int_{\alpha}^{\beta} f(x)dx \right| = \frac{|n|(\beta - \alpha)^3}{6}$$

최고차항의 계수가 n 인 삼차함수 $f(x)$ 에 대하여 $f(x) = n(x - \alpha)(x - \beta)^2 (\alpha < \beta)$ 일 때

$$\left| \int_{\alpha}^{\beta} f(x)dx \right| = \frac{|n|(\beta - \alpha)^4}{12}$$

CHECK 07 간단한 합성함수의 미분법 : $\{f(x+k)\}' = f'(x+k)$

함수 $f(x)$ 의 부정적분을 $F(x)$ 라 할 때, $x+k=t$ 라 하면

$$\lim_{h \rightarrow 0} \frac{F(t+h) - F(t)}{h} = f(t) = f(x+k) \text{ 이므로 } F'(t) = F'(x+k) = f(x+k)$$



PRACTICE

기출문제 ATTACK

001 [2013학년도 수능 나형 21번] - Check 01

삼차함수 $f(x) = x^3 - 3x + a$ 에 대하여 함수 $F(x) = \int_0^x f(t) dt$ 가 오직 하나의 극값을 갖도록 하는 양수 a 의 최솟값은? [4점]

① 1

② 2

③ 3

④ 4

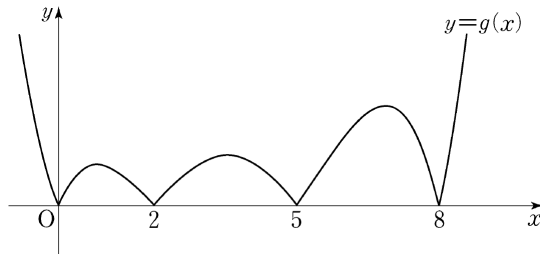
⑤ 5

002 [2013학년도 수능 가형 19번] - Check 01, Check 02, Check 07

삼차함수 $f(x)$ 는 $f(0) > 0$ 을 만족시킨다. 함수 $g(x)$ 를

$$g(x) = \left| \int_0^x f(t) dt \right|$$

라 할 때, 함수 $g(x)$ 의 그래프가 그림과 같다.



〈보기〉에서 옳은 것만을 있는 대로 고른 것은? [4점]

〈 보 기 〉

- ㄱ. 방정식 $f(x) = 0$ 은 서로 다른 3개의 실근을 갖는다.
- ㄴ. $f'(0) < 0$
- ㄷ. $\int_m^{m+2} f(x) dx > 0$ 을 만족시키는 자연수 m 의 개수는 3이다.

① ㄴ

② ㄷ

③ ㄱ, ㄴ

④ ㄱ, ㄷ

⑤ ㄱ, ㄴ, ㄷ

003 [2016학년도 수능 A형 20번] - Check 04

두 다항함수 $f(x)$, $g(x)$ 가 모든 실수 x 에 대하여

$$f(-x) = -f(x), \quad g(-x) = g(x)$$

를 만족시킨다. 함수 $h(x) = f(x)g(x)$ 에 대하여

$$\int_{-3}^3 (x+5)h'(x)dx = 10$$

일 때, $h(3)$ 의 값은? [4점]

① 1

② 2

③ 3

④ 4

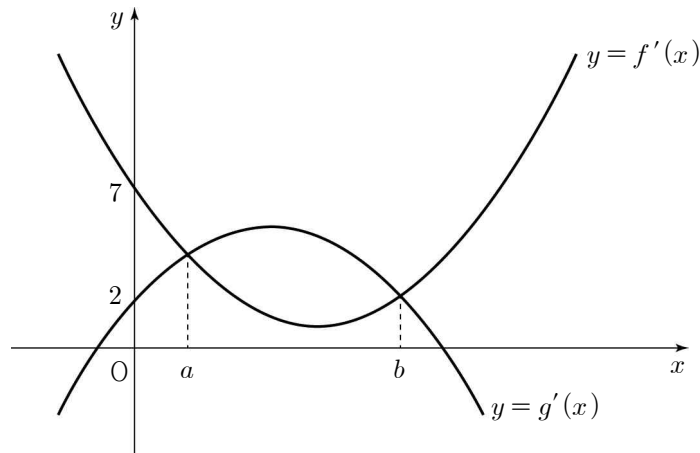
⑤ 5

004 [2016학년도 7월 나형 18번] - Check 02

그림과 같이 두 삼차함수 $f(x)$, $g(x)$ 의 도함수 $y = f'(x)$, $y = g'(x)$ 의 그래프가 만나는 서로 다른 두 점의 x 좌표는 a , b ($0 < a < b$)이다. 함수 $h(x)$ 를

$$h(x) = f(x) - g(x)$$

라 할 때, <보기>에서 옳은 것만을 있는 대로 고른 것은? (단, $f'(0) = 7$, $g'(0) = 2$) [4점]



<보 기>

- ㄱ. 함수 $h(x)$ 는 $x = a$ 에서 극댓값을 갖는다.
- ㄴ. $h(b) = 0$ 이면 방정식 $h(x) = 0$ 의 서로 다른 실근의 개수는 2이다.
- ㄷ. $0 < \alpha < \beta < b$ 인 두 실수 α , β 에 대하여 $h(\beta) - h(\alpha) < 5(\beta - \alpha)$ 이다.

① ㄱ

② ㄷ

③ ㄱ, ㄴ

④ ㄴ, ㄷ

⑤ ㄱ, ㄴ, ㄷ

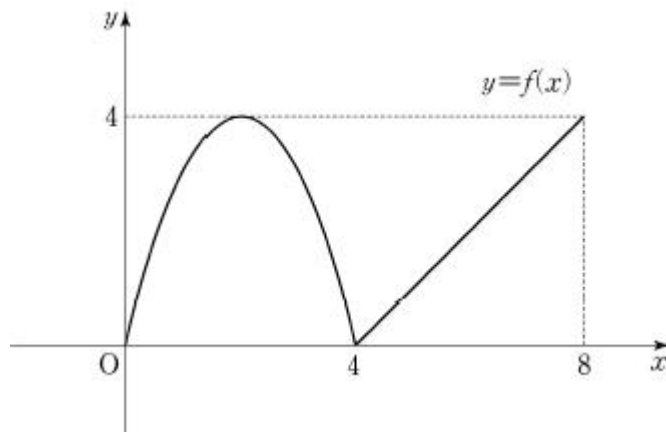
005 [2017학년도 9월 나형 29번] - Check 01, Check 05, Check 06, Check 07

닫힌구간 $[0, 8]$ 에서 정의된 함수 $f(x)$ 는

$$f(x) = \begin{cases} -x(x-4) & (0 \leq x < 4) \\ x-4 & (4 \leq x \leq 8) \end{cases}$$

이다. 실수 a ($0 \leq a \leq 4$)에 대하여 $\int_a^{a+4} f(x)dx$ 의 최솟값은 $\frac{q}{p}$ 이다. $p+q$ 의 값을 구하시오.

(단, p 와 q 는 서로소인 자연수이다.) [4점]



006 [2018학년도 7월 나형 20번] - Check 01, Check 05, Check 06

최고차항의 계수가 1인 사차함수 $f(x)$ 가 모든 실수 x 에 대하여

$$f'(-x) = -f'(x)$$

를 만족시킨다. $f'(1) = 0$, $f(1) = 2$ 일 때, <보기>에서 옳은 것만을 있는 대로 고른 것은? [4점]

<보 기>

ㄱ. $f'(-1) = 0$

ㄴ. 모든 실수 k 에 대하여 $\int_{-k}^0 f(x)dx = \int_0^k f(x)dx$

ㄷ. $0 < t < 1$ 인 모든 실수 t 에 대하여 $\int_{-t}^t f(x)dx < 6t$

① ㄱ

② ㄷ

③ ㄱ, ㄴ

④ ㄴ, ㄷ

⑤ ㄱ, ㄴ, ㄷ

007 [2020학년도 3월 가형 30번] - Check 02, Check 03, Check 04

최고차항의 계수가 4인 삼차함수 $f(x)$ 와 실수 t 에 대하여 함수 $g(x)$ 를

$$g(x) = \int_t^x f(s) ds$$

라 하자. 상수 a 에 대하여 두 함수 $f(x)$ 와 $g(x)$ 가 다음 조건을 만족시킨다.

- (가) $f'(a) = 0$
- (나) 함수 $|g(x) - g(a)|$ 가 미분가능하지 않은 x 의 개수는 1이다.

실수 t 에 대하여 $g(a)$ 의 값을 $h(t)$ 라 할 때, $h(3) = 0$ 이고 함수 $h(t)$ 는 $t = 2$ 에서 최댓값 27을 가진다.
 $f(5)$ 의 값을 구하시오. [4점]

008 [2020학년도 10월 나형 20번] - Check 01, Check 03

최고차항의 계수가 4인 삼차함수 $f(x)$ 에 대하여 함수 $g(x)$ 를

$$g(x) = \int_0^x f(t) dt - xf(x)$$

라 하자. 모든 실수 x 에 대하여 $g(x) \leq g(3)$ 이고 함수 $g(x)$ 는 오직 1개의 극값만 가진다. $\int_0^1 g'(x) dx$ 의 값은?

[4점]

① 8

② 9

③ 10

④ 11

⑤ 12

009 [2020학년도 10월 나형 30번] - Check 01, Check 04

함수 $f(x) = \begin{cases} -3x^2 & (x < 1) \\ 2(x-3) & (x \geq 1) \end{cases}$ 에 대하여 함수 $g(x)$ 를

$$g(x) = \int_0^x (t-1)f(t) dt$$

라 할 때, 실수 t 에 대하여 직선 $y=t$ 와 곡선 $y=g(x)$ 가 만나는 서로 다른 점의 개수를 $h(t)$ 라 하자.

$\left| \lim_{t \rightarrow a^+} h(t) - \lim_{t \rightarrow a^-} h(t) \right| = 2$ 를 만족시키는 모든 실수 a 에 대하여 $|a|$ 의 값의 합을 S 라 할 때,

$30S$ 의 값을 구하시오. [4점]

010 [2022학년도 사관학교 22번] - Check 01, Check 03

일차함수 $f(x)$ 에 대하여 함수 $g(x)$ 를

$$g(x) = \int_0^x (x-2)f(s) ds$$

라 하자. 실수 t 에 대하여 직선 $y = tx$ 와 곡선 $y = g(x)$ 가 만나는 점의 개수를 $h(t)$ 라 할 때,
다음 조건을 만족시키는 모든 함수 $g(x)$ 에 대하여 $g(4)$ 의 값의 합을 구하시오. [4점]

$g(k) = 0$ 을 만족시키는 모든 실수 k 에 대하여 함수 $h(t)$ 는 $t = -k$ 에서 불연속이다.

011 [2023학년도 6월 14번] - Check 01, Check 05

실수 전체의 집합에서 연속인 함수 $f(x)$ 와 최고차항의 계수가 1인 삼차함수 $g(x)$ 가

$$g(x) = \begin{cases} -\int_0^x f(t) dt & (x < 0) \\ \int_0^x f(t) dt & (x \geq 0) \end{cases}$$

을 만족시킬 때, <보기>에서 옳은 것만을 있는 대로 고른 것은? [4점]

— < 보 기 > —

- ㄱ. $f(0) = 0$
- ㄴ. 함수 $f(x)$ 는 극댓값을 갖는다.
- ㄷ. $2 < f(1) < 4$ 일 때, 방정식 $f(x) = x$ 의 서로 다른 실근의 개수는 3이다.

① ㄱ

② ㄷ

③ ㄱ, ㄴ

④ ㄱ, ㄷ

⑤ ㄱ, ㄴ, ㄷ

기출문제 ATTACK 정답 및 해설

빠른 정답

1	②	2	⑤	3	①	4	⑤	5	43
6	⑤	7	432	8	②	9	80	10	56
11	④								

해설

001

[정답] ②

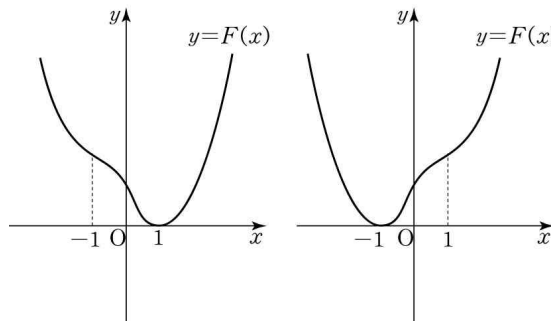
$f(x) = x^3 - 3x + a$ 에 대하여

$$F(x) = \int_0^x f(t)dt \text{이므로 } F'(x) = f(x), F(0) = 0$$

이때, $f'(x) = 3x^2 - 3 = 3(x+1)(x-1)$ 에서

$F'(x) = f(x)$ 는 $x = -1$ 또는 $x = 1$ 일 때 극값을 가진다.

한편, 함수 $F(x)$ 가 오직 하나의 극값을 가지려면 $y = F(x)$ 의 그래프의 개형이 다음 두 그래프 중 하나와 같아야 한다.



따라서 $F(x)$ 가 오직 하나의 극값을 가지려면

$f(-1) \leq 0$ 또는 $f(1) \geq 0$ 이어야 하므로

$f(-1) \leq 0$ 에서 $a \leq -2$, $f(1) \geq 0$ 에서 $a \geq 2$

따라서 양수 a 의 최솟값은 2이다.

[다른 풀이]

$$F(x) = \int_0^x f(t)dt \text{이므로 } F'(x) = f(x), F(0) = 0$$

$F(x)$ 가 오직 하나의 극값을 가지므로 $F'(x)$, 즉, $f(x)$ 의 부호가 오직 한 번 변해야 한다.

따라서 삼차함수 $f(x)$ 가 x 축과 오직 한 번 만나거나 x 축과 접해야 한다.

$f(x) = x^3 - 3x + a$ 에서 $f'(x) = 3x^2 - 3 = 3(x-1)(x+1)$ 이므로

부등식 $f(1) \times f(-1) \geq 0$ 이 성립해야 한다.

$(-2+a)(2+a) \geq 0 \therefore a \leq -2$ 또는 $a \geq 2$

따라서 양수 a 의 최솟값은 2이다.

002

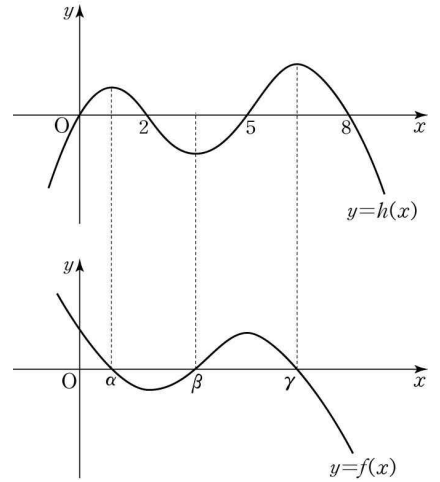
[정답] ⑤

$F'(x) = f(x)$ 라 하면 $\int_0^x f(x)dx = F(x) - F(0)$

$F(x) - F(0) = h(x)$ 라 하자.

$f(0) > 0$ 이므로 $x = 0$ 의 가까운 오른쪽에서 $\int_0^x f(x)dx > 0$

따라서 $y = h(x)$ 와 $y = f(x)$ 의 그래프는 다음과 같다.



ㄱ. 방정식 $f(x) = 0$ 은 구간 $(0, 2)$, $(2, 5)$, $(5, 8)$ 에서 각각 실근을 갖는다. (참)

ㄴ. $x = 0$ 에서 감소 상태에 있으므로 $f'(0) < 0$ (참)

ㄷ. $h(x) = kx(x-2)(x-5)(x-8)$ ($k < 0$)이라 할 때

$\int_m^{m+2} f(x)dx = h(m+2) - h(m)$ 이므로

$m = 1$ 일 때, $h(3) - h(1) = 58k < 0$

$m = 5$ 일 때, $h(7) - h(5) = -70k > 0$

$m = 2$ 일 때, $h(4) - h(2) = 32k < 0$

$m = 6$ 일 때, $h(8) - h(6) = 48k < 0$

$m = 3$ 일 때, $h(5) - h(3) = -30k > 0$

$m = 7$ 일 때, $h(9) - h(7) = 322k < 0$

$m = 4$ 일 때, $h(6) - h(4) = -80k > 0$

$m \geq 8$ 일 때, $h(m+2) - h(m) < 0$

따라서 $\int_m^{m+2} f(x)dx > 0$ 을 만족시키는 자연수 m 은 3, 4, 5로써 3개다. (참)

이상에서 ㄱ, ㄴ, ㄷ 모두 옳다.

003

[정답] ①

$h(-x) = f(-x)g(-x) = -f(x)g(x) = -h(x)$

이므로 다항함수 $h(x)$ 의 그래프는 원점에 대하여 대칭이고, $h(0) = 0$ 이다.

$h(x) = a_{2n+1}x^{2n+1} + a_{2n-1}x^{2n-1} + \dots + a_1x$ 로 놓으면

$h'(x) = (2n+1)a_{2n+1}x^{2n} + (2n-1)a_{2n-1}x^{2n-2} + \dots + a_1$

이므로 $h'(-x) = h'(x)$ 를 만족시킨다.

$\int_{-3}^3 (xh'(x) + 5h'(x))dx = 2 \int_0^3 5h'(x)dx$

$= 10 \left[h(x) \right]_0^3$

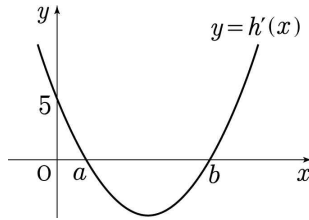
$= 10(h(3) - h(0))$

$10(h(3) - h(0)) = 10$ 에서 $h(3) = h(0) + 1 = 0 + 1 = 1$

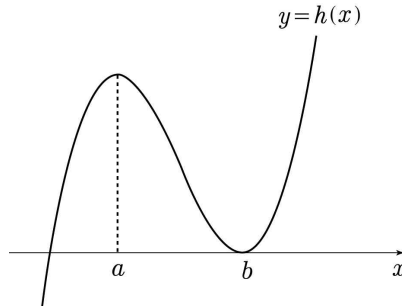
004

[정답] ⑤

함수 $y = h'(x)$ 의 그래프는 다음과 같다.



- ㄱ. 함수 $h(x)$ 는 $x = a$ 에서 극댓값을 갖는다. (참)
- ㄴ. $h(b) = 0$ 일 때, 함수 $y = h(x)$ 의 그래프는 다음과 같다.



그러므로 방정식 $h(x) = 0$ 의 서로 다른 실근의 개수는 2이다. (참)

- ㄷ. 함수 $h(x)$ 는 닫힌 구간 $[\alpha, \beta]$ 에서 연속이고 열린 구간 (α, β) 에서 미분가능하므로
 평균값 정리에 의하여 $\frac{h(\beta) - h(\alpha)}{\beta - \alpha} = h'(\gamma)$ 를 만족시키는 γ 가 열린 구간 (α, β) 에 존재한다.
 열린 구간 $(0, b)$ 에 있는 모든 실수 x 에 대하여 $h'(x) < 5$ 이므로

$$\frac{h(\beta) - h(\alpha)}{\beta - \alpha} = h'(\gamma) < 5$$

$$h(\beta) - h(\alpha) < 5(\beta - \alpha)$$
 (참)

따라서 옳은 것은 ㄱ, ㄴ, ㄷ

005

[정답] 43

$0 \leq a \leq 4$ 에서 $g(a) = \int_a^{a+4} f(x)dx$ 라 하자.

(i) $a = 0$ 일 때,

$$\begin{aligned} g(0) &= \int_0^4 f(x)dx \\ &= \int_0^4 \{-x(x-4)\}dx \\ &= \int_0^4 (-x^2 + 4x)dx \\ &= \left[-\frac{1}{3}x^3 + 2x^2\right]_0^4 \\ &= -\frac{64}{3} + 32 = \frac{32}{3} \end{aligned}$$

(ii) $0 < a < 4$ 일 때,

$$\begin{aligned} g(a) &= \int_a^4 f(x)dx + \int_4^{a+4} f(x)dx \\ &= \int_a^4 \{-x(x-4)\}dx + \int_4^{a+4} (x-4)dx \\ &= \left[-\frac{1}{3}x^3 + 2x^2\right]_a^4 + \left[\frac{1}{2}x^2 - 4x\right]_4^{a+4} \\ &= \frac{32}{3} + \frac{1}{3}a^3 - 2a^2 + \frac{1}{2}(a+4)^2 - 4(a+4) - (8-16) \\ &= \frac{1}{3}a^3 - \frac{3}{2}a^2 + \frac{32}{3} \end{aligned}$$

(iii) $a = 4$ 일 때,

$$\begin{aligned} g(a) &= \int_4^8 f(x)dx = \int_4^8 (x-4)dx \\ &= \left[\frac{1}{2}x^2 - 4x\right]_4^8 = 32 - 32 - (8 - 16) = 8 \end{aligned}$$

$$g'(a) = a^2 - 3a = a(a-3) \text{이므로}$$

$$g'(a) = 0 \text{에서 } 0 < a < 4 \text{이므로 } a = 3$$

함수 $g(a)$ 의 증가, 감소를 표로 나타내면 다음과 같다.

a	(0)	...	3	...	(4)
$g'(a)$		+	0	-	
$g(a)$	$\frac{32}{3}$	\searrow	극소	\nearrow	8

따라서 $g(a)$ 는 $a = 3$ 에서 최솟값을 가진다.

$$g(3) = \frac{1}{3} \times 3^3 - \frac{3}{2} \times 3^2 + \frac{32}{3} = 9 - \frac{27}{2} + \frac{32}{3} = \frac{37}{6}$$

(i), (ii), (iii)에서 $g(a)$ 의 최솟값은 $\frac{37}{6}$ 이므로 $p = 6, q = 37 \therefore p + q = 43$

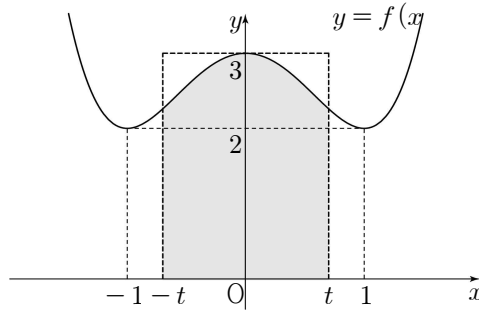
006

[정답] ⑤

$$\begin{aligned} \neg. f'(-x) &= -f'(x) \text{ 이고 } f'(1) = 0 \\ f'(-1) &= -f'(1) = 0 \text{ (참)} \end{aligned}$$

$$\begin{aligned} \sqcup. f'(-1) &= f'(1) = 0, f'(0) = 0 \\ f'(x) &= 4x(x-1)(x+1) \\ f(x) &= x^4 - 2x^2 + C \\ f(1) &= 2, C = 3 \\ f(x) &= x^4 - 2x^2 + 3 \\ f(-x) &= f(x) \text{ 이므로} \\ \int_{-k}^0 f(x)dx &= \int_0^k f(x)dx \text{ (참)} \end{aligned}$$

ㄷ. 함수 $f(x) = x^4 - 2x^2 + 3$ 의 그래프는 그림과 같다.



$x = -t, x = t, x$ 축, $y = f(x)$ 로 둘러싸인 영역의 넓이 $\int_{-t}^t f(x)dx$ 는
 $x = -t, x = t, x$ 축, $y = 3$ 으로 둘러싸인 직사각형의 넓이 $6t$ 보다 작다. (참)

이상에서 옳은 것은 ㄱ, ㄴ, ㄷ이다.

007

[정답] 432

$f(x)$ 가 최고차항의 계수가 4인 삼차함수이므로 $g(x) = \int_t^x f(s)ds$ 는 최고차항의 계수가 1인 사차함수이고

실수 전체의 집합에서 함수 $g(x) - g(a)$ 는 미분가능하다.

$g(x) \geq g(a)$ 일 때, $|g(x) - g(a)| = g(x) - g(a)$

$g(x) < g(a)$ 일 때, $|g(x) - g(a)| = -\{g(x) - g(a)\}$

이므로 함수 $|g(x) - g(a)|$ 은 $g(x) - g(a) \neq 0$ 인 모든 x 에서 미분가능하다.

$g(x) - g(a) = 0$ 를 만족시키는 x 의 값을 k 라 하면,

$g(k) = g(a)$ 이므로

$$\frac{|g(x) - g(a)| - |g(k) - g(a)|}{x - k} = \frac{|g(x) - g(k)|}{x - k}$$

(i) $x = k$ 의 좌우에서 $g(x) - g(a)$ 의 부호가 같을 때

$$\lim_{x \rightarrow k^-} \frac{|g(x) - g(k)|}{x - k} = \lim_{x \rightarrow k^+} \frac{|g(x) - g(k)|}{x - k}$$

이므로 함수 $|g(x) - g(a)|$ 는 $x = k$ 에서 미분가능하다.

(ii) $x = k$ 의 좌우에서 $g(x) - g(a)$ 의 부호가 다르고 $f(k) = 0$ 일 때

$$\lim_{x \rightarrow k^-} \frac{|g(x) - g(k)|}{x - k} = \lim_{x \rightarrow k^+} \frac{|g(x) - g(k)|}{x - k}$$

이므로 함수 $|g(x) - g(a)|$ 는 $x = k$ 에서 미분가능하다.

(iii) $x = k$ 의 좌우에서 $g(x) - g(a)$ 의 부호가 다르고 $f(k) \neq 0$ 일 때,

$$\lim_{x \rightarrow k^-} \frac{|g(x) - g(a)|}{x - k} \neq \lim_{x \rightarrow k^+} \frac{|g(x) - g(a)|}{x - k}$$

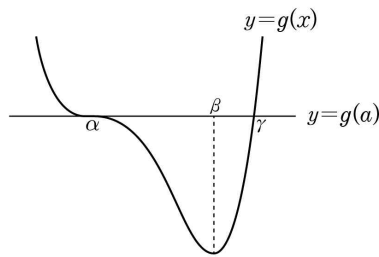
이므로 함수 $|g(x) - g(a)|$ 는 $x = k$ 에서 미분가능하지 않다.

(나)에서 함수 $|g(x) - g(a)|$ 가 미분가능하지 않은 x 의 개수가 1 이므로
 $g(x) - g(a) = 0$, $g'(x) = f(x) \neq 0$
 인 x 가 단 하나 존재한다는 것을 알 수 있다.

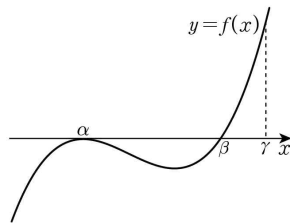
그러므로 사차함수 $y = g(x)$ 는 단 하나의 극솟값을 갖고,
 함수 $g(x)$ 의 그래프와 직선 $y = g(a)$ 는 서로 다른 두 점에서 만난다.

$g'(x) = 0$ 인 방정식 $g(x) - g(a) = 0$ 의 실근을 α ,
 함수 $g(x)$ 가 극솟값을 가질 때의 x 의 값을 β 라 하면
 α, β 의 대소관계에 따라 다음과 같이 두 경우로 나눌 수 있다.

(i) $\alpha < \beta$ 인 경우 (단, $g(\gamma) = g(a)$, $\beta < \gamma$)



함수 $y = g(x)$ 의 도함수 $y = f(x)$ 의 그래프를 그려 보면



$g(\alpha) = g(\gamma) = g(a)$ 이므로 $\alpha = a$ 또는 $\gamma = a$

(가)에서 $f'(a) = 0$ 이므로 $\alpha = a$ 이다.

따라서 $f(x) = 4(x - a)^2(x - \beta)$ 이다.

$$h(t) = g(a) = \int_t^a f(s)ds = - \int_a^t f(s)ds \text{에서}$$

$$h'(t) = -f(t)$$

함수 $h(t)$ 가 $t = 2$ 에서 최댓값, 즉 극댓값을 가지므로 $h'(2) = -f(2) = 0$

따라서 $a = 2$ 또는 $\beta = 2$ 이다.

$$a = 2 \text{이면 } h(2) = \int_2^2 f(t)dt = 0 \neq 27 \text{ 이므로 } a \neq 2$$

$\beta = 2$ 이면

$$h(3) = \int_3^a f(s)ds = 0 \text{ 이고,}$$

$$h(2) = \int_2^a f(s)ds = 27 \text{ 이므로}$$

$$h(2) - h(3) = \int_2^3 f(s)ds = 27 \text{ 이다.}$$

$$\begin{aligned} \int_2^3 f(s)ds &= \int_2^3 4(s-a)^2(s-2)ds \\ &= \int_2^3 4\{s^3 - 2(a+1)s^2 + (a^2 + 4a)s - 2a^2\}ds \\ &= \left[s^4 - \frac{8}{3}(a+1)s^3 + 2(a^2 + 4a)s^2 - 8a^2s \right]_2^3 \\ &= 2a^2 - \frac{32}{3}a + \frac{43}{3} = 27 \end{aligned}$$

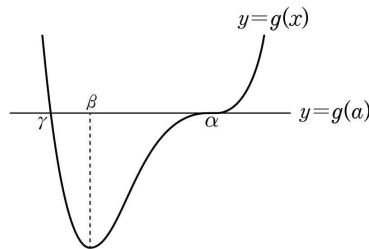
이므로 방정식을 풀면

$$a = -1 \text{ 또는 } a = \frac{19}{3}$$

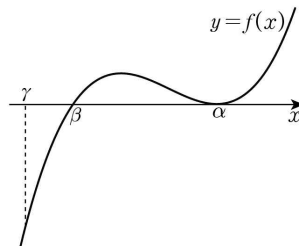
$a < 2$ 이므로 $a = -1$ 이다.

$f(x) = 4(x+1)^2(x-2)$ 라 하면 함수 $f(x)$ 는 주어진 조건을 만족시킨다.

(ii) $\alpha > \beta$ 인 경우 (단, $g(\gamma) = g(\alpha)$, $\gamma < \beta$)



함수 $y = g(x)$ 의 도함수 $y = f(x)$ 의 그래프를 그려 보면



(가)에서 $f'(a) = 0$ 이므로 $\alpha = a$ 이다.

따라서 $f(x) = 4(x-a)^2(x-\beta)$ 이다.

$\alpha < \beta$ 인 경우와 마찬가지로 $\beta = 2$ 이다.

$$f(x) = 4(x-a)^2(x-2)$$

$$a \neq 3 \text{ 이면 } h(3) = \int_3^a f(s)ds \neq 0 \text{ 이므로 } a = 3$$

따라서 $f(x) = 4(x-3)^2(x-2)$ 이고

$$h(2) = \int_2^a f(s)ds = \int_2^3 4(s-3)^2(s-2)ds = \frac{1}{3}$$

$h(2) \neq 27$ 이므로 주어진 조건을 만족시키는 함수 $f(x)$ 가 존재하지 않는다.

따라서 $f(x) = 4(x+1)^2(x-2)$ 이다.

$$f(5) = 4 \times 36 \times 3 = 432$$

008

[정답] ②

$$g'(x) = f(x) - \{f(x) + xf'(x)\} = -xf'(x)$$

삼차함수 $f(x)$ 의 최고차항의 계수가 4이므로 $f'(x)$ 는 이차항의 계수가 12인 이차함수이다.

그러므로 $g'(x) = -xf'(x)$ 에서 $g'(x)$ 는 최고차항의 계수가 -12 인 삼차함수이다.

또, 모든 실수 x 에 대하여 $g(x) \leq g(3)$ 이므로 함수 $g(x)$ 는 $x=3$ 에서 최댓값을 가지고
함수 $g(x)$ 는 $x=3$ 에서 극값을 가진다.

즉, $g'(3) = 0$ 이다.

그러므로 $f'(3) = 0$ 에서

$$g'(x) = -12x(x-3)(x-a)$$

삼차함수 $g(x)$ 가 오직 1개의 극값만 가지므로 함수 $g(x)$ 는 $x=0$ 에서 극값을 가질 수 없다.

즉, $a=0$ 이다.

$$g'(x) = -12x^2(x-3) = -12x^3 + 36x^2$$

$$\text{따라서 } \int_0^1 g'(x) dx = \left[-3x^4 + 12x^3 \right]_0^1 = 9$$

009

[정답] 80

$g(x) = \int_0^x (t-1)f(t) dt$ 의 양변을 x 에 대하여 미분하면

$$g'(x) = (x-1)f(x) = \begin{cases} -3x^3 + 3x^2 & (x < 1) \\ 2x^2 - 8x + 6 & (x \geq 1) \end{cases}$$

위의 식의 양변을 x 에 대하여 적분하면

$$g(x) = \begin{cases} -\frac{3}{4}x^4 + x^3 + C_1 & (x < 1) \\ \frac{2}{3}x^3 - 4x^2 + 6x + C_2 & (x \geq 1) \end{cases} \quad (C_1, C_2 \text{는 적분상수})$$

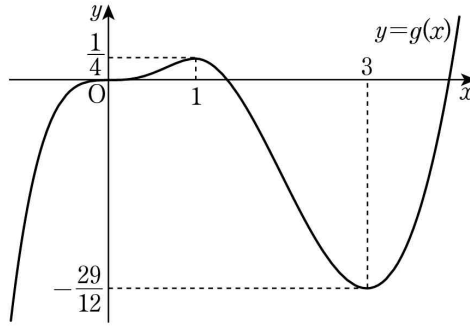
$g'(1) = 0$ 이므로 함수 $g(x)$ 는 $x=1$ 에서 연속이다.

$g(0) = 0$ 에서 $C_1 = 0$ 이고

$$-\frac{3}{4} + 1 = \frac{2}{3} - 4 + 6 + C_2 \text{에서 } C_2 = -\frac{29}{12}$$

$$g(x) = \begin{cases} -\frac{3}{4}x^4 + x^3 & (x < 1) \\ \frac{2}{3}x^3 - 4x^2 + 6x - \frac{29}{12} & (x \geq 1) \end{cases}$$

함수 $y = g(x)$ 의 그래프는 다음과 같다.



위의 그래프를 이용하여 함수 $h(t)$ 를 구하면

$$h(t) = \begin{cases} 1 & \left(t < -\frac{29}{12} \text{ 또는 } t > \frac{1}{4} \right) \\ 2 & \left(t = -\frac{29}{12} \text{ 또는 } t = \frac{1}{4} \right) \\ 3 & \left(-\frac{29}{12} < t < \frac{1}{4} \right) \end{cases}$$

이므로 $\left| \lim_{t \rightarrow a^+} h(t) - \lim_{t \rightarrow a^-} h(t) \right| = 2$ 를 만족시키는 실수 a 의 값은 $\frac{1}{4}$ 과 $-\frac{29}{12}$ 뿐이다.

그러므로 $S = \left| \frac{1}{4} \right| + \left| -\frac{29}{12} \right| = \frac{8}{3}$

따라서 $30S = 30 \times \frac{8}{3} = 80$

010

[정답] 56

함수 $f(x)$ 는 일차함수이므로 함수 $g(x) = \int_0^x (x-2)f(s)ds$ 는 삼차함수이다.

$g(x) = (x-2) \int_0^x f(s)ds = 0$ 에서 $g(2) = g(0) = 0$ 이므로

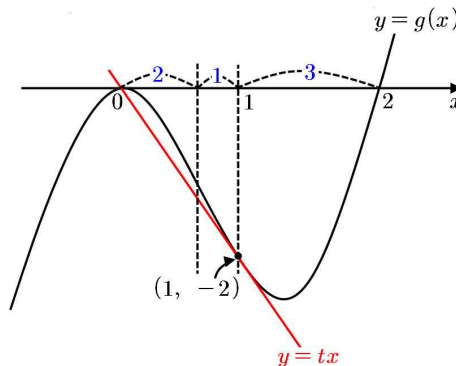
방정식 $g(x) = 0$ 의 세 근을 $x = 0, 2, \alpha$ 라 하자.

이때 $y = tx$ 는 $(0, 0)$ 을 지나는 직선이므로 함수 $h(t)$ 가 $t = 0$ 에서 불연속이기 위해서는 $y = g(x)$ 는 x 축에 접해야 한다. 따라서 $\alpha = 0$ 또는 $\alpha = 2$ 이다.

(i) $g(x) = mx^2(x-2)$ 일 때

m 이 양수일 때와 음수일 때를 나누어 $y = g(x)$ 와 $y = tx$ 를 그려보면 다음과 같다.

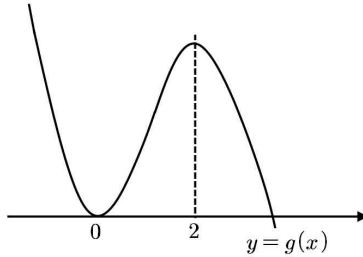
$m > 0$ 일 때 :



이때의 t 의 값은 -2 가 되어야 하고 $y = g(x)$ 와 $y = tx$ 의 교점은 $(1, -2)$ 이다.

$$\therefore g(x) = 2x^2(x-2), g(4) = 64$$

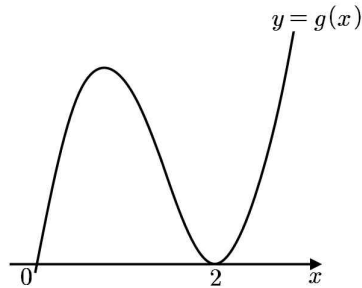
$m < 0$ 일 때 :



$g(x)$ 가 $x = 0$ 에서 x 축에 접하므로 $t = -2$ 일 때 불연속이 될 수 없다.

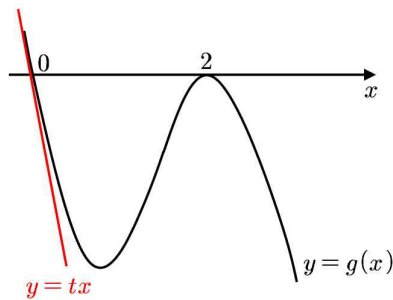
(ii) $y = mx(x-2)^2$ 일 때

$m > 0$ 일 때 :



$g(x)$ 가 $x = 2$ 에서 x 축에 접하므로 $t = -2$ 일 때 불연속이 될 수 없다.

$m < 0$ 일 때 :



마찬가지로 이때의 t 의 값은 -2 이므로

$$g'(x) = m(x-2)^2 + 2mx(x-2)$$

$$g'(0) = 4m = -2, m = -\frac{1}{2} \text{이므로 } g(4) = -8$$

(i), (ii)에 의하여 $g(4)$ 의 값의 합은 $64 - 8 = 56$

011

[정답] ④

ㄱ. $x < 0$ 일 때 $g'(x) = -f(x)$

$x \geq 0$ 일 때 $g'(x) = f(x)$

그런데 함수 $g(x)$ 는 $x = 0$ 에서 미분가능하고 함수 $f(x)$ 는 실수 전체의 집합에서 연속이므로

$$\lim_{x \rightarrow 0^-} \{-f(x)\} = \lim_{x \rightarrow 0^+} f(x)$$

$-f(0) = f(0), 2f(0) = 0$ 따라서 $f(0) = 0$ 이다. (참)

ㄴ. $g(0) = \int_0^0 f(t) dt = 0$ 이고 함수 $g(x)$ 는 삼차함수이므로

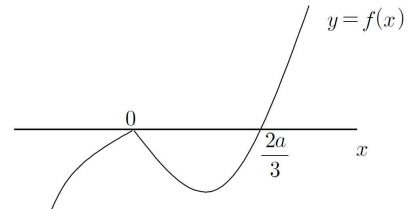
$g(x) = x^2(x - a)$ (단, a 는 상수) 로 놓으면

$g'(x) = 2x(x - a) + x^2 = x(3x - 2a)$

(i) $a > 0$ 일 때

$$f(x) = \begin{cases} -x(3x - 2a) & (x < 0) \\ x(3x - 2a) & (x \geq 0) \end{cases}$$

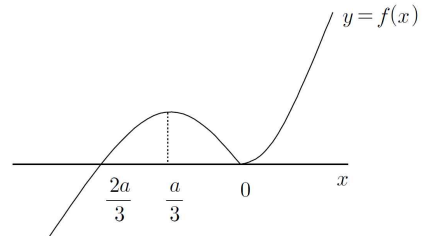
이므로 함수 $y = f(x)$ 의 그래프는 그림과 같고 $x = 0$ 에서 극댓값을 갖는다.



(ii) $a < 0$ 일 때

$$f(x) = \begin{cases} -x(3x - 2a) & (x < 0) \\ x(3x - 2a) & (x \geq 0) \end{cases}$$

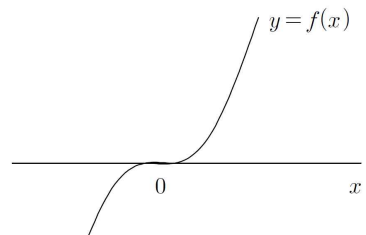
이므로 함수 $y = f(x)$ 의 그래프는 그림과 같고 $x = \frac{a}{3}$ 에서 극댓값을 갖는다.



(iii) $a = 0$ 일 때

$$f(x) = \begin{cases} -3x^2 & (x < 0) \\ 3x^2 & (x \geq 0) \end{cases}$$

이므로 함수 $y = f(x)$ 의 그래프는 극댓값이 존재하지 않는다. (거짓)



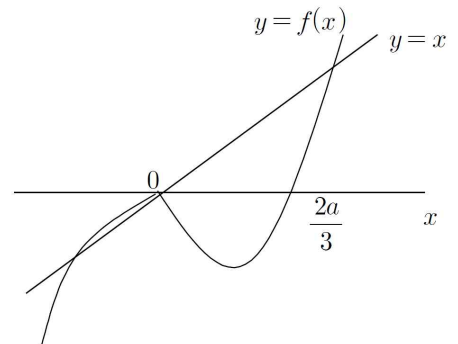
ㄷ. ㄴ 해설에서 (i)인 경우

$f(1) = 3 - 2a$ 이므로 $2 < 3 - 2a < 4$ 에서 $0 < a < \frac{1}{2}$

또한, $x < 0$ 일 때 $f'(x) = -(3x - 2a) - 3x = -6x + 2a$ 이므로

$\lim_{x \rightarrow 0^-} f'(x) = 2a$

이때, $0 < 2a < 1$ 이므로 함수 $y = f(x)$ 의 그래프와 직선 $y = x$ 는 그림과 같이 세 점에서 만난다.



따라서 $2 < f(1) < 4$ 일 때, 방정식 $f(x) = x$ 의 서로 다른 실근의 개수는 3이다.

(ii) L 해설에서 (ii)인 경우

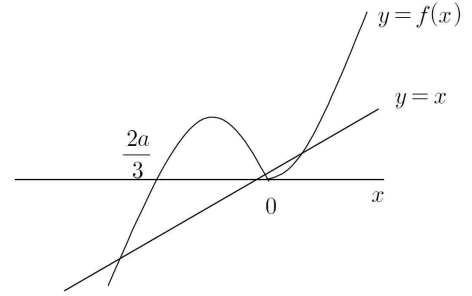
$$f(1) = 3 - 2a \text{ 이므로 } 2 < 3 - 2a < 4 \text{ 에서 } -\frac{1}{2} < a < 0$$

또한, $x > 0$ 일 때

$$f'(x) = (3x - 2a) + 3x = 6x - 2a \text{ 이므로}$$

$$\lim_{x \rightarrow 0^+} f'(x) = -2a$$

이때 $0 < -2a < 1$ 이므로 함수 $y = f(x)$ 의 그래프와 직선 $y = x$ 는 그림과 같이 세 점에서 만난다.



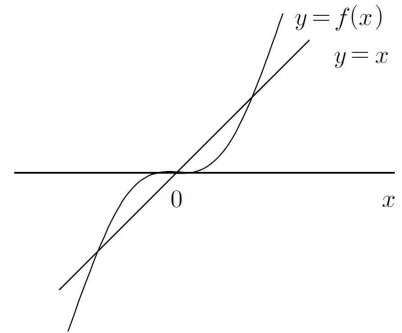
따라서 $2 < f(1) < 4$ 일 때, 방정식 $f(x) = x$ 의 서로 다른 실근의 개수는 3이다.

(iii) L 해설에서 (iii)인 경우

$f(1) = 3$ 이고 함수 $y = f(x)$ 의 그래프와 직선 $y = x$ 는 그림과 같이 세 점에서 만난다.

따라서 $2 < f(1) < 4$ 일 때,

방정식 $f(x) = x$ 의 서로 다른 실근의 개수는 3이다. (참)



이상에서 옳은 것은 ㄱ, ㄴ이다.