

제 2 교시

수학 영역(확률과 통계)

출수형

5지선다형

갈포순

23. 5개의 문자  $x, x, y, y, z$ 를 모두 일렬로 나열하는 경우의 수는? [2점]

- ① 10      ② 20       30      ④ 40      ⑤ 50

㉗  $\frac{5!}{2!2!} = 30$

간단한 확률계산

24. 두 사건  $A, B$ 는 서로 독립이고

$$P(A \cap B) = \frac{1}{4}, \quad P(A^c) = 2P(A)$$

일 때,  $P(B)$ 의 값은? (단,  $A^c$ 은  $A$ 의 여사건이다.) [3점]

- ①  $\frac{3}{8}$       ②  $\frac{1}{2}$       ③  $\frac{5}{8}$        ④  $\frac{3}{4}$       ⑤  $\frac{7}{8}$

두 사건  $A, B$ 가 독립이므로  $P(A)P(B) = P(A \cap B)$  이다.

곧  $P(A)P(B) = \frac{1}{4}$  이고,  $P(A^c) = 1 - P(A) = 2P(A)$  이므로  $P(A) = \frac{1}{3}$

∴  $\frac{1}{3}P(B) = \frac{1}{4}$  에서 ㉗  $P(B) = \frac{3}{4}$

# 2

## 수학 영역(확률과 통계)

홀수형

여사건 놓치지 말자!

25. 숫자 1, 2, 3, 4, 5, 6이 하나씩 적혀 있는 6장의 카드가 있다.  
 이 6장의 카드를 모두 한 번씩 사용하여 일렬로 임의로  
 나열할 때, 양 끝에 놓인 카드에 적힌 두 수의 합이 10 이하가  
 되도록 카드가 놓일 확률은? [3점]

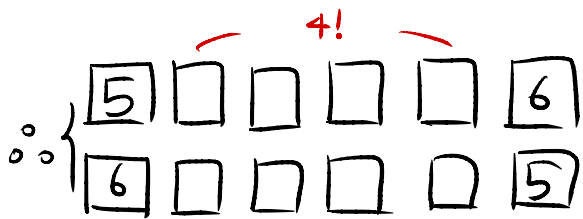
- ①  $\frac{8}{15}$     ②  $\frac{19}{30}$     ③  $\frac{11}{15}$     ④  $\frac{5}{6}$     ⑤  $\frac{14}{15}$  ✓



구하는 경우 케이스가 너무 많음!

⇒ 여사건 ~

여사건 : 양 끝 숫자 합 11



⇒  $6!$  (전체 경우의 수) -  $2 \times 4!$

$$\begin{aligned} \textcircled{7} \frac{6! - 2 \times 4!}{6!} &= \frac{4 \times 3 \times 2 \times 1 \times (6 \times 5 - 2)}{6 \times 5 \times 4 \times 3 \times 2 \times 1} \\ &= \frac{28}{30} \\ &= \frac{14}{15} \end{aligned}$$

생각건 생소할 수 있기도 외...

26. 4개의 동전을 동시에 던져서 앞면이 나오는 동전의 개수를  
 확률변수  $X$ 라 하고, 이산확률변수  $Y$ 를

$$Y = \begin{cases} X & (X \text{가 } 0 \text{ 또는 } 1 \text{의 값을 가지는 경우}) \\ 2 & (X \text{가 } 2 \text{ 이상의 값을 가지는 경우}) \end{cases}$$

라 하자.  $E(Y)$ 의 값은? [3점]

- ①  $\frac{25}{16}$     ②  $\frac{13}{8}$  ✓    ③  $\frac{27}{16}$     ④  $\frac{7}{4}$     ⑤  $\frac{29}{16}$

확률변수  $X$ 의 확률분포를 구해보면 이항분포에 의해

$X$	0	1	2	3	4
$P(X=i)$	$\frac{{}^4C_0}{2^4}$	$\frac{{}^4C_1}{2^4}$	$\frac{{}^4C_2}{2^4}$	$\frac{{}^4C_3}{2^4}$	$\frac{{}^4C_4}{2^4}$

이다.

곧 이산확률변수  $Y$ 의 정의에 의해

$Y$ 는  $\frac{{}^4C_0}{2^4}$ 의 확률로 0,  $\frac{{}^4C_1}{2^4}$ 의 확률로 1, 나머지 확률로 2의 값을 갖는다.

$\frac{{}^4C_0}{2^4} \rightarrow \frac{1}{16}$      $\frac{{}^4C_1}{2^4} \rightarrow \frac{4}{16}$      $\frac{{}^4C_2}{2^4} \rightarrow \frac{11}{16}$

∴

$Y$	0	1	2
$P(Y=i)$	$\frac{1}{16}$	$\frac{4}{16}$	$\frac{11}{16}$

$$\begin{aligned} \text{곧 } \textcircled{8} E(Y) &= 0 \times \frac{1}{16} + 1 \times \frac{4}{16} + 2 \times \frac{11}{16} \\ &= \frac{13}{8} \end{aligned}$$

**출수형**

**수학 영역(확률과 통계)**

**3**

이렇게 27번?

27. 정규분포  $N(m, 5^2)$ 을 따르는 모집단에서 크기가 49인 표본을 임의추출하여 얻은 표본평균이  $\bar{x}$  일 때, 모평균  $m$ 에 대한 신뢰도 95%의 신뢰구간이  $a \leq m \leq \frac{6}{5}a$ 이다.  $\bar{x}$ 의 값은?  
 (단,  $Z$ 가 표준정규분포를 따르는 확률변수일 때,  $P(|Z| \leq 1.96) = 0.95$ 로 계산한다.) [3점]

① 15.2     15.4    ③ 15.6    ④ 15.8    ⑤ 16.0

모평균편차 = 5, 표본의 크기 49이므로  
 신뢰도 95%의 신뢰구간은

$$\bar{x} - 1.96 \frac{5}{\sqrt{49}} \leq m \leq \bar{x} + 1.96 \frac{5}{\sqrt{49}} \text{ 이다.}$$

$\underbrace{\hspace{1.5cm}}_a \qquad \underbrace{\hspace{1.5cm}}_{\frac{6}{5}a}$

$\therefore \frac{6}{5}(\bar{x} - 1.96 \times \frac{5}{7}) = \bar{x} + 1.96 \times \frac{5}{7}$  이므로

$\bar{x} = 11 \times 1.96 \times \frac{5}{7} \quad \text{㉞} \quad \bar{x} = \boxed{15.4}$

조건 단순화 & 조건역학은 차근차근

28. 하나의 주머니와 두 상자 A, B가 있다. 주머니에는 숫자 1, 2, 3, 4가 하나씩 적힌 4장의 카드가 들어 있고, 상자 A에는 흰 공과 검은 공이 각각 8개 이상 들어 있고, 상자 B는 비어 있다. 이 주머니와 두 상자 A, B를 사용하여 다음 시행을 한다.

주머니에서 임의로 한 장의 카드를 꺼내어 카드에 적힌 수를 확인한 후 다시 주머니에 넣는다.

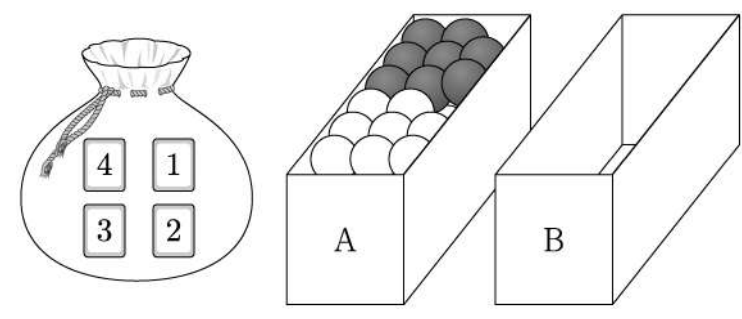
확인한 수가 1이면  
 상자 A에 있는 흰 공 1개를 상자 B에 넣고,

확인한 수가 2 또는 3이면  
 상자 A에 있는 흰 공 1개와 검은 공 1개를 상자 B에 넣고,

확인한 수가 4이면  
 상자 A에 있는 흰 공 2개와 검은 공 1개를 상자 B에 넣는다.

이 시행을 4번 반복한 후 상자 B에 들어 있는 공의 개수가 8일 때, 상자 B에 들어 있는 검은 공의 개수가 2일 확률은?  
 [4점]

- ①  $\frac{3}{70}$     ②  $\frac{2}{35}$     ③  $\frac{1}{14}$      ④  $\frac{3}{35}$     ⑤  $\frac{1}{10}$



길게 뭉개 써있지만 결국 간단하게 정리하면

- $\frac{1}{4}$  확률로 ○
- $\frac{2}{4}$  확률로 ○● 이다.
- $\frac{1}{4}$  확률로 ○○●

곧 옮겨는 공의 개수가 각각 1, 2, 3개이다

$\Rightarrow$  4회의 시행으로 8개를 옮겨야 하므로 8을 4개의 자연수로 분할하면  
 ① (3, 3, 1, 1), ② (3, 2, 2, 1), ③ (2, 2, 2, 2) 이다.

i) (3, 3, 1, 1)  
 $\frac{4!}{2! \cdot 2!} \times (\frac{1}{4})^2 \times (\frac{1}{4})^2 = \frac{6}{4^4}$

ii) (3, 2, 2, 1)  
 $\frac{4!}{2!} \times (\frac{1}{4}) \times (\frac{2}{4})^2 \times (\frac{1}{4}) = \frac{2 \times 12}{4^4}$

iii) (2, 2, 2, 2)  
 $(\frac{2}{4})^4 = \frac{2^4}{4^4}$  (계산의 편의를 위해 분모 통일)

그 중 검은 공이 2개인 경우는 i)뿐이므로  
 구하는 확률은  $\frac{\frac{6}{4^4}}{6 + 48 + 16} = \frac{3}{35}$

# 4

# 수학 영역(확률과 통계)

출수형

단답형

차라리 세면 쉽다. 주의!  $\begin{cases} a \leq c \leq d \\ b \leq c \leq d \end{cases}$  가 같은 조건이라고 본다 (6H3) 하지는 말라.

29. 다음 조건을 만족시키는 6 이하의 자연수  $a, b, c, d$ 의 모든 순서쌍  $(a, b, c, d)$ 의 개수를 구하시오. [4점]

$$a \leq c \leq d \text{이고 } b \leq c \leq d \text{이다.}$$

$a, b \leq c \leq d$  이므로  $c$ 를 기준으로 생각하자.

i)  $C=6$

$d=6$  확정,  $a, b \leq 6$ 만 만족하면 되므로  $6^2$  가지 경우의 수  
 $\Rightarrow 1 \times 6^2$

ii)  $C=5$

$d=5, 6$  가능,  $a, b \leq 5$  만족:  $5^2$  가지  
 $\Rightarrow 2 \times 5^2$

⋮

이와 같은 과정을 반복하면 총 경우의 수는  
 $1 \times 6^2 + 2 \times 5^2 + 3 \times 4^2 + 4 \times 3^2 + 5 \times 2^2 + 6 \times 1^2$  인데

그냥 다 계산해서 더해도 되고,  $\sum_{k=1}^6 k(7-k)^2$  으로 계산해도 된다.

㉞ 196

30번도 쉬울수 있다는 것을 수능에서 보여줌

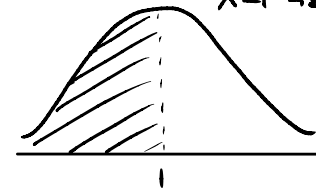
30. 양수  $t$ 에 대하여 확률변수  $X$ 가 정규분포  $N(1, t^2)$ 을 따른다.

$$P(X \leq 5t) \geq \frac{1}{2}$$

이 되도록 하는 모든 양수  $t$ 에 대하여  $P(t^2 - t + 1 \leq X \leq t^2 + t + 1)$ 의 최댓값을 오른쪽 표준정규분포표를 이용하여 구한 값을  $k$ 라 하자.  
 $1000 \times k$ 의 값을 구하시오. [4점]

$z$	$P(0 \leq Z \leq z)$
0.6	0.226
0.8	0.288
1.0	0.341
1.2	0.385
1.4	0.419

$X$ 의 확률분포 그래프

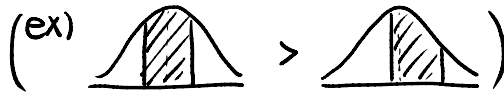


$X \sim N(1, t^2)$ 을 따르므로

$P(X \leq 5t) \geq \frac{1}{2}$ 를 만족하려면  $5t \geq 1$ , 즉  $t \geq \frac{1}{5}$  이어야 한다.  
 이때  $P(t^2 - t + 1 \leq X \leq t^2 + t + 1)$ 을 표준화하면

$$P\left(\frac{t^2 - t}{t} \leq Z \leq \frac{t^2 + t}{t}\right) = P(t - 1 \leq Z \leq t + 1) \text{의 최댓값을 구해야 한다.}$$

표준정규분포는 평균, 즉 0을 기준으로 구간이 최대한 모여있을수록 큰 값을 가지는데



그렇게 하려면  $t=0$ , 곧  $P(t-1 \leq Z \leq t+1) \Rightarrow P(-1 \leq Z \leq 1)$ 일 때 이론상 최대이다.  
 하지만 문제에서  $t \geq \frac{1}{5}$ 이므로 이를 반영해 계산해보면  $t = \frac{1}{5}$ 일 때 최대임을 안다.  
 (왜? 주어진 구간은  $t$ 를 기준으로  $\pm 1$ 씩의 구간, 즉  $t$ 가 평균에 최대한 가까워야 함)



구하는 최댓값은  $P(-\frac{4}{5} \leq Z \leq \frac{4}{5})$ 이다.

$$\begin{aligned} \text{㉞ } & P(0 \leq Z \leq \frac{4}{5}) + P(0 \leq Z \leq \frac{4}{5}) \\ &= 0.288 + 0.385 \\ &= 0.673 = k \text{ 이므로 } 1000k = \boxed{673} \end{aligned}$$

\* 확인 사항

- 답안지의 해당란에 필요한 내용을 정확히 기입(표기)했는지 확인하시오.
- 이어서, 「선택과목(미적분)」 문제가 제시되오니, 자신이 선택한 과목인지 확인하시오.

제 2 교시

수학 영역(미적분)

출수형

5지선다형

풀이대로 풀 것들 없죠? ㄱㄱ  
 23.  $\lim_{x \rightarrow 0} \frac{\ln(1+3x)}{\ln(1+5x)}$  의 값은? [2점]

- ①  $\frac{1}{5}$     ②  $\frac{2}{5}$     ③  $\frac{3}{5}$     ④  $\frac{4}{5}$     ⑤ 1

ㄱ 이므로  $x \neq 0$ 이고, 분자/분모를 각각  $x$ 로 나눠주면

$$\textcircled{ㄱ} \lim_{x \rightarrow 0} \frac{\frac{\ln(1+3x)}{3x} \cdot 3}{\frac{\ln(1+5x)}{5x} \cdot 5} = \frac{3}{5}$$

매개변수 미분법. 술술 지명다

24. 매개변수  $t (t > 0)$ 으로 나타내어진 곡선

$$x = \ln(t^3 + 1), \quad y = \sin \pi t$$

에서  $t=1$ 일 때,  $\frac{dy}{dx}$ 의 값은? [3점]

- ①  $-\frac{1}{3}\pi$     ②  $-\frac{2}{3}\pi$     ③  $-\pi$     ④  $-\frac{4}{3}\pi$     ⑤  $-\frac{5}{3}\pi$

$x$ 와  $y$ 를 각각  $t$ 에 대해 미분하면

$$\frac{dx}{dt} = \frac{3t^2}{t^3+1}, \quad \frac{dy}{dt} = \pi \cos \pi t$$

$$\therefore \frac{dy}{dx} = \frac{\frac{dy}{dt}}{\frac{dx}{dt}} = \frac{(t^3+1)\pi \cos \pi t}{3t^2} \text{ 이므로 } t=1 \text{을 대입하면}$$

$$\textcircled{ㄱ} \frac{dy}{dx} = -\frac{2}{3}\pi$$

(당연히  $\frac{dx}{dt}, \frac{dy}{dt}$  각각의 식에 먼저  $t=1$ 을 대입해도 무방!)

# 2

# 수학 영역(미적분)

## 홀수형

역함수미분 @ 로그미분법 @ 부연설명 꼭 읽어보시길

25. 양의 실수 전체의 집합에서 정의되고 미분가능한  
 두 함수  $f(x), g(x)$ 가 있다.  $g(x)$ 는  $f(x)$ 의 역함수이고,  
 $g'(x)$ 는 양의 실수 전체의 집합에서 연속이다.  
 모든 양수  $a$ 에 대하여 ↪ 부연설명 다음 page

$$\int_1^a \frac{1}{g'(f(x))f(x)} dx = 2\ln a + \ln(a+1) - \ln 2$$

이코  $f(1)=8$ 일 때,  $f(2)$ 의 값은? [3점]

- ① 36    ② 40    ③ 44    ④ 48    ⑤ 52

$f$ 와  $g$ 는 미분가능하고, 서로 역함수 관계에 있으므로 역함수의 미분법에 의해

$$f(x) = \frac{1}{g'(f(x))} \text{ 이다.}$$

$$\begin{aligned} \text{곧 } \int_1^a \frac{1}{g'(f(x))f(x)} dx &= \int_1^a \frac{f'(x)}{f(x)} dx \\ &= [\ln|f(x)|]^a \\ &= \ln|f(a)| - \ln|f(1)| \text{ 이고, } f(1)=8 \text{ 이므로} \\ &\Rightarrow \ln|f(a)| - 3\ln 2 \text{ 이다.} \end{aligned}$$

$$\begin{aligned} \therefore \ln|f(a)| - 3\ln 2 &= 2\ln a + \ln(a+1) - \ln 2 \\ \Rightarrow \ln|f(a)| &= 2\ln a + \ln(a+1) + 2\ln 2 \\ &= \ln(4a^2(a+1)) \quad (\text{모든 양수 } a \text{에서 } 4a^2(a+1) > 0) \end{aligned}$$

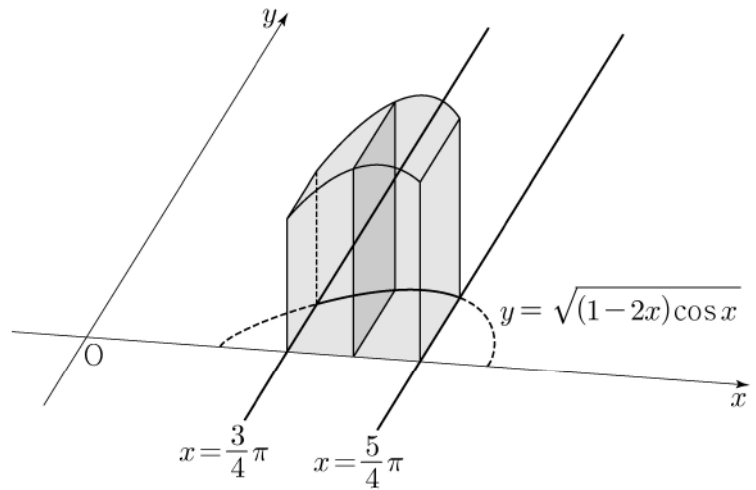
이 때,  $f$ 의 역함수  $g$ 의 정역역이 양수이므로  $f$ 의 치역도 양수이다.  
 $\Rightarrow f(a) > 0$  이므로  $|f(a)| = f(a)$

곧  $f(a) = 4a^2(a+1)$  에서 ④  $f(2) = \boxed{48}$

입체 정사각형. 계산 중 귀찮아도 뭐 금방해야죠

26. 그림과 같이 곡선  $y = \sqrt{(1-2x)\cos x}$  ( $\frac{3}{4}\pi \leq x \leq \frac{5}{4}\pi$ )와

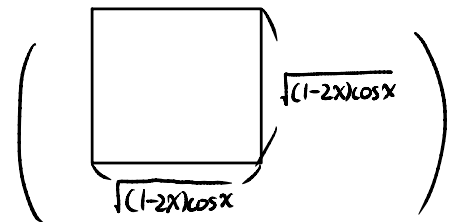
$x$ 축 및 두 직선  $x = \frac{3}{4}\pi, x = \frac{5}{4}\pi$ 로 둘러싸인 부분을 밑면으로  
 하는 입체도형이 있다. 이 입체도형을  $x$ 축에 수직인 평면으로  
 자른 단면이 모두 정사각형일 때, 이 입체도형의 부피는? [3점]



- ①  $\sqrt{2}\pi - \sqrt{2}$     ②  $\sqrt{2}\pi - 1$     ③  $2\sqrt{2}\pi - \sqrt{2}$   
 ④  $2\sqrt{2}\pi - 1$     ⑤  $2\sqrt{2}\pi$

단면이 모두 정사각형

$\Rightarrow$  단면의 넓이  $(1-2x)\cos x$



$$\text{곧 } \int_{\frac{3}{4}\pi}^{\frac{5}{4}\pi} (1-2x)\cos x dx = [(1-2x)\sin x]_{\frac{3}{4}\pi}^{\frac{5}{4}\pi} + 2 \int_{\frac{3}{4}\pi}^{\frac{5}{4}\pi} \sin x dx \quad (\text{부분적분})$$

$$= [(1-2x)\sin x]_{\frac{3}{4}\pi}^{\frac{5}{4}\pi} - 2[\cos x]_{\frac{3}{4}\pi}^{\frac{5}{4}\pi}$$

$\cos x$ 가  $x=\pi$  대칭인거  
 이용하면 조금이나마  
 시간 단축 가능

$$= \left\{ -\frac{\sqrt{2}}{2}(1-\frac{5}{4}\pi) - \frac{\sqrt{2}}{2}(1-\frac{3}{4}\pi) \right\} - 2 \times 0$$

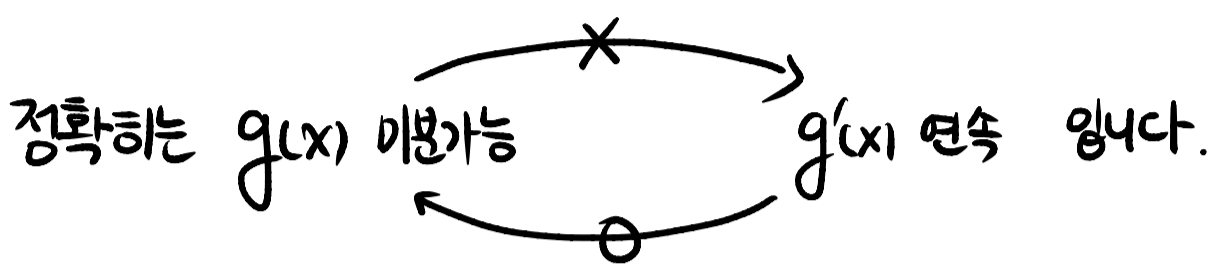
$$= 2\sqrt{2}\pi - 2$$

③  $\boxed{2\sqrt{2}\pi - 2}$

※ 문제 조건이 과한 조건이 아닌지 생각하시는 분들을 위해 ~

⇒  $g(x)$ 가 미분가능하다 →  $g'(x)$ 는 연속이다 보장! 이라고 생각하시는 분 있으신가요?

그래서 '아니 이미  $g'(x)$ 는 연속함수인게 확실인데 굳이 연속조건을 왜 또 주지?' 라고 생각하신 분들이 계시다면 잘못 알고 계신겁니다.



지금까지의 손풀이에서는 그냥 두 조건이 필요충분조건인 것처럼 썼는데, 이는 이번 설명하는 것도 불가능하고 해서 그랬던 거고 실제로 그렇지 않습니다.

문제에서 정확히 짚어쳐서 드디어 이 내용을 쓸 기회가 생겼네요.

물론, 거의 대부분의 '고등학교' 수학 문제에서는 상관이 없는게 맞습니다.

문제가 ' $g'(x)$ 의 좌극한과 우극한 중 하나라도 존재하지 않을때' 발생하고, 대부분의 문제는  $g(x)$ 의 좌극한과 우극한이 모두 정의되니까요.

뭔 개소리인가 싶으시면 아주 유명한 예시를 하나 보여드리겠습니다.

$$f(x) = \begin{cases} x^2 \sin \frac{1}{x} & (x \neq 0) \\ 0 & (x = 0) \end{cases} \text{ 의 함수를 봅시다. (물론 수II의 교육과정은 X)}$$

①  $f'(0) = \lim_{x \rightarrow 0} \frac{x^2 \sin \frac{1}{x}}{x} = \lim_{x \rightarrow 0} x \sin \frac{1}{x} = 0$  (미분계수 존재 : 미분가능!)

②  $f'(x) = 2x \sin \frac{1}{x} - \cos \frac{1}{x}$  에서  $\lim_{x \rightarrow 0} f'(x)$ 는 존재하지 않습니다. (연속 X)

따라서 굳이 문제에서 도함수가 연속이라는 추가 조건을 준다고, 그렇거나 하고 문제푸시면 됩니다.

그래도 위 내용은 알아두세요!

출수형

수학 영역(미적분)

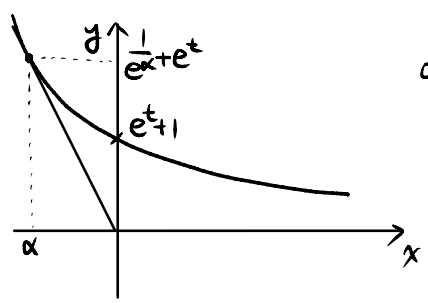
3

최근에 나온 27번 중 제일 어려운듯. 매개변수 잡고 꾸덕꾸덕 계산  
27. 실수  $t$ 에 대하여 원점을 지나고 곡선  $y = \frac{1}{e^x} + e^t$ 에 접하는

직선의 기울기를  $f(t)$ 라 하자.  $f(a) = -e\sqrt{e}$ 를 만족시키는 상수  $a$ 에 대하여  $f'(a)$ 의 값은? [3점]

- ①  $-\frac{1}{3}e\sqrt{e}$       ②  $-\frac{1}{2}e\sqrt{e}$       ③  $-\frac{2}{3}e\sqrt{e}$
- ④  $-\frac{5}{6}e\sqrt{e}$       ⑤  $-e\sqrt{e}$

문제 상황을 그려보면



이므로  $t$ 가 변하면  $\alpha$ 도 변한다.  
⇒ 매개변수 설정!

원점을 지나는 접선이므로

$(0,0) \sim (\alpha, \frac{1}{e^\alpha} + e^t)$ 까지의 평균변화율 =  $(x=\alpha)$ 에서의 순간변화율 이용

⇒  $\frac{\frac{1}{e^\alpha} + e^t}{\alpha} = -e^{-\alpha} = f(t)$  이다.

⇒  $\frac{1}{e^\alpha} + e^t = -\frac{\alpha}{e^\alpha}$  이므로  $-\frac{\alpha+1}{e^\alpha} = e^t$  여기서 두 가지 풀이가!

sol.) 꾸덕꾸덕  $t$ 를  $\alpha$ 에 대한 식으로 바꾸고 미분

$-\frac{\alpha+1}{e^\alpha} = e^t$ 에서  $t = \ln\left(-\frac{\alpha+1}{e^\alpha}\right)$  이다.

∴  $f\left(\ln\left(-\frac{\alpha+1}{e^\alpha}\right)\right) = -e^{-\alpha}$

곧  $f(a) = -e\sqrt{e}$ 를 만족하는 경우는  $\alpha = -\frac{3}{2}$ 인 경우다. ( $a = \ln\left(-\frac{-\frac{3}{2}+1}{e^{-\frac{3}{2}}}\right) = \frac{1}{2}e^{\frac{3}{2}}$ )

양변을 미분하면

$-\frac{\alpha}{e^\alpha} f\left(\ln\left(-\frac{\alpha+1}{e^\alpha}\right)\right) = e^{-\alpha}$  이므로  $\alpha = -\frac{3}{2}$ 를 대입하면

㉠  $f\left(\frac{1}{2}e^{\frac{3}{2}}\right) = f(a) = -\frac{1}{3}e\sqrt{e}$

sol.) 이 상태에서  $\alpha$ 로 미분

$f(t) = -e^{-\alpha}$ 의 양변을  $\alpha$ 로 미분하면  $\frac{dt}{d\alpha} f(t) = e^{-\alpha}$  이다.

또한,  $e^t = -\frac{\alpha+1}{e^\alpha}$ 의 양변을  $\alpha$ 로 미분하면  $\frac{dt}{d\alpha} e^t = \alpha e^{-\alpha}$  이다.

곧  $\alpha f(t) = e^t$ 에서  $f(t) = \frac{e^t}{\alpha}$  이다.

이때 마찬가지로  $f(a) = -e\sqrt{e}$ 를 만족하는  $a$ 는  $\alpha = -\frac{3}{2}$ 일 때이므로

$e^t = -\frac{\alpha+1}{e^\alpha}$ 에  $\alpha = -\frac{3}{2}$ 를 대입하면  $t$ 를 구한다.

→  $t$ 와  $\alpha$ 를 모두 구했으니 ㉠  $f(a) = \frac{e^t}{\alpha}$ 도 구할 수 있다.

계산 생략 ~

$y=t$ 와의 교점을 보려면 당연히 역함수일 줄 알았는데 아님... 문제 잘 낸듯

28. 실수 전체의 집합에서 연속인 함수  $f(x)$ 가 모든 실수  $x$ 에

대하여  $f(x) \geq 0$ 이고,  $x < 0$ 일 때  $f(x) = -4xe^{4x^2}$ 이다.

모든 양수  $t$ 에 대하여  $x$ 에 대한 방정식  $f(x) = t$ 의 서로 다른 실근의 개수는 2이고, 이 방정식의 두 실근 중 작은 값을  $g(t)$ , 큰 값을  $h(t)$ 라 하자.

두 함수  $g(t), h(t)$ 는 모든 양수  $t$ 에 대하여

$2g(t) + h(t) = k$  ( $k$ 는 상수)

를 만족시킨다.  $\int_0^7 f(x) dx = e^4 - 1$ 일 때,  $\frac{f(9)}{f(8)}$ 의 값은? [4점]

- ①  $\frac{3}{2}e^5$       ②  $\frac{4}{3}e^7$       ③  $\frac{5}{4}e^9$       ④  $\frac{6}{5}e^{11}$       ⑤  $\frac{7}{6}e^{13}$

$x < 0$ 일 때  $f(x) = -4xe^{4x^2}$ 이므로  $f'(x) = -4e^{4x^2}(1+8x^2)$   
⇒ 감소함수

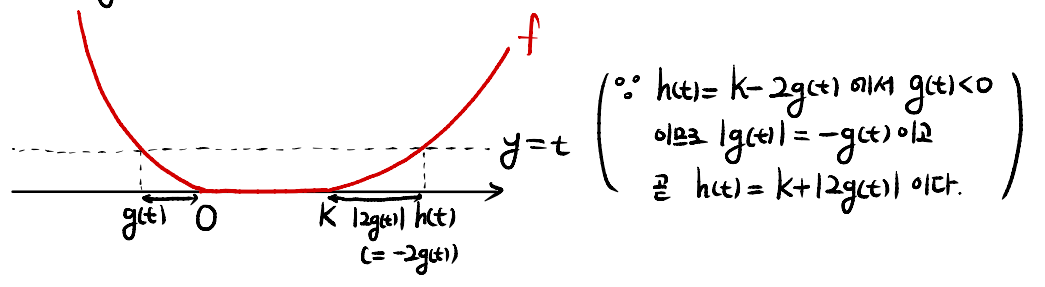
이때  $f(x) = t$  ( $t$ 는 양수)의 서로 다른 실근의 개수가 항상 2개에 주목하자.

$x < 0$ 일 때  $f(x)$ 는 감소함수이므로  $f(x) = t$  ( $x < 0$ )의 실근은 1개

⇒  $x \geq 0$ 일 때 도 마찬가지로  $f(x) = t$  ( $x \geq 0$ )의 실근 1개여야 함

∴  $x \geq 0$ 에서  $f(x)$ 는 증가함수

또한,  $2g(t) + h(t) = k$ 로 일정한 조건에서 다음과 같이 그래프를 그릴 수 있다.

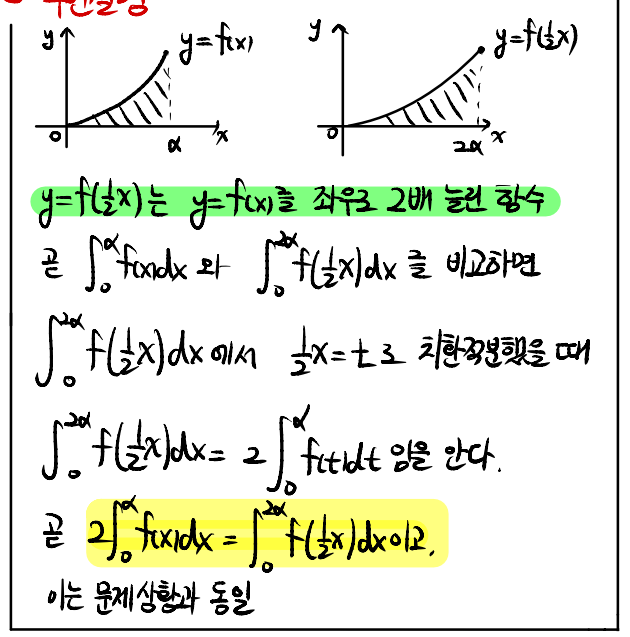


곧,  $x < 0$ 에서의  $|g(t)|$ 만큼의 길이가 그대로  $x > 0$ 에서는  $|2g(t)|$ 만큼의 길이가 되므로

$x < 0$ 에서의  $f(x)$ 를 좌우로 2배 늘린 그래프와  $x > 0$ 에서의 그래프와 모양이 동일. (단, 모양이 같다는건 평행/대칭동향을 때 겹쳐질 수 있는 것을 의미한다.)

∴ 적분값에도 그대로 적용되므로  $2 \int_{g(t)}^0 f(x) dx = \int_k^{h(t)} f(x) dx$  이다.

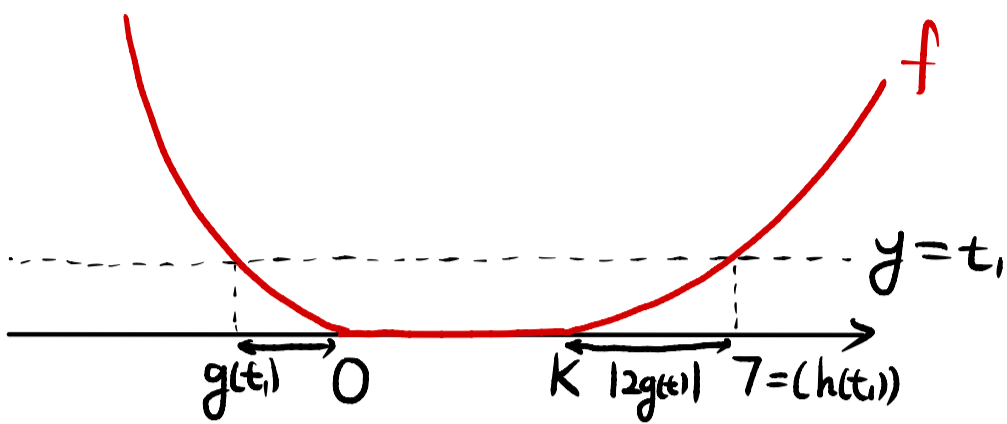
↓ 부연설명



다음 page



곧  $\int_0^7 f(x) dx = e^4 - 1$  을 이용하기 위해  $h(t_1) = 7$  을 만족하는  $y = t_1$  을 잡자.



$$\begin{aligned} \Rightarrow \int_0^7 f(x) dx &= \int_k^7 f(x) dx \\ &= \int_k^{h(t_1)} f(x) dx \text{ 이고, 이는 곧 } 2 \int_{g(t_1)}^0 f(x) dx \text{ 와 같다.} \end{aligned}$$

$$\therefore 2 \int_{g(t_1)}^0 -4xe^{4x^2} dx = e^4 - 1$$

$$\Rightarrow 2x \left[ -\frac{1}{2} e^{4x^2} \right]_{g(t_1)}^0$$

$$\Rightarrow 2 \left( -\frac{1}{2} e^0 + \frac{1}{2} e^{4(g(t_1))^2} \right)$$

$$\Rightarrow e^{4(g(t_1))^2} - 1 \text{ 이므로 } (g(t_1))^2 = 1$$

$$\therefore g(t_1) = -1 \quad (\because g(t_1) < 0)$$

따라서  $g(t_1) = -1$ ,  $h(t_1) = 7$  이므로  $2g(t_1) + h(t_1) = k$  이거나  $k = 5$  이다.

$$\therefore \left. \begin{aligned} f(9) &= f(5 - 2g(t_2)) \text{ 이거나 } g(t_2) = -2 \text{ 이고, 곧 } f(-2) \text{ 이다.} \\ f(8) &= f(5 - 2g(t_3)) \text{ 이거나 } g(t_3) = -\frac{3}{2} \text{ 이고, 곧 } f(-\frac{3}{2}) \text{ 이다.} \end{aligned} \right\}$$

$$\begin{aligned} \textcircled{7} \frac{f(9)}{f(8)} &= \frac{f(-2)}{f(-\frac{3}{2})} = \frac{8e^{16}}{6e^9} \\ &= \boxed{\frac{4}{3}e^7} \end{aligned}$$

# 4

# 수학 영역(미적분)

## 홀수형

### 단답형

등비수열의 곱/나눗셈 → 새로운 등비수열!

29. 첫째항과 공비가 각각 0이 아닌 두 등비수열

$\{a_n\}, \{b_n\}$ 에 대하여 두 급수  $\sum_{n=1}^{\infty} a_n, \sum_{n=1}^{\infty} b_n$ 이 각각 수렴하고

$$\sum_{n=1}^{\infty} a_n b_n = \left( \sum_{n=1}^{\infty} a_n \right) \times \left( \sum_{n=1}^{\infty} b_n \right),$$

$$3 \times \sum_{n=1}^{\infty} |a_{2n}| = 7 \times \sum_{n=1}^{\infty} |a_{3n}|$$

이 성립한다.  $\sum_{n=1}^{\infty} \frac{b_{2n-1} + b_{3n+1}}{b_n} = S$ 일 때,  $120S$ 의 값을 구하시오. [4점]

두 수열  $\{a_n\}$ 과  $\{b_n\}$ 의 (초항을  $a_1, b_1$ 로 두자.  
 공비를  $r_1, r_2$ )  
 $\Rightarrow \sum_{n=1}^{\infty} a_n, \sum_{n=1}^{\infty} b_n$ 이 모두 수렴하므로  $\lim_{n \rightarrow \infty} a_n = \lim_{n \rightarrow \infty} b_n = 0$   
 $\Rightarrow -1 < r_1, r_2 < 1$

$$\textcircled{1} \sum_{n=1}^{\infty} a_n b_n = \left( \sum_{n=1}^{\infty} a_n \right) \times \left( \sum_{n=1}^{\infty} b_n \right)$$

먼저, 수열  $\{c_n\} = a_n b_n$ 을 생각하면

$\{c_n\}$ 은 초항이  $a_1 b_1$ , 공비가  $r_1 r_2$ 인 등비수열이다.

$$(\because a_n = a_1 r_1^{n-1}, b_n = b_1 r_2^{n-1} \text{ 이므로 } a_n b_n = a_1 b_1 (r_1 r_2)^{n-1})$$

$$\Rightarrow \sum_{n=1}^{\infty} a_n b_n = \frac{a_1 b_1}{1 - r_1 r_2} \text{ 이므로 우변과 비교하면 } \frac{a_1 b_1}{1 - r_1 r_2} = \frac{a_1}{1 - r_1} \cdot \frac{b_1}{1 - r_2}$$

$$\therefore 1 - r_1 r_2 = (1 - r_1)(1 - r_2)$$

$$\Rightarrow 2r_1 r_2 = r_1 + r_2$$

$$\textcircled{2} 3 \times \sum_{n=1}^{\infty} |a_{2n}| = 7 \times \sum_{n=1}^{\infty} |a_{3n}|$$

우선,  $a_{2n}$ 은 공비가  $r_1^2$ 이므로 무조건 양수임에 초점.

$\Rightarrow$  모든 항의 부호가 같음

$\Rightarrow$  절댓값을 씌운다 하더라도 결국 전체에 (-) 붙나 안붙나 차이.

그이 반해  $a_{3n}$ 은 공비가  $r_1^3$ 이므로  $r_1 > 0$ 이면 양수,  $r_1 < 0$ 이면 음수.

곧 케이스 분류를 해보자. (다음 page)

아무리 봐도 문제 유형은 많이 본 30번 유형인데... 난이도는 30번에 가까운 느낌 있음

30. 실수 전체의 집합에서 미분가능한 함수  $f(x)$ 의 도함수

$f'(x)$ 가

$$f'(x) = |\sin x| \cos x$$

이다. 양수  $a$ 에 대하여 곡선  $y=f(x)$  위의 점  $(a, f(a))$ 에서의 접선의 방정식을  $y=g(x)$ 라 하자. 함수

$$h(x) = \int_0^x \{f(t) - g(t)\} dt$$

가  $x=a$ 에서 극대 또는 극소가 되도록 하는 모든 양수  $a$ 를 작은 수부터 크기순으로 나열할 때,  $n$ 번째 수를  $a_n$ 이라 하자.

$\frac{100}{\pi} \times (a_6 - a_2)$ 의 값을 구하시오. [4점]

절댓값은 결국 0을 기준으로!

$$f(x) = \begin{cases} \sin x \cos x & (\sin x \geq 0, \text{ 곧 } 2n\pi \leq x < (2n+1)\pi, n \text{은 정수}) \\ -\sin x \cos x & (\sin x < 0, \text{ 곧 } (2n+1)\pi < x < 2n\pi, n \text{은 정수}) \end{cases}$$

또한,  $f(x)$ 를 적분하여  $F(x)$ 를 구하면 다음과 같다.

$$\left( \begin{array}{l} \cos x = \frac{1}{2} \text{로 두기 재변환} \\ \sin x \cos x = \frac{1}{2} \sin 2x \text{로 두기 적분} \end{array} \right) \text{ 모두 가능하지만 아래 방법을 추천}$$

$$F(x) = \begin{cases} -\frac{1}{4}(\cos 2x + C_1) & (2n\pi < x < (2n+1)\pi, n \text{은 정수}) \\ \frac{1}{4}(\cos 2x + C_2) & ((2n+1)\pi < x < 2n\pi, n \text{은 정수}) \end{cases} \text{ 이다.}$$

이때  $F(x)$ 는 실수 전체에서 미분가능하므로 연속이다.

$$\Rightarrow n=0 \text{ 대입하면 } -\frac{1}{4} + C_1 = \frac{1}{4} + C_2 \text{ 이어야 하므로 } C_2 = C_1 - \frac{1}{2}$$

이제부터 두 가지 풀이가 가능하다.

다음 page

\* 확인 사항

○ 답안지의 해당란에 필요한 내용을 정확히 기입(표기)했는지 확인하시오.

○ 이어서, 「선택과목(기하)」 문제가 제시되오니, 자신이 선택한 과목인지 확인하시오.

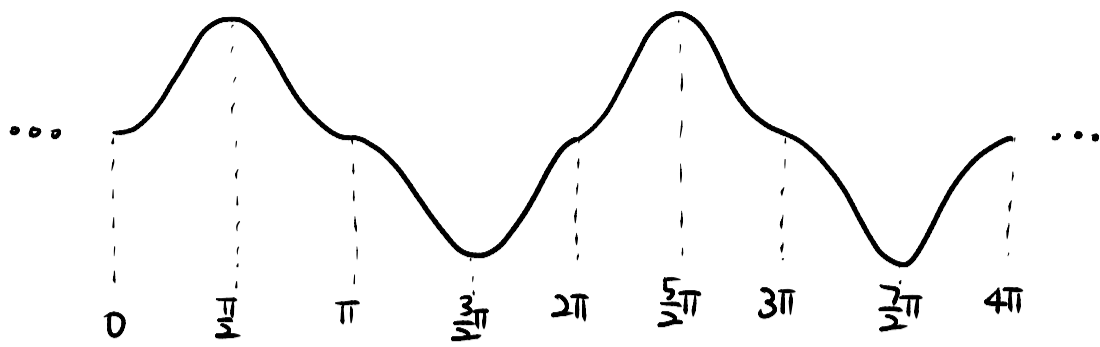


30번 이어서 ... ①

만든놈: crazy\_hansuckwon  
 수만휘: 한성휘의 눈물  
 오르비: 모의고사 손풀이 올리는 계정

sol.)  $f(x)$  이용

$f(x)$  그래프를 그리면 다음과 같다.



$h(x) = \int_0^x (f(t) - g(t)) dt$  이므로 ①  $h(0) = 0$ , ②  $h'(x) = f(x) - g(x)$  를 알 수 있는데,

곧  $h(x)$ 가 극점이 되는 지점은  $f(x) - g(x)$ 의 부호 변동점, 즉  $f(x)$ 와  $g(x)$ 의 대소관계가 바뀌는 지점이다. 그런데  $g(x)$ 는  $f(x)$ 의 접선이므로 일반적으로는 대소관계가 바뀌지 않는다. ex)

$\Rightarrow (a, f(a))$ 는 변곡점이야 함!

①  $y = -\frac{1}{4}\cos 2x + C_1$  ( $2n\pi < x < (2n+1)\pi$ ,  $n$ 은 정수)의 변곡점

이 경우, 미분한 식  $\sin x \cos x$ 은 이미 알려져 있으므로 한 번 더 미분하면  $\cos^2 x - \sin^2 x$  이므로  $\sin x = \frac{\sqrt{2}}{2}$  일 때 부호 변동 발생 : 변곡점  
 $\Rightarrow x = \frac{\pi}{4}, \frac{3\pi}{4}, 2\pi + \frac{\pi}{4}, 2\pi + \frac{3\pi}{4} \dots$  ( $2n\pi + \frac{\pi}{4}, 2n\pi + \frac{3\pi}{4}$  ( $n$ 은 정수))

②  $y = \frac{1}{4}\cos 2x + C_2$  ( $(2n+1)\pi < x < 2n\pi$ ,  $n$ 은 정수)의 변곡점

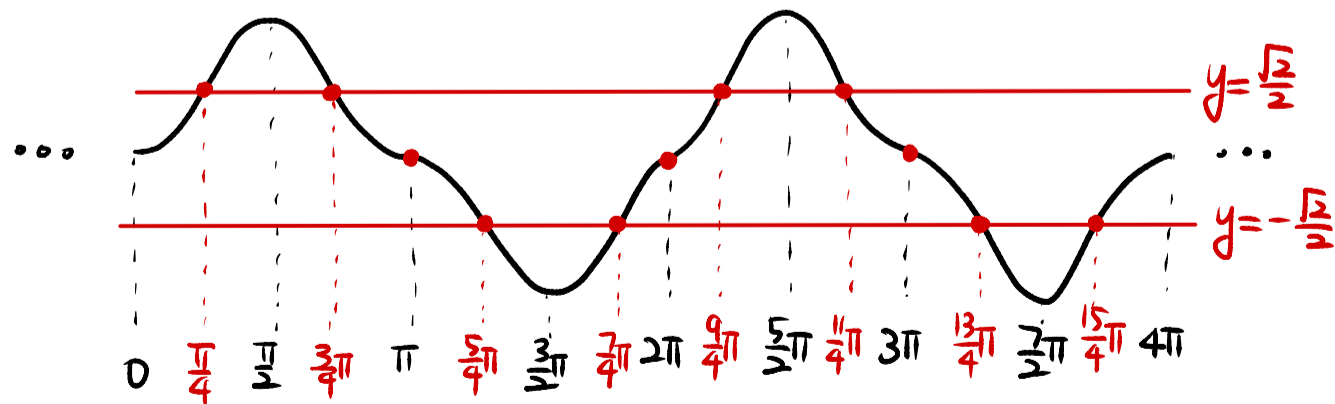
동일하게 생각하면  $\sin x = -\frac{\sqrt{2}}{2}$ 을 만족하는 지점에서 변곡점.  
 $\Rightarrow x = \frac{5\pi}{4}, \frac{7\pi}{4}, 2\pi + \frac{5\pi}{4}, 2\pi + \frac{7\pi}{4} \dots$  ( $2n\pi + \frac{5\pi}{4}, 2n\pi + \frac{7\pi}{4}$  ( $n$ 은 정수))

③  $y = -\frac{1}{4}\cos 2x + C_1$  과  $y = \frac{1}{4}\cos 2x + C_2$  의 접지점

$y = -\frac{1}{4}\cos 2x + C_1$  는  $x = \pi$  주변에서 아래로 볼록  
 $y = \frac{1}{4}\cos 2x + C_2$  는 " 위로 볼록  
 하므로 연결지점인  $x = \pi$ 도 변곡점.

$\Rightarrow$  주기함수의 성질에 의해  $x = n\pi$  ( $n$ 은 정수) 모두 변곡점

곧 변곡점을 꼭 표기해보면



곧 양수  $a$ 에 대해

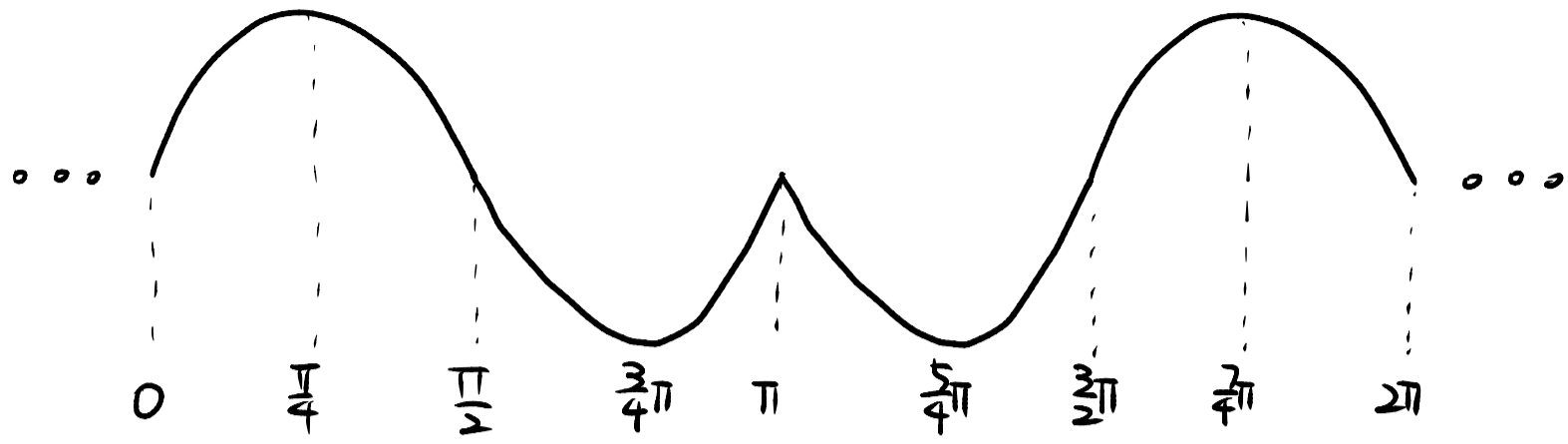
$a_1 = \frac{\pi}{4}, a_2 = \frac{3\pi}{4} \dots a_6 = 2\pi$ 이다.

$$\therefore \textcircled{7} \frac{100}{\pi} (a_6 - a_2) = \frac{100}{\pi} \times (2\pi - \frac{3\pi}{4}) = \boxed{125}$$

30번 이어서 ... (2)

sol.) 직방까지 안가고 그냥  $f(x)$  신이서 해결

$f'(x)$  그래프를 그려보면 다음과 같다.



마찬가지로  $h'(x) = f(x) - g(x)$  이어서  
 $h(x)$ 는  $f(x)$ 와  $g(x)$ 의 대소관계가 바뀌는 점에서 극점을 가진다.  $\Rightarrow f(x)$ 의 변곡점! (여기까지는 sol.)과 동일)

곧 이는  $f'(x)$ 의 극점과 동일하고,  $x = \frac{\pi}{4}, \frac{3\pi}{4}, \pi, \frac{5\pi}{4}, \frac{3\pi}{2}, 2\pi, \dots$  임을 바로 안다.

$\therefore \textcircled{7} \frac{100}{\pi} (a_6 - a_2) = \boxed{125}$



제 2 교시

수학 영역(기하)

출수형

5지선다형

중점: 평면

23. 좌표공간의 두 점  $A(a, -2, 6)$ ,  $B(9, 2, b)$ 에 대하여 선분 AB의 중점의 좌표가  $(4, 0, 7)$ 일 때,  $a+b$ 의 값은? [2점]

- ① 1      ② 3      ③ 5      ④ 7      ⑤ 9

$\frac{a+9}{2} = 4, \frac{6+b}{2} = 7$  이므로  $a = -1, b = 8$

⊕  $a+b = 7$

접선 주어진 때의 접선의 방정식

24. 타원  $\frac{x^2}{a^2} + \frac{y^2}{6} = 1$  위의 점  $(\sqrt{3}, -2)$ 에서의 접선의

기울기는? (단,  $a$ 는 양수이다.) [3점]

- ①  $\sqrt{3}$       ②  $\frac{\sqrt{3}}{2}$       ③  $\frac{\sqrt{3}}{3}$       ④  $\frac{\sqrt{3}}{4}$       ⑤  $\frac{\sqrt{3}}{5}$

중점의 좌표가 주어졌으므로 접선의 방정식을 구할 수 있다.

$\Rightarrow \frac{\sqrt{3}x}{a^2} + \frac{-2y}{6} = 1$

또한,  $(\sqrt{3}, -2)$ 이  $\frac{x^2}{a^2} + \frac{y^2}{6} = 1$  위의 점이므로 대입하면 생략

$\therefore \frac{3}{a^2} + \frac{4}{6} = 1$  이므로  $a^2 = 9$

곧  $\frac{\sqrt{3}}{9}x - \frac{1}{3}y = 1$  이고, 정리하면  $y = \frac{\sqrt{3}}{3}x - 3$ 이다.

⊕ 접선의 기울기 =  $\frac{\sqrt{3}}{3}$

※ 음함수의 미분을 안다면? (미정)

$a^2 = 9$ 는 동일하게 구하고

$\frac{x^2}{a^2} + \frac{y^2}{6} = 1$  을  $x$ 에 대해 미분하면

$\frac{2x}{a^2} + \frac{2y}{6} \cdot \frac{dy}{dx} = 0$  이시  $\frac{dy}{dx} = -\frac{6x}{a^2 y}$  이므로

$x = \sqrt{3}, y = -2$ 를 대입하면 ⊕  $\frac{dy}{dx} = \frac{\sqrt{3}}{3}$

# 2

# 수학 영역(기하)

## 홀수형

25. 두 벡터  $\vec{a}, \vec{b}$  에 대하여

$$|\vec{a}| = \sqrt{11}, |\vec{b}| = 3, |2\vec{a} - \vec{b}| = \sqrt{17}$$

일 때,  $|\vec{a} - \vec{b}|$  의 값은? [3점]

- ①  $\frac{\sqrt{2}}{2}$     ②  $\sqrt{2}$     ③  $\frac{3\sqrt{2}}{2}$     ④  $2\sqrt{2}$     ⑤  $\frac{5\sqrt{2}}{2}$

Sol1) 내적의 성질 이용


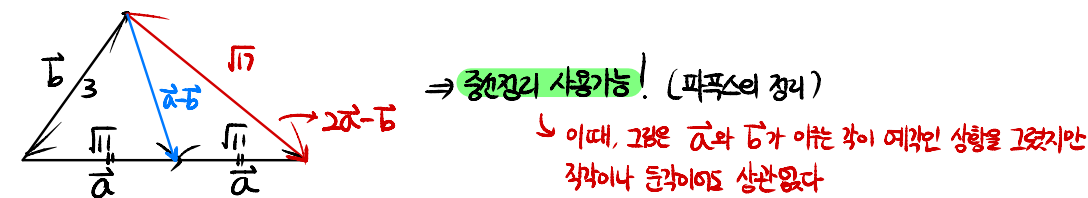
$$\begin{aligned} |2\vec{a} - \vec{b}| = \sqrt{17} \text{ 의 양변을 제곱하면 } |2\vec{a} - \vec{b}|^2 &= 4|\vec{a}|^2 - 4\vec{a} \cdot \vec{b} + |\vec{b}|^2 \\ &= 4 \times (\sqrt{11})^2 - 4\vec{a} \cdot \vec{b} + 3^2 \\ &= 44 - 4\vec{a} \cdot \vec{b} + 9 = 17 \\ \therefore \vec{a} \cdot \vec{b} &= 9 \end{aligned}$$

$$\begin{aligned} \text{곧 구하는 값 } |\vec{a} - \vec{b}| \text{ 을 제곱하면 } |\vec{a} - \vec{b}|^2 &= |\vec{a}|^2 - 2\vec{a} \cdot \vec{b} + |\vec{b}|^2 \text{ 이므로} \\ &= (\sqrt{11})^2 - 2 \times 9 + 3^2 \\ &= 11 - 18 + 9 \\ &= 2 \end{aligned}$$

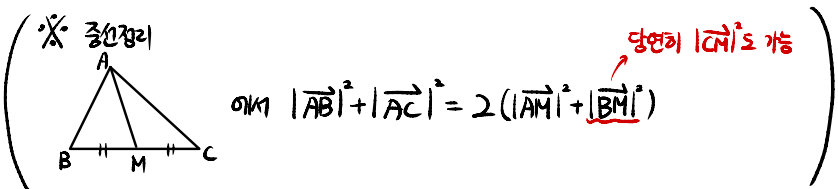
④  $|\vec{a} - \vec{b}| = \sqrt{2}$  ( $\because |\vec{a} - \vec{b}| > 0$ )

Sol2) 문제 상황 파악

벡터를 이차원 평면에 그려보자. (이차원이라는 보장은 없으나 차원 더 높아도 같은 같겠지 뭐...)

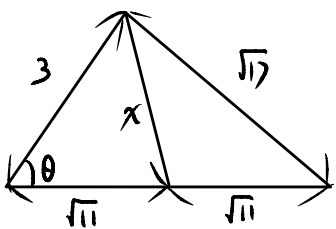


중선 정리에 의해  
 $3^2 + (\sqrt{11})^2 = 2((\sqrt{11})^2 + x^2)$   
 $\Rightarrow 9 + 11 = 2(11 + x^2)$   
 $\therefore \textcircled{4} |\vec{a} - \vec{b}| = x = \sqrt{2}$  ( $x > 0$ )



Sol2-2) 만약 중선정리가 기억이 안나면?

동일한 상황에서 cos Law 2번 적용하면 그만.



$\Rightarrow (\sqrt{11})^2 = 3^2 + (2\sqrt{11})^2 - 2 \times 3 \times 2\sqrt{11} \cos \theta$  이므로  $\cos \theta = \frac{3}{\sqrt{11}}$  라고

$x^2 = 3^2 + (\sqrt{11})^2 - 6\sqrt{11} \cos \theta$  이므로  $x = \sqrt{2}$  라고 하면 된다.

26. 좌표공간에 평면  $\alpha$  가 있다. 평면  $\alpha$  위에 있지 않은 서로 다른 두 점 A, B의 평면  $\alpha$  위로의 정사영을 각각 A', B'이라 할 때,

$$\overline{AB} = \overline{A'B'} = 6$$

이다. 선분 AB의 중점 M의 평면  $\alpha$  위로의 정사영을 M'이라 할 때,

$$\overline{PM'} \perp \overline{A'B'}, \overline{PM'} = 6$$

이 되도록 평면  $\alpha$  위에 점 P를 잡는다.

삼각형 A'B'P의 평면 ABP 위로의 정사영의 넓이가  $\frac{9}{2}$  일 때, 선분 PM의 길이는? [3점]

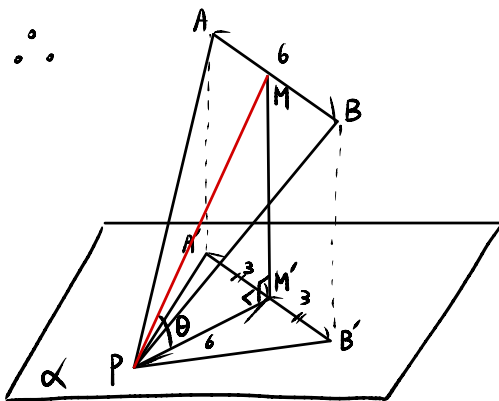
- ① 12    ② 15    ③ 18    ④ 21    ⑤ 24

정사영  $\Rightarrow$  결국 직각삼각형 찾기!

문제의 조건을 하나하나 해석해보자.

평면  $\alpha$  를 xy 평면처럼 생각하면

$\overline{AB} = \overline{A'B'} = 6$  에서  $\overline{AB}$  이  $\alpha$  위의 직선이므로  $\overline{AB}$  도  $\alpha$  와 평행해야 한다.



$\triangle A'B'P$ 의 평면 ABP 위로의 정사영이라고는 했지만,

결국  $\triangle A'B'P$ 가 평면  $\alpha$  위의 도형이므로 평면  $\alpha$  와 평면 ABP 사이의 관계를 보자.

일단,  $\triangle PMM'$ 에서  $\angle MPM' = \theta$  라고 두면  $\triangle PMM' =$  직각삼각형 이므로  $\frac{\overline{PM'}}{\overline{PM}} = \cos \theta$

$\because \overline{PM'} = 6$  이므로  $\overline{PM} = \frac{6}{\cos \theta}$

이때  $\triangle A'B'P$ 의 넓이:  $\frac{1}{2} \times 6 \times 6 = 18$  인데 평면 ABP 위로 정사영한 넓이가  $\frac{9}{2}$  이므로  $\Rightarrow 18 \cos \theta = \frac{9}{2} \therefore \cos \theta = \frac{1}{4}$

곧  $\textcircled{5} \overline{PM} = \frac{6}{\cos \theta} = 24$

출수형

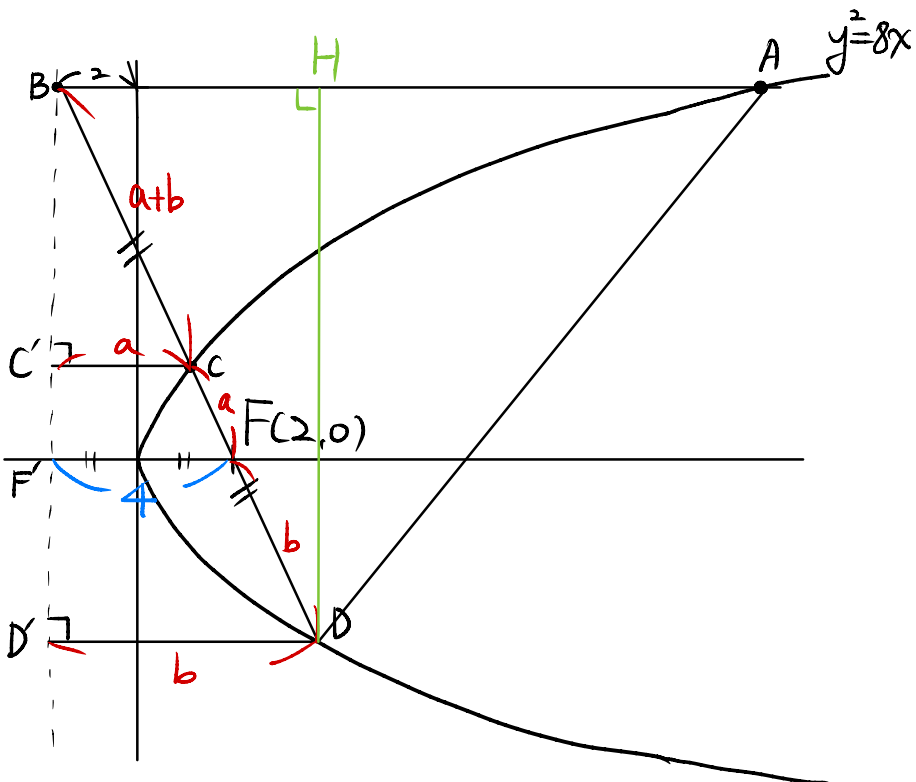
수학 영역(기하)

3

앞쪽에 익숙하지 않으면 큰일남. 야차곡선에서의 닮음의 중요성

27. 초점이 F인 포물선  $y^2=8x$  위의 한 점 A에서 포물선의 준선에 내린 수선의 발을 B라 하고, 직선 BF와 포물선이 만나는 두 점을 각각 C, D라 하자.  $\overline{BC}=\overline{CD}$  일 때, 삼각형 ABD의 넓이는? (단,  $\overline{CF}<\overline{DF}$  이고, 점 A는 원점이 아니다.) [3점]

- ①  $100\sqrt{2}$       ②  $104\sqrt{2}$       ③  $108\sqrt{2}$   
 ④  $112\sqrt{2}$       ⑤  $116\sqrt{2}$

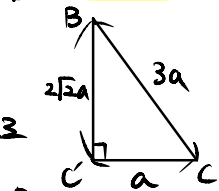


포물선의 정의에 의해  $\overline{FC}=\overline{CC'}$  이고, 이 길이를  $a$ 로 두자.  $\Rightarrow \overline{BC}=\overline{CD}$  이므로  $\overline{BC}=a+b$   
 $\overline{FD}=\overline{DD'}$  이고, 이 길이를  $b$ 로 두자.

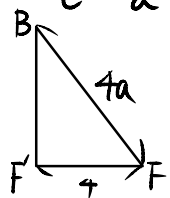
또한,  $\overline{BC}=\overline{CD}$  에서 점 C는  $\overline{BD}$ 의 중점이고  $\triangle BCC'$ 와  $\triangle BDD'$ 는 1:2 닮음.

$\therefore \overline{CC'}:\overline{DD'}=1:2$  이므로  $2a=b$

$\Rightarrow \overline{BC}=\overline{CD}=a+b=3a$  이므로  $2a=3a$  이므로  $a=3$ 임을 안다.  $\Rightarrow$  (자동적으로  $\overline{BF}=8\sqrt{2}$ )



이때  $\triangle BFF'$ 를 보면  $\overline{BF}=8\sqrt{2}$  이므로  $a=3$ 임을 안다.  $\Rightarrow$  (자동적으로  $\overline{BF}=8\sqrt{2}$ )



$\therefore \triangle BDD'$ 에서  $\overline{BD'}=12\sqrt{2}$  이고, 이는  $\overline{DH}$ , 즉  $\triangle ABD$ 의 높이와 같다. ( $\because a=3$  이므로  $b=2a=6$  이고  $\overline{BD'}=2\sqrt{2}b$  이므로  $\overline{BD'}=12\sqrt{2}$ )

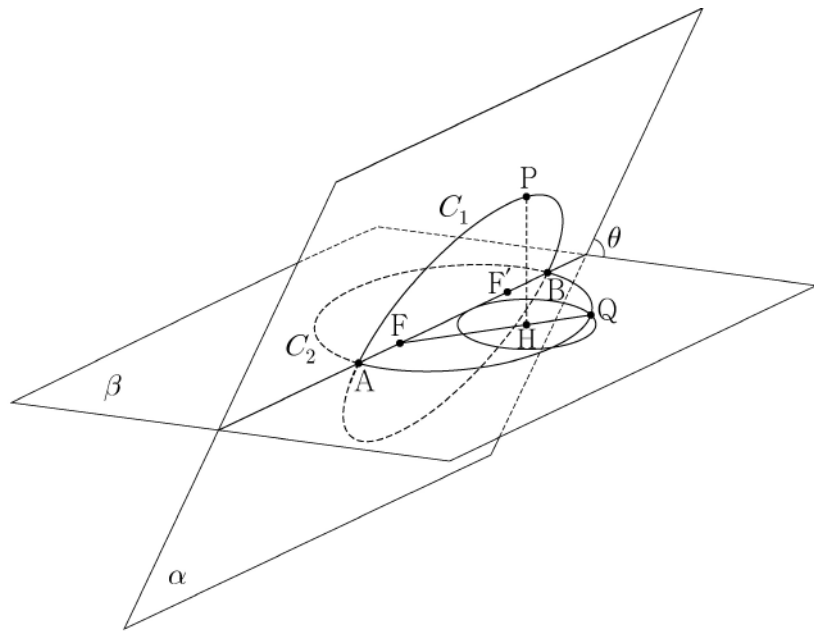
마지막으로  $\overline{BF'}=8\sqrt{2}$  인데 이는 점 A의 y좌표와 같고,  $y^2=8x$ 에 대입하면 A의 x좌표=16이다.  $\Rightarrow \triangle ABD$ 의 밑변:  $\overline{AB}=16+2=18$

⑦  $\triangle ABD = \frac{1}{2} \times 18 \times 12\sqrt{2} = 108\sqrt{2}$

문제 상황 이해하는데만 한시간... 혼란 이면과 문제에 이차곡선 결합

28. 그림과 같이 서로 다른 두 평면  $\alpha, \beta$ 의 교선 위에

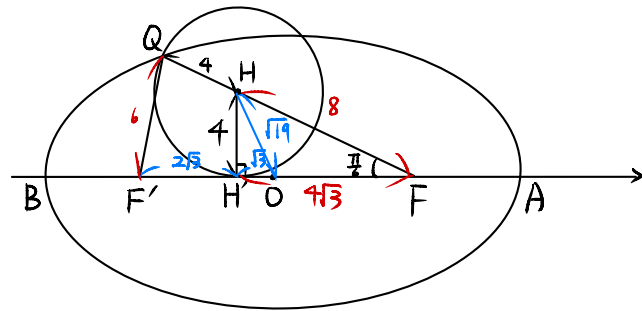
$\overline{AB}=18$ 인 두 점 A, B가 있다. 선분 AB를 지름으로 하는 원  $C_1$ 이 평면  $\alpha$  위에 있고, 선분 AB를 장축으로 하고 두 점 F, F'을 초점으로 하는 타원  $C_2$ 가 평면  $\beta$  위에 있다. 원  $C_1$  위의 한 점 P에서 평면  $\beta$ 에 내린 수선의 발을 H라 할 때,  $\overline{HF'}<\overline{HF}$  이고  $\angle HFF'=\frac{\pi}{6}$ 이다. 직선 HF와 타원  $C_2$ 가 만나는 점 중 점 H와 가까운 점을 Q라 하면,  $\overline{FH}<\overline{FQ}$ 이다. 점 H를 중심으로 하고 점 Q를 지나는 평면  $\beta$  위의 원은 반지름의 길이가 4이고 직선 AB에 접한다. 두 평면  $\alpha, \beta$ 가 이루는 각의 크기를  $\theta$ 라 할 때,  $\cos\theta$ 의 값은? (단, 점 P는 평면  $\beta$  위에 있지 않다.) [4점]



- ①  $\frac{2\sqrt{66}}{33}$       ②  $\frac{4\sqrt{69}}{69}$       ③  $\frac{\sqrt{2}}{3}$   
 ④  $\frac{4\sqrt{3}}{15}$       ⑤  $\frac{2\sqrt{78}}{39}$

$\overline{FH}<\overline{FQ}$  조건은 과조건이 아니라 점 H가 타원  $C_2$  내부에 있도록 하는 조건

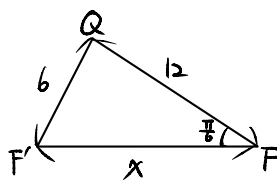
문제 상황에 맞춰 그림을 그려보면 다음과 같다. (AB의 중점이자 원 C1의 중심: O)



먼저,  $\triangle FHH'$ 에서  $\angle HFF'=\frac{\pi}{6}$  인 직각  $\triangle$  이므로  $\overline{HF}=8, \overline{HF'}=4\sqrt{3}$

또한 점 Q가 타원  $C_2$  위의 점이므로 타원의 정의에 의해  $\overline{QF}+\overline{QF'}=18$  이고,  $\therefore \overline{QF}=6$

곧 우리는  $\triangle QFF'$ 에서 Cos Law를 쓸수 있다.



$\Rightarrow 36 = 144 + X^2 - 24X \cos \frac{\pi}{6}$   
 $\Rightarrow (X-6\sqrt{3})^2 = 0$  이므로  $X=6\sqrt{3}$


$\therefore \overline{FF'}=6\sqrt{3}$  이므로  $\overline{FO}=\overline{F'O}=3\sqrt{3}$ , 즉  $\overline{FH}=2\sqrt{3}, \overline{HO}=\sqrt{3}$   
 $\Rightarrow$  직각  $\triangle OHH'$ 에서  $\overline{OH}=\sqrt{19}$

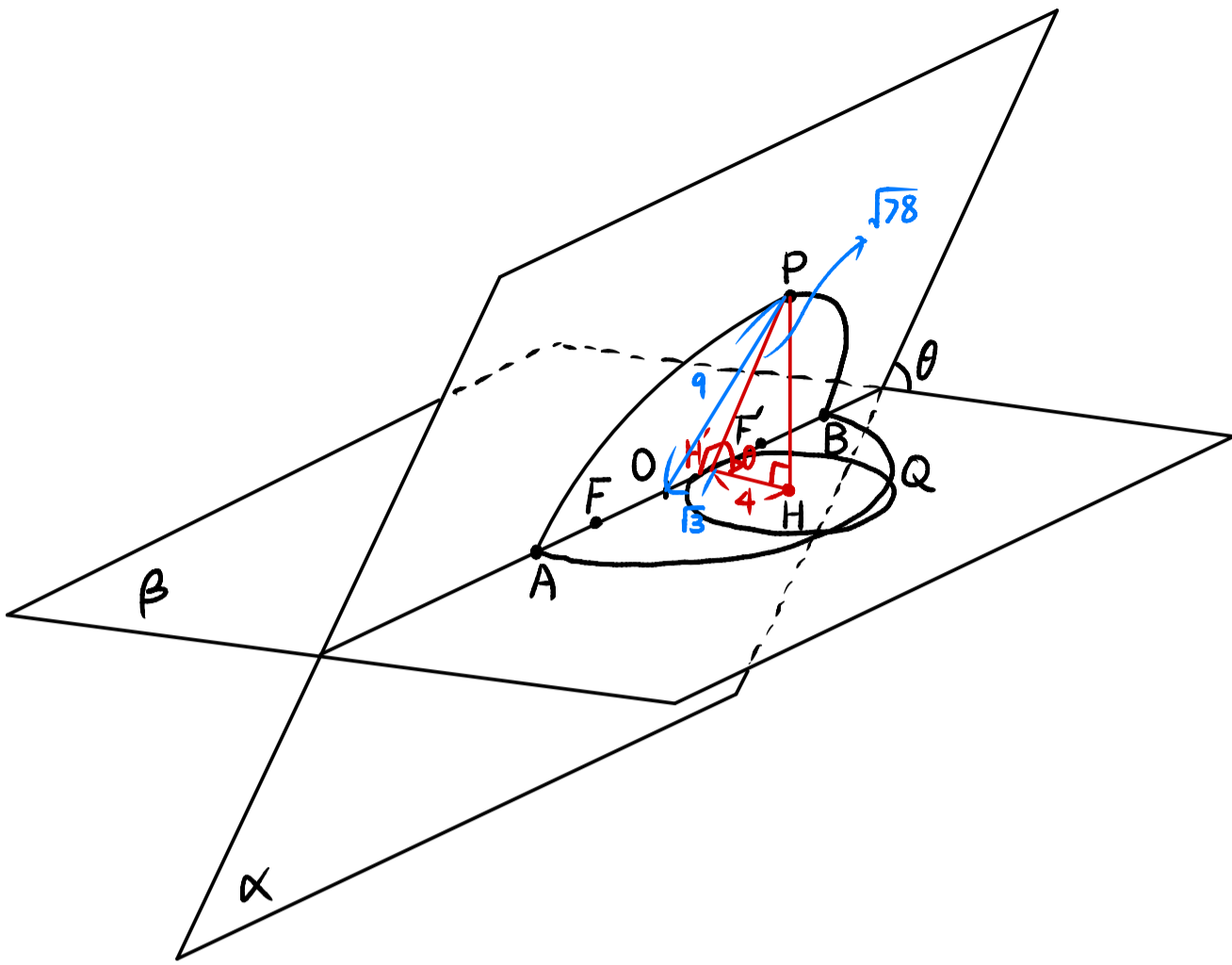
이제 평면 각의 관계를 보자. (다음 page)

이 문제지에 관한 저작권은 한국교육과정평가원에 있습니다.



# 28번 이어서

만든 음:  crazy\_hansuckwon  
 수만화: 한성훈의 눈물  
 오르비: 모의고사 손끝이 울리는 계정



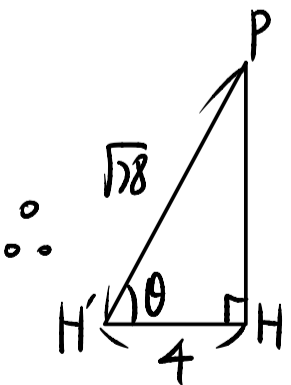
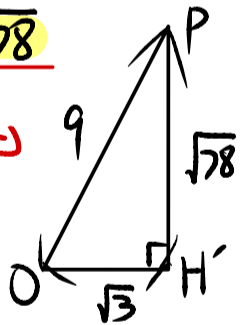
결국 이면각  $\theta$  는 각 평면에서 교선에 내린 '수선' 을 찾아야 한다.

$\Rightarrow$  평면  $\alpha$  에서 교선에 내린 수선:  $\overline{PH'}$  인데,  $\overline{PH}$  가  $\alpha$  에 수직이므로 삼수선의 정리에 의해  $\overline{PH'} \perp \overline{AB}$  이다.

$\therefore \angle PH'H = \theta$

이때 점 P 는 원 위의 점이므로  $\overline{OP} = 9$  ( $\because$  지름:  $\overline{AB} = 18$ )

$\Rightarrow$   $\triangle OPH'$  에서  $\overline{PH'} = \sqrt{78}$



이제  $\textcircled{7}$   $\cos \theta = \frac{4}{\sqrt{78}} = \boxed{\frac{2\sqrt{78}}{39}}$

# 4

# 수학 영역(기하)

## 홀수형

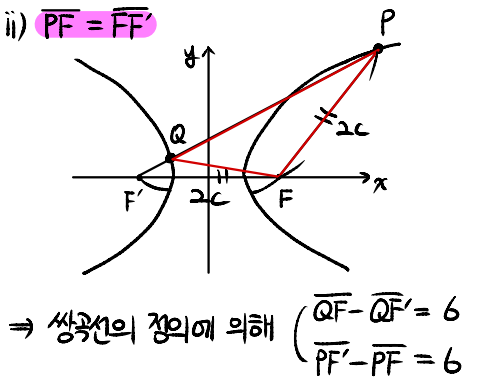
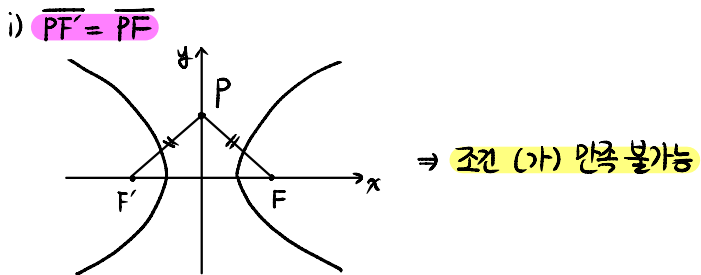
### 단답형

옛날 기출에 개량이 나온 유형. 이 정도는 쉽게 풀수 있어야!

29. 양수  $c$ 에 대하여 두 점  $F(c, 0)$ ,  $F'(-c, 0)$ 을 초점으로 하고, 주축의 길이가 6인 쌍곡선이 있다. 이 쌍곡선 위에 다음 조건을 만족시키는 서로 다른 두 점  $P, Q$ 가 존재하도록 하는 모든  $c$ 의 값의 합을 구하시오. [4점]

- (가) 점  $P$ 는 제1사분면 위에 있고, 점  $Q$ 는 직선  $PF'$  위에 있다.
- (나) 삼각형  $PF'F$ 는 이등변삼각형이다.
- (다) 삼각형  $PQF$ 의 둘레의 길이는 28이다.

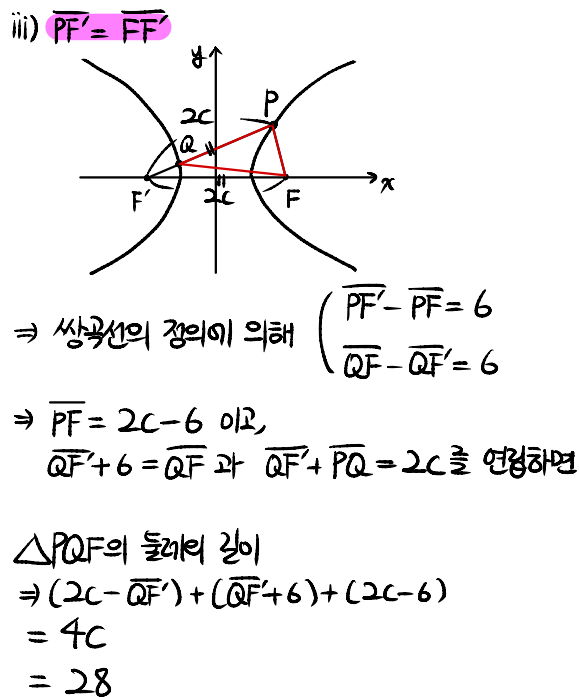
조건 (가)와 (나)를 이용해 그림을 그려보자.  
 조건 (나)에서  $\triangle PFF'$ 은 이등변  $\triangle$ 인데 이등변  $\triangle$ 은 3가지 경우 존재.



$\therefore QF = QF' + 6, PF' = PF + 6$   
 곧,  $PF = FF' = 2c$  이시  $PF' = 2c + 6$  이므로  
 $PQ = PF' - QF'$  이다.  
 $\Rightarrow PQ = 2c + 6 - QF'$

또한,  $QF = QF' + 6$  이므로

$\triangle PQF$ 의 둘레의 길이  
 $\Rightarrow (2c + 6 - QF') + (QF' + 6) + 2c$   
 $= 4c + 12$   
 $= 28 \quad \therefore c = 4$



$\therefore c = 7$

$\oplus c$ 의 합:  $4 + 7 = \boxed{11}$

이것도 쉬움. 벡터의 분리를 통해 변수부분과 상수부분을 조개자.

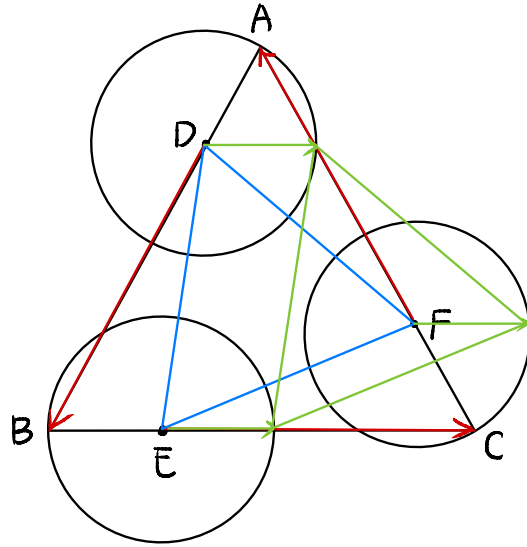
30. 좌표평면에 한 변의 길이가 4인 정삼각형  $ABC$ 가 있다. 선분  $AB$ 를 1:3으로 내분하는 점을  $D$ , 선분  $BC$ 를 1:3으로 내분하는 점을  $E$ , 선분  $CA$ 를 1:3으로 내분하는 점을  $F$ 라 하자. 네 점  $P, Q, R, X$ 가 다음 조건을 만족시킨다.

- (가)  $|\overrightarrow{DP}| = |\overrightarrow{EQ}| = |\overrightarrow{FR}| = 1$
- (나)  $\overrightarrow{AX} = \overrightarrow{PB} + \overrightarrow{QC} + \overrightarrow{RA}$

$|\overrightarrow{AX}|$ 의 값이 최대일 때, 삼각형  $PQR$ 의 넓이를  $S$ 라 하자.  $16S^2$ 의 값을 구하시오. [4점]

조건 (가): 점  $P, Q, R$ 은 각각 점  $D, E, F$ 를 중심으로 하고 반지름 1인 원 위의 점  
 수에서 '원 위의 점'이 나오면 일반적으로 중심과 연결하는게 크클!

왜? 원은 존재여부가 중심임.  
 원은 문제에 내놓고 중심을 안쓰면 출제하는 의미 X  
 그렇다고 100%는 아니 맹신은 L



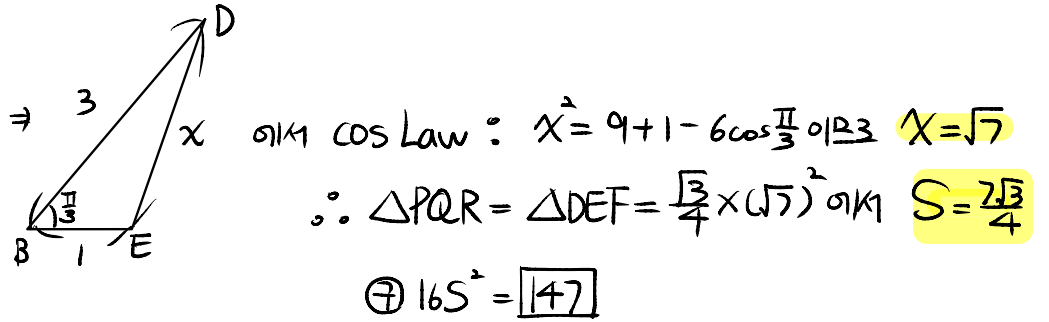
조건 (나)에서  $\overrightarrow{AX} = \overrightarrow{PB} + \overrightarrow{QC} + \overrightarrow{RA}$ 의 벡터 분리 (중심 이용)  
 $\Rightarrow \overrightarrow{AX} = (\overrightarrow{PD} + \overrightarrow{DB}) + (\overrightarrow{QE} + \overrightarrow{EC}) + (\overrightarrow{RF} + \overrightarrow{FA})$   
 $= (\overrightarrow{PD} + \overrightarrow{QE} + \overrightarrow{RF}) + (\overrightarrow{DB} + \overrightarrow{EC} + \overrightarrow{FA})$

이때  $\overrightarrow{DB} + \overrightarrow{EC} + \overrightarrow{FA}$ 는 그림에서 보듯이  $\vec{0}$ 이다. (삼각형의 닫힌 벡터)

곧  $|\overrightarrow{AX}|$ 가 최대라는 것은  $|\overrightarrow{PD} + \overrightarrow{QE} + \overrightarrow{RF}|$ 가 최대라는 것인데  
 $\overrightarrow{PD}, \overrightarrow{QE}, \overrightarrow{RF}$  모두 길이가 1이고 방향에 있어 제한이 없는 벡터이므로  
 최대가 되는 경우는  $\overrightarrow{PD}, \overrightarrow{QE}, \overrightarrow{RF}$  모두의 방향이 같을 때이다.

$\therefore \triangle PQR$ 은 결국  $\triangle DEF$ 를 그대로 평행이동한 꼴이므로 넓이도 동일하다.  
 (위 그림에서  $\triangle \rightarrow \triangle$  으 평행이동된 것 참고)

따라서 정삼각형  $\triangle DEF$ 의 넓이를 구하려면 한 변의 길이를 알아야 한다.



\* 확인 사항  
 ○ 답안지의 해당란에 필요한 내용을 정확히 기입(표기)했는지 확인하시오.